

TOP20 三月联考(全国 II 卷)

文科综合

注意事项:

1. 本试卷分第 I 卷(选择题)和第 II 卷(非选择题)两部分。
2. 答题前,考生务必将自己的姓名、准考证号填写在本试卷相应的位置。
3. 全部答案写在答题卡上,写在本试卷上无效。
4. 本试卷满分 300 分,测试时间 150 分钟。
5. 考试范围:高考全部内容。

第 I 卷

本卷共 35 个小题,每小题 4 分,共 140 分。在每小题给出的四个选项中,只有一项是符合题目要求的。

自本世纪初东北振兴战略实施以来,国家针对东北地区生态建设与环境保护实施了若干重点工程,土地利用结构也发生了相应变化,以推动东北地区生态环境质量的提升。图 1 示意近年来东北地区土地利用变化情况。据此完成 1~2 题。

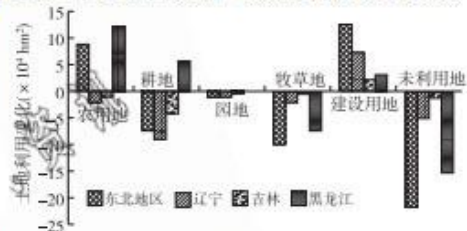


图 1

1. 近年来,东北地区农业用地重心明显
 - A. 向南转移
 - B. 向北转移
 - C. 向西转移
 - D. 向东转移
2. 近年来,东北地区粮食总产量逐年增加,其主要原因可能是
 - A. 耕地面积总体增加
 - B. 粮食结构发生变化
 - C. 单位面积产量提高
 - D. 畜牧业比重的下降

城市化包括不同人口结构的城市化。户籍人口是指依法在某地公安户籍管理机关登记了户口的人口,常住人口是指实际居住在某地一定时间(半年以上)的人口。在发展中国家大城市的边缘地带和非农化显著的乡村区域形成了一类既非城市也非农村的空间形态,但又同时具有城乡两方面特点的“灰色区域”,即半城市化地区。非农化率是指从事二、三产业的人口占总人口的比重。图 2 示意 1985—2014 年某城市城市化与非农化进程。据此完成 3~5 题。

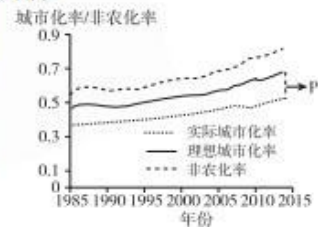


图 2

3. 图中 P 对应的是
 - A. 城市人口
 - B. 半城市化人口
 - C. 农业人口
 - D. 乡村非农人口
4. 图示期间该市半城市化状态呈现
 - A. 波动上升
 - B. 逐渐上升
 - C. 波动下降
 - D. 逐渐下降
5. 图示期间该城市
 - ①常住人口城市化率低于户籍人口城市化率
 - ②户籍人口城市化率低于常住人口城市化率
 - ③非农化率高于城市化率与农村中存在非农业活动的人口有关
 - ④非农化率高于城市化率与城市中存在从事农业活动的人口有关
 - A. ①③
 - B. ①④
 - C. ②③
 - D. ②④

河流阶地指由于河流的侵蚀和堆积作用形成沿河谷两岸伸展,高出洪水期水位的阶梯状地形。河拔高度是指阶地高出现代河床的相对高度。汉江鄖阳段流域多峡谷和盆地,盆地地段河谷宽广,自西向东流经五峰、青曲、鄖阳盆地等,河流阶地较为发育,可见到 5

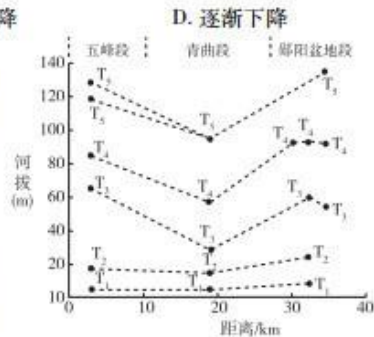


图 3

级阶地,区内贯穿有自北偏西向南偏东的宽大的断裂构造带。图3为汉江五峰至鄖阳盆地阶地同一时代阶地沿河分布图(即河流阶地高度在河流纵剖面上的连线)。据此完成6~8题。

6. 汉江鄖阳段河流阶地
- A. T_1 、 T_2 阶地河拔高度横向上变化较大
 - B. T_1 、 T_2 阶地河拔高度纵向上变化较大
 - C. T_3 、 T_4 、 T_5 阶地河拔高度鄖阳盆地段和五峰段基本保持一致
 - D. T_3 、 T_4 、 T_5 阶地河拔高度五峰段高于其他河段同级阶地高度

7. 推测汉江鄖阳段断裂构造带形成时间为

- A. T_2 形成后、 T_1 形成前
- B. T_3 形成后、 T_2 形成前
- C. T_4 形成后、 T_3 形成前
- D. T_5 形成后、 T_4 形成前

8. 与五峰段、鄖阳盆地段相比,当前汉江五峰段可能

- A. 落差较大
- B. 流速较快
- C. 侵蚀为主
- D. 曲流发育

阿拉斯加是世界著名的寒冷区,其海岸线分布有近40 m厚的海冰,这些海冰对座落于北部海岸的村庄来说是他们的生命线。近年来,在北极圈内的阿拉斯加北部洼地地带的白桦和黑云杉等浅根系树种森林,出现了一种当地人称之为“醉树”的新景观,大量“醉树”被淹死。图4为阿拉斯加位置示意图。据此完成9~11题。




图4

9. 海冰成为阿拉斯加北部海岸村庄生命线的主要原因可能是

- A. 提供主要水源
- B. 提供渔业空间
- C. 阻挡海风入侵
- D. 阻挡海水入侵

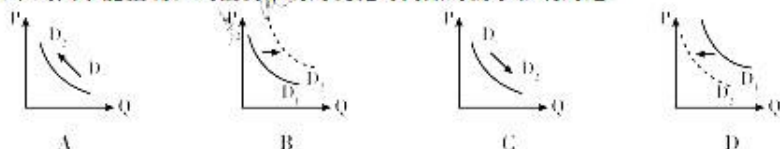
10. 导致阿拉斯加北部低洼地带“醉树”被淹死的主要原因是

- A. 迎风坡向,降水较多
- B. 暖流经过,降水增加
- C. 距海较近,海浪侵蚀
- D. 气候变暖,冻土消融

11. 阿拉斯加北部“醉树”的增多可以

- A. 扩大野生动物的栖息范围
- B. 促进海陆之间的物质循环
- C. 增加原住民的燃料来源
- D. 改善当地居民的农业结构

12. 2019年房屋租赁市场有可能出现较大的动作:一是租售同权动作会增加,即各类与教育配套等有关的政策内容会比较多;二是房屋租赁市场的用地供给会增加,尤其是集体建设用地的配建等。在其他条件不变的情况下,下列图示能正确反映租赁市场的变化对商品房需求影响的是



13. 2018年中央经济工作会议特别强调,积极的财政政策要加力提效,实施更大规模的减税降费,这必将对我国经济发展产生重要影响。这一影响合理的传导路径是

- ①刺激经济发展
 - ②企业投资增加
 - ③企业生产成本降低
 - ④降低制度性交易成本
 - ⑤自主创新能力提高
 - ⑥调节收入分配
- A. ③—⑤—① B. ③—②—① C. ④—⑥—① D. ③—②—⑤

14. 2019年1月1日起正式实施的电商法规定,电子商务经营者应当依法办理市场主体登记,依法履行纳税义务。电商法的实施旨在

- ①促进电商履行责任,提高电商的盈利能力
 - ②营造公平竞争环境,抵制不正当竞争
 - ③规范网络交易行为,维护网络交易秩序
 - ④提高电商的准入门槛,增强纳税意识
- A. ①④ B. ②③ C. ②④ D. ①③

15. 2018年中央经济工作会议明确提出,2019年继续实施积极的财政政策时要加力提效。加力提效,是相辅相成的两个方面:两者的结合点,是体现稳中求进的经济工作总基调,化解更大力度的减税增支带来的财政收支矛盾。下列符合“加力提效”要求的有

- ①实施更大规模减税降费,增加地方政府专项债规模
 - ②降低银行存贷款利率及存款准备金率
 - ③提高国债的发行效率和税收征管效率
 - ④提高财政资金的使用效率和使用效益
- A. ①④ B. ②③ C. ②④ D. ①③

16. 2018年12月27日,中共中央政治局召开会议审议《中国共产党政法工作条例》。该条例以党内基本法规的形式,对党领导政法工作作出规定,把党长期以来领导政法工作的成功经验转化为制度成果。该举措
- ①有利于实现依法治国与依法行政的有机统一
 ②说明要把党的领导贯彻落实到依法治国全过程
 ③进一步完善了社会主义法律体系
 ④是推进国家治理体系和治理能力现代化的必然要求
- A. ①② B. ③④ C. ①③ D. ②④
17. 2019年1月,国务院办公厅印发了《关于全面推行行政执法公示制度执法全过程记录制度重大执法决定法制审核制度的指导意见》,就全面推行行政执法公示制度、执法全过程记录制度、重大执法决定法制审核制度工作有关事项提出明确要求。该举措有利于
- ①推进依法行政,提高执法效率 ②健全执法制度,促进依法决策
 ③促进严格规范公正文明执法 ④切实保障人民群众合法权益
- A. ①② B. ③④ C. ②④ D. ①③
18. 2018年12月,中央经济工作会议对中国当前发展形势作出了重要判断:“我国发展仍处于并将长期处于重要战略机遇期。”作出这一判断的依据是
- ①和平与发展作为当今时代的主题没有变 ②中国国内经济面临提质换挡、转型升级
 ③新一轮科学革命和产业革命蓬勃兴起 ④加强国际合作仍然是经济发展趋势
- A. ①② B. ③④ C. ②④ D. ①③
19. 2018年网络游戏道德委员会成立后,即对首批20款存在道德风险的网络游戏进行了评议。经认真研究,网络游戏主管部门责成11款游戏的相关出版运营单位认真修改,消除道德风险,并对9款游戏作出不予批准的决定。网络游戏设置道德评议与安检关
- ①旨在敦促游戏开发企业坚守道德底线,遵守社会公德
 ②是对网络游戏行业进行“德治”的重要举措
 ③有利于规避文化市场的自发性
 ④目的是弘扬时代新风,改造腐朽文化
- A. ①② B. ③④ C. ②④ D. ①③
20. 截至2018年12月1日,《挑战吧!太空》节目播放量已突破2亿大关。该节目以综艺节目的形式,将中国首个火星生存模拟基地以及航天员真实生活场景展示给观众,贴切地传达出中国载人航天事业的奋斗精神。由此可见,《挑战吧!太空》综艺节目
- ①做到了文化与经济、政治相融合,经济效益与社会效益相统一
 ②做到了艺术与正能量相结合,主旋律与现代传播相结合
 ③开创了国家发展战略与青年人的文化娱乐审美需求相结合的新范式
 ④善于挖掘传统文化,满足观众多元化的文化需求
- A. ①② B. ②③ C. ①④ D. ③④
21. 2019年1月3日10时26分,“嫦娥四号”探测器成功着陆月球背面预选着陆区,并通过“鹊桥”中继星传回了世界第一张近距离拍摄的月背影像图,揭开了古老月背的神秘面纱。此次任务实现了人类探测器首次月背软着陆,首次月背与地球的中继通信,开启了人类月球探测新篇章。这表明
- ①科学技术的不断进步使人类的认识器官得以延伸 ②探月实验检验了人们对月背认识的真理性
 ③人们根据地月间固有联系建立新的具体联系 ④生产实践的不断发 展决定了认识发展的永无止境
- A. ①② B. ③④ C. ②④ D. ①③
22. 40年来,中美关系如同航行在浩荡洋面上的巨轮,速度时缓时快,却始终向前。回望历史,“合则两利,斗则俱伤”成为中美关系发展最重要的教训和启示,贯穿两国交往这一路风雨坎坷。40年来,中美两国已经变成你中有我,我中有你的利益共同体。上述材料蕴含的哲学道理是
- ①要坚持在整体中把握部分 ②要在对立中把握统一
 ③事物发展是前进性与曲折性的统一 ④要抓住影响中美关系的主要矛盾
- A. ①④ B. ③④ C. ②③ D. ①②
23. 2018年12月18日,庆祝改革开放40周年大会在京隆重举行,100名来自不同领域的先锋模范人物被授予改革先锋称号,同时被颁授改革先锋奖章。他们敢闯敢干,从荆棘中趟出了一条条康庄大道;他们奋斗奉献,为支持中国改革开放事业作出了杰出贡献。先锋模范人物的事迹表明
- ①人民群众在任何时期都是社会变革的主力军 ②人民群众是社会存在和发展的基础和动力
 ③劳动和奉献是实现人生价值的根本途径 ④社会提供的客观条件是实现人生价值的前提
- A. ①② B. ③④ C. ②④ D. ①③

24. 据考古发现,战国晚期的秦国墓葬中出土的漆器上多有“咸亭上”、“告(造)”、“素”、“包”等烙印。此发现可以用于研究当时秦国
- A. 私营工商业的发展
B. 手工业的生产工序
C. 漆器制造业的产量
D. 工商业政策的变化

25. 下表是有关汉代刺史的记述。据此可以认定的历史事实是

| 记述 | 出处 |
|--|------------------|
| “旧制,州牧(刺史)奏二千石长吏不任位者,事皆先下三公,三公遣掾史案验,然后黜退。” | 清代·赵翼《陔余丛考·卷二十六》 |
| “今部刺史,居牧伯之位,秉一州之统,选第大吏,所荐者高至九卿,所恶立退,任职重大。” | 东汉·班固《汉书·朱博传》 |

- A. 刺史职权范围得到扩大
B. 刺史监察权走向了独立
C. 刺史的行政权受到削弱
D. 刺史制度日益趋向完善
26. 宋代理学家反对放弃一切欲望,“饮食者,天理也,要求美味,人欲也。”(《朱子语类》)这反映出宋代理学
- A. 思想体系存在自我矛盾性
B. 旨在规范社会道德行为
C. 极力宣扬佛教的禁欲思想
D. 要求提高人们的责任意识
27. 据明代《太仓州志》记载,太仓州(属苏州府)所产的棉布,“岁商贾货入两京(南京和北京),各郡邑以渔利”。这说明
- A. 太仓州是全国棉纺织业中心
B. 两京地区的棉纺织技术落后
C. 江南棉纺织业成为经济主导
D. 南北区域间长途贩运业发达
28. 严复在《原强》中说:“人人得以行其意,申其言,上下之势,不相悬隔。君不甚尊,民不甚贱,而联若一体者,是无法之胜也。”此观点
- A. 明确了借皇权行变法思想
B. 最早提出了政治变革要求
C. 蕴含了政治民主化的精神
D. 开始突破中体西用的局限

29. 图5是上海永安百货公司进货中国货所占比重的变化情况。此情况折射出

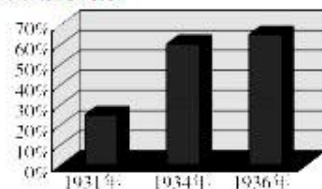


图5

- A. 近代民族工业对外竞争力提高
B. 外国商品对中国倾销减弱
C. 国民经济建设运动取得了成效
D. 民族企业的发展空间扩大
30. 1940年下半年,华北日军突然发现“共军采取了与过去游击战完全不同的战术,乘日军不便,突然以大部队的运动战进行攻击”。这反映出当时
- A. 游击战不再适应抗战需要
B. 敌后抗战已转入全面反攻
C. 百团大战扭转了抗战局面
D. 敌后战场的作战规模扩大
31. 1978年后,“包产到户”的农村责任制被不断修改提法,表述由开始的“不准”“不许”到“不要”再到“有条件的允许”,最后才以其合法性推向全国。这说明,农村经济改革
- A. 曾一度遭到农民的抵制
B. 是一个渐进的探索过程
C. 注重发展农村的生产力
D. 配合了城市经济的改革
32. 雅典梭伦改革中规定:不关心政治的人将丧失公民权,不再成为国家的一分子。此规定在当时
- A. 提高了公民参政意识
B. 限制了公民的自由权
C. 促进了民主制的完善
D. 奠定了民主政治基础
33. 英国议会分为上、下议院。选举产生的下议院多数党领袖担任首相,由他挑选本党议员组成内阁;而最大的在野党成为反对党,其党魁选择有影响力的本党议员,按照内阁形式组建“影子内阁”,并与政府内阁形成一对一关系,在议会辩论时既专业又具有针对性。据此可知,英国“影子内阁”
- A. 是英国不同政党相互妥协的表现
B. 是英国君主立宪制的基本构成
C. 为政府内阁提供必要的民意支持
D. 对政府内阁具有一定监督作用
34. 1935年4月,美国成立了工程振兴局,该局雇佣工人的工资每月大约50美元,相当于失业救济金的两倍。这说明该局的成立
- A. 成功遏制了经济危机蔓延
B. 开启了对经济的全面干预
C. 有利于提高人们就业热情
D. 大幅减少了社会失业人数
35. 冷战结束之后,减少军备开支,扩大经贸交流,分享“和平红利”,成为世界大多数国家的共同要求。这说明
- A. 世界的政治局势有所缓和
B. 世界多极化格局基本形成
C. 国际力量的发展趋向平衡
D. 发达国家的主导地位丧失

第 II 卷

本卷包括必考题和选考题两部分。第 36 题 ~ 第 42 题为必考题,每个试题考生都必须作答。第 43 题 ~ 第 47 题为选考题,考生根据要求作答。

36. (24 分) 阅读图文资料,完成下列要求。

甘蔗是一种热带和亚热带糖料作物,喜温、喜光,需水、肥量大但不耐涝。古巴是西印度群岛中最大的岛国,地理位置优越,水热资源充足,而能源矿产资源贫乏。古巴是世界三大甘蔗种植地区之一,种植区主要分布在古巴西北部和中东部地区,尤其是海拔 100 米以下、富含有机质的、年降水量 1270 ~ 1520 毫米的缓坡低平原。古巴曾经是世界上最大的原糖出口国,20 世纪 50 至 90 年代末,古巴原糖出口量占世界出口市场的 25% ~ 35%,占古巴出口收入的 80%。近年来,国际食糖大幅增产,同时古巴旅游业、生物医药等新兴产业迅速发展,古巴蔗糖产量一落千丈,多家制糖厂关闭,大量甘蔗地改为其他用地。为此,古巴政府出台和实施了一系列新政策,调整政府和制糖企业的关系,实施政企分开,实行对外开放等,促进蔗糖产业的再次振兴,为古巴蔗糖产业实现可持续发展奠定了基础。图 6 为古巴甘蔗种植区分布图。



图 6

- (1) 说明古巴甘蔗种植的优势自然条件。(6 分)
- (2) 分析近年来古巴多家制糖厂关闭的主要原因。(6 分)
- (3) 说明近年来古巴多家制糖厂关闭带来的不利影响。(6 分)
- (4) 为实现蔗糖产业的可持续发展,请推测古巴政府可能采取的新政策。(6 分)

37. (22分) 阅读图文资料,完成下列要求。

我国每年农作物收割后的秸秆约有19%被随时在田露天燃烧,4%被家庭燃烧,21%还田,用以制作沼气的不足4%。露天焚烧秸秆释放的各种气态污染物和颗粒物是华东和华北地区大气污染物的重要来源之一。全国秸秆露天燃烧量峰值在时间上呈现明显双峰分布规律。因作物种类不同,南方和北方在秸秆燃烧时间上存在差异。近年来,黑龙江省政府为合理利用秸秆,加大在农垦区推广沼气工程补贴,收到了良好的效果。图7为我国南方地区和北方地区秸秆露天燃烧量随月份变化图。

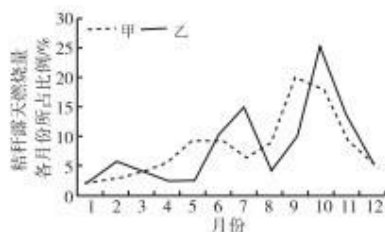


图7

(1) 解释我国秸秆露天燃烧量随月份呈现明显双峰规律的原因。(4分)

(2) 指出图中甲、乙两条曲线中代表南方地区秸秆露天燃烧量的曲线,并说出其高峰值的时间分布与北方地区的差异。(6分)

(3) 评价黑龙江垦区推广沼气工程的条件。(6分)

(4) 请为我国秸秆的综合利用提出合理化的建议。(6分)

38. (14分) 阅读材料,完成下列要求。

经中共中央、国务院批准,2018年12月25日,国家发展改革委、商务部发布《市场准入负面清单(2018年版)》。这标志我国全面实施市场准入负面清单制度。

全面实施市场准入负面清单制度,意味着我国在市场准入领域确立了统一公平的规则体系,意味着清单之外的行业、领域、业务等,各类市场主体皆可依法平等自主选择是否进入,有关部门和地方政府不能再随意出台对市场准入环节的审批措施,真正实现了“非禁即入”。市场准入负面清单制度全面实施后,无论是国企、民企还是混合所有制企业,无论是内资还是外资,无论是大企业,还是中小企业,都一视同仁,享有同等的市场准入条件待遇,实现“规则平等、权利平等、机会平等”。全面实施市场准入负面清单制度,要求政府从“重事前审批”转变为“加强事中事后监管”,将监管关口后移,把更多监管资源投向加强对市场主体投资经营行为的事中事后监管。

结合材料,运用经济生活的有关知识,分析全面实施市场准入负面清单制度对我国经济发展的意义。(14分)

39. (12分) 阅读材料,完成下列要求。

N县提出将党的基层组织建设、村民自治及政府对农村公共服务等三项工作进行重心下移。在自然村成立党支部、村民理事会,原则上由支部书记“一肩挑”;镇设综合服务中心、行政村设社会综合服务站,13个乡镇和167个村居由财政出资共配备180名代办员。由此,行政村要决策的大事小情,分解、下移至自然村内,通过党支部和理事会与群众充分沟通并商定。群众在此过程中,凡需要政府服务事项,则不再出村、出户即可办理。

正因为有了这样的设计,“房伯”改造村容村貌计划才得以顺利展开。经与全村村民充分讨论,“拆旧不补、让地不补、青苗不补、人工不补”这“四不补”的村规,让元江迅速从“脏乱差”变身全省闻名的“美丽乡村”和“省级新农村建设主体村”。不仅如此,“村代办员制度”自2015年起还进一步延伸为“全省首批基层公共服务平台建设试点”,同时跟进网上办事、多网合一改革,自2015年8月至2018年10月,全县基层公共服务平台共为群众办事95万宗,群众办事成本节省3200多万元,一站办理率达80%以上,全流程网上办理率达50%以上。

结合材料,运用政治生活有关知识,阐释N县“将党的基层组织建设、村民自治及政府对农村公共服务等三项工作进行重心下移”的原因。(12分)

40. (26分) 阅读材料, 完成下列要求。

从集体哄抢抢到景区泡脚, 从高铁占座到公交“动手”, 违反公德的事件屡屡出现, 在网上引发热议。令人遗憾的是, 不文明行为人常常把自我凌驾于社会之上; 但值得欣慰的是, 每一次关于事件的深入讨论, 都是一次道德教育的过程, 也是自我反思的良机。

今天, 现代化进程马不停蹄, 社会文明的建设也驶上了“快车道”。守护公德, 理应出于内心的道德戒律, 而不是做给人看, 更不是有利可图。这种道德自觉, 并不来自玄奥的说教, 恰恰是父母的言传身教、老师的谆谆教诲和身边人的率先垂范构成的良好社会风尚, 为每个人定下了道德的基调。在道德践履的道路上, 没有人可以置身事外。以良好风气的软引导呼唤公德, 以制度法律的硬约束护佑公德, 文明的沃土就不会沙化。更关键的是你我共同呵护, 点点滴滴磨砺道德自觉, 危急关头果断施以援手, 这样, 社会公德就不会遭遇破窗效应, 文明的幼苗就能长成参天大树。

- (1) 运用“追求真理是一个过程”的相关知识, 分析“为什么每一次关于事件的深入讨论, 都是一次道德教育的过程, 也是自我反思的良机”。(10分)
- (2) 结合材料, 运用“加强思想道德建设”的相关知识, 分析国家应如何提高社会公德水平。(10分)
- (3) 作为学生, 请你为加强自身道德建设提出两条方法论建议。(6分)

41. (25分) 阅读材料, 完成下列要求。

材料一 文艺复兴时期人文主义者对完美个体的追求, 通常就是“多才多艺”的个体。布克哈特这样描述道: “当这种对于最高的个人发展的推动力量和一种坚强有力、丰富多彩并已掌握当时一切文化要素的特性结合起来时, 于是就产生了意大利所独有的‘多才多艺的人’”。人文主义者强调发展个人的完整能力, 并通过文学艺术等手段呈现完整的人的个性。文艺复兴时期, 新柏拉图主义思想的泰斗费奇诺, ……强调人要达到超越性的境界就必须从个体的感官感应入手, 从自然中见精神, 从精神中升华个体的感性自然。

——摘编自周春生《论文艺复兴时期的人文主义个体精神》

材料二 新文化运动之“新”, 不在“民主”与“科学”, 而在个人主义。按照胡适的观点, “民国七七年北京大学所提倡的新文化运动, 无论形式上如何五花八门, 意义上只是思想的解放与个人的解放”。郁达夫亦指出: “五四运动的最大的成功, 第一要算‘个人’的发现。”新文化运动中的个人主义思潮, 即这种“个人的解放”和“‘个人’的发现”的思想表征。

——摘编自高力克《新文化运动中的个人主义》

- (1) 根据材料一并结合所学知识, 概括文艺复兴时期个体精神的特点并说明其作用。(12分)
- (2) 根据材料二并结合所学知识, 分析新文化运动倡导个人主义的历史意义。(6分)
- (3) 根据材料并结合所学知识, 指出近代中西方个人主义产生的相似原因。(7分)

42. (12分) 阅读材料, 完成下列要求。

材料 19世纪英国棉纺织业进出口对照表(单位: 100万磅)

| 年平均 | 原棉进口量 | 产值 | 出口值占产值的比重 |
|-----------|-------|------|-----------|
| 1819—1821 | 141 | 29.4 | 52.8 |
| 1824—1826 | 169 | 33.1 | 51.1 |
| 1829—1831 | 249 | 32.1 | 56.4 |
| 1834—1836 | 331 | 44.6 | 50.4 |
| 1839—1841 | 452 | 46.7 | 49.8 |
| 1844—1846 | 560 | 46.7 | 55.4 |
| 1849—1851 | 621 | 45.7 | 60.8 |
| 1854—1856 | 802 | 56.9 | 61.4 |
| 1859—1861 | 1050 | 77.0 | 63.8 |

——摘编自杨松《近代英国棉纺织业发展研究(1760—1860)》

根据材料并结合所学世界近代史知识, 对表格内容提出自己的看法, 并予以说明。(要求: 看法具体明确, 说明须史论结合。)

请考生在第43、44两道地理题中任选一题作答,并用2B铅笔将答题卡上所选题目对应的题号右侧方框涂黑,按所涂题号进行评分;多涂、多答,按所涂的首题进行评分;不涂,按本选考题的首题进行评分。

43. (10分)【旅游地理】

马尔代夫是印度洋上的一个群岛国家(北纬 $7^{\circ}6'$ 至南纬 $0^{\circ}45'$,东经 $72^{\circ}13'$ 至 $73^{\circ}45'$),总面积 9 万 km^2 (含领海面积),陆地面积 298 km^2 ,平均海拔 1.8 m,海水能见度 $0\sim 50$ m,全年水温 $25^{\circ}\text{C}\sim 32^{\circ}\text{C}$ 。该国由 26 组自然环礁、 1192 个珊瑚岛组成。马尔代夫对外实施“开放港口”优惠政策,外国商品免征关税,大大小小的商店内外国商品琳琅满目。渔业、船运业和旅游业是马尔代夫经济的三大支柱,尤其是海洋旅游业发展迅速,给马尔代夫带来了良好的社会经济效益。

- (1)分析马尔代夫海洋旅游业发展迅速的原因。(6分)
- (2)说明马尔代夫海洋旅游业发展迅速产生的社会经济效益。(4分)

44. (10分)【环境保护】

陕西省榆林市有我国陆上探明的最大整装气田,被誉为“中国的科威特”。近年来随着能源资源的大规模开发,当地的生态环境遭受了巨大的破坏。当前也导致该市煤炭采空区达 499.41 km^2 ,塌陷 118.14 km^2 ,而且还在逐年增加。因煤矿采空区塌陷造成 2805 户、 9585 人受灾,损毁房屋 4500 多间、耕地 2.4 万多亩、林草地 65800 多亩。湖泊由煤矿开发前的 869 个减少到 79 个。目前,该市正在整改开发模式,寻求可持续发展新路径。

- (1)分析煤炭开采导致地表塌陷对榆林市环境带来的不利影响。(6分)
- (2)请为榆林市地面塌陷问题提出应对措施。(4分)

请考生在第45、46、47三道历史题中任选一题作答,并用2B铅笔将答题卡上所选题目对应的题号右侧方框涂黑,按所涂题号进行评分;多涂、多答,按所涂的首题进行评分;不涂,按本选考题的首题进行评分。

45. (15分)【历史上重大改革回眸】

材料 (汉)宣帝亲政初,曾于地节三年(公元前67年)十月下诏说:“弛苑未御幸者,假与贫民。……流民还归者,假公田,贷种、食,且勿算事。”就是说,将苑囿和公田分给贫民与流民耕种,贷给种子与食物,还不要百姓出算赋和徭役。地节三年(公元前67年)下诏说:“二千石严教吏谨视遇,毋令失职。”要求郡国长官管教和督促地方官吏,不能让他们失职。元康四年(公元前62年)派遣大中大夫强等十二人循行天下,主要任务是“察吏治得失”;五凤四年(公元前54年)又派遣丞相、御史掾二十四人循行天下,“举冤狱,察擅为苛禁深刻者”。

——摘编自白寿彝《中国通史》

(1)根据材料并结合所学知识,概括汉宣帝改革的主要内容。(8分)

(2)根据材料并结合所学知识,分析汉宣帝改革的意义。(7分)

46. (15分)【20世纪的战争与和平】

材料 当苏联军队入侵波兰时,波兰政府要求英国政府按照英波互助条约对波兰提供援助,对此,英国政府的反应是英波互助条约并不适用于苏联侵略波兰的情况,……1939年9月18日,英国内阁决定与苏联接触,用英国的机器换回英国急需的木材。10月11日,英苏签订了关于木材和橡胶等物资交换的协定,恢复了双边贸易关系。此后,双方还计划就发展两国贸易关系继续谈判。对英国来说,加强英苏贸易关系除了经济上的利益之外,还可以以此作为改善英苏关系的切入点,从而为加强英苏政治联系,防止苏德进一步合作奠定基础。

——摘编自檀跃宇《二战初期英国张伯伦政府对苏联政策初探》

- (1) 根据材料并结合所学知识,指出英国对苏联政策的转变并说明原因。(8分)
- (2) 根据材料并结合所学知识,分析英国对苏联政策转变的影响。(7分)

47. (15分)【中外历史人物评说】

材料 郑观应认为,中国若与强敌相处,自己必须要有力量,“所谓均力敌,而后和约可恃,私约可订,公法可言”。而要强盛就必须变法,“非变法不能富强,非富强不能合纵连横”。他的改革主张就是紧紧围绕着这一宗旨而展开的。他提出的主张概括起来是:经济上开展“商战”,军事上练兵造械,政治上设立议院,文化上推广西学。其中开展“商战”和设立议院是其主要内容。郑观应认为,实行“商战”的首要前提是改变中国传统的“重本抑末”经济政策,建立保障工商业利益的制度和法律。

——摘编自白寿彝《中国通史》

- (1) 根据材料并结合所学知识,概括郑观应的主要思想。(6分)
- (2) 根据材料并结合所学知识,评价郑观应的思想主张。(9分)

专注名校多元录取

自主招生在线创始于 2014 年，致力于提供强基计划、综合评价、三位一体、学科竞赛、新高考生涯规划等政策资讯的服务平台。总部坐落于北京，旗下拥有网站 (www.zizzs.com) 和微信公众平台等媒体矩阵，用户群体涵盖全国 90% 以上的重点中学师生及家长，在全国强基计划、综合评价领域首屈一指。

如需第一时间获取相关资讯及备考指南，请关注**自主选拔在线**官方微信号：**zizzsw**。



识别二维码，快速关注

温馨提示：

全国中学大联考 2020 届高三下学期模考试题及答案汇总（更新下载中），点击链接获得

<http://www.zizzs.com/c/202002/42364.html>