

天一大联考

2021—2022 学年高中毕业班阶段性测试(六)

文科综合

一、选择题:本题共 35 小题,每小题 4 分,共 140 分。在每小题给出的四个选项中,只有一项是符合题目要求的。

在构造运动作用下,岩层发生塑性变形,产生一系列的波状弯曲,叫做褶皱。图 1 为辽宁铁岭叶尔兴褶皱地质剖面示意图。据此完成 1~3 题。

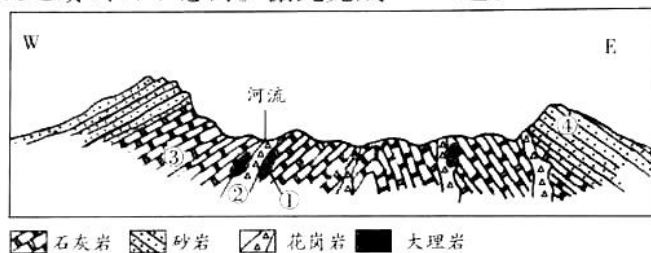


图 1

- 形成叶尔兴褶皱地貌的关键地质作用是
 - 岩浆侵入顶升作用
 - 固结成岩作用
 - 南北方向水平挤压作用
 - 长期外力侵蚀作用
- 图中最晚形成的岩石最可能是
 - ①
 - ②
 - ③
 - ④
- 图中河流发育的原因是
 - 地壳下陷,积水成河
 - 岩石易被侵蚀,流水汇集
 - 水流缓慢,侧蚀较强
 - 地下水沿裂隙出露

林窗主要是指森林群落中老龄树死亡或因偶然性因素导致成熟阶段优势树种死亡,形成林中空地的现象。图 2 为我国某林区林窗内外 5 厘米深度土壤温度及差值统计曲线图。据此完成 4~6 题。

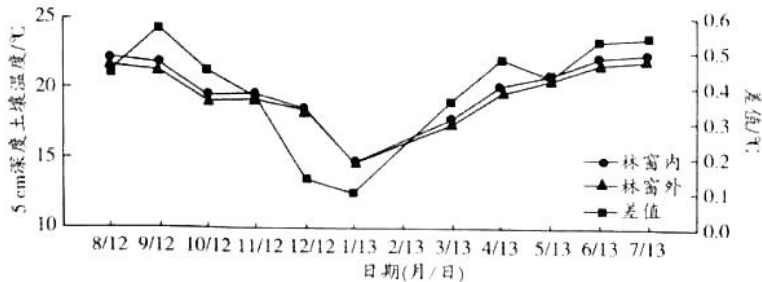


图 2

4. 该林区最可能位于
A. 山东丘陵 B. 秦岭山区
C. 西双版纳 D. 大兴安岭
5. 该地林窗内外土壤温度差异主要取决于
A. 土层厚度
B. 山地坡向
C. 土壤湿度 D. 太阳辐射
6. 林窗内外土壤温度差异最小时,该林区
A. 降水量较大
B. 树木枯黄落叶
C. 植物生长较慢 D. 气温较高
- 石狮市位于福建省东南沿海,耕地面积极为有限,自然灾害频繁发生。一代代石狮人漂洋过海,去海外谋生,使石狮市成为著名侨乡。改革开放后,石狮市服装产业迅速发展,形成产业集聚,并带动了相关产业的发展。随着国际竞争压力的增大,石狮市服装产业正不断进行调整和转型。据此完成7~9题。
7. 石狮市服装产业发展的独特区位条件是
A. 侨乡的优势 B. 农业生产条件优
C. 改革开放政策 D. 劳动力充足
8. 石狮市服装产业集聚有利于
A. 增大企业竞争压力
B. 促进服装企业分工协作
C. 提高对外出口价格 D. 改善当地的环境质量
9. 石狮市服装产业调整转型最应该
A. 树立国际品牌,提高服装附加值
B. 使用机器人加工,降低成本
C. 向东南亚转移,以便开拓国际市场 D. 进口新面料,提升服装品质

城市规模分布是指一个国家或地区内城市人口规模的层次(等级)分布。朝鲜位于亚洲东部、朝鲜半岛北部,国内山区面积占全国总面积的80%,人口约2 500万。朝鲜大部分城市规模较小,只有一个人口在百万以上的特大城市,三个人口在50万~100万的大城市。图3为朝鲜城市规模分布图。据此完成10~11题。

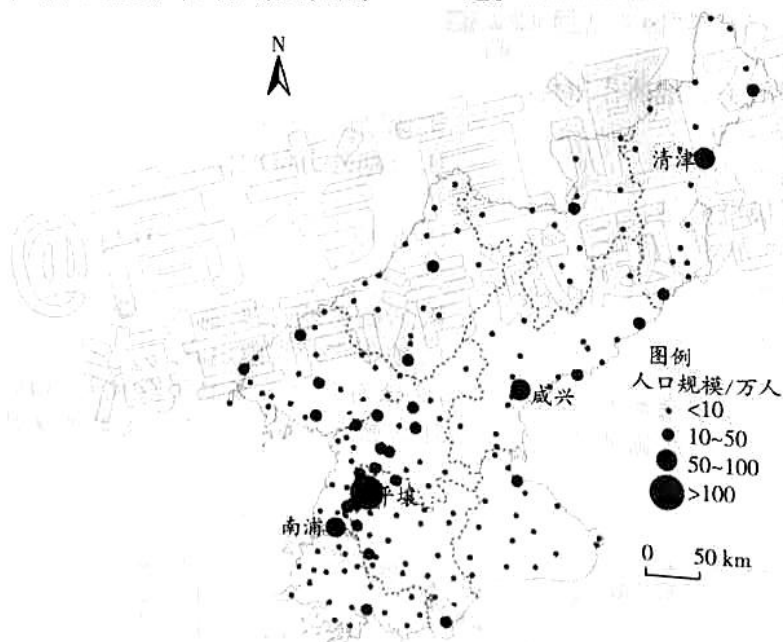
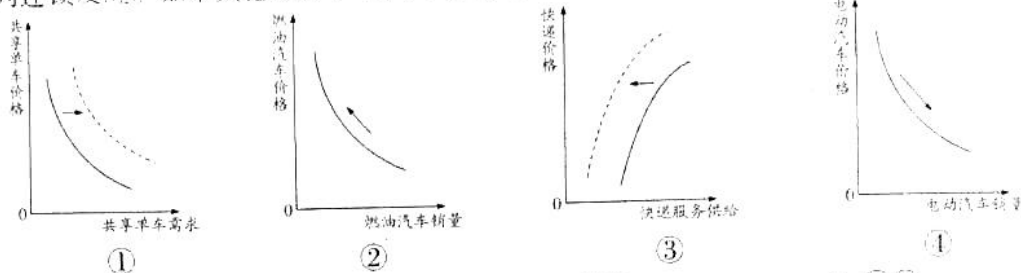


图3

10. 影响朝鲜城市规模分布的根本因素是
A. 人口总量
B. 经济水平
C. 地形地势 D. 政治环境

11. 朝鲜提高城市化质量的措施有
- A. 拓展大城市道路宽度
B. 加强城市内部高楼建设
C. 完善城市服务设施建设
D. 扩大大城市用地规模
12. 2022年3月4日0时,我国成品油价格上调,多数地区92号汽油迈入“8元时代”,这将使私家车行驶、快递运输等的成本显著增加。若高油价持续下去,必将引发市场一系列连锁反应。如果其他条件不变,下列图示能正确显示高油价影响的是



- A. ①②
B. ①③
C. ②④
D. ③④
13. 市场主体对经济发展至关重要。截至2021年底,我国登记在册的市场主体达到1.54亿户,同比增长11.1%,其中,企业4842.3万户,个体工商户1.03亿户。在疫情防控形势依然严峻的背景下能取得这样的成绩难能可贵。党的十八大以来,我国市场主体总量年均增长达到12.1%。我国市场主体的持续增加
- ①奠定了稳增长和保就业的重要基础
②主要得益于境外资本的大量流入
③为落实按劳分配原则创造有利条件
④彰显了我国经济发展活力和韧性
- A. ①②
B. ①④
C. ②③
D. ③④
14. 国务院印发的《“十四五”国家老龄事业发展和养老服务体系规划》提出,“十四五”期间我国要“在老有所养、老有所医、老有所为、老有所学、老有所乐上不断取得新进展,让老年人共享改革发展成果、安享幸福晚年”。为此需要
- ①大力发展公共文化事业以满足老有所乐
②积极推进养老服务商业化以保证老有所养
③逐步大幅推迟退休年龄以推动老有所为
④建立多层次养老保障体系以实现老有所依
- A. ①③
B. ②③
C. ①④
D. ②④
15. 俄罗斯与乌克兰的冲突导致小麦价格涨至近14年来新高,世界各地消费者不得不花费更多钱买面包。俄乌两国小麦出口量合计占全球大约30%,自2月24日两国爆发冲突以来,芝加哥期货交易所小麦价格涨幅超过40%。这警示我国
- ①推动粮食进口多元化,抚平粮食价格波动
②坚持独立自主原则,不断提高粮食自给水平
③开展世界贸易的同时积极防范全球化风险
④参与制定世界贸易规则,维护国际贸易秩序
- A. ①②
B. ①④
C. ②③
D. ③④
16. 近年来,某市搭建多样化、多层次、多维度的参与平台和载体,推动社区的事情大家提、大家议、大家定、大家办,激发共管共治活力,提升了当地群众的满意度和获得感。对此,下列概括正确的是
- ①探索建立共商共建共享基层治理新格局
②深化行政体制改革,建设人民满意的政府

- ③落实基层群众自治,人人参与民主管理
④扩大基层民主,让群众真正管理国家事务
- A. ①③ B. ①④ C. ②③ D. ②④
17. 为推进乡村振兴,我国一些地方尝试探索“跨村联建”区域化党组织、“村社共建”产业化党组织等多种形态的基层党组织设置模式;一些产业基础比较好的地区,还在探索构建“党支部+村集体经济组织+专业合作社+农户”的基层党组织建设模式,把党支部或党小组建在产业链上。上述探索
- ①有利于彰显中国特色社会主义制度的优势
②以党建促发展,突出了党的领导核心作用
③是对农村基层群众自治组织的发展和完善
④明确了党组织在集体经济中的管理者地位
- A. ①② B. ①④ C. ②③ D. ③④
18. 在疫情严重冲击全球发展进程、发展中国家尤其遭受重创的背景下,2021年9月,习近平主席在联合国郑重提出全球发展倡议,为缩小南北鸿沟、破解发展不平衡提出了“路线图”。2022年1月,“全球发展倡议之友小组”在联合国总部举行首次会议,逾百个国家和20多个国际组织代表齐聚一堂,为落实倡议凝聚了更广泛国际共识。这说明
- ①实现平衡发展是世界各国的核心利益 ②我国为解决世界问题制定规则和方案
③我国是推动世界经济发展的重要力量 ④我国在世界上的话语权和代表性增强
- A. ①② B. ①④ C. ②③ D. ③④
19. 舞狮在我国有一千多年的历史,是分布最广泛的瑞兽舞。中国舞狮有南北之分:南狮以广东醒狮为代表,以神似为主要特征,以南派武术的套路演练为基础;北狮以河北耍狮和北京太狮为代表,更重形似,杂技色彩比较浓厚。对此,下列认识正确的是
- ①中国舞狮文化既有共性也有各民族独特风格
②弘扬中国舞狮文化需各派在交流互鉴中共同发展
③随着传统社会的解体舞狮文化必然趋于衰微
④舞狮南北之分主要受地理、经济、历史等因素影响
- A. ①③ B. ①④ C. ②③ D. ②④
20. 毛泽东主席发出“向雷锋同志学习”的伟大号召59年来,雷锋的事迹被广为传颂,学雷锋活动蓬勃开展,雷锋精神成为中国共产党人精神谱系的一个重要坐标;59年来,从全心全意为人民服务、艰苦奋斗,到个人利益与集体、国家利益的辩证关系,再发展至新时代的社会志愿服务、义工服务和公益慈善活动,“雷锋”已超出个人称谓,升华为一种精神、一种现象、一种文化,并走向国际。由此可见
- ①加强思想道德建设需要发挥榜样的力量 ②“雷锋”走向国际已成为世界主流文化
③雷锋精神的内涵随时代而不断丰富发展 ④“雷锋”作为文化现象是一种抽象存在
- A. ①② B. ①③ C. ②④ D. ③④
21. 中国人自古就有飞天的梦想。“天宫”空间站、“嫦娥”奔月、“祝融”探火、“羲和”探日……从远古神话梦想,到新中国成立后的航天事业飞速发展,中国人一步一个脚印地触摸更高更远的太空,探索近地空间、探月、探火星、探日,尽情探索神秘太空的奥妙,将远古神话梦想变成现实。这表明
- ①伟大梦想是认识不断深化的根本动力 ②是积极向上的意识让神话变成了现实
③人类探索宇宙的活动具有社会历史性 ④梦想精神激励中国人探索宇宙的奥秘
- A. ①② B. ①④ C. ②③ D. ③④

22. 图4 漫画《问题解决了?》警示我们




图4 问题解决了?

- ①勇于承认并解决矛盾,不能掩盖矛盾 ②要做好战胜困难和挫折的心理准备
③要重视量变,防止量的积累引起质变 ④要实事求是,纠正形式主义不良作风
- A. ①② B. ①④ C. ②③ D. ③④
23. 2021年4月,中央纪委国家监委网站开通“我为群众办实事·纪委请您来出题”专栏。截至12月底,专栏共收集群众意见建议11.6万余条,督转典型问题线索和群众诉求4482件,一批不担当、不作为、乱作为问题得到严肃查处,一批影响群众获得感、幸福感、安全感的具体问题得到切实解决。中央纪委监委的做法
- ①坚持了以群众意见为工作的出发点 ②体现了唯物主义历史观的基本观点
③遵循了无产阶级政党的根本工作路线 ④创新了解决社会矛盾的方法和路径
- A. ①② B. ①④ C. ②③ D. ③④
24. 战国时期,秦国规定如果男子成年不另立门户,其所在基层什伍组织中的里典和伍老,要按“匿户”的罪名受到惩处,以至于秦国出现“家富子壮则出分,家贫子壮则出赘”的社会风气。这一做法
- A. 强化了宗法血缘关系 B. 促进了小农经济形成
C. 增强了秦国经济实力 D. 加强了中央集权统治
25. 西汉初年,汉高祖刘邦在消灭异姓诸侯的同时,认为“海内新定,同姓寡少,以德自秦之败”,于是“众建诸侯”,大封自己的子弟为诸侯王,并明确规定“非刘氏而王者,天下共击之”。刘邦旨在
- A. 确保皇位传承稳固 B. 实现对地方直接控制
C. 强化君主专制权力 D. 否定秦朝的政治体制
26. 北宋大官僚钱惟演门第观念浓厚,专选名门望族通婚,遭到满朝大臣的鄙视。司马光在《婚仪》中要求家人,凡议婚姻,“勿苟慕其富贵”。朱熹诵读之后,深表赞同,并在其所撰《朱子家礼》卷三《昏仪》中加以征引。这反映了宋代
- A. 等级观念日益淡化 B. 社会群体间流动性增强
C. 商品经济迅速发展 D. 理学思想主导地位确立
27. 朱元璋规定宦官不得涉足军事领域,以杜绝汉、唐宦官掌兵危害社稷的现象。明成祖时期,将宦官参预军事制度化、固定化,形成宦官监军制度。明英宗时期,宦官王振监军擅权,致使英宗被俘,明军损失惨重。明代出现宦官监军擅权局面主要在于
- A. 宦官掌握决策权力 B. 宰相制度废除
C. 内阁议政功能丧失 D. 君主集权加强
28. 1862年8月,清政府创办京师同文馆,以外国人为教习,专门培养外文译员;1872—1875年,清政府分四批选派了120名幼童赴美国留学;1876—1877年,清政府又派遣大

- 到英、法、德等欧洲国家留学。清政府的举措
- A. 顺应了近代工业发展的需要
B. 促进了民主革命思想的传播
C. 标志着近代教育制度的确立
D. 颠覆了儒家经典的正统地位
29. 据统计,湖北军政府发布的文告主旨多为“反满兴汉”。其中近 90% 的文告只字未提共和、民权、民国,提及的绝大多数只是简单地宣布“建立中华民国”“建立共和政体”“清帝退位,改建共和,南北一家”。由此可见,湖北军政府
- A. 具有软弱性和妥协性
B. 偏离了革命的初衷
C. 弘扬了三民主义精神
D. 带有专制主义色彩
30. 图 5 为 1943 年 1 月,晋察冀边区第一届参议会妇女参议员合影照。这反映出,当时晋察冀边区



图 5

- A. 男尊女卑的观念消亡
B. 传统的伦理秩序被颠覆
C. 三三制原则得到落实
D. 妇女社会地位发生变化
31. 1977 年 5 月,邓小平指出“一定要在党内造成一种空气:尊重知识,尊重人才”,“不论脑力劳动,体力劳动,都是劳动”,并重申“知识分子是工人阶级的一部分”。邓小平的这一论断
- A. 否定了“两个凡是”的错误
B. 开启了改革开放的历程
C. 确立了“科教兴国”的战略
D. 促进了人们的思想解放
32. 表 1 是公元前 432—前 355 年间,雅典将军遭到陪审法庭弹劾的案件及判决统计表。

表 1

被判死刑	判巨额罚金	无罪释放	不知结果	共计
19 件	6 件	5 件	5 件	35 件

- 这表明,当时的雅典
- A. 陪审法庭拥有司法审判权
B. 官员腐败现象严重
C. 军队与陪审法庭矛盾尖锐
D. 民主政治出现危机
33. 1820 年 7 月,英国商人向下院提交陈情书:“曼彻斯特、萨福德的城镇以及邻近地区的数位商人、工厂主和其他居民……要求与中国广州港开展贸易的自由得到充分保障。”议会经过激烈的辩论,最后以 3 票赞成,8 票反对被否决。这反映出,当时英国
- A. 阶级斗争空前加剧
B. 工业资产阶级掌控议会
C. 工业革命成效显著
D. 自由资本主义思想受阻
34. 1921 年 5 月,美国农业州的议员组成一个“农业集团”,要求政府立法保护农民的利益。当月,政府召开特别会议,通过紧急关税法,对小麦、玉米、肉类、羊毛、食糖等农产品的进口课以高关税。美国政府的这一做法
- A. 缓解了经济大萧条的破坏
B. 加剧了农业生产相对过剩局面
C. 促进了农业生产持续发展
D. 开创了国家干预经济的新模式

35. 二战结束后,戴高乐提出法国除了继续保持它的殖民地外,还要“把靠近莱茵河、阿尔卑斯山和比利牛斯山的国家联合起来,使这个组织成为三大势力之一;在必要时,使它成为苏联和盎格鲁萨克逊两大阵营之间的仲裁者”戴高乐意在
- A. 建立欧洲经济共同体
B. 摆脱美国对西欧控制
C. 推动世界格局多极化
D. 提高法国的国际地位

二、非选择题:本题包括必考题和选考题两部分,共160分。第36~42题为必考题,每个试题考生都必须作答。第43~47题为选考题,考生根据要求作答。

(一)必考题:共135分。

36. 阅读图文材料,完成下列要求。(24分)

拒马河为大清河水系的主要支流,发源于太行山深处河北省涞源县境内,在张坊镇附近的铁锁崖下分为南北拒马河进入平原。拒马河流域属温带大陆性季风气候,年均降水量为600毫米,降水集中于6—9月。拒马河上游河流径流量季节变化小于下游。流域内以林地、草地、耕地和居住用地为主,洪涝灾害多发。拒马河引水规模较大的工程有河北省的五一渠、官道岭引水渠和北京市的胜天渠,其中胜天渠有效缓解了北京市的用水紧张状况。图6为拒马河流域示意图。

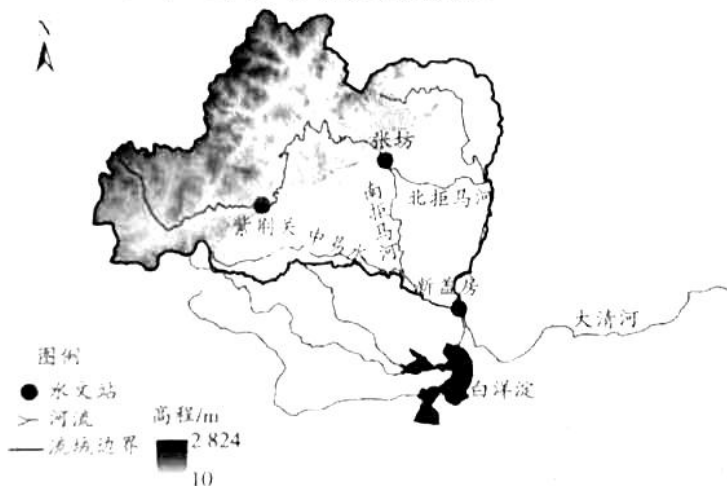


图6

(1) 推测拒马河上游径流量季节变化小于下游的原因。(8分)

(2) 说明拒马河流域降水特征对其水资源利用的不利影响。(4分)

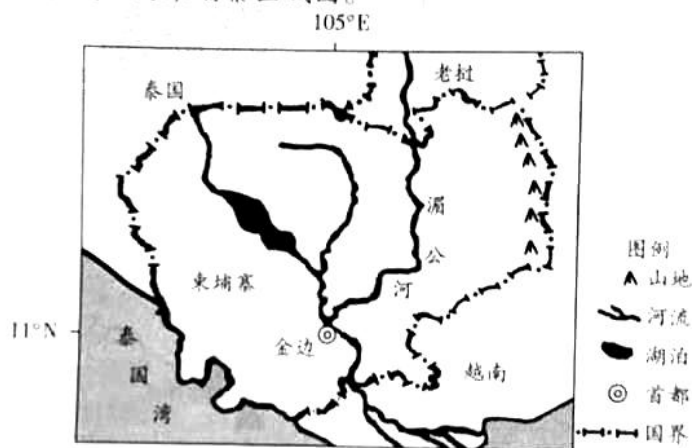
(3) 从地理环境整体性角度,分析拒马河引水工程引水量增大对白洋淀生态环境的影响。(6分)

(4) 请为拒马河流域实现水资源持续利用提出合理的建议。(6分)

37. 阅读图文材料, 完成下列要求。(22分)

木薯是热带块根作物, 喜光喜高温, 忌水涝, 被称为“淀粉之王”, 一般分布在平地地区。

柬埔寨中部和南部是平原, 东部、北部和西部被山地、高原环绕, 大量土地没有开发, 土壤多为沙壤土、沙土, 人均土地面积较大。柬埔寨是一个以农业为主的国家, 也是东南亚木薯传统种植国, 但农业技术水平较低。近十几年来, 得益于木薯需求量的增加及销售市场的红火, 柬埔寨从泰国、越南等国家引进木薯品种, 湄公河流域木薯种植面积迅猛扩展, 但其加工能力薄弱。我国是世界第一大木薯进口国和消费国, 近年中柬双方就木薯产业科技合作及木薯产品外贸出口零关税等达成协议, 中柬合作发展木薯产业潜力巨大。图7为柬埔寨区域图。



(1) 简析柬埔寨木薯种植规模能够迅速扩大的原因。(8分)

(2) 简述柬埔寨木薯产业发展中存在的主要问题。(8分)

(3) 中柬合作发展木薯产业潜力巨大,中柬木薯合作将会深入进行。请从下列两方面选择其一作答,分析中柬合作发展木薯产业的意义。(6分)

- ① 对我国社会经济发展的意义。
- ② 对柬埔寨社会经济发展的意义。

38. 阅读材料,完成下列要求。(14分)

随着数字经济的发展,数据已经成为了继土地、资本、劳动力、技术之后的又一关键生产要素,算力在数字时代扮演着全新生产力的角色。随着数字技术向各个产业领域的全面渗透,产生的数据规模越来越庞大,全社会对于算力的需求也愈加迫切,预计我国算力需求增速将达到每年20%以上,大力推动算力基础设施建设刻不容缓。

我国东部地区经济发达,经济活动产生大量数据,需要巨大的算力支持。数据中心耗能较高,消耗的水资源较多,但是东部地区能源、水资源、土地等资源压力不断加大,发展数据中心受限,而西部地区火电、风电、水电等能源资源丰富,空间资源广阔,可以满足东部地区算力的大量需求。

继“南水北调”“西电东送”“西气东输”等工程之后,中国又正式启动“东数西算”工程建设。“东数西算”就是在西部地区发展数据中心(新基建)(图8),把东部地区经济活动产生的数据和需求放到西部地区来计算和处理。数据中心产业链条长、覆盖门类广,随着“东数西算”工程全面开启,预计数据中心建设每年将带动投资超过4000亿元。



图8 规划建设的8大国家算力枢纽节点和10个国家数据中心集群

结合材料,运用经济生活知识,分析我国启动“东数西算”工程建设的必要性。

39. 阅读材料,完成下列要求。(12分)

透过全国人大常委会工作报告中的数据看全过程人民民主:

十三届全国人大四次会议期间代表提出的473件议案,已由相关专门委员会全部审议完毕。大会期间代表提出的8993件建议,统一交由194家承办单位全部办理完毕。从加强民生保障和社会治理到健全现代化经济体系,再到生态环保和绿色发展……代表们的议案建议充分反映人民意愿。

国家“立法直通车”开进了乡镇、社区。截至目前,全国人大常委会已建立22个基层立法联系点,辐射带动省、市两级人大常委会建立4700余个立法联系点。2021年颁布施行的乡村振兴促进法,鼓励农民专业合作社等创新推广方式,开展农业技术推广服务。这一内容包含甘肃省定西市临洮县基层立法联系点收集的民意。

全国人大常委会工作报告中的数据彰显了全过程人民民主。结合材料并运用政治生活知识加以说明。

40. 阅读材料,完成下列要求。(26分)

工厂变赛场。北京冬奥会的成功举办,让首钢滑雪大跳台“雪飞天”所在的首钢园及其工业遗址,也成了世界关注的焦点。国际奥委会主席巴赫称赞,石景山首钢园区必将成为奥林匹克运动推动城市发展的典范,成为世界工业遗产再利用和工业区复兴的典范。

始建于1919年的首钢创造了钢铁冶金业的辉煌,是一代钢铁工人的记忆,也是中国百年产业发展的记忆。但为了绿色发展而搬迁后,首钢园区内的老厂房、烟囱、冷却塔等没有被一“拆”了之,而是被尽可能完整地保留下来。2013年被国家发改委列为全国老工业区搬迁改造首批试点,计划建设成既保留工业遗存面貌又适应现代办公需求的创意产业园区。2015年,北京获得2022年冬奥会举办权,一系列冬奥工程开始落户首钢。

工业遗产是人类历史文化遗产的重要组成部分,对其保护、转型、再利用,成为各国共同的课题。像首钢工业园区这样,把工业遗址变成“金山银山”,让当年那些尘封的工业遗产再次“活”起来,成为中国工业永不磨灭的“真迹”,继续造福于民,无疑是多赢。由此,“老首钢”华丽转身,让“雪飞天”惊艳了世界。

北京冬奥会后,首钢工业园将继续通过资源整合、产品更新换代和与周边旅游景区的区域合作,充分发挥首钢工业旅游品牌和竞技体验旅游的独特魅力,打造工业旅游精品工程。

(1)结合材料,运用辩证否定观的知识,说明首钢工业园区是如何实现华丽转身的。(12分)

(2)结合材料,运用文化生活的知识,分析加强工业遗产保护利用对城市发展的价值。(10分)

(3)老工业基地用好了就不是“包袱”,而是财富。东北某市正在依托丰富近现代工业遗产打造工业旅游示范城市,请就如何吸引游客参加工业旅游提出两条建议。(4分)

41. 阅读材料,完成下列要求。(25分)

材料一 根据帝国宪法,作为帝国首脑的皇帝拥有行政、军事、外交等一系列大权。主持帝国政府的宰相由皇帝直接任命,对皇帝而不对议会负责。同时,皇帝还有权签署和公布帝国法律并监督法律的实施。国家立法机构实行两院制,联邦议会中的代表由各邦君主任命,成为各邦君主的代言人,帝国议会由25岁以上男性公民通过普遍、平等、直接和秘密选举产生,它有权提出法案,但只有得到联邦议会和皇帝的同意才能生效。在这一宪政结构中,传统统治阶级居于支配地位,资产阶级仅从参与意义上加入了统治行列。

——摘编自邢来顺《论德国政治现代化初期的“防御性”特征》

材料二 1908年8月,迫于内忧外患和风雨飘摇的局势,清政府颁布《钦定宪法大纲》,规定了君上大权和臣民的权利义务,实行君主立宪政体,君上有统治国家之大权,以议院协赞立法,以政府辅弼行政,以法院遵律司法。“夫宪法者,国家之根本法,为君民所共守,自天子以至于庶人,皆当率循,不容逾越”。《大纲》规定:臣民有合于法律明令之资格者,得为文武官吏及议员;在法律范围内,有言论、著作、出版、集会、结社自由;财产及住宅无故不加侵扰;有纳税、当兵义务,赋税非经新定法律更改,悉照旧输纳。

——摘编自张溪《透析〈钦定宪法大纲〉中权力与权利的格局》

(1)根据材料一、二并结合所学知识,概括《德意志帝国宪法》与《钦定宪法大纲》的相同之处。(10分)

(2)根据材料一、二并结合所学知识,分别说明《德意志帝国宪法》与《钦定宪法大纲》产生的历史背景。(15分)

42. 阅读材料,完成下列要求。(12分)

材料 相较于其他文明古国,只有中国的文明从未发生断裂。中华文明能够绵延不断的原因除了独特的地理生态因素外,最重要的是中华文明自身的包容性,以及其兼容并蓄的能力。历史上的中国文明一直与周边各种文明积极互动,传承中有创新。正是中华文明的包容性,使得丝绸之路两端的两个大国经历了两种不同的命运,西罗马在蛮族的入侵中走向灭亡,迈入漫长的中世纪,而中国经过几百年的民族大融合,最终,“和同为一家”,崛起成为古代世界上最具影响力的国家。

——摘编自[美]熊玠《大国复兴》

根据材料并结合所学中国古代史的知识,就材料整体或其中任意一点拟定一个论题,并予以阐述。(要求:论题明确,持论有据,论证充分,表达清晰。)

(二)选考题:共25分。请考生从2道地理选考题、3道历史选考题中每科任选一题作答。如果多做,则每科按所做的第一题计分。

43. [地理——选修3:旅游地理](10分)

自驾游是有组织、有计划、以自驾车为主要交通手段的旅游形式。自驾游车辆以私有为主,也可以采用借用、租赁及其他方式;驾车的目的地具有多样性和随意性,最终决定权在于车主或出行团队。河南省旅游资源丰富,是一个旅游大省。在河南省大力打造全域旅游的背景下,河南省自驾游仍然存在着行业缺乏规范、线路单一、配套服务设施不足等问题。

请为河南省促进自驾游发展提出合理化建议。

44. [地理——选修6:环境保护](10分)

浑善达克沙地深处气候干旱,土壤水分少,冬季气温低,风力强,在人类过度放牧的情况下土地退化严重,荒漠化突出。2001年,人们在荒漠化严重的浑善达克沙地深处某地设计了乔—灌—草多层次、高密度防风林,为了保证树木成活,使用生根剂处理树苗,当年,种植的旱柳萌芽了,然而次年这些树木就不再抽叶,并逐渐枯死。2002年,人们在该地区严重退化的土地上建起了围栏,让其自然恢复,到2008年,草被完全恢复,自然生长的榆树高达5~8米。

说明浑善达克沙地两种荒漠化治理措施效果差异的原因。

45. [历史——选修1:历史上重大改革回眸](15分)

材料 1917年,李大钊被任命为北大图书馆馆长,他从英美图书馆管理中吸取管理经验。开始对北大图书馆进行大刀阔斧的改革。针对北大图书馆缺乏西方文学、哲学和科学方面的外文资料,他不遗余力地去购买。1918年3月,李大钊发表声明,鼓励教授捐赠自己收藏的多余书籍。当时中国没有专业的图书馆教育,李大钊收集西方图书馆的材料,汇编成一本手册来训练图书馆工作人员。他把图书馆的开放时间从8小时延长到12小时,并安排图书馆整个夏季都开放。在李大钊的领导下,北大图书馆在短短几年之内就转变成一个新型的现代图书馆。在以后的数十年里,其他大学纷纷效仿。

——摘编自姚晓锋《新文化运动和北大图书馆的改革》

(1)根据材料并结合所学知识,说明李大钊改革北大图书馆的背景。(7分)

(2)根据材料并结合所学知识,简析李大钊改革北大图书馆的意义。(8分)

46. [历史——选修3:20世纪的战争与和平](15分)

材料 1943年11月28日至12月1日,苏美英三国首脑在伊朗首都德黑兰举行了战时第一次首脑会晤,史称德黑兰会议。会议的中心内容是研究并制订对德国作战的战略方针,即在欧洲开辟第二战场的问题。关于远东问题,罗斯福谨慎地试探了苏联参加对日作战的条件。斯大林提出,苏联在远东没有一个不冻港。罗斯福暗示有可能把大连变为自由港,并且指出,如果大连的地位获得国际保障,中国人不会反对。斯大林允诺:“一旦德国最后被打败,那时就有可能把必要的增援部队调到西伯利亚,然后我们将能联合起来打击日本。”

——摘编自方连庆《第二次世界大战时苏美英三次首脑会议》

(1)根据材料并结合所学知识,说明德黑兰会议召开的背景。(7分)

(2)根据材料并结合所学知识,简评德黑兰会议。(8分)

47. [历史——选修4:中外历史人物评说](15分)

材料 夏原吉(1366—1430年),祖籍江西德兴。他幼时发奋学习,获得良好的社会声望。朱棣即位后,夏原吉被提升为户部左侍郎,赴江南浙西治水,工程完工后,流水畅通,苏州、松江一带农田获得大利。治水期间,夏原吉日夜操劳,却廉洁自律,生活非常俭朴。1405年,朱棣将夏原吉召回朝廷主管户部,他裁减过多的供给,减轻赋税徭役。夏原吉尽职尽责,努力熟悉财政业务,将户口、府库、田赋等数字都写成小条,带在怀中,随时检阅。《明史》评论夏原吉说:“当是时,兵革初定,论‘靖难’功臣封赏,分封诸藩,增设武卫百司。已又发卒八十万问罪安南,中官造巨舰通海外诸国,大起北都宫阙,供亿转输以钜万万计,皆取给户曹。原吉悉心计应之,国用不絀。”

——摘编自白寿彝总主编《中国通史》

(1)根据材料并结合所学知识,概括夏原吉的主要贡献。(7分)

(2)根据材料并结合所学知识,简析夏原吉成就取得的原因。(8分)

关于我们

自主选拔在线是致力于提供新高考生涯规划、强基计划、综合评价、三位一体、学科竞赛等政策资讯的升学服务平台。总部坐落于北京，旗下拥有网站（[网址: www.zizzs.com](http://www.zizzs.com)）和微信公众平台等媒体矩阵，用户群体涵盖全国90%以上的重点中学师生及家长，在全国新高考、自主选拔领域首屈一指。

如需第一时间获取相关资讯及备考指南，请关注**自主选拔在线**官方微信号：**zizzsw**。



微信搜一搜

自主选拔在线

