

2021年“山东学情”高三10月联合考试

历史试题(A版)

一. 单选题(共15小题, 每题只有一个最佳答案, 每题3分)

1. 考古发掘表明, 约七千年前的河姆渡人已开始大规模栽培水稻。当时的水稻是由野生稻逐步培育而成, 其谷粒外形、颗粒大小已接近于现代栽培稻, 粒重远远超过野生稻。据此可知()

- A. 中国是世界上最早种植水稻的国家
- B. 铁犁牛耕推动了水稻种植业的发展
- C. 古代中国形成南稻北粟的种植格局
- D. 中国原始农业获得较程度的发展

2. 《礼记·月令》载, 每年正月周天子亲率臣下耕作, 称为“藉田”; 三月王后亲率嫔妃举行采桑养蚕仪式, 称为“亲蚕”。后来, 历代皇帝、皇后不断举行这样的仪式。这反映了()

- A. 周代制度在后代被严格奉行
- B. 古代政治制度演变缓慢
- C. 小农经济是古代社会的基础
- D. 农桑是古代社会经济的主体

3. 李约瑟在《中华科学文明史》中曾写到“史书明确记录了公元前186年吕后当政时发生一次日食, 但现代天文学研究表明, 所记日食绝不可能发生。”史书中记载不可能发生的日食, 这一现象反映了()

- A. 对史料应多方甄别和印证方可使用
- B. 古代天文观测在精确度上存在不足
- C. 政治影响天文观测
- D. 天文观测注重实用性

4. 十六国时期到北朝, 北方政权在民族交融的基础上逐渐壮大, 一些北方政权的君主普遍具有很高的汉文化造诣, 例如: 匈奴政权前赵的刘渊“《史记》《汉书》诸子, 无不综览”, 鲜卑政权前燕的慕容皝“尚经学, 善天文”, 氐人政权前秦的苻坚“博学多才艺”等。这种现象()

- A. 有利于巩固儒学的正统
- B. 为统一全国准备了条件
- C. 导致了九品中正制确立
- D. 受北魏孝文帝改革影响

5. 唐代初期采用府兵制, 征兵对象主要是均田农民, 农民忙时务农, 闲时参加军事训练, 国家打仗时随军出征, 自己携带粮食和武器。唐玄宗时, 政府改行募兵制, 由国家招募职业军人, 提供军饷和装备, 招募的兵士由专门的军官训练和指挥, 长期服役。这一变化()

- A. 客观上削弱了人身依附关系
- B. 推动雇佣关系逐步普及
- C. 导致了藩镇割据局面的出现
- D. 促使均田制度渐趋瓦解

6. 《文姬归汉图》系南宋陈居中以东汉才女蔡文姬深陷匈奴的一段坎坷经历, 作为创作轴心的历史故事画。画中文姬、匈奴左贤王、汉使皆以织毡为坐席。左贤王去卑跪朝南, 居于画面上首的位置, 汉使则跪坐而北, 居于下位(如下图)此作品()



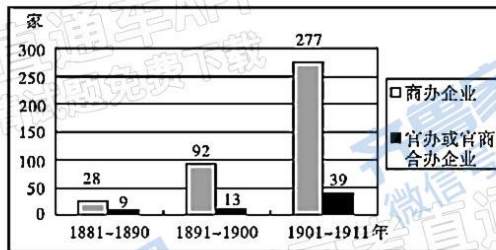
- A. 反映出浪漫主义唯美画风
- B. 体现了程朱理学的核心理念
- C. 旨在厘清汉匈关系的演变
- D. 蕴含着托古喻今的讽谏之意

7. 下图为明代中期工商业城镇分布图。这一状况()



- A.导致了闭关锁国政策的废除 B.标志着经济重心南移的完成
C.促成了传统经济结构的剧变 D.推动了区域贸易的迅速发展
- 8.梁启超的“新民说”对中国人的性格、习性、智能上的弱点做了尖锐的批评,主张“博考各国民族所以自立之道,汇择其长者以取之,以补我之所未及”,以便在激烈竞争的世界建设自己的民族国家。其主要意图是()
- A.提倡君主立宪,推动社会进步 B.关注国家存亡,提倡思想启蒙
C.主张全盘西化 D.在中国宣传马克思主义
- 9.根据下表可知,当时中国()

1881—1911年中国商办、官办企业发展数量统计表



- A.迎来了民族工业发展的春天 B.摆脱了外国资本主义的控制
C.政府放宽了民间设厂的限制 D.具备了一些社会变革的条件
- 10.顾兆熊在1919年5月9日《晨报》“评坛”栏发表了一篇名为《一九一九年五月四日北京学生之示威运动与国民之精神的潮流》评论。他认为“吾观此次学生之示威运动,似青年之精神的潮流,已有一种趋势,,,则将来之社会,必可转病弱为强健也”该学者意在强调五四运动()
- A.以社会的运动改造社会 B.使中国的社会性质发生根本变化
C.找到了社会改造的途径 D.拉开了中国近代思想解放的帷幕
- 11.1927年3月,毛泽东在《湖南农民运动考察报告》中写道:“各种反对农民运动的议论,都必须迅速地矫正……很短的时间内将有几万万农民从中国中部、南部及北部各省起来,其势如暴风骤雨,迅猛异常,无论什么大的力量都将压抑不住。”这一论述()
- A.指明了中国革命的正确道路 B.推动了国民革命运动的兴起
C.冲破了苏俄革命模式的羁绊 D.推动了农村大革命运动的继续发展
- 12.下图是我国著名漫画家张乐平作品:《将来我们看得见的结果》该漫画()



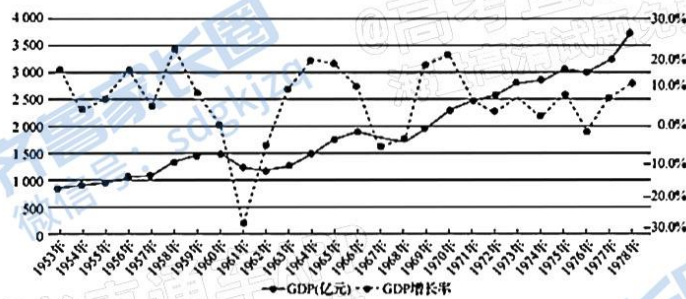
- A. 鼓舞了敌后战场军民的士气
- B. 体现出日本侵略者的嚣张气焰
- C. 反映了敌我双方力量的悬殊
- D. 彰显了中国人民夺取胜利的信心

13. 如图是 1953 年创作的年画作品《数他劳动强》关于美术作品的历史研究分析, 较合理的是 ()



- A. 现实主义作品的史料价值高于浪漫主义作品, 这幅画描绘了土地改革运动
- B. 民间作品往往具有一手史料的价值, 这幅年画是农民参与社会主义生产的见证
- C. 艺术作品对比研究是捷径, 通过与中国传统文人画对比可理清中国绘画脉络
- D. 艺术史的研究要求研究者必须兼具历史学科和专门艺术学科的知识与方法储备

14. 下图反映了我国社会主义革命和建设时期 1953—1978 年 GDP 及其增长率变化示意图。对此图解读正确的是 ()



- A. 经济指标持续向好
- B. 经济发展深受国内外形势影响

C.经济政策调整作用明显

D.人民群众的经济建设热情高涨

15.1978年9月,邓小平在东北、天津等地发表了一系列谈话,强调社会主义制度优越性的根本表现就是能够允许社会生产力迅速发展,使人民的物质文化生活能够逐步得到满足,史称“北方谈话”;1992年初,邓小平先后视察武昌、深圳、上海等地,深刻地阐发了长期束缚人们思想的许多重大认识问题,史称“南方谈话”。这两次谈话表明邓小平()

- A.完成中国特色社会主义理论探索
B.十分关注人民的物质文化生活
C.对社会主义本质的认识逐渐成熟
D.意在强调社会主义制度优越性

二.材料解析(55分)

16.阅读材料,完成下列要求。(14分)

材料一 中国古代学者关注天下兴亡与国家盛衰,追求在现实社会中建功立业。他们以学术研究为国家与社会服务,不做为学术而学术的纯理论研究。儒家总结上古圣人施政安民的理念,揭示“先王得位行道,经纬宇宙之迹,而非托于空言”,成为学者从盛衰兴亡中探讨治国之道,实现经世致用的思想渊源。他们根据时代环境与社会现实的需要,针对治国兴邦的各种问题展开研究,以是否有益于世作为价值判断的标准,反映崇尚实际、注重实效的实用性。

——摘编自鹿天佑《论儒家思想与中国古代学者的人文精神》

材料二 儒家思想作为中国两千多年的封建统治思想,在历史上产生了深远影响。如今,其精华部分仍然是中华民族最宝贵的精神财富,值得我们借鉴传承。近年来,“孔子学院”相继在韩国、法国和非洲开办,中国传统文化在世界的影响越来越大。

- (1)根据材料一并结合所学知识,概括中国古代人文精神的特点。(6分)
(2)根据材料二并结合所学知识,对儒家思想依然具有现代价值做出合理的历史解释。(8分)

17. 阅读材料, 回答问题。(12分)

材料一:



袁世凯与各国公使合影。在袁世凯就任临时大总统后不久, 曾经明确拒绝孙中山的“五国银行团”(加了日本) 随即放款2500万英镑

材料二 以下为1912年5月孙中山与香港《士茂西报》记者的一段谈话。

访员曰: 先生让总统之位与袁世凯, 是由于个人之意乎? 抑以为如此更换更有益于

国家乎? 孙曰: 两者皆是。因袁君鼓动共和久矣。

结合材料与所学知识, 谈谈你对孙中山所答内容的认识。

18. 阅读材料, 回答问题。(14分)

1933年1月,《东方杂志》“新年特号”刊载了畅谈“新年梦想”征稿活动。材料“梦想的中国”来稿关键词统计表

关键词	提到该词的作者人数	该词在全部稿件中一共出现的次数
阶级	27人	58次
教育	27人	50次
帝国主义	23人	41次
民族	21人	70次
日本	18人	38次
社会主义	13人	20次
世界大同	11人	13次(“大同世界”视为近似词归入此类)
文化	22人	34次
世界大战	5人	6次

——摘编自耿密《民国知识精英的“国家梦”》

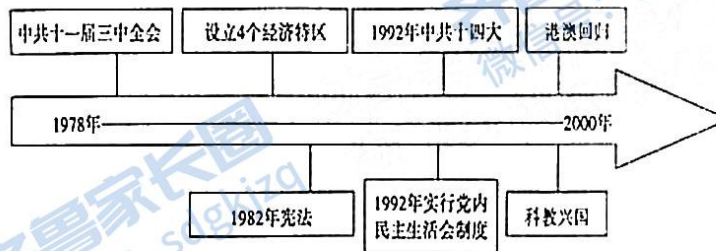
根据材料, 谈谈你对20世纪30年代“梦想的中国”认识。(要求: 表述成文, 持论有据, 论述充分, 逻辑清晰)

19. (15分) 某校为纪念中国共产党成立100周年, 设计党史纪念馆。提供了如下材料:

材料一 中国共产党在中华民族发展的各个紧要历史关头, 在异常错综复杂的局势面前, 清楚地指明了中国前进的方向和办法, 团结并带领人民前进。在中国这样一个世界上人口最多的国家里, 能够把如此众多的各族人民凝聚成万众一心的力量, 朝着一个正确坚定的方向团结奋进, 而不是各行其是, 更不是四分五裂的, 只有中国共产党。

——金冲及《二十世纪中国史纲》

材料二



中国共产党党史大事记(部分)

根据以上材料, 并结合所学知识, 为该校党史纪念馆中1978年至2000年的展板设计撰写一份设计报告。(包含设计主题、设计目的、展板内容; 表述清晰、史论结合)

“山东学情”10月高三历史A卷答案

一、选择题

1-5 DDCBA 6-10 DDBDA 11-15 DDDBC

二、材料解析

16.

(1) 特点: 注重对治同安邦的研究; 具有强烈的社会责任感; 崇尚实际和实用(或以经世致用为主题)。(6分)

(2) 解释:

儒家提倡“仁”“礼”“道义”“和为贵”“和”“和而不同”“以德治民”等道德观有助于构建和谐人际关系; 儒家的“有教无类”等教育教学思想, 对我国当代教育事业的发展和人才的培养有积极作用; 儒家主张的“大一统”思想有利于巩固中华民族的统一; 儒家提倡“仁”“德治”“民本”思想维护了社会稳定, 促进积极的发展等; 孔子主张“仁”“己所不欲, 勿施于人”“和为贵”“和”“和而不同”“以德治民”等儒家思想为当今世界各种矛盾的缓和化解提供了思想依据(8分, 任答4点, 其它言之有理亦可得分, 但总分不超过8分)

17.

孙中山个人追求角度: 建立共和是孙中山个人的革命追求, 也符合国家和民族的利益。为了早日结束南北对峙, 实现国家统一和建立共和, 孙中山不计个人得失, 让位于袁世凯, 反映了孙中山高尚的政治品质。(4分)

孙中山个人认识局限角度: 民主共和是历史的潮流, 袁世凯为了篡夺革命果实, 实行假共和真专制。孙中山对袁世凯的本来面目认识不清, 这体现出孙中山的政治局限性。(4分)

孙中山让位袁世凯还有不得已的原因角度, 如: 立宪派、旧官僚、帝国主义支持袁世凯; 袁世凯的政治和军事实力; 中国的民族资本主义发展不充分导致资产阶级革命派软弱性妥协性等等。(4分)

18. 【答案示例】

20世纪30年代的中国国内: 九一八事变后, 日本加紧对中国的侵略, 民族危机进一步加深; 南京国民政府主张攘外必先安内; “工农武装割据”进一步发展; 西方学说进一步传播, “阶级”、“教育”、“文化”反映出这一时期有识之士对救亡存图之路的探索。(国内3

个角度 6 分) 国际上:1929-1933 年经济大危机,法西斯主义进一步扩展;“阶级”、“社会主义”、“世界大同”反映出马克思主义的进一步传播;“世界大战”反映出这一时期随着经济危机爆发、法西斯势力的扩展,导致国际形势的紧张。(国际 3 个角度 6 分)

此次征稿活动反映出 20 世纪 30 年代人们的社会责任感,对民族独立复兴的渴望。(2 分)

19.答案示例

设计主题:伟大的转折——改革开放。(1 分,符合题意皆可)

设计目的:展现中国共产党带领全国各族人民进行中国特色社会主义建设的历程;感悟中国共产党领导改革开放的创新精神;体现中国共产党的凝聚力。(2 分,任答 1 点,其它符合主题也可得分)

展板内容:(12 分,可从以下角度作答)

角度 1:从经济方面,社会主义经济体制改革过程中的重大历史事件,如:家庭联产承包责任制,国有企业改革,经济特区设立,社会主义市场经济体制初步确立等。

角度 2:从政治方面,社会主义民主法制的发展完善的历程,如:1982 年宪法制定,基层民主建设,一国两制的提出和实践等。

角度 3:从思想文化方面,社会主义思想文化的发展,如:中国特色社会主义理论提出(邓小平理论)等。

角度 4:从社会生活变迁方面,人民衣食住行的变化反映出社会主义建设的成就。

角度 5:从社会主义核心价值观方面,人民精神风貌的变化、新时期劳动模范的涌现等。

(任意三个角度即可,每个角度 4 分,共 12 分)

关于我们

齐鲁家长圈系业内权威、行业领先的自主选拔在线旗下子平台，集聚高考领域权威专家，运营团队均有多年高考特招研究经验，熟知山东新高考及特招政策，专为山东学子服务！聚焦山东新高考，提供新高考资讯、新高考政策解读、志愿填报、综合评价、强基计划、专项计划、双高艺体、选科、生涯规划等政策资讯服务，致力于做您的山东高考百科全书。

第一时间获取山东高考升学资讯，关注**齐鲁家长圈**微信号：**sdgkjzq**。



微信搜一搜

齐鲁家长圈

打开“微信 / 发现 / 搜一搜”搜索