

景德镇市 2023 届高三第三次质量检测卷

文科综合

地理命题人：徐晓栋（乐平中学） 钱中一（景德镇一中）

政治命题人：曹淑萍（昌江一中） 梁冬斌（昌河中学）

历史命题人：程志鹏（昌江一中） 汪三妹（景德镇七中）

注意事项：

1. 本试卷分第 I 卷（选择题）和第 II 卷（非选择题）两部分。答题前，考生务必将自己的姓名、考生号填写在答题卡上。

2. 回答第 I 卷时，选出每小题答案后，用铅笔把答题卡上对应题目的答案标号涂黑。如需改动，用橡皮擦干净后，再选涂其他答案标号。写在试卷上无效。

3. 回答第 II 卷时，将答案写在答题卡上。写在试卷上无效。

4. 考试结束，将答题卡交回。

第 I 卷

本卷共 35 小题，每小题 4 分，共 140 分。在每小题给出的四个选项中，只有一项是符合题目要求的。

图 1 为 2020 年全国老龄化地图（以各省 60 岁及以上常住人口占比统计）。据此完成 1~3 题。

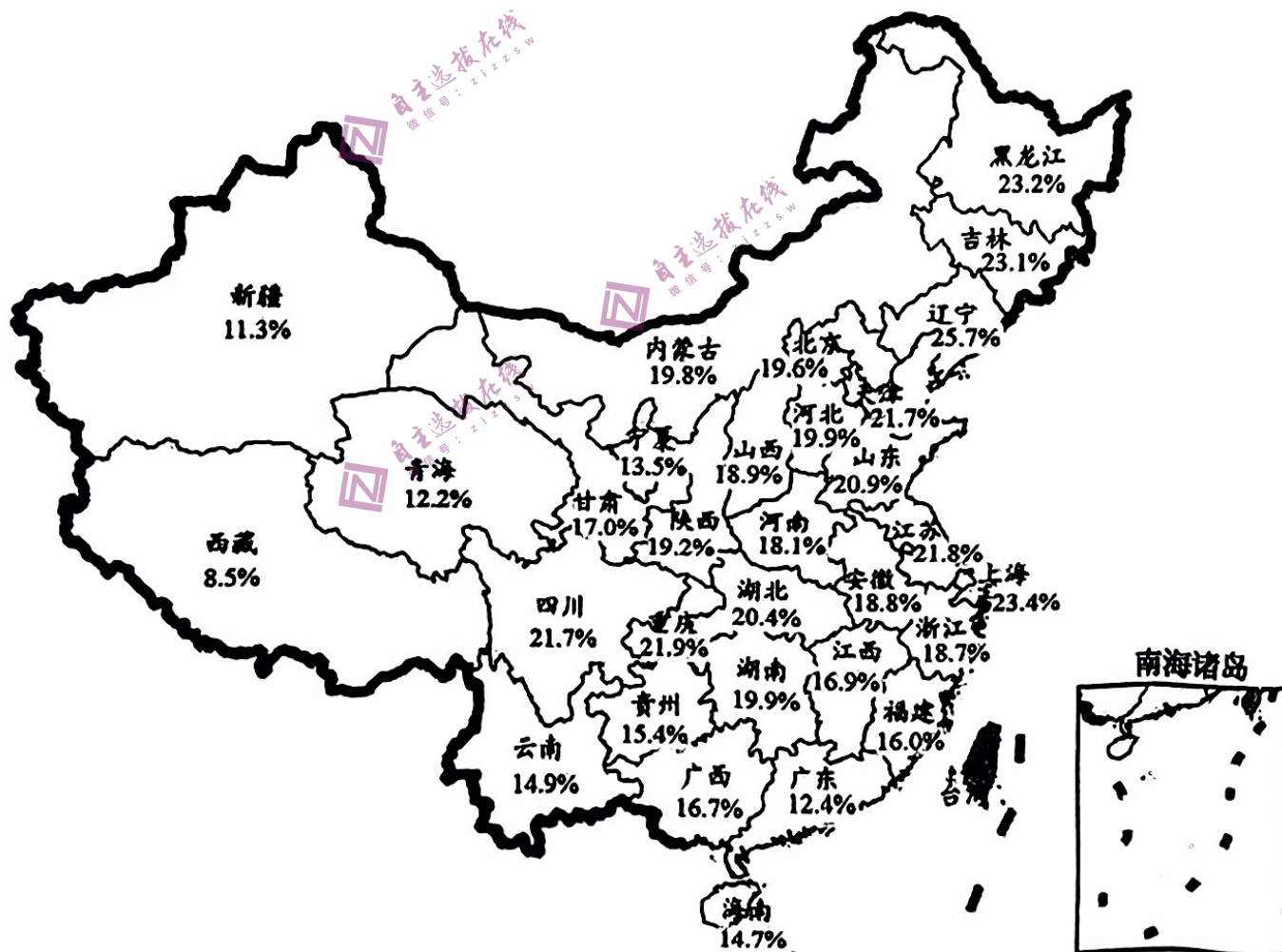


图 1

1. 2020 年我国人口老龄化程度的总体格局是

- ①南方重、北方轻 ②北方重、南方轻 ③东部重、西部轻 ④西部重、东部轻
- A. ①③ B. ①④ C. ②③ D. ②④

2. 东北地区成为我国人口老龄化最严重的地区，主要影响因素是
- A. 居民生育意愿 B. 医疗卫生水平 C. 经济发达程度 D. 工业发展状况

3. 河南某城市从外地引进一批规模企业，对减缓当地人口老龄化现象作用最显著的企业是
- A. 软件公司 B. 电子装配厂 C. 家具制造厂 D. 食品加工厂

再加工茶是以绿茶、红茶等基本茶类为原料，加入鲜花等辅料进行深加工的产品。2022年11月由北京某中高端茶叶生产商申报的“花茶制作工艺”被联合国教科文组织列入“人类非物质文化遗产代表作”名录。该企业2016年在福建霞浦县葛洪山建设了生态茶园，茶园周围云雾缭绕，山泉潺潺，是天然的产茶圣地。据此完成4~5题。

4. 长期以来北京所产茶叶大部分是再加工茶，根本因素是
- A. 气候 B. 水质 C. 生产历史 D. 消费习惯

5. 该企业在葛洪山建设茶园的主要目的是
- A. 降低原料成本 B. 获取优质原料 C. 扩大生产规模 D. 促进当地扶贫

青藏高原的隆起不仅使其具有冬季为冷源、夏季为热源的热力性质，而且导致高空中纬西风气流被分裂为南北两支（图2），影响我国西南地区的天气。据此完成6~8题。

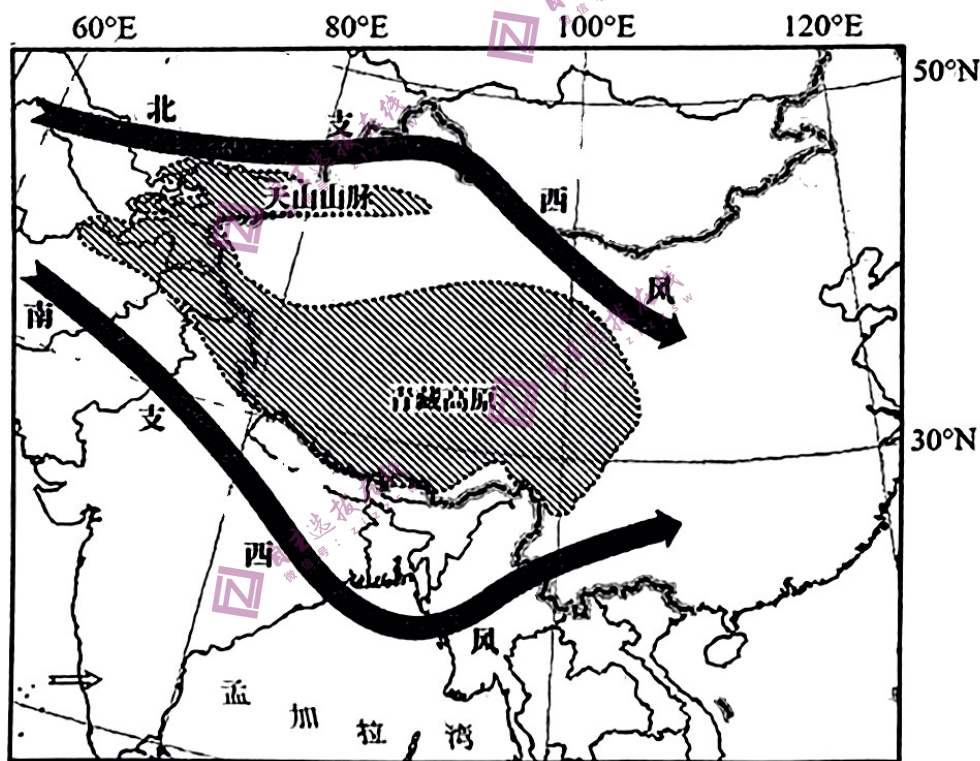


图2

6. 受气压带、风带季节性移动的影响，青藏高原对高空中纬西风分裂作用最明显的季节是
- A. 春季 B. 夏季 C. 秋季 D. 冬季
7. 青藏高原的热力性质改变其以北、以南地区在南北方向上的水平气温梯度，在冬季表现为
- A. 北部地区增大，南部地区减小 B. 北部地区增大，南部地区增大
- C. 北部地区减小，南部地区减小 D. 北部地区减小，南部地区增大
8. 冬季时，与北支西风相比，图中影响我国西南地区的南支西风
- A. 冷而干，风力较大 B. 冷而干，风力较小
- C. 暖而湿，风力较大 D. 暖而湿，风力较小

河套平原是我国盐碱地主要分布地区之一，当地在春季播种前常采用大水漫灌农田洗盐。为减少漫灌带来的不利影响，专家在灌区进行了井灌井排治理盐碱地试验，通过打井抽取地下水淡水灌溉、抽走地下咸水排盐，取得了良好效果。图3表示试验区在4月份和7月份采用大水漫灌和井灌井排两种方式影响下土壤剖面含盐量的变化。据此完成9~11题。

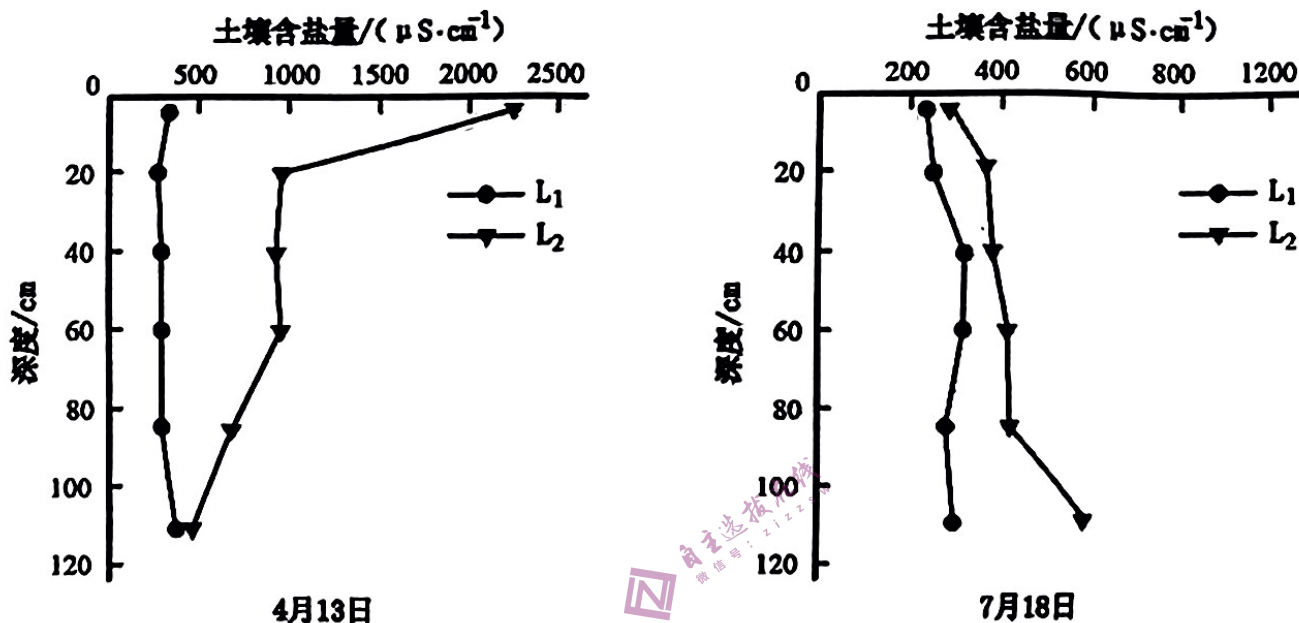


图3

9. 春播前漫灌带来的不利影响包括

- ①水资源利用率低，造成浪费
 - ②土壤被大水压实，土壤易板结
 - ③地下水位下降，地表盐分升高
 - ④造成播种延迟，生长周期缩短
- A. ①② B. ①③ C. ①④ D. ③④

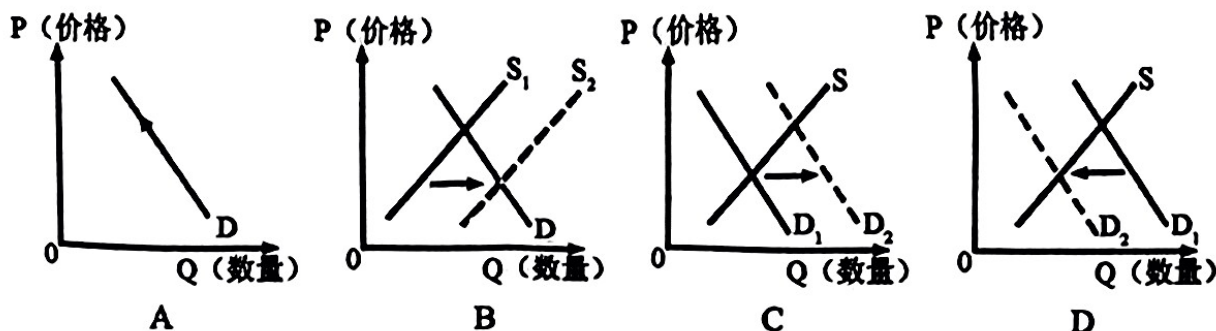
10. 据图可知

- A. 该试验区土壤含盐量随深度增加而下降 B. L₁线表示大水漫灌，L₂线表示井灌井排
- C. 漫灌方式土壤垂直盐度变化大于井灌井排 D. 井灌井排的治盐作用主要体现在7月份

11. 在该地土壤返盐严重的季节，使用井灌井排方式治理时

- A. 表层土壤淋盐，深层土壤积盐
- B. 灌溉井非常为深水井，排水井非常为浅水井
- C. 灌溉井周围地下水位上升，防止土壤返盐
- D. 排水井周围地下水位下降，减轻地表涝渍

12. 在数字化科技的赋能下，数字车钥匙也成为了新能源汽车的一大优势。数字车钥匙，也将成为提升新能源汽车人车交互智能体验的重要一环。若不考虑其他因素，能正确反映上述现象对2023年新能源汽车市场带来的影响是



13. 科技成为农业农村经济增长最重要的驱动力。“农业机械技术水平的提高，这是中国式农业现代化的核心内容。”要加强农业与科技融合、推进农业科技创新与科技成果转化、抓实抓好农业关键核心技术攻关与人才培养、开展农民科技培训。这对我国农业实现高质量发展的影响路径是

- ①加强农业与科技融合→延长农业产业链→提升农产品附加值→提高农业产出效益
- ②抓好农业核心技术攻关→农业科技成果系统集成→确保农业提质增效→推进乡村振兴
- ③推进科技成果转化→科技成果转化为现实生产力→提高农业生产效率→加快农业现代化
- ④开展农民科技培训→提高农民素质→培育新型职业农民→拓宽农民增收致富渠道

A. ①③ B. ①④ C. ②③ D. ②④

14. 家庭有小账，咱们国家也有一本大账。国家这个账本就是两会期间代表委员们手里拿到的预算报告。图4就是今年国家账本中的一页，由此可推出我国



图4

- ①经济下行压力大，财政紧张矛盾非常突出
- ②将加大财政支出力度，提振市场信心
- ③用货币政策的稳健性稳住经济大盘
- ④加强财政资金统筹，优化财政支出结构

A. ①② B. ②④ C. ①③ D. ③④

15. 卢塞尔体育场，卡塔尔规模最大的体育场。是中国企业第一次以设计施工总承包的身份，参与建设国际足联最高标准的专业足球场；也是中国企业首次执行世界杯主体育场设计建造任务；更是目前中国企业在海外建造的规模最大、容纳人数最多的专业场馆。”这表明我国

- ①参与国际分工，是经济全球化的最大受益者
- ②为经济全球化的发展提供了根本动力
- ③积极“走出去”，培育开放型经济发展新优势
- ④实体经济不断壮大、建筑业实力增强

A. ①② B. ①③ C. ②④ D. ③④

16. 立法法，是规范国家立法制度和立法活动、维护社会主义法治统一的基本法律。在此次全国人民代表大会的开幕会上，十三届全国人大常委会副委员长王晨作关于立法法修正草案的说明。此后，各代表团召开小组会议审议立法法修正草案。3月13日，十四届全国人大一次会议表决通过了关于修改立法法的决定。这说明全国人大常委会

- ①扎实履职坚持全过程人民民主
- ②作为全国人大专门委员会行使立法权
- ③坚持民主集中制提高立法质量
- ④在我国政治制度体系中居于核心地位

A. ①② B. ①③ C. ②④ D. ③④

17. 新时代以来,党以“得罪千百人、不负十四亿”的使命担当祛疴治乱,反腐败斗争取得压倒性胜利并全面巩固,腐败存量得到有力削减、腐败增量得到有效遏制。这有利于

- ①党员为民执政,发挥先锋模范作用
- ②办好中国事情,确立党的执政地位
- ③坚定理想信念,保持党的先进性
- ④坚持党要管党,推进新的伟大工程

A. ①② B. ①③ C. ②④ D. ③④

18. 近年来,四川省大力推动民族团结进步创建的探索实践:在广袤的天府大地上,创新发展的民族团结进步示范村和少数民族特色村寨、各族群众守望相助的城市社区、各族学生共居共学互帮互助的校园、物阜民丰的旅游景区……成为“中华民族一家亲,同心共筑中国梦”的一个个真实写照。这表明,民族团结进步应

- ①坚持和完善民族区域自治制度
- ②消除各民族间经济和文化的差异
- ③不断铸牢中华民族共同体意识
- ④坚持民族平等和各民族共同繁荣

A. ①② B. ①③ C. ②④ D. ③④

19. 文艺中国 2023 年新春特别节目,以时空层叠的形式综合呈现了舞台表演的艺术魅力,引导观众在历史与现实之间获得感悟,激发起积蓄力量、奋楫向前的昂扬斗志。这说明优秀文化作品

- ①能够增强人的精神力量
- ②蕴含着人们的精神向往和追求
- ③给人以深远持久的影响
- ④影响人们的交往行为、交往方式

A. ①② B. ①③ C. ②④ D. ③④

20. 今年春晚以“花”为主题符号贯穿了整台晚会,由四瓣花结构演化重构而成的演播厅顶部的艺术装置“满庭芳”,占据了舞台 C 位。“满庭芳”的创意取材,正是源自仰韶文化。中华,种花,“花”与“华”同音,仰韶之“花”,也正是探寻“华夏”来源的重要源头。仰韶文明“华夏之花”绽放央视春晚,讲述何以中华。这

- ①将让中华优秀传统文化成为中华民族的基因
- ②展现了中华文化源远流长、博大精深
- ③展示了中华文化独特魅力坚定文化自信
- ④解开了“中华文明从何而来”的奥秘

A. ①② B. ①④ C. ②③ D. ③④

21. 今年春节档一部非常火的电影《流浪地球 2》唤起了很多科幻迷、航天迷“仰望星空”的热情。国资委携手央企国家队集体喊话《流浪地球 2》:“你们尽管想象,我们负责实现”。这说明

- ①人们可以充分发挥主观能动性创造出崭新的物质
- ②思维和存在具有同一性,思维能够正确反映存在
- ③实践可以把人们头脑中的观念的存在变为现实的存在
- ④认识是主观与客观、理论与实践的具体的历史的统一

A. ①② B. ①④ C. ②③ D. ③④

22. 国家主席习近平在 2023 年新年贺词中指出,中国这么大,不同人会有不同诉求,对同一件事也会有不同看法,这很正常,要通过沟通协商凝聚共识。14 亿多中国人心往一处想、劲往一处使,同舟共济、众志成城,就没有干不成的事、迈不过的坎。从辩证法角度,这段话体现的哲理有

- ①把握联系的普遍性,用联系的观点看问题
- ②价值观不同,人们对事物的认识和评价就不同
- ③树立全局观念,立足整体,着眼于事物的整体
- ④承认矛盾的特殊性是坚持唯物辩证法的前提

A. ①③ B. ①④ C. ②③ D. ②④

23. 3月10日，十四届全国人大一次会议表决通过了关于国务院机构改革方案的决定。改革开放以来，国家已进行了9次国务院政府机构改革，面对新时代新任务提出的新要求，深化党和国家机构改革，不断推进国家治理体系和治理能力现代化，具有历史和现实必然性。从历史唯物主义角度来看，这是因为

- ①社会存在的变化决定社会意识的变化 ②改革生产关系适应生产力的发展
 ③改革是推动阶级社会发展的直接动力 ④改革上层建筑适应经济基础的发展
- A. ①② B. ①④ C. ②③ D. ③④

24. 《周礼·考工记》记载：“匠人营国，方九里，旁三门。国中九经九纬，经涂九轨。左祖右社，面朝后市”。由此可见，先秦城市规划

- A. 彰显了统治者的权威 B. 强调了人类与自然要长期和谐共生
 C. 适应经济发展的需要 D. 体现了国家治理与社会治理的需要

25. 图5为甘肃省高台县博物馆藏魏晋时期二牛耕地壁画砖，左侧绘二牛驾直辕犁，一男子右手扶犁，左手执鞭，后面一树上栖鸟，画面上方有二飞鸟。对此解读正确的是




图5

- A. 说明当时牛耕生产技术的普遍性 B. 反映当时农业达到精耕细作的地步
 C. 佐证了魏晋时期人民的生活富足 D. 农业技术推广巩固了国家一统局面

26. 投壶是先秦延续至清末的中国传统礼仪和宴饮游戏。它由射礼演变而来，汉代成为儒士的高雅活动，宋代时在文人士大夫阶层广泛流行。司马光在《投壶新格》中说：“投壶可以治心，可以修身，可以为国，可以观人。”由此可知，宋代投壶

- A. 丰富了市民阶层娱乐生活 B. 得益于政府大力提倡
 C. 兼具了教育与娱乐的作用 D. 深受王阳明心学影响

27. 张居正在位时三子登科，被认为是操纵科举的结果。在张居正去世后，万历十年、十六年举行的科举考试中，众官员掀起前所未有的反对辅臣子弟登科的浪潮，并最终获得胜利，被禁考辅臣子弟及相关考官成为牺牲品。这一事件反映了当时

- A. 彰显了明朝社会公平 B. 辅臣权重影响了科举的公信力
 C. 蔑视了官僚群体权威 D. 科举选拔人才的程序日益规范

28. 1863年上海方言馆成立，其《章程十二条》规定：“西人制器尚象之法，皆从算学出，若不通算学，即精熟西文亦难施之实用。凡肄业者算学与西文并须逐日讲习，其余经史各类，随其资禀所近分习之。”材料中的章程规定

- A. 体现了“中体西用”观的指导原则 B. 根本目标是培养专业型外语人才
 C. 体现了国人与世界融合的开放意识 D. 对经学和科举制构成了有力冲击

29. 全面抗日战争爆发之后，中国共产党为争取抗战话语权同国民党展开了斗争。《新华日报》《群众》周刊在国统区公开发行，先后发表《华北百团大战的历史意义》《加强抗日各党派的团结》《祝国民参政会成功》《苏美英团结益坚强》等文章，材料说明抗日战争时期中国共产党

- A. 致力于推动抗日民族统一战线建立
- B. 注重舆论斗争的艺术性和灵活性
- C. 促进了敌后抗日根据地的文化建设
- D. 坚持以阶级为中心话语价值取向

30. 1949 年新中国成立前，毛泽东指出“但是我们的事情还很多，比如走路，过去的工作只不过是像万里长征走完了第一步。残余的敌人尚待我们扫灭，严重的经济建设任务摆在我们面前。我们熟习的东西有些快要闲起来了，我们不熟习的东西正在强迫我们去做。这就是困难。”材料表明此时中共面临的主要任务是

- A. 国家富强、人民幸福
- B. 基本完成新民主主义革命
- C. 实现向社会主义过渡
- D. 尽快筹备成立新中国政权

31. 1962 年我国物价指数达到 152.6%。中共中央做出了“急需稳定物价、稳定市场的决定”，规定粮食、棉花、肥皂、火柴等十八类人民生活必需品实行定量平价供应，在定量以外确定若干种高价商品，以三十亿元的商品回笼了近一百亿元的货币，迅速实现了物价的稳定。材料说明

- A. 指令性政策仍在发挥主要作用
- B. 计划分配体制由此逐步得到改变
- C. 国民经济调整任务已基本完成
- D. 市场在资源配置中作用得以肯定

32. 公元前 4 世纪 50 年代的雅典与公元前 5 世纪 50 年代的雅典形成了凄惨的对照：反映公民状况晴雨表的戏剧主题，从对城邦集体生活的批判模仿转变为只对私人生活的烧菜煮饭和鱼的价格上感兴趣。年轻人传统的信仰被摧毁，同时又没有可以取代传统成为他们的精神支柱。材料中的雅典人精神生活的变化说明了雅典

- A. 民主观和道德观走向朴素
- B. 民主政治议题物质化和生活化
- C. 城邦共同体意识日益消退
- D. 商业的衰落影响公民道德信仰

33. 1802 年英国议会通过了《学徒健康与道德法》。这部法律就学徒工的卫生条件、劳动时长以及教育问题都做了非常具体的规定。该法律表明此时英国

- A. 国家加强了对工厂的监督
- B. 工业化的实现催生对高素质人才需求
- C. 独立的工人运动影响深刻
- D. 工业资产阶级掌握政权完善社会保障

34. 1947 年 12 月 17 日，美国国家安全委员会通过了《对苏联、东欧的出口管制》文件，要求立即、无限期地停止从美国向苏联及其附庸国出口所有美国短缺的物资和有助于增强苏联军事潜力的物资。此文件说明

- A. 美苏争霸局面愈演愈烈
- B. 东西德国的建立激化美苏矛盾
- C. 美苏之间冷战对抗加剧
- D. 两极格局形成加剧了阵营对峙

35. 关于科索沃战争，美国官方报告称：“我们的空中打击在战争史上是最有效和最人道的。”环境史家认为“高科技战争加剧了人与自然的对立和世界秩序的不公。”也有学者认为“科索沃战争就将成为美国和北约以人权为理由干预别的主权国家的先例。”关于科索沃战争的认识说明了

- A. 高科技战争减少伤亡而更人道
- B. 战争改变了冷战后的国际格局
- C. 研究者的角度决定了战争性质
- D. 随着研究视角拓展而趋于全面

第II卷

本卷包括必考题和选考题两部分。第36题~第42题为必考题，每个试题考生都必须作答。第43题~第47题为选考题，考生根据需求作答。

36. (24分) 阅读图文资料，完成下列要求。

智利是世界最大铜矿生产国(图6)，也是我国主要的铜产品供应国。铜矿生产用水量大，长期以来智利深受水源不足问题的困扰，海水淡化是智利应对水资源紧缺的重要措施。为提供铜矿生产及海水淡化所需要的能源，2022年1月我国与智利北部某铜矿集团签订了系列分布式太阳能光伏电站的首个项目合同，为双方在新能源市场的合作奠定了基础。

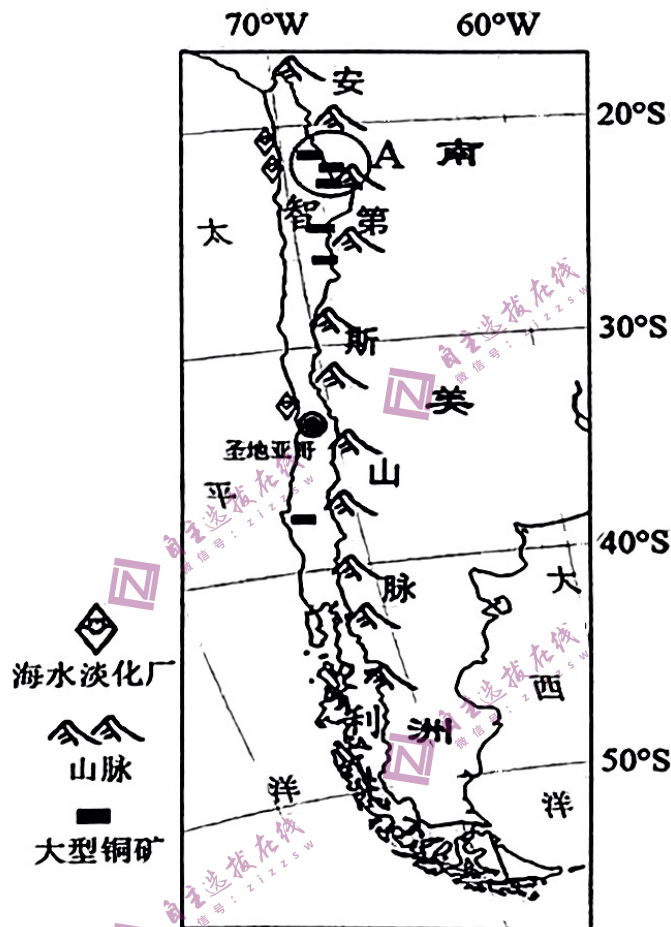


图6

- (1) 简述智利北部铜矿生产缺水严重的原因。(4分)
- (2) 分析智利发展海水淡化的有利条件。(8分)
- (3) 指出A矿区利用海水淡化水源所面临的困难。(4分)
- (4) 分布式光伏电站是一种装机规模较小、分散布置在各用户附近的太阳能发电系统。说明智利北部优先建设分布式光伏电站的原因。(8分)

37. (22分) 阅读图文资料，完成下列要求。

冰瀑布是现代冰川由冰构成的状若瀑布的景观。海螺沟冰瀑布(图7)位于四川贡嘎山海螺沟冰川大峡谷，冰瀑布高约1080米，宽可达1100米，是我国最高、最大的冰瀑布，对长江上游流域的生物多样性有着良好的生态屏障作用。近些年来受气候变暖的影响，在大冰瀑上出现一些裸露的基岩，称为“天窗”，海螺沟冰瀑布未来的命运令人担忧。

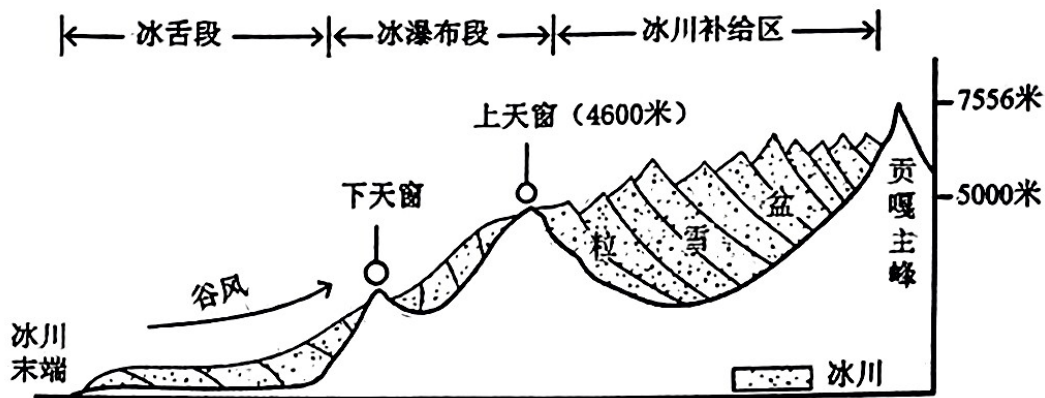


图 7

- (1) 概括海螺沟巨大规模冰瀑布形成的基本条件。(4分)
- (2) 说明海螺沟冰川对维持长江上游流域的生物多样性的作用。(8分)
- (3) 分析下“天窗”面积大于上“天窗”的原因。(6分)
- (4) 推测气候持续变暖，海螺沟冰瀑布景观的变化。(4分)

38. (14分) 阅读材料，完成下列要求。

2023年1月16日和2023年2月20日，由景德镇市政府主办，景德镇市商务局承办消费券发放活动火热展开。此次发券通过线上数字化方式面向全体在景居民发放，群众参与热情很高。据不完全统计，2022年1月至2023年2月，景德镇市政府已经举行了四次发放消费券的活动。市政府此举极大刺激了居民需求，缓解了市场压力，为经济稳步发展助力，商界和消费者直接获益。但也有一些商户因无法打通数字化关隘而错失良机。

结合材料，运用经济生活的相关知识，针对景德镇市政府向市民发放消费券发表你的看法。

39. (12分) 阅读材料，完成下列要求。

2023年3月7日，最高人民法院工作报告、最高人民检察院工作报告提请十四届全国人大一次会议审议，“惩治电信网络诈骗犯罪”成为关键词之一。据了解，过去五年间，全国公安机关在党的领导下从严惩治电信网络诈骗犯罪，深挖幕后金主、严惩团伙骨干、全力追赃挽损，检察机关起诉19.3万人，人民法院审结电信网络诈骗及关联犯罪案件22.6万件，一批特大跨境电信网络诈骗犯罪分子被绳之以法。

打击治理成绩有目共睹，但当前电信网络诈骗依然是发展最快的刑事犯罪之一。一方面，犯罪手段翻新速度惊人，名目繁多、花样百出，让人防不胜防。另一方面，在特定因素的催化下，电信网络诈骗有“抬头”迹象。去年疫情期间，不法分子利用人们出行不便，购物、求职心切等心理，诈骗成功率大大提高。打击治理电信网络诈骗，关系到民众的“钱袋子”和安全感，再怎么重视都不为过。新一轮的打击治理号角已经吹响，坚持齐抓共管、群防群治，把人民战争进行到底，电信网络诈骗一定会走向“穷途末路”。

结合材料，运用所学政治生活的知识，分析我国应如何开展反电信网络诈骗工作？

40. (26分) 阅读材料, 完成下列要求。

材料一 党的二十大报告提出, 中国式现代化, 是中国共产党领导的社会主义现代化, 既有各国现代化的共同特征, 更有基于自己国情的中国特色。中国式现代化, 是中国共产党领导的社会主义现代化, 中国式现代化道路是马克思主义现代化理论与中国现代化发展实际深度结合的结果。一方面, 这一道路是基于中国经济社会条件、历史文化遗产、人类文明进程形成的一条符合中国实际、符合中国人民的根本利益, 蕴含鲜明特点、彰显显著优势的现代化道路。另一方面, 这一道路系统总结了发展中国家追求现代化的历史经验, 它为发展中国家独立自主探索现代化道路提供了新可能, 为开创面向未来的人类文明新形态提供了新路径。

材料二 2022年8月18日中共中央宣传部在京举办“中国这十年”系列主题新闻发布会, 介绍这十年文化工作的相关举措: 影视方面, 十年来涌现出了一大批叫好又叫座的作品, 比如聚焦脱贫攻坚伟大事业的《山海情》、庆祝中国共产党成立100周年的《觉醒年代》《功勋》等都圈粉无数; 出台实施《新时代公民道德建设实施纲要》《新时代爱国主义教育实施纲要》等, 推动修订《国歌法》《国旗法》《英雄烈士保护法》等, 为文化发展提供有力的制度保障和法治支撑。

(1) 中国式现代化是中国实现现代化的必然选择。结合材料一和历史唯物主义的知识, 对此加以评析。(12分)

(2) 结合材料二, 运用文化生活的知识, 说明中国式现代化道路是如何推进的。(10分)

(3) 青春由磨砺而出彩, 人生因奋斗而升华。请你为号召广大青年投身中国式现代化建设拟写两条宣传标语(要求: 契合主题, 朗朗上口, 每一条标语字数不超过20字)。(4分)

41. 阅读下列材料, 完成下列要求。(25分)

材料一 在秦汉大一统帝国建立后直至晚晴时期, “天下观”在实际操作中仍然是把中原王朝看做“一个文化共同体, 而不是一个政治疆域, 更非一个种族疆域”。古代中国的天下观崇尚的是仁、德、礼等文化价值观念, 所要实现的是协和万邦的天下秩序。……良好的商业航海气氛和城邦政治孕育了古希腊人朴素的世界主义观念, 斯多噶派最先提出了“世界大同主义”的观念, 古希腊哲学家德谟克利特曾言: “全世界都是我的故乡。”古罗马帝国亦产生了一种帝国精神, 即对武力征服、对外开拓、帝国一统的追求。

——摘编自侯毅、吴昊《论中国“天下观”与西方“世界主义”》

材料二 20世纪50年代, 中国与缅甸、印度等有关国家共同倡导的和平共处五项原则已被国际社会广泛接受, 成为国际关系的基本准则和国际法基本原则。1957年11月6日, 毛泽东主席在莫斯科向全世界庄严宣布“中国坚决主张一切国家实行和平共处五项原则”。

1988年, 邓小平首倡以和平共处五项原则为基础建立国际政治新秩序。他特别强调, “处理国与国之间的关系, 和平共处五项原则是最好的方式。其他方式, 如‘大家庭’方式, ‘集团政治’方式, ‘势力范围’方式, 都会带来矛盾, 激化国际局势”。

“世界怎么了, 我们怎么办?” 2017年1月18日, 习近平主席在联合国日内瓦总部的演讲中, 向全世界提出了这样一个时代之问, 并明确给出了中国的方案, 即“构建人类命运共同体, 实现共赢共享”。这是和平共处五项原则在新时代的延续和创造性发展。

——摘编自黄惠康《从和平共处五项原则到构建人类命运共同体》

(1) 根据材料一并结合所学知识，概括中国古代和世界古代“天下观”的异同及原因（12分）

(2) 根据材料二并结合所学知识，分别概述和平共处五项原则倡导及发展对中国和世界的意义。（13分）

42. 明天的中国，力量源于团结。阅读下表材料信息，完成下列要求。（12分）

叙述	出处
1919年五月四日，为阻止巴黎和约的签字，北平的大学生们手举着一张张木牌，拉着长长的横幅，喊出最高亢的声音，摧毁府邸，冲击“敌群”，他们是先锋，激励着工人罢工、学生罢课和商人罢市，推动着运动的初步胜利，为历史发展迈出有力一步。	孟祥娟《论五四运动中参与主体觉醒的逻辑理路》
九一八事变发生、东北沦陷后，有人表示宁教白山黑水尽化为赤水之区，不愿华胄倭奴同立于黄海之岸。面对日军残忍的杀戮，面对支离破碎的中国社会时，中华儿女强烈的忧患意识和救亡意识纷纷崛起，地无分南北、人无分老幼，救亡图存、共赴国难，“四万万人齐蹈厉，同心同德一戎衣。”	荆蕙兰《全民族抗战视域下中华民族空前觉醒的四重维度探析》
在抗美援朝战争期间，工人们提出“工厂即战场，机器即枪炮”的口号，大批铁路员工、汽车司机和医务人员，志愿来到朝鲜，担负战地勤务和运输工作。各界人民群众一呼百应，捐款总额达55650亿元人民币(旧币)，可折合战斗机3710架。对于抗美援朝战争的胜利，毛泽东曾总结道：敌人是“钢多气少”，我们是“钢少气多”。	唐文根《抗美援朝精神的科学内涵及其当代价值》

阐述从上述材料中发现的历史现象，并得出一个结论。（要求：现象源自材料，结论明确，史论结合，表述清晰。）

请考生在第43、44两道地理题中任选一题作答，如果多做，则按所做的第一题计分。作答时用2B铅笔在答题卡上把所选题目的题号涂黑。

43. [地理——选修3：旅游地理]（10分）

露营活动在上世纪20年代开始成为欧洲国家的旅行潮流。每年夏季，一大批欧洲人就会开着车带着帐篷奔赴阿尔卑斯山区的户外露营地，在依山傍水、风光秀丽的地方搭建帐篷休闲度假。

指出欧洲人选择夏季前往阿尔卑斯山区进行户外露营活动的原因以及野外露营应注意的安全问题。

44. [地理——选修6：环境保护]（10分）

貉是国家二级保护动物。近几年来，原本在城市很难见到的野生貉频繁出现在上海市内150多个社区之中，有时还会发生貉咬伤居民的事件。经推算上海市的貉种群可能达到5000多只。

分析野生貉进城给城市带来的不利影响及缓解人貉冲突可以采取的措施。

请考生在第 45-47 三道历史题中任选一题作答，如果多做，则按所做的第一题……

答时用 2B 铅笔在答题卡上把所选题目的题号涂黑。

45. [历史——选修 1: 历史上重大改革回眸] (15 分) 阅读材料并回答问题

为了纠正“分赃制”带来的腐败等弊端和适应大工业时代政府工作专业化及提高政府工作效率的需要，美国于 1883 年颁布了文官制度条例，即“彭德尔顿法”。从此，文官改革开始纳入法律程序之内。彭德尔顿文官法吸取别国文官制的长处，总结并提出一整套美国的文官管理规则。这些规则直到目前仍保持稳定。主要内容是：成立由 3 人组成的美国文官委员会负责制定文官管理细则，主管文官考试和录用、保障文官权益等；通过公开考试择优录用文官，文官考核和工资以实绩为依据，公布待补文官职位缺额；经考试录用的文官实行常任制，由法律保障其职位，不得任意撤换；受到惩罚的文官，有权提出申诉等；文官不得提供政治捐款。虽然文官委员会几度险遭撤除，但仍得到保持和发展，直到 1979 年才改组为联邦人事管理总署。

——摘编自吴于廑、齐世荣《世界史》

(1) 根据材料并结合所学知识，概括美国文官制度改革的特点。(9 分)

(2) 依据材料并结合所学知识，分析 19 世纪中后期美国改革文官制度的原因。(6 分)

46. [历史——选修 3: 20 世纪的战争与和平] (15 分) 阅读材料并回答问题

卢沟桥事变后，日本封锁中国沿海，云南省主席龙云建议即刻修筑滇缅公路以接受外援，这一建议得到了蒋介石的完全赞同。云南沿线各县行政长官亲督施工，彝、汉等十个民族“每天出勤不下数十万人轮班昼夜赶修”，他们自带口粮，风餐露宿，没有机械施工，全凭双手和血汗修筑，最后死亡民工达 3000 多人。1938 年 8 月，滇缅公路修通。美驻华大使詹森在考察后发表谈话：“滇缅公路选线适当……此次中国政府能于短期内完成此艰巨工程，此种果敢毅力与精神，实令人钦佩。”通车三年中，运输外援战略物资 22.15 万吨，装备了大量的国民党军队。中国的矿产品等通过滇缅公路运到仰光，销往东南亚、英国等，获得了不少外汇。滇缅公路被誉为“抗战输血管”“第二次世界大战远东交通大动脉”。滇缅公路开通后，国际运输量大增，促成了云南汽车运输业、修理业的发展，云南逐渐成为大西南的经济、文化和交通运输的枢纽。

——摘编自程利《滇缅公路在抗日战争中的历史地位》

(1) 根据材料并结合所学知识，说明滇缅公路能在最短时间内修通的原因。(8 分)

(2) 根据材料并结合所学知识，分析滇缅公路在抗日战争中的作用。(7 分)

47. [历史——选修 4: 中外历史人物评说] (15 分) 阅读材料并回答问题

陈嘉庚 (1874—1961 年)，著名的爱国华侨领袖、企业家、教育家、慈善家、社会活动家。全面抗战爆发后，他一年内募集捐款 1.44 亿元，支援祖国抗战；还组织华侨机工 3200 多人回国服务。1938 年，来自南洋各埠的 164 名代表成立以陈嘉庚为主席的“南洋华侨筹赈祖国难民总会”，陈嘉庚在大会上历数了日本侵华种种罪行，并呼吁大家支援祖国抗战。国民参政会召开期间，他致电“在敌寇未退出我国土以前，公务人员任何人谈和平条件者，当以汉奸国贼论”的提案，之后还大胆地指责国民党对汪精卫投降活动的纵容态度。毛泽东题词赞誉陈嘉庚为“华侨旗帜、民族光辉”。1946 年 11 月，陈嘉庚在新加坡集资创办的《南侨日报》，及时向广大侨众报道了国内战局和国际形势、民主运动的曲折发展、解放区的光明和国统区的黑暗，并预见国民党必败、共产党必胜。1949 年，他作为华侨首席代表，出席中国人民政治协商会议第一届全体会议及中华人民共和国开国大典。

——摘编自《闽南文化》

(1) 根据材料并结合所学知识，概括陈嘉庚抗战以来的历史贡献。(9 分)

(2) 根据材料并结合所学知识，简析陈嘉庚取得这些历史贡献的原因。(6 分)