



按秘密级事项管理

2021 年辽宁省普通高等学校招生考试适应性测试

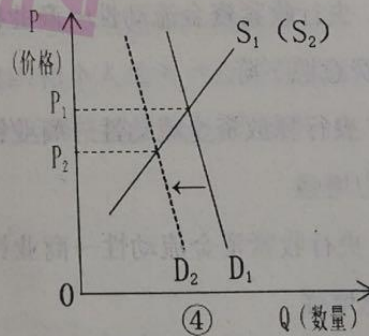
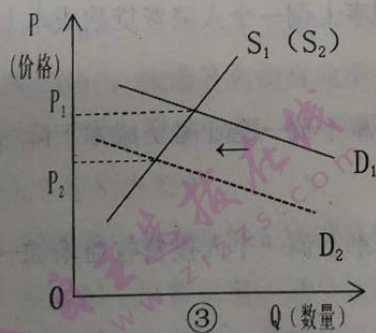
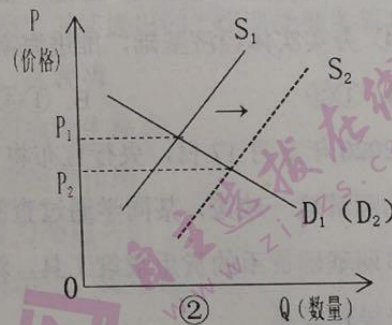
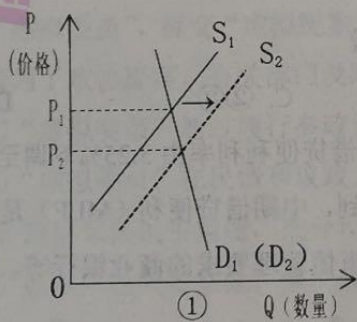
思想政治

注意事项：

1. 答卷前，考生务必将自己的姓名、准考证号填写在答题卡上。
2. 答选择题时，选出每小题答案后，用铅笔把答题卡对应题目的答案标号涂黑。如需改动，用橡皮擦干净后，再选涂其它答题标号。答非选择题时，将答案写在答题卡上。写在本试卷上无效。
3. 考试结束后，将本试卷和答题卡一并交回。

一、选择题：本题共 16 小题，每小题 3 分，共 48 分。在每小题给出的四个选项中，只有一个是符合题目要求的。

1. 2020 年 11 月，全国居民消费价格指数（CPI）环比下降 0.6%。其中，鲜菜供应充足，价格环比下降 5.7%；旅游进入淡季，机票价格环比下降 15.6%。不考虑其他因素，正确反映鲜菜和机票价格变化的图示是（图中 S 表示供给，D 表示需求）



A. ①③

B. ①④

C. ②③

D. ②④

思想政治试题第 1 页（共 8 页）



2. 某地方性国有独资企业进行混合所有制改革，通过股权转让、增资扩股等方式引入国有资本和民间资本后，注册资本由 125 301 万元增加到 245 688 万元，同时该企业原始股东的持股比例减少到 34.1%，变为相对控股。此项改革带来的影响是
- ① 降低公有制经济比重，改变该企业的实际控制人
 - ② 促进不同所有制资本的融合，有利于放大国有资本功能
 - ③ 实现从管资本向管企业的转变，有利于建立现代企业制度
 - ④ 优化该企业股权结构，有利于提升公司治理能力
- A. ①② B. ①③ C. ②④ D. ③④
3. 2020 年 11 月，海南自由贸易港税收政策规定：在 2025 年海南岛封关运作前，对在海南自由贸易港注册登记并具有独立法人资格的企业，进口用于生产自用所消耗的正面清单内的原辅料，免征进口关税、进口环节增值税和消费税。该政策出台的直接影响是
- ① 促进海南服务业发展，推动经济高质量发展
 - ② 降低企业生产成本，引导资金向海南集聚
 - ③ 优化海南产业结构，加速产业转型升级
 - ④ 夯实实体经济基础，推进海南自贸港建设
- A. ①③ B. ①④ C. ②③ D. ②④
4. 2020 年 2 月 17 日，央行宣布将一年期中期借贷便利利率由 3.25% 下调至 3.15%。为理解这一政策，某同学通过查阅资料了解到，中期借贷便利（MLF）是央行提供中期基础货币的货币政策工具，对象为符合审慎管理要求的商业银行等。该政策的传导路径是
- A. 央行收紧资金流动性→商业银行贷款利率上调→个人消费贷款成本上升→个人消费意愿下降
 - B. 央行释放资金流动性→商业银行贷款利率下调→企业融资成本下降→企业市场活力增强
 - C. 央行收紧资金流动性→商业银行存款利率上调→个人投资收益增加→个人储蓄意愿增强
 - D. 央行释放资金流动性→商业银行贷款利率下调→企业投资风险降低→企业收益增加

思想政治试题第 2 页（共 8 页）



5. 某校 246 名高三学生参加了基层人大代表选举活动。学生们凭选民证领取选票，郑重地作出选择，庄严地将选票投入票箱。这是学生们第一次行使自己的选举权，标志着他们以成年人的身份自觉担当国家和社会责任。这些学生
- ① 有序参加选举，理性思考，审慎投票
 - ② 表现出应有的公民意识和主人翁意识
 - ③ 通过行使选举权直接参与国家和社会事务的管理
 - ④ 珍惜自己的选举权利，选择符合自己利益的当家人
- A. ①② B. ①④ C. ②③ D. ③④
6. 全国人大常委会法工委在上海虹桥街道设立基层立法联系点，基层的立法建议可以直达全国人大常委会。2020 年 8 月，该联系点走进某中学，同学们就《中华人民共和国未成年人保护法（修订草案）》提出 9 条建议，其中 1 条已被立法采纳。该联系点的设立有利于
- ① 人大代表密切联系群众
 - ② 畅通民意反映渠道
 - ③ 在立法层面生动实践全过程民主
 - ④ 加强基层民主制度建设
- A. ①② B. ①④ C. ②③ D. ③④
7. 某市政协在当地官方微信公众号上开设“假如我是政协委员”栏目，号召市民来当“虚拟委员”，提交“虚拟提案”。“虚拟委员”王某提出的“代课幼师考编难问题”成为了政协提案，有关部门及时予以处理。这表明
- ① “虚拟委员”通过履行参政议政职能，回应民生热点
 - ② “虚拟委员”在民情和议政之间发挥桥梁纽带作用
 - ③ 政协聚焦民生问题，充分反映民意，着力增进共识
 - ④ 通过广泛听取意见，推动政协决策的科学化、民主化
- A. ①③ B. ①④ C. ②③ D. ②④
8. 2020 年 4 月，A 市某区党建引领基层治理领导小组通过本地媒体发出了一份特殊的“邀约函”，诚邀各大企事业单位、社会组织和个人成为“红色合伙人”，以资金、人力、产品、信息数据、专业服务参与社区网格建设和社会治理。建立“红色合伙人”机制有助于
- ① 发挥基层党组织的先锋模范作用
 - ② 拓宽民主监督渠道，健全监督体系
 - ③ 动员社会力量参与基层服务和治理
 - ④ 提升基层党建开放融合水平，形成共治合力
- A. ①② B. ①④ C. ②③ D. ③④

思想政治试题第 3 页（共 8 页）



9. 某国际组织是当今世界一体化程度最高的区域性国际组织。四十多年来，它与中国关系发展迅速，得益于良好的双边关系和互补的经济优势，双方贸易规模增长了 250 多倍。该国际组织
- A. 就其国际性而言，是拥有 21 个成员国的世界最大的区域性经济合作组织
B. 就其组织性而言，设有首脑会议、部长理事会、委员会等五个主要机构
C. 就其目的性而言，是为了扩大货物和服务的生产和贸易
D. 就其自主性而言，坚持非歧视原则，维护各成员国的共同利益
10. 2020 年 12 月，美国国会终于通过了新一轮纾困法案。面对来自国会的压力，美国总统正式签署这一法案。此前，两党对新一轮经济纾困计划存在较大分歧，加之对 11 月总统选举的政治考量，双方都不愿过早让步，相关谈判陷入长达半年多的僵局。材料表明
- ① 美国国会作为权力中心，有权通过纾困法案
② 美国两党在经济利益和意识形态方面有着本质区别
③ 美国的两党制并不能代表广大人民群众的根本利益
④ 美国两党在纾困计划上相互牵掣，导致效率低下
- A. ①② B. ①③ C. ②④ D. ③④
11. 1956 年创作的《艰苦岁月》(见图 1) 铸铜雕塑被收藏于中国美术馆。小战士依偎在老战士身边，倾听悠扬的笛声，向往革命胜利的画面，激励了一代代中国人砥砺前行。该作品的精神内涵是
- ① 英勇不屈、视死如归的革命情怀
② 艺术生命与国家命运的紧密结合
③ 战士们积极向上的革命乐观主义
④ 艰苦环境中革命战士的坚定信念
- A. ①② B. ①④
C. ②③ D. ③④
12. 某地连续三年举办“百戏盛典”活动，让全国现存的“卫调花鼓戏”“蓝关戏”等 348 个剧种一一亮相，推动了传统剧种守正创新，融入现代，获得重生，并成为文化惠民的品牌活动。这表明
- ① 文化守正创新要坚持以人民为中心
② 海纳百川是文化守正创新的应有胸怀
③ 根植于民族文化土壤是文化创新的动力
④ 文化创新要为传统文化注入时代精神
- A. ①② B. ①④ C. ②③ D. ③④



图 1 作者：潘鹤



13. 古琴名曲《胡笳十八拍》反映了蔡文姬流落匈奴时对故乡的思念，以及还乡之喜与骨肉离别之痛的矛盾心情。这首曲子被郭沫若称为“自屈原《离骚》以来最值得欣赏的长篇抒情诗”。这表明
- ① 音乐作品是客观存在移入大脑的主观映象
 - ② 音乐作品是社会生活的表达与情感的升华
 - ③ 音乐作品是抽象概念转变为艺术形式的结果
 - ④ 音乐作品给听众的感受受个体认知等主观因素的影响
- A. ①③ B. ①④ C. ②③ D. ②④
14. 东北地区天气寒冷，雪期较长，满族的先民为了生产生活出行方便，把兽骨绑在脚下，后来演化成用铁条嵌在鞋底，这就是最早的冰刀。独特的生产生活方式逐渐演化出了具有地域特征的雪地走、冰上舞蹈等冰雪运动项目。冰雪运动的产生过程告诉我们
- ① 要把握自在事物的联系的客观性
 - ② 要重视事物之间相互联系的中间环节
 - ③ 要注重从事物固有的联系中把握事物
 - ④ 要将事物之间的间接联系改造为直接联系
- A. ①② B. ①④ C. ②③ D. ③④
15. 人脸识别技术是基于人类面部特征的唯一性来识别个人身份的生物识别技术。这项技术因其稳定、便捷等优势被广泛应用于安全防务、自助服务等领域，同时也存在诸如泄露个人隐私等风险。这表明
- ① 人脸识别技术的应用要坚持两点论与重点论的统一
 - ② 人脸识别技术的优势与风险体现了共性与个性的统一
 - ③ 人脸识别技术的应用要体现工具理性和价值理性的统一
 - ④ 人脸识别技术的应用要体现事物的主观性与客观性的统一
- A. ①③ B. ①④ C. ②③ D. ②④
16. 马克思在 17 岁中学毕业时写下了《青年在选择职业时的考虑》一文。文中写道：“如果我们选择了最能为人类而工作的职业，那么，重担就不能把我们压倒，因为这是为大家作出的牺牲……我们的幸福将属于千百万人……而面对我们的骨灰，高尚的人们将洒下热泪。”马克思这一选择启示我们
- ① 正确的价值观对改造客观世界具有重要导向作用
 - ② 科学理论作为一种正确的社会意识决定人们的行为选择
 - ③ 人的价值在于对社会发展和人类进步事业的贡献
 - ④ 价值判断和价值选择要自觉站在最广大人民的立场上
- A. ①② B. ①③ C. ②④ D. ③④

思想政治试题第 5 页（共 8 页）

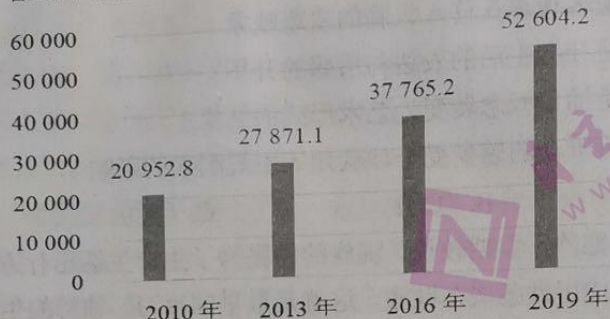


二、非选择题：本题共 5 题，共 52 分。

17. 阅读材料，完成下列要求。（14 分）

材料一

营业收入（亿元）



注：2019 年广东省高技术产业中，电子及通信设备制造业营业收入所占比重最大，为 83.8%。

图 2 2010、2013、2016、2019 年广东省高技术产业营业收入变化

材料二 近年来，粤港澳大湾区是国内市场主体最活跃的地区，华为、大疆、TCL、格力等一批科技企业成长于此。《2020 年全球创新指数》显示，在世界前 100 科技集群排名中，深圳—香港—广州科技集群位居全球第二。2020 年《财富》世界 500 强榜单显示，来自粤港澳大湾区的企业有 21 家。2019 年广东省共投入研发经费 3 098.49 亿元，比上年增长 14.6%，研发人员总数为 349 061 人，占全国研发人员总数的 30.5%。深圳市龙岗区技术转移促进中心运行以来，已整合科技成果资源 31 万项、技术专家 1.3 万名、高校院所 1 300 多家，为区内 2 万多家企业提供服务，签约技术交易合同 606 项。

(1) 解读材料一中所包含的经济信息。（4 分）

(2) 结合材料二并运用经济知识，分析粤港澳大湾区如何发挥创新优势引领高技术产业的发展。（10 分）

18. 阅读材料，完成下列要求。（12 分）

习近平总书记十分重视留学工作。他提出要把做好留学人员工作作为实施科教兴国战略和人才强国战略的重要任务，鼓励学子们“把学到的本领奉献给祖国和人民，让青春之光闪耀在为梦想奋斗的道路上”。

我国政府大力支持留学人员回国发展，搭建专门的远程视频面试洽谈系统，为留学人员和用人单位提供双向选择平台；加大科研资助力度，缩短相关评审周期，创造尽快启动科研的条件，建设留学人员实习基地、创业园等；同时在留学回国人员证明、档案管理等方面提供切实服务。

据统计，2016 至 2019 年，我国出国留学人员为 251.8 万人，学成回国就业为 201.3 万人，占比约 80%。留学人员纷纷表示，祖国强大了，更需要我们将个人理想奋斗融入祖国建设。

结合材料并运用政治生活知识，分析我国在促成留学人员回国发展，融入祖国建设中所发挥的作用。



19. 阅读材料，完成下列要求。(8分)

“青花海水江崖纹三足炉”(见图3)造于明永乐年间，外形为鼎，寓意“安定”；表面为海水江崖纹，寓意“山水相依、江山永固”。其技艺及蕴含的理念成为当时瓷器文化发展的重要引领。



图3

永乐时期青花瓷技法高超。它以胎釉精细、青花色泽浓艳、工艺独特而负盛名。随着烧造温度的提高，胎釉的釉面具有光滑、平静、细腻和莹润等特点，器物里外釉面均匀；双勾填色的图案花纹，使用小笔触，改变以往大笔涂抹的方法，使纹饰颜色深浅不一，错落有致。

永乐时期青花瓷艺术精湛。能工巧匠们将中东和西亚地区的文化元素杂糅进青花瓷器中，使其造型灵巧、清秀、端庄，线条优美飘逸、疏朗秀丽，从而形成了一种独特的时代风格。海水的纹饰开始被大量地运用到瓷器中，在丝绸之路上传递着“山水相依、守望相助”的理念。

永乐时期青花瓷成为中国瓷器史上一个重要的里程碑。

结合材料并运用中华文化相关知识，分析永乐时期青花瓷成为中国瓷器史上里程碑的原因。

20. 阅读材料，完成下列要求。(12分)

2020年12月8日，中国和尼泊尔两国共同宣布珠穆朗玛峰最新高程——8 848.86米。这是继1975年、2005年之后，中国第三次公布这一地球最高峰的海拔数据。珠峰测量不仅在于精确获得珠峰高度，更在于全面和深刻地认识珠峰，代表着人类对自然的求知和探索。

2020年珠峰高程测量，综合运用北斗导航、重力测量等现代测绘技术，明显提升了珠峰测量精度(见图4)。精确的峰顶雪深、气象和风速等数据，将为冰川监测、生态环境保护等方面的研究提供第一手资料。

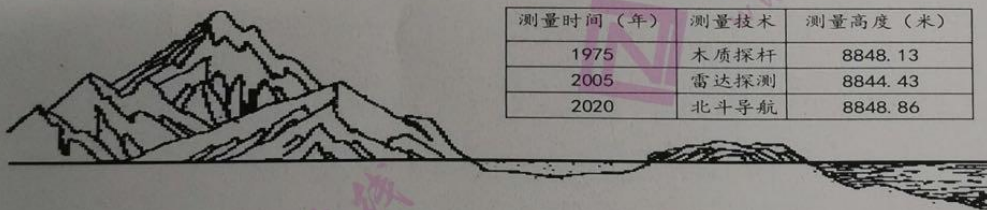


图4 珠穆朗玛峰三次高程测量

对于处在板块活跃区域，频繁发生构造运动的珠峰来说，只有近期的测量成果才最接近现实情况。高程测量不能仅依赖测绘技术和高科技设备，必须靠人来完成。参与这项风险极高的任务，攀登者的勇气和毅力令人心生敬意。再攀珠峰，用更为先进的技术和仪器，刷新了人类认识世界的高度，人类对珠峰的认识越来越深刻。

结合材料并运用认识主体和客体的相关知识，说明人类对珠峰的认识为什么会越来越深刻。



21. 阅读材料，完成下列要求。(6分)

某高中开展“笔触抒怀、漫谈文化”主题活动，利用课前五分钟，请学生进行展示。

本期主题材料如下：

中国传统节日沉淀了千百年的传统文化，从深邃的历史走来，蕴含着丰富多彩的民俗，凝结着华夏儿女的情感，承载着中华民族的文化血脉和思想精华。

春节拜年，是人伦秩序的文化体现；清明祭祖，是慎终追远的情感表达；端午竞渡，是对先贤的敬仰与追思；中秋赏月，是与家人团聚的期盼；重阳赏菊，是尊老敬老的孝文化体现……

请运用文化生活知识，以“传承中国传统节日文化的意义”为主题，任选一个中国传统节日，自拟题目，写一篇150-200字的发言稿。

关于我们

自主选拔在线是致力于提供新高考生涯规划、强基计划、综合评价、三位一体、学科竞赛等政策资讯的升学服务平台。总部坐落于北京，旗下拥有网站（<http://www.zizzs.com/>）和微信公众平台等媒体矩阵，用户群体涵盖全国90%以上的重点中学师生及家长，在全国新高考、自主选拔领域首屈一指。

如需第一时间获取相关资讯及备考指南，请关注**自主选拔在线**官方微信号：**zizzsw**。



微信搜一搜



自主选拔在线

关注后获取更多资料：

回复“答题模板”，即可获取《高中九科试卷的解题技巧和答题模版》

回复“必背知识点”，即可获取《高考考前必背知识点》