

2023 年高三学业质量检测(二)

文科综合

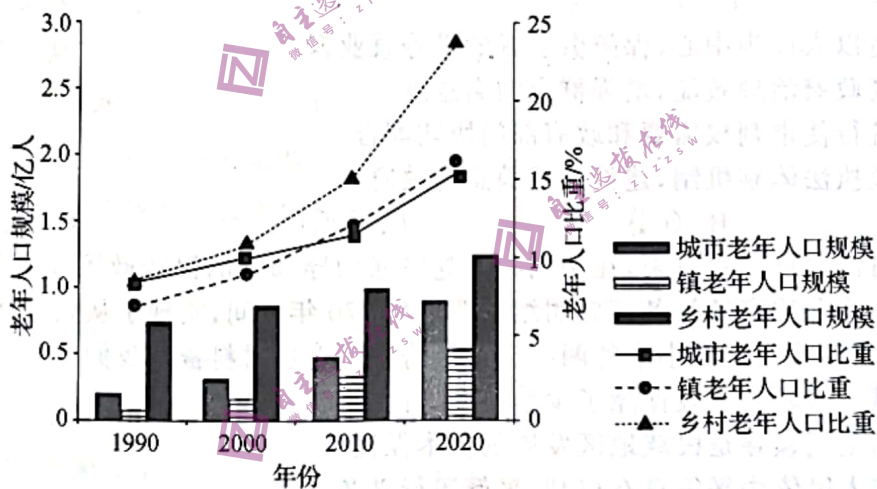
本试卷总分 300 分,考试时间 150 分钟。

注意事项:

1. 答卷前,考生务必将自己的姓名、准考证号填写在答题卡上。
2. 回答选择题时,选出每小题答案后,用铅笔把答题卡上对应题目的答案标号涂黑。如需改动,用橡皮擦干净后,再选涂其他答案标号。回答非选择题时,将答案写在答题卡上。写在本试卷上无效。
3. 考试结束后,将本试卷和答题卡一并交回。

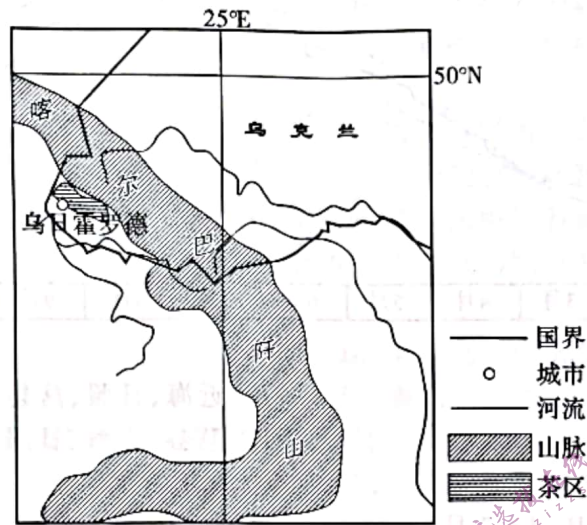
一、选择题:本题共 35 小题,每小题 4 分,共 140 分。在每小题给出的四个选项中,只有一项是符合题目要求的。

1990—2020 年,我国 60 岁及以上老年人口规模从 0.97 亿人上升至 2.64 亿人。2020 年,我国总人口的城镇化率已达到 63.89%,城市和镇共有 1.43 亿老年人口,老年人口的规模及其增速存在较大城乡差异。如图示意 1990—2020 年我国城乡老年人口规模和比重变化趋势。据此完成 1~3 题。



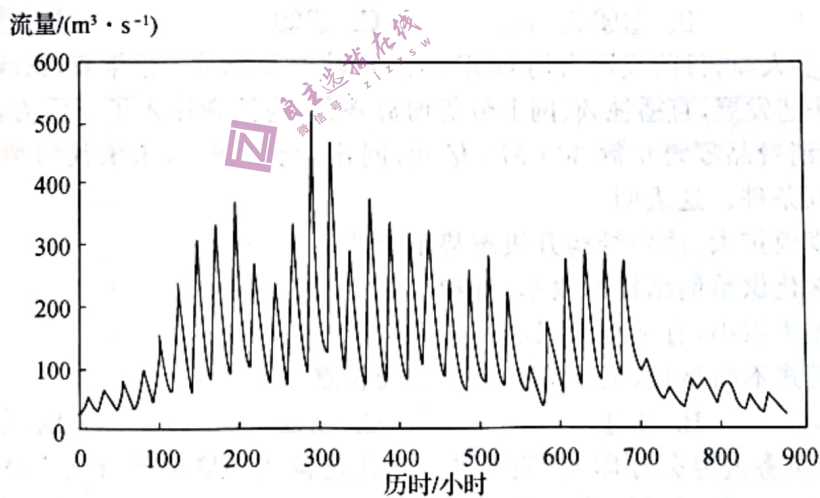
1. 导致近年来乡村老年人口比重迅速增加的主要原因有
①城镇化进程加快 ②平均预期寿命延长 ③儿童死亡率下降 ④农业机械化水平提高
A. ①② B. ③④ C. ①③ D. ②④
2. 2020 年我国
A. 乡村老年人口规模小于城市 B. 人口老龄化城乡差距呈逐渐缩小趋势
C. 乡村老年人口占比明显低于城市 D. 老年人口城镇化率低于总人口城镇化率
3. 可能加大乡村老年人口规模的现象是
A. 务工人员等回乡养老 B. 留守老人进城养老
C. 乡村青壮年人口外迁 D. 农村实施土地流转

乌克兰人酷爱喝茶,但茶树种植极少,每年需从国外大量进口茶叶。乌日霍罗德地区位于乌克兰西南部,地处喀尔巴阡山南坡,年平均气温 $8.5\sim 10.2\text{ }^{\circ}\text{C}$,年平均降水量 788 毫米。1949 年,农业科技人员在该地区海拔 125~300 米的山麓地带采用多行密播、低矮树冠的方法成功引种茶树,使乌日霍罗德地区成为世界最北茶区。如图示意乌克兰茶树种植区分布。据此完成 4~6 题。



4. 乌日霍罗德地区引种茶叶成功的主要有利条件是
 - A. 冷空气影响小
 - B. 地形坡度较小
 - C. 土壤比较肥沃
 - D. 灌溉水源丰富
5. 乌日霍罗德地区采用多行密播、低矮树冠方法种植茶树的主要目的是
 - A. 保水保土
 - B. 增厚积雪
 - C. 减少蒸腾
 - D. 防风固沙
6. 利于乌日霍罗德地区冬季茶树安全越冬的气象条件是
 - A. 昼雨夜晴
 - B. 昼晴夜雨
 - C. 连日暴雪
 - D. 狂风暴雨

提孜那甫河流域位于我国新疆西南部,平均海拔为 3 605 米。某年 6 月 17 日,提孜那甫河流域洪水开始起涨,到 7 月 23 日退去,总历时约 876 小时。如图示意提孜那甫河此次洪水过程线。据此完成 7~8 题。



7. 影响提孜那甫河流域洪水产生的主导因素是
 - A. 降水
 - B. 气温
 - C. 风速
 - D. 地形
8. 此次洪水历时第 550~600 小时的时段,流域内可能
 - A. 降雪增加
 - B. 降雨增加
 - C. 蒸发增强
 - D. 昼长变长

- ③有利于推动有效市场和有为政府更好结合
④可以稳定市场主体政策预期,提振市场主体信心
- A. ①② B. ①③ C. ②④ D. ③④
15. 2022年1—7月,全国各地已安排超过2500亿元专项债券资金,用作铁路、收费公路、干线机场等重大项目,积极发挥了政府投资“四两拨千斤”的撬动作用。地方政府发行专项债券
- ①能够保障财政收入,在扩大需求上积极作为
②将发挥政府投资的积极效应,拓展投资空间
③可以有效带动社会投资,推动基础设施建设
④以中央政府信誉为担保,减轻了中央财政压力
- A. ①② B. ①④ C. ②③ D. ③④
16. 中国人民在基层民主生活实践中,摸索和创造出一个又一个充满烟火气的基层民主新形式:从城乡社区的村(居)民议事会、村(居)民论坛、民主恳谈会、民主听证会到党代表、人大代表、政协委员联袂进社区,从“小院议事厅”到“板凳民主”,从线下“圆桌会”到线上“议事群”。这表明
- ①我国全过程人民民主是最广泛、最真实、最管用的民主
②协商民主是实践全过程人民民主的最佳形式
③基层群众自治制度化、规范化得到进一步增强
④通过创新发展基层民主形式巩固了村(居)民自治的基础
- A. ①② B. ①③ C. ②④ D. ③④
17. 2022年8月,人力资源社会保障部、最高人民法院联合发布的《关于加强行政司法联动保障新冠肺炎康复者等劳动者平等就业权利的通知》指出,严格禁止歧视新冠肺炎康复者等劳动者,加强就业歧视案件审理工作,完善人力资源社会保障部门和人民法院协调配合机制。这表明
- ①我国坚持以人民为中心,保障劳动者的平等就业权
②我国提高政府治理效能,增强群众的满意度
③人民法院行使审判权需要和政府部门协调配合
④完善行政执法体制机制,建设人民满意的政府
- A. ①② B. ①③ C. ②③ D. ③④
18. 凉山彝族自治州自成立以来,在中国共产党坚强领导和党的民族政策光辉照耀下,历届凉山自治州党委和政府带领各民族团结奋斗,仅用70年时间,实现了从奴隶社会到社会主义社会,从贫穷落后到全面小康的两次历史性跨越。上述材料告诉我们
- ①民族区域自治制度有效保障了少数民族人民的权利
②坚持党的全面领导是民族地区发展的根本保证
③我国各族人民依法平等享有权利、平等履行义务
④民族平等和民族团结是实现各民族共同繁荣的基础
- A. ①② B. ①③ C. ②④ D. ③④
19. 《诗画中国》以中国经典名画作为内容载体和特定场景,与诗词、音乐、戏剧、舞蹈等艺术形式跨界组合,令中国诗画在电视艺术中“跃出纸面”,还原出可游可居的诗画“桃源”,为观众呈现出一幅赏心悦目的中华文化壮美图景。由此可见
- ①文化对人的影响是深远持久的
②优秀文化可以增强人的精神力量
③要推动中华优秀传统文化创新性发展
④人的精神产品离不开物质载体
- A. ①② B. ①③ C. ②④ D. ③④

20. 中国共产党人精神谱系是马克思主义与中华优秀传统文化相结合的产物,从雷锋精神到杨善洲精神,从红旗渠精神到抗疫精神,这些富有时代特征、民族特色的宝贵财富,是推动党的事业发展的不竭动力,具有超越时空的恒久价值。在新时代,弘扬中国共产党人精神谱系的价值在于
- ①为实现中华民族伟大复兴提供智力支持
 - ②激发爱国情怀,提升人民思想道德修养
 - ③成为建设社会主义现代化强国的根本动力
 - ④为社会主义核心价值观的丰富发展提供丰厚滋养
- A. ①② B. ①③ C. ②④ D. ③④
21. 专家指出,6G 不是 5G 能力的简单升级,也不仅限于提供万物互联的基础设施。在 5G 三大应用场景高带宽、低时延、广连接的基础上,6G 会引入“智能”和“感知”两大新的应用场景,千行万业都将通过这个 6G 平台提供的智能服务、智能应用创造更大的社会价值。这体现出
- ①在辩证否定中实现科学技术的进步
 - ②在推动生产力发展中彰显创新的价值
 - ③科技创新成为社会发展和变革的先导
 - ④创新推动着生产关系和社会制度的变革
- A. ①② B. ①③ C. ②④ D. ③④
22. 自从伦琴发现 X 射线以后,X 射线诊断技术便成了世界上最早应用的非创伤性的内脏检查技术,但是 X 射线对那些前后重叠的组织的病变难以发现。科学家们便寻找一种新的技术,成功研制了 CT 扫描仪,可以清晰显示 X 线平片无法显示的病变。这证实了
- ①医学技术的革新具有社会历史性
 - ②独创性发明是观察病变的前提条件
 - ③治病救人是探寻诊断新技术的目的
 - ④理论来自实践并极大推动实践的发展
- A. ①② B. ①③ C. ②④ D. ③④
23. 在党的二十大代表张桂梅办公室的墙上,写着这样一段话:“如果说我有追求,那就是我的事业;如果说我有期盼,那就是我的学生;如果说我有动力,那就是党和人民。”为了教育,她倾尽全力、奉献所有。这说明
- ①理想信念是影响价值实现程度的决定性因素
 - ②实现人生价值需要正确价值观的引领
 - ③正确的价值选择要符合最广大人民利益
 - ④投身教育实践是实现人生价值的根本途径
- A. ①② B. ①③ C. ②③ D. ③④
24. 西周礼乐制度下,周天子在中央设立“辟雍”“学宫”“大池”等教育机构进行军事教育。同时,诸侯国及卿大夫也设置了“泮宫”“庠”“序”“校”“塾”等学校,以保证基层军事教育的普遍推行。这说明当时
- A. 官学教育是礼乐制度的根本保障
 - B. 注重通过军事教育提升军队战斗力
 - C. 已经实现中央和地方的有效统一
 - D. 礼乐制度渗透于军事教育内容之中

25. 汉武帝时在各州设置刺史,规定刺史按“六条问事,非条所问,即不省”,自身无罢免、处罚的权力;汉昭帝时,齐孝王孙刘泽谋反,欲杀青州刺史隗不疑,隗闻后先逮捕了刘泽,然后奏闻皇帝处理,获得皇帝奖赏。据此可知,刺史在行使权力时
- A. 职责在不断扩大
B. 具有一定的灵活性
C. 消除了地方叛乱
D. 削弱了州的独立权
26. 宋朝绘画以饱满的写实精神展现了社会百态,较之北宋对大型人物活动场景的过多关注,南宋绘画则更多地把村医、舟船、行旅、牧童、耕织、商贩等凡俗场景运用到绘画创作之中。这一变化反映出
- A. 社会逐渐由兴盛走向衰落
B. 市民阶层的兴起
C. 城乡发展和商品经济繁荣
D. 传统观念的颠覆
27. 明朝中后期,越来越多的“南货”“北货”甚至“洋货”进入中原各地的集市交易之中,如江南的丝绸、松江的棉布、景德镇等地的瓷器,北方的皮毛、铁器、食盐等,种类繁多,不一而足。这反映了当时
- A. 市镇经济兴起
B. 全国统一市场出现
C. 长途贸易活跃
D. 重农抑商政策废弛
28. 太平天国实行“圣库制度”,“将田产屋宇变卖,易为现金,而将一切所有缴纳于公库,全体衣食俱由公款开支,一律平均”,“因有此均产制度,人数愈为加增,而人人亦准备随时可弃家集合”。据此可知,此制度
- A. 顺应了历史发展潮流
B. 适应了革命战争的需要
C. 推动了商品经济发展
D. 调动了农民生产积极性
29. 清末新政期间,参与新政的诗人作诗《君民叹》:“新政纷纷次第兴,国民担任力难胜,谘来议去皆筹款,但见捐输日日增。”对其史料价值理解正确的是
- A. 文学作品,缺乏史料价值
B. 研究新政弊端的重要证据
C. 口述史料,史料价值较低
D. 民众普遍反对新政的证据
30. 据统计,陕甘宁边区 1944 年时布匹已能自给全边区需要的 1/3 以上,纸张已能自给全边区需要的一半;石油、肥皂不但已能自给,且能接济邻近地区和前方;工农业所需工具,大部分已能自造;火柴已全部自给。这些成就的取得主要得益于
- A. 美苏的大力援助
B. 工业化方针的顺利推进
C. 国共两党的合作
D. 边区大生产运动的开展
31. 下表为中国乡镇的工业企业概况(1978—1990 年)。表中数据变化说明这一时期我国

| 年份 | 企业单位数(个) | 从业人员(人) | 总产值(万元) | 营业收入(万元) |
|------|-----------|------------|------------|------------|
| 1978 | 793 977 | 17 343 595 | 3 887 634 | 3 260 961 |
| 1984 | 900 981 | 25 489 125 | 10 210 096 | 8 979 493 |
| 1985 | 3 985 350 | 41 036 520 | 18 272 000 | 13 115 503 |
| 1988 | 7 735 213 | 57 033 912 | 49 929 043 | 45 087 203 |
| 1990 | 7 320 357 | 55 716 921 | 70 970 498 | 56 799 829 |

- A. 城市化进程发展迅速
B. 国企改革的成效显著
C. 农村劳动力大量转移
D. 农村工业化已经实现
32. 古埃及宗教不仅创造了尼罗河神哈比,而且在维护尼罗河方面还立下了 42 条戒规,违背任何一条都是死罪,其中包括污染河水、破坏堤坝、随意引流河水等。这反映了
- A. 专制主义王权的发展
B. 古埃及推崇“天人合一”
C. 人类对大自然的崇拜
D. 地理环境影响文明发展

33. 中国外销的纹章瓷器的图案样式中,中间一般为盾形,上下左右依次装饰着头盔、边饰图案及字体,有时还会辅以十字、几何图形以及鱼、虫、鸟等图案。如图为 1721 年约翰·赫思蒙顿为其弟丹尼尔·赫思蒙顿定制的纹章瓷盘。这可以用来说明当时



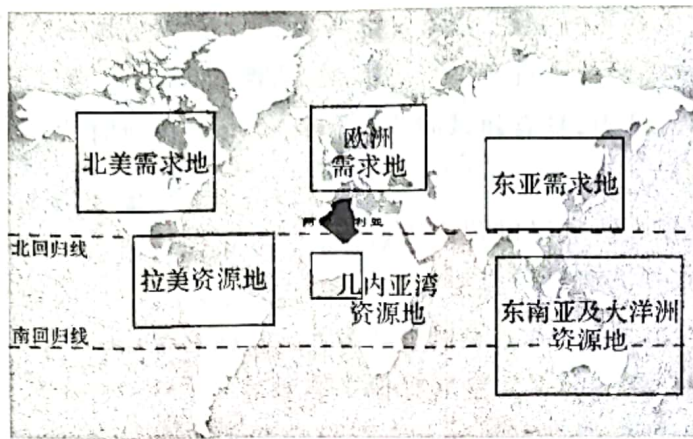
- A. 中国政府重视发展海外贸易
B. 商品流通推动了文化交流
C. 东西方的贸易交往开始出现
D. 瓷器成为财富地位的象征
34. 第一次世界大战期间,英国前线战场与后方民众之间出现了前所未有的密切联系。在志愿参军之余,后方民众对前线的支持大都汇入各种慈善活动中。据此可知,这一时期的英国
- A. 慈善活动呈多元化
B. 阶层固化现象被打破
C. 民族主义情绪高涨
D. 民众主导着慈善活动
35. 共商共建共享是中国提出的共建“一带一路”倡议的核心理念,是各方推动共建“一带一路”的重要共识。但西方反对者却认为中国共建“一带一路”倡议是“新殖民主义”。这反映了
- A. “冷战”思维仍然影响着西方
B. 对话是解决矛盾的唯一手段
C. 中国侧重与周边国家的合作
D. 逆全球化已经成为世界主流

二、非选择题:共 160 分。第 36~42 题为必考题,每个试题考生都必须作答。第 43~47 题为选考题,考生根据要求作答。

(一)必考题:共 135 分。

36. 阅读图文材料,完成下列要求。(22 分)

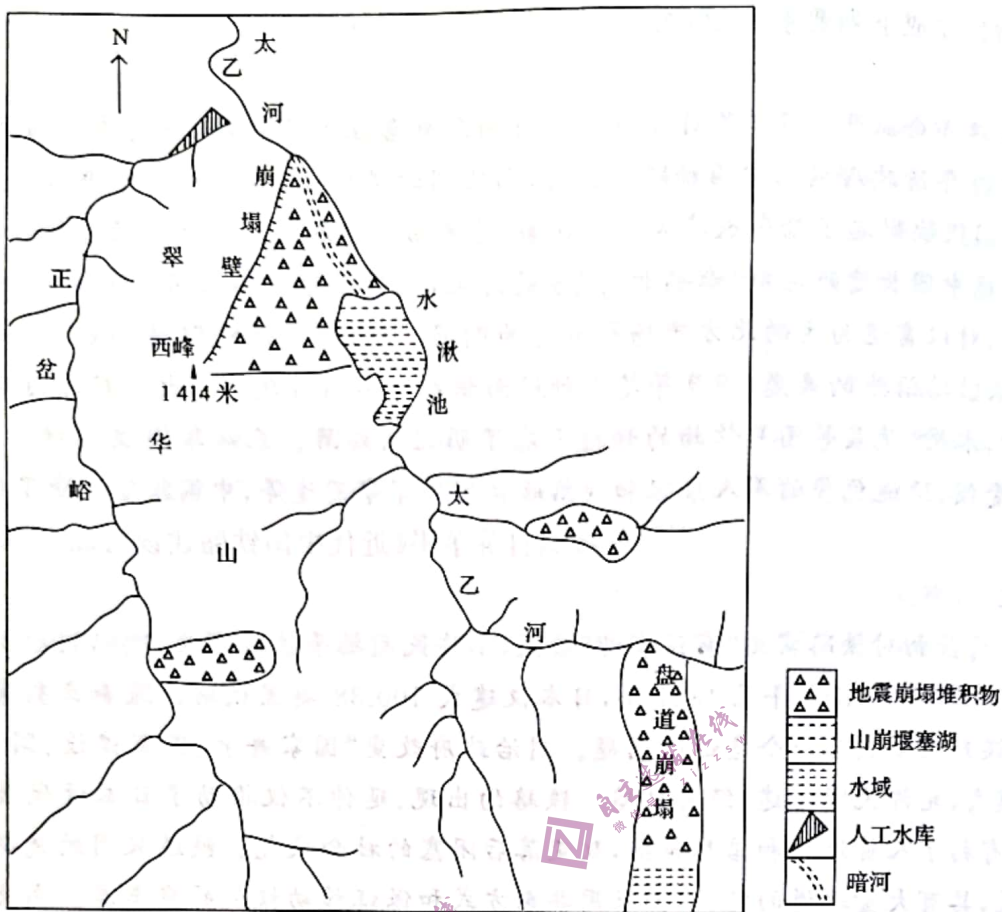
电解铝是一种应用广泛的基本金属,主要用于生产各种不同用途的铝加工材,建筑、交通运输、电力为电解铝的三大需求领域,其他领域还有包装、消费品、机械等,亚洲、北美和西欧是电解铝的主要消费地。欧美铝冶炼企业早期依托当地的铝土矿资源建设起来,但目前欧美铝冶炼企业逐渐向海外转移。阿尔及利亚地处非洲西北部,国土辽阔,大部分地区为沙漠,油气资源极其丰富,有“北非油库”之称,石油、天然气工业是阿尔及利亚的支柱产业。近年来,由于国际石油价格波动,阿尔及利亚的经济受到冲击,于是有了发展电解铝产业的设想。如图示意世界铝土矿资源地与需求地分布。



- (1) 概括世界铝土矿供需分布状况。(4分)
- (2) 分析阿尔及利亚发展铝冶炼工业的优势条件。(6分)
- (3) 推测欧美铝冶炼企业向海外转移的可能原因。(6分)
- (4) 简述阿尔及利亚发展铝冶炼工业的意义。(6分)

37. 阅读图文材料,完成下列要求。(24分)

崩塌体为岩质者,称为岩崩,其中大规模的岩崩称为山崩。翠华山位于西安南郊、秦岭山脉北坡,地处中国大陆强震活动区,出露岩石为花岗岩、变质岩,在内、外营力相互作用下山崩地貌(崩塌壁、堰塞湖、崩积物倒石堆、崩塌洞穴等)广泛发育,块石粒径1~30米。水湫池崩塌堆积体主要分布在河谷左岸的“V”谷斜坡地段,部分堆积在河谷内。如图示意翠华山地震山崩堆积分布。



(1)分析翠华山易发生山崩的自然条件。(10分)

(2)推测翠华山山崩堆积物的特征。(4分)

(3)说明翠华山山崩堆积物岩石破碎的原因。(6分)

(4)分析水湫池堰塞湖的形成过程。(4分)

38. 阅读材料,完成下列要求。(14分)

受市场“寒冬”等多重因素影响,朝阳钢铁公司深陷亏损境地。生死存亡之际,朝阳钢铁以改革为抓手,走出一条令人瞩目的国有企业市场化改革之路。实施契约化经营,从公司到厂、从工区到班组层层分解签订生产经营合同,市场需要什么就生产什么。裁减不必要机构,压缩层级,核减生产服务岗位,提高全员劳动生产率。把企业的利润与职工的收入紧紧捆绑在一起,让一线员工优先享受超额利润带来的红利。打破身份学历限制,真正实现“谁有能力谁上”,极大地激发了职工干事创业的热情。

2022年6月,朝阳钢铁“极致集约”数智中心一期“炼铁+能源”集控一体化项目投入运行,将炼铁区域和能源区域全工序30余个分散操作室整合到数智中心,吨钢综合能耗、吨钢外购动力成本大幅度降低。2022年1—10月,朝阳钢铁盈利3亿元,销售利润率位居全行业领先水平。

结合材料,运用经济生活知识,说明朝阳钢铁浴火重生的原因。

39. 阅读材料,完成下列要求。(12分)

党的十八大以来,在习近平外交思想的指引下,我国对外工作攻坚克难、砥砺前行,走出了一条中国特色大国外交新路。

同瑞士建立“中瑞创新战略伙伴关系”,同俄罗斯开启“新时代中俄全面战略协作伙伴关系”,同哈萨克斯坦发展“中哈永久全面战略伙伴关系”……中国的伙伴关系形式更加多样,内涵不断丰富,水平不断提升。截至2022年12月,已有150个国家、32个国际组织同中国签署200多份共建“一带一路”合作文件。从连年举办进博会、服贸会、消博会,到统筹推进21个自贸试验区建设,再到高质量高标准建设海南自由贸易港,新时代的中国向世界敞开怀抱。倡导共商共建共享的全球治理观,坚持共同、综合、合作、可持续的安全观,建设性地参与全球气候治理,为解决人类面临的种种难题贡献中国智慧、注入中国力量。

结合材料,运用政治生活的知识,说明新时代中国外交是如何践行人类命运共同体理念的。

40. 阅读材料,完成下列要求。(26分)

20世纪60年代,在经济困难的情况下,10万河南林县人民以“重新安排林县河山”的决心,凭着“办法总比困难多”的真抓实干,不等不靠不要,苦战十个春秋,在太行山悬崖峭壁上修成了总干渠全长70.6千米的“人工天河”——红旗渠,结束了林县十年九旱、水贵如油的苦难历史,形成了“自力更生、艰苦创业、团结协作、无私奉献”的红旗渠精神。红旗渠宛如一座绵延起伏的“水长城”,每年吸引着数百万中外游客。

为弘扬红旗渠精神,林州开发红旗渠景区,建成了红旗渠纪念馆,分水苑、青年洞、络丝潭三个景区。为丰富游客红色体验,景区持续打造《凌空除险》《铁姑娘打钎》《三个好铁匠》等红色实景演艺,重温修渠岁月,感悟修渠艰辛。依托全国中小学生研学实践教育基地,景区开设红旗渠“十个一”主题研学课程,推民工车、抬太行石、打开山锤……一个个户外拓展项目,磨炼着学生的意志,激发了他们相互协作和勇于拼搏的精神,深化了教育内涵。兴办红旗渠干部学院,在党员干部中传承弘扬红旗渠精神,增强党性修养。

2022年10月28日,习近平在河南安阳林州市红旗渠纪念馆考察时指出,红旗渠精神同延安精神是一脉相承的,是中华民族不可磨灭的历史记忆,永远震撼人心。

(1)与大自然抗争孕育出的红旗渠精神是中华民族不可磨灭的历史记忆。结合材料,运用物质与意识辩证关系原理对此加以阐释。(12分)

(2)结合材料,运用文化生活知识,说明新时代应如何传承好红旗渠精神。(10分)

(3)假如你所在的班级开展以弘扬红旗渠精神为主题的班会,请你写两条宣传标语。(4分)

41. 阅读材料,完成下列要求。(25分)

材料一

1880年洋务企业开平煤矿修建了一条从唐山到胥各庄的小铁路,标志着中国铁路运输业的开端。1889年清政府成立中国铁路总公司,向比利时借款兴建卢汉铁路。甲午战后,帝国主义列强在中国很快掀起了抢夺铁路权益的狂潮,清末由外国人筑成和直接经营的铁路共3700多千米。传统中国长途贩运以“南船北马”方式为主,近代铁路运输发展后对全国陆运方式都有极大改善,对以畜运为主的北方市场影响更为明显。胶济、津浦铁路通车后,山东花生种植有明显推广,铁路沿线的寿光、德县等花生种植面积都有不同程度的扩大。在通商口岸和铁路沿线的农村,水果、蔬菜等园艺作物的种植也有了明显的发展。北洋军阀混战期间,由于财产破坏、设备受损、运送免费的军人乘客和铁路收益移作军事用途等,中国铁路遭受了极大损失。

——摘编自陈争平《近代中国铁路建设对北方市场的影响》

材料二

明治政府最初对铁路实施“官设官营”政策,不许民间插手铁路事业,所以明治初期日本铁路建设速度并不快。1872年至1881年,日本仅建成100.38英里铁路。随着日本煤炭产量的急剧上升,煤炭运输成为一个急迫的问题。明治政府改变“国家筹资、国家建设、国家经营”的铁路建设模式,允许民间修建、经营铁路。铁路的出现、延伸不仅推动了日本近代教育事业的发展,而且有利于人员流动和信息传播,改变落后闭塞的社会风气。铁道采用的是将客车编成列车的方式,具有大量输送的特性,并采用共乘方式和保证移动权利的乘车券。由此产生了一种新的社会关系。

——摘编自祝曙光《铁路与日本近代化》

(1)根据材料一、二并结合所学知识,分别概括近代中日两国铁路修筑的特征。(12分)

(2)根据材料一、二并结合所学知识,说明近代中日两国铁路修筑对本国产生的共同影响。

(8分)

(3)根据材料一、二并结合所学知识,简析近代中国铁路发展带来的启示。(5分)

42. 阅读材料,完成下列要求。(12分)

材料

太祖自诛胡、汪之后,遂不设丞相,而朝廷之事皆分布六部,阁下诸臣但以备顾问而已。故解缙与胡广诸人,皆以讲读入阁办事。杨文定亦但以太常少卿入,不兼部臣,亦无散官,故其权甚轻。然各衙门章奏皆送阁下票旨,事权所在,其势不得不重。后三杨在阁既久,渐兼尚书。其后散官加至保傅,虽无宰相之名,而有宰相之实矣。……今各部之事,皆听命于阁下,所不待言。虽选曹有员缺,亦送揭帖与阁下看过。

——[明]何良俊《四友斋丛说》卷七《史三》

大学士叶向高言:我朝阁臣,只备论思顾问之职,原非宰相。中有一二权势稍重者,皆上窃君上之威灵,下侵六曹之职掌,终以取祸。臣备员六年,百凡皆奉圣断,分毫不敢欺负。部务尽听主者,分毫不敢与闻。

——摘编自《明神宗实录》

阐述从上述材料中发现的历史现象,并得出一个结论。(要求:现象源自材料,结论明确,史论结合,表述清晰。)

(二)选考题:共 25 分。请考生从 2 道地理题、3 道历史题中每科任选一题作答。如果多做,则每科按所做的第一题计分。

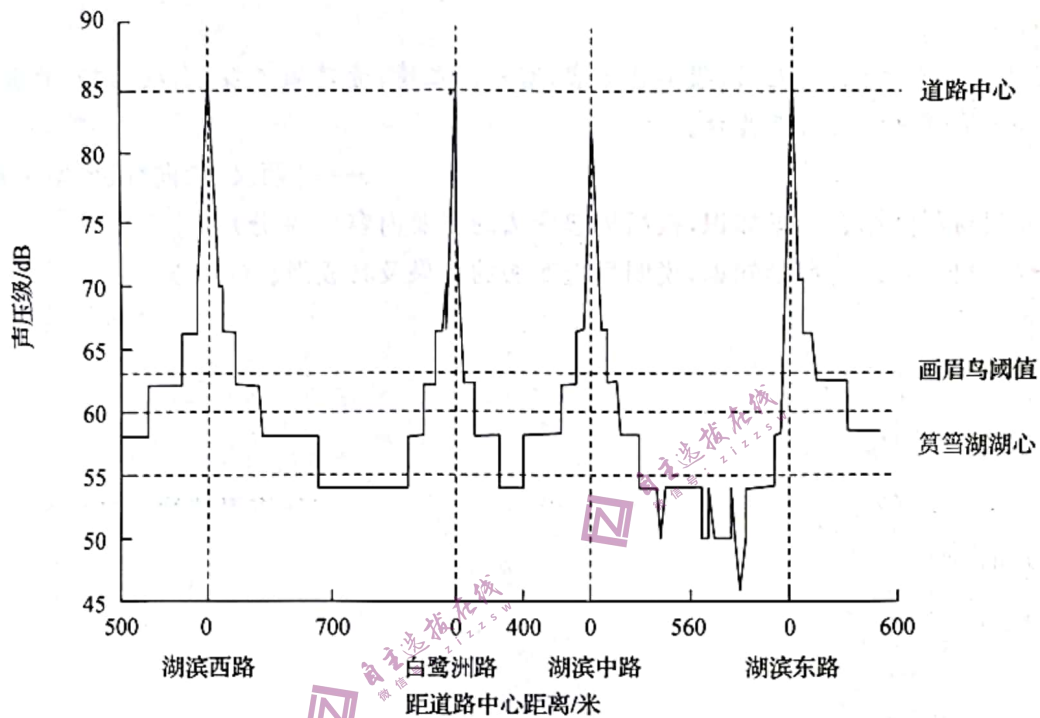
43. [地理——选修 3:旅游地理](10分)

济南市南部山区有“泉源绿肺”之称。为促进南部山区经济发展,济南市成立南部山区管理委员会,优化交通布局,依托优势资源发展南部山区乡村旅游,逐渐形成了以老年人、亲子游、体验新鲜感的本地游客为主的客源市场,以采摘节为首的乡村旅游十大节庆活动品牌,发展农家乐 800 多家。2020 年旅游总收入 80 亿元,接待国内外游客 600 万人次。

评价济南市南部山区发展乡村旅游的条件。

44. [地理——选修6:环境保护](10分)

筓筓湖位于厦门市本岛中西部,周边是厦门市的政治、文化、金融中心,城镇化水平高,噪声污染较为严重。后经过多年的环境修复和治理,筓筓湖区成为鸟类栖息的天堂,其中画眉鸟是常见鸣禽之一。研究发现,当声压级大于62.7分贝时,画眉鸟开始出现退避行为。如图示意筓筓湖区噪声声压级随距道路中心线距离的变化曲线(湖滨东路、湖滨西路为一级道路,白鹭洲路、湖滨中路为二级道路,一级道路通行量与车速大于二级道路)。



简述筓筓湖区噪声污染特征,并为减少画眉鸟栖息地噪声污染提供科学性建议。

45. [历史——选修1:历史上重大改革回眸](15分)

材料一

昔者吴起教楚悼王以楚国之俗,曰:“大臣太重,封君太众,若此则上逼主而下虐民,此贫国弱兵之道也。不如使封君之子孙三世而收爵禄,绝灭百吏之禄秩;损不急之枝官,以奉选练之士。”悼王行之期年而薨矣,吴起肢解于楚。

——[战国]韩非《韩非子·和氏》

材料二

吴起为楚悼罢无能,废无用,损不急之官,塞私门之请,壹楚国之俗;南攻扬越,北并陈、蔡,破横散从,使驰说之士无所开其口。

——[西汉]刘向《战国策·秦策三》

(1)根据材料并结合所学知识,概括吴起变法的主要内容。(9分)

(2)根据材料并结合所学知识,说明吴起变法的结果及其成因。(6分)

46. [历史——选修3:20世纪的战争与和平](15分)

材料

美国在朝鲜半岛惹是生非,那必然会严重地侵犯到中国的国家安全和主权利益。所以在中国共产党和各民主党派发表的联合宣言中也这样明确指出:今天的情势已经非常明显了,美帝国主义正使用着当年日寇先侵略朝鲜,再侵略中国的故伎。朝鲜的存亡与中国的安危密切相关,唇亡则齿寒,户破则堂危。中国人民支持朝鲜人民抗美战争,不只是道义上的责任,而且和我国全体人民的切身利益密切地关联着。……经过第四次战役,美军又重新越过了三八线。为了立即扭转战场上的这种被动局面,第四次战役一结束,中朝军队又迅速发起了第五次战役,所以第五次战役从4月20日开始,一直到6月10日结束,一共进行了50天。先是把美国及“联合国军”打退到了三八线以南,他们又退回三八线以北,接着又把美军及“联合国军”打回三八线以南,形成了一个拉锯状态。第五次战役共歼敌82000多人,其中志愿军歼敌67000多人。

——摘编自谢春涛等《中共党史十二讲》

(1)根据材料并结合所学知识,说明抗美援朝战争胜利的意义。(8分)

(2)根据材料并结合所学知识,指出抗美援朝精神的内涵。(7分)

47. [历史——选修4:中外历史人物评说](15分)

材料

德国艺术家本雅明(1892—1940)认为艺术创造和物质生产一样是一个生产的过程,把艺术创造过程看成是一个由生产—产品—消费组成的动态流程。它们同样也是由生产与消费、生产者、产品与消费者等要素构成。艺术生产作为人类的一种实践活动同样也要受到时代生产力与生产关系的矛盾运动的制约。艺术家就是生产者,艺术品就是商品或产品,观众或读者是消费者;艺术创作是生产,艺术欣赏是消费,艺术创作技巧构成了艺术生产力。一定的创作技巧代表了一定的艺术发展水平。艺术生产者(艺术家)和艺术消费者(读者或观众)之间的关系组成艺术生产关系。当一定的技术所体现的艺术生产力与原有的艺术生产关系发生矛盾时,就会发生艺术的革命——不仅是艺术生产力的革命,而且还是艺术的生产关系的革命,进而把艺术推向前进。

——摘编自姜哲军、刘峰《西方马克思主义艺术与美学理论批评》

(1)根据材料并结合所学知识,概括本雅明艺术观的主要内容。(6分)

(2)根据材料并结合所学知识,简评本雅明的艺术观。(9分)