

文科综合能力测试

注意事项:

1. 答题前,考生务必将自己的姓名、考生号等填写在答题卡和试卷指定位置上。
2. 回答选择题时,选出每小题答案后,用铅笔把答题卡上对应题目的答案标号涂黑;如需改动,用橡皮擦干净后,再选涂其他答案标号。回答非选择题时,将答案写在答题卡上。写在本试卷上无效。
3. 考试结束后,将本试卷和答题卡一并交回。

一、选择题:本题共 35 小题,每小题 4 分,共 140 分。在每小题给出的四个选项中,只有一项是符合题目要求的。

乡村聚落空间分布及变化,深刻影响着新农村建设工作开展及进程。研究表明,地理位置、城镇化率高、人口净流出量大是引起东北地区乡村聚落空间分布及变化的主要原因。图 1 为东北地区乡村聚落空间分布特征,据此完成 1—3 题。

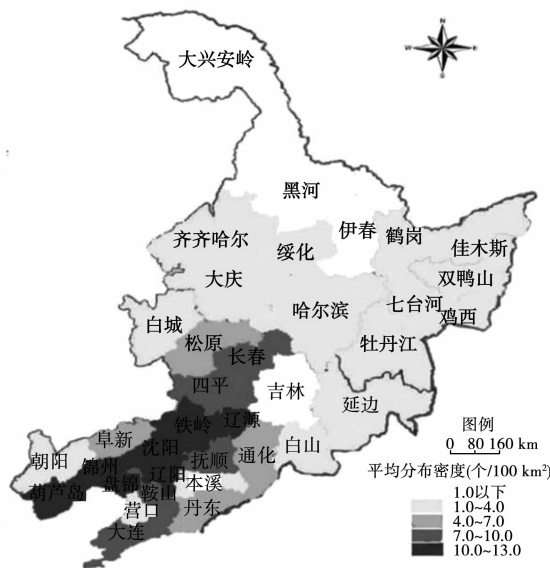


图 1

1. 下列关于东北地区乡村聚落空间分布特征的描述,正确的是 ()
 - A. 大部分地区的乡村密度小,地广人稀
 - B. 受交通限制影响,山区地区乡村较多
 - C. 城市级别越高的地区,乡村密度越大
 - D. 聚落密度由中部向边缘呈现增加趋势
2. 东北乡村人口净流出大会导致乡村 ()
 - A. 数量减少,密度降低
 - B. 基础设施变差
 - C. 乡村产业出现空心化
 - D. 生态环境改善
3. 改变东北地区乡村聚落窘况的关键在于 ()
 - A. 实施生态修复
 - B. 完善公共服务
 - C. 保护文化遗产
 - D. 发展特色产业

挖 S 形河道的小汶河,并依地势修建南旺湖、蜀山湖等水库,配建带有水闸的水渠。图 2 为南旺分水工程示意图。据此完成 4—5 题。

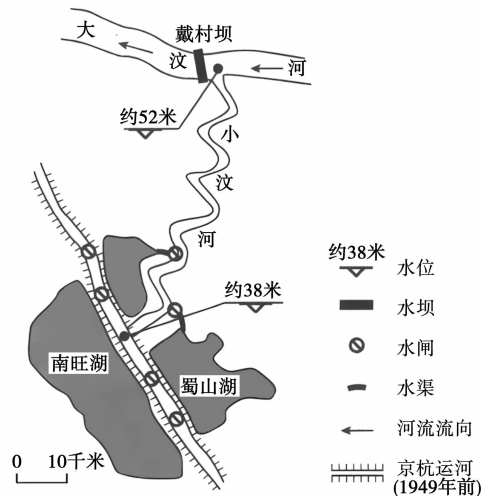


图 2

4. 导致历史上大运河南旺段断航的主要制约因素有 ()
 - ① 水坝建设阻碍了航运
 - ② 运河全线最高点的特殊地理位置
 - ③ 地处温带季风气候区
 - ④ 运河沿线运输需求的季节变化大
 - A. ①②
 - B. ②③
 - C. ③④
 - D. ①④
5. 小汶河河道修成 S 形的目的是 ()
 - A. 保障小汶河沿线的湿地用水
 - B. 增加大运河沿线的聚落规模
 - C. 保障大运河河道的水量稳定
 - D. 减轻大运河河道的泥沙淤积

长白山苔原带成土作用较弱,土层薄,土壤冻结期长。春季长白山苔原带坡面土壤侵蚀严重。长白山某坡苔原带位于海拔 2000~2550 米,近年来该地气候变暖,对土壤冻结影响显著。图 3 示意长白山某坡苔原带土壤月均温垂直变化率(即海拔每上升 100 米,土壤月均温变化的多少)。据此完成 6—8 题。

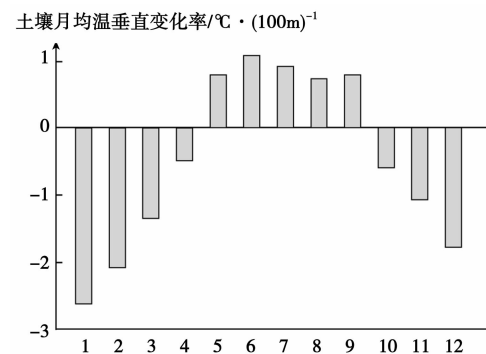


图 3

6. 长白山苔原带某坡土壤月均温随海拔升高而升高的时段是 ()
 - A. 2 月—4 月
 - B. 5 月—9 月
 - C. 10 月—次年 1 月
 - D. 10 月—次年 4 月
7. 与夏季相比,春季长白山苔原带坡面土壤侵蚀更严重,主要是因为春季 ()
 - A. 土壤表层解冻,易被侵蚀
 - B. 气温回升快,融雪径流量较大
 - C. 坡面有冻土,水分下渗少
 - D. 植被覆盖差,对坡面径流阻挡弱

8. 近年来气候变化对长白山苔原带土壤冻结的影响是 ()
- A. 冻结期延长, 冻结层变薄
B. 冻结期延长, 冻结层变厚
C. 冻结期缩短, 冻结层变薄
D. 冻结期缩短, 冻结层变厚

“干暖盖”是覆盖在较湿空气之上, 具有一定厚度的高温干燥空气层, 它将低层的湿层和对流层上层的干层分开, 阻碍对流的发展, 这样使风暴发展所需要的能量得以积累。“干暖盖”的形成与大气的水平运动或地面强烈降温有关。乌鲁木齐三面环山, 局地环流受地形影响显著。2015年12月11日, 乌鲁木齐出现极端暴雪天气, 暴雪之前高空出现“干暖盖”(图4), “干暖盖”被打破后, 降雪持续了33小时, 创下历史记录。暴雪停止后, 受其影响, 新的“干暖盖”逐渐生成。

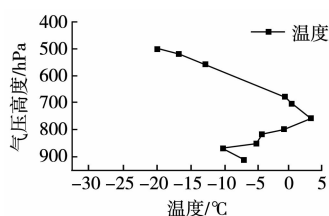


图4

9. “干暖盖”出现前, 乌鲁木齐 ()
- ①近地面气流沿坡下沉
②近地面气流沿坡上升
③750hPa 高度盛行偏南风
④750hPa 高度盛行偏北风
- A. ①③
B. ①④
C. ②③
D. ②④
10. “干暖盖”的存在为暴雪的形成 ()
- A. 积聚能量
B. 提供水汽
C. 维持对流
D. 增强辐射
11. 暴雪停止后, 新的“干暖盖”逐渐生成, 主要因为 ()
- A. 积雪隔热保温
B. 融雪水分蒸发
C. 积雪辐射冷却
D. 融雪吸收热量
12. 2023年1月, 生态环境部发布的《全国碳排放权交易市场第一个履约周期报告》显示: 全国碳市场第一个履约周期碳排放配额累计成交量1.79亿吨, 累计成交额76.61亿元, 全国碳市场运行框架基本建立, 企业减排意识和能力水平得到有效提高, 实现了预期目标。图5为碳交易示意图。这表明 ()

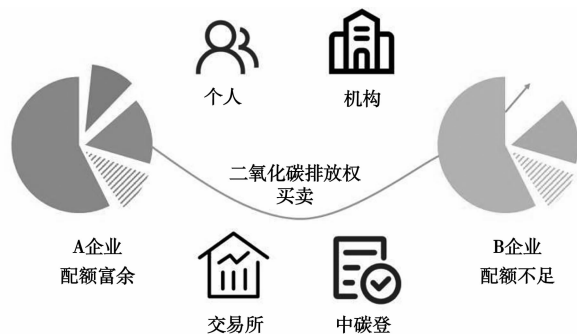


图5

- ①二氧化碳排放权作为一种商品, 碳排放配额是其价值源泉
②二氧化碳排放权作为一种商品, 价值实现要通过市场途径
③碳交易形成有效约束激励机制, 助力绿色低碳科技革命
④碳交易充分发挥市场机制作用, 决定“双碳”目标的实现
- A. ①③
B. ①④
C. ②③
D. ②④
13. 为推动经济实现质的有效提升和量的合理增长, 打好宏观政策组合拳, 中国人民银行于2023年3月27日下调金融机构存款准备金率0.25个百分点(不含已执行5%存款准备金率的金融机构), 释放长期资金超万亿元, 加大对实体经济的支持力度。关于这一政策对实体经济的影响路径, 下列传导正确的是 ()
- ①释放中长期资金
②增强实体企业发展信心
③金融机构扩大信贷规模
④缓解实体经济融资压力
⑤降低金融机构的贷款利率
- A. ⑤→①→③→②
B. ③→①→④→②
C. ①→③→④→②
D. ⑤→④→③→②

14. 某县引导农户将土地入股到村集体合作社, 开展机械化、自动化、规模化种植, 全县建成标准化柑橘基地果园36.5万亩, 从育苗、加工、皮渣利用再到“研学旅”一体化, 实现果农利益全覆盖, 带动20万果农致富。该县发展主要得益于 ()
- ①激活资源要素, 优化产业结构
②改变农村基本经营制度, 壮大农村集体经济
③加快城镇化建设, 推进城乡一体化
④深化土地制度改革, 转变农业发展方式
- A. ①②
B. ①④
C. ②③
D. ③④
15. 2022年全年我国外贸规模首次突破40万亿元关口, 其中出口23.97万亿元, 增长10.5%, 进口18.1万亿元, 增长4.3%。一年来, 除了与欧盟、美国等传统贸易伙伴保持经贸往来, 我国还利用RCEP生效带来的贸易创造效应积极开拓东盟、非洲、拉丁美洲等新兴市场, 推动产业链合作更加紧密。根据以上信息可推测我国 ()
- ①实施高水平贸易自由化便利化政策
②加快生产要素在全球范围内流动和配置
③实现贸易顺差, 出口产品结构不断优化
④坚持市场多元化战略, 充分利用国际市场
- A. ①③
B. ①④
C. ②③
D. ②④
16. 2023年1月1日, 新修订的中华人民共和国妇女权益保障法实施。该法规定:

第二条 男女平等是国家的基本国策。妇女在政治的、经济的、文化的、社会的和家庭的生活等各方面享有同男子平等的权利。……

第四条 保障妇女的合法权益是全社会的共同责任。国家机关、社会团体、企业事业单位、基层群众性自治组织以及其他组织和个人, 应当依法保障妇女的权益。

- 依据材料, 下列推断正确的是 ()
- ①各级人大和村(居)委会成员中应有适当数量的妇女代表
②全国人大常委会可就保障妇女权益实施情况开展执法检查
③监察部门应保障女性平等享有接受中高等教育的权利和机会
④妇女合法权益受到侵害的, 有权向妇联求助及向人民法院上诉
- A. ①②
B. ①③
C. ②④
D. ③④
17. 昔日的苦窖水变成了甘甜的自来水, 过去的土坯房变成了崭新的砖瓦房, 高速公路和高铁通到了家门口, 孩子们能就近上好学校, 老百姓不用到大城市能就地看好病……进入新时代以来, 在党中央的亲切关怀和坚强领导下, 民族地区3121万贫困人口全部脱贫, 民族地区同全国一道打赢了脱贫攻坚战, 实现了全面小康, 少数民族的面貌、民族地区的面貌、民族关系的面貌发生了历史性变化。这表明 ()
- ①中国共产党的领导是实行民族区域自治制度的前提
②平等团结互助和谐的社会主义民族关系进一步巩固
③各民族之间经济、文化发展不平衡的状况基本消除
④我国坚持民族平等、民族团结和各民族共同繁荣的原则
- A. ①③
B. ①④
C. ②③
D. ②④
18. 2023年是共建“一带一路”倡议提出10周年。某校思想政治兴趣小组的同学围绕这一主题搜集到以下几组数据:
- ◆十年来, 中国已与151个国家和32个国际组织签署了200余份共建合作文件。
 - ◆截至2022年底, 我国企业在沿线国家建设的合作区已累计投资3979亿元, 为当地创造了42.1万个就业岗位。
 - ◆2022年, 我国与“一带一路”倡议沿线国家的进出口规模再次刷新历史记录, 进出口规模占我国外贸总值的32.9%, 较2013年提升7.9个百分点。
- 该小组如果要将调查数据整理形成项目化学习报告, 报告的主题可以归纳为 ()
- ①发挥对外援助优势, 深化东西双向互济
②坚持共建共享, 助力普惠平衡发展
③彰显大国担当, 构建多元合作平台
④找准对外开放基点, 探索互联互通模式
- A. ①③
B. ①④
C. ②③
D. ②④

19. 福建土楼是世界文化遗产,某村不断深入挖掘土楼文化内涵,借助客家家训、客家山歌、客家演艺、非遗和传统工艺展示等项目,创新情景表现形式,做活客家土楼文化,丰富乡村旅游业态,打造“一楼一景致、一楼一特色、一楼一主题”的客家特色土楼文化 IP,成为网红“打卡地”。材料说明 ()

- ①文化是一个民族生存和发展的精神根基
- ②文化与经济相互交融成为乡村振兴的关键
- ③文化创新是民族文化永葆生命力的重要保证
- ④文化具有服务社会、推动发展的重要功能

A. ①② B. ①④ C. ②③ D. ③④

20. 2023年2月15日,“考古中国”重大项目进展工作会上通报了云南晋宁古城村遗址考古工作的最新进展。该古城村遗址距今3600至2500年,厚达数米的螺壳堆积以及大量独具贝丘遗址特色的遗迹的发现,再现了湖滨古代先民泛舟滇池、捞螺捕鱼的场景,为全面探讨古滇池地区的聚落形态、生业模式、族群构成等重要问题提供了关键性证据。可见,“考古中国”的价值在于 ()

- ①推动中华文明演进的研究,增进文化认同
- ②真实复原先民的社会生活,延续文化基因
- ③展现中华文化的独特魅力,坚定文化自信
- ④挖掘文化遗产的经济价值,彰显文化力量

A. ①③ B. ①④ C. ②③ D. ②④

21. “只恐风吹去,还愁日炙销。”我国传统艺术名瓷之一的薄胎瓷的制作从配料、拉坯、利坯(修坯)、上釉到绘画、烧制,须经四十多道工序,全部采用手工,分三次烧成。要经过粗修、细修、精修等反复百次的修琢,才能将二、三毫米厚的粗坯修至0.5毫米左右。制作人为了进入平静的状态,会选择在深夜创作。随着坯子的杯壁越来越薄,匠人也进入“忘我”状态。对此理解正确的是 ()

- ①人们可以从自己主观需要出发创造出自然界没有的东西
- ②只有经过反复修琢的量变才能实现粗胚到成品质的飞跃
- ③成品在形成之前就已经在制作人头脑中作为观念存在了
- ④人们达到忘我状态,就可以摆脱客观条件对制作的影响

A. ①③ B. ①④ C. ②③ D. ②④

22. 2023年两会政府工作报告提出:把恢复和扩大消费摆在优先位置。对此,某市提出以下恢复和扩大消费的措施,从哲学角度看 ()

- ①加强试点建设,利于从个性中总结扩大消费的共性经验
- ②把扩大消费摆在优先位置,抓住关键就能解决存在的各种问题
- ③加强消费跨界融合是根据需要建设的人为事物的联系
- ④以扩大内需促进经济高质量发展是搞好局部推动整体发展

A. ①③ B. ①④ C. ②③ D. ②④

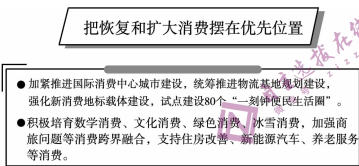


图6

23. 图7漫画《公牛挤奶》(作者:华君武,有改动)讽刺了一些人 ()

- ①主观臆断,没有正确发挥主观能动性
- ②违背规律,热衷形式主义
- ③墨守成规,工作方法守旧
- ④见利忘义,未立足人民立场

A. ①② B. ①④ C. ②③ D. ③④



图7

24. 《甲骨文选注》一书中写道,在甲骨文中,东方曰析,风曰协,南方曰因,风曰凯,西方曰丰,风曰彝(夷),北方曰勺,风曰役(洌)。这可以用来佐证 ()

- A. 风向研究商朝已经重视
- B. 甲骨文造字特点十分独特
- C. 崇拜风神潮流弥漫商朝
- D. 夏朝已有文字可考的历史

25. 以淮河、秦岭为界,可以将中国地理大体划分为南方和北方。据统计,唐代357名宰相的地域分布,生于北方的关内道、河南道、河东道、山南道、陇右道的宰相有326名,占91.3%,而属于南方的淮南道、江南道、剑南道、岭南道的宰相仅有31名,占8.7%。由此推知,当时 ()

- A. 科举取士存在地域差异
- B. 社会阶层的流动性增强
- C. 社会门第观念受到冲击
- D. 行政区域划分存在弊端

26. 图8为定州、曲阳近年出土定窑白釉北金娃娃纹饰图案残片。婴孩形象的“磨喝乐”在宋代非常流行,学者孙发成在《宋代的“磨喝乐”信仰及其形象》一文中,对“磨喝乐”的来源做了较为全面的考证,他指出“磨喝乐”作为宋代七夕供奉的重要节物,其名称来源于佛教中大黑天摩诃歌罗的音转;“磨喝乐”具有祈子、宜男之意,则来自于佛教中的鬼子母词利底母磨喝乐,手持莲叶的男童形象则是受佛教中的化生童子影响。宋代“磨喝乐”的流行 ()



图8

- A. 体现出了中外文化的频繁交流
- B. 显示出文化交融推动艺术的多样
- C. 成为宋代理学产生的历史根源
- D. 促进中国文化和外来文明的发展

27. 清代《御题棉花图》共用十六幅图片,演绎了从棉花种植到织成棉布的全过程。图9为其中的两幅,据图可推测出 ()




图9

- A. 呈现了手工工场的雇佣关系
- B. 表明了劳动妇女地位的提高
- C. 体现了家庭式手工业的特征
- D. 描绘了市井女子生活的艰难

28. 1885年,盛宣怀改组轮船招商局,颁布“用人十条”,取消了招商局内部事务由众商会议协商的条款,规定招商局督办由北洋大臣专派,招商局人事任命、重大公事,皆需向北洋大臣请示。轮船招商局的这一改组 ()

- A. 增强了洋务派的影响力
- B. 使官股所占比例占据主导
- C. 使企业得效率大大降低
- D. 加速了官督商办体制确立

29. 胡适曾说:“不要怕丧失我们自己的民族文化,因为绝大多数人的惰性已经够保守那旧文化了,用不着你们青年人去担心。……无论什么文化,凡可以使我们起死回生、返老还童的,都可以充分采用,都应该充分吸收。我们救国建国,正如大匠建屋,只求材料可以应用,不管他来自何方。”由此可知,新文化运动的领袖们意在 ()

- A. 推动学习西方文化
- B. 全盘否定传统文化
- C. 折中调和中西文化
- D. 以新文学再造文化

30. 抗日战争爆发后,国民政府教育部于8月27日颁布《总动员时督导教育工作办法纲领》,要求“战争发生时,全国各地各级学校及其他文化机关,务力持镇静,以就地维持课务为原则”。“各级学校之训练,应力求切合国防需要”。教职员及中等以上学校学生可以就地组织战时后方服务团,但“不得以任何名义妨害学校秩序”。强调以“战时须作平时看”为办理方针,一切以维持正常教育为主旨。这一举措 ()

- A. 掩盖了国民党“以党治国”实质
- B. 为民族复兴奠定了长远利益
- C. 是国民政府持久抗战的理论支撑
- D. 使得战时教育得以正常运转

31. 国发【1988】12号文件第六条规定:中央在各地的外贸、工贸进出口支公司、地县外贸公司以及外贸自属生产企业,下放地方管理,……各外贸、工贸进出口总公司与外贸、工贸进出口支公司、地县外贸公司以及外贸自属生产企业可在自主经营、自负盈亏、自愿互利的原则下,保持和建立必要的业务关系,发展各种形式的经济联合,各级行政部门不得干预。国家这些做法意在 ()
- A. 增强国有企业活力 B. 调整国民经济结构 C. 建立市场经济体制 D. 建立现代企业制度
32. 公元前 341 年,面对马其顿国王腓力二世的扩张野心和侵略行径,德摩斯梯尼发表了著名的反腓力演说。他以炽热的激情、雄辩的言辞和非凡的胆识,驳斥了亲马其顿派的投降论调,深深地打动了雅典民众的心,他被推举为抗击马其顿侵略者的领袖。这反映出当时雅典 ()
- A. 民众强烈捍卫民主政治诉求 B. 直接民主造成权力滥用误用
C. 重视培养公民群体参政意识 D. 以教化方式缓和了阶级矛盾
33. 美国西部曾是尚处于开发中的边远地区,但在 19 世纪后半期却基本实现了城市化,而在此过程中,铁路作为当时美国经济发展的中心,发挥了十分特殊和非常重要的作用。这表明 ()
- A. 美国东西经济格局发生逆转 B. 交通是城市发展的先决条件
C. 工业革命推动了城市化进程 D. 城市发展不受自然条件影响
34. 1917 年 11 月底,苏俄开始对大工业企业实行国有化。1918 年 6 月,宣布一切工业部门的大企业实行国有化。1920 年 11 月苏维埃政府颁布对拥有 5 名雇工以上的企业实行国有化的法令,同年 12 月 10 日全俄中央执行委员会的法令规定,凡工人人数在 5 人以下拥有发动机的小型企业 and 工人人数在 10 人以下没有发动机的小型企业一律解除国有化。此后,各种形式的私营经济得到了发展。这一过程表明苏俄 ()
- A. 工业化进程发展迅速 B. 积极探索经济发展模式
C. 经济政策的摇摆不定 D. 初步建立计划经济体制
35. 20 世纪 60 年代,美、苏在太空竞赛中为了拿到头彩,各自从佛罗里达的海岸和丘拉塔姆的荒原向太空发射了三十多艘载人飞船,完成六十多人次的太空飞行,踏上一次又一次的征途,对地球以外的世界展开探索。据此,太空竞赛 ()
- A. 缓和了冷战的紧张局势 B. 加快两极格局的瓦解
C. 极大地解放社会生产力 D. 客观上推动社会进步

二、非选择题:共 160 分。第 36~42 题为必考题,每个试题都必须作答。第 43~47 题为选考题,考生根据要求作答。

(一)必考题:共 135 分。

36. 阅读图文材料,完成下列要求。(24 分)

康养产业是集养老、养生、医疗、休闲等诸多业态为一体的产业链。近年来,随着我国社会经济发展、老龄化问题的凸显,康养产业已经成为发展前景广阔的朝阳产业。磐安县位于浙江省中部,距离杭州、温州、宁波均在 2 小时以内,属长三角南翼经济区及浙中城市群经济区范围。磐安县森林覆盖率约为 80.6%,有“九山、半水、半分田”之称。县内有全国唯一药用植物国家自然保护区一大盘山自然保护区,是中国药材之乡。近年来,磐安县正着力打造成以“药养+林养”为特色的华东地区著名康养基地。图 10 为磐安县简图。

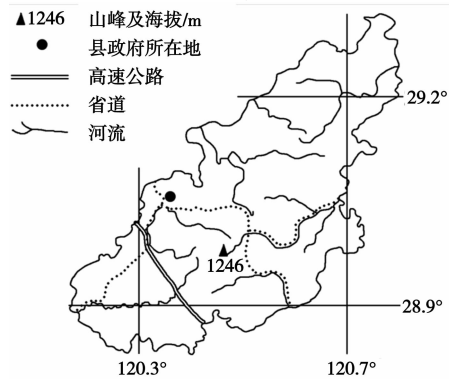


图 10

- (1)分析康养产业成为朝阳产业的原因。(6 分)
- (2)指出磐安县打造以“药养+林养”为特色的康养基地的优势条件。(6 分)
- (3)推测康养基地适宜布局在磐安县的西南部还是东北部,并说明理由。(6 分)
- (4)说出磐安县打造以“药养+林养”为特色的华东地区著名康养基地可能采取的措施。(6 分)

37. 阅读图文材料,完成下列要求。(22 分)

热点是岩石圈板块之下提供炽热岩浆的固定源地,火山喷发是热点在地表的重要表现。美国西部的黄石国家公园位于北美大陆下面的热点上方,在过去的 200 万年间,黄石公园发生了由同一热点引发的三次大型火山喷发,如图 11 左图所示。黄石湖是美国黄石公园内最大的内陆湖,位于黄石活火山口的中心,湖底深度随与裂隙带中心距离的增加而变化,如图 11 右图所示(曲线上的数字表示经历的时间,单位:千年)。

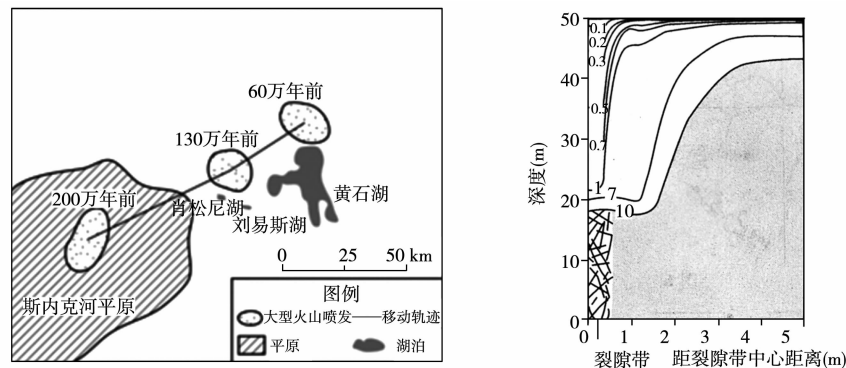


图 11

- (1)推测过去的 200 万年间美洲板块的移动方向,并说明理由。(8 分)
- (2)分析黄石湖的形成原因。(8 分)
- (3)描述随离裂隙带中心距离的增加,湖底深度的变化特点。(6 分)

38. 阅读材料,完成下列要求。(14 分)

2022 年以来,某市税务局以落实绿色税收政策为抓手,新的组合式税费支持政策、稳经济一揽子政策和接续措施分批推出,积极引导本市企业发展。A 公司是该市一家主要经营电力、热力、燃气及水生产和供应的企业。近年来,受外部因素影响,热力市场经济较为疲软,加之供热期间原煤单价上涨过快,导致该企业资金需求量迅速增加。为此,该市税务部门组织专家团队上门服务,围绕增值税留抵退税、环境保护税相关优惠政策对 A 公司相关人员进行“面对面”宣传辅导,切实帮助企业算好“红利账”。在税务部门的辅导下,A 企业及时享受到 2900 余万元的增值税留抵退税款,极大地充裕了公司的现金流。B 电厂是该市一家火力发电企业,其经营范围为发展、采暖供热与维护。在税务部门的精细辅导下,2022 年,B 电厂将 1200 余万元的增值税留抵退税款用于环保设施更新升级,购入了电除尘器和布袋除尘器,大气污染物排放量降低 50% 以上。2022 年,B 电厂缴纳的环境保护税税款与 2020 年相比下降 65%,与 2021 年相比下降 47%。结合材料,运用经济生活知识,说明该市绿色税收政策产生的经济效益和社会效益。

39. 阅读材料,完成下列要求。(12 分)

近年来,老旧小区加装电梯工作在顺利推进,但也面临一些法律困境。民法典第二百七十八条规定,改建、重建建筑物及其附属设施应当经参与表决专有部分面积四分之三以上的业主且参与表决人数四分之三以上的业主同意(下称“同意门槛”)。由于业主的“同意门槛”较高,高层住户与低层住户之间的矛盾、年轻人与老年人之间的矛盾,再加上居住人员复杂、房屋产权性质复杂多样,使得住户之间在加装电梯问题上难以达成一致意见。

加装电梯,民意协商是关键。某小区 17 号楼因一场特别的听证会解开了加梯项目的“死结”。听证会由 14 户业主及代理人、听证团、街道与社区具体负责加梯工作的人员等组成。思政

实践小分队旁听了这一场全国首场加梯听证会(具体流程见图12)。

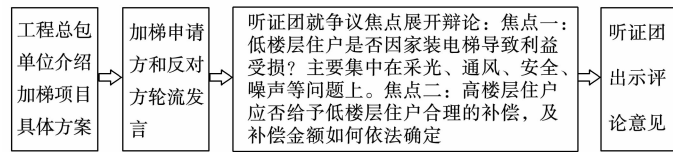


图12

听证会结束后,相关部门参考听证评议报告作出了同意加梯的批复。随后,加梯申请方与反对方就补偿价格达成一致,加梯项目顺利完成并投入使用。这一听证会开辟了加梯居民调解工作的新形式,为全国老旧小区加装电梯的民意协调和基层调解工作提供了新样板。

运用政治生活的相关知识,阐释此次加梯听证会召开作为新样板的意义。

40. 阅读材料,完成下列要求。(26分)

以史为鉴、察往知来,在复兴之路上坚定前行。

以中华民族伟大复兴为主题、以思想史为基本线索的《复兴文库》出版发行。该文库按历史进程分为五编,全景式记述了以中国共产党人为代表的中华优秀儿女为实现国家富强、民族振兴、人民幸福而不懈求索、百折不挠的历史足迹,集中展现了影响中国发展进程、引领时代进步、推动民族复兴的思想成果。

编目	选编文献内容
第一编 (1840—1921年)	集中选编展现中华民族伟大复兴的历史起点与逻辑起点,体现民族觉醒意识、思想启蒙与思想解放、探索救亡图存、推动民主革命、传播进步思想的重要文献。
第二编 (1921—1949年)	集中选编记述中国共产党携手各阶层各党派进步力量、团结带领中国人民,为推翻帝国主义、封建主义、官僚资本主义三座大山,实现民族独立、人民解放,完成新民主主义革命、建立新中国而不懈奋斗的重要文献。
第三编 (1949—1978年)	集中选编记载中国共产党团结带领全国各族人民进行社会主义革命、确立社会主义基本制度、推进社会主义建设,实现了中华民族有史以来最为广泛而深刻的社会变革的重要文献。
第四编 (1978—2012年)	集中选编记录中国共产党团结带领全国各族人民进行改革开放的伟大革命,破除阻碍国家和民族发展的思想和体制障碍,开创、坚持和发展中国特色社会主义的重要文献。
第五编 (2012年以来)	集中选编党的十八大以来,以习近平同志为核心的党中央在治国理政实践中创立习近平新时代中国特色社会主义思想,开启中国特色社会主义新时代,中华民族迎来从站起来、富起来到强起来的伟大飞跃的重要文献。

(1)结合材料,运用实践和认识的辩证关系,阐明《复兴文库》的编撰历程。(12分)

(2)运用文化生活的知识,结合《复兴文库》的出版,说明编撰《复兴文库》对发展中国特色社会主义文化的意义。(10分)

(3)结合所学知识,以“坚定文化自信、助力民族复兴”为主题撰写一篇短评。(4分)

要求:①围绕主题,观点明确;②论证充分,逻辑清晰;③学科术语使用规范;④总字数在150字左右。

41. 阅读材料,完成下列要求。(25分)

材料一 曾国藩于同治初年上的《会商大路折》曰:“自安庆至宿毫千余里,人民失业,田庐荡然……迫切待救”。李鸿章也上书陈述当时人民群众流徙情况。在曾、李等人的推动下,同治元年,北京中枢就有人提出,以后各省州县官吏,“应以招集流亡,垦辟田亩为要务”。光绪三至五年山西特大饥荒以后,“荒田废地无邑无之”,“丁壮转徙他乡,老弱填委沟壑”,农业生产处于停滞

状态。时任晋省巡抚的曾国荃督饬各级官府在减免赋税的同时,大力招回流民回乡生产,重整家园,规定“一面出示邻境,劝其来耕,如实死亡绝户及寄居他处者,待至今秋后不归,准令本户近支承种,次及远族或支派远近相似辈份,年龄长幼为序,本族无人,方准同甲同村之人;或因同村人少,许外县外府客民领种”。

——摘编自王继平《曾国藩研究》

材料二 1938年,国民政府颁布《非常时期难民移垦规则》,规定公有荒地垦竣后,垦民将无偿获得土地所有权。由此,江西难民移垦运动迅速开展。到1939年,国民政府颁布《非常时期难民移垦条例》,取消了垦民土地所有权,仅规定有土地耕作权。江西除了由省垦务处主办的61个省营垦场外,农林部垦务总局还在江西安福设立国营垦区1处,辖9个垦场。此外,江西还成立民营垦场125个。随着垦民的增多,地方政府为了能对垦民抽丁派款,将垦民编入了地方保甲系统,各地垦民纷纷迁徙而来。许多垦场管理员,挪用垦殖资金,与垦民关系紧张,省垦殖处对此处置不力,违法乱纪现象蔓延。到1945年,江西省垦务处所辖垦场仅剩垦民1万余人,到1946年,减至5000余人。

——摘编自高凯等《中国灾害志》

(1)根据材料一概括19世纪60年代清政府解决灾荒的措施,并结合所学知识分析其推行垦务的意义。(12分)

(2)根据材料二,概括20世纪三四十年代江西难民移垦的特点,并结合所学知识分析其衰退的成因。(13分)

42. 阅读材料,完成下列要求。(12分)

材料 以“文明的碰撞与融合”为主题的某研究性学习小组展开了相关的理论学习与史料搜集工作,形成如下学习笔记。

观点	文明因交流多彩,文明因互鉴而丰富 ——仲音 我们要尊重文明多样性,推动不同文明交流对话、和平共处、和谐共生,不能唯我独尊、贬低其他文明和民族。 ——习近平
材料	作为鲜卑族政权,拓跋宏大力推行汉化改革,移风易俗,为了更好的学习汉人文化,他将首都从平城迁至洛阳,经济上实行均田制,军事上向南发动对南朝梁国的战争,大力开疆拓土。最终鲜卑族融入华夏文明圈,长期战乱的中原大地再次焕发生机,而孝文帝的改革比彼得足足早了一千多年。由于其改革极大推动华夏文明发展,所以孝文帝被认为是最伟大的少数民族政治家之一。 ——摘编自百度文库 鸦片战争前,中国作为东方的大国已经经历了两千年的封建文明史,它的文化曾经一度辉煌,对周边邻国产生过巨大的影响,中国人对自己的文化具有不言而喻的优越感。鸦片战争中,西方列强用坚船利炮轰开了中国关闭的大门,使中国看到了自己与西方国家之间的差距,开始了洋务运动,戊戌变法等学习西方的行动。西方列强通过战争强行打开了近代中国的大门,“西方文化也通过战争、暴力和对中国的掠夺强行向中国输入”引发了之后半个世纪中西文化的激烈冲突。 ——摘编自百度文库 说市场经济只存在于资本主义社会,只有资本主义的市场经济,这肯定是不正确的。社会主义为什么不可以搞市场经济。市场经济不能说只是资本主义的。市场经济,在封建社会时期就有了萌芽。社会主义也可以搞市场经济。 ——摘编自1979年11月26日,邓小平在一次接见外宾时的谈话

通过研读,有的同学看到了文明的碰撞,有的同学看到了文明的融合,有的同学看到了二者间的复杂关系。请任选角度,自拟论题,结合笔记中的观点与材料,并运用所学知识加以论证。(要求:观点明确,史论结合,表述清晰)(12分)

(二)选考题:共 25 分。请考生从 2 道地理题、3 道历史题中每科任选一题作答。如果多做,则按每科所做的第一题计分。

43. [地理——选修 3:旅游地理](10 分)

近年来,西藏凭借独特且丰富的旅游资源吸引了许多人,游客规模呈指数式增长。根据入藏旅游流网络结构,可将西藏旅游地划分为 3 种节点类型,由核心节点到边缘节点,自然和社会环境条件逐渐变差。旅游组织模式主要分为团队游(以中老年群体为主)和自助游(以年轻人群体为主),团队游和自助游在游客群体、旅游偏好、支出成本等方面存在较大差异。图 13 示意入藏旅游目的地层级体系与团队游、自助游组织模式对应关系。

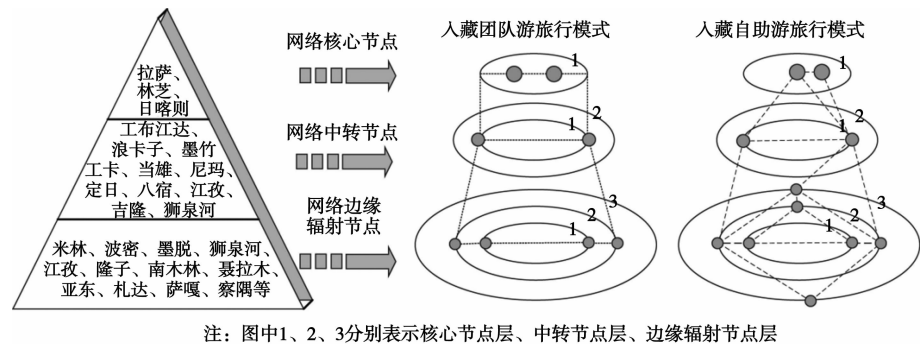


图 13

从涉及的旅游地节点类型角度,说明入藏团队游和自助游的异同点,并分析原因。

44. [地理——选修 6:环境保护](10 分)

城市“绿街系统”是在城市高质量发展时期提出的道路系统整改概念,具有绿廊特征和休闲生活设施。建构时,首先将快速路作为中心地区的边界,不得进入内部区域;其次,内部改变以小汽车为主导的交通方式。图 14 城市“绿街系统”形态结构示意图。

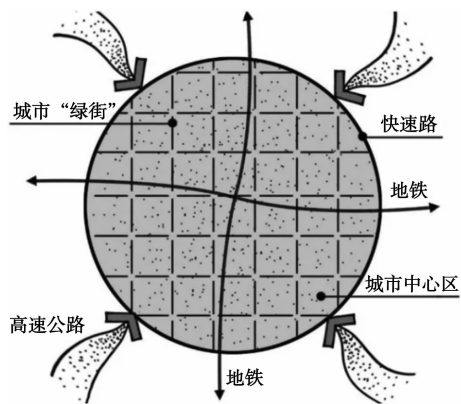


图 14

推测城市“绿街”的功能。

45. [历史——选修 1:历史上重大改革回眸](15 分)

材料 光武帝在建立政权、强化中央集权的过程中,积极推行军制改革。他强化中央军,精简和削弱地方军,以中央军驾驭地方军作为军制改革的基本思想。《后汉书·百官志》:“建武六

年省诸郡都尉,并职太守无都试之役。”七年二月,罢护漕都尉;同年三月诏:“今国有众军,并多英勇,宜且罢轻车骑士材官楼船士及军假吏,令还复民伍。”是岁,省长水、射声二校尉。九年,又省关都尉。以后因形势需要在边郡和内地关中等地也设置了一些都尉,但如应劭《汉官仪》所言,“每有剧贼,郡临时置都尉,事讫罢之”。为了边防作战的需要,西汉有“令戍卒岁更”之制,光武亦予以废除。

——摘编自王晓易《光武帝怀柔四夷:东汉初期军制改革与边防政策》

(1)根据材料并结合所学知识,概括光武帝军制改革的主要措施。(7 分)

(2)根据材料并结合所学知识,全面光武帝的军制改革。(8 分)

46. [历史——选修 3:20 世纪的战争与和平](15 分)

材料 1948 年美国对日媾和草案中,依然保留了占领初期禁止日本一切核能研究的内容,但在 1949 年 11 月的草案中则删除了禁止条款。1951 年 9 月 8 日,美日等国正式签署《旧金山和约》,条约中并无禁止或限制日本从事核研究的内容,此举标志着美国对日“全面核限制”政策的解禁。当然,条约的生效并不意味着美国在核能方面给予日本完全的自由决定权。12 月 17 日,美国联合参谋本部明确指出,日本独自进行核武器研发将违反《日美安保条约》。尽管美国试图通过制度安排谋求对原子能的绝对控制与垄断,但其对现实情况的判断上出现“两个失误”,即:一是“低估了”苏联工业基础潜力与制造原子弹的能力,二是“高估了”原子能保密的有效性。

——摘编自尹晓亮《日美核能合作的历史缘起(1945—1955)》

(1)根据材料概括二战后美国对日核政策的变化背景。(8 分)

(2)根据材料并结合所学知识,指出美国对日核政策变化的影响。(7 分)

47. [历史——选修 4:中外历史人物评说](15 分)

材料 肖邦(1810—1849),波兰音乐家,浪漫主义时期最具独创性的艺术家之一。他的 58 首马祖卡舞曲作品多以民间歌曲为基础,借鉴吸收了乡村民间舞曲以及民间音乐体系,题材主要来自波兰人民的生活、历史,作品内容丰富、曲调激昂奔放、和声织体丰富多彩、作品结构灵活生动。

1830 年,华沙爆发了反抗俄国的起义,旋即失败。当时肖邦虽然身在巴黎,却时刻关心着祖国的命运。他创作的《军队波罗奈兹舞曲》描绘了一个波兰民族英雄的形京,赞扬了波兰人民奋力抗战的精神,表达了对波兰民族继续为民族自由独立而斗争的支持,以及必胜的信心。

“生于华沙,灵魂属于波兰,才华属于世界”,这是对肖邦最高度的评价。

——摘编自隋欣《基于民族精神探寻艺术真谛——浅论“钢琴诗人”肖邦的音乐创作》

(1)根据材料并结合所学知识,概括肖邦音乐作品的特色。(8 分)

(2)根据材料并结合所学知识,简析肖邦得到高度评价的原因。(7 分)