



江苏省 2021 年新高考适应性考试

思想政治

注意事项

考生在答题前请认真阅读本注意事项及各题答题要求

1. 本试卷共 8 页, 满分为 100 分, 考试时间为 75 分钟。考试结束后, 请将本试卷和答题卡一并交回。
2. 答题前, 请务必将自己的姓名、准考证号用 0.5 毫米黑色墨水的签字笔填写在试卷及答题卡的规定位置。
3. 请认真核对监考员在答题卡上所粘贴的条形码上的姓名、准考证号与本人是否相符。
4. 作答选择题, 必须用 2B 铅笔将答题卡上对应选项的方框涂满、涂黑; 如需改动, 请用橡皮擦干净后, 再选涂其他答案。作答非选择题, 必须用 0.5 毫米黑色墨水的签字笔在答题卡上的指定位置作答, 在其他位置作答一律无效。
5. 如需作图, 必须用 2B 铅笔绘、写清楚, 线条、符号等须加黑、加粗。

一、单项选择题: 共 14 题, 每题 3 分, 共 42 分。每题只有一个选项最符合题意。

1. 2020 年 8 月 16 日至 29 日, “十四五”规划编制工作开展网上意见征求活动, 人民网领导留言板开设了“十四五”规划建言平台, 各界群众踊跃参与, 数万条网民建议内容涵盖经济社会发展的各个方面(如图 1)。这一“网络问策”的目的在于

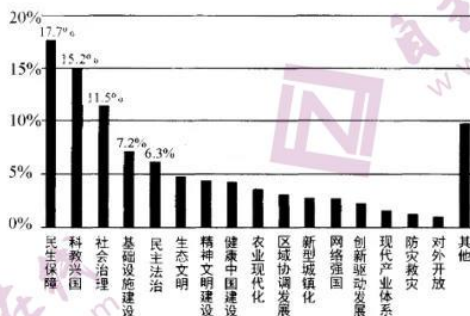


图 1

- A. 把群众智慧和专家意见汇聚起来, 提高民主决策的透明度
- B. 把依法执政和保障民生结合起来, 丰富党治国理政的经验
- C. 把社会期盼和基层经验吸收进来, 完善政府社会建设职能
- D. 把顶层设计和问计于民统一起来, 提高规划编制的科学性

S 思想政治试卷 第 1 页(共 8 页)

准考证号

姓名

★此卷上交考点保存★



2. “找准杭黔协作最大公约数,画出所需所能最大同心圆。”相隔 1500 余公里的浙江省杭州市与贵州省黔东南苗族侗族自治州结下“千里之缘”。3 年来,杭州累计投入帮扶资金 21.124 亿元,实施扶贫项目 685 个。近年来,黔东南州经济社会发展实现历史性跨越,千百年来的绝对贫困问题得到彻底解决。杭黔两地的携手、交融、协作将

- ①在深度交往交流交融中增进民族间的团结
- ②有利于进一步强化中华民族共同体意识
- ③促进平等团结互助和谐的民族关系逐步形成
- ④消除民族间经济、文化等发展不平衡状况

- A. ①②
- B. ①④
- C. ②③
- D. ③④

3. 某市规划土地局、住建委、房管局、税务局等部门联合开展“放管服”改革,主要亮点如图 2。

这一改革在当地可以预见的传导过程是

- ①营商环境逐步优化,地区发展软实力增强
- ②政府工作效率提高,企业和群众办事更方便
- ③企业主体活力得到释放,经济持续健康发展
- ④依法行政问题得到解决,政府职能加快转变

- A. ④→②→①
- B. ③→④→①
- C. ①→②→③
- D. ②→①→③




图 2

4. 2020 年 9 月 19 日,中国政府公布《不可靠实体清单规定》。不可靠实体清单是指“不遵守市场规则,背离契约精神,出于非商业目的对中国企业实施封锁或断供,严重损害中国企业正当权益的外国企业组织或个人”的清单。一旦外国实体被列入该清单,中国将依法对其经济、金融等相关活动进行限制或制裁。公布这一清单

- A. 通过制裁不可靠外国实体,维护了我国的发展利益
- B. 打击了背离契约精神的行为,兼顾了外国实体的商业需要
- C. 出于非商业目的,旨在推动构建人类命运共同体
- D. 确认了国际贸易公认原则,重塑了以规则为基础的多边机制



5. 2019年,京津冀、长三角和粤港澳大湾区的地区生产总值分别达到8.5万亿元、23.7万亿元和11.4万亿元,占全国GDP的比重达44%。此外,西部大开发、成渝地区双城经济圈、东北全面振兴、中部地区高质量发展等区域发展战略也不断深入和升级。2020年以来,各区域间的协同发展正持续向纵深推进。支撑上述发展战略的理念是

- A. 促进国内大循环,增强发展的公平性 B. 解决发展的不平衡,增强发展的整体性
C. 遵循共商共建共享原则,筑牢发展的基点 D. 促进欠发达地区优先发展,打造新增长极

6. 2010年以来,中国品牌全面拥抱互联网。

图3信息反映出

- ①数字化转型促进了虚拟经济的发展
②数字化生产为消费创造了新的动力
③交换是连接生产与消费的桥梁和纽带
④新型消费对生产的升级起着导向作用

- A. ①② B. ①④
C. ②③ D. ③④

● 老字号焕发青春

商务部认定的1128家中华老字号超过七成在电商平台开店,通过研发新品、直播、新零售等一系列创新举措加速数字化转型,获得逆势增长。

● 新国货崛起可期

某电商平台计划两年孵化5000个领军品牌,实现两万个厂牌年销售额超过1000万元,帮助10000家新国货品牌开拓新客。

图3

7. 为筹集社会福利事业发展资金,20世纪80年代我国开始发行社会福利有奖募捐券,90年代发行福利彩票。据统计,2019年有170多亿元中央专项彩票公益金被用来支持教育、医疗、养老、体育等多个领域的16个大项的公益项目。发行福利彩票能够

- ①弥补财政收入的不足 ②改变收入分配格局
③促进产业结构优化 ④推进经济社会发展成果共享
- A. ①② B. ①④ C. ②③ D. ③④

8. 蓬勃发展的流媒体服务让热衷追剧的影迷大呼过瘾,但这对环境保护来说可不是好事。据估算,全球在线视频播放每年可致排放温室气体3亿吨二氧化碳当量,预计排放量还会不断攀升。因此,有环保机构提出“数字节制”的理念,号召个人与企业采取各种节能措施,比如关闭视频自动播放功能、少看高清视频等,助推节能减排。这一主张

- ①肯定了新事物战胜旧事物是事物发展的必然趋势
②重视量的积累,为实现环境改善创造条件
③表明人为事物的联系是不以人的意志为转移的
④把握了联系的多样性,深化了对节能减排的认识
- A. ①② B. ①③ C. ②④ D. ③④



9. 黑土地的保护是一项长期而综合性的工作。地处东北黑土地核心区域的黑龙江省在黑土地保护上一直在探索和不断实践,分批次实施试点项目,在平原旱田、坡耕地、风沙干旱及水田等不同类型区,探索形成了9种黑土地保护利用技术模式,取得了显著的成效,5年来耕层平均厚度增加3.5厘米。材料说明

- ①矛盾是同一性和斗争性的有机统一
- ②改造客观世界必须坚持一切从实际出发
- ③要在尊重客观规律基础上发挥主观能动性
- ④解决问题要善于抓住事物发展的主要矛盾

A. ①③ B. ①④ C. ②③ D. ②④

10. 城乡融合是对城乡关系的进一步深化,是大势所趋。图4为某同学搜集到的城乡融合的发展逻辑示意图。下列选项中对该示意图解读正确的是

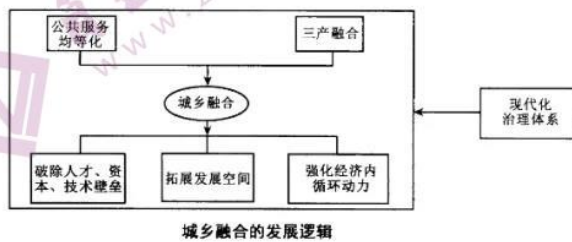


图4

- ①城乡融合发展要促进矛盾主次方面的转化
- ②现代化治理体系对城乡融合发展起决定作用
- ③城乡融合发展要善于把握事物的内外部条件
- ④要用系统优化思维处理城乡融合诸要素关系

A. ①② B. ①③ C. ②④ D. ③④

11. “天人合一”是中国传统文化的重要特点。之所以会形成这一特点,原因之一就在于:中国古代庞大的农业社会对大自然特别敬畏,因而形成了一种整体性的宇宙观,这种思想发展到《周易》《道德经》,便逐渐形成了尊重自然、顺应自然、适时而为的世界观。由此,注重整体、阴阳互补、对立统一的思维方式渗透到中国人的血脉之中,对中华文明的发展产生了深远影响。材料启示我们

- ①生产关系对生产力具有反作用 ②哲学是对具体科学的概括和总结
- ③社会意识是对社会存在的反映 ④哲学能指导人们认识世界和改造世界

A. ①② B. ①④ C. ②③ D. ③④

12. 唐代的王维不仅是伟大的诗人,也是杰出的山水画家,苏东坡曾称赞他的画是“画中有诗,诗中有画”。他创作的山水画《辋川图》,笔墨清润婉约,气韵恬静淡雅,画中群山起伏,绿水环绕,树木掩映,将文学意象美和山水形式美融为一体,营造了一种含蓄朦胧、深远空邃、意出尘外的审美境界。王维的这一作品
- A. 表达了中华民族精神的基本内涵
B. 展示了中华文化鲜明而独特的风格
C. 增强了中华文化的包容性
D. 体现了中华民族生生不息的生命力
13. 《中华人民共和国民法典》总则第一条就提出弘扬社会主义核心价值观,并将以人为本、诚实守信、孝老爱亲等传统美德上升到法律层面,不仅传承了礼法合一、德法兼治的中华法系的文化气质,更展现了今日中国的精神风貌。对此,下列认识正确的是
- ①民法典留下了中华传统法文化的烙印
②民法典的制定坚持吸收外来,博采众长
③民法典的实施有助于促进精神文明建设
④民法典确立了传统美德在当代社会的支柱地位
- A. ①③ B. ①④ C. ②③ D. ②④
14. 图5为歌曲《国旗之下》(节选)。

国旗之下

陈涛 作词
王备 作曲

1=G $\frac{4}{4}$ J=120

0 0 0 3 1 7 | 1--3 | 1--1 2 | 1 7-- |
北上漠河,早见一番冰雪,

0 0 0 2 7 6 | 7-0 2 7 6 | 7--1 2 | 1 6-- | 0 0 0 3 1 7 | 1--3 | 1--1 2 |
南下三沙,海鸥追逐,浪花飞泻。东极抚远,一望日出

1 7-- | 7-0 2 7 6 | 7-0 2 7 6 | 7--1 2 | 1 6-- | 0 0 0 5 | 3-3 4 |
东海,西陲乌恰,背倚天山,大漠横绝。我亲爱的

5 2-- | 1-1 2 | 3--- | 0 6 7 1 6 | 5 6 5 2 2 | 4-4 4 5 6 | 5--- |
祖国,如此江山,我亲爱的兄弟姐妹都在身边。

5 0 0 3 1 7 | 1-0 3 1 7 | 1 7 6 6 6 6 | 5 6 7 5 3 | 3-3 1 6 6 | 6--- |
国旗之下,一国一家一心,十四亿家人同行一定赢。

图5

这首歌的歌词

- ①流淌着浓厚的中华优秀传统文化的神韵
②说明了优秀文化必须在继承中不断发展
③抓住了矛盾的特殊性,勾勒出祖国的风貌
④体现了价值判断和价值选择的社会历史性
- A. ①② B. ①③ C. ②④ D. ③④

S 思想政治试卷 第5页(共8页)



二、非选择题：共 5 题，共 58 分，包括必做题和选做题两部分。其中第 15 题 ~ 第 18 题为必做题，每个试题都必须作答。第 19 题为选做题，包括三小题，请选做其中的两小题；若多做，则按作答的前两小题评分。

15. 京剧被称为中国的“国粹”，在传统文化中有着重要的地位，也曾拥有无数的观众。但是随着时代的变迁，京剧的观众越来越少，能够展示的舞台也越来越小。

近年来有人致力于京剧的改革，在传统京剧中加入许多新元素，比如曲调、唱腔充满了现代感，武术、舞蹈、杂技、魔术等也被注入其中；同时，西方的钢琴、吉他、电声乐器也能在舞台上听到，所以被人们称为“新京剧”。

对“新京剧”，有人赞同，也有人反对。赞成者认为，社会在变迁，京剧也必须有所变革，“新京剧”的魂还是京剧，因为传统京剧的唱念做打、手眼身法等基本功并没有被丢掉，要改革的是它的程式、道具和表现手段等。反对者认为，既然是国粹，就应该原汁原味，越传统、越地道，才是最好的。

请选择一方观点，运用《文化生活》知识，说明你赞成或反对“新京剧”的理由。（9 分）

16. 发展新能源产业，降低碳排放是保护地球家国的需要。2019 年，我国单位光伏发电成本相比 2010 年降低 80%，每度电的成本已经接近国内火电上网的平均价格（如图 6），平价（市场价）上网在部分地区已经成为现实。2020 年光伏类上市公司表现强劲，是我国资本市场表现最好的行业之一，第三季度光伏行业收入、利润分别同比增长 47.25% 和 93.07%。

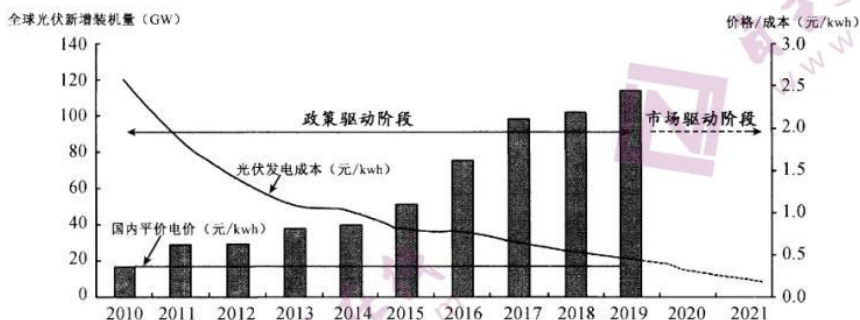


图 6

根据上述材料，结合《经济生活》知识，说明我国在产业发展不同阶段应采取的产业政策及其原因。（11 分）

17. “我才夹了一筷子,你就送我一桌子。”一些互联网内容平台提供商为了追求用户黏性,以便使自己获得更多的“流量”,便运用大数据算法,根据用户的习惯,推送他们“喜欢”的信息,甚至是一些低俗、无聊的信息。于是,用户以为浏览了许多信息,得到了许多反馈,实则信息非常单一。这种现象被称为“信息茧房”。

信息茧房看似“越来越懂你”,实际上使人在无形中失去了解不同事物、不同观点的机会,在不断重复和自我确证中固化已有的思维,而排斥与自己相异的观点。古希腊哲学家柏拉图、英国哲学家培根都曾提出要打破“洞穴假象”,而本意为开放、多元、共享的互联网却形成了其特有的“数字洞穴”。正如有的人说,“无穷的远方,无数的人们,都和我有关”,只有“破茧而出”,才能避免闭目塞听、作茧自缚,使我们的视野更加开阔。

结合材料,运用认识论的知识,说明我们怎样才能避免陷入信息茧房。(10分)

18. 完善社会治理体系是《中共中央关于制定国民经济和社会发展第十四个五年规划和二〇三五年远景目标的建议》提出的一项重要任务。某校政治兴趣小组的同学对本地基层治理的情况开展了调查。他们了解到,该地积极探索社会治理的实现方式,已建立起“既充满活力又和谐有序”的工作机制,逐渐形成了“大事一起干,好坏大家判,事事有人管”的局面。他们把了解到的情况汇集如下表,请你一同参与有关问题的讨论。

	主体	责任
	党委、政府	制定《关于推进基层社会治理“德治、法治、自治”三治融合建设的指导意见》;出台相关文件、建立相关制度。
	村(居)民会议	制定、修订、完善村规民约、社区公约。
	文明评审团	由居民或村民组成,评判身边的好人好事或不良现象,分别挂上“红榜”和“黑榜”。
	百事服务团	整合社会志愿服务、专业技术服务力量,为村民提供贴心的组团式服务。
	法律服务团	聘请法律顾问、司法工作人员下到基层,开展法治宣传,帮助群众化解矛盾。

(1) 请你根据了解到的情况,运用《政治生活》知识,就该地基层社会治理的经验撰写一个总结提纲。(8分)

(2) 讨论中有人提出质疑,推广“三治融合”的经验是否会妨碍其他地方基层社会治理模式的创新?请你从唯物辩证法角度对此作出回应。(8分)

S 思想政治试卷 第 7 页(共 8 页)



19.【选做题】本题包括 A、B、C 三小题,请选定其中两小题,并在相应的答题区域内作答。若多做,则按作答的前两小题评分。

A【经济全球化与对外开放】

增长与发展委员会(Commission on Growth and Development)在 2008 年的年度报告中指出:“1950 年以来,年增长超过 7% 并持续 25 年以上的国家和地区共有包括中国、巴西、中国香港等 13 个,其共性就是保持对全球经济开放。”

2016 年以来,单边主义、保护主义等“逆全球化”思潮涌动。英国脱欧、美国退出跨太平洋伙伴关系协定、边境筑墙、提高关税等事件相继发生。这些现象表明,全球化进程正受到阻碍。

结合材料,请你对“逆全球化”现象进行简要评析。(6 分)

B【经济学常识】

5G 是当前新一代移动通信技术,5G 新型信息基础设施是实现万物互联的关键。根据工信部统计数据,我国已建成 5G 基站超 60 万个,5G 连接数达到 1.5 亿,比相关智库之前的预测增加 1660 万,均居全球首位。

世界银行研究表明,宽带普及率每提升 10%,将带动 GDP 增长 1.38%。某知名国际咨询机构预测,到 2035 年,5G 将在全球创造 13.2 万亿美元的经济产出,以及 2230 万个就业机会。

结合材料,解释在国际分工背景下,如何才能利用好我国 5G 技术的比较优势。(6 分)

C【国家和国际组织常识】

打开联合国官方网站,可以清晰地看到一行字:健康地球上的和平、尊严与平等。点击“行动使命”栏目,进一步出现相关信息(如图 7):



图 7

结合上图,谈谈你对联合国“行动使命”的认识。(6 分)

关于我们

自主选拔在线是致力于提供新高考生涯规划、强基计划、综合评价、三位一体、学科竞赛等政策资讯的升学服务平台。总部坐落于北京，旗下拥有网站（<http://www.zizzs.com/>）和微信公众平台等媒体矩阵，用户群体涵盖全国90%以上的重点中学师生及家长，在全国新高考、自主选拔领域首屈一指。

如需第一时间获取相关资讯及备考指南，请关注**自主选拔在线**官方微信号：**zizzsw**。



微信搜一搜



自主选拔在线

关注后获取更多资料：

回复“答题模板”，即可获取《高中九科试卷的解题技巧和答题模版》

回复“必背知识点”，即可获取《高考考前必背知识点》