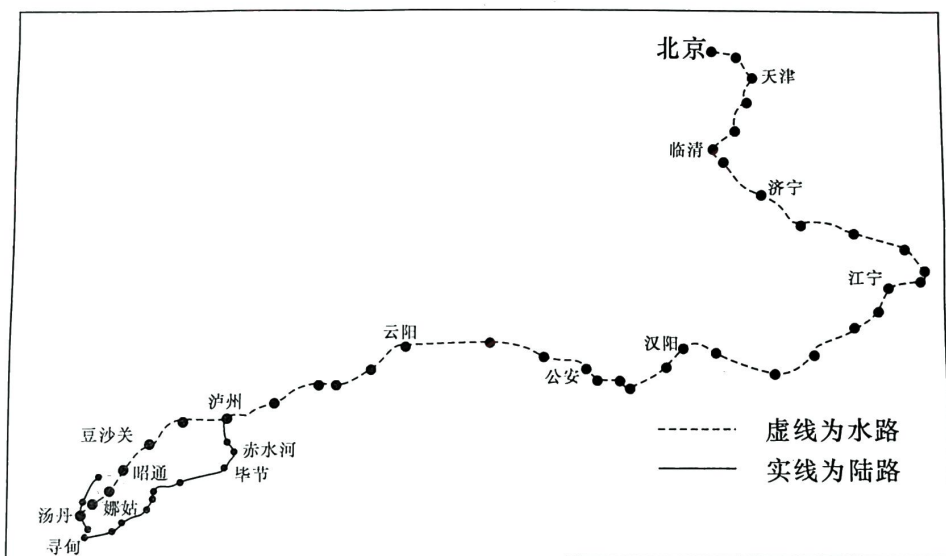


本试卷分第Ⅰ卷(选择题)和第Ⅱ卷(非选择题)两部分。1至42题为必考题,43至47题为选考题,共14页。考试结束后,将本试卷和答题卡一并交回。时量150分钟,满分300分。

第Ⅰ卷(选择题 共140分)

本卷共35小题,每小题4分,共计140分。在每小题给出的四个选项中,只有一项是符合题目要求的。

雍正年间,中原地区的铜矿资源渐渐枯竭,铸币衙署陷入铜原料断绝的窘境,朝廷因此每年从云南调集六百万千克的铜料入京铸币,滇铜京运达到空前规模,京运之铜先集于娜姑,然后再转运昭通、四川泸州,经水路进京,金沙江段经常发生船毁铜沉事故。下图为滇铜京运路线简图。据此完成1~3题。



1. 下列关于滇铜京运的说法,正确的是

- A. 矿产资源地区分布不均
- B. 滇铜质量最好,为保证铸币质量使用滇铜
- C. 云南铜矿资源丰富,为促进经济发展,将资源优势转化为经济优势
- D. 滇铜质量好于中国其他地区,云南作为贡品上供

2. 关于滇铜京运路线的选择,下列说法正确的是

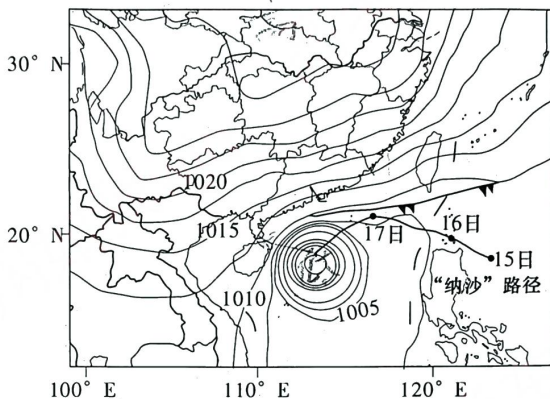
- A. 陆路运输路段因为地形平坦,运输灵活
- B. 铜料珍贵,确保铜料运输安全
- C. 促进沿线经济发展
- D. 绝大部分采用水路,因为运量大,运价低

国卷)

3. 影响当时娜姑城市繁盛的主导区位因素为

- A. 商业贸易 B. 交通 C. 矿产资源的开发 D. 地形

2022年10月17日,台风“纳沙”正在南海以偏西路径移动并不断增强,18日凌晨最强可达强台风级,但19日开始迅速减弱并消亡。与以往单一台风不同的是,此次“纳沙”携手冷锋,没能缓解长江流域自夏季以来的干旱,10月18日16时湖南、江西等多地还发布火灾红色预警。下图为2022年10月18日8时海平面气压(单位:hPa)图。读图,完成4~6题。



4. 关于冷锋对台风“纳沙”的影响,解释合理的是

- A. 相互独立的天气系统,对彼此影响不大
B. 不影响台风强度,但影响路径和范围
C. 影响台风强度和移动路径,不影响范围
D. 影响台风强度、移动路径和活动范围

5. 关于图中台风“纳沙”在图示北部风力最强,解释合理的是

- A. 大陆上高压和冷锋初期会增强台风北部风力
B. 台风北部等压线密集,风力大,与冷锋和大陆高压无关
C. 大陆高压和冷锋对台风风力始终起增强作用
D. 冷锋和大陆高压始终对台风阻挡作用明显,风力增强


6. 长江流域自夏季以来到“纳沙”发生时,受长时间干旱影响最大的经济作物是

- A. 茶叶、大豆 B. 茶叶、柑橘 C. 油菜、柑橘 D. 亚麻、柑橘

日本农业机械化水平高,居世界领先水平,水稻种植实现全过程自动化,水稻育种完全在工厂进行,发芽后移进温室大棚培育,等秧苗长好后用插秧机栽种在用秸秆制成的纸膜上,纸膜可以40~50天自动降解,水稻成熟后再根据需要使用不同规格的联合收割机收割。下图为水稻育种自动化设备和铺纸膜插秧的场景图。据此完成7~9题。



水稻自动化播种设备



插秧机纸上插秧图

纸膜

7. 我国早

害是

A. 水灾

8. 稻田的

A. 避光

B. 减少

C. 增强

D. 吸热

9. 日本水

A. 适应

C. 适应

2022

场,余承东

然升起的

为mate4

倒而千年

品,同时

te50发布

10. 余承东

A. 避

C. 产

11. 下列引

A. 耐

C. 叶

12. “无人

订购

尤其

宾馆”

①能够

客带

和私密

A. ①

13. 2023

业协会

的二十

民营企

营经营

①作为

动Q

义经济

A. ①

中学;
联合命题

为必考题,43
时量 150 分

项中,只有一

的窘境,朝廷
模,京运之铜
上船毁铜沉事

D 地形
增强,18日凌晨
不同的是,此次
时湖南、江西等
压(单位:hPa)


济作物是
D. 亚麻、柑橘
1 动化,水稻育秧
栽种在用秸秆制
用不同规格的联
据此完成 7~9



7. 我国早稻如果采用工厂化育秧技术,和传统育秧相比,可以显著减少影响的自然灾害是
A. 水灾 B. 高温干旱 C. 台风 D. 低温冷害
8. 稻田的纸膜采用深色,下列关于水田铺纸膜的作用的说法,错误的是
A. 避光,抑制杂草生长
B. 减少农药的使用,提高土壤质量
C. 增强水稻的光合作用,水稻增产
D. 吸热性能高,提高土壤温度,利于水稻生长

9. 日本水稻联合收割机有很多大小不同规格,其制造目的是
A. 适应日本的地形 B. 满足不同的消费能力
C. 适应不同的气候 D. 适应不同农民消费者喜好

2022年9月6日14点30分,华为mate50发布会现场,余承东介绍华为“昆仑精神”,其宣传海报中是一轮跃然升起的金色光环,与巍峨的山峰交相辉映。2020年华为mate40发布会上介绍“生而千年不死,死而千年不倒,倒而千年不朽”的“夏日绿色胡杨”与“秋日金色胡杨”产品,同时说明海外市场只介绍产品颜色。右图为华为mate50发布会海报。据此完成10~11题。



10. 余承东在海外发布会只介绍产品颜色,没有介绍胡杨精神,下列原因合理的是
A. 避免与国外品牌销售广告冲突 B. 海外市场缺少文化底蕴
C. 产品市场有地域文化差异 D. 因时间紧张删减演讲内容

11. 下列关于胡杨的生长习性的叙述,正确的是
A. 耐旱、喜湿、不耐盐碱 B. 耐旱、耐寒、耐盐碱
C. 叶子退化为刺、叶面有蜡质 D. 喜高温、高湿、耐盐碱

12. “无人宾馆”无人经营,通过线上验证身份及订单信息后发送密码到订购人的手机,订购人即可自助入住。作为一种新兴业态,它操作方便、私密性好,受到许多顾客尤其是年轻顾客的喜欢,但也可能成为不法分子实施犯罪行为的场所。对于“无人宾馆”的认识,下列说法正确的是

①能够以创业带动就业,国家应给予财政补贴
②节约了经营者的人力成本,给顾客带来方便
③存在一定的安全隐患,有关部门须依法加强监管
④因其便利性和私密性的特点,有效提高了价值

- A. ①③ B. ①④ C. ②③ D. ②④

13. 2023年1月27日,Q市隆重举行民营经济发展大会,千余名企业家、金融机构和行业协会负责人等以及市县两级四套班子领导等在主分会场。会议深入学习贯彻党的二十大精神 and 习近平总书记关于促进民营经济发展重要指示精神,发布了支持民营企业发展的“1+1+N”政策体系,并聘任了“招商引才顾问”。该市高度重视民营经济发展的原因在于

①作为非公有制经济,民营经济是社会主义经济制度的基础
②民营经济对于推动Q市经济实现高质量发展有重要意义
③壮大民营经济是不断发展壮大社会主义市场经济的重要途径
④民营经济对于增加国家税收、促进就业创业的意义重大

- A. ①③ B. ①④ C. ②③ D. ②④

文科综合试题 第3页(共14页)

14. 党的
来。”
提出
①是
境变
国的
A. ①
15. 2022
性促
域开
义,有
①走
供应
主之
A. ①
16. 上海

堂:
时
关

该留
①关
映制
④网
A. ①

17. 2022
气应
研判
一方
①加
优质
为中
A. ①

18. 2019
不断
法问
人机

14. 党的二十大报告指出,“把实施扩大内需战略同深化供给侧结构性改革有机结合起来。”这是党中央基于国内外发展环境变化和新时代新征程中国共产党的使命任务提出的重大战略举措。这一举措

①是应对外部风险和冲击、稳定国内经济运行的有效途径✓ ②是积极应对国内外环境变化、增强发展主动性的长久之策✓ ③是实现高质量发展、建设社会主义现代化强国的治本之策✗ ④体现稳中求进工作总基调,充分发挥国际大循环的主体作用✗

A. ①② B. ①③ C. ②④ D. ③④

15. 2022年11月,国家发改委在北京举办 APEC(即亚太经济合作组织)加强供应链韧性促进经济复苏论坛。中方强调,亚太地区作为世界经济重要增长极,在供应链领域开展的每一项合作都将对世界经济产生重大影响,我们必须坚持开放的区域主义,承担起保障供应链韧性的重要使命。下列符合论坛主题和中方要求的是

①走开放创新之路,推进全球贸易自由化便利化✗ ②走合作发展之路,促进产业链供应链互联互通✓ ③走低碳转型之路,构建绿色可持续供应链体系✓ ④走独立自主之路,完善国内大循环产业链体系✓

A. ①③ B. ①④ C. ②③ D. ②④

16. 上海一网友在领导留言板给市委书记留言:

随着家中父母年纪渐长,买菜烧饭越来越力不从心,虽然各区都有老年食堂示范点,但其服务的范围有限。希望能让社区老年食堂覆盖到每个小区,同时延长服务时间、升级送上门服务,让有需要的老年人能真正享受到福利和关爱,这样也能照顾到早出晚归的上班族。

该留言受到领导重视并转送相关部门研究参考。这一事例表明

①关注并解决现实生活中的问题是网友应承担的责任✗ ②该网友通过社情民意反映制度参与了民主决策✓ ③就扩大老年食堂覆盖面问题提出建议是网友的权利✓ ④网友在反映问题的同时要积极提出解决问题的对策✗

A. ①② B. ①④ C. ②③ D. ③④

17. 2022年11月11日,H省政府办公厅发布紧急通知,要求各地做好降雨降温大风天气应对工作。通知要求各地各部门要高度重视,坚决克服麻痹松懈思想,加强会商研判和信息发布;各级领导干部要主动谋划,超前部署,坚决扛起“促一方发展、保一方平安”政治责任,坚决守护好人民群众生命财产安全。这表明该省政府

①加快转变职能,简政放权,建设服务型政府✗ ②切实履职尽责,为社会发展提供优质公共服务✓ ③履行组织经济建设和推进生态文明建设的职能✗ ④坚持以人民为中心的思想,切实维护人民利益✓

A. ①③ B. ①④ C. ②③ D. ②④

18. 2019年,全国人大常委会法工委建立了发言人机制。三年多来,法工委发言人机制不断健全完善,积极发布立法信息,定期举办法工委发言人记者会15次,就重大涉法问题不定期对外发声24次……取得良好的社会效果和法律效果。法工委发言人机制的建立和完善,能够

改革有机结合起
党的使命任务

- ①进一步拓展全国人大闭会期间的信息公开渠道✓②增强人大立法工作透明度,更好回应社会关切✓③更好坚持中国共产党的领导和民主集中制原则✗④推动司法公开,促进司法公正,提高司法质效✗

A. ①② B. ①③ C. ②④ D. ③④

及应对国内外环
社会主义现代化强
主体作用✗

19. 网上有个热门话题:读了很多书,但都忘记了,那读书的意义在哪里?孰不知,你读过的每一本书都绝非无用,它会穿透你的血肉,融入你的骨髓,塑造你的气质,提升你的修养,丰富你的德行。这告诉我们

①文化对人的影响是润物细无声的,具有潜移默化的特点✗②优秀文化能够丰富人的精神世界,促进人的全面发展✓③文化对人的影响穿越时空的局限,具有深远持久的特点✗④优秀文化能够增强人的精神力量,激励人们砥砺前行✓

A. ①② B. ①③ C. ②④ D. ③④

加强供应链韧
极,在供应链领
开放的区域主
要求的是

20. 近年来,深圳市妇联坚持儿童优先理念,深化实施“家家幸福安康工程”,在全市范围内开展寻找“最美家庭”活动,挖掘、传播蕴藏在“最美家庭”中的良好家风,多措并举加强未成年人思想道德建设工作,带动少年儿童向上向善。由此可见,加强未成年人思想道德建设

①要深入推进家庭美德、个人品德建设✓②必须站在理想信念这个制高点上,高扬主旋律✗③有利于培育少年儿童的好思想、好品行、好习惯✓④要移风易俗、弘扬时代新风,抵御腐朽落后文化✗

A. ①② B. ①③ C. ②④ D. ③④


路,促进产业链
走独立自

②④

都有老年食
每个小区,同
受到福利和

21. 右面漫画《真话越讲越简单,假话越讲越复杂》告诉我们

A. 任何真理都是相对于特定的过程来说的
B. 对同一确定对象的认识,真理只有一个
C. 真理在一定条件下可以转化为谬误
D. 真理都具有社会历史性和直接现实性



真话越讲越简单
假话越讲越复杂

22. 2022年11月11日,国务院联防联控机制综合组发布了进一步

优化疫情防控工作的二十条措施。基于次密接的阳性检出率大概是3.1/10万、中风险区的阳性检出率为3/10万的评估数据,对第九版防控方案进行了调整和优化,作出不再判定次密接者、取消中风险区的判定。二十条措施的优化调整

①体现了辩证否定观的实质是扬弃✓②坚持了辩证法的革命批判精神✓
③看到了发展是量变和质变的统一✗④做到了两点论和重点论相统一✓

A. ①② B. ①④ C. ②③ D. ③④

过社情民意反
网友的权利✓

雨降温大风天
想,加强会商
一方发展、保

政府
社会发展提供
坚持以人民

②④

发言人机制
次,就重大涉
法工委发言

23. 从“北大荒”到“北大仓”,几代拓荒人在这里战天斗地,铸就形成了艰苦奋斗、勇于开拓、顾全大局、无私奉献的北大荒精神。在该精神的指引下,一代代农垦人在这里挥洒青春,用汗水和热血谱写了可歌可泣的拓荒史诗,将偏僻、荒蛮、寒冷的“北大荒”变成了富饶的“北大仓”,成为热滚滚的“中国饭碗”代名词。材料说明,实现人生价值要

①树立共产主义远大理想,坚持正确价值观的指引✗②站在人民立场上作出正确的价值判断和价值选择✓③立足社会实践,在自己的工作岗位上埋头苦干✓④在保证个人利益的前提下为国家和社会作出贡献✗

A. ①③ B. ①④ C. ②③ D. ②④

24. 《礼记·檀弓》中孔子听闻“仲子舍其(嫡)孙而立其(庶)子”时说“否! 立孙”。《诗经·小雅》针对周幽王舍弃嫡子宜臼册立伯服提出批评, 认为“赫赫宗周, 褒姒灭之”。材料表明春秋时期
- A. 孔子倡行禅让制反对世袭制
 B. 大国争霸导致“礼崩乐坏”
 C. 嫡长子继承制受到社会推崇
 D. 五经旨在规范贵族等级秩序
25. 《汉书·董仲舒传》载: 董仲舒欲借灾荒向汉武帝进言, 拟好的奏折被仇人偷走献给武帝。武帝使群臣议此奏章, 群臣大加指责。董仲舒差点儿因此遭杀身之祸, 从此不敢言灾异。由此可见, 董仲舒倡言“天人感应”意在
- A. 限制君权
 B. 推进思想大一统
 C. 拯救灾荒
 D. 强化君主专制
26. 下面是英法从敦煌莫高窟藏经洞盗走的唐代文物。
- | 被盗文物 | | 现存地 |
|-----------------|---------------|------------|
| 文物 | 其中的古代文字标识 | |
| 9 世纪日历印本(残片) | 上都(长安)东市大刁家大印 | 英国伦敦博物院图书馆 |
| 861 年印本《新集备急灸经》 | 京中李家于东市印 | 法国巴黎国家图书馆 |
- 上述两件文物可以佐证 9 世纪
- A. 长安东市雕版印刷业的发展
 B. 英法从中国窃取了大量的文物
 C. 唐都成为世界文化交流中心
 D. 丝绸之路沿线成为外商聚集地
27. 日本学者沟口雄三指出, 李贽完成了从过去的、“人的道德本性的自然”, 向“包含着欲望的自然”的转换, 也实现了“理”由个体安身立命(道德生活)的绝对规定性向作为调节社会欲望的机能的转换。这种解读肯定了李贽
- A. 主张是非标准依照时代变化而变化
 B. 穿衣吃饭是“人伦物理”的主张
 C. 反对君主专制倡导经世致用的主张
 D. 不与道学家同流合污的不羁性格
28. 英国议会对政府提出发动战争的议案进行表决时, 追求商业机会的议员最终以 271 票对 262 票获胜。可是, “反对派”议员在表决前称即将发动的战争为“鸦片战争”。由此可见, “鸦片战争”的说法
- A. 阐释了战争是英国为扩大鸦片输出进行的
 B. 是英国人用来讽刺自己政府的
 C. 反映清朝“闭关自守”背逆历史发展潮流
 D. 缘于中英两国的通商纠纷事件
29. 从 1912 年至 1921 年, 荣宗敬与荣德生兄弟所经营的面粉厂不但从无锡拓展到上海、济南、武汉等地, 而且生产能力扩张了 24 倍, 产品远销国外市场。其中, 产品外销主要得益于
- A. 群众性反帝爱国运动的推动
 B. 辛亥革命为民族工业的发展扫除了障碍
 C. 民族工业质量水平超过英法
 D. 列强忙于一战并暂时放松了经济侵略
30. 1937 年 5 月, 陕甘宁边区选举条例规定: “凡居住陕甘宁边区区域的人民, 在选举之日, 年满十六岁的, 无男女、宗教、民族、财产、文化的区别, 都有选举权和被选举权。”这种
- A. 国内
 B. 抗日民
 C. 中共在
 D. “三三
31. 1956 年, 又提出要
- A. 强调“-
 B. 标志着
 C. 反映了
 D. 体现了
32. 克里斯提尼
- A. 摒弃了
 B. 确保雅
 C. 标志雅
 D. 体现雅
33. 意大利哲学
- A. 借上帝之
 B. 意在反对
 C. 最早以“
 D. 反映了人
34. 下面柱状图
- 合图示信息
-
- A. 拥有跨国
 B. 近年大企

！立孙”。《诗
宗周，褒姒灭

坏”
级秩序
仇人偷走献给
身之祸，从此

地
物院图书馆
家图书馆

的文物
聚集地
”，向“包含着
规定性向作

的主张
不羁性格
最终以 271
鸦片战争”。

锡拓展到上
中，产品外

，在选举之
和被选举

- D
- A. 国内两个政权并立局面开始走向结束
 - B. 抗日民族统一战线的正式形成
 - C. 中共在陕甘宁边区实现了彻底的民主
 - D. “三三制”抗日民主政权建立

31. 1956 年，毛泽东提出“社会主义革命的目的是为了解放生产力”。1958 年，毛泽东又提出要把工作重点转移到技术革命和经济建设上去，发出了“我们也要搞人造卫星”的号令。这些表述

- D
- A. 强调“一五”期间工业化必须引进科学技术
 - B. 标志着新中国成立后毛泽东思想已走向成熟
 - C. 反映了党和政府在经济建设方面的“大跃进”
 - D. 体现了人民政府为赶上世界科技水平的努力

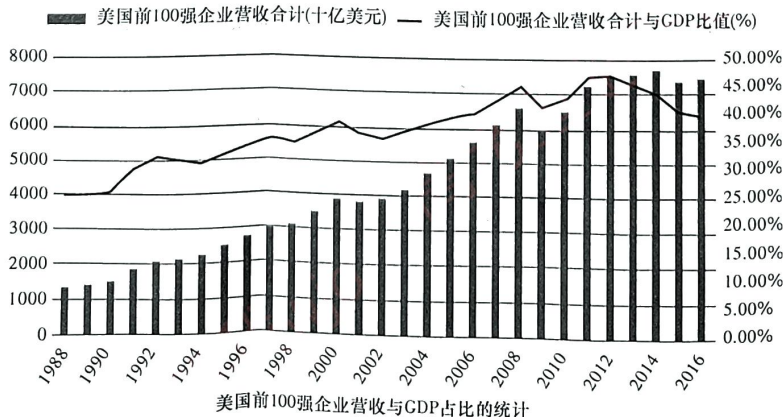
32. 克里斯提尼执政时，根据各人在雅典城和周围乡村中的居住位置，即希腊人所称的

- D
- “选举小区”确定每一个雅典人的公民身份。这种做法
 - A. 摒弃了以贵族家庭为权力中心的传统
 - B. 确保雅典公民对城邦的忠诚
 - C. 标志雅典民主政治进入“黄金时代”
 - D. 体现雅典居民才能当家作主

33. 意大利哲学家米兰多拉 1486 年的讲演稿《论人的尊严》中指出：“(人的)天性要由自己决定，凭借我(上帝)赋予你的自由去发掘……你就像一个完全独立自由的工匠，可以把自己塑造成自己选择的任何样子。”该材料

- A
- A. 借上帝之口阐释了文艺复兴的人文精神
 - B. 意在反对罗马天主教会的禁欲苦行
 - C. 最早以“人的学问”取代“神的学问”
 - D. 反映了人们对教会腐败的强烈抨击

34. 下面柱状图是 1988—2016 年美国前 100 强企业营收与美国 GDP 占比的统计。综合图示信息，最适合的探究结论应是美国



- D
- A. 拥有跨国公司的数量最多
 - B. 近年与俄罗斯竞争愈来愈激烈
 - C. 近年大企业规模越来越大
 - D. 国家垄断资本主义发展的迅猛

文科综合试题 第 7 页(共 14 页)

35. 俄国陀思妥耶夫斯基在他的美国社会与人
- B
- A. 把俄国
 - C. 借助浪

本卷包括
答。第 43~47
(一)必考题

36. 阅读图文材料一、二

材料一 2
犁河谷地，
了独特的

材料二 1
裂隙发育，
零下 30 多
先河分布。



(1)指出土

(2)分析民

35. 俄国陀思妥耶夫斯基在 19 世纪 40 年代以莎士比亚和席勒的作品为模板, 作品彰显了他的美好幻想。几年后, 他把自己的文学榜样又转移到了果戈里身上, 揭示俄国社会与人的秘密, 创作了《穷人》《死屋手记》。这体现了作者
- A. 把俄国废除农奴制当作主要题材
 B. 写作风格从浪漫主义转向现实主义
 C. 借助浪漫思想推动启蒙运动发展
 D. 以现实主义态度批判俄国社会问题

(3) 利用水循环

37. 阅读图文材料
奥地利位
交通枢纽。国
23%。奥地利
多, 国有企业
占其总数的 70
上游产业发展

第 II 卷(非选择题 共 160 分)


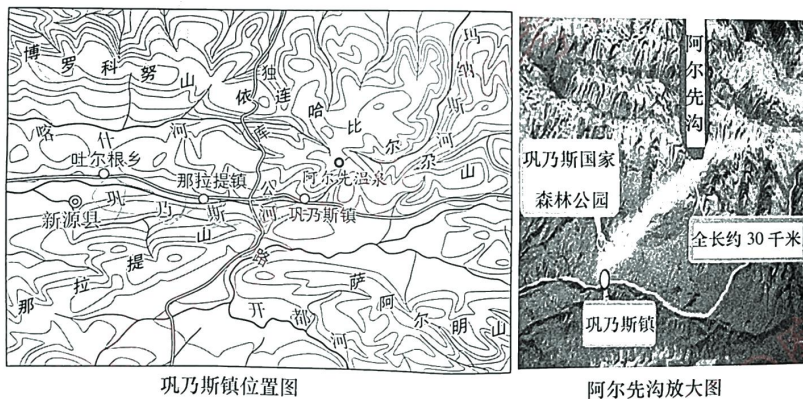
本卷包括必考题和选考题两部分, 第 36~42 题为必考题, 每个试题考生都必须作答。第 43~47 题为选考题, 考生根据要求作答。

(一) 必考题

36. 阅读图文材料, 回答下列问题。(20 分)

材料一 200 多年前, 蒙古族土尔扈特部从伏尔加河流域万里东归, 经中亚进入伊犁河谷地, 后辗转到天山腹地巩乃斯河谷, 河谷中有 140 多条峡谷, 最终他们选择了独特的阿尔先沟定居下来。

材料二 阿尔先沟呈东北—西南走向, 其东北、西北、东南三面是花岗岩山体, 山体裂隙发育, 阿尔先温泉从阿尔先河上游出露地表, 水温 30~60°C, 尽管冬季气温在零下 30 多度, 阿尔先河却终年不冻, 牧民民居多在河谷的西北部斜坡上沿着阿尔先河分布。



- (1) 指出土尔扈特人万里东归所面临的自然环境方面的艰辛。(8 分)
- (2) 分析民居多位于河谷西北斜坡的原因。(6 分)

材料二 国内
以来, 货币政策
期和信心, 经济
市场供求为基

模板,作品彰
身上,揭示俄

向现实主义
国社会问题

生都必须作

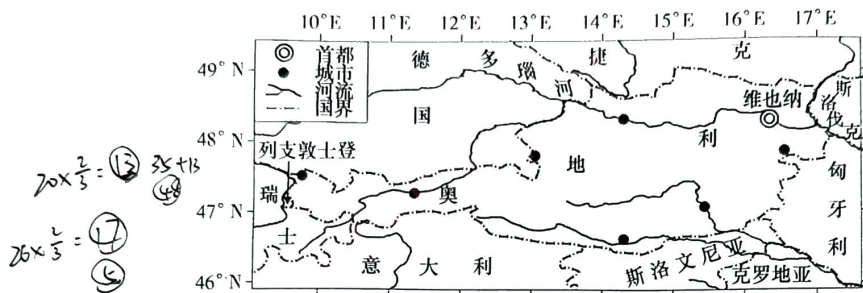
中亚进入伊
终他们选择

山山体,山体
冬季气温在
上沿着阿尔



- (3)利用水循环原理,说明阿尔先河终年不冻的地理过程。(6分)
37. 阅读图文材料,完成下列要求。(26分)

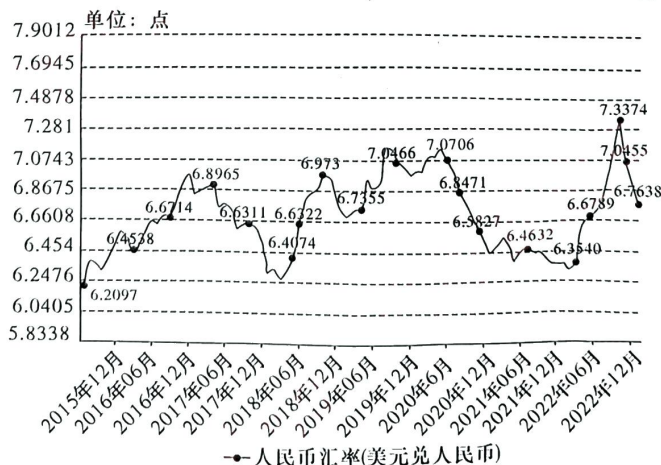
奥地利位于欧洲中部,是第二次世界大战后宣布的永久中立国,是欧洲重要的交通枢纽。国土面积仅 8.4 万 km²,人口 902.8 万人,目前 60 岁以上人口占总数的 23%。奥地利是二战后老牌工业国,矿产资源消耗殆尽,科技发达,科研教育投入多,国有企业控制了 95% 的基础工业和 85% 以上的动力工业,产值及职工人数均占其总数的 70%,奥地利工业企业国有化程度较高。多年来,奥地利工业坚持在向上游产业发展,现已成为世界少数顶尖上游产业化国家。下图示意奥地利位置。



- (1)说明奥地利第二次世界大战后工业发展的有利条件。(8分)
- (2)指出奥地利工业企业国有化程度较高的主要表现。(6分)
- (3)推测近年来奥地利在工业发展中面临的突出问题。(6分)
- (4)简述奥地利多年来工业坚持向上游产业发展的益处。(6分)

38. 阅读材料,完成下列要求。(14分)

材料一 下图为 2015 年 12 月—2022 年 12 月人民币汇率变化趋势。



材料二 国内经济大盘稳定、稳中向好,是汇率稳定最大的基本面。2022 年 5 月份以来,货币政策和财政政策等一揽子政策和接续措施落地见效,有力稳定了市场预期和信心,经济回升向好。市场在人民币汇率形成中起决定性作用。我国实行以市场供求为基础、参考一篮子货币进行调节、有管理的浮动汇率制度,汇率市场化

改革不断深
定,人民币
高,汇率弹

我国汇
并在较短时
汇率超调,
提供坚实保

(1)结合材
经验。(

39. 阅读材料,
悠悠万
近年来
群众路线

直接、最现
建立自

假肢安装
去几年该
饱含为民情

该省
研究,形成
正在以此
落实。

结合材料
民”理念的

40. 阅读材料
材料一

的文化年
围中,让我
烩”,荟萃
上吉兔呈

春晚
款节目会

求;春晚不
化的友人

不错,但在
节目,放在

改革不断深化,充分发挥市场和政府“两只手”的作用。人民币汇率由市场供求决定,人民币对美元汇率中间价形成机制不断完善,规则性、透明度和市场化水平提高,汇率弹性明显增强,较好发挥了调节宏观经济和国际收支自动稳定器功能。

我国汇率形成机制经受住了多轮外部冲击的考验,人民币汇率均能灵活调整,并在较短时间内恢复均衡,有效发挥了抵御外部冲击的“缓冲垫”作用。面对多轮汇率超调,监管部门积累了丰富的应对经验,能够有效管理市场预期,为汇率稳定提供坚实保障。

(1)结合材料一,运用经济生活的相关知识,解读图中的经济信息。(4分)

(2)结合材料二,运用经济生活的相关知识,探讨我国保持人民币币值稳定运行的经验。(10分)

39. 阅读材料,完成下列要求。(12分)

悠悠万事,民生为大。

近年来,H省政协始终把“人民政协为人民”印刻在工作职责的时时处处,将党的群众路线贯穿于政协工作全过程,积极协助党和政府解决好人民群众最关心、最直接、最现实的利益问题,接地气、扬正气、聚人气。

建立留守老年人关爱服务工作机制,优化听障儿童救治政策,改善肢体残疾人假肢安装配置状况,提高学校科学教育、劳动教育、心理健康教育质量……翻开过去几年该省政协提案目录,一件件提案、一条条建议紧扣时代脉搏,聚焦民生关切,饱含为民情怀。

该省政协围绕菜价居高不下的问题深入调研,反复交换意见、碰撞思想、比较研究,形成《H省蔬菜市场价格稳控调研报告》,得到省委省政府认可。相关部门正在以此报告为重要参考,制定具体操作方案,并邀请省政协全程参与、全年助推落实。

结合材料,运用政治生活的相关知识,阐述H省政协是如何落实“人民政协为人民”理念的。(12分)

40. 阅读材料,完成下列要求。(26分)

材料一 伴随着中央广播电视总台2023年春节联欢晚会落下帷幕,这一全球华人的文化年夜饭,有传承有创新,亮点频现、精品迭出,在“欢乐吉祥、喜气洋洋”的氛围中,让我们看到春晚创作者对创新的执着追求。春晚节目还是一如既往的“大杂烩”,荟萃歌舞、戏曲、相声、小品、武术、杂技、少儿等多种类型节目,向全球华人送上吉兔呈祥的美好祝愿。

春晚节目的“大杂烩”效应,正是春晚独特的魅力。春晚节目种类繁多,总有一款节目会让你喜欢。它不但可以满足不同的受众群体,也可以反映不同的文化需求;春晚不但给了多种艺术形式同台竞技的机会,也给了全球华人以及爱好中国文化的友人一场文化盛宴,而这场盛宴,正是“大杂烩”给出的独特效果。每个节目都不错,但任何一个节目都难以支撑起一场春晚,众多的节目,甚至是风格大不同的节目,放在春晚上都不违和,反而给了世界一道独特的文化大餐。

文科综合试题 第10页(共14页)

材料二 近日,我国申报的“中国传统制茶技艺及其相关习俗”列入联合国教科文组织人类非物质文化遗产代表作名录。习近平总书记就此作出重要指示强调,要扎实做好非物质文化遗产的系统性保护,更好满足人民日益增长的精神文化需求,推进文化自信自强。2023年春晚以“非遗+春晚”模式为优秀传统文化融入当代审美提供了新形式。戏曲节目《华彩梨园》中的《踏伞行》选段,让观众首次在春晚舞台上领略到非遗莆仙戏声腔浓郁独特的地方风韵。杂技《龙跃神州》展现了历史悠久的传统杂技中幡;歌曲《百鸟归巢》首次选取南音著名的大谱,曲调古朴幽雅、委婉深情,与现代歌手的演唱有机融合。

文艺要服务人民,就必须积极反映人民生活。2023年春晚邀请了很多普通人参演,比如歌曲《早安,阳光》的表演者都是各行各业的百姓歌手;歌曲《小哥》同样来自百姓故事,欢快的旋律和朴实的歌声,引起观众共鸣。奔忙在城市之中的快递小哥、外卖小哥、司机小哥……他们的坚守与担当,让我们感受到平凡的伟大。节目里同样反映了社会追求的价值观目标,也反映了人民大众追寻的梦想。

(1)春晚节目的“大杂烩”成就了一道独特的文化大餐。结合材料一,运用整体与部分的关系原理加以说明。(12分)

(2)结合材料二,运用文化强国和文化自信的相关知识,说明春晚的成功实践带给文化强国建设的启示。(10分)

(3)结合材料,综合运用所学知识,以“新时代青年的坚守与担当”为主题撰写一篇短评。(4分)

要求:①围绕主题,观点明确;②论证充分,逻辑清晰;③学科术语使用规范;④总字数在150字左右。

41. (25分)阅读材料,完成下列要求。

材料一 清代是旧中国茶叶贸易的鼎盛时期。茶叶出口量的增多使种茶有利可图,福建、浙江、广西、广东、安徽、湖南、湖北、四川、云南等农民纷纷调整种植结构,扩大茶叶种植范围,改进制茶技术。当时的茶叶运输主要依靠人担、畜驮、船运,逐渐形成从生产到外销的一整套运输、金融机制。以晋商为例,拥资二三十万元至百万元的晋商,每春来武夷山,“将款及所购茶单,点交行东,恣所为不问,茶事毕,始结算别去”。江西河口镇、吴城镇,湖北汉口、樊城、老河口,河北张家口等地因茶叶长途贩运的发展而成为繁华的市镇。

——摘编自陶德臣《论清代茶叶贸易的社会影响》

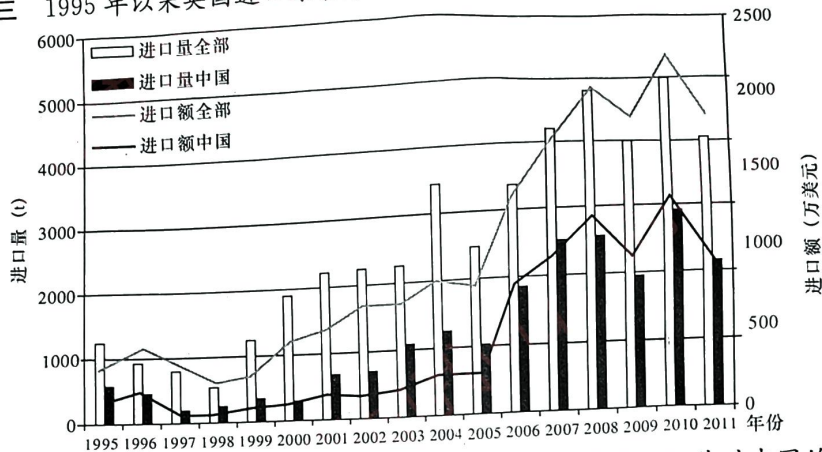
材料二 中英茶叶贸易始于17世纪。18世纪,中英茶叶直接贸易迅速发展,贸易规模扩大,到该世纪末英国东印度公司取得了华茶出口贸易垄断权(1834年被废除),中英茶叶贸易进入了鸦片战争前的高峰期。鸦片战争胜利后,英方在中英贸易关系中表现得越来越强势,逐渐占据了主导权。英方港督、领事,以前所未有的态势与中方两广督抚以及上海道等地方官员频繁交涉,清政府固守的华夷大防也

文科综合试题 第11页(共14页)

有所松动。尽管茶叶贸易的中心地位开始动摇,但《五口通商章程》在商定海关验货方式时还专门将茶叶作为代表性商品提出。

——摘编自刘礼堂、陈韬《清代茶叶贸易视野下的中英关系——以贸易博弈为中心的考察》

材料三 1995年以来英国进口绿茶情况



——摘自张丽艳、来文平《英国茶叶市场格局变化及其对中国的启示》

(1) 根据材料一并结合所学知识,概括清代茶叶贸易所体现的城镇商业繁荣景象。(12分)

(2) 根据材料二并结合所学知识,从茶叶贸易的角度简析鸦片战争前后中英关系的变化。(8分)

(3) 根据以上材料,说明当代中国茶叶扩大对英国出口的机会和挑战。(5分)

42. (12分) 阅读材料,完成下列要求。

材料 实现民主政治是近代社会人类政治文明发展的趋势,是不可阻挡的历史潮流,也是世界上大多数国家追求的政治目标。它在现实中的应用就是要解决权力的来源、权力运行过程中民众参与和监督的问题。需要把民主选举、民主参政和民主监督三者当作一个有机的整体,并且不是无限制的,有其特定的形式和范围。如果无限地把它扩大,反而会产生相反的效果,导致行政效率低下和政治混乱。

——摘编自张红锋《论近代民主政治的内涵、应用形式及其意义》

根据材料,结合近代欧美国家(除英国外)的政治发展,展开论述。(要求:观点明确,史论结合,论证充分,表述清晰)(12分)

1787
1787

(二) 选考题(请考生从2道地理选考题、3道历史选考题中每科任选一题作答。如果多做,则每学科按所做的第一题计分。)

43. [地理——选修3:旅游地理] 阅读图文材料,完成要求。(10分)

旅游线路是指为了使旅游者能够以最短的时间获得最大的观赏效果,由旅游经营部门利用交通线串联若干旅游点或旅游城市(镇)所形成的具有一定特色的合

理走向。下表示意某旅行社为山东省青岛某大学学生旅游团设计的暑假青海旅游线路。

时间	行程
第一天	14:00 乘火车从青岛前往青海省西宁市
第二天	17:43 抵达西宁火车站,住西宁市
第三天	上午沿旅游公路向南出发,游览藏传佛教格鲁派第一大寺院——塔尔寺,下午继续南下到贵德,途中游览拉鸡山、贵德丹霞地貌,住贵德农家乐庄园,品尝清真农家宴
第四天	上午沿旅游公路向西北出发,先游黄河大桥,后青海湖(东岸),下午北行游金银滩草原,原子城——西海镇,住西海镇
第五天	上午沿旅游公路西行游青海湖东北岸的沙岛,下午东行返回西宁市,住西宁市
第六天	上午在西宁市城西参观青海省博物馆,9:00 东北行至互助县参观土族互助风情园,品尝土族特色美食,下午返回西宁市,剩余时间安排自由活动,22:55 乘火车返程
第七天	04:51 抵达青岛

请你对该旅行社为山东省青岛某大学生旅游团设计的暑假青海旅游线路的合理性做出评价。

44. [地理——选修 6:环境保护]阅读图文材料,完成要求。(10 分)

染料是一种天然的或人工合成的染色物质,都属于有机化合物,不论其可溶与否,都用来使物质染色。到目前为止,世界各国都会生产数百万吨的染料物质,并广泛应用于生产和生活之中。染料在给人们带来亮丽色泽的同时,给人类和生态环境也带来了一定的危害。

简述染料的广泛应用对人类与生态环境产生的危害。

45. [历史——选修 1:历史上重大改革回眸]阅读材料,完成下列要求。(15 分)

材料 安史之乱后,农户多有逃亡,“籍账之间,虚存户口,调赋之际,旁及亲邻,此弊因循,其事自久”。由此而随意科派、摊收亲邻之事随处可见。杨炎制定两税法,“户无主客,以见居为簿;人无丁中,以贫富为差”,即只要在当地有资产、土地,就算当地人,上籍征税。“凡百役之费,一钱之敛,先度其数而赋于人,量出以制入。……其田亩之税,率以大历十四年垦田之数为准,而均征之。”这虽体现了一定的税率标准和依率课征的精神,在一定程度上防止了因官僚兼并土地所造成的财政收入减少,但因并入丁租、庸调等难以固定,摊到每个百姓身上的税额多少由地方政府说了算,这为地方政府和官吏随意开征提供了极大的便利性。

——摘编自朱红琼《唐朝财政制度演变对国家治理能力的影响》

文科综合试题 第 13 页(共 14 页)

假青海旅游

完——塔尔
主贵德农家

岸),下午北

西宁市,住

参观土族
安排自由

路的合理性

论其可溶与
染料物质,并
人类和生态

分)

及亲邻,此
制定两税法,
土地,就算
出以制入。
了一定的税
或的财政收
少由地方政

力的影响》

(1)根据材料并结合所学知识,分析唐政府实施两税法的原因。(6分)

(2)根据材料并结合所学知识,评价两税法对赋税的改革。(9分)

46. [历史——选修3:20世纪的战争与和平]阅读材料,完成下列要求。(15分)

材料 1940年9月,近卫内阁一方面加速在中国大陆的扩张,另一方面与德意两国签署“三国公约”,共同承诺反对任何新加入西方同盟的国家。为了保险起见,1941年4月日本又与苏联签订了一项中立条约。这也就使日本人得以抽调兵力进行南进扩张作战。用于南进的兵力是11个师,在满洲保留了13个师。此外,在中国大陆则有22个师。7月,日军侵占法属印度支那。2天后,美国罗斯福总统冻结了所有日本人在美国的财产,英国和荷兰政府也迅速作出同样的行动。于是,这些国家和日本的贸易遂均告中断,尤以石油为主。

——摘编自[英]李德·哈特《第二次世界大战史》

(1)根据材料并结合所学知识,分析导致日军南进时在满洲、中国大陆留兵众多的原因。(7分)

(2)根据材料并结合所学知识,谈谈你对美国“冻结了所有日本人在美国的财产”的看法。(8分)

47. [历史——选修4:中外历史人物评说]阅读材料,完成下列要求。(15分)

材料 在进化论支持下的19、20世纪之交的中国士人,不但要求变趋新,而且愈新愈好。不但要学西方,而且要学西方“最新最好”的东西,于是君主立宪制不吸引人了,要学在西方也更新的共和制。……陈独秀在《新青年》上说得很明白:要拥护那德先生,便不得不反对孔教、礼法、贞洁、旧伦理、旧政治。要拥护那赛先生,便不得不反对旧艺术、旧宗教。要拥护德先生又要拥护赛先生,便不得不反对国粹和旧文学。

——摘编自许纪霖《20世纪中国思想史论》

(1)根据材料并结合所学知识,说明陈独秀提出“拥护德先生又要拥护赛先生”的原因。(9分)

(2)根据材料并结合所学知识,简析陈独秀拥护“德先生、赛先生”并反对“国粹和旧文学”的历史意义。(6分)

关于我们

自主选拔在线是致力于提供新高考生涯规划、强基计划、综合评价、三位一体、学科竞赛等政策资讯的升学服务平台。总部坐落于北京，旗下拥有网站（[网址: www.zizzs.com](http://www.zizzs.com)）和微信公众平台等媒体矩阵，用户群体涵盖全国 90% 以上的重点中学师生及家长，在全国新高考、自主选拔领域首屈一指。

如需第一时间获取相关资讯及备考指南，请关注**自主选拔在线**官方微信号：**zizzsw**。

