

高三文科综合

考生注意：

1. 本试卷分选择题和非选择题两部分。满分 300 分，考试时间 150 分钟。
2. 答题前，考生务必用直径 0.5 毫米黑色墨水签字笔将密封线内项目填写清楚。
3. 考生作答时，请将答案答在答题卡上。选择题每小题选出答案后，用 2B 铅笔把答题卡上对应题目的答案标号涂黑；非选择题请用直径 0.5 毫米黑色墨水签字笔在答题卡上各题的答题区域内作答，超出答题区域书写的答案无效，在试题卷、草稿纸上作答无效。
4. 本试卷主要命题范围：高考范围。

一、选择题：本题共 35 小题，每小题 4 分，共 140 分。在每小题给出的四个选项中，只有一项是符合题目要求的。

2021 年 12 月 31 日新疆首家特斯拉中心在乌鲁木齐市正式开业，该中心也是特斯拉在西北地区的第 11 家店。特斯拉是一家美国电动车及能源公司，产销电动车、太阳能板及储能设备，总部位于硅谷，已在上海外自贸试验区临港新片区建设特斯拉上海超级工厂，总投资达 500 亿元（资金主要来源于融资），集研发、制造、销售等功能于一体。截止到 2021 年 11 月 30 日，特斯拉上海超级工厂在 2021 年度交付量已突破 30 万辆，是上海有史以来最大的外资制造业项目。据此完成 1~3 题。

1. 特斯拉在上海建厂的最主要原因是上海

- A. 汽车市场广阔，交通便利
B. 汽车制造技术先进
C. 配套产业完善，资金充足
D. 自然地理环境优越

2. 特斯拉上海超级工厂暂不生产电芯（充电电池去除保护电路板就是电芯），其原因是电芯

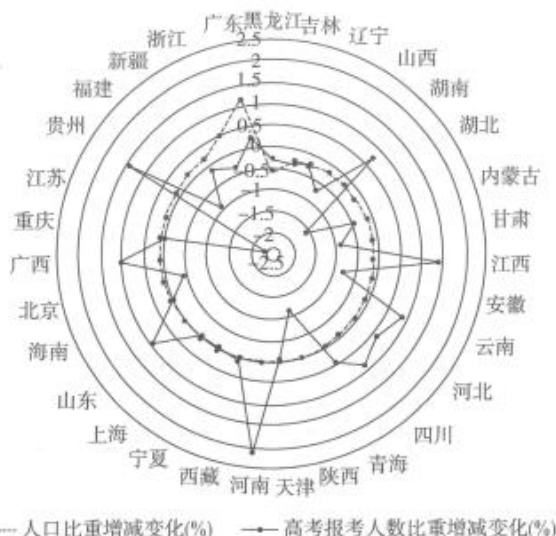
- A. 技术要求高
B. 对环境污染大
C. 消耗能量大
D. 工厂占地广

3. 特斯拉等电动汽车公司在新疆等西北地区开设门店，将有利于当地

- A. 加快城市化的进程
B. 提高公共服务水平
C. 缩短外出旅行时间
D. 实现节能减排目标

各地高考人数的变化在一定程度上能体现我国人口的变动。下图示意第六、七两次全国人口普查各省人口占全国人口比重增减变化，以及与 2011 年相比，2021 年各省高考报名人数占全国报考人数比重增减变化（注：港澳台数据暂缺）。据此完成 4~6 题。

【高三文综 第 1 页（共 12 页）】



4. 与 2011 年相比,2021 年高考报考人数占比增减幅度最大的是
A. 河南 B. 江苏 C. 贵州 D. 广东
5. 与该省 2021 年高考报名人数相关性最大的是该省
A. 2020 年人口总数 B. 2003 年前后人口迁移数
C. 经济发展水平 D. 2003 年前后出生人口数
6. 若全国高考人数变化情况与该省相似,则可能导致
A. 教育机构发展萎缩 B. 男女性别比失衡
C. 学生高考压力增大 D. 人口老龄化缓解

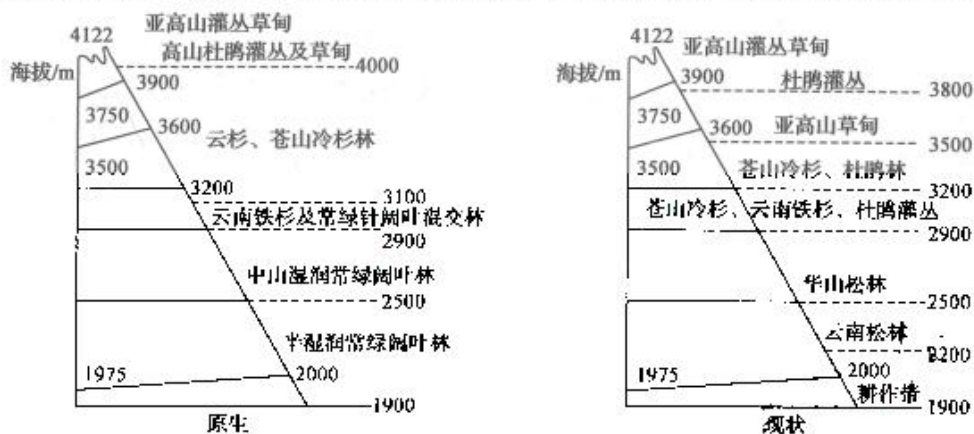
塞舌尔是一个由群岛组成的国家,位于印度洋的中西部,邻近赤道,其中马埃岛是塞舌尔群岛中最大岛屿,属花岗岩岛。岛上物种独特、研究价值高,如塞舌蛙与印度西部紫蛙为同一类物种,为板块漂移学说提供了佐证。马埃岛全岛有一条环行公路,加上横穿东西的 5 条蜿蜒的山道便构成了它整个的地面交通网络。下图示意马埃岛位置。据此完成 7~9 题。



7. 马埃岛属于
A. 珊瑚岛 B. 大陆岛 C. 沉积岛 D. 火山岛

8. 首都维多利亚市降水较少的月份最可能是
A. 12月—次年2月 B. 3—5月 C. 6—8月 D. 9—11月
9. 影响马埃岛环岛公路布局的主要区位因素是
A. 气候、人口分布 B. 河流、海港分布
C. 景点、机场分布 D. 地形、城市分布

川东—鄂西、川西—滇西北、滇东南—桂西是中国种子植物特有属的三大分布中心。云南大理苍山位于横断山系东缘的滇西北地区。下图为苍山东坡植被垂直分布格局变化图。据此完成10~11题。



10. 苍山东坡现状中,与亚高山草甸地区相比,云南松林地区
①热量条件较好 ②光照较充足 ③水土流失较严重 ④土壤有机质较高
A. ①③ B. ②③ C. ③④ D. ②④
11. 川西—滇西北地区相较于其他两大中心植物更为丰富多样,关键在于其
A. 纬度位置最低 B. 水热组合好
C. 相对高度最大 D. 区域面积最大
12. 甲、乙是正常品,且互为替代品和富有需求弹性。如果用 P 表示乙商品价格, Q 表示乙商品数量, D_1 、 D_2 表示乙商品需求,不考虑其他因素,下列能够直接引起乙商品出现图中变动的是
A. 乙商品产量下降
B. 乙商品价格上涨
C. 消费者偏好乙商品
D. 甲商品薄利多销
-
13. 胡润研究院发布的《2020 胡润慈善榜》显示,房地产是上榜慈善家最多的行业,占比达到 50%。中国恒大集团董事长 62 岁的许家印以 28 亿捐赠额首次成为中国首善。榜单前五名中,有 9 席企业家所在行业涉及房地产。下列对这一数据的分析,合理的有
①说明了房地产行业对高额利润的追求有所淡化
②彰显房地产企业经营者承担社会责任意识增强
③侧面反映出近年来我国房地产行业得到较好发展
④推断出我国房地产行业一直保持利润率最高的现实
A. ①③ B. ①④ C. ②③ D. ②④
14. 除了继续执行制度性减税政策、延长部分阶段性政策执行期限,2021 年我国还将小规模纳税人增值税起征点从月销售额 10 万元提高到 15 万元,对小微企业和个体工商户年应纳税所得额不到 100 万



元的部分,在现行优惠政策基础上,再减半征收所得税。这告诉我们

- ①我国积极的财政政策具有连续性和稳定性
- ②我国通过制定合理的分配政策保市场主体
- ③要充分发挥市场在资源配置中的决定性作用
- ④释放资本生产要素活力可以促进非公有制经济发展

A. ①② B. ①④ C. ②③ D. ③④

15. 2021年11月7日,据海关总署发布的数据显示,2021年前10个月,中国货物贸易进出口总值31.67万亿元,比2019年同期增长23.4%。其中,出口总值17.49万亿元,比2019年同期增长25%;进口总值14.18万亿元,比2019年同期增长21.4%。我国取得上述成就的主要原因是

- ①欧美经济快速增长,增加了对我国产品的需求
- ②我国加快发展先进制造业,实体经济力量雄厚
- ③我国经济持续稳定恢复,拉动了进口快速增长
- ④我国营商环境改善,进一步取消市场准入门槛

A. ①③ B. ①④ C. ②③ D. ②④

16. 2021年3月19日,全国县乡两级人大换届选举工作部署会议在北京召开。会议要求,要全面准确介绍代表候选人情况。选举委员会要严格履行法定职责,统筹做好组织介绍代表候选人情况工作,统一组织代表候选人与选民见面活动,见面活动应当灵活多样、讲求实效。上述会议要求

- ①是保障选民知情权、充分发扬民主的必然要求
- ②可以避免选举中出现虚假宣传、贿赂选民的情况
- ③有利于选民在了解候选人的基础上投出理性的一票
- ④旨在通过间接选举凸显我国根本政治制度的优越性

A. ①③ B. ①④ C. ②③ D. ②④

17. 2021年3月15日,国务院召开常务会议,将十三届全国人大四次会议审议通过的《政府工作报告》提出的38个方面44项重点工作,分解到国务院部门和有关地方,要求各地各部门要对照要求,尽快制定本地区本部门具体实施方案,把各项工作往前赶。国务院的上述做法

- ①体现国务院集中统一行使人民当家作主的权力
- ②是在兑现对人大代表和人民群众作出的庄严承诺
- ③体现我国政府坚持对人民负责,积极转变政府职能
- ④是国务院提高行政效率、对全国人大负责的表现

A. ①② B. ①③ C. ②④ D. ③④

18. 习近平主席在第七十五届联合国大会一般性辩论上宣布,中国将向联合国新冠肺炎疫情全球人道主义应对计划再提供5000万美元支持;中国将设立规模5000万美元的第三期中国—联合国粮农组织南南合作信托基金;中国—联合国和平与发展基金将在2025年到期后延期5年……这表明


- ①中国支持联合国发挥积极作用,用行动助力世界共同发展
- ②联合国大会是唯一有权采取行动维护世界和平与安全的机构
- ③我国积极践行人类命运共同体理念,彰显大国的责任与担当
- ④中国在国际社会中的作用得到高度肯定,话语权进一步增强

A. ①③ B. ①④ C. ②③ D. ②④

19. 2021年12月8日,《咬文嚼字》编辑部发布2021年度十大流行语。它们分别是“百年未有之大变局”“小康”“双减”“赶考”“碳达峰、碳中和”“野性消费”“破防”“鸡娃”“躺平”“元宇宙”。2021年十大流行语的评选标准主要表现在三个方面:反映年度特征、坚持价值原则、秉承规范理念。可见,流行语的出现

【高三文综 第4页(共12页)】

- ①是对一定的社会经济和政治的反映 ②最能说明文化随时代亦步亦趋的特点
③有利于创建健康文明的语言环境,弘扬正能量 ④彰显了先进文化对社会发展的推动作用
A. ①② B. ①③ C. ②④ D. ③④
20. 尊敬师长,勤俭持家,邻里和睦……《朱子治家格言》是明末清初理学家、教育家朱柏庐阐明修身治家之道的著作,是古往今来颇受尊崇的启蒙教材。文中,朱柏庐训诫晚辈要节约粮食,勤俭行事,“一粥一饭,当思来之不易;半丝半缕,恒念物力维艰”,更是广为引用的节俭名句。今天,走近古代大家的优秀家训,可以
- ①陶冶人们的思想情操,提高人们的道德素养
②了解古人精神世界,推动优秀传统文化传承发展
③挖掘优秀传统文化内涵,明确文化发展正确方向
④感受传统文化巨大影响,探寻社会健康发展根基
A. ①② B. ①④ C. ②③ D. ③④
21. 习近平总书记看望参加全国政协会议的医药卫生界教育界委员时表示:“我们抗疫斗争再次说明一个道理,在举国体制下,一方有难八方支援,能够集中力量办大事。”重大历史进步都是在一些重大灾难之后,中华民族就是这样在艰难困苦中历练、成长起来的。各个行业,一曲曲惊心动魄的壮歌之后,理清思绪、盘点淬炼,再启程。这表明
- ①矛盾具有斗争性,同一以差别和对立为前提 ②矛盾具有同一性,在一定条件下可以相互转化
③整体是由部分构成,要搞好局部推动整体发展 ④整体统率着部分,要立足整体,树立全局观念
A. ①③ B. ②③ C. ①④ D. ②④
22. 下面漫画《计划与过程》启示我们



计划与过程

- A. 好的计划应做到客观与主观统一 B. 过程的意义大于完美的计划本身
C. 计划必须在曲折中才能得到实现 D. 注重量的积累,促成质变的发生
23. “有院士的专业、战士的勇猛,更有国士的担当”。除国家科学技术进步奖一等奖、白求恩奖章获得者、“改革先锋”“最美奋斗者”外,2020年,钟南山的荣誉簿上又添一枚共和国勋章。“身着白衣,心有缎锦”,这位年过八旬的医者,至今仍在一线出诊与新冠病毒作斗争,面对满满的赞誉,他谦逊依旧,“我不过是一个看病的大夫。”钟南山的事迹启示我们
- ①价值判断和价值选择,往往因人而异 ②要自觉站在人民的立场上作出价值选择
③机遇是实现人生价值的决定性因素 ④要在个人与社会的统一中实现价值
A. ①② B. ①③ C. ②④ D. ③④
24. 东汉灵帝登基时由窦太后临朝听政,其兄长窦武为大将军把持了朝政。灵帝成年后借助宦官除去外戚势力,故宠信十常侍,张让、赵忠等人横征暴敛、卖官鬻爵,其党羽横行乡里、祸害百姓,无官敢管。汉灵帝去世后,十常侍立刻失势,先后被诛杀。这实质上反映出

【高三文综 第5页(共12页)】

- A. 皇帝利用宦官削弱外戚权力
B. 外戚与宦官权力起伏源于君主专制
C. 东汉通过制度建设抑制宦官
D. 外戚和宦官是导致政治黑暗的根源
25. 唐代科举的录取方式较为多样,考生除了可以凭自己的考试成绩录取外,还可以将自己的诗词作品通过“投献”给达官显贵,以求得赏识得以录取;再者如“通榜”,主试者将自己赏识的考生列上名单,录取时甚至可以不必看应试者的试卷就可以定好录取名单。由此可见,唐代科举
- A. 奠定了门阀士族统治的基础
B. 仍属于贵族政治的一部分
C. 尚存有旧时举荐选官的痕迹
D. 完全失去选拔人才的作用
26. 自魏晋南北朝开始,佛道兴盛,儒家势弱。面对这种情况,张载、周敦颐等融合道教的太极图说和佛教的“修心”于儒家思想;而后继而来的程颢、程颐兄弟,以及他们的传人,理学集大成者朱熹,进一步完善和发展了儒学,并最终将其理论化和系统化。正如《宋史》中说:“儒家的‘道’方才‘焕然而大明,秩序而各得其所。”以下对材料阐释最为恰当的是
- A. 宋代理学家吸收佛道成分维护纲常
B. 宋代理学是专制体制下批判与启蒙
C. 宋代理学是民本思想的产生与发展
D. 宋代理学适应了政治大一统的需求
27. 康熙四十七年(1708年),清廷规定“禁商贩米出洋”。五十九年(1720年)又规定:“沿海各省出洋商船,炮械军器概行禁止携带。”乾隆二十四年(1759年),下诏“禁丝觔贩卖出洋”,其他如火药、硝磺、铁器、大黄、绸缎、茶叶、书籍等商品也在限制之列。清政府的这些措施旨在
- A. 极力维护国内秩序的稳定
B. 消除江南经济发展区域性差异
C. 严格限定区域间长途贩运
D. 提高国内农产品的商品化程度
28. 1840年鸦片战争时,琦善派人探听了一些英国的情况,并据此写了一份奏折上报朝廷,部分内容如下图

该国王已亡故四年,并无子嗣,仅存一女,年未及笄,即为今之国王。该国有大族二十余家,皆其国之权臣,议事另有公所,只须伊等自行商榷,不受约束。揣其词意,或前此粤省烧毁之烟,其中即有各该权臣之物。……是固蛮夷之国,犬羊之性,初未知礼义廉耻,又安知君臣上下?且系年轻弱女,尚待择配,则国非其国,意本不在保兹疆土,而其国权奸之属,只知谋取私利,更不暇计其公家,……故求索不专在通市。

材料反映出

- A. 琦善主张坚决抵抗英国军事侵略
B. 英国女王权力受到国内大臣的制约
C. 清廷官员深受传统政治文化影响
D. 清廷对于西方有着清晰准确的认识
29. 1915年9月15日《青年杂志》正式发行,主编陈独秀在创刊号上发表了《敬告青年》一文,他提出六条倡议:“一、自主的而非奴隶的;二、进步的而非保守的;三、进取的而非退隐的;四、世界的而非锁国的;五、实利的而非虚文的;六、科学的而非想象的。”这份发刊词
- A. 揭示了中西文明的内在本质差距
B. 体现了变革思想的时代要求
C. 促进了马克思主义在中国的传播
D. 解放了当时年轻人思想藩篱
30. 1947年,随着内战的扩大,国统区物价猛涨,百姓基本生活得不到保障。部分民主人士提出的全面改革的要求被国民政府拒绝,引发了社会上的强烈不满,“反饥饿”、“反内战”运动在南京爆发,全国众多高校积极声援,全国青年知识分子的运动与社会各界群众联系起来。国统区民主运动的频发反映出
- A. 国民政府的消极抗战和独裁政策日趋反动
B. 实行民主政治是当时各派力量的共同要求
C. 社会各界不满社会现实和改变现状的呼声
D. 人民民主统一战线的政策方针的不断发展
31. 深圳率先启动多项外汇收支便利化试点工作,极大便利了合规企业的跨境资金收付,在2021年启动的本外币一体化资金池业务,进一步便利了跨国公司企业集团内部资金的结汇、划转和使用,有利于降低集团内部资金调配成本。2021年1~11月,深圳市跨境人民币收付金额2.8万亿元,同比增长26.7%。由此可知,我国

【高三文综 第6页(共12页)】



- A. 社会主义市场经济体制已经建立
B. 中国特色社会主义的金融交易市场正式形成
C. 政府调控与市场调节的相互结合
D. 社会主义先行示范区对外开放程度不断加深
32. 希腊悲剧作家的笔下,无论是传说中的英雄,还是世俗的凡人,面对命运的不公,都是勇于抗争而非顺从屈服,如下表所示。这体现出古希腊

名称	人物事迹
《美狄亚》	巫女美狄亚因命运被喜新厌旧的丈夫遗弃,她不甘屈辱,奋起对丈夫进行了惨烈的报复
《解放的普罗米修斯》	天神普罗米修斯因盗来火种送给人类,激怒了众神之主宙斯。他被钉在悬崖上,面对痛苦的折磨坚强不屈,为全人类忍受苦难

- A. 社会不公影响了悲剧创作
B. 文学创作渗透积极进取的精神
C. 平民的社会地位明显提高
D. 人文主义思想植根于文化传统
33. 16世纪末17世纪初,英国占有40座庄园以上的土地显贵由原来的39家锐减至19家。1600年时,大约2/3的英国旧贵族在财政上不仅入不敷出,甚至濒临破产。同时期欧洲也有大量的封建贵族陷入贫困。这反映出,当时西欧
- A. 社会财富出现重新分配
B. 对外殖民扩张步伐放缓
C. 下层民众生活水平提高
D. 为工业革命准备了条件
34. 一位十月革命的目击者曾说,“(布尔什维克党)代表了工人、士兵和农民那种纯真而简单的愿望,并且据此来制定他们当前的纲领”,“他们实现了人民群众最下层的那种普遍而又单纯的愿望”。由此可见,该目击者认为十月革命
- A. 具备了广泛坚固的社会基础
B. 结束了沙皇对人民的压迫
C. 植根于无产阶级政党的领导
D. 顺应了社会主义时代潮流
35. 据中国外交部证实,2021年12月3日,中国常驻维也纳联合国和其他国际组织代表团向联合国秘书长致以普通照会,通报了美国太空探索技术公司(SpaceX)发射的星链卫星今年先后两次接近中国空间站,对中国空间站上的航天员生命健康构成威胁。“星链”计划自启动之初就引起许多太空专家的担忧——数量如此庞大的卫星如果全部发射进入低轨道,可能极大增加卫星碰撞的风险,还可能对天文观测造成负面影响。这反映出
- A. 太空垃圾成为人类生存的主要威胁
B. 太空霸权正在威胁太空国际体系安全
C. 美国的航天技术已远超越其他国家
D. 美国利用太空卫星武器攻击别国卫星

二、非选择题:共160分。第36~42题为必考题,每个试题考生都必须作答。第43~47题为选考题,考生根据要求作答。

(一)必考题:共135分。

36. 阅读图文材料,完成下列要求。(24分)

象牙果,别名象牙椰子,是一种主要生长在南美赤道附近的棕榈树椰果,全球90%出自美洲的厄瓜多尔,是该国的特产。象牙果树生长在高温、湿润、温差小、风力微弱的环境中,生长速度非常缓慢,大概要15年左右才能结出纤维质的果实,果实要3~8年才能完全成熟,在阳光下晾晒3~4个月左右后,果实的明胶才会成熟,变成类似于象牙的白色坚硬物质,因而得名象牙果。象牙果是一种极好的天然雕刻材料,人们喜欢象牙果雕,早在殖民时代,欧洲贵族就用厄瓜多尔的象牙果雕作为高贵礼服上的饰品。下图为厄瓜多尔象牙果树种植区和象牙果雕工区分布示意图。

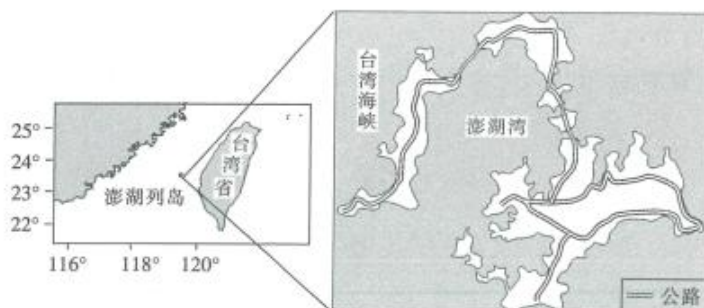
【高三文综 第7页(共12页)】



- (1)描述厄瓜多尔的地形特征。(4分)
- (2)分析厄瓜多尔象牙果树种植区有利于象牙果树生长的自然条件。(8分)
- (3)说明厄瓜多尔象牙果雕工区分布于西部沿海的原因。(6分)
- (4)近年来,有人建议厄瓜多尔利用当地的自然条件扩大象牙果树的种植面积,发展农村经济,你是否赞同这一建议?请表明态度并说明理由。(6分)

37. 阅读图文材料,完成下列要求。(22分)

澎湖湾古称“平湖”,澎湖湾及其附近将近 200km² 海域水深普遍不足 20m。澎湖列岛地表十分低平,地势缺少高低变化。澎湖列岛是台湾省降水最少的区域,年降水量在 1000mm 左右。岛上植物只有矮草和灌木。澎湖列岛每年有 1/3 的时间处于暴风天气。冬季时,澎湖湾海域内热带鱼经常出现死亡的情况。下图为台湾澎湖列岛示意图。



- (1)指出澎湖列岛上降水较台湾其他地区少的原因。(4分)
- (2)分析澎湖列岛上难有高大植物的原因。(6分)
- (3)简析澎湖列岛暴风天气多的原因。(6分)
- (4)分析冬季澎湖湾内热带鱼经常出现死亡的原因。(6分)

38. 阅读材料,完成下列要求。(14分)

2021年3月16日出版的第6期《求是》杂志发表了习近平总书记的文章《努力成为世界主要科学中心和创新高地》。

文章强调,科学技术从来没有像今天这样深刻影响着国家前途命运,从来没有像今天这样深刻影响着人民生活福祉。中国要强盛、要复兴,就一定要大力发展科学技术,努力成为世界主要科学中心和创新高地。形势逼人,挑战逼人,使命逼人。我们比历史上任何时期都更需要建设世界科技强国!我国广大科技工作者要把握大势、抢占先机,直面问题、迎难而上,瞄准世界科技前沿,引领科技发展方向,肩负起历史赋予的重任,勇做新时代科技创新的排头兵。

文章指出,要全面深化科技体制改革,提升创新体系效能,着力激发创新活力。破除一切制约科技创新的思想障碍和制度藩篱,坚持科技创新和制度创新“双轮驱动”,优化和强化技术创新体系顶层设计。要健全人才激励机制,牢固确立人才引领发展的战略地位,全面聚集人才,着力夯实创新发展人才基础。

结合材料并运用经济生活知识,分析我国大力发展科学技术的原因,并说明如何把我国建设成科技强国。

39. 阅读材料,完成下列要求。(12分)

喊口号、装样子、下表面功夫、做官样文章……人民群众对形式主义、官僚主义深恶痛绝。形式主义不求实效,官僚主义高高在上……问题的后果就是延误工作、疏远群众、败坏风气。紧盯“不担当、不作为、乱作为、假作为”等形式主义、官僚主义典型问题,各级纪检监察机关持续加大查处力度。

中央纪委国家监委公布的数据显示,2021年1至6月,全国共查处形式主义、官僚主义问题22361起,批评教育帮助和处理31022人,其中党纪政务处分20859人,释放了进一步向形式主义、官僚主义突出问题亮剑的鲜明信号。

结合材料并运用政治生活知识,说明我国政府应如何克服形式主义、官僚主义。



40. 阅读材料,完成下列要求。(26分)

春节作为一年中最重要的节日,往往能将人们的认同感、归属感和文化精神凝练其中。

2021年2月,中国对外文化集团有限公司携手央视频道打造直播节目《大话春节》。节目围绕“上海东西”“成都好‘耍’”“火树银花不夜长安”“一脉珠江水几重年味浓”“一眼千年”“饕餮盛宴”“新杭州的新年味穿越千年”“冰雪春节美丽‘冻’人”“面朝大海春暖花开”“苏州划水”“元宵诗会”等城市主题,贯穿十余座城市,在行走和体验中探寻中国春节之美,发现城市之间的过年方式和习俗差异,探索中国佳节背后深厚的情感背景。

为更好地推广中国传统文化,由文化和旅游部、中央广播电视总台共同推出的“欢乐春节”之“大话春节”大型融媒体活动在全网上线。作为首届线上“欢乐春节”,《大话春节》深入提炼、展示中国春节文化,增进国际社会对中国的了解,共建起中外文化沟通交流的友谊桥梁。

- (1)结合材料并运用联系观的知识,说明打造《大话春节》直播节目、“大话春节”全网上线的合理性。(12分)
- (2)结合材料并运用文化生活知识,说明推出中国春节文化活动的价值。(10分)
- (3)请就如何探寻中国春节之美提两条建议。(4分)

41. 阅读材料,完成下列要求。(25分)

材料一 中国古代社会治理的关键在基层治理,从历史来看,中央与基层社会的关系,既非“皇权不下县”的“地方自治”,也非“普天之下莫非王土”的“集权控制”。古代行政权力致力于基层秩序的稳定以及赋税徭役的征收。家族宗族负责家族内部及家族之间民事纠纷的裁决、乡约教化、协助政府管理赋税徭役的征收事务、推进资助乡村公共事业、保卫乡里,等等。乡绅作为乡里的代表与官府沟通,官府批准的福利救济经费通常由士绅承担。很多地方,保甲职役是由宗族组织中的各姓氏或房支派轮流顶充,保甲与宗族是相互融合的。

——摘编自杨国安《“天高皇帝远”——古代基层社会如何治理》

材料二 从1948年开始,中国共产党积极探索建立符合城市特点的基层社会管理体系。接管各大城市后,中国共产党废除了保甲制度。参照乡村经验,不少城市建立了市、区、街三级行政管理体制,街政府成为最基层的行政机构。这种三级行政管理体制导致政出多门,效率低下,无法适应城市“集中”的特点。不久,街政府被撤销。中华人民共和国成立后,各地进一步探索城市基层管理模式。1954年,国家颁布条例,规定在城市基层设立区政府的派出机构街道办事处和群众自治性组织居民委员会,正式确立街居体制。通过街居体制,无单位、无组织的群众被全部纳入政府管理范围。

- (1)根据材料一并结合所学知识,概括中国古代基层治理的基本特点并分析其积极影响。(9分)
- (2)根据材料二并结合所学知识,阐述新中国成立后城市基层管理体制的变化及其意义。(16分)

42. 阅读材料,完成下列要求。(12分)

材料 “最优分裂原则”——创新在带有最优中间程度分裂的社会里发展得最快,太过统一的社会与太过分裂的社会都不占优势。欧洲在近现代的崛起,与它在历史上长期分裂的局面密不可分。这种分裂促成了思想的多元化、技术和科学的进步,推动各国竞争。正是这种“分裂”孕育了欧洲的资本主义文明。进入封建社会后的中国,由于文化和地理的双重原因,它在很长时间内维持了超稳定结构,并在明清时代,形成一套与之相配套的成熟的高度专制政体,“由此带来的国家体制压制了现代科学出现所必需的多数条件”。与欧洲和中国相比,印度则是另一个极端,它过于分裂而长期发展受限。

——摘编自[美]贾雷德·戴蒙德《枪炮、病菌与钢铁:人类社会的命运》

根据材料并结合所学世界近现代史相关知识,自拟论题,谈谈你对该作者观点的理解。(要求:表述成文,持论有据,论述充分,逻辑清晰。)

(二)选考题:共25分。请考生从2道地理题、3道历史题中每科任选一题作答。如果多做,则每科按所做的第一题计分。

43. [地理——选修3:旅游地理](10分)

全域旅游是旅游产业的全景化、全覆盖,是资源优化、空间有序、产品丰富、产业发达的科学的系统旅游。鄂尔多斯市康巴什新区,位于内蒙古鄂尔多斯中南部,北京市以西730km,呼包鄂1小时经济圈内,是鄂尔多斯新的政治文化中心,金融中心、科研教育中心,也是第一个以城市核心区景观申报命名并批准的国家AAAA级旅游区,是中国北方为数不多的适合发展全域旅游和都市休闲度假的城市。下图示意鄂尔多斯市康巴什新区旅游景观。



说明鄂尔多斯市康巴什新区发展全域旅游的优势条件。

44. [地理——选修6:环境保护](10分)

2021年,随着长江渔民退捕开启新生活,长江生态持续改善。长江江豚被称为“长江的微笑”。作为长江生态的“晴雨表”,一年来,江豚逐浪的生动景象频频出现,彰显长江大保护的成效。如今,鄱阳湖、洞庭湖、湖北宜昌和长江中下游河段江豚群体出现的频率明显增加,20年未见的鳊鱼在洞庭湖被重新监测到,刀鱼现在能够上溯至长江中游和鄱阳湖。

推测2021年长江流域生态持续改善的原因,并说明生态改善对该流域地理环境的影响。



45. [历史——选修1:历史上重大改革回眸](15分)

材料 为了扭转苏联农业长期的落后状况,赫鲁晓夫制定了一系列改革措施来刺激农业的发展。1953年、1954年和1955年的农业投资在国家整个投资中所占比重分别为15.5%、19.6%和23.5%,1959年与1952年相比,农产品平均价格提高了两倍。为了扩大谷物生产,赫鲁晓夫提出开垦荒地的办法。1954~1956年,苏联开垦了近3600万公顷生荒地和熟荒地,1956年垦区收获了6300万吨粮食,占当年国家粮食产量的一半以上。60年代初,由于垦殖方法不当,垦荒区风沙侵蚀日益严重,几十万公顷新开垦的土地被破坏。1962年,苏联自留地虽仅占全部耕地的3%,却生产了肉类产品的44%,牛奶的45%,蛋类的76%,蔬菜的42%。1958年2月,苏联通过了《关于进一步发展集体农庄制度和改组机器拖拉机站的决议》,决定将拖拉机等农业机器卖给集体农庄,并将机器拖拉机站改组为机器修配站。该项措施受到了农民们的广泛欢迎,但是匆忙的做法,使得改革产生许多不良后果:大笔资金支出打乱了农庄的正常发展进程;由于缺乏经过正规训练的技术员,大批机器被闲置了。

——摘编自高成兴《战后苏联经济》

(1)根据材料并结合所学知识,概括赫鲁晓夫农业改革的主要措施。(9分)

(2)根据材料并结合所学知识,分析赫鲁晓夫农业改革的影响。(6分)

46. [历史——选修3:20世纪的战争与和平](15分)

材料 中印边界自卫反击战后,我国的西南边境的对峙仍一直存在。1986年2月,印军在实际控制线附近大规模军事演习,有5万印军被调往中国藏南地区。1986年底,印度将非法侵占的中国藏南升格为“邦”。1987年4月,印军在桑多洛河谷地区建立了直接威胁中国军队哨所的尖兵哨。与此同时,印度国内的鹰派言论被煽动起来,舆论频频向中国发难。中共中央军委副主席杨尚昆表示,如果印度坚持在边界沿线进行侵略性试探,中国将不得不做出反应。时任印度总理拉吉夫·甘地认为,从地缘政治和后勤方面考虑,无论胜负,同中国开战都是得不偿失的。拉吉夫·甘地在一次群众集会上说,有关中印边界局势的错误报道是由某些西方大国蓄意传播的,目的是要在印中两国之间制造误解和紧张。1988年12月,拉吉夫·甘地访问中国。1993年,两国签订了协定,协定中引入了“平等互利”的安全原则,以确保实际控制线两侧的和平。至此,这场边境危机终告化解。

——摘编自张加军《1987年中印边境冲突:第二次中印战争几乎爆发》

(1)根据材料并结合所学知识,概括1987年中印边境冲突发生的原因。(9分)

(2)根据材料并结合所学知识,简析1987年中印边境冲突的结果及意义。(6分)

47. [历史——选修4:中外历史人物评说](15分)

材料 于谦,明朝名臣。于谦少年时期即刻苦读书,志向高远。他敬佩、仰慕文天祥的气节,悬文天祥像于座位之侧,几十年如一日。永乐年间中进士后,于谦为官清廉正直,从不巴结权贵,不避嫌怨。他任监察御史巡按江西时,曾为数百蒙受冤狱的人平反。数年后升兵部右侍郎、巡抚河南、山西,他深入里巷访问父老,赈济灾荒,筑堤植树,将镇守将领私垦的田全部收为官屯,以补助边境经费。于谦前后在任十九年,威信很高。正统十三年,于谦被召回京,任兵部左侍郎。1449年7月,蒙古瓦剌部大举进犯,王振挟持明英宗亲征,在土木堡遭遇大败,全军覆没。京师震动,一时间人心惶惶,许多人准备收拾家当准备南逃。于谦坚决反对迁都南京,而是拥立新帝,并且调集各路军马严守京师,升任兵部尚书部署防御。保卫京师时,他亲自督战,身先士卒,在北京城外击退瓦剌军多次的进攻,北京得以保全,原本危急的形势逐渐好转。

——摘编自《明史》等

(1)根据材料并结合所学知识,概括于谦能够成为明朝名臣的原因。(6分)

(2)根据材料并结合所学知识,简评于谦在瓦剌入侵中的表现。(9分)

高三文科综合参考答案、提示及评分细则

1. C 上海汽车产业发达,配套产业完善,且上海经济发达,资金充足,利于该企业融资生产。长春等城市的汽车制造技术也非常先进,故汽车制造技术先进是原因之一,但不是最主要的。
2. B 电芯是电池的主要部分,其生产对环境污染大,对环境保护不利。
3. D 设立电动汽车门店,可加大对电动汽车等新能源汽车的推广,有利于减少矿物化石能源的使用,减少温室气体的排放,有利于实现节能减排;电动汽车的推广,对促进城市化进程和提高公共服务水平影响不大,也不能够缩短外出旅行时间。
4. B 由图可以读出,与2011年相比,江苏高考报考人数占比变化幅度接近-2.5%,增减幅度最大。
5. D 在正常情况下,高三学生参加高考的年龄是18周岁,18周岁的人口多,高考报名人数就多。故与该省2021年高考报名人数相关性最大的是2003年前后出生人口数。
6. A 由图可知,2021年江苏高考报名人数占比接近-2.5%,高考报名人数减少,若全国高考人数变化情况与其相似,则参加高考的人数减少,可能导致教育机构发展萎缩,学生高考压力可能相对减轻;老年人口比重可能增加,人口老龄化加重。
7. B 由题干中“塞舌蛙与印度西部紫蛙为同一类物种”可以推断出,马埃岛原与印度位于同一大陆,因位于印度洋板块和非洲板块的生长边界,板块逐渐分离。故马埃岛为大陆岛。马埃岛为花岗岩岛,故不是珊瑚岛、沉积岛,也不是火山岛,火山岛一般是火山喷发、岩浆冷却后形成,岛上多覆盖玄武岩。
8. C 由图可知,马埃岛位于南半球,1月气压带、风带南移,当地盛行由东北信风偏转后的西北风;7月气压带、风带北移,当地盛行东南信风。维多利亚市位于东南信风的背风坡,6—8月降水较少。
9. D 马埃岛平原面积狭小,人口主要分布在沿海平原地区,修建环岛公路主要满足居民的出行和经济活动,首先考虑到人口和城市的分布,又由于岛屿中部高四周低,中部山区地势陡峭,修建难度大、投资高,因此地形也会影响公路的布局;该岛屿气候差异不大;海港并不是环岛公路分布的主要因素;景点、机场并不是环岛公路布局的主要考虑因素。
10. A 与亚高山草甸地区相比,云南松林分布地区海拔较低,热量条件较好,光照条件不如高海拔的亚高山草甸地区;云南松林地区海拔低,热量条件好,微生物分解快,故有机质含量较高海拔的亚高山草甸地区少;云南松林属于人工林,水土保持能力较弱,比亚高山草甸地区水土流失更严重。
11. C 川西一滇西北地区纬度较低,相对高度最大,气候垂直差异显著,自然带丰富,垂直带谱完整且丰富,因此该地区植物更为丰富多样。
12. D 该图反映的是乙商品价格不变,需求量减少,不考虑其他因素,甲、乙是正常品,且互为替代品和富有需求弹性,甲商品薄利多销,会引起乙商品需求量减少,D符合题意,B不符合题意;乙商品产量下降,会引发乙商品供给量减少,价格上涨,A不符合题意;消费者偏好乙商品,对乙商品的需求量会增加,C不符合题意。
13. C 房地产行业上榜的慈善家企业数量多、捐赠数额大,说明该行业经营者承担社会责任意识增强,也是我国房地产行业发展较快的体现,②③符合题意;企业家捐赠并不意味着他们不再追求高额利润,①不选;房地产行业经营者捐赠数额大不能得出房地产行业在各个行业中一直保持利润率最高的现实,④不选。
14. A 我国继续通过减税政策减轻市场主体负担、激发市场主体活力,故①②符合题意。材料没有涉及市场作用、释放资本生产要素活力等问题,故③④与题意不合。
15. C 我国加快发展先进制造业能促进我国产品的出口,我国经济恢复能增加居民收入,会引起进口的增加,②③符合题意;“欧美经济快速增长”的表述与实际不符,排除①;不能取消市场准入门槛,排除④。
16. A 全国县乡两级人大换届选举工作部署会议要求,要全面准确介绍代表候选人情况,统一组织代表候选人与选民见面活动,见面活动应当灵活多样、讲求实效,有利于选民充分了解候选人,进而投出理性审慎的一票,故①③符合题意。见面有利于防止虚假宣传,但无法避免贿赂选民,故②不选;我国县乡两级人大换届选举,属于直接选举,故④不选。
17. C 国务院召开常务会议,将全国人大审议通过的《政府工作报告》提出的重点工作,分解到国务院部门和有关地方,要求各地各部门要对照要求,尽快制定本地区本部门具体实施方案,把各项工作往前赶,这既体现了国务院对全国人大负责,是全国人大的执行机关,也是在兑现对人民和人大代表的承诺,故②④符合题意。人民代表大会集中统一行使人民当家作主的权力,故①排除;材料没有涉及我国政府转变职能,故③不选。

【高三文综参考答案 第1页(共4页)】

18. A 中国将向联合国新冠肺炎疫情全球人道主义应对计划提供资金,表明中国支持联合国发挥积极作用,用实际行动助力世界共同发展,积极践行人类命运共同体理念,彰显大国的责任与担当,①③符合题意;联合国安理会是唯一有权采取行动维护世界和平与安全的机构,②不选;④在材料中没有体现,不选。
19. B 流行语反映年度特征、坚持价值原则、秉承规范理念,表明了①③;②中“文化随时代亦步亦趋”的说法违背了文化的相对独立性,不选;材料没有体现先进文化对社会发展的推动作用,④不选。
20. A 古代大家优秀家训包含丰富的修身治家之道,其正确思想是中华优秀传统文化的重要组成部分,对今天个人成长和社会发展具有积极意义,①②符合题意;古代大家优秀家训不能指明文化发展正确方向,也不是社会健康发展的根基,③④不选。
21. D 重大历史进步都是在一些重大灾难之后,中华民族就是这样在艰难困苦中历练、成长起来的,强调矛盾具有同一性,②符合题意,①不符合题意;在举国体制下,一方有难八方支援,能够集中力量办大事,强调立足整体,④符合题意,③不符合题意。
22. D 漫画反映了要达到计划目标,必须经过一个个量变的过程,D符合题意。客观与主观统一说法错误,不选A;材料没有体现B,不选;必须说法太绝对,C说法错误。
23. C 钟南山院士为保护人民的生命健康,年过八旬仍在一线出诊,启示我们要自觉站在人民的立场上作出价值选择,要在个人与社会的统一中实现价值,②④符合题意。材料未体现价值判断和价值选择的主体差异,①不选;机遇不是实现人生价值的决定性因素,③不选。
24. B 根据材料及所学可知,外戚专权和宦官乱政是东汉时期君主专制发展的产物,他们权力的变化实际是源于君主专制,B项正确。A、D两项不是材料主旨,排除;C项材料中无从体现。
25. C 题干所示为唐代科考中的一些做法,这些做法表明当时通过“投献”和举荐而被录取这一现象仍有发生,说明当时的科考仍存有举荐选官的痕迹,C项正确。A、D两项说法不符合史实,排除;题干不能说明科举制属于贵族政治,秦汉以来,贵族政治被官僚政治所取代,排除B项。
26. A 从材料中“儒家势弱”“融合道教的太极图说和佛教的‘修心’于儒家思想”“进一步完善和发展了儒学,并最终将其理论化和系统化”“焕然而大明,秩序而各得其所”可以看出宋朝时期儒家思想获得了发展,结合古代儒家思想发展的过程,我们可知这一时期儒家思想吸收了佛教和道教成分,强化了儒家的伦理纲常,A项符合题干要求。B、C、D三项都不准确,排除。
27. A 由材料“禁商贩米出洋”“沿海各省出洋商船,炮械军器概行禁止携带”“其他如火药、硝磺、铁器、大黄、绸缎、茶叶、书籍等商品也在限制之列”可知,康熙、乾隆时期,为了平抑国内一些传统商品物价,严厉禁止米粮、茶叶等出口;而为了维持清政府统治,严禁火药等商品出口,A项正确。清政府严厉禁止出口的目的是为了维护国内秩序的稳定,而不是为了提高国内地区农产品的商品化程度,也不是为了消除江南经济发展的区域性差异,排除B、D两项;材料体现的是严格禁止商品出口,而没有限定区域间的长途贩运,排除C项。
28. C 从材料中“该国有大族二十余家,皆其国之权臣”“揣其词意,或前此粤省烧毁之烟,其中即有各该权臣之物”“且系年轻弱女,尚待择配,则国非其国”可以看出,清政府对于英国的了解深受中国传统政治文化和华夷外交的影响,C项正确。A、B两项材料中未体现;D项错误,这份奏折的介绍与英国实际情况大相径庭。
29. B 陈独秀主张自由进步、进取科学,同时反对保守锁国,这说明其观点也体现了变革思想的时代要求,B项正确。材料没有涉及到中西文明对比的内容,排除A项;C项与题干无关,排除;题干没有提及发刊词产生的效果,排除D项。
30. C 1947年,正是解放战争时期,国民政府极力维护独裁统治,导致国统区的经济和政治危机,要求国民政府停止内战,实施改革,是全国各界的一致呼声,C项正确。题干显示的信息不属于抗日战争时期的,排除A项;实行民主政治并不是各派政治力量的共同要求,排除B项;人民民主统一战线是中国共产党领导下的方针政策,材料没有体现出中国共产党的领导和发动,排除D项。
31. D 材料中深圳市进行改革调整,提高了利用外资的效率,有利于企业进行跨境资金结账使用,这说明我国深圳对外开放程度提高,故D项正确。我国社会主义市场经济体制基本确立是在21世纪初,故排除A项;材料没有体现“金融交易市场”和“市场调节”,故排除B、C两项。
32. B 根据材料并结合所学知识可知,希腊悲剧中强调对命运不公的反抗,其实质是勇于进取的精神对文学创作的渗透,B项正确。材料体现的是对命运不公的反抗,不是社会的不公,排除A项;材料的主旨在于反抗命运的进取精神,而非平民社会地位提高,排除C项;材料未提及古希腊的文化传统,排除D项。
33. A 根据材料可知,16、17世纪英国、法国等西欧国家的贵族在不断地贫困化。结合所学可知,这主要是由于新航路的

开辟,引发了西欧的价格革命,新兴资产阶级获益匪浅,而土地贵族日益衰落,社会财富出现重新分配,A项正确。材料未体现对外殖民扩张,且价格革命会加速对外殖民扩张的步伐,排除B项;价格革命中下层民众的生活每况愈下,排除C项;材料与工业革命无关,排除D项。

34. A 布尔什维克党基于广大工农兵的愿望和利益,制定革命纲领,这使得十月革命具备了广泛坚固的社会基础,A项正确。二月革命时期,俄国就已经结束了沙皇的统治,排除B项;十月革命植根于俄国资本主义的发展和社会矛盾的激化,排除C项;革命目击者并未直接提及社会主义制度在俄国的建立,排除D项。
35. B 材料中美国太空探索技术公司(SpaceX)发射的“星链”卫星对别国的航天器和宇航员造成了安全威胁,体现出美国强大的航天技术形成的太空霸权对太空现有体系的挑战,B项正确。A项不是材料主要内容;C项材料中未体现;美国公司发射的卫星客观上影响到了他国航天器运行和宇航员安全,并非是直接攻击别国,D项错误。
36. (1)地形以山地和平原为主,中部以山地为主,东部、西部以平原为主;地势中间高、东西低,地势起伏大。(每条2分,共4分)
- (2)位于赤道附近,纬度低,热量充足;全年高温,温差小;常年受赤道低气压带控制,盛行上升气流,降水丰沛,气候湿润;常年受赤道低气压带控制,风力微弱;有多条河流流经,土壤肥沃。(每条2分,答对四条得8分,共8分)
- (3)靠近港口、铁路,交通运输便利;沿海地带人口稠密,劳动力充足;西部沿海地区(受寒流影响,)降水较少,光照充足,利于象牙果的晾晒。(每条2分,共6分)
- (4)观点一:赞同。理由:东部地区面积广,气候等条件适合种植象牙果树;象牙果雕饰业的发展历史悠久,技术水平较高;带动当地经济发展,增加就业机会等。(每条2分,共6分)[或观点二:反对。理由:气候湿热,劳动环境恶劣;象牙果树生长缓慢,收效慢;距加工区远,运输成本高;地处内陆地区,劳动力不足;破坏热带雨林环境,导致生物多样性减少等。(每条2分,答对三条得6分,共6分)]
37. (1)澎湖列岛地势低平,含有水汽的季风掠过岛屿时,缺乏地形的抬升,水汽不易凝结,降水少。(4分)
- (2)岛上降水较少,土壤水分含量较低;岛上多大风天气;土壤贫瘠,不利于高大植物的生长。(每条2分,共6分)
- (3)澎湖列岛地处热带洋面,受台风影响大;冬季东北风经过台湾海峡,由于狭管效应,风速加大;澎湖列岛周围海域宽广,对风速的削弱不明显。(每条2分,共6分)
- (4)冬季风强盛,海面蒸发加剧,海水温度降低;冬季风推动了北方大陆沿岸寒流的南下,使海水温度降低;海域水浅,湾内底层海水泛上,使水温降低;风浪大,鱼类消耗体力多。(每条2分,答对三条得6分,共6分)
38. 原因:①我国进入了新时代,主要矛盾已经转化为人民日益增长的美好生活需要和不平衡不充分的发展之间的矛盾。我国大力发展科学技术,有利于不断提高产品质量,满足人民美好生活需要。(3分)②我国经济发展已由高速增长阶段转向高质量发展阶段。我国大力发展科学技术,有利于破解发展难题,培植发展优势,推动我国经济高质量发展,推动我国强盛,推动我国复兴,提高我国竞争力。(3分)③创新是引领发展的第一动力,是建设现代化经济体系的战略支撑,是发展的基点。我国大力发展科学技术,是贯彻落实创新发展理念,解决发展动力的客观要求。(2分)(其他答案,符合题意,可酌情给分)
- 举措:①坚持创新发展,把创新摆在国家发展全局的核心位置,让创新贯穿党和国家一切工作,让创新在全社会蔚然成风。(2分)②进行科学的宏观调控,激发科技创新活力。(2分)③完善按要素分配的体制机制,让技术参与分配,健全人才激励机制。(2分)(其他答案,符合题意,可酌情给分)
39. ①坚持求真务实的工作作风和从群众中来到群众中去的工作方法,深入群众,强化求真务实,使政府工作经得起实践、群众和历史的检验。(4分)②坚持依法行政,坚持法定职责必须为,法无授权不可为,坚决纠正不担当、不作为、乱作为、假作为。(4分)③建立全面的行政监督体系,加强纪检监察机关等对政府权力的制约和监督。(4分)(其他答案,符合题意,可酌情给分)
40. (1)①世界是普遍联系的。打造《大话春节》直播节目,有利于探寻中国春节之美,发现城市之间的过年方式和习俗差异,探索中国佳节背后深厚的情感背景。(4分)②人为事物的联系是人类实践活动的产物,具有“人化”的特点。“大话春节”全网上线,有利于展示中国文化,增进国际社会对中国的了解。(4分)③人们可以根据事物固有的联系,改变事物的状态,调整原有的联系,建立新的联系。“大话春节”全网上线,有利于共建中外文化沟通交流的友谊桥梁。(4分)(其他答案,符合题意,可酌情给分)
- (2)①传统文化具有鲜明的民族性。推出中国春节文化活动,有利于增强我们的文化认同感、归属感。(2分)②文化具有多样性。推出中国春节文化活动,有利于展示中华文化的多样性,增强我们的文化自信。(3分)③文化既是民族的,又是世界的。推出中国春节文化活动,有利于增强中华文化的国际影响力。(2分)④创新是文化富有生机与活力的重

【高三文综参考答案 第3页(共4页)】

- 要保证。推出中国春节文化活动,有利于推动中华文化创新,增强中华文化的生命力。(3分)(其他答案,符合题意,可酌情给分)
- (3)开展探寻春节年俗活动。(2分)开展“寻年味贺新年”手工活动。(2分)(其他答案,符合题意,可酌情给分)
41. (1)特点:官民结合,家国同构;服务于专制集权;有一定的自治色彩;宗族家族具有管理职能;乡绅发挥重要作用。(5分)影响:有利于维系社会稳定,巩固封建统治;有利于保障小农经济的发展;有利于儒家思想的传播。(4分,任答两条即可)
- (2)变化:纳入法治化轨道;适应经济发展的需要,采用“社区式管理”等新模式;管理方式多样化;民主化程度不断加深。(8分)意义:调动了人民参政积极性;增强了人民主人翁意识;有利于社会的和谐、稳定与发展;保障了社会经济建设的顺利开展;丰富了中国特色社会主义民主政治的理论和实践。(8分,任答四条即可)
42. 示例:
论题:近代欧洲的崛起验证了“最优分裂原则”的合理性。(2分)
论述:历史上欧洲国家在民族、语言、文化等方面有许多差异,但都以古希腊罗马文明为共同源头,从而形成“最优分裂局面”,即欧洲各国相互独立,又相互学习借鉴,推动着各国展开激烈竞争。从15世纪末开始,随着新航路的开辟,西欧国家展开了贸易竞争和殖民争夺,攫取了大量财富,推动了西欧社会经济的迅速发展。在这种历史背景下,工业革命首先在英国发生,而后在欧美各国出现。凭借工业革命产生的巨大生产力,各国资产阶级建立了以欧洲为中心的资本主义世界市场。欧洲这种恰到好处的分裂程度,推动整个欧洲资本主义经济的发展,在激烈的竞争中,欧洲率先完成了现代化进程。近代欧洲的崛起验证了“最优分裂原则”具有一定的合理性。(10分)
43. 旅游资源丰富,类型多样,地域组合状况好;草原文化旅游资源独特,吸引力大;距京津等客源市场较近;京津经济发达,客源市场大;多条铁路、高速公路途经,交通通达度高;基础设施好,接待能力强;政府政策支持。(每条2分,答对五条得10分,共10分)
44. 原因:政府加强宣传教育,民众环境保护意识提高;长江禁渔十年,多项法律法规颁布实施,加大严惩力度;流域内植树造林面积增加;政府关停取缔高污染高耗能企业,加强对水污染、固体废弃物污染等的防治。(每条2分,答对三条得6分,共6分)影响:使流域内生物多样性退化趋势得到遏制,生物多样性增加;使区域资源环境承载力增加,有利于流域可持续发展;洪涝、滑坡、泥石流等自然灾害减少。(每条2分,答对两条得4分,共4分)
45. (1)主要措施:提高农业投资和农产品价格;大规模开垦荒地,种植玉米;把农业机器卖给集体农庄,机器拖拉机站改组为机器修配站。(9分)
(2)影响:一定程度上提高了苏联的粮食产量;大规模垦荒和种植玉米破坏了环境;大量农业机器和资金没有得到充分利用被浪费。(6分)
46. (1)原因:印度国内鹰派势力的主导;印方蓄意侵占中国边境领土;西方国家的煽动;印度军事势力的膨胀、国防投入增多。(9分,任答三条即可)
(2)结果:中印边境冲突和平化解。(2分)
意义:利于两国边境地区的和平;缓和了局部地区的国际关系;利于两国经济发展和正常的交流;增强了两国政治互信。(4分)
47. (1)原因:以文天祥为榜样,素质较高;为官清廉正直;具有政治胆识与才干;有朴素的民本思想和深厚的家国情怀。(6分)
(2)表现:坚决反对迁都,捍卫了朝廷的尊严;拥立新帝,粉碎了敌人的阴谋;亲自督战,鼓舞了士气,保卫了明朝江山。(9分)

关于我们

自主选拔在线是致力于提供新高考生涯规划、强基计划、综合评价、三位一体、学科竞赛等政策资讯的升学服务平台。总部坐落于北京，旗下拥有网站（[网址: www.zizzs.com](http://www.zizzs.com)）和微信公众平台等媒体矩阵，用户群体涵盖全国90%以上的重点中学师生及家长，在全国新高考、自主选拔领域首屈一指。

如需第一时间获取相关资讯及备考指南，请关注**自主选拔在线**官方微信号：**zizzsw**。



 微信搜一搜

 自主选拔在线

