

2023 年江西省高三教学质量监测卷

文科综合

说明:1. 全卷满分 300 分,考试时间 150 分钟。

2. 全卷分为试题卷和答题卡,答案要求写在答题卡上,不得在试题卷上作答,否则不给分。

一、选择题:本题共 35 小题,每小题 4 分,共 140 分。在每小题给出的四个选项中,只有一项是符合题目要求的。

大豆是重要的油料作物。近年来,我国大规模进口大豆用于生产食用油,全国豆油生产规模显著上升,大豆种植规模大幅下降。这既有利于我国粮食需求量的下降,又推动了我国粮食供应量上升,从而降低了粮食安全风险。据此完成 1~2 题。

1. 大豆的进口利于我国粮食需求量下降的原因是

- ①豆油生产的副产品能够作为肥料
 - ②豆油生产的副产品能够作为饲料
 - ③大豆油属于粮食的范畴
 - ④大豆油属于非粮食食物
- A. ①③ B. ①④ C. ②③ D. ②④

2. 大豆的进口推动我国粮食供应量上升的主要原因是其增加了我国的

- A. 农业用地面积 B. 谷物播种面积 C. 粮食进口规模 D. 粮食供应途径

图 1 示意地面坡度与土壤厚度的关系,在流水冲刷与岩石风化的共同作用下,土壤厚度增大或减小,达到平衡状态时,厚度保持相对稳定。据此完成 3~5 题。

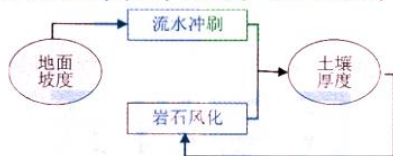


图 1

3. 当土壤厚度变小时

- A. 流水冲刷加强 B. 流水冲刷减弱 C. 岩石风化加强 D. 岩石风化减弱

4. 与临近的缓坡相比,在相同降水条件下,陡坡地表水

- A. 流速更快,流量更大 B. 流速更快,流量更小
C. 下渗更多,蒸发更强 D. 下渗更多,蒸发更弱

5. 土壤厚度变小往往会引起草本植物入侵灌木群落,原因是草本植物比灌木

- A. 繁殖快 B. 植株矮 C. 种子多 D. 根系浅

电力生产是将一次能源转化为电力。图 2 示意我国 2010~2050 年电力生产中的一次能源结构变化(含预测)。据此完成 6~8 题。

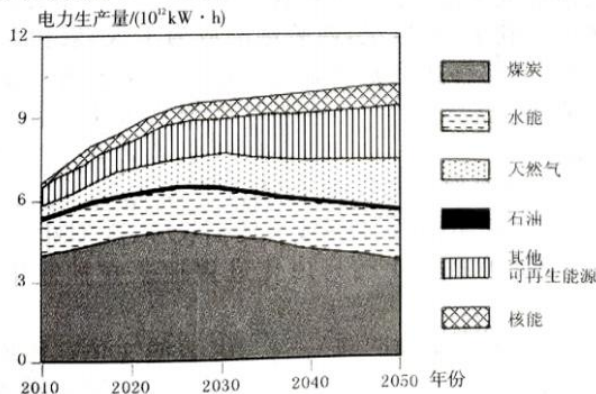


图 2

6. 石油在我国电力生产中的能源结构占比很小,是因为石油作为能源主要被投放至
A. 工业领域 B. 农业领域 C. 交通领域 D. 科技领域
7. 我国电力生产中碳达峰时间大约在
A. 2020 年 B. 2030 年 C. 2040 年 D. 2050 年
8. 随着电力生产中可再生能源占比的大幅提升,我国需要努力
A. 加快坑口电站的技术研发 B. 加快电能储存的技术研发
C. 实现电力生产的时间均衡 D. 实现电力生产的时间均衡

图 3 是金沙江某河段河谷地形简图(单位:m)。甲地河流水温低于河岸气温,两者间的温差大小具有明显的季节变化,河谷内的风向主要取决于局地热力环流,图中箭头代表主导风向。据此完成 9~11 题。

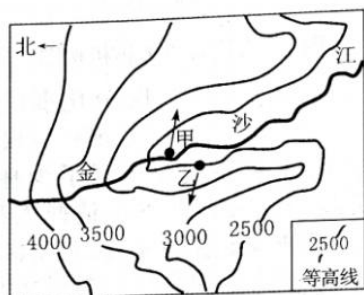


图 3

9. 甲地河流水温偏低是因为其上游方向河段
A. 比降大,流速快 B. 江面宽,水深小
C. 蒸发强,散热快 D. 云量多,日照弱
10. 甲地降水频率明显低于乙地,主要影响因素是
A. 垂直气流方向 B. 水平气流方向 C. 空气水汽含量 D. 地表水分含量
11. 乙地主导风风力最大的时间是
A. 冬季白昼 B. 冬季夜晚 C. 夏季白昼 D. 夏季夜晚
12. 2022 年 12 月 19 日,中共中央、国务院发布《关于构建数据基础制度更好发挥数据要素作用的意见》,为最大限度激活数据要素潜能,按照“谁投入、谁贡献、谁受益”原则,着重保护数据要素各参与方的投入产出收益。数据作为生产要素参与分配,旨在
①增加要素参与方的收益,优化资源配置,提高效率
②让一切创造社会财富的源泉充分涌流,推动经济发展
③肯定和实现数据要素的价值,尊重数据的权属和投入
④不断地顺应各种生产要素对经济增长贡献的上升趋势
A. ①② B. ②③ C. ③④ D. ①④
13. 中国人民银行于 2022 年 12 月 5 日降低金融机构存款准备金率 0.25 个百分点,释放长期资金约 5000 亿元。着力支持实体经济,推动经济实现质的有效提升和量的合理增长。此次降低存款准备金率发挥作用的路径是
①有效降低实体经济融资成本
②增加金融机构支持实体经济的资金来源
③保障实体经济资金链安全以稳定其发展预期
④使实体经济融资难的问题得到有效缓解
⑤提高金融机构信贷能力和服务力度
A. ②→①→④→③ B. ①→②→④→③ C. ②→⑤→④→③ D. ⑤→②→③→④
14. 从下表可推出的正确结论有

表 1 我国 2022 年主要经济指标增长情况

项目	国内生产总值	国家财政收入	城镇居民人均可支配收入	农村居民人均可支配收入	消费者价格指数
增幅/%	3	6.1	3.9	6.3	2.0

- ①在经济增长的同时实现了劳动报酬同步增长
②城乡恩格尔系数降低,人民生活水平提高
③经济发展水平的提高是财政收入增长的基础
④城乡居民的实际购买能力总体有所增强
A. ①② B. ①③ C. ②④ D. ③④
15. 资本的“红绿灯”制度就如交通道路中的红绿灯一样,为可行与不可行提供明确的信号指示。通常而言,亮“红灯”,是要以负面清单形式分类别设置“资本禁区”和“资本限制区”,严防资本冲击经济社会秩序;开“绿灯”,是在服务国家发展战略和市场充分竞争领域,鼓励资本进入与发展。因此,设置好“红绿灯”,就是要让规则更明晰、预期更稳定。资本的“红绿灯”制度的实行
- ①引导资本合规经营,推动我国经济实现高质量发展
②优化市场资源配置,保证投资者的收益实现持续增长
③明确规则底线,引导资本在法律法规框架下积极有为
④遏制资本扩张,推动资本流向金融等实体经济领域
A. ①③ B. ①④ C. ②③ D. ②④
16. 2023年1月7日,国务院联防联控机制召开新闻发布会,介绍了成都市郫都区德源街道禹庙村的防控经验。该村根据本村实际情况,由村民委员会对本村疫情防控负总责,下设的公共卫生委员会落实具体工作,实行“微网格长+家庭医生”模式。禹庙村构建出1个总网格、3个一般网格、32个微网格,每个微网格平均服务43户,32个微网格同16个党小组、14个村民小组融合互补,形成了“1+3+32+N”的三级网格治理体系,稳步推进实现城乡结对建机制、家庭医生优服务、重点人群送温暖、邻里互助传爱心、健康知识广宣传等工作。这一模式
- ①丰富了村民参与国家和社会管理的途径 ②能够调动村民参与民主管理的积极性
③创新了我国群众性基层自治的组织形式 ④是人民群众直接行使民主权利的生动实践
A. ①② B. ③④ C. ①③ D. ②④
17. 党的二十大报告指出:中国式现代化,是中国共产党领导的社会主义现代化,既有各国现代化的共同特征,更有基于自己国情的中国特色。中国共产党带领中国人民成功走出中国式现代化道路,得益于
- ①中国共产党始终坚持解放思想、实事求是,与时俱进、求真务实
②始终坚持中国共产党是中国最高的政治领导力量,是社会主义民主政治的本质特征
③中国共产党始终牢记初心使命,深刻把握社会主义建设规律和人类社会发展规律
④中国共产党始终自觉站在人民立场上,自觉坚持依法执政和对人民负责的工作原则
A. ①③ B. ②③ C. ①④ D. ②④
18. 2022年是上海合作组织宪章签署20周年,成员国长期睦邻友好合作条约签署15周年。以这两份纲领性文件为思想基石和行动指南,上海合作组织逐步成功探索出一条新型国际组织成长壮大之路,各成员国合力走出“结伴不结盟、对话不对抗”的新路,在涉及彼此核心利益和重大关切问题上坚定相互支持。这表明
- ①世界各国践行共商共建共享的全球治理观
②上海合作组织各成员国利益交融、相互依存
③国家利益是上海合作组织合作的坚实基础
④求和平、谋发展、促合作成为当今时代的潮流
A. ①② B. ①③ C. ②④ D. ③④
19. 在2022卡塔尔世界杯上,我国国家级非物质文化遗产代表性项目蹴鞠亮相卡塔尔,向世界讲述着中国文化的故事。卡塔尔世界杯上的中国元素不只有蹴鞠,从客车到旗帜再到各种世界杯纪念品,很多都是中国制造。这说明,近几年形成的国潮之风开始从国内“吹”向国外。国潮产品出海
- ①增强了我国传统文化的世界影响力 ②有利于增进世界对中华文化的认同

- ③体现了文化民族性与世界性的统一
A. ①② B. ①③
- ④赋予了优秀传统文化新的时代内涵
C. ②④ D. ③④
20. 2022年11月29日23时08分,搭载神舟十五号载人飞船的长征二号F遥十五运载火箭在酒泉卫星发射中心点火发射,约10分钟后,神舟十五号载人飞船与火箭成功分离,进入在酒泉卫星发射中心预定轨道,发射取得成功。11月30日7时33分,神舟十五号3名航天员顺利进驻中国空间站,与神舟十四号航天员乘组首次实现“太空会师”,宇航员们向世界露出了灿烂的笑容、展示了中国力量。这说明了
- ①航天科技新成就能够增强我国的文化自信
②文化在综合国力竞争中的基础地位越来越突出
③中国航天人的优秀品质是中华民族的精神基因
④在踔厉奋发、勇毅前行中丰富和发展中华民族精神
- A. ①③ B. ①④ C. ②③ D. ②④
21. 近日,中国科学院国家天文台徐聪研究员领导的国际团队,利用中国天眼FAST对著名致密星系群“斯蒂芬五重星系”及周围天区的氢原子气体进行了成像观测。得益于FAST超灵敏度带来的前所未有的极端暗弱天体探测能力,团队发现了1个尺度大约为两百万光年的巨大原子气体系统,比我们所在的银河系大20倍。这是迄今为止在宇宙中探测到的最大的原子气体系统。这进一步证明了
- ①思维能够正确地认识存在,二者具有同一性
②真理经过实践检验,在否定自身中发展
③先进工具延伸了人类的认识器官,促进了认识的发展
④量变必然引起质变,要重视量的积累
- A. ①② B. ③④ C. ①③ D. ②④
22. 自2023年1月8日起,我国对新型冠状病毒感染实施“乙类乙管”,此后不再对新冠病毒感染者实行隔离措施,不再判定密切接触者,不再划定高低风险区,等等。这是党中央从我国国情出发确定的,是防疫经验的总结,是正确的、有效的,必须毫不动摇坚持。对新型冠状病毒感染由“乙类甲管”调整为“乙类乙管”的哲学依据是
- ①坚持了一切从变化发展的、全面的实际出发
②坚持了马克思主义活的灵魂和重要原则
③坚持了劳动群众是历史的创造者观点
④生产关系一定要符合生产力发展的要求
- A. ①② B. ①④ C. ②③ D. ③④
23. 国家主席习近平同美国总统拜登举行视频会晤时指出:中美两国是两艘在大海中航行的巨轮,我们要把稳舵,使中美两艘巨轮迎着风浪共同前行,不偏航、不失速,更不能相撞。惟有如此,中美双方
- ①才会由斗争性转化为同一性
②才有可能相互依存、相互贯通
③才能以把握统一促进共赢发展
④才能在对立中把握统一,在统一中把握对立
- A. ①② B. ①③ C. ②④ D. ③④
24. 《孟子》记载:“殷人七十而助。”朱熹的解释是:将630亩土地分为9块,每块70亩,中为公田,8家共耕,外为私田,8家各授一区。纳税的形式是,使8家之力助耕公田,以公田所获
- A. 部分制度为西周所沿袭
B. 分封制的经济基础瓦解
C. 青铜农具推动土地开发
D. 赋税制度形成完整体系
25. 从先秦的“雅言”、秦汉的“通语”到隋唐的“汉音”,通行语都是以现今河南洛阳、陕西关中地区一带的方言为基础的。从隋朝开始,江南的“吴音”(苏州白话)也成为一种通行语。这表明
- A. 经济重心开始南移
B. 政治中心决定官方语言
C. 南方的影响力上升
D. 文化交融促进国家统一

26. 图 4 反映了宋代

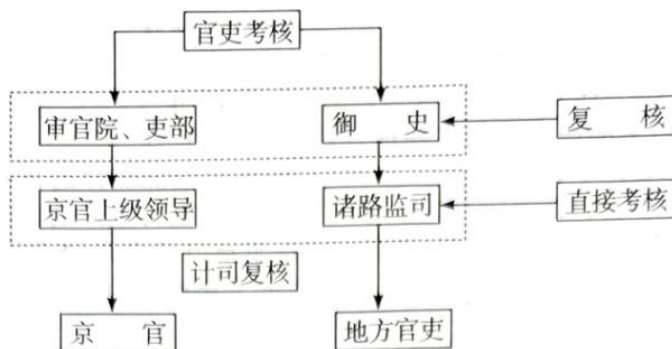


图 4 宋代官吏考核机构图

- A. 层层考核杜绝徇私舞弊
B. 分化事权导致机构臃肿
C. 高度专制造成政风因循
D. 兼顾集权与考核的实效
27. 道光八年(1828 年)三月,清朝大臣完颜麟庆在参观了少林寺后,因久闻少林武功名冠天下,遂让寺主僧组织武僧为之演武。后来少林寺也请匠人把此次演武盛况画在寺内白衣殿(观音殿)内的北墙之上,是为《武僧演武图》(如图 5)壁画。该壁画



图 5 武僧演武图

- A. 反映了崇武的社会风尚
B. 展现了民族文化的魅力
C. 印证了佛教的正统地位
D. 体现了写意的艺术风格
28. 清朝统治集团中的大部分人在连续两次鸦片战争失败的情况下,仍然拒绝做出任何不符合传统观念的改革。他们认为,中国的声明文物、典章制度都是古圣先王定下的垂之万世而不可更改的东西,谁若对此稍有怀疑,就是大逆不道。由此可以推知,洋务派鼓吹“中体西用”
- A. 减小了洋务运动的阻力
B. 是对传统文化的合理扬弃
C. 开启了学习西方的大门
D. 推动维新变法运动的开展
29. 表 2 反映的现象是日军

表 2 1941 年汉阳县日军货物厂农产品收购价格与汉口市场价格对比表
(单位:元/百公斤)

名称	日军收购价(A)	汉口市价(B)	A/B
白米(1)	24.65	79.36	31.1%
白米(2)	23.20	68.38	33.9%
小麦	11.9	39.57	30.1%
大麦	10.8	23.88	45.2%
玉米	9.35	22.93	40.8%
蚕豆	9	29.19	30.8%
豌豆	12.5	26.42	47.3%
大豆	10.3	22.79	45.2%

- A. 扰乱了国统区市场秩序
B. 破坏了中国的关税主权
C. 对中国人民的疯狂掠夺
D. 服务于其持久作战方针
30. 1949年2月,毛泽东提出了建立工商联组织的想法,在与苏共中央政治局委员米高扬的一次谈话中指出:“我们准备成立一个工商联组织,这可以把工商业方面的活跃人物组织起来。”这一构想旨在
- A. 建立人民民主统一战线
B. 为工作重心的转移做准备
C. 配合战略反攻战争形势
D. 确立新民主主义社会经济
31. 由图6可知我国

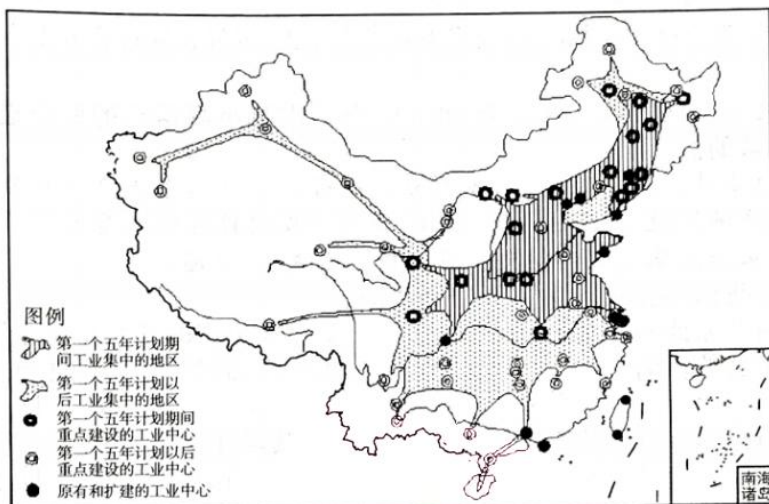


图6 我国工业布局变化示意图

- A. 东南沿海地区工业基础薄弱
B. 产业的结构逐渐趋于合理
C. 经济建设以服务国防为中心
D. 工业布局不平衡得到改善
32. 在早期罗马法中,家父对子女的生命与财产有生杀予夺之权,他可以任意变更子女的个人身份,甚至可以把子女出卖三次。到了帝国时期,家父权受到很大限制,在家中实施惩罚的无限权力转化成把家中罪犯送交官吏审判的权力。这种变化反映出古罗马
- A. 商品经济影响法律规定
B. 契约精神得到发展
C. 血缘关系因法律而改变
D. 血缘观念有所强化
33. 16世纪的西欧上层社会中普遍存在一种现象:贵族往往以来自海外的金银珠宝、茶叶香料等奢侈品的多寡作为显示社会身份高低的重要标志,为此他们不惜挥金如土甚至借高利贷,却又因为经营不善而经常无法偿还。据此可知,这一现象
- A. 加速了西欧资本的原始积累
B. 根源于世界市场的基本形成
C. 促进了西欧封建制度的衰落
D. 表明传统经济关系濒临崩溃
34. 19世纪中期以后,欧美国家比较富有的男子的典型服装是西装外套、马甲,黑色、灰色或深蓝色的裤子,系深色领带或领结,穿浅色衬衣。而当时工人或农民多穿着结实又不妨碍工作的服装,如牛仔裤等。到了20世纪,西装逐渐成为工人、农民的日常服装,同时,牛仔裤等也成为不同阶层的人们都喜欢穿着的服装。这一变化表明欧美国家
- A. 工人社会地位得到提高
B. 贫富分化问题逐渐缓和
C. 休闲实用成为服饰潮流
D. 社会政治经济得到发展
35. 20世纪60年代,肯尼迪政府提出并实施了“和平队计划”,向第三世界国家派遣以技术人员、教师、医生、护士为主的“志愿者”,向海外传播民主理念和实用知识,帮助这些国家实现现代化,并“抵抗那种能够将真正的自由化进程扼杀在摇篮中的颠覆性的意识形态”。据此可知,美国此举
- A. 有助于解决全球经济发展不平衡问题
B. 表明文化宣传成为冷战主要手段
C. 意在与苏联争夺“中间地带”
D. 促进了第三世界的和平演变

二、非选择题:共 160 分。第 36~42 题为必考题,每个试题考生都必须作答。第 43~47 题为

选考题,考生根据要求作答。

(一)必考题:共 135 分。

36. 阅读图文材料,完成下列要求。(22 分)

埃塞俄比亚位于非洲东部,首都亚的斯亚贝巴,总人口 1.12 亿,城镇人口不足 2000 万,亚吉铁路(亚的斯亚贝巴—吉布提)成为其主要出海通道。埃塞俄比亚经济以畜牧业为主,牛、马等大型牲畜占比大。制鞋业是埃塞俄比亚重点引进的工业部门,产品主要销往欧洲市场,厂家大部分来自中国的产业转移。图 7 是埃塞俄比亚区位略图,亚的斯亚贝巴附近制鞋企业高度集中。

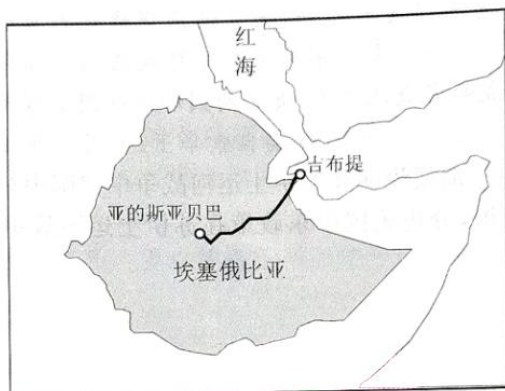


图 7

- (1)埃塞俄比亚引进制鞋业的原因与本国国情及制鞋业特点密切相关,据此指出埃塞俄比亚国情及与之关联的制鞋业特点。(8 分)
- (2)简述亚的斯亚贝巴吸引制鞋企业集中分布的区位条件。(6 分)
- (3)说明埃塞俄比亚制鞋业对牧区发展的促进作用。(8 分)

37. 阅读图文材料,完成下列要求。(24 分)

郑国渠修建于战国末期,现在许多设施已经毁坏,图 8 是郑国渠工程复原略图(单位:m)。郑国渠总渠连通泾河与洛河,并通过支渠连通渭河。支渠向泾洛平原输水,并排走多余水量,对灌溉区起到防旱、增肥和减盐(减轻盐碱化)作用。据考证,当时工程运行过程中,泥沙大量沉积,泾洛平原地势大幅抬高。

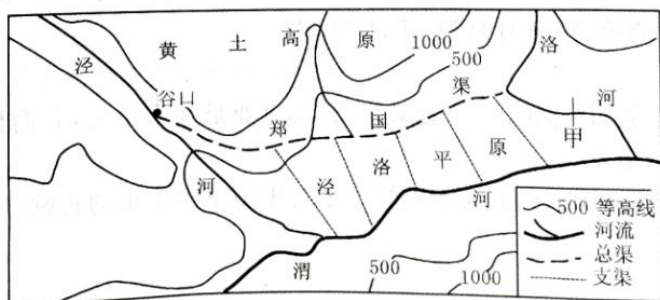


图 8

- (1)郑国渠开通后泾河输入渭河的泥沙明显减少,解释其原因。(8 分)
- (2)泾洛平原地表沉积了大量的泥沙,指出泥沙粒径的空间分布特点。(4 分)

文科综合试题 第 7 页(共 12 页)

(3)简述郑国渠影响下的洛河甲断面水文特征的变化。(6分)

(4)分析郑国渠对泾洛平原的减盐作用。(6分)

38. 阅读材料,完成下列要求。(14分)

材料一

表3 2022年我国经济发展主要数据

项目	最终消费支出	资本形成总额	货物与服务出口
对经济发展贡献率	32.8%	50.1%	17.1%
拉动GDP增长	1%	1.5%	0.5%

注:2022年我国GDP总量为1210207亿元,比上年增长3%,经济总量稳居世界第二。

材料二

中央经济工作会议于2022年12月15日至16日在北京举行。会议强调,做好明年经济工作,要以习近平新时代中国特色社会主义思想为指导,全面贯彻落实党的二十大精神,扎实推进中国式现代化,坚持稳中求进工作总基调,完整、准确、全面贯彻新发展理念,加快构建新发展格局,着力推动高质量发展,更好统筹疫情防控和经济社会发展,更好统筹发展和安全,全面深化改革开放,大力提振市场信心,把实施扩大内需战略同深化供给侧结构性改革有机结合起来,突出做好稳增长、稳就业、稳物价工作,有效防范化解重大风险,推动经济运行整体好转,实现质的有效提升和量的合理增长,为全面建设社会主义现代化国家开好局起好步。

(1)材料一反映了什么经济信息?(4分)

(2)结合材料二,运用经济生活知识,说明如何才能实现“开门稳”,为全面建设社会主义现代化国家开好局起好步。(10分)

39. 阅读材料,完成下列要求。(12分)

材料一

表4

时间	地点	问题	正确答案
1945年	延安	跳出治乱兴衰历史周期律	答案一:只有让人民来监督政府,政府才不敢松懈
2022年	北京	跳出治乱兴衰历史周期律	答案二:自我革命

材料二

1949年,毛泽东同志在党的七届二中全会上提出“两个务必”:务必使同志们继续地保持谦虚、谨慎、不骄、不躁的作风,务必使同志们继续地保持艰苦奋斗的作风。

2022年,习近平总书记在二十大报告中指出:全党同志务必不忘初心、牢记使命,务必谦虚谨慎、艰苦奋斗,务必敢于斗争、善于斗争,坚定历史自信,增强历史主动,谱写新时代中国特色社会主义更加绚丽的华章。

结合上述材料,运用政治生活相关知识说明,从“第一个答案”到“第二个答案”,从“两个务必”到“三个务必”彰显了中国共产党的哪些鲜明的政治品格。

40. 阅读材料,完成下列要求。(26分)

2022年12月9日,首届中国-阿拉伯国家峰会开幕,习近平主席发表了题为《弘扬中阿友好精神 携手构建面向新时代的中阿命运共同体》的主旨讲话。习近平指出,中国和阿拉伯国家友好交往源远流长,在丝绸古道中相知相交,在民族解放斗争中患难与共,在经济全球化浪潮中合作共赢,在国际风云变幻中坚守道义,凝聚成“守望相助、平等互利、包容互鉴”的中阿友好精神。

守望相助是中阿友好的鲜明特征。中阿彼此信任,结下兄弟情谊。在涉及彼此核心利益问题上,我们坚定相互支持。在实现民族振兴梦想的事业中,我们携手团结共进。在抗击新冠肺炎疫情的斗争中,我们始终风雨同舟。中阿全面合作、共同发展、面向未来的战略伙伴关系牢不可破。

平等互利是中阿友好的不竭动力。中阿互利共赢,树立南南合作典范。双方已在中阿合作论坛框架内建立17项合作机制。10年来,中阿贸易额增长1000亿美元,总额超过3000亿美元;中国对阿拉伯国家直接投资增长2.6倍,存量达230亿美元;共建“一带一路”实施200余个项目,惠及双方近20亿人民。

包容互鉴是中阿友好的价值取向。中阿文明相互欣赏,书写互学互鉴的历史佳话。我们从彼此古老文明中汲取智慧,共同弘扬“重和平、尚和谐、讲信义、求真知”的文明真谛。我们在“文明冲突”的鼓噪中守正不移,共同倡导文明对话,反对文明歧视,守护世界文明多样性。

(1)运用文化生活知识,说明如何实现“中阿文明相互欣赏,书写互学互鉴的历史佳话”。(10分)
(2)结合材料,运用价值判断和价值选择的知识说明为什么中阿合作论坛取得了累累硕果。(12分)

(3)为了让阿拉伯国家人民更好地了解我国优秀传统文化,请你以我国某一优秀传统文化为背景撰写一篇介绍短文。(4分)(100字以内,写清楚地点、内容或人物等)

41. 阅读材料,回答下列问题。(25分)

材料一

英国毛纺业在15、16世纪成为民族工业,以科茨沃兹为中心的格罗斯特郡,与邻近的威尔特郡、萨默塞特郡一道,成为英国最重要的毛纺织区。随着毛纺业发展,新兴纺织城镇和纺织村庄遍布科茨沃兹地区。但这种基于传统手工技术和旧有组织方式的生产,难以抵挡新技术和机器大工业的冲击,科茨沃兹所在西部毛纺区不但没有率先发生工业革命,甚至还未紧随。这个英国原工业化“先锋”,在迈向工业革命的进程中落伍了,西部原有毛纺业城镇逐渐“空心化”。

从中世纪起,科茨沃兹当地人普遍用这种岩石筑房,其建筑的样式与色泽别具风格,加上

绿色的草地、白色的羊群、赭色的岩石、遍布的毛纺业遗址,使得这里旅游资源极为丰富。1966年,科茨沃兹被规划成英格兰最大的“卓越自然美区域”而进行建设。2000年被列为国家公园。随着乡村旅游成为科茨沃兹经济新增长点和最重要的经济部门,该地区居民收入远高于伯明翰、曼彻斯特、利物浦、利兹等大工商业都市区。

——摘编自刘景华《科茨沃兹:城镇化进程中成功转身的美丽乡村》

材料二

在旅游开发晚于周庄、西塘等同类古镇的背景下,另辟蹊径的“乌镇模式”成了国内古镇旅游开发的典范。乌镇文化遗存与水乡风光在精心保护中得到了传承创新,成了年接待游客量超千万人次的“梦里水乡”。随着长三角区域一体化发展上升为国家战略,以乌镇为“圆心”,苏嘉湖交界区域奏响了共同富裕“交响曲”。2013年5月,由陈向宏、黄磊、赖声川、孟京辉共同发起的首届乌镇戏剧节举行。乌镇当代国际艺术展、木心美术馆……越来越多的文化元素像乌镇戏剧节一样“飞入寻常百姓家”,让乌镇从“旅游小镇”“度假小镇”,摇身一变成为国际化的“文化小镇”。2014年,乌镇成为世界互联网大会永久会址。首届世界互联网大会乌镇峰会召开以来,乌镇的数字经济企业数从12家增至1000多家。

——摘编自新华网《乌镇如何成为“世界级”》

- (1)根据材料一并结合所学知识,概括科茨沃兹地区城乡转型的基本历程,并简要分析影响各阶段状况出现的主要原因。(12分)
- (2)根据材料并结合所学知识,说明乌镇相对于科茨沃兹的有利发展条件。(8分)
- (3)根据材料并结合所学知识,谈谈你对城镇建设的认识。(5分)

42. 阅读材料,完成下列要求。(12分)

材料

纵观中国古代的乡村治理发展历程,我们不难发现,中国古代长期是以宗法观念来对社会进行管理和控制,通过税收来集中乡村社会资源,通过科举制度将文化和知识联结起国家和乡村社会,使正统封建理论在乡村社会思想领域占绝对领先和主导地位。在数千年的封建社会中,乡村治理模式以乡里制度和保甲制度为主线,结合各朝各代的具体实际情况,形成了具有当时朝代特色的乡村治理模式。中国古代乡村治理在潜移默化中,一直遵循其内在规律,即国家政权通过多种方式保持对乡村社会的有效控制,但是在治理的介入方面较为适度,以便达到长治久安的目的。

——摘编自朱亮《中国古代乡村治理模式演变及其特点》

根据材料并结合所学知识,就中国古代某一朝代影响乡村治理的一个举措进行阐释。(要求:朝代明确,史实准确,史论结合,表述清晰)

(二)选考题:共 25 分。请考生从 2 道地理题、3 道历史题中每科任选一题作答。如果多做,则每科按所做的第一题计分。

43.【地理——选修 3:旅游地理】(10 分)

南昌绕城高速公路泉岭出入口距离南昌市区约 30 千米。出入口附近分布着大片草莓种植园,每当草莓成熟季节,大批游客纷至沓来,品尝新鲜草莓,领略田园风光,其中来自南昌市区的游客占比较大。

简述该草莓园游客中南昌市区游客占比较大的原因。

44.【地理——选修 6:环境保护】(10 分)

受疫情影响,当前全球一次性口罩使用量每月达 430 亿个。一次性口罩属于塑料制品,与普通塑料制品不同的是,其回收利用没有官方指导,且在环境中容易分裂成无孔不入的塑料微粒。

与普通塑料制品相比,简述一次性口罩对环境危害表现的异同点。

请考生在第 45、46、47 三道历史题中任选一题作答。如果多做,则按所做的第一题计分。作答时用 2B 铅笔在答题卡上把所选题目的题号涂黑。

45.【历史——选修 1:历史上重大改革回眸】(15 分)

材料

日本实行普及教育时,深感教师缺乏。1886 年,明治政府颁布了《师范教育令》,确立了两级师范体制。寻常师范学校由地方设立,培养公立小学的教师和校长;高等师范学校是中等教育,由国家设立。为了解决中等学校教师的不足,除在师范学校内设立中等师范科外,还采取各科短期训练的方式进行这项工作。与此同时,明治政府还采取一些积极措施,提高教师特别是小学教师的社会地位和物质待遇。明治维新后大约经过 30 年时间,到 1896 年 3 月,国会终于通过了《小学教员年功加薪国库补助法》。这一法令规定,凡是达到 5 年教龄的小学教师,本薪一律加 15%,以后每增加 5 年加薪 10%,但最多加到 35%。在这一时期,政府明确规定教师的社会地位“与一般官吏同”,还建立健全教师管理制度,把中等学校、师范学校以上的教师的任免权,上交中央政府,由文部大臣检定。

——摘编自贺小飞《浅析日本明治维新时期的教育改革》

(1)根据材料并结合所学知识,概述明治政府师范教育改革取得的成效。(9 分)

(2)根据材料并结合所学知识,简析明治政府师范教育改革取得成功的原因。(6 分)

46.【历史——选修3:20世纪的战争与和平】(15分)

材料

纳赛尔政府经过慎重考虑,于1956年7月26日宣布苏伊士运河公司国有化,中东局势顿时紧张起来。对此,美国政府在外交上企图以“公正”“中立”的身份处理中东事务,趁机排挤英法,独霸中东。白宫担心在苏伊士运河问题上拖延会殃及巴拿马运河的主权问题,因而在苏伊士运河战争的整个过程中,它既不能支持埃及收回运河从而公然破坏与英法的盟国关系,又不能支持英法继续强占运河开罪阿拉伯国家进而将其推向苏联的怀抱。

面对埃及的这一决定,英法两国反应非常激烈,决定以军事手段维护两国的利益。10月29日,英法联合以色列向埃及发动进攻,第二次中东战争爆发,也称苏伊士运河战争。11月5日,苏联以超级大国的身份向三国发出警告,扬言使用现代化毁灭性武器进攻英法本土迫使其撤军。6日,艾森豪威尔一方面命令美军进入全球警戒状态向苏联示威,另一方面催促英法尽快停火。在美、苏联合构成的威慑压力下,英法两国和以色列不得不于11月6日宣布停火。

——摘编自张华玉《十月战争时期的美国中东政策研究》

- (1)依据材料并结合所学知识,简要说明在苏伊士运河战争中美国中东政策的主要意图。(7分)
- (2)依据材料并结合所学知识,分析美国中东政策在苏伊士运河战争中产生的影响。(8分)

47.【历史——选修4:中外历史人物评说】(15分)

材料

1917年的夏天,施洋通过律师考试。次年,他在汉口后花楼街5号开办了自己的律师楼。开张当天他就接到一桩案子。一名女工在法国人的纺纱厂工作,工头“假洋鬼子”逼她嫁给自己。女工的父亲恨得一头撞死,女工告状无门,遂向施洋求助。施洋未收她的律师费,并出庭代理诉讼。“为工人打官司不收钱的施律师”声名顿时传开。不到3个月,他就为劳工打赢了9场官司。他主动担任湖北28个工厂劳工的法律顾问,组织大规模的维权行动。1922年6月,施洋接受李大钊的邀请,加入“换骨又换汤”的事业。9月9日,粤汉铁路工人举行罢工,武昌徐家棚站即由林育南、施洋领导,罢工17天,以当局被迫同意工会所提条件而获全胜。1923年2月4日,京汉铁路工人总罢工。施洋作为领导者之一,积极组织工人和学生游行示威。2月7日晚,罢工受到镇压,他亦被反动军警逮捕。法庭上,他镇定自若,一一列举军阀的恶行。2天后,施洋被判有罪,执行死刑,年仅34岁。

——摘编自林海《后花楼街5号,施律师不再来》

- (1)根据材料并结合所学知识,指出“换骨又换汤”的事业是什么事业,并简析施洋加入这项事业的历史背景。(9分)
- (2)根据材料并结合所学知识,概括施洋短暂一生对中国革命作出的贡献。(6分)

关于我们

自主选拔在线是致力于提供新高考生涯规划、强基计划、综合评价、三位一体、学科竞赛等政策资讯的升学服务平台。总部坐落于北京，旗下拥有网站（[网址: www.zizzs.com](http://www.zizzs.com)）和微信公众平台等媒体矩阵，用户群体涵盖全国 90% 以上的重点中学师生及家长，在全国新高考、自主选拔领域首屈一指。

如需第一时间获取相关资讯及备考指南，请关注**自主选拔在线**官方微信信号：**zizzsw**。

