

2021年河北省普通高中学业水平选择性考试模拟演练

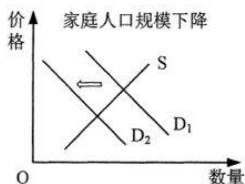
思想政治

注意事项：

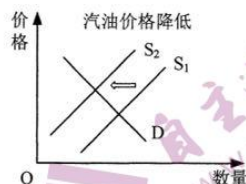
1. 答卷前，考生务必将自己的姓名、考生号、考场号、座位号填写在答题卡上。
2. 回答选择题时，选出每小题答案后，用铅笔把答题卡上对应题目的答案标号涂黑。如需改动，用橡皮擦干净后，再选涂其它答案标号。回答非选择题时，将答案写在答题卡上。写在本试卷上无效。
3. 考试结束后，将本试卷和答题卡一并交回。

一、选择题：本题共 15 小题，每小题 3 分，共 45 分。在每小题给出的四个选项中，只有一项是符合题目要求的。

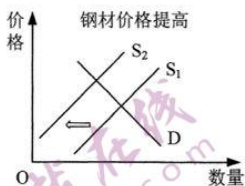
1. 随着经济的快速发展，家庭自驾游越来越普遍，大型 SUV（运动型多功能汽车）因为在动力性、越野性、载物载客能力等方面的优势受到很多人的青睐，但也因为其油耗高等缺点受到一些民众的质疑。不考虑其他因素，下列各图反映了相关因素变化对大型 SUV 市场的影响，其中正确的是（图中 D 表示需求，S 表示供给）



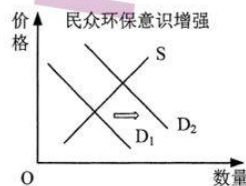
①



②



③



④

- A. ①② B. ①③ C. ②④ D. ③④

思想政治试题 第 1 页（共 8 页）



2. 近年来，国内某商业零售集团通过现代信息技术，将商品、服务和管理在线化，解决了物流效率、货物管理、成本控制等一系列零售业“痛点”和难题，巩固了自己作为国内大型连锁超市的地位。2019年全部门店到家订单增长49%，库存周转周期降至21天。结合材料，下列表述正确的是
- ① 现代信息技术能够创造商品的价值
 - ② 现代信息技术的应用有利于商品价值的实现
 - ③ 现代信息技术的应用可以提高企业的资金利用效率
 - ④ 超市利润主要来自于商品售价与商品价值之间的差额
- A. ①② B. ①④ C. ②③ D. ③④
3. 近年来，全球变暖导致极端天气事件发生的频率显著增加，实体经济遭受损失上升，进一步导致金融体系相应风险加大。正确的传导路径是：极端天气或自然灾害→
- ① 债务人违约、金融机构资产贬值或损毁→金融机构操作风险上升
 - ② 债务人偿债能力下降、抵押品贬值或损毁→金融机构信用风险上升
 - ③ 金融机构业务中断→金融机构可获取资金少于预期，流动性风险上升
 - ④ 财产险、农业险理赔给付高于预期→保险机构承受非预期损失，承保风险上升
- A. ①③ B. ①④ C. ②③ D. ②④
4. 从2020年10月1日起，国家对以珠三角9市37个港口为启运港、以广州南沙保税港区（现已升级为南沙综合保税区）为离境港的水运货物实行启运港退税政策，为出口企业提供更加便捷的退税服务，节省了企业近半个月的退税等待时间。从材料可以看出
- ① 该政策可以加速企业的资金周转
 - ② 该政策会减少政府的财政收入
 - ③ 该政策会加剧区域内企业的竞争
 - ④ 政府可以通过经济政策为企业经营提供支持
- A. ①② B. ①④ C. ②③ D. ③④



5. “十四五”规划编制把加强顶层设计和坚持问计于民统一起来。2020年8月16日至29日，“十四五”规划编制工作开展网上征求意见。广大人民群众踊跃参与，留言100多万条，有关方面从中整理出1000余条建议。通过互联网向全社会征求意见和建议，在我国五年规划编制史上是第一次。材料表明
- A. 公民可以通过社情民意反映制度行使决策权
B. 公民参与民主监督有了更多新渠道、新方式
C. 公民多渠道建言献策是人民当家作主的具体表现
D. 民主决策是社会主义民主政治的本质特征
6. 2020年11月11日通过的《全国人民代表大会常务委员会关于香港特别行政区立法会议员资格问题的决定》明确规定，香港特别行政区立法会议员，因宣扬或者支持“港独”主张、拒绝承认国家对香港拥有并行使主权、寻求外国或者境外势力干预香港特别行政区事务，或者具有其他危害国家安全等行为，不符合拥护中华人民共和国香港特别行政区基本法、效忠中华人民共和国香港特别行政区的法定要求和条件，一经依法认定，即时丧失立法会议员的资格。该《决定》
- ① 明确了香港立法会依法行政的权力边界
② 是全国人大代表行使立法权的具体体现
③ 有利于香港治理机构正常运转和社会稳定
④ 为以爱国者为主体的“港人治港”提供了制度保障
- A. ①② B. ①③ C. ②④ D. ③④
7. 2020年6月，国务院办公厅印发的《公共文化领域中央与地方财政事权和支出责任划分改革方案》，对基本公共文化服务、文化艺术创作扶持、文化遗产保护传承、文化交流、能力建设等五项事权与经费支出责任作出了新规定，如基层博物馆等免费开放公共文化设施所需经费由中央和地方依据经济发展程度按比例分担等。该《方案》有利于
- ① 推进中央和地方的权责划分，更好发挥我国制度优势
② 拓宽资金来源渠道，以中央经费促进地方公益性文化活动开展
③ 缓解不发达地区资金压力，促进基本公共文化服务区域均等化
④ 发挥地方积极性，有效降低文化交流中中央经费支出比例
- A. ①② B. ①③ C. ②④ D. ③④

思想政治试题 第3页（共8页）



8. “和平方舟”号是一艘中国海军专业大型医院船。入列 12 年来，9 次走出国门，累计航行 24 万余海里，到访 43 个国家和地区，为 23 万多人次提供医疗服务，举办 100 多场次文化交流活动，成为名副其实的和平之舟、生命之舟、友谊之舟、文化之舟。材料表明
- ① “和平方舟”号远航以文明交流超越文明隔阂
② “和平方舟”号远航践行了海洋命运共同体理念
③ “和平方舟”号远航体现了我国外交政策的基本立场
④ “和平方舟”号是我国参与联合国维和行动的重要力量
- A. ①② B. ①④ C. ②③ D. ③④
9. 陈老伯被车碰了以后说：“咱不讹人。”话语中透着人性的朴实善良，更给我们一个温馨提醒：当你谦恭真诚待人，社会无处不是“六尺巷”。下列选项中符合题意的是
- ① 正其谊谋其利 ② 己所不欲勿施于人
③ 明其道计其功 ④ 万物各得其所和以生
- A. ①② B. ①③ C. ②④ D. ③④
10. 2020 年 12 月 6 日，2020 “亲亲闽台缘”两岸非遗文化云交流活动在厦门集美拉开帷幕。两岸非遗传承人纷纷亮出自己的绝活儿，再续两岸文化情缘，多名在闽台青、台商、台生现场观看，多平台直播也吸引了两岸网友线上观看。这说明
- ① 非遗文化有明显的地域特征 ② 中华优秀传统文化凝聚两岸民心
③ 科技创新是文化交流的主要手段 ④ 中华民族共同体也是文化共同体
- A. ①③ B. ①④ C. ②③ D. ②④
11. 回首历史，从“走在时间前面的人”王崇伦到“当代雷锋”郭明义，从“铁路小巨人”巨晓林到“金牌焊工”高凤林……一代又一代热爱劳动、勤于劳动、善于劳动的高素质劳动者，用对事业的“痴”、对岗位的“爱”、对工作的“狂”，垒筑起共和国的巍峨大厦，标注了建设者们的奋斗底色。从材料中我们可以得出
- ① 勤劳是事业成功的必要条件 ② 奋斗精神既是历史的也是现实的
③ 奋斗精神既是民族的也是世界的 ④ 爱国既是抽象的也是具体的
- A. ①② B. ①③ C. ②④ D. ③④

思想政治试题 第 4 页（共 8 页）



12. 恩格斯在致斐迪南·拉萨尔的信中指出：“主要的出场人物是一定的阶级和倾向的代表，因而也是他们时代的一定思想的代表，他们的动机不是来自琐碎的个人欲望，而正是来自他们所处的历史潮流。”这表明历史人物的思想
- A. 决定着社会历史发展的潮流
B. 都是其所处时代精神的精华
C. 都是对特定时代的经济和政治的反映
D. 在任何时代都是占统治地位的思想
13. 2020年12月17日，嫦娥五号返回器携带月壤安全着陆，标志着嫦娥五号探月任务圆满完成。从嫦娥一号到嫦娥五号，再到嫦娥六号、嫦娥七号、嫦娥八号……我国对月球的探索将永不停步。材料
- ① 说明了思维能够正确反映存在
② 证实了思维和存在不具有同一性
③ 揭示了实践是检验真理的唯一标准
④ 体现了人类对未知世界的探索是一个过程
- A. ①③ B. ①④ C. ②③ D. ②④
14. 人工影响天气在水源涵养、水土保持、植被恢复、生物多样性保护、水库增蓄水等方面具有重要作用。2020年12月，国务院办公厅印发《关于推进人工影响天气工作高质量发展的意见》，提出了推进人工影响天气工作高质量发展的具体举措。推进这项工作表明
- ① 科学认识气象条件可以减少灾害的发生
② 用人为手段可以使天气现象朝着人们预定的方向转化
③ 根据气象规律发生的条件可以很好地利用气象规律
④ 在认识气象规律的基础上可以改变气象规律
- A. ①③ B. ①④ C. ②③ D. ②④
15. 党的十九届五中全会对“四个全面”战略布局的内涵作出了最新表述——“协调推进全面建设社会主义现代化国家、全面深化改革、全面依法治国、全面从严治党的战略布局”。“全面建成小康社会”变为“全面建设社会主义现代化国家”。这种表述上的变化所蕴含的哲学道理是
- ① 事物的发展是绝对运动与相对静止的统一
② 事物的发展是统一性和多样性的统一
③ 事物的发展是连续性与非连续性的统一
④ 事物的发展是前进性与曲折性的统一
- A. ①② B. ①③ C. ②④ D. ③④



二、非选择题：本题共 5 小题，共 55 分。

16. 阅读材料，完成下列要求。（12 分）

2020 年 11 月 15 日，区域全面经济伙伴关系协定（RCEP）正式签署，标志着当前世界上人口最多、经贸规模最大、最具发展潜力的自由贸易区正式启航。2019 年，RCEP15 个成员国总人口达 22.7 亿，国内生产总值达 26 万亿美元，均占全球总量约 30%。RCEP 的签署将使成员国之间的货物贸易最终零关税产品数整体上超过 90%，服务贸易和投资总体开放水平显著提高，意味着全球约三分之一的经济体量形成一体化大市场。

下面两图反映了 2019 年我国与其他 RCEP 成员国之间货物贸易往来的情况。

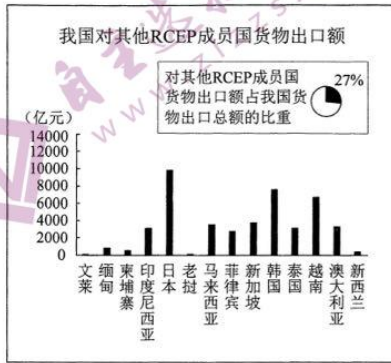


图 1

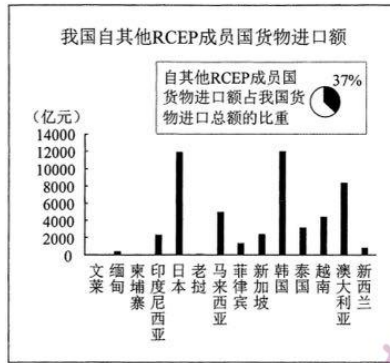


图 2

数据来源：《中国统计年鉴-2020》

- 解读图中我国与其他 RCEP 成员国之间的经贸往来信息。（6 分）
- 分析 RCEP 的签署对于构建以国内大循环为主体、国内国际双循环相互促进的新发展格局的意义。（6 分）

17. 阅读材料，完成下列要求。（10 分）

材料一

随着人工智能、大数据等信息技术的快速发展，在线预约、扫码支付等新业态新模式竞相涌现。A 县积极推进“互联网+政务”服务，推出“最多跑一次”事项清单，甚



至让部分事项“一趟也不用跑”，方便了群众办事，提高了服务效能。然而，一些老年人由于不会上网、不会使用智能手机，无法充分享受智能化带来的便利。

材料二

党的十九届五中全会审议通过的《中共中央关于制定国民经济和社会发展第十四个五年规划和二〇三五年远景目标的建议》提出：“加强数字社会、数字政府建设，提升公共服务、社会治理等数字化智能化水平。”

结合材料，说明在数字政府建设进程中，A县应如何提升公共服务水平。

18. 阅读材料，完成下列要求。（12分）

2012年12月，习近平总书记在河北省阜平县考察扶贫开发工作时指出：只要有信心，黄土变成金。各级党委和政府要把帮助困难群众特别是革命老区、贫困地区的困难群众脱贫致富摆在更加突出位置，因地制宜、科学规划、分类指导、因势利导，各项扶持政策要进一步向革命老区、贫困地区倾斜，进一步坚定信心、找对路子，坚持苦干实干，推动贫困地区脱贫致富、加快发展。

2017年1月，习近平总书记在春节前夕赴河北省张家口市看望慰问基层干部群众时指出：打好脱贫攻坚战，要下好“精准”这盘棋，做到扶贫对象精准、扶贫产业精准、扶贫方式精准、扶贫成效精准。

河北省委、省政府团结带领广大干部群众认真贯彻落实习近平总书记的重要指示批示，奋力书写新时代脱贫攻坚的河北答卷。2020年，农村贫困人口全部脱贫，7746个贫困村全部出列，62个贫困县全部摘帽，脱贫攻坚战取得决定性胜利。

运用辩证唯物论的基本原理，阐明河北省为何能取得脱贫攻坚战决定性胜利。

19. 阅读材料，完成下列要求。（12分）

材料一

在《咬文嚼字》编辑部揭晓的中国2020年十大流行语中，“逆行者”成为年度热词。在中国共产党领导的全国人民抗疫斗争中，钟南山、张伯礼、张定宇、陈薇……一个个“逆行者”的身影，展现了抗疫勇士们义无反顾、向险而行，以生命赴使命守护公众健康安全的奋斗者风采。

材料二

在耶鲁大学法学院公布的美国2020年十大流行语中，“戴口罩”名列前茅。美国传染病专家福奇对美国公众发出了呼求——“戴口罩”，但是美国绝大部分地区民众认为是否戴口罩是他们的自由。美国《新英格兰医学杂志》的评论文章认为，美国在个人防护行动方面“一直做得很差劲”。



运用文化生活知识，分析材料中的流行语所蕴含的价值观念，并说明这些价值观念是如何影响中美两国抗疫效果的。

20. 阅读材料，完成下列要求。(9分)

材料一

自 2014 年以来，全球受饥饿影响的人数一直在上升。在全球范围内，约有 14% 的粮食在收获后到零售前的环节被损失。在零售和消费环节，也有大量的粮食被浪费。2019 年，第 74 届联合国大会将 9 月 29 日设立为国际粮食损失和浪费问题宣传日。

材料二

党的十八大以来，习近平总书记就制止餐饮浪费行为多次作出重要指示，强调要在全社会营造浪费可耻、节约为荣的氛围。当前，不少餐厅酒店针对餐饮浪费现象亮出“新招”，推出半份菜、小份菜，提倡餐后打包，积极参与到厉行节约、反对浪费的行动中。以“浪费可耻·节约为荣”为主题，拟一个校园宣传活动方案提纲。

要求：① 阐明活动的目的意义；

② 方案要素的设计要紧扣活动主题；

③ 150 字左右。

关于我们

自主选拔在线是致力于提供新高考生涯规划、强基计划、综合评价、三位一体、学科竞赛等政策资讯的升学服务平台。总部坐落于北京，旗下拥有网站（<http://www.zizzs.com/>）和微信公众平台等媒体矩阵，用户群体涵盖全国90%以上的重点中学师生及家长，在全国新高考、自主选拔领域首屈一指。

如需第一时间获取相关资讯及备考指南，请关注**自主选拔在线**官方微信号：**zizzsw**。



微信搜一搜



自主选拔在线

关注后获取更多资料：

回复“答题模板”，即可获取《高中九科试卷的解题技巧和答题模版》

回复“必背知识点”，即可获取《高考考前必背知识点》