

## 杭州二中 2022 学年第二学期高三年级第一次月考政治试卷

一、判断题（本大题共 5 小题，每小题 1 分，共 5 分。判断下列说法是否正确，正确的请将答题纸相应题号后的 T 涂黑，错误的请将答题纸相应题号后的 F 涂黑）

1. 中国梦是幸福梦，也是世界各国人民共同的梦。
2. 2022 年 11 月杭州市发布《杭州市“一老一小”整体解决方案》，有利于建设老年友好型社会和儿童友好型社会。
3. 全面从严治党是推进党的建设新的伟大工程的必然要求。
4. 严格执法和公正司法是建设社会主义法治国家的根本保证。

5. “历史长河波澜壮阔，一代又一代人接续奋斗创造了今天的中国。”这佐证了量变必然会引起质变。 二、  
**选择题 I（本大题共 17 小题，每小题 2 分，共 34 分。每小题列出的四个备选项中只有一个是符合题目要求的，不选、多选、错选均不得分）**

6. 恩格斯在《家庭、私有制和国家的起源》中提到：“一切部门中生产的增加，使人的劳动力能够生产出超过维持劳动力所必需的产品，这也增加了氏族、家庭公社或个体家庭的每个成员所担负的每日的劳动量，吸收新的劳动力成为人们向往的事情了，于是战争提供了新的劳动力：俘虏被变成了奴隶。”这一论述
  - A. 反映奴隶阶级的产生是生产工具私有带来的结果
  - B. 说明奴隶制阶级关系的产生由生产力的发展决定
  - C. 反映出变战俘为奴隶是氏族家庭成员增加的需要
  - D. 说明奴隶制社会代替原始社会是历史进步的体现
7. 下表是改革开放以来党的历次三中全会召开的时间和中心议题。纵观这些“中心议题”，我们可以得出的正确结论是

| 会议      | 中心议题                  |
|---------|-----------------------|
| 十一届三中全会 | 把全党工作重点转移到社会主义现代化建设上来 |
| 十二届三中全会 | 经济体制改革                |
| 十三届三中全会 | 治理经济环境，整顿经济秩序         |
| 十四届三中全会 | 建立社会主义市场经济体制          |
| 十五届三中全会 | 建设社会主义新农村             |
| 十六届三中全会 | 完善社会主义市场经济体制          |
| 十七届三中全会 | 新形势下推进农村改革发展的若干重大问题   |
| 十八届三中全会 | 全面深化改革若干重大问题          |
| 十九届三中全会 | 深化党和国家机构改革            |

- ①改革开放以来，党工作的重点始终是社会主义现代化建设
- ②改革开放越是深化，社会主义建设暴露的问题和困难越多
- ③党坚定推进改革开放，改革开放是当代中国最鲜明的特色
- ④十一届三中全会以来，全部改革都是为完善市场经济体制

A. ①②                      B. ①③                      C. ②④                      D. ③④

8. 到 1956 年底，加入农业生产合作社的社员总户数已达全国农户总数的 96.3%。随着土地及耕畜、大型农具等主要生产资料归农业生产合作社集体所有，亿万农民彻底摆脱了小块土地私有制的束缚，走上



合作经济的发展道路。上述成就

- A. 从一个侧面说明当时我国农业现代化水平已走在世界前列  
B. 表明我国已基本完成了对个体农业的社会主义改造  
C. 解决了建立先进工业国的要求同落后农业国现实之间的矛盾  
D. 为实现由新民主主义社会向社会主义社会的过渡创造了前提条件
9. 习近平强调：“中国特色社会主义不是从天上掉下来的，而是在改革开放 40 年的伟大实践中得来的，是在中华人民共和国成立近 70 年的持续探索中得来的，是在我们党领导人民进行伟大社会革命 97 年的实践中得来的，是在近代以来中华民族由衰到盛 170 多年的历史进程中得来的，是对中华文明 5000 多年的传承发展中得来的，是党和人民历经千辛万苦、付出各种代价取得的宝贵成果。得到这个成果极不容易。”这充分表明
- A. 中国特色社会主义具有科学性必然性 B. 各国的社会发展只具有多样性  
C. 人类社会发展的一般进程具有差异性 D. 比较别人的路才能远眺前行的路
10. 站在新的历史起点上，习近平新时代中国特色社会主义思想在理论层面作出了新突破、新发展，其核心内容与科学内涵在“八个明确”的基础上，丰富和发展为“十个明确”。这一变化
- ①充分彰显了中国共产人与时俱进的理论品格  
②为中华民族伟大复兴提供了“路线图”和“方法论”  
③是中国共产党不断推进马克思主义中国化的理论必然  
④树立了习近平新时代中国特色社会主义思想的“四梁八柱”
- A. ①② B. ①③ C. ②④ D. ②③
11. 2022 年 1-7 月份，高技术产业投资快速增长，同比增长 20.2%。具体增长数据如下表：

| 产业类型 | 高技术制造业投资     |                  |                | 高技术服务业投资  |         |            |
|------|--------------|------------------|----------------|-----------|---------|------------|
|      | 电子及通信设备制造业投资 | 医疗仪器设备及仪器仪表制造业投资 | 航空、航天器及设备制造业投资 | 电子商务服务业投资 | 信息服务业投资 | 科技成果转化服务投资 |
| 增长比例 | 27.5%        | 26.6%            | 19.9%          | 47.6%     | 18.2%   | 16.2%      |

这表明

- ①高质量发展的技术支撑能力得到增强 ②实体经济的吸引力从根本上得以改善  
③资本支持先进制造业的意愿显著提高 ④我国的经济发展方式已初步完成转变
- A. ①② B. ①③ C. ②④ D. ③④
12. 中国人民银行数据显示，当前我国实体经济融资需求偏弱。2022 年 7 月人民币贷款增加 6790 亿元，比去年同期少增 4042 亿元；社会融资规模增量为 7561 亿元，同比少增 3191 亿元。下列举措能改善上述状况的有
- ①提高存款准备金率 ②加大减税降费力度  
③减少国债发行规模 ④持续优化营商环境
- A. ①③ B. ①④ C. ②③ D. ②④
13. 2022 年“中央一号”文件聚焦“全面推进乡村振兴”，提出“数商兴农”工程。“数商兴农”着眼于改善农村电商的基础设施、物流配送和农产品电商化，促进产销衔接，打通农产品上行“最初一公里”和工业品下行“最后一公里”。实施“数商兴农”旨在
- ①借助现代信息技术，推进农业农村现代化  
②推动农村所有制结构变革，助力乡村振兴  
③营造乡村产业发展基础环境，强化以工补农  
④推动供给侧与消费侧有效对接，促进城乡协调发展
- A. ①② B. ①④ C. ②③ D. ③④
14. 1935 年 1 月召开的遵义会议，确立了毛泽东同志在党中央和红军的领导地位，在最危急关头挽救了党、挽救了红军、挽救了中国革命。改革开放后，邓小平同志强调：“改革要成功，就必须有领导有秩序地进行。”党的十八大以来，我们战胜了国内外一系列重大风险挑战，根本在于坚决维护习近平同志党中央的核心、全党的核心地位。党的百年历史充分证明



- ①推进全面从严治党是党的建设新的伟大工程的必然要求
- ②党中央权威和集中统一领导是关系党和国家命运的根本性问题
- ③坚持和加强党的全面领导就是要确保党始终处于领导核心地位
- ④中国共产党领导和执政地位的确立是历史和人民的选择

A. ①③      B. ①④      C. ②③      D. ②④

15. Z省在国家治理制度框架下，谋划实施“县乡一体、条抓块统”集成改革。“县乡一体”就是打通县乡断层，形成扁平高效的治理共同体。全面推动职能部门在保障履行专业职责基础上更大程度放权基层、服务基层，把乡镇做强，提高对资源、平台、队伍的统筹协调能力。Z省推动集成改革旨在

- ①创新基层群众自治形式，发展基层民主
- ②贯通县乡治理主体，提升基层治理质效
- ③推进乡村振兴，实现同步富裕，促进协调发展
- ④建设职能科学政府，更好服务人民群众

A. ②④      B. ①③      C. ①②      D. ③④

16. 2022年12月，某省第二中级人民法院公开开庭审理了Y投资咨询有限公司不服省人民政府依法作出的行政复议决定提起行政诉讼一案。经省长授权，副省长刘某作为省政府负责人出庭应诉。行政机关负责人出庭应诉

- ①体现了法律面前一律平等的原则
- ②是加大行政处罚力度的重要措施
- ③能够促进政府与社会组织的沟通
- ④能够推动行政机关职能的法定化

A. ①③      B. ①④      C. ②③      D. ②④

17. 某地构建“区级—街镇—社区—小区—楼（栋）门”纵向管理的五级社区治理网格体系，将治理触角延伸至楼门栋长，充分发挥楼门栋长政策法规宣传员、社情民意信息员、矛盾调解信息员、平安稳定巡查员、环境卫生监督员的“网底”作用，打通了社区治理的“最后一米”。“楼门栋长”机制

- ①创新基层治理形式，增强社区居民的获得感
- ②激发多元主体热情，保障社会管理职能共同行使
- ③完善基层治理平台，提升社区精细化管理服务水平
- ④健全人民当家作主制度框架，发展全过程人民民主


A. ①②      B. ①③      C. ②④      D. ③④

18. 丘成桐说，基础科学是研究所有和宇宙中物理现象有关问题的学问，必须对大自然有一个宏观的看法，因此需要哲学思想作为支撑。哲学思想应有助于人类了解大自然并懂得如何与大自然和谐相处。近代基础科学家中就有牛顿、爱因斯坦等人，他们也是有名的思想家，其学问和思想影响科学界达数个世纪之久。由此可见

- ①基础科学在发展中能概括出最一般的结论
- ②基础科学的发展需要正确世界观的指导
- ③哲学是“科学之母”，是科学之“科学”
- ④哲学能为科学研究活动指引正确的方向

A. ①③      B. ①④      C. ②③      D. ②④

19. 漫画意在告诉我们



- ①树立整体观念，形成发展合力
- ②社会实践具有客观物质性特征
- ③重视关键部分，推动整体发展
- ④只要尊重客观规律就能事半功倍

A. ①②      B. ①④      C. ②③      D. ③④



20. 2022年12月5日,我国成功完成在空间水稻和拟南芥全生命周期培养实验。目前,科学家正在解析返回的水稻和拟南芥种子在空间微重力作用的变化规律,为进一步创制适应空间环境的作物和开发利用空间微重力环境资源提供理论依据。这反映了

- ①认识应在实践基础上沿着科学方向深化发展
- ②理性认识对科学实验的指导更可靠、更深刻
- ③创新思维坚持问题导向,以求开辟新的未来
- ④太空种植实验的根本目的在于科学理论创新

A. ①②      B. ①③      C. ②④      D. ③④

21. 2022中国正能量“五个一百”网络精品征集评选展播活动正,以“团结奋进新征程同心奋斗创伟业”为主题,立足新时代新征程新伟业,顺应网络传播新形势新变化,以正能量引领亿万流量,用主旋律奏响奋进乐章。可见,该评选活动的意义在于

- ①创新网络文化,不断提升网民的科学文化素养
- ②丰富中华优秀传统文化内涵,推动其创新性发展
- ③塑造主流舆论新格局,营造崇德向善的社会氛围
- ④弘扬社会主义核心价值观,发挥正能量的鼓舞作用

A. ①②      B. ①④      C. ②③      D. ③④

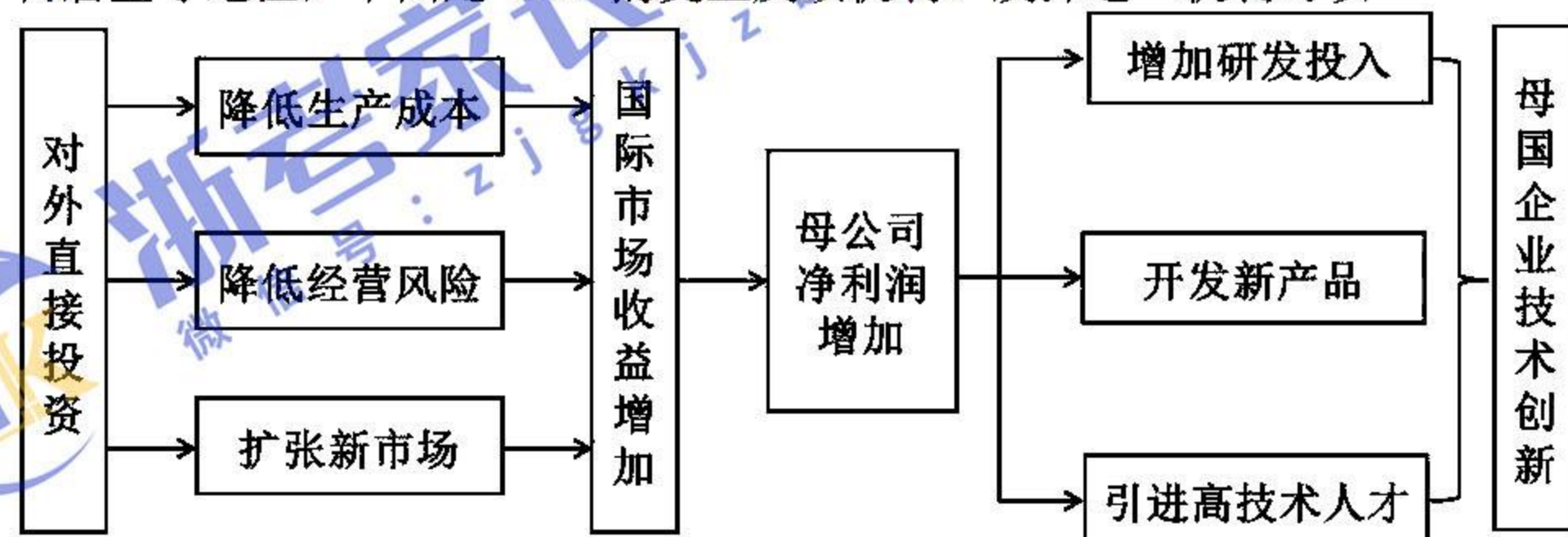
22. 2022年某省积极推进公共文化场馆“深夜食堂”,打造居民10分钟文化活动圈,为广大市民打造精神文化。该省23家公共图书馆接待读者近480万人次,21家文化馆文化服务惠及群众近181万人次,夜逛文化场馆成为公众文化生活新常态。该省做法意在

- ①丰富文化产品供给,促进文化产业发展
- ②发展文化事业,保障人民基本文化权益
- ③改善公共文化服务,增强市民的获得感
- ④释放文化的经济价值,推动高质量发展

A. ①②      B. ①④      C. ②③      D. ③④

**三、选择题II (本大题共7小题,每小题3分,共21分。每小题列出的四个备选项中只有一个是符合题目要求的,不选、多选、错选均不得分)**

23. 在经济全球化背景下,随着跨国公司的出现,ODI(对外直接投资)成为企业国际化经营的基本形式,并逐渐占居主导地位,下图是ODI的受益反馈机制。发挥这一机制可以



- ①充分利用国内国际两个市场两种资源,促进生产要素优化配置
- ②提高企业对外开放水平,加强国际交流合作,更好地利用外资
- ③发挥综合效应,降低成本风险,扩大市场规模,畅通国内循环
- ④引导企业充分利用世界各地优势,实现规模效益,推动科技创新

A. ①②      B. ①④      C. ②③      D. ③④

24. 在《上海合作组织成员国元首理事会撒马尔罕宣言》中,成员国认为,中亚是上合组织的“核心区”;成员国呼吁国际社会发挥联合国的中心作用,根据《联合国宪章》及国际法原则全面落实联合国安理会有关决议和《联合国全球反恐战略》,加强全球反恐合作。这表明

- ①反恐是上合组织的重要合作领域
- ②上合组织主要代表中亚国家的利益



- ③联合国宪章是当代国际秩序的重要基础
- ④对话合作、共谋发展的上海精神得到实践

A. ①③                  B. ①④                  C. ②③                  D. ②④

25. 下列哪些情况下甲、乙之间所有权没有转移

- ①甲与乙签定房屋买卖合同，乙付钱，双方约定三月后过户
- ②甲的自行车丢失，后查知被丙所偷，但丙已将自行车卖给了乙
- ③甲让丙帮忙保管电脑，丙却在二手市场将电脑以市场价格卖给了乙
- ④甲购买乙的汽车一辆，约定15天后交付，结果3天后汽车被交警扣押

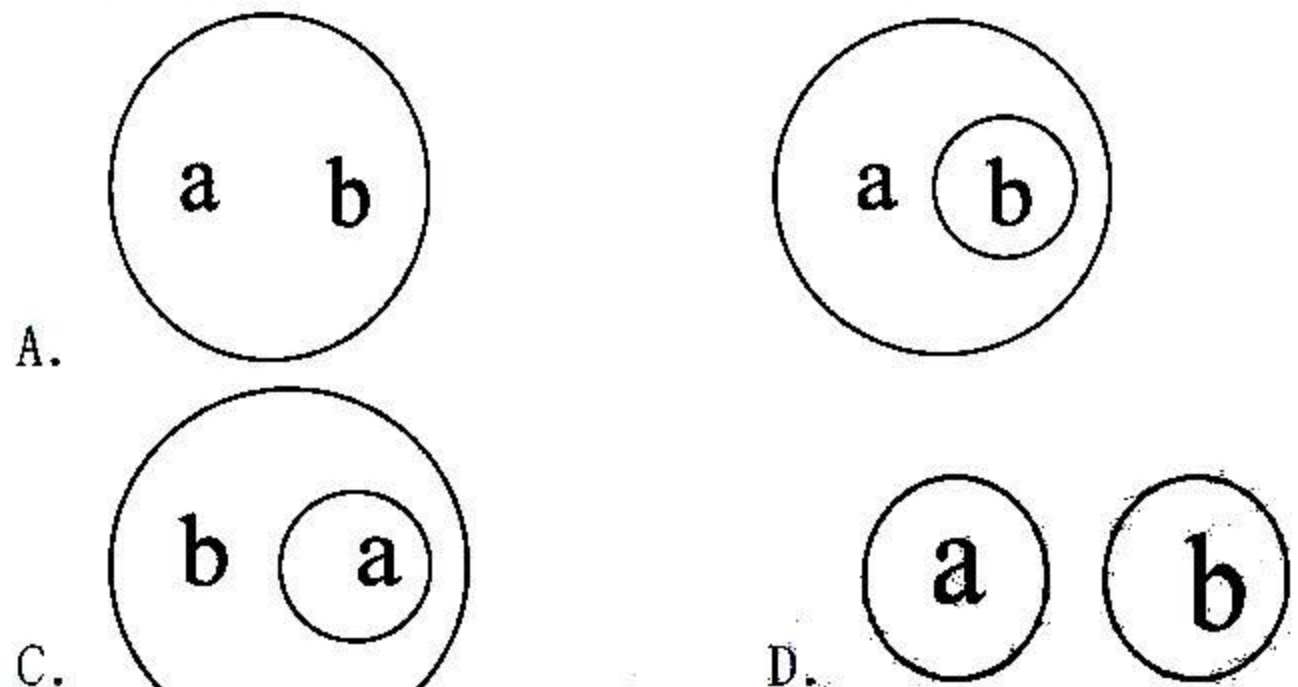
A. ①②                  B. ①④                  C. ②③                  D. ③④

26. 某小区多名业主反映，购房时开发商宣传的“楼盘属于××新区”及“小区学区为××小学锦绣校区和××中学”均不属实，存在误导消费者购房的行为。如反映属实，则

- ①该购房合同自始无效
- ②开发商存在不正当竞争行为
- ③开发商没有完全履行合同义务
- ④开发商应以继续履行方式承担违约责任

A. ①②                  B. ③④                  C. ②③                  D. ①④

27. 下列欧拉图中，能正确表示“中国 a”和“浙江省 b”这两个概念的外延之间的关系的是（    ）



28. 以下三段论中与其它三个并非违反同一推理规则的是

- A. 有的同学是运动员，有的运动员是影星，所以有的同学是影星。
- B. 党员要发挥榜样作用，我不是党员，所以我不用发挥榜样作用。
- C. 审判员在法院工作，这些人在法院工作，所以这些人是审判员。
- D. 一部分中国人很有钱，浙江人是中国人，所以浙江人很有钱。

29. 在“草船借箭”故事中，诸葛亮识破周瑜诡计，凭借其通天文、识地理的才能，料定三天后江面有大雾，就立下军令状“只需要三天”。然后再利用曹操多疑的性格，调草船诱敌放箭，得箭十万余支，顺利完成军令。在故事中，诸葛亮能完成军令是因为他

- ①具有超前思维能力，准确预测了当时的天气变化
- ②进行联想思维活动，正确把握了敌我双方的联系
- ③运用逆向思维方法，善于把自己劣势转化为优势
- ④发挥发散思维优势，根据实际寻求多种解决方案

A. ①②                  B. ①③                  C. ②④                  D. ③④





#### 四、综合题(本大题共 5 小题, 共 40 分)

30.十年来,我国知识产权事业助力我国经济高质量发展,知识产权对经济的贡献率显著增强。

材料一 2022 年 10 月 9 日,国家知识产权局在京举办“知识产权这十年”专题新闻发布会。



注:2020 年我国专利密集型产业对 GDP 增长贡献率达到 24.6%。

材料二 十年来,中国知识产权法律制度不断完善,保护力度不断增强,“放管服”改革不断深入:高价值发明专利审查周期压减至 13 个月,发明专利平均审查周期压减至 16.5 个月,商标注册平均审查周期稳定在 4 个月;通过网上核验、告知承诺等方式,取消电子用户注册、质押登记等环节的多项证明材料,十年来累计减少证明材料约 2900 万份。中国知识产权国际合作持续深化,开展“一带一路”知识产权合作和金砖国家知识产权合作。

(1) 结合材料,运用“我国社会主义市场经济体制”的有关知识,阐明我国知识产权事业迅速发展的原因。(6 分)

(2) 运用《政治与法治》的相关知识,阐述政府如何助力知识产权事业推动经济高质量发展。(4 分)

31.中央一号文件指出,要聚焦产业促进乡村发展,持续推进农村一二三产业融合发展。南山村自然人文景观保存完好,有始建于唐代的村落和千年古树,延续百年的鲈鱼养殖。该村聚焦“农文旅”融合发展,将千年唐风文化、闽南古村落文化串联在一起,打造“养殖+种植+服务+文旅”一体的南山特色产业群。通过打造特色渔家乐,将农业和旅游业结合起来,拉长产业链,在尊重农业产业功能基础上,走出了“以农促旅、以文兴旅、以旅兴农”的发展之路,提高村民收入水平。

(1) 结合材料,分析南山村在推动“农文旅”产业融合过程中是如何正确发挥主观能动性的。(6 分)

(2) 运用《哲学与文化》其他知识,就如何发挥该村的文化优势提一条建议,并说明理由。(3 分)

32.新时代十年,我们全面推进中国特色大国外交,推动构建人类命运共同体,坚定维护国际公平正义,倡导践行真正的多边主义,旗帜鲜明反对一切霸权主义和强权政治,提出全球发展倡议、全球安全倡议,反对任何单边主义、保护主义、霸凌行径。我们推动构建新型国际关系,积极参与全球治理体系改革和建设,全面开展国际合作,赢得广泛国际赞誉,我国国际影响力、感召力、塑造力显著提升。2022 年 11 月 15 日,国家主席习近平在二十国集团领导人第十七次峰会上指出:当今世界正在经历百年未有之大变局,这是世界之变、时代之变、历史之变。当前,新冠肺炎疫情反复跌宕,世界经济脆弱性更加突出,地缘政治局势紧张,全球治理严重缺失,粮食和能源等多重危机叠加,人类发展面临重大挑战。

结合材料,运用《当代国际政治与经济》相关知识,回答下列问题:

(1) 未来五年,面对全人类共同挑战,中国特色大国外交为推动全球治理体系变革注入动力,指明方向。请运用“世界多极化”相关知识,对此加以说明。(6 分)

(2) 请从国际组织角度就当前人类面临的重大挑战向成员国发出一个倡议,撰写一份倡议书。(3 分) 要求:①围绕主题,逻辑清晰;②学科术语使用规范;③总字数在 200 字左右。



33.因为在食品外包装上使用了“吃好吃”标识，J 食品有限公司被 D 食品集团有限公司告上法庭。J 公司认为，自己使用的“吃好吃”标识与 D 公司的注册商标“好吃点”在字体、读音、中文含义均不同，在商品外包装上标注的“吃好吃”只是广告语。D 公司指出，“好吃点”商标自注册以来获得过较多荣誉，在全国范围内有极高知名度，J 公司的标识仅对涉案商标作了文字调整，极易导致公众混淆和误认。

结合材料，运用《法律与生活》《逻辑与思维》相关知识，回答下列问题：

(1) 你如何看待 J 食品公司的这一行为？(6 分)

(2) 本案中，谁应承担举证责任，请说明理由。(3 分)

(3) 如果 J 食品有限公司被 D 食品集团有限公司告上法庭，法庭就会对 J 食品有限公司进行法律制裁。请指出该判断的类型并据此列举两个错误推理结构的判断。(3 分)

