

2023 年普通高校招生考试仿真模拟卷(一)

文科综合能力测试

注意事项:

1. 本试卷满分 300 分,考试时间 150 分钟。
2. 答卷前,考生务必将自己的姓名、准考证号填写在答题卡上,并将条形码粘贴在答题卡上的指定位置。
3. 回答选择题时,选出每小题答案后,用铅笔把答题卡上对应题目的答案标号涂黑。如需改动,用橡皮擦干净后,再选涂其他答案标号。回答非选择题时,将答案写在答题卡上。写在本试卷上无效。
4. 回答选考题时,考生须按照题目要求作答,并用 2B 铅笔在答题卡上把所选题目的题号涂黑。
5. 考试结束后,将本试卷和答题卡一并收回。

一、选择题:本题共 35 小题,每小题 4 分,共 140 分。在每小题给出的四个选项中,只有一是符合题目要求的。

《湖南通志·交通志》记载:“永州地区,平沟万壑,群峰壁立,羊肠土路……”矮寨大桥位于湖南省吉首市的茶山垭峡间,被推荐为“十大非去不可的世界新地标”,大桥两端直接与隧道相连,其修建用岩锚索塔结构等技术,创造了四个世界第一。右图为矮寨大桥景观图。读图,完成 1~3 题。

1. 与现在的公路相比,“羊肠土路”区域中土路一般

- A. 多沿等高线分布
- B. 线路较直
- C. 土地占有量较少
- D. 起伏较小



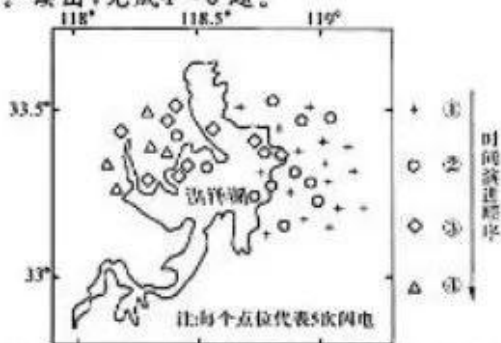
2. 矮寨大桥建设需要克服的自然条件主要是

- A. 复杂的地质
- B. 湿热的气候
- C. 湍急的河流
- D. 茂密的丛林

3. 矮寨大桥建成后,给当地带来的影响主要是

- A. 文化水平大幅提升
- B. 区域等级提升
- C. 植被覆盖率下降
- D. 旅游产业发展加快

雷暴是局地性暖湿空气强烈上升形成的天气,由水蒸气激烈上升形成的积雨云中,凝结有巨大数量的小水滴和冰晶,它们之间的高速碰撞使云体带上电荷。雷暴天气可持续几分钟到几十分钟,通常伴有降雨、大风,有时也伴有冰雹或龙卷风。下图示意某雷暴天气系统过境洪泽湖时闪电发生的时空分布状况。读图,完成 4~6 题。

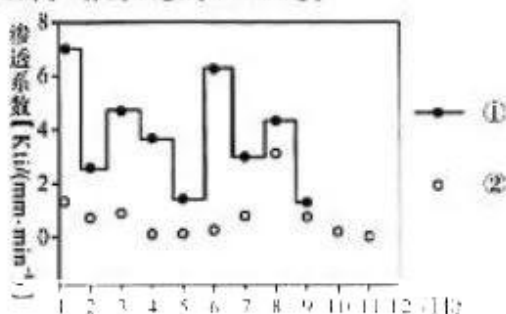


【仿真模拟卷(一)·文综 第 1 页(共 12 页)】

4. 全球范围内最容易发生雷暴天气的区域是
- A. 寒温带针叶林地区
B. 热带雨林地区
C. 温带落叶阔叶林地带
D. 亚热带常绿阔叶林带
5. 图中①→④代表的时间最可能是
- A. 日出前后
B. 午夜前后
C. 日落前后
D. 午后 14 时前后
6. 推测雷暴天气移动的方向和影响其强度发生变化的因素分别是
- A. 自东向西 地形起伏
B. 自西向东 植被覆盖率
C. 自东向西 温度差异
D. 自西向东 水汽多寡

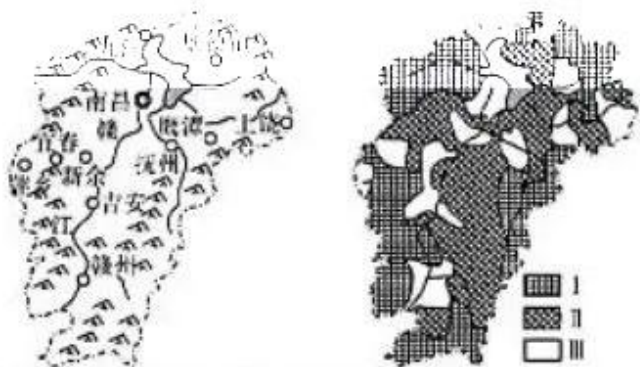
土壤入渗率,是指单位时间内地表单位面积土壤的入渗水量。右图为我国西南地区原始季雨林的集中分布区域内原生林和经济林土壤入渗率比较图。读图,完成 7~8 题。

7. 由图可知
- A. ①为经济林,土壤的含水量季节差异更大
B. ②为经济林,土壤的含水量更高
C. ②为原生林,森林的生物种类更丰富
D. ①为原生林,土壤入渗能力更高



8. 若植被由②转化为①,则该地
- A. 水土流失加剧
B. 大气湿度增加
C. 涵养水源能力下降
D. 土壤腐殖质减少

近年,江西省制定《江西省主体功能区(2010—2020 年)方案》,方案以自然环境、社会经济发展水平、生态系统特征以及产业活动类型的空间分异为依据,划分出具有某种特定主体功能的地域空间单元,从开发内容上将全省划分为城市化地区、农产品主产区和重点生态功能区。读图,完成 9~11 题。



9. 江西省划分出的地域空间单元,限制了各地域空间单元的
- A. 辐射范围
B. 服务等级
C. 功能种类
D. 人口总量
10. 根据江西省的地域空间单元划分, I 类功能区最适宜发展的产业是
- A. 物流商贸
B. 木材加工
C. 商品粮生产基地
D. 生态旅游
11. 影响 III 功能区空间分布的主导自然因素是
- A. 地形、气候
B. 气候、河流
C. 地形、河流
D. 河流、植被

12. 数字人民币,又称数字货币电子支付,是由中国人民银行发行的数字形式的法定货币,由指定运营机构参与运营并向公众兑换,以广义账户体系为基础,支持银行账户松耦合功能,与纸钞硬币等价,具有价值特征和法偿性,支持可控匿名。对此,下列说法正确的是
- ①数字人民币是货币,其本质是作为交换媒介的一般等价物 ②数字人民币作为一种商品

【仿真模拟卷(一)·文综 第 2 页(共 12 页)】

执行流通手段和支付手段的职能 ③数字人民币的发行能增加货币发行量,增加居民收入
④数字人民币使用便捷安全,有利于促进国内消费需求增长

- A. ①② B. ①④ C. ②③ D. ③④

13. 混合所有制改革一直被认为是国企改革中的关键一环。河南省《政府工作报告》提出,要积极稳妥推进混合所有制改革,推动省管商业一类和金融企业全面实行经理层市场化选聘,完成省管企业竞聘制、岗薪制、任期制、淘汰制改革。这样做是基于发展混合所有制经济

①有利于各种所有制资本相互融合、取长补短、相互促进、共同发展 ②能够放大国有资本功能、实现国有资产保值增值,提高竞争力 ③有利于确保各种所有制资本在国民经济和市场竞争中地位平等 ④会取消不同所有制经济的市场准入门槛,巩固和发展非公有制经济

- A. ①② B. ①④ C. ②③ D. ③④

14. 2022年6月28日,习近平在湖北省武汉市考察时强调,科技自立自强是国家强盛之基、安全之要。我们必须完整、准确、全面贯彻新发展理念,深入实施创新驱动发展战略,把科技的命脉牢牢掌握在自己手中,在科技自立自强上取得更大进展,不断提升我国发展独立性、自主性、安全性,催生更多新技术新产业,开辟经济发展的新领域新赛道,形成国际竞争新优势。这是基于创新

①是民族进步的灵魂,是一个国家兴旺发达的不竭动力 ②是一国经济的立身之本,是建设现代化经济体系的坚实基础 ③是国家强盛的重要支柱,居于国家发展全局的战略核心位置 ④是引领发展的第一动力,是建设现代化经济体系的战略支撑

- A. ①② B. ①③ C. ②③ D. ③④

15. 如中共中央、国务院关于做好2022年全面推进乡村振兴重点工作的意见》指出,加强农村基层党组织建设,要做全乡镇党委统一指挥和统筹协调机制,发挥驻村第一书记和工作队抓党建促乡村振兴作用。完善村级重要事项,重大决策经村党组织研究讨论机制,全面落实“四议两公开”制度,健全党组织领导的自治、法治、德治相结合的乡村治理体系。对此理解正确的是

①村民委员会是基层党组织领导下的群众性自治组织 ②村民委员会是乡镇党委政府领导下的基层政权机关 ③发展基层民主能够保证人民群众直接管理国家事务 ④自治、法治、德治相结合有利于提升基层治理水平

- A. ①② B. ①④ C. ②③ D. ③④

16. 党的二十大报告强调要坚持我国宗教中国化方向,积极引导宗教与社会主义社会相适应。惠州市佛教协会团结带领四众弟子,高举爱国爱教旗帜,始终坚持我国宗教中国化方向,着力发挥桥梁纽带作用,在加强教风和思想文化建设,抗击新冠肺炎疫情、加强自身建设等方面,都取得了显著成绩,受到社会各界好评,得到党委、政府充分肯定。这表明

①我国实行宗教信仰自由政策,鼓励公民信仰宗教 ②我国宗教界人士积极践行社会主义核心价值观 ③信教群众已成为发展中国特色社会主义的积极力量 ④国家依法管理宗教事务,保护正常的宗教活动

- A. ①② B. ①④ C. ②③ D. ②④

17. 2022年8月2日,美国国会众议长佩洛西不顾中方强烈反对和严正交涉,窜访中国台湾地区,严重违反一个中国原则和中美三个联合公报规定,严重冲击中美关系政治基础,严重侵犯中国主权和领土完整,严重破坏台海和平稳定,向“台独”分裂势力发出严重错误信号。对此,我们应

①坚持总体国家安全观,坚决维护国家主权、安全、发展利益 ②坚持开放、包容、普惠的新型合作架构,形成互利共赢的多边机制 ③坚决反对分裂行为,主动承担维护国家安全、荣誉、利益的责任 ④兼顾他国合理关切,求同存异,搁置争议,维护地区和平稳定

- A. ①② B. ③④ C. ②④ D. ①③

【仿真模拟卷(一)·文综 第3页(共12页)】

18. 2022年7月30日,中国国家版本馆举行开馆暨展览开幕式。国家版本馆西安分馆结合陕西文化特色精心设置的《赓续文脉踔厉前行——中华文化经典版本展(西部篇)》以中华文化的经典版本为依托,立足西部,集中展出彰显民族根脉、延安精神、伟大复兴中国梦的中华文化经典版本1743种,为新时代开创党和国家事业新局面提供坚强思想保证和强大精神力量。这说明

①人们在社会实践中创造并发展文化,也在社会生活中获得和享用文化 ②精神活动离不开物质活动,精神产品也离不开器物、行为等文化载体 ③中华优秀传统文化是中华民族的突出优势,也是我们最深厚的文化软实力 ④必须在发展的基础上继承中华优秀传统文化,古为今用,推陈出新

- A. ①② B. ①④ C. ②③ D. ③④

19. 为期3个月的“意大利之源——古罗马文明展”2022年7月开始在中国国家博物馆展出。来自意大利26家国家级博物馆的308套共503件珍贵文物不远万里,跨越山海来到中国。这次展览是2022“中国意大利文化和旅游年”的重头项目,以多姿多彩的珍贵文物展示意大利文化的深厚底蕴,将两国文化交流推向新高潮。如果请你就此写一篇新闻报道,下列概括性表述适合作为标题的是

①各美其美尽享文化交流魅力 ②美人之美推动文化相互认同 ③美美与共促进文明交流互鉴 ④天下大同讲好中国文物故事

- A. ①② B. ②④ C. ①③ D. ③④

20. 2022年十年,央视多部主旋律剧集热度节节攀升,被称为“一部厚重的百姓生活史”的《人世间》成为现象级爆款,以北京冬奥会为背景的《超越》紧贴时事重磅热播……这些主旋律剧集紧扣改革开放、北京冬奥会等重大事件,聚焦党和国家事业取得的历史性成就,发生的历史性变革,彰显了新时代广大人民群众的新风貌、新奋斗、新精神,这体现了

①人民群众的生活和实践是优秀文化作品的源泉 ②主旋律作品反映社会生活,引领经济社会发展 ③文化创新可以推动社会主义建设事业的发展 ④优秀文化作品立足时代之基,回答时代之问

- A. ①② B. ①③ C. ②③ D. ③④

21. 从哲学基本派别角度看,与下图漫画中的做法所犯错误相一致的是



急功近利顾眼前 形象工程伤民心

①人是万物的尺度 ②水是万物的始基 ③存在就是被感知 ④天地合而万物生

- A. ①③ B. ①④ C. ②③ D. ②④

22. 近年来,启东市主动腾出宝贵的岸线资源,积极做好生态“留白”文章,优化生产岸线“配置”,明确规定在未确定产业定位、引入优质项目之前,宁可暂时空着也不急于填满,努力让黄金岸线释放出黄金效益。为生态“留白”,给生活“添绿”,这启示我们

①要在“留白”与“添绿”的对立统一中探索绿色发展的新路径 ②城市发展要坚持客观与主观、理论与实践具体的历史的统一 ③要处理好局部与整体的关系,更好实现生态良好与生产发展的和谐统一 ④要根据实践发展的需要建立“生态留白”与“生活添绿”的联系

- A. ①② B. ③④ C. ②④ D. ①③

23. 财政部、税务总局发布《关于扩大全额退还增值税留抵税额政策行业范围的公告》，自 2022 年 7 月 1 日起，扩大制造业等行业留抵退税政策的适用范围，增加“批发和零售业”“农、林、牧、渔业”“住宿和餐饮业”“居民服务、修理和其他服务业”“教育”“卫生和社会工作”和“文化、体育和娱乐业”7 个行业，实施按月全额退还增量留抵税额以及一次性退还存量留抵税额的留抵退税政策。这样做

①坚持了群众观点和群众路线 ②做到了一切从人民群众的需要出发 ③是基于生产关系要适应生产力的需要 ④是基于上层建筑要适应经济基础的需要

- A. ①③ B. ①④ C. ②③ D. ②④

24. 西周封国主要针对东方广大地区。姬姓诸侯的封国多沿原殷商交通路线分布，大体与黄河流域主要农业生产区相吻合。其中河南最多，山东次之，这些地区都是原来商人实力主要的分布地区。这体现了西周分封制

- A. 奠定了华夏族的基本格局 B. 以保证周王室集权统治为目的
C. 加强了对地方的有效控制 D. 把血缘关系和统治利益相结合

25. 某学者认为，魏晋风流特征之一便是“以审美的人生态度取代现实功利的人生态度”，魏晋士人一方面发现自我、超越自我、超越时代，一方面又处在政治高压之下，表现出佯狂醉酒和隐晦曲折的心态。该观点旨在表明，魏晋时期

- A. 思想文化相对的自由 B. 经济发展改变了社会风气
C. 关注现实寄情山水田园 D. 颠覆了儒家传统礼教思想

26. 下表为宋代部分书画家表，据此可知，宋代

姓名	字号	风格
李成	字为云	擅长山水，擅画松
范宽	字子华	擅画山水，风格雄浑
郭忠恕	字正一	擅画楼阁
王希孟	字大懿	擅画山水，山水
赵孟頫	字子昂	擅画山水、竹石

- A. 城市文化生活空前活跃 B. 突显了中国画的情趣意境
C. 对山水的体悟前所未有的 D. 包含着对国家统一的渴望

27. 明朝户籍管理是在元代的基础上发展起来的。凡户三等，曰民、曰军、曰匠。民有儒、有医、有阴阳。军有校尉、有力士、弓、铺兵。匠有厨役、裁缝、马船之类。濒海有盐灶，寺有僧，观有道士。毕以其业著籍。人户以籍为断，禁数姓合户附籍。这一做法

- A. 说明户籍管理逐渐放松 B. 抑制了土地兼并现象
C. 固化了社会职业的分工 D. 增加了政府财政收入

28. 民国初年，陈独秀号召青年从事国民运动，“勿囿于党派运动”。但随着五四运动的到来和进一步发展，陈独秀认为，“人民的权利”依赖“人民组织”表现，这在政治上“直接具体表现”为政党，“政党是人民干涉政治之最大工具”。对政党的态度转变，表明陈独秀

- A. 深受马克思主义的影响 B. 强调国民参政意识重要性
C. 政党政治思想逐渐形成 D. 决定组建无产阶级的政党

29. 1845 年上海英租界设立，此后英国人在租界内开辟道路，修建桥梁，营造房屋，改善交通工具，改良饮水，数十年间，发展迅速。地方人士不断提出意见，要求上海市政当局改革，在华界采用租界先进的市政管理与设施，由此，上海地方市政逐渐发展起来。可见，租界

- A. 引发了城市的工业化浪潮 B. 完全仿效了西方城市发展模式
C. 改变了近代中国城市职能 D. 客观上有利于中国城市化进程

【仿真模拟卷(一)·文综 第 5 页(共 12 页)】

30. 1936年12月11日,张学良授意应德田等人拟好改组国民党与国民政府、驱逐亲日派、容纳抗日分子、释放上海爱国领袖、释放一切政治犯、保障人民权利、联共抗日等八项协议。这些协议
- A. 决定了西安事变的和平解决
B. 成为了扭转时局的关键
C. 集中反映了抗日救亡的要求
D. 营造了良好的舆论氛围
31. 2022年10月16日,习近平总书记在党的二十大报告中明确提出了“我们党领导人民不仅创造了世所罕见的经济快速发展和社会长期稳定两大奇迹,而且成功走出了中国式现代化道路,创造了人类文明新形态”。这表明当今中国
- A. 强调同世界各国互利共赢
B. 对社会道路的探索提供了中国方案
C. 走和平发展道路的现代化
D. 创造适合发展中国家的现代化道路
32. 亨利八世在位时期进行了宗教改革,英国议会以原罗马控制的天主教会腐化为理由,于1536—1539年通过了解散修道院并没收其全部财产的法令。被没收的土地和原属于修道院的房产,尽归国王所有。这一改革
- A. 奠定英国革命的基础
B. 加强了世俗君主的权力
C. 完成国家领土的统一
D. 激发民众民族国家意识
33. 下面是英国1784—1856年进口贸易总额及百分比统计表。据此可以得知

Year	Value (£ million)	% of total imports	Value (£ million)	% of total imports
1784—1790	23,367	41.3	33,532,100	43.2
1791—1800	25,128	41.5	61,700,000	46.0
1801—1810	26,609	41.9	62,416,000	47.0
1811—1820	28,711	42.3	68,000,000	46.9
1821—1830	31,611	42.8	74,500,000	47.5
1831—1835	70265	47.7	20680129.47	47.5
1844—1846	81963	48.3	27386(33.4)	51033(62.3)
1854—1856	15158	48.3	17680(5.1)	54469(35.9)

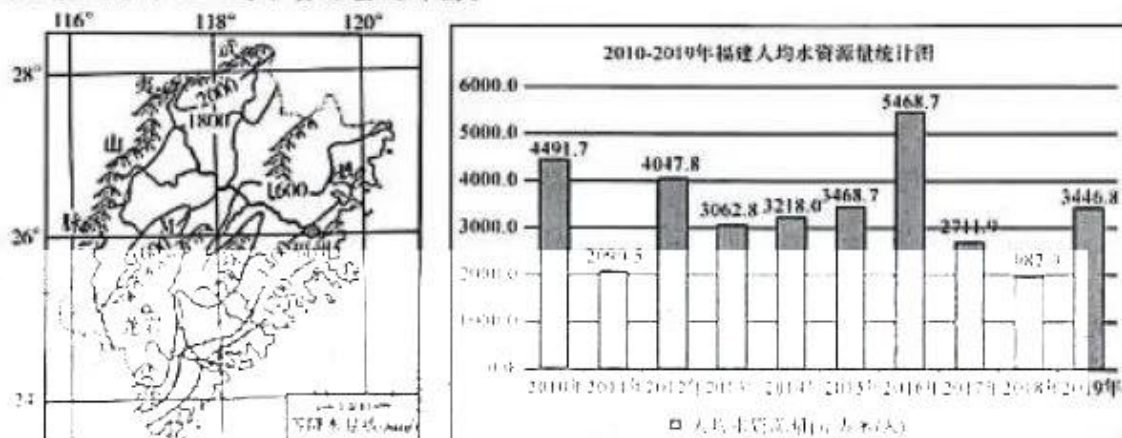
- A. 贸易发展取决于国家支持
B. 工业经济具有持续增长优势
C. 英国工业化发展非常迅速
D. 英国自由贸易政策正式确立
34. 第一次世界大战期间,一些欧美国家为了应付战争需要,建立了一套政府部门、署局机关、政务会和专门委员会等,用以协调政府进行战争的努力。这些机构着手干预私人企业的投资方向,分配政府订单,控制原料配额,协调劳资纠纷,垄断对外贸易。由此可见,这一做法
- A. 有利于资本主义国家职能的拓展
B. 有效地利用了全国的人力
C. 是社会化大生产不断发展的结果
D. 反映出政府开始干预经济
35. 为了缓和南北矛盾,发达国家在贸易上做过有利于发展中国家的倾斜,并以财政援助方式帮助发展中国家稳定初级产品出口,但治标不治本。发达国家“只愿考虑在贸易安排中作出不致干扰旧体制基本架构的边际性变革”。这说明经济全球化
- A. 使南北矛盾趋于缓和
B. 对发展中国家仍然不公平
C. 有利于政治的多极化
D. 有利于发达国家输出资本

二、非选择题:共 160 分。第 36~42 题为必考题,每个试题考生都必须作答。第 43~47 题为选考题,考生根据要求作答。

(一)必考题:共 135 分。

36. 阅读图文材料,完成下列要求。(24 分)

按照国际标准,年人均水资源量在 1 000~2 000 立方米的为中度缺水地区,近几年来,福建省遭遇旱情引发关注,福州、厦门、龙岩、泉州部分山区、海岛旱情持续发展。由于多地限水,政府多途径增加水资源补给,紧急开展取水工程建设,部分县市水库已暂停发电。发源于武夷山脉的闽江是福建的母亲河,水量充沛,水资源开发利用率低,闽江下游是闽东南沿海地区、海峡西岸经济区的战略后备水源。但近年来,闽江流域森林植被几度遭到破坏,流域动态蓄水能力不断被削弱,水利工程可利用的河流径流量不断减少。下图为福建省等降水量线分布及人均水资源量统计图。



- (1) 描述福建降水量的分布特征并说明成因。(4 分)
- (2) 描述福建 2010~2019 年人均水资源量的变化特点。(4 分)
- (3) 从气候角度分析福建省缺水具有时间不稳定性的原因。(6 分)
- (4) 分析福建东部海岛缺水严重的原因。(6 分)

37. 阅读图文材料,完成下列要求。(22 分)

比亚迪品牌诞生于深圳,于 1995 年成立,业务横跨汽车、轨道交通、新能源和电子四大产业,2003 年成长为全球第二大充电电池生产商,同年组建比亚迪汽车。比亚迪新能源汽车企业的国际化路径与众不同,该企业坚持“先有市场,再有工厂”的海外发展战略,选择技术壁垒高的发达国家作为优先进入市场,进入模式是先直接出口再投资建厂,以电动大巴等商用车为主,2017 年比亚迪在匈牙利和法国分别建立工厂。同时在产品生产过程中采用半自动化和人海战术,把人工作为能与所有设备平行甚至价值更高的生产要素,这些独特的生产组织形式在当前国际、国内环境下极具竞争优势。下图示意匈牙利地理位置及其周边地区。



【仿真模拟卷(一)·文综 第 7 页(共 12 页)】

- (1)从社会经济的角度,指出比亚迪汽车首先落户匈牙利的优越条件。(4分)
 (2)推测比亚迪进入欧洲市场以电动大巴为主的原因。(6分)
 (3)说明该企业坚持“先有市场,再有工厂”海外发展战略的理由。(6分)
 (4)简析该企业在匈牙利投资建厂对当地汽车制造业的有利影响。(6分)

38. 阅读材料,完成下列要求。(14分)

材料一 下表反映2018—2022年我国财政赤字和赤字率的变化情况:

年份	2018年	2019年	2020年	2021年	2022年(拟)
财政赤字	23800亿元	27600亿元	37600亿元	27500亿元	33700亿元
财政赤字率	2.6%	2.8%	3.6%	3.2%	2.8%

注:赤字率是衡量财政风险的一个重要指标,是指财政赤字占国内生产总值的比重,表示一定时期内财政赤字额与同期国内生产总值之间的比例关系。按照国际上通行的《马斯特里赫特条约》标准,赤字率3%一般设为国际安全线。

材料二 2022年财政预算报告指出,2022年全国一般公共预算支出安排26.71万亿元,支出规模比去年扩大2万亿元以上,增长8.4%。民生等相关支出占大头,其中,教育支出最多,占到15.5%,社会保障和就业支出占11%,卫生健康支出占7.8%,将城乡居民基本医疗保险人均财政补助标准增加30元,达到每人每年610元,基本公共卫生服务经费人均财政补助标准增加7元,达到每人每年84元。今年要继续加大基础研究投入,足额保障关键核心技术攻关急需需求。将科技型中小企业加计扣除比例从75%提高到100%,用税收优惠政策激励企业加大研发投入。

- (1)材料一包含了哪些经济信息?(4分)
 (2)结合材料二,分析我国上述财政预算安排的经济生活依据。(10分)

39. 阅读材料,完成下列要求。(12分)

面对突如其来的新冠肺炎疫情,以习近平同志为核心的党中央迅速做出反应,打响了疫情防控的人民战争。国务院多部委在听取党中央应对新冠肺炎疫情工作领导小组和有关部门关于疫情防控工作情况汇报后,坚持生命至上,迅速建立联防联控机制,落实依法防控、科学防控各项部署,发挥全国一盘棋、集中力量办大事的显著优势。2022年,为应对奥密克戎疫情,国家陆续出台了新一轮助企纾困举措,涵盖减税降费、租金减免、贷款支持、政策补贴等方面,统筹推进疫情防控和经济社会发展的关系,调动各类市场主体的积极性和创造性,促进效率提高,让全体人民共享发展成果。

运用政治生活知识,分析材料是如何体现我国国家治理体系和治理能力所具备的独特优势的。

40. 阅读材料,完成下列要求。(26分)

2022年是广西壮族自治区成立64周年。64年来,壮乡各族儿女在党中央的领导下,守望相助,凝心聚力,接续奋斗,砥砺前行,八桂大地发生了翻天覆地的变化,昔日“老、少、边、山、穷”的广西,逐步从贫困落后走向繁荣振兴,从偏远封闭走向开放前沿,从温饱不足走向全面小康,与全国各族人民一道昂首阔步迈入新时代。

材料一 党的十八大以来,广西全区上下深入贯彻落实习近平总书记视察广西“4·27”重要讲话精神和对广西工作的系列重要指示要求,坚定不移贯彻新发展理念,发挥改革在融入新发展格局中的关键作用,因地制宜、扬长补短,走出符合广西实际的高质量发展之路。广西把创新作为引领发展的第一动力,用改革创新思路举措解决发展中的问题,引导鼓励企业向科技要动力、向创新要活力,以创新驱动推动高质量发展。坚持以人民为中心的发展思想,持续改善广西人民的民生,增加广西人民的福祉,推动共同富裕取得实质性进展。

材料二 广西是我国少数民族人口最多的省区,沿边沿海沿江,地理复杂,民族多样,文化多元,非遗资源具有民族性、多样性和独特性,丰富多彩。2022年4月,广西壮族自治区印发《关于进一步加强广西非物质文化遗产保护工作的实施意见》,提出要健全非遗保护传承体系,提高非遗保护传承水平,加大非遗传播普及力度,推动优秀传统文化创造性转化、创新性发展。

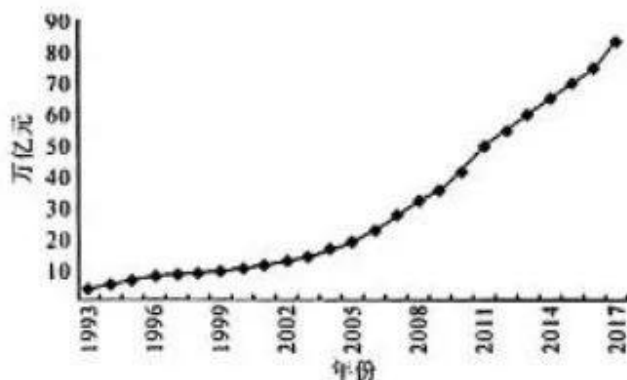
- (1)结合材料一,运用唯物史观知识,说明广西走出高质量发展之路的哲学智慧。(12分)
- (2)结合材料,运用文化生活知识,分析加强广西非物质文化遗产保护工作的时代价值。(10分)
- (3)请你就广西如何做好非遗的传承和保护提出两条合理化建议。(4分)

41. 阅读材料,完成下列要求。(25分)

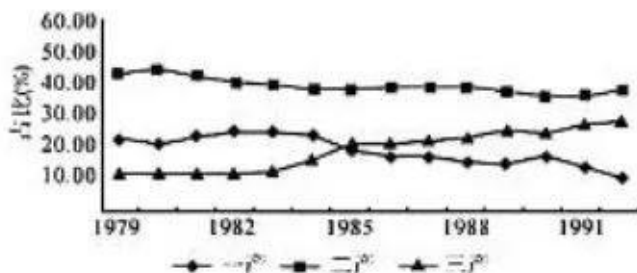
材料一 作为工业革命初期英国支柱产业之一的棉纺织业,从1820年起已呈现下降趋势:1830年进口棉花11亿英镑,1810年仅1.15亿英镑,而随着员工对出口机器禁令的解除和允许技工出国(1821年),取消机器出口税(1843年)加上30年代以来欧美兴起了铁路热,英国出口的主要商品变成机器军火与铁路设备,这些产品的内需和出口带动了机械、冶金等工业的迅速发展;另一方面,北美新英格兰、法国北部等地的机器纺织业从30年代已经兴起,并以廉价劳动力同英国纺织品竞争。上述国内外市场条件的变化必然使资本从棉纺等劳力密集型产业向附加值高、外国尚无力与英国竞争的技术密集型产业(机械、冶金、造船)流动。资料显示,1830年前,英国私人投资集中在棉毛织工业和运河、道路建筑;30年代以后对运河投资显著减少,而对铁路和海外投资增加。

——摘编自张跃发《英国工业革命以来西方产业结构的两次转化》

材料二



【仿真模拟卷(一)·文综 第9页(共12页)】



——摘编自陈晓东、邓斯月《改革开放40年中国经济增长与产业结构变迁》

材料三 从产业结构演变可以看出我国第一产业比重不断降低,第二产业稳中有降,第三产业逐渐占据主导地位,中国已经完成了从“一二三”产业结构向“三二一”产业结构的转变,步入了服务型经济社会,从产业政策演变可以看出,中国产业政策的重点任务逐渐由产业结构调整转向产业结构优化升级,调整手段逐渐由政府管控转向市场主导,经济增长方式逐渐由粗放型转向集约型,发展阶段由数量增长转向高质量发展。

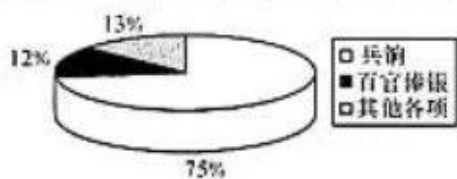
——摘编自惠宁、刘鑫鑫《新中国70年产业结构演进、政策调整及其经验启示》

- (1)根据材料一,概括近代英国经济发展的特点。(8分)
- (2)根据材料一、二并结合所学知识,分析近代英国和中国改革开放后的经济发展呈现不同特点的历史因素。(12分)
- (3)根据材料三并结合所学知识,简述我国产业结构调整的历史经验。(5分)

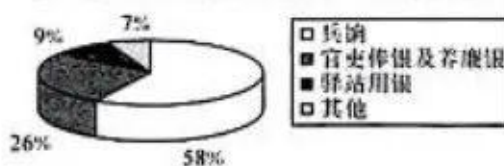
42. 阅读材料,完成下列要求。(12分)

材料 清代的国家“预算支出”,根据其用途及管理方式的不同,又被划分为中央和地方两个部分。用于中央政府的财政支出,主要是为满足其日常所需,以维持和保证清朝中央政府在各级机构的正常运转;地方财政支出主要用于各级地方政府的日常开销,以确保其行政机构的正常运转。根据《清朝文献通考》及《大清会典》的记载,预算支出如下图所示。

乾隆三十年(1765)中央“预算支出”结构示意图



清代地方财政“预算支出”结构示意图



——摘编自徐素四、汪凯《康乾盛世历史报告》

根据材料并结合所学知识,围绕“清政府的财政预算支出”,任选角度提炼出一个论题,并以论述。(要求:论题明确,持论有据,表述清晰)

(二)选考题:共25分。请考生从2道地理题、3道历史题中每科任选一题作答。如果多做,则每科按所做的第一题计分。

43. [地理——选修3:旅游地理](10分)

位于北京石景山区的首都钢铁生产基地始建于1919年,从美国进口的高炉,顶燃式热风炉和无料钟炉顶技术为首钢自主发明的世界尖端炼钢技术,后来由它们首开中国向国外出口炼钢技术的先河。中国第一座氧气顶吹转炉,中国第一个氧气顶吹转炉炼钢厂,国内最大的小方坯连铸炼钢厂,国内规模最大的现代化线材生产厂;国内目前保存最完整、面积最大的钢铁工业生产厂区;也是亚洲当时最大最早的钢铁联合企业——汉冶萍公司的重要组成部分,是我国现存最早的近代工业钢铁冶炼遗址。2018年1月,首都钢铁生产基地入选第一批中国工业遗产保护名录。其主要遗存有高炉、转炉、冷却塔、煤气罐、焦炉、料仓,运输廊道、管线,铁路专用线,机车,专用运输车,龙烟别墅等(如下图所示)。



说明首都钢铁生产基地最突出的旅游价值,并为其工业旅游进行合理的旅游设计。

44. [地理——选修3:环境保护](10分)

分属不同行政区的河流和湖泊,跨界治理往往难以统筹协调。我国淮河流域湖泊众多,牵扯省份多,河南省的伏牛山是其源头,另外山东北部的沂蒙山,安徽东部和西北部的天目山也是众多支流的源头,各干支流汇聚后途经洪泽湖。我国政府设置了管理淮河流域的淮河管理委员会,简称“淮委”,推动流域共建共治共享,且安徽、江苏以水质“约法”,共同设立环境补偿基金,若年度水质达到考核标准,则江苏省可适当拨付资金给上游的安徽省;若年度水质达不到考核标准,则安徽省需拨付相应资金给江苏省。

指出淮河流域设定“淮委”的目的,并分析安徽、江苏设定生态补偿机制对两省的好处。

45. [历史——选修1:历史上重大改革回眸](15分)

材料 自西晋末年起,九品中正制的弊端日益加剧,中正举人,随心所欲计资定品,全凭个人好恶和家世门第,完全违背了当初“唯才是举”的初衷。南北朝时期,九品中正制更是名存实亡,虽有中正设置,却已无力左右干涉朝廷选官任吏。与此同时,寒门庶族在政治舞台上迅速崛起,出身寒微的南朝诸皇帝也纷纷起用寒人主理国政、控制机要、统率军队,形成了一张严密的庶族地主力量体系的网络。……由于九品中正制和恩荫制的存在,那些世家大族官职清闲,徒有虚名,且平时所学皆老庄之道,妙善玄言,甚至自命清高,自保门阀,鼓吹“士庶之际,实自天隔”的谬论,他们不仅没有治国安邦之才能,还把读书士子引入歧途。因此,齐

【仿真模拟卷(一)·文综 第11页(共12页)】

武帝曾言道：“学士辈不堪经国，唯大读书耳。”在这样的历史背景之下，隋炀帝即位之初，便创建科举制，并使之成为自隋唐到清末，朝廷通过分科考试选拔官吏的制度。

——摘编自胡慧《浅析隋炀帝创建科举制的历史背景》

- (1)根据材料并结合所学知识，简析隋炀帝创建科举制的历史背景。(8分)
- (2)根据材料并结合所学知识，概括隋炀帝创建科举制度的影响。(7分)

46. [历史——选修3:20世纪的战争与和平](15分)

材料 化学武器是一种极具实战价值的大规模杀伤性武器，威力仅次于核武器。1914年8月，法国军队向德军投掷催泪手榴弹，10月，德军向英军阵地发射了一种装有化学刺激物的炮弹。不过这种手榴弹和炮弹施放的毒剂浓度都很小，敌方几乎没有觉察到。直到1915年4月，德军在第二次伊普尔战役中首次大规模施放氯气，给法国和阿尔及利亚士兵造成很大伤亡，才成为化学武器进攻的首个成功战例。之后，同盟国集团和协约国集团相互使用及研发新型的毒气武器，其中以芥子气、光气、氯气为主，估计至少有50965吨用于战争中。根据官方公布数字，在第一次世界大战中因化学武器战剂而造成的非致命性伤亡约1176500人，至少有85000人死亡。经过一战期间残酷的毒气战，1925年《日内瓦协定书》再次重申禁止使用毒气，各国也都禁止毒气弹的使用只允许起对方同样的报复。

——摘编自唐道《从一战被终结：一战中惨烈的毒气战》

- (1)根据材料并结合所学知识，分析一战期间化学武器用于战争的原因。(6分)
- (2)根据材料并结合所学知识，概括一战期间化学武器用于战争的影响。(9分)

47. [历史——选修1:中外历史人物评说](10分)

材料 杨时(1053—1135年)，两宋时期著名的哲学家，他认为教育要以育人才、一道德、正人心、美风俗为重要目标，从而培养能安邦治国的圣人。《宋史·程颐传》记载道，“程颐以《大学》《论语》《孟子》《中庸》为标指，而达于六经”，杨时在其教学过程中，对该思想进行了继承和发挥，认为《六经》记录了圣人的思想言行，因而是学习的主要内容，同时强调修身的方法皆在“直”和“思”，所谓“直”，便是“二程”所强调的至诚之心，就是毫无保留的全身心的体察或实践圣人之道，这也是为学的最高境界。杨时在教育实践中大多是通过与诸生的书信往来答疑解惑的，虽为人师，但在言语表达方面非常谦虚得体。他认为，“体道、近仁”无关乎聪明与愚钝，只要“自(刚毅木讷)而求之，仁之道亦自可知”。

——摘编自黄艳娜《浅析杨时教育思想》等

- (1)根据材料并结合所学知识，概括杨时的教育思想。(9分)
- (2)根据材料并结合所学知识，简评杨时的教育思想。(6分)

关于我们

自主选拔在线是致力于提供新高考生涯规划、强基计划、综合评价、三位一体、学科竞赛等政策资讯的升学服务平台。总部坐落于北京，旗下拥有网站（[网址: www.zizzs.com](http://www.zizzs.com)）和微信公众平台等媒体矩阵，用户群体涵盖全国 90% 以上的重点中学师生及家长，在全国新高考、自主选拔领域首屈一指。

如需第一时间获取相关资讯及备考指南，请关注**自主选拔在线**官方微信信号：**zizzsw**。

