

中学生标准学术能力诊断性测试 2022 年 9 月测试

文科综合试卷

本试卷共 300 分，考试时间 150 分钟。

一、选择题：本题共 35 小题，每小题 4 分，共 140 分。在每小题给出的四个选项中，只有一项是符合题目要求的。

据中国载人航天工程办公室消息，北京时间 2022 年 4 月 16 日 9 时 56 分，神舟十三号载人飞船返回舱在东风着陆场成功着陆。现场医监医保人员确认航天员翟志刚、王亚平、叶光富身体状况良好，神舟十三号载人飞行任务取得圆满成功。据此回答 1~3 题。



图 1

1. 神舟十三号载人飞船返回舱着陆时，下列说法正确的是
A. 恰逢华北平原春小麦收获
B. 当日太阳日出东南
C. 华南地区进入雨季
D. 尼罗河正值凌汛多发期
2. 东风着陆场位于内蒙古四子王旗，选择在此着陆的原因最有可能是
A. 交通便捷，基础设施完善
B. 草场广布，缓冲性好
C. 地广人稀，着陆安全性高
D. 距离大城市近，便于医护人员前往
3. 此次载人航天任务历时 183 天，为搭建中国空间站做出了重要贡献，为促进我国空间站相关技术的进一步发展，下列做法可取的是
A. 加大科技投入，突破技术难点
B. 大批量建设卫星发射基地
C. 依赖于承接外国相关技术
D. 大力发展现代物流业

随着天气转暖，蔬菜、花卉生长旺盛，福建省福州市闽侯县南通镇蔬菜花卉种植基地迎来春种春收的繁忙时节。无人机俯瞰，一块块田地如大地调色板。据此回答 4~5 题。



图 2

- ①发电量稳定 ②清洁无污染
③占用陆地面积小 ④发电设备造价低

- A. ①②
B. ②③
C. ①③
D. ③④

10. 关于我国近海潮流能丰富的原因，合理的是

- ①海域面积广阔
②沿岸洋流众多
③入海径流较多
④入海口位置落差大

- A. ①②
B. ②③
C. ①④
D. ②④

11. 关于潮流能发电并入国家电网的生态意义

- A. 缓解电力紧张状况，促进经济发展
B. 带动相关产业发展
C. 调整能源消费结构，增加清洁能源比重
D. 增加就业机会，提高居民收入

12. 中国人民银行网站消息，2022年5月11日，国际货币基金组织执董会完成了五年一次的特别提款权(SDR)定值审查。执董会一致决定，维持现有SDR篮子货币构成不变，即仍由美元、欧元、人民币、日元和英镑构成，并将人民币权重由10.92%上调至12.28%（升幅1.36个百分点），将美元权重由41.73%上调至43.38%，同时将欧元、日元和英镑权重分别由30.93%、8.33%和8.09%下调至29.31%、7.59%和7.44%，人民币权重仍保持第三位。据此说明

- A. 人民币国际影响力增强 B. 中国贸易结算风险降低
C. 人民币可跨境自由流动 D. 我国经济实力影响增强

13. 图5 D_1 、 D_2 分别为变化前后的需求曲线， S_1 、 S_2 分别为变化前后的供给曲线。若不考虑其他因素，下列选项与图示描述相符的是

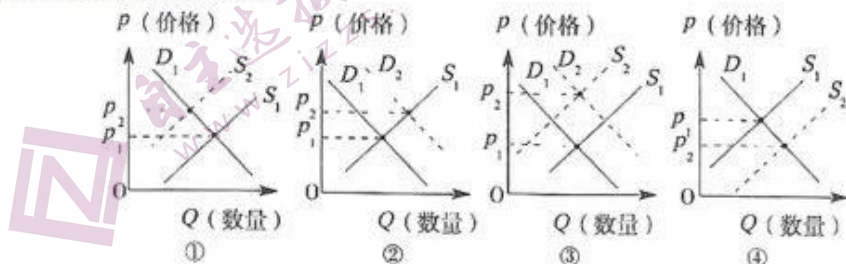


图5

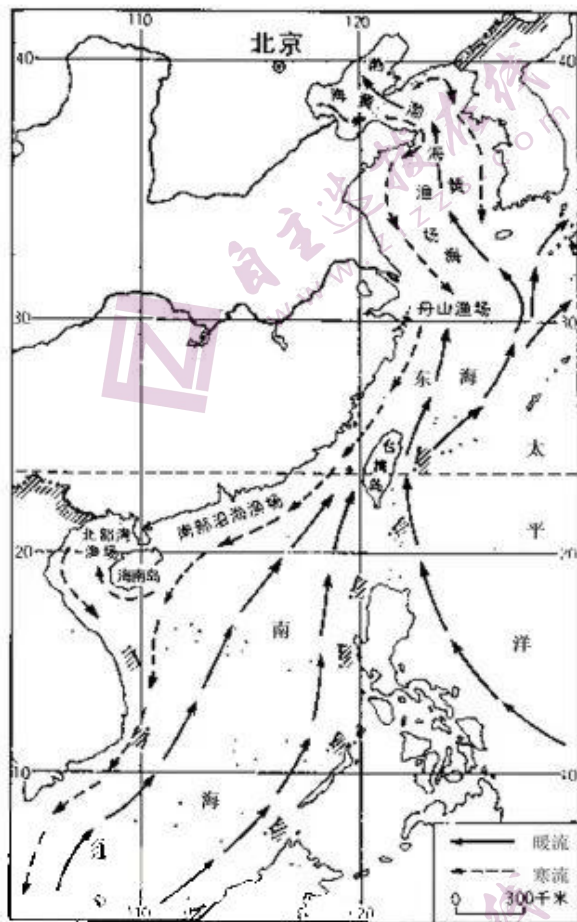


图4

- ①某国受国际复杂形势影响，限制其粮食出口，对国际粮食市场的影响
 ②某国单方面限制芯片出口，制造业发展受挫，对新能源车市场的影响
 ③北京冬奥会释放经济效应，滑雪市场很爆满，各类滑雪装备供需两旺
 ④在国家积极政策的鼓励下，养猪业投入加大，近期大量生猪加速出栏

A. ①② B. ①④ C. ②③ D. ③④

14. 俄乌战事等国际形势及疫情继续影响消费市场，2022年5月16日，国家统计局发布数据，我国社会消费品零售总额呈下降趋势如图6所示，由此判断



图6

- ①国际国内复杂形势造成我国经济下行压力加大
 ②我国市场经济的自发性导致经济周期问题严重
 ③各地政府可以发放消费券等创造积极消费环境
 ④国家需要实施积极财政政策释放融资积极作用

A. ①③ B. ①④ C. ②③ D. ②④

15. 2022年4月10日，《中共中央、国务院关于加快建设全国统一大市场的意见》发布。全国统一大市场规模效应不断显现，基础制度不断完善，市场设施加快联通，要素市场建设迈出重要步伐，建设统一大市场的共识不断凝聚，公平竞争理念深入人心。下列传导路径正确的有

- A. 实行统一的市场准入制度→严格落实“全国一张清单”→各地区发布负面清单
 B. 加快发展统一的资本市场→为资本市场统一设“绿灯”→防止资本的无序扩张
 C. 建设全国统一的能源市场→保障我国能源安全供应→实现碳达峰碳中和目标
 D. 完善市场信息的交互渠道→优化市场主体信息公示→市场主体信息互联互通

16. 2022年要继续做好“六稳”“六保”工作，特别是保就业保民生保市场主体，围绕保持经济运行在合理区间，加强和改善宏观调控，加大宏观政策周期调节力度，提高宏观调控的前瞻性针对性。

其政治生活依据有

- ①中国共产党是执政党，加强党对经济宏观调控
 ②政府坚持对人民负责，切实推进保就业保民生

- ③要坚持人民民主专政，保障人民群众根本利益
④保就业是民生之根本，大力发展经济促进就业
- A. ①③ B. ①④ C. ②③ D. ②④
17. 中共中央、国务院公布《关于支持浙江高质量发展建设共同富裕示范区的意见》，是以习近平同志为核心的党中央把促进全体人民共同富裕摆在更加重要位置作出的一项重大决策，充分体现了党中央对解决我国发展不平衡不充分问题的坚定决心，为浙江高质量发展促进共同富裕提供了强大动力和根本遵循。表明中国共产党
- ①中国共产党是坚持以人民为中心，为实现最广大人民根本利益
②中国共产党是我国最高政治力量，履行社会主义经济建设职能
③中国共产党坚守和践行为中国人民谋幸福和为中华民族谋复兴
④中国共产党坚持依法执政，不断完善中国特色社会主义经济制度
- A. ①② B. ①③ C. ②④ D. ③④
18. 2021年是西藏的大庆之年——和平解放70载，如今的雪域高原一改往昔的落后、封闭面貌，划时代意义的历史转折体现在了乡村振兴、生态安全、民生改善等各个方面。中共中央总书记、国家主席、中央军委主席习近平亲自赴西藏考察，充分肯定和平解放70年来的发展成就，为各族干部群众带来亲切关怀和美好祝福。根据材料，西藏和平解放70年来的发展成就表明
- ①坚持宗教信仰自由政策是西藏发展成就前提条件
②实施民族区域自治制度是一项我国基本政治制度
③坚持中国共产党的领导是民族繁荣发展根本保证
④我国民族平等、团结、互助、和谐关系不断巩固
- A. ①② B. ①④ C. ②③ D. ③④
19. 2022年虎年春晚首次运用LED屏幕打造720度穹顶空间，AR、XR等前沿技术的应用构成沉浸式、无边界的立体舞台环境，科技与艺术的深度融合，从传统到现代，从虚拟到现实，打造了一批融合创新的节目，如《只此青绿》、《忆江南》、《乳虎啸春》等，带给观众全新的视听感受。这表明虎年春晚
- ①推动了中华优秀传统文化创造性转化创新性发展
②运用科学技术推动了中国历史文化的传承与发展
③丰富中华优秀传统文化内涵，增强民族文化价值认同
④增强了民族文化优越性，扩大了中华文化影响力
- A. ①② B. ①④ C. ②③ D. ③④
20. “十四五”时期，推进中国国家治理效能建设是一个重要命题。无论是经济治理，还是文化治理，抑或生态文明治理，中国共产党都要充分激发全体人民的创造力，构建中国气派的国家治理效能文明新样态。包含的文化生活道理有
- ①文化与经济政治相互影响相互交融
②文化治理是经济治理的基础性条件

③文化可促进全体人民的创造力激发

④推进治理效能建设需加强文化治理

A. ①③

B. ①④

C. ②③

D. ②④

21. 2021年12月9日15时40分，“天宫课堂”第一课正式开讲，时隔8年之后，中国航天员再次进行太空授课。“太空教师”翟志刚、王亚平、叶光富在中国空间站为广大青少年带来了一场精彩的太空科普课，这是中国空间站首次太空授课活动。材料说明

①物质与意识是相互依赖

②思维能够正确认识存在

③实践活动有社会历史性

④真理是具体的有条件的

A. ①③

B. ①④

C. ②③

D. ②④

22. 如图7所示，我们可以获得的哲学启示是

A. 矛盾双方在一定的条件下可以互相转化

B. 发挥主观能动性就可以认识和利用规律

C. 矛盾具有特殊性需要具体问题具体分析

D. 联系多样性要求分析把握事物各种条件

23. 子贡问政。孔子曰：“足食，足兵（军备），民信之矣。”子贡曰：“必不得已而去，于斯三者何先？”曰：“去兵。”子贡曰：“必不得已而去，于斯二者何先？”曰：“去食。自古皆有死，民无信不立。”材料启示

A. 社会存在决定社会意识，社会意识是社会存在的反映

B. 经济基础决定上层建筑，上层建筑需要适应经济基础

C. 人民群众是历史创造者，要坚持群众观和走群众路线

D. 价值观是人生重要向导，要遵循社会发展的客观规律

24. 有学者提出，“大都无城墙”是汉代以前中国古代都城的主流形态。安阳殷墟、西周王都丰镐、秦朝都城咸阳的考古遗迹中均未发现外郭城墙。对此现象的合理解释是当时

A. 城墙修筑技术相对落后

B. 统治者实力强大的反映

C. 经济水平落后无力修建

D. 中央集权制度的确立

25. 秦汉时期，漕运集中于黄河流域，由东向西运往长安；唐宋时期扬州成为重要的漕运枢纽，线路呈现出东南、西北向变动。这一现象产生的主要因素是

A. 交通方式的变革

B. 赋税制度的变革

C. 经济格局的变化

D. 对外贸易的发展

26. 马球发源于古代波斯，唐代打马球成为最盛行的体育运动之一。公元709年，大唐皇家马球队与吐蕃使团进行马球友谊对抗赛。唐玄宗在比赛中“东西驱突，风回电激，所向无前。”据此可知，唐代



图7

- A. 域外文化成为主流
B. 体育运动的贵族化
C. 民族融合趋势明显
D. 社会风貌开放进取
27. 在中华民族的历史长河中，汉族首创了四大发明；蒙古族长于畜牧；西域少数民族最先学会了棉花种植与纺织；藏族信仰藏传佛教，保存佛教经典的人群很多。这反映出中华文明
- A. 包容创新的文化特色
B. 少数民族文化聚集而成
C. 具有强烈的家国意识
D. 以农业为主的生产方式
28. 表 1 为 1849-1911 年清政府各项收入统计表，这表明当时

表 1

年份	农业税收入		工商杂税收入		其他收入		总收入	
	数额	比重	数额	比重	数额	比重	数额	比重
1849	3281	77	969	23	0	0	4250	100
1885	3071	40	3923	51	714	9	7708	100
1911	4810	16	20441	69	4445	15	29696	100

(注：数额：万两；比重：%)

- A. 自然经济彻底解体
B. 经济结构显著变动
C. 财政危机有所缓解
D. 贸易逆差得以扭转
29. 1919 年，李大钊在《再论问题与主义》、《社会主义与社会运动》等文中指出：“大凡一个主义，都有理想与实用两面……社会主义，亦复如是”，“（社会主义）因各地、各时之情形不同，务求其适合者行之。”李大钊的观点
- A. 明确了切实可行的革命路线
B. 背离了社会主义的革命理想
C. 提出中国特色社会主义理论
D. 包含了中国革命方向的思考
30. 1937 年，毛泽东指出：“坚持华北游击战争……使之化为游击根据地，发动群众……实现全面抗战之新局面。”同年 8 月，国民政府在南京国防会议上，一致通过“持久消耗战略”作为中国抗战的战略指导方针，即“一面消耗敌人，一面培养国力……争取最后胜利。”国共两党的抗日策略
- A. 适应了民族战争的需要
B. 正式建立抗日民族统一战线
C. 彻底贯彻全面抗战路线
D. 扭转了正面战场的不利形势
31. 20 世纪 80 年代我国实行价格双轨制。物资分配一部分是计划调拨，执行计划价格；一部分是市场调配，执行市场价格。在物资比较紧张的 80 年代，两者价格往往差别很大。这种现象反映当时
- A. 经济所有制结构的变化
B. 经济体制改革尚待完善
C. 改革开放政策出现反复
D. 政府管理职能趋于弱化

32. 伯利克里是雅典卫城建设的主要推动者。他力图做到建筑项目的实施“使财富变成活跃的事业……激发每一种技艺，推动每一只手，使全城邦的人几乎都能得到工资。”据此可知，伯利克里意在
- A. 扩大公民参政权
B. 反对奴隶制度
C. 增强城邦凝聚力
D. 保护私有财产
33. 图 8 为 1904 年美国圣路易斯世界博览会期间，发行的一幅插画《人的类型与发展》。画中智慧女神高举火把，照亮蒙昧的原始人。周边则显示了“史前人”位于最低端，之后依次是布须曼人、阿伊努人、尼格罗人、印第安人、阿拉伯人、中国人、土耳其人、印度人、日本人、俄罗斯人，最高等是欧美人。该作品本质上反映了
- A. 理性主义的思想观念
B. 世界联系日益紧密
C. 人类进化的科学认识
D. 殖民者的优越心态
34. 罗斯福新政期间，一些学者认为新政修改了所谓的“自由企业制度”及其运行方式，这些破天荒的政策对挽救资本主义经济至关重要。与此同时，一些人激烈批评罗斯福，说他“叛变了他的阶级”，是“淡红色的社会主义”。据此可知，以上认识
- A. 一定程度上夸大了历史史实
B. 从不同视角评价了罗斯福新政
C. 基于社会主义理论展开评论
D. 都肯定了国家干预经济的模式
35. “丑在美的旁边，畸形靠近着优美，丑怪藏在崇高背后，美与丑并存，光明与黑暗相关。”具有这一风格的文学作品
- A. 反映西方世界的精神危机
B. 细致刻画社会的典型风貌
C. 是对“理性王国”的反思
D. 体现反帝反殖的爱国精神




图 8

二、非选择题：共 160 分。第 36~42 为必考题，每个试题考生都必须作答。第 43~47 为选考题，考生根据要求作答。

(一) 必考题：共 135 分。

36. 阅读材料，完成下列要求。(20 分)

材料一：

索科特拉岛，印度洋西部一群岛，属也门索科特拉省。其位置在阿拉伯半岛以南约 350 公里，非洲之角以东，阿拉伯海与亚丁湾的交接处，该岛与大陆板块已经隔绝 1800 万年。索科特拉岛 37% 的植物（共 825 种）、90% 的爬行动物和 95% 的蜗牛都是岛上独有的。由于其稀有生物品种多，2008 年列入联合国教科文组织世界遗产名录。

材料二：图 9 为“索科特拉岛位置示意图”。



图9

材料三：索科特拉岛地貌以山区和丘陵为主，平均海拔 500 米。内陆为海拔约 200-600 米的哈吉尔山，呈东北-西南走向，几乎横跨全岛，中央主峰海拔 1372 米。沿岸无良港，西南季风时期船只难以靠岸。来源微信公众号：高三答案

- (1) 试分析该岛入选“联合国教科文组织世界遗产名录”的原因。(6分)
- (2) 根据材料分析该岛的气候特点及成因。(6分)
- (3) 试分析岛上开展航空运输的原因。(8分)

37. 阅读材料，完成下列要求。(26分)

材料一：

中新社北京 2 月 24 日电 俄罗斯总统普京当地时间 2 月 24 日清晨发表电视讲话称，决定在顿巴斯地区发起特别军事行动。乌克兰总统泽连斯基 2 月 24 日宣布，乌克兰全国进入战时状态。当天晚些时候，泽连斯基发表电视讲话，宣布乌克兰与俄罗斯断交。

材料二：图 10 为“乌克兰地形示意图”。



图 10

材料三：图 11 为“乌克兰黑土分布示意图”。

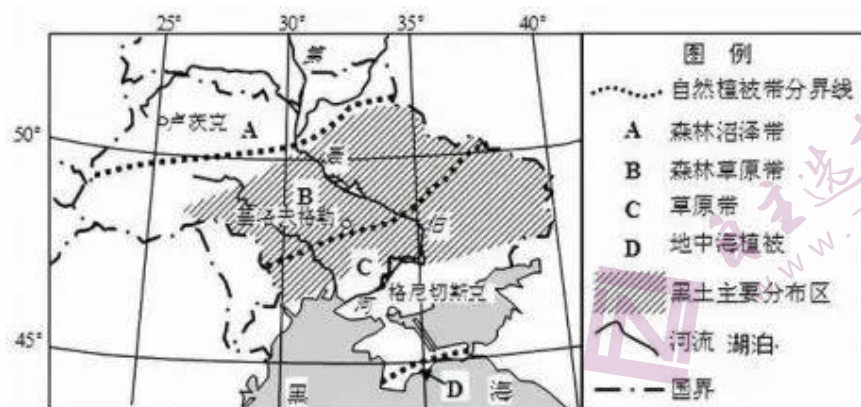


图 11

材料四：图 12 为“俄罗斯天然气管道示意图”。



图 12

- (1) 根据材料二说明乌克兰地形特点。(6分)
- (2) 根据材料三分析乌克兰黑土形成的因素。(6分)
- (3) 根据材料四简述俄乌冲突对油气运输的影响。(8分)
- (4) 综合材料分析俄乌冲突对中国企业的影响。(6分)

38. 阅读材料，完成下列要求。(14分)

2022年5月24日，国务院印发《扎实稳住经济的一揽子政策措施》，要求各地区各部门认真贯彻执行。

包括六个方面 33 项措施。一是财政政策。进一步加大增值税留抵退税政策力度，加大稳岗支持和政府采购支持中小企业力度等。二是货币金融政策。鼓励对中小微企业和个体工商户、货车司机贷款及受疫情影响的个人住房与消费贷款等实施延期还本付息，加大普惠小微贷款支持力度等。三是稳

投资促消费等政策。加快推动交通基础设施投资，继续推进城市地下综合管廊建设，促进平台经济规范健康发展，稳定增加汽车、家电等大宗消费等。四是保粮食能源安全政策。健全完善粮食收益保障等政策，抓紧推动实施一批能源项目，提高煤炭、原油等能源资源储备能力。五是保产业链供应链稳定政策。降低市场主体成本，完善交通物流保通保畅政策，统筹加大对物流枢纽和物流企业的支持力度，加快推进重大外资项目积极吸引外商投资等。六是保基本民生政策。实施住房公积金阶段性支持政策，完善农业转移人口和农村劳动力就业创业支持政策，完善社会民生兜底保障措施。

通知要求，各地区各部门要进一步提高政治站位，切实担负起稳定宏观经济的责任，要切实把握二季度经济稳住，努力使下半年发展有好的基础，保持经济运行在合理区间，以实际行动迎接党的二十大胜利召开。来源微信公众号：高三答案

联系材料并运用经济生活知识，说明一揽子政策措施对扎实稳住经济的积极作用。

39. 阅读材料，完成下列要求。（12分）

种子是农业科学的“芯片”，是粮食生产的源头，种子产业的竞争力决定一个国家农业和农产品的竞争力。

2021年12月24日，中华人民共和国第十三届全国人民代表大会常务委员会第三十二次会议通过《全国人民代表大会常务委员会关于修改〈中华人民共和国种子法〉的决定》，自2022年3月1日起施行。其中有完善侵权处罚赔偿和行政处罚制度，对生产经营假、劣种子行为加大了行政处罚力度。应当要把种源安全提升到关系国家安全的战略高度，要综合运用法律、经济、技术、行政等多种手段，推行全链条、全流程监管，对假冒伪劣、套牌侵权等突出问题要重拳出击，让侵权者付出沉重代价。

2022年4月10日下午，习近平总书记在海南省三亚市崖州湾种子实验室考察调研时强调，种子是我国粮食安全的关键。

结合材料，运用所学政治生活知识，分析我国国家机关应如何依法保障种子产业健康发展。

40. 阅读材料，完成下列要求。（26分）

材料一：人无精神而不立，国无精神则不强。然而，精神并不是凭空产生的，而是有着深厚渊源。

伟大的建党精神源自对科学真理的坚守。100年来，我们党在革命、建设和改革进程中，始终坚守马克思主义真理，并用它来照亮中国革命道路、中国发展道路和中华民族伟大复兴的征程。

伟大的建党精神源自对人民立场与对初心使命的坚守。100年来，我们党就是始终坚持与人民在一起，始终与人民群众同呼吸、共命运。回顾党的历史可见，走过百年，为中国人民谋幸福、为中华民族谋复兴的初心使命一直激励着无数共产党人永往直前、披荆斩棘。

材料二：中国共产党伟大建党精神蕴含的时代价值历久弥新。深刻理解和领会伟大建党精神的时代价值，对于助力实现中华民族伟大复兴具有重大意义。

伟大建党精神作为一种先进的意识（精神），是中国共产党建党实践的产物，对中国共产党的自身建设起到积极作用，是中国共产党加强自身建设的精神之源。伟大建党精神源于中国共产党先驱们追求民族复兴的实践，深深融入中国共产党的精神血脉之中，为党救国、兴国、富国、强国提供源源不断的内生动力。中国共产党将马克思主义基本原理与中国具体实际相结合、与中华优秀传统文化相结合，充分汲取中华优秀传统文化的营养，继承伟大民族精神，是中华优秀传统文化和伟大民族精神的

时代彰显。

(1) 精神并不是凭空产生的，而是有着深厚渊源。结合材料，运用“探索社会的真谛”的知识加以说明。(12分)

(2) 结合材料，运用文化生活知识分析中国共产党伟大建党精神蕴含的时代价值。(10分)

(3) 2022 年是中国共青团建团 100 周年，学校团委开展“弘扬伟大建党精神 赓续传承红色血脉”主题教育活动，请你为该活动拟一条建议，并说明蕴含的哲学道理。(4分)

41. 阅读材料，完成下列要求。(25分)

材料一：二战后美国人口流动发生了显著变化。1970-1990 年间在美墨西哥移民由 542.2 万迅速增长到 1400 万。与此同时南部和西部“阳光地带”取代东北部和中西部，成为主要的人口流入地。面对复杂的人口流动，美国的人口管理模式由自发向政府主导转变。对于外来移民，美国注重吸纳高端人才，重视移民申请者的受教育程度和特殊职业技能。80 年代美国通过一项旨在减少非法移民的《移民改革和控制条例》。对于国内人口流动，联邦住宅管理局将城市社区分为四个等级，A 类安全系数最高，D 类最差。政府在信贷、就业方面实施倾向性政策，给处于下层的流动人口制造强力的隔离环境。面对日益失控的人口流动，社区被迫积极地解决外来流动人口问题。2005 年美国首府哥伦比亚特区的赫顿社区成立第一家流动人口中心。

——摘编自张利萍《战后美国人口流动的新变化及对我国的启示》

材料二：中国流动人口的规模在改革开放后的 30 多年持续增长，从 1982 年的 657 万人增长到 2010 年的 2.2 亿人，达到了前所未有的规模。上海、广州和北京等城市的当地常住居民中，约 40% 是流动人口。2010 年全国流动人口中约有 1.5 亿人来自农村，省内流动人口中有 54% 来自农村，跨省流动人口中则有近 82% 来自农村。20 世纪 80 年代和 90 年代前期，珠三角地区吸引了全国大量劳动力流入。东莞、深圳、中山等城市的流入人口数量已占常住人口的一半以上。21 世纪以来，长三角地区流入人口增长速度超过珠三角地区，其中以浙江流入人口增长幅度最大。

——摘编自郑真真、杨舸《中国人口流动现状及未来趋势》

(1) 根据材料一并结合所学知识，概括二战后美国人口流动和人口管理政策的变化。(12分)

(2) 根据材料二并结合所学知识，分析改革开放以来，我国人口流动的特点及影响。(13分)

42. 阅读材料，完成下列要求。(12分)

20 世纪，世界诞生了多个重要的国际组织，图 13 为部分国际组织的标志。



图 13

国际组织体现了国际局势的演变趋势。根据材料结合所学知识，请选择一类国际组织，概括国际组织体现的国际局势，并进行阐释。（要求：明确写出选择的国际组织和体现的国际局势，阐释充分，史实准确，表述清晰）

（二）选考题：共 25 分。请考生从 2 道地理题、3 道历史题中每科任选一题作答。如果多做，则每科按所做的第一题计分。

43. 【地理—选修：旅游地理】（10 分）

河北省红色旅游资源丰富，狼牙山五壮士、英雄王二小、小兵张嘎等故事都发生在这片土地上。革命圣地西柏坡坐落在石家庄市平山县太行山深处，在这里，中国共产党描绘出新中国的宏伟蓝图。狼牙山，古称郎山，位于保定市易县西部的太行山东麓，属太行山脉，因其奇峰林立、峥嵘险峻、状若狼牙而得名。狼牙山五壮士曾在此浴血奋战、抗击敌人，用生命和鲜血谱写出一首气吞山河的壮丽诗篇。图 14 为河北省主要红色旅游景区分布图。微信搜《高三答案公众号》



图 14

根据材料对河北旅游资源进行评价并分析开展红色旅游的意义。

44. 【地理—选修：环境保护】（10 分）

2021 年 7 月，雄安高铁站屋顶部光伏项目 67.5 万千瓦时上网发电量形成的碳资产，被出售给澳大利亚 YNIWM 公司，用于抵消约 465 吨的二氧化碳排放。碳资产是指在强制碳排放权交易机制或者自愿碳排放权交易机制下，产生的可直接或间接影响组织温室气体排放的配额排放权、减排信用额及相关活动。



图 15

简述造成碳排放的原因，并简析澳大利亚 YNIWM 公司从我国购买碳资产的原因。

45. 【历史—选修：历史上重大改革回眸】（15分）

羁縻制度是唐王朝处理边疆民族问题的重要政策。唐朝建立之初，继承汉朝、隋朝管理边疆地区的经验，以“怀柔远人，义在羁縻”为要义，在东西南北条件较为成熟的少数民族地区大量设置羁縻府州，有记载的最多时数量达 800 余个。各羁縻州“以其首领为都督、刺史，皆得世袭”“贡赋版籍，多不上户部”“全其部落，顺其土俗”。在羁縻府州之上设立都护府，由都护府直接管理，再统于唐王朝中央政府。唐王朝在羁縻府州的周边积极开辟互市贸易、屯兵屯田，强化对边疆的统治。

——摘编自马大正《中国边疆经略史》等

(1) 根据材料并结合所学知识，指出唐代羁縻政策的特点。（6分）

(2) 根据材料并结合所学知识，对唐代羁縻府州政策进行评价。（9分）

46. 【历史—选修：20 世纪的战争与和平】（15分）

冷战结束后，原有的国际平衡被打破，既有的民族、领土争端矛盾逐渐暴露，加上一些新的不稳定因素，地区冲突和局部战争时有发生。1999 年以美国为首的北约未经联合国同意，对南联盟发动空袭。2001 年“9.11”事件后，美国以反恐为名，发动阿富汗战争。2003 年美国不经联合国授权又发动了伊拉克战争。在伊拉克战争使用了大量的美国现代化新式武器，加上美军使用的武器费用非常的高昂，总军费高达 7630 亿美元，这场战争也被称为浪费钱的战争。令这次战争再次诠释了科技是现代军事实力的重要支柱。

——摘编自王亚娟《第二次海湾战争是为了石油吗？》等

(1) 根据材料并结合所学知识，概括冷战后美国发动局部战争的特点。（7分）

(2) 根据材料并结合所学知识，分析冷战结束后局部战争频发的原因。（8分）

47. 【历史—选修：中外历史人物评说】（15分）

527 年查士丁尼继承东罗马帝国皇帝。查士丁尼称：“我们将重建过去的一切……我们要重现罗马人的名誉……”他征服了北非、意大利及西班牙部分地区，再次将地中海变为罗马的内湖。查士丁尼镇压尼卡起义，优化地方行政制度，在亚洲领土率先推行军政权力合二为一的政策。查士丁尼采取积极地外贸政策，开通红海和南高加索商路，从东方引进丝织业。他还在君士坦丁堡大兴土木，圣索菲亚大教堂深刻影响欧洲的建筑风格。为维护统治，查士丁尼任命特里波尼安为首的法典编纂委员会，总结历代罗马法，也就是著名的《查士丁尼法典》。

——摘编自徐国栋《查士丁尼及其立法事业》等

(1) 根据材料并结合所学知识，概括查士丁尼的主要功绩。（8分）

(2) 根据材料并结合所学知识，总结查士丁尼大帝措施的影响。（7分）

中学生标准学术能力诊断性测试 2022 年 9 月测试

文综政治参考答案

一、选择题：本题共 12 小题，每小题 4 分，共 48 分。在每小题给出的四个选项中，只有一项是符合题目要求的。

12	13	14	15	16	17	18	19	20	21	22	23
A	B	A	D	C	B	D	A	B	C	C	C

二、非选择题。

38. (14 分)

- ①财政具有促进国民经济平稳运行的作用，通过加大增值税留抵退税政策力度等，支持企业稳定发展。
②实施稳健的货币政策，缓解企业融资难和融资贵等问题，减轻企业负担。
③消费对经济发展起基础性作用，投资对经济发展具有关键作用，促进消费和投资，拉动经济发展。
(或发挥需求侧改革的作用) 来源微信公众号：高三答案

④粮食能源属于国家发展的重要战略资源，保粮食能源安全政策有利于保障国家宏观经济稳定。

⑤畅通产业链供应链，降低生产和流通成本，同时为外商投资营造良好的营商环境。

⑥坚持以人民为中心的发展思想，促进就业，完善社会保障体系，保障基本民生，促进经济平稳运行。

(每一点 4 分，任意答对 6 个角度中的 4 个角度即可得满分 14 分，多答不超过 14 分满分，要求材料知识相结合，且只看对的不看错的。)

39. (12 分)

①全国人大及其常委会行使立法权和监督权，为种子产业健康发展提供法律保障；(3 分)

②政府应转变职能，做到政企分开，依法保障种子企业的市场主体地位；(3 分，若答政府履行组织社会主义经济职能等知识亦可得分。)

③各级政府严格行政执法，加强市场监管，维护种子市场秩序；(3 分，若答政府依法行政等亦可得分)

④人民法院依法行使审判权，解决经济纠纷，维护农民和种子企业的合法权益。(3 分，若答司法机关公正司法、严格执法等亦可得分。)

40. (26 分)

- (1) ①社会存在决定社会意识，社会意识对社会存在具有反作用，先进的社会意识对社会发展起促进作用，要重视科学理论的指导作用。(4 分，原理 3 分，方法论 1 分，若答社会意识的相对独

立性及方法论同样得 4 分。)伟大的建党精神源自对科学真理的坚守, 坚守马克思主义真理, 照亮中国革命道路、中国发展道路和中华民族伟大复兴的征程。(2分)

②人民群众是历史的主体、历史的创造者, 坚持群众观点群众路线。(4分, 原理 3 分, 方法论 1 分, 若答自觉站在最广大人民群众利益立场上不得给分。)伟大的建党精神源自对人民立场与对中国人民谋幸福、为中华民族谋复兴的初心使命的坚守。(2分)

(若答对经济基础决定上层建筑, 适应经济基础状况的上层建筑对社会发展起促进作用, 材料分析准确, 可以酌情给分。)来源微信公众号: 高三答案

(2) ①文化是一种精神力量, 在认识世界和改造世界的过程中可以转化为物质的力量, 对社会发展和个人发展产生深刻影响。积极的先进的文化对社会发展个人发展起促进作用。(2分)伟大建党精神作为一种先进的意识(精神), 对中国共产党的自身建设起到积极作用, 是中国共产党加强自身建设的精神之源。(2分)

②伟大的建党精神是中华民族精神的丰富和发展, 是支撑经济社会发展的重要的精神支柱, 是推动中华民族走向繁荣强大的精神动力, 为党救国、兴国、富国、强国提供源源不断的内生动力。(3分)

③伟大的建党精神以马克思主义为指导, 坚持中华文化立场, 立足当代中国现实, 结合当今时代条件, 是中国特色社会主义先进文化的重要组成部分。(3分)

(若答对, 继承和发展中华优秀传统文化或者推动中华优秀传统文化的创造性转化和创新性发展, 或其他观点, 言之有理, 亦可得 2 分。)

(3) ①建议: 挖掘伟大建党精神的价值内涵, 增强红色故事的吸引力与感召力, 内化于心, 外化于行。

哲理: 意识对物质具有反作用, 树立正确的意识。或价值观具有导向作用, 要树立正确的价值观等。

②建议: 组织参观红色旅游景点或观看红色电影和展览等, 感悟伟大建党精神, 坚定人生理想信念。

哲理: 在砥砺自我中走向成功, 坚持坚定的理想信念和正确的价值指引。

(任意答对一个建议, 并且哲理基本正确即可得 4 分; 只有建议无哲理或者哲理错误, 得 2 分; 没有建议只有哲理不得分。)

中学生标准学术能力诊断性测试 2022 年 9 月测试

文综历史参考答案

一、选择题：本题共 12 小题，每小题 4 分，共 48 分。在每小题给出的四个选项中，只有一项是符合题目要求的。

24	25	26	27	28	29	30	31	32	33	34	35
B	C	D	A	B	D	A	B	C	D	B	C

二、非选择题。

(一) 必考题

41. (25 分)

(1) 人口流动变化：墨西哥成为移民流入的主要区域；美国西部南部成为人口流入的主要区域；(5 分，一点 3 分，两点 5 分) 来源微信公众号：高三答案

人口管理政策：管理政策由自发管理到政府主导转变；重视引入脑力劳动者；限制非法移民；人口管理呈现阶层隔离性；管理重心下沉，社区发挥重要作用。(7 分，一点 2 分，四点 7 分)

(2) 特点：人口流动规模大；从农村向城市迁移；从内地主要流向沿海发达地区。体力劳动者流动数量大(6 分，一点 2 分，3 点 6 分)

影响：促进人口资源的合理配置；有利于城乡经济一体化；加快城市化进程；保障人民的基本福利，提高生活水平，适应了社会主义市场经济发展的需要。(7 分，一点 2 分，四点 7 分)

42. (12 分)

范例：国际组织：北约、华约 国际局势：两极格局

阐释：二战结束后，美国意图称霸世界，苏联意图扩大自身的势力范围。美苏国家利益不同，意识形态上对立。1949 年以美国为首的北约和 1955 年以苏联为首的华约，它们的建立标志着两极格局的形成。美苏冷战一方面破坏了世界和平，全世界面临着核战争的威胁；一方面全世界没有爆发新的世界大战，客观上促进了世界科技的发展。

评分标准：写出国际组织 2 分，国际组织体现的国际局势 2 分。国际组织只写一个(设问要求写一类，最少两个)或者国际组织与国际形势不匹配，只得 2 分。

能够准确运用史实 2 分，国际形势进行原因或影响分析 4 分，字迹清晰、逻辑完整 2 分。

评分说明：观点明确 2 分、论述 8 分、总结 2 分。

一等 (10-12 分)	1. 观点明确；观点必须符合唯物史观 2. 合理引用史实，时间跨度大，进行多角度评论 3. 论证充分，逻辑严密，表述清楚
二等 (5-9 分)	1. 观点较明确，观点必须符合唯物史观 2. 基本能引用史实，能多角度评论 3. 论证较完整，表述清楚
三等 (0-4 分)	1. 观点较明确，观点不符合唯物史观，按 0 分处理 2. 引用史实有限，不能多角度评论 3. 论证欠缺说服力，表述不清楚

(二) 选考题

45. (15 分)

(1) 吸取前朝的管理经验；羁縻府州的数量多，设置范围广；权力较大、独立性强；多措并举，综合运用行政、军事、经济手段。(一点 2 分，三点 6 分)

(2) 扩大唐代的疆域；强化中央集权，维护国家统一；促进民族融合和民族认同；加快边疆地区的开发与发展；有利于中原地区与少数民族地区的经济文化交流；对后世边疆地区治理提供借鉴；

独立性较强，易形成割据力量。（一点2分，五点9分）

46.（15分）

- （1）美国单方面发动，未得到联合国授权；多以反对恐怖主义为名；大量运用新式武器，科技含量高；战争军费花费大。（一点2分，三点7分）
- （2）冷战结束后，美国推行霸权主义和强权政治；宗教纠纷；领土纠纷；极端民族主义兴起；恐怖主义的兴起；冷战思维影响深重。（一点2分，四点8分）

47.（15分）

- （1）开疆破土，扩大疆域；推进地方政治制度改革；大力发展海外贸易；重视城市建设；总结完善罗马法体系。（一点2分，四点8分）
- （2）政治改革，稳定东罗马帝国的统治；促进帝国经济的繁荣；促进东西方经济文化的交流；对后世建筑和城市规划影响深远；《查士丁尼法典》标志着罗马法的完善。（一点2分，四点7分）

中学生标准学术能力诊断性测试 2022 年 9 月测试

文综地理参考答案

一、选择题：本题共 11 小题，每小题 4 分，共 44 分。在每小题给出的四个选项中，只有一项是符合题目要求的。

1	2	3	4	5	6	7	8	9	10	11
C	C	A	A	B	A	B	C	C	A	C

二、非选择题。

(一) 必考题

36. (20 分)

- (1) 地处热带，生物资源丰富；与大陆分离较早，拥有众多独特资源，稀有品种多；与外界相对隔绝，部分生物具有古老性。(答出生物资源丰富、种类独特；稀有品种多；古老性等三点可得 6 分) 来源微信公众号：高三答案
- (2) 地处低纬，全年高温；受索马里寒流影响，气候干燥，降水稀少。(答出高温少雨；地处低纬；寒流影响等三点得 6 分)
- (3) 地形以山地丘陵为主，陆路运输不便且建设难度较大；与该国其他地区之间距离较远，运距较远；水路运输速度较慢；建设港口条件较差，西南风影响时难以靠岸；航空运输受地面状况影响小，且适宜长距离运输。(答出地形类型导致陆路运输不便；作为岛屿与其余区域相距较远；水路运输速度慢；开展水运条件困难；航空运输相对优势，提及长距离运输及受地面影响小。任答四点可得 8 分)

37. (26 分)

- (1) 整体地势西南高，中、东部低；以山地、平原为主；山地分布于西南部，平原位于中东部。(答出地势高低；地形类型；地形分布三点可得 6 分)
- (2) 拥有面积较为广阔的森林草原带，枯枝落叶较多，提供大量有机质；纬度较高，气温低，微生物活性弱，对有机质分解较慢；大量有机质积存于土壤，形成肥力较高的黑土。(答出枯枝落叶多；有机质分解慢；有机质大量保留于土壤中等三点可得 6 分)
- (3) 油气运输方向和运输量可能减少，对部分地区，尤其是欧洲地区能源运输及供应安全造成威胁，存在构成能源供应危机的风险；对俄罗斯油气行业发展造成打击，影响其在建中管道的建设；增加管道维护及运输管理难度；促使俄罗斯提升其余油气运输方式比重，如海运；油气运输的

运费可能会大幅度提升。（对运输安全造成威胁；影响管道建设；管道维护管理难度增加；提升或增加其余运输方式比重；运输成本变化；油价上涨任答四点得 8 分）

- (4) 影响在乌企业的投资安全性；乌克兰投资环境恶化影响中国企业投资积极性；对我国油气、农业等企业造成打击，对依赖工业原料的高新科技企业发展造成影响，不利于发展对乌贸易；对依托“一带一路”的相关企业发展造成不利影响。（答出投资安全下降；影响投资积极性；对油气、农业造成影响；对“一带一路”相关企业产生影响中的任意三点得 6 分）

(二) 选考题

43. (10 分)

有利评价：地域组合性好，种类齐全，有较高的历史文化价值；位于环渤海地区，周边大城市多，客源市场广阔；河北省面积相对较大，可容纳游客数量多，有较高的环境承载力。

不利评价：部分景区位于山区，基础设施有待完善；受地形限制，部分景区交通通达度有限。

意义：弘扬革命精神，保护红色文化；提升红色精神宣传教育力度，加强民族自豪感，增强民族凝聚力；带动革命老区发展，为当地提供就业机会。（评价角度有利方面：答出历史文化价值高；客源市场广阔；环境承载力高中任意两点得 4 分；不利方面：答出基础设施不足；部分景区交通通达度有限任意一点得 2 分。意义角度答出保护红色文化；加强宣传教育；带动革命老区发展中任意两点得 4 分）

44. (10 分)

造成碳排放的原因：人口增长，工业发展加快，致使碳排放增多；化石能源大量燃烧，造成碳排放；植被破坏严重，固碳作用下降；私家车数量增长较快，二氧化碳排放增多。

购买碳资产原因：我国节能减排相关领域技术水平高，存在结余碳资产，可对外出售；澳大利亚经济发展水平高，碳排放量较大，存在碳资产缺口。（碳排放原因答出工业发展造成碳排放增多；化石能源大量燃烧；植被破坏；私家车数量增长中任意三点可得 6 分。购买碳资产原因答出我国存在碳结余；澳大利亚存在碳资产缺口两点可得 4 分）

关于我们

自主选拔在线是致力于提供新高考生涯规划、强基计划、综合评价、三位一体、学科竞赛等政策资讯的升学服务平台。总部坐落于北京，旗下拥有网站（[网址: www.zizzs.com](http://www.zizzs.com)）和微信公众平台等媒体矩阵，用户群体涵盖全国90%以上的重点中学师生及家长，在全国新高考、自主选拔领域首屈一指。

如需第一时间获取相关资讯及备考指南，请关注**自主选拔在线**官方微信号：**zizzsw**。



微信搜一搜

自主选拔在线