

许济洛平 2022—2023 学年高三第三次质量检测

文科综合

注意事项:

1. 答卷前,考生务必将自己的姓名、考生号、考场号和座位号填写在答题卡上,将条形码贴在答题卡“条形码粘贴处”。

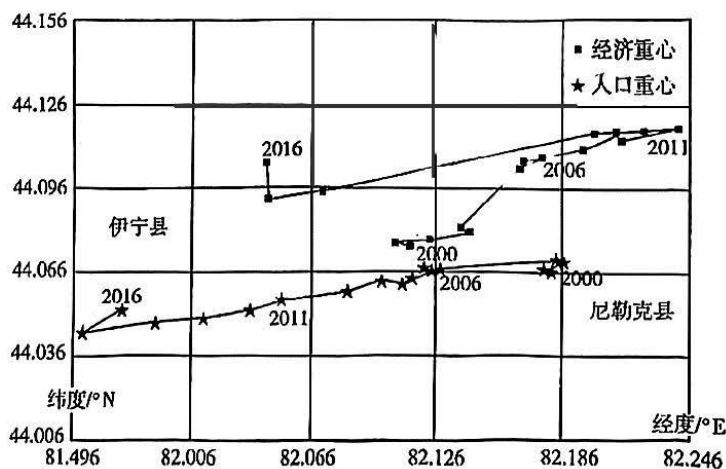
2. 作答选择题时,选出每小题答案后,用 2B 铅笔在答题卡上对应题目选项的答案信息点涂黑;如需改动,用橡皮擦干净后,再选涂其他答案。

3. 非选择题必须用黑色字迹的钢笔或签字笔作答,答案必须写在答题卡各题目指定区域相应位置上;如需改动,先划掉原来的答案,然后再写上新答案;不准使用铅笔和涂改液。不按以上要求作答无效。

4. 考生必须保证答题卡的整洁。考试结束后,将答题卡交回。

一、选择题:本题共 35 小题,每小题 4 分,共 140 分。在每小题给出的四个选项中,只有一项是符合题目要求的。

伊犁哈萨克自治州(简称伊犁州)位于新疆西北部,与哈萨克、俄罗斯、蒙古等国接壤,是“一带一路”上的重要节点,2021 年一、二、三产业占比分别为 19.7%、28.6%、51.7%。首府伊宁市位于其西部,近年来生物制药、电子信息等产业稳步发展。下图示意 2000—2016 年伊犁州直属县市人口和经济重心移动轨迹。据此完成 1~3 题。



2000—2016年伊犁州直属县市人口-经济重心移动轨迹

- 2000~2016 年伊犁州直属县市人口重心总体移动方向及其主要原因分别是

A. 西部 西部的集聚效应显著	B. 西北 西北技术水平较高
C. 西南 西南人口自然增长快	D. 西部 西部交通条件优越
- 伊犁州第二产业未来的发展方向为

A. 增加纺织服装业投资	B. 加大当地资源开发力度
C. 推动新兴工业化建设	D. 优先发展食品加工产业

高三文科综合 第1页(共14页)

考号

姓名

班级

学校

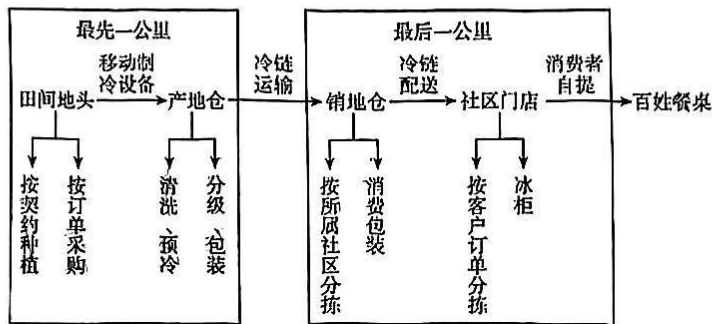
县区

答题线内密封

3. 伊犁州近年来第三产业发展迅猛的主导因素是

- A. 经济水平 B. 区域面积 C. 地理位置 D. 交通条件

生鲜农产品主要包括蔬菜、水果、蛋、肉、奶制品等,其时效性要求较高,从田间到老百姓的餐桌过程中“最先一公里”和“最后一公里”至关重要。下图为生鲜农产品冷链物流流程图。据此完成4~6题。



从田间地头到百姓餐桌的农产品冷链物流流程图

4. 建设生鲜农产品冷链物流的主要作用包括

- ①提高经济效益 ②增加产品运量 ③扩大销售范围 ④提高物流速度

- A. ①③ B. ②③ C. ①④ D. ③④

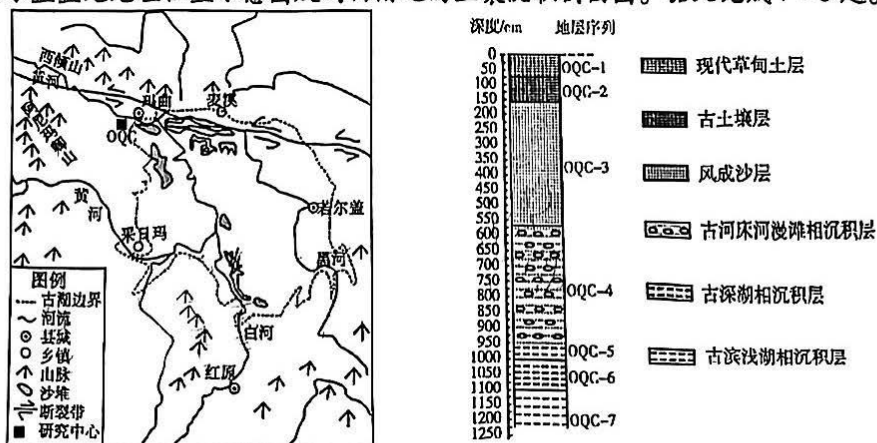
5. “最先一公里”保障农产品“生鲜”的关键环节是

- A. 控制农产品收获时间 B. 采用移动制冷设备
C. 进行农产品分级包装 D. 对农产品清洗预冷

6. 经营生鲜农产品的电商企业要走好“最后一公里”,需要

- A. 建设独立物流系统 B. 增加高铁运输里程
C. 增加销地仓的数量 D. 合理布局社区门店

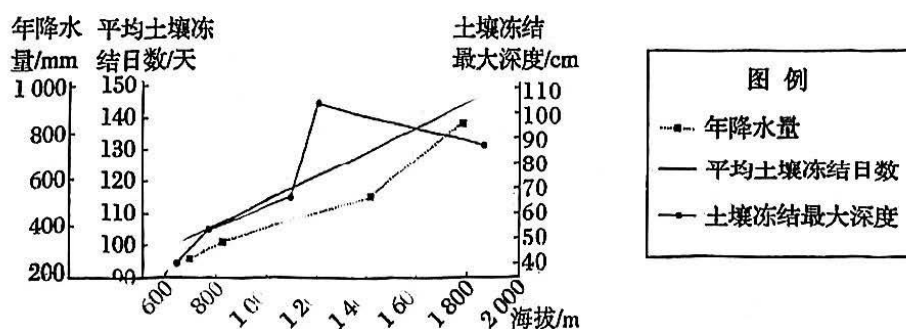
若尔盖盆地位于青藏高原东北部,地质历史时期发育了若尔盖古湖,末次冰期晚期,在若尔盖盆地西北部的玛曲附近,古黄河自西向东溯源侵蚀贯通了若尔盖古湖,湖水外泄。下图为若尔盖盆地地理位置示意图及玛曲附近的土壤沉积剖面图。据此完成7~8题。



高三文科综合 第2页(共14页)

7. 古黄河贯通若尔盖古湖时期形成的地层是
A. OQC-4 B. OQC-5 C. OQC-6 D. OQC-7
8. 有关古黄河贯通若尔盖古湖所需条件,推测合理的是
①气候较为温暖湿润 ②构造活动强烈 ③植被覆盖度下降 ④地形平坦开阔
A. ①② B. ①④ C. ②③ D. ②④

土壤的冻结和融化过程受气温、积雪、地形、太阳辐射、地表覆盖条件以及人类活动等多种因素影响。我国某地区冬春固态降水量占年降水量的30%左右,某研究所对该地区不同海拔区域冻土层的研究发现,土壤冻结日数和土壤最大冻结深度随海拔的升高具有一定的规律性。下图为该地区不同海拔土壤的平均冻结日数和冻结最大深度的变化图。据此完成9~11题。



9. 土壤冻结深度最大处的平均土壤冻结日数最接近
A. 110天 B. 120天 C. 135天 D. 145天
10. 当海拔大于1200米时,影响该地区土壤冻结最大深度与海拔相关性的主导因素是
A. 太阳辐射 B. 积雪厚度 C. 年降水量 D. 大气温度
11. 在全球变暖背景下,该地区土壤冻结最大深度的变化规律是
A. 低海拔地区和高海拔地区均减小 B. 低海拔地区增大、高海拔地区减小
C. 低海拔地区和高海拔地区均增大 D. 低海拔地区减小、高海拔地区增大
12. 某村依托乡村种植业与非集体资本合作,进行混合所有制改革,以土地、厂房等集体资产入股占比55%,引进某智农实业有限公司,以技术、人才入股占比45%,有效破解了当前农村基层组织缺乏收入、治理能力弱、农民增收慢等问题,使新农村建设焕发出勃勃生机。对材料解读正确的是
①土地等生产要素入股,促进了新型农村集体经济发展
②完善农村生产关系,为非公有制经济发展注入新动能
③流转集体土地的所有权,充分发挥适度规模经营优势
④“混改”集聚农村优势资源要素,创新了农村经营方式
A. ①② B. ①④ C. ②③ D. ③④

13. 2022年12月15日至16日,在北京召开的中央经济工作会议指出,稳健的货币政策要精准有力。要保持流动性合理充裕,保持广义货币供应量和社融规模增速同名义经济增速基本匹配,引导金融机构加大对小微企业、科技创新、绿色发展等领域支持力度。以下具体措施符合上述政策要求且传导正确的是
- ①完善市场化利率形成机制→企业贷款利率下降→降低企业负债率→减轻企业负担
②企业贷款可延期还本付息→降低企业融资成本→提升企业经济效益→增强企业活力
③发行小微企业专项金融债→扩大信贷规模→缓解企业融资难题→助力经济平稳运行
④煤炭清洁专项再贷款→保障企业技改资金→促进企业绿色生产→推动碳达峰碳中和
- A. ①② B. ①④ C. ②③ D. ③④
14. 2022年医保谈判结果正式出炉,从谈判和竞价情况看,总体成功率达82.3%,谈判和竞价新准入的药品价格平均降幅达60.1%,本次调整预计未来两年将为患者减负超过900亿元。以下有关医保谈判说法正确的是
- ①充分发挥政府对医药行业的调节作用,从而解决医保基金压力
②调节不同社会群体之间的利益关系,降低人民群众的就医成本
③药品价格下降,药企利润降低,一定程度影响药企研发积极性
④坚持共享发展,引导药企承担社会责任,扩大群众用药受益面
- A. ①② B. ①③ C. ②④ D. ③④
15. 自2022年12月30日起,各地商务主管部门停止办理对外贸易经营者备案登记。对于申请进出口环节许可证、技术进出口合同登记证书等相关证件和资格的市场主体,有关部门不再要求其提供对外贸易经营者备案登记材料。这有利于
- ①优化营商环境,筑牢现代化经济体系的根基
②以开放促发展,加快构建双循环新发展格局
③推动区域协调发展,以破解发展不平衡问题
④释放外贸增长潜力,以推进贸易高质量发展
- A. ①③ B. ①④ C. ②③ D. ②④
16. 2022年12月13日,经中央批准,海南省成立全国首个营商环境建设厅。作为省政府组成部门,负责统筹推进营商环境、政务服务、数据共享、社会信用等工作,全省营商环境建设将进入一个全新阶段。海南省营商环境建设厅的成立旨在
- ①深化体制机制改革,提升行政管理水平 ②提升市场主体满意度,树立政府的权威
③推进政府职能转变,增强政府服务能力 ④全面加强依法行政,规范政府工作行为
- A. ①③ B. ①④ C. ②③ D. ②④

高三文科综合 第4页(共14页)

17. 党的二十大报告对推动战略性新兴产业融合集群发展作出战略部署,将其列为建设现代化产业体系的重要举措。在某地政协会议上,多个民主党派围绕本地先进制造业集群建言献策。这表明
- ①民主党派积极推进中国特色社会主义现代化建设
 - ②民主党派通过协商民主的形式,履行政治协商职能
 - ③中国共产党与民主党派是通力合作的亲密友党关系
 - ④民主党派要接受中国共产党的政治领导和组织领导
- A. ①③ B. ①④ C. ②③ D. ②④
18. 2022年12月15日,国家主席习近平在《生物多样性公约》第十五次缔约方大会第二阶段高级别会议开幕式上致辞时指出,人类是命运共同体,唯有团结合作,才能有效应对全球性挑战。我们应该携手努力,共同推进人与自然和谐共生,共建地球生命共同体,共建清洁美丽世界。这说明我国
- ①摒弃利益分歧,共建清洁美丽世界
 - ②坚持合作共赢,推进人与自然和谐
 - ③凝聚全球共识,顺应时代主题变化
 - ④着眼共同利益,展现大国责任担当
- A. ①③ B. ①④ C. ②③ D. ②④
19. 2023年元旦,动画短片集《中国奇谭》一经上线便引发观剧热潮。它利用三维动画、定格动画等技术,把都市寓言融入到传统神话,进行属于当下的故事新编,以雄奇想象缔造出“奇境入梦,我在其中”的氛围。这表明
- ①现代科技具有选择、传递、创造文化的特定功能
 - ②现代科技助推中华优秀传统文化的创造性转化
 - ③文化创新就是把传统文化注入到时代精神之中
 - ④不忘本来,推陈出新,文化才能永葆生机与活力
- A. ①② B. ①③ C. ②④ D. ③④
20. 为迎接癸卯兔年,国家文物局紧紧围绕新时代文物工作方针,指导各地博物馆结合实际精心策划博物馆里过大年系列活动,从多个角度展示中国丰富多彩的兔文化,深受海内外人民群众的欢迎和喜爱。开展这一活动的文化意义在于
- ①促进文化事业发展,满足人民精神文化需求
 - ②利用各种文化资源,深入挖掘文化经济价值
 - ③发挥中华文化作用,集中展示当代中国精神
 - ④展现中华文化魅力,增强中华文化的影响力
- A. ①③ B. ①④ C. ②③ D. ②④

高三文科综合 第5页(共14页)

21. 为了进一步做好新型冠状病毒感染诊疗工作, 国家卫生健康委同国家中医药管理局, 结合奥密克戎变异毒株特点和感染者疾病特征, 组织对《新型冠状病毒肺炎诊疗方案(试行第九版)》进行了修订, 形成了《新型冠状病毒感染诊疗方案(试行第十版)》。这蕴含的哲学道理是

- ①真理与谬误往往相比较而存在, 相斗争而发展
- ②人的认识变化本质上是人的思维方式的变化
- ③真理性认识总是在辩证否定中不断超越自身
- ④人类的认识活动具有目的性和主动创造性

A. ①② B. ①④ C. ②③ D. ③④

22. 中国式现代化, 是中国共产党领导的现代化, 既有各国现代化的共同特征, 更有基于自己国情的中国特色。中国式现代化道路, 不仅吸纳了人类文明的共同成果, 又符合中国实际, 适应时代发展要求, 能够为发展中国家探索现代化道路提供选择。这说明

- ①准确把握人类现代化道路的共同点, 是正确认识中国式现代化道路的基础
- ②普遍性只能存在于特殊性之中, 中国式现代化道路能为其他国家提供借鉴
- ③准确分析中国式现代化的中国特色, 才能正确认识中国式现代化道路本质
- ④中国式现代化道路寓于现代化道路之中, 并且通过中国式现代化表现出来

A. ①③ B. ①④ C. ②③ D. ②④

23. 漫画《成功并不在于别人走你也走, 而在于别人停下来, 你仍然在走》蕴含的哲理是

- A. 任何事情都是绝对运动与相对静止的统一
- B. 量变不断持续积累是引起成功的必要条件
- C. 事物的发展是持续性和间断性的有机统一
- D. 量变的不断积累就能达到人们所要的成功



24. 西周时期小宗世袭为大宗家臣, 异姓亦可世袭为家臣。然至春秋时期, 家臣由西周“宗法性家臣”发展成春秋后期掌握国家命运的“陪臣”。这一现象表明春秋时期

- A. 血缘政治不断发展完善
- B. 封建贵族享有广泛特权
- C. 周王丧失天下共主地位
- D. 官僚政治体制逐渐萌发

25. 西汉前期农业领域中出现了一批专事田畜生产的大户。如桥姚有“马千匹, 牛倍之, 羊万头, 粟以万钟计”。在有些地方还出现了许多经营农业、渔业、林业生产的专业户。这些现象的出现说明汉初

- A. 传统的经济结构发生改变
- B. 农业生产呈现区域化趋势
- C. 商品经济得到了较快发展
- D. 休养生息的政策出现调整

打印



下载

高三文科综合 第6页(共14页)

26. 北宋建立之初,统治者曾屡次下令改变旧俗中不符合儒家原则的地方,强调“原人伦者,莫大于孝慈,正家道者,无先乎敦睦”。在此后几百年间,又屡屡下令推广儒家经典中关于社会生活的规则和仪式。这表明宋代
- A. 三教合一的局面被打破
B. 儒学的社会影响不断加强
C. 礼治秩序开始了平民化
D. 社会需要推动了儒学创新

27. 下表为明清时期部分地区制定的乡约条款

明《文堂陈氏乡约》	本都远近山场,栽植松杉竹木,毋许盗砍盗卖,诸凡樵采人止取杂木。如违,鸣众惩治。
清《公议茶规》	凡买松萝茶客入村,任客投主,入祠校秤,一字平称。货价高低,公品公买,务要前后如一。

- 由此可知,明清时期的乡约
- A. 随着时代发展而不断完善
B. 提高了乡村社会自治能力
C. 维护了个体经济稳定发展
D. 有利于维护乡村公序良俗
28. 清末著名谴责小说家李伯元在其小说《文明小史》中,对当时中国官场和社会上流行的各种“文明”行为与现象,如开公司、买股票、剪辫子、着洋装、满口新名词、崇洋又媚外等,给予了生动的文学再现。这反映了
- A. 作者借助西方文化讽刺现实
B. 经济发展助推思想解放
C. 西方文化对中国社会的冲击
D. 学习西方成为社会共识
29. 康有为在写给光绪帝的奏折中认为:“吾国行专制政体,一君与大臣数人共治其国,国安得不弱?”他指出,开国会、立宪法、行民权是中国传统文化中本来就有的,《周礼》中的“三询”、《尚书》中的“谋及卿士,谋及庶人”就是君主立宪的本原形态。这表明康有为
- A. 要求废除旧法创立新制
B. 注重中西文化的相互融合
C. 托古改制减少变法阻力
D. 重视传统文化的继承创新
30. 1940年中共中央对党内发布指示,进一步明确指出:必须按收入多少规定纳税额,一切有收入的人民,不论工人农民,均须负担国家赋税,不应该将负担完全放在地主资本家身上。该指示的推行
- A. 有利于巩固抗日民族统一战线
B. 改变了阶级斗争为中心的立场
C. 促进了土地改革运动顺利开展
D. 加快了向新民主主义社会过渡

高三文科综合 第7页(共14页)

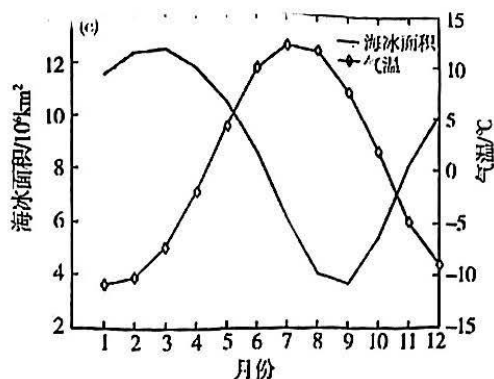
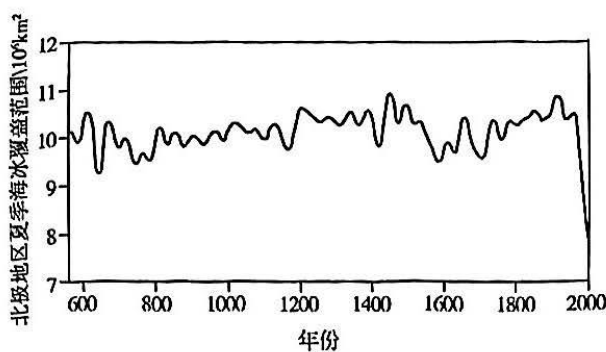
31. 1992 - 1996 年国有企业工业总产值占行业的份额 (单位: %)

项目 \ 年份	1992 年	1996 年	年均递减速度
全国总计	63	43.5	7.1
轻工业	52.3	31.4	9.7
重工业	71.1	52.6	5.8

据此可知,这一时期我国

- A. 计划经济体制已经瓦解
B. 市场经济体系得到确立
C. 经济发展结构趋于均衡
D. 经济体制改革走向深入
32. 在罗马法早期人们订立契约时,必须由一人询问:“你与我立誓吗?”另一人则回答:“我立誓。”若无宣誓程序,则该契约无法律效力。这主要体现了古罗马法
- A. 具有形式主义特征
B. 签约过程公开公正
C. 注重保护个人权益
D. 法律制度严密规范
33. 19 世纪末,英国棉花种植协会在非洲殖民地进行了大量的棉种实验。英国棉花种植协会派专家教非洲农民棉花种植技术,并且殖民地政府在制定棉花销售相关法规方面给予英国棉花种植协会以特殊照顾。由此可知,英属非洲殖民地的棉花种植推广活动
- A. 推动了非洲地区的工业化
B. 强化了殖民地对英国的依附
C. 满足了资本原始积累需要
D. 促进了英国工业革命的开展
34. 18 世纪德国史学家杜谷在其史学著作中,用进步的自然规律代替神的超自然的意志和隐密作用来解释历史运动,并试图通过过去的整个历史来证明存在着这样的进步。这一认识
- A. 完整阐述了社会发展规律
B. 深受欧洲启蒙思想影响
C. 奠定了进化论的理论基础
D. 否定天主教会的神创说
35. 1979 年关贸总协定缔约方通过协议,明确规定发达国家成员国与发展中国家成员国之间,或者发展中国家成员国之间,可以背离关贸总协定第 1 条最惠国待遇的诸项规定。WTO 成立后,通过“授权条款”,成员方可以合法地给予发展中国家成员国关税上的优惠。这些规定
- A. 推动了世界贸易法制化进程
B. 扫清了经济全球化发展障碍
C. 消除了各国之间的贸易壁垒
D. 利于调整成员国之间的矛盾

高三文科综合 第8页(共14页)



(1) 指出一年内北极地区海冰分布随纬度的变化特征。(8分)

(2) 有学者指出,工业革命以来北极地区夏季海冰覆盖范围缩小并非只受 CO_2 浓度增加的影响,请结合图文资料为该学者的观点找出合理证据。(6分)

(3) 气候变暖背景下,从下垫面、大气热力作用及海水热量输送等角度分析北极地区海冰加速消融的可能原因。(8分)

38. 阅读材料,完成下列要求。(14分)

在疫情防控进入新阶段后的第一个春节,中国消费市场迎来2023年“开门红”。

国家税务总局数据显示,2023年春节假期,全国消费相关行业销售收入与上年春节假期相比增长12.2%。其中,商品消费和服务消费同比分别增长10%和13.5%,生活必需品、家居升级类商品、旅游服务等消费增长较快。品类多样的年味预制菜备受青睐,“洋年货”琳琅满目,智利樱桃、南美水果、红酒、牛肉等优质农产品在中国市场受热捧。

特色住宿倍受欢迎,四合院、老洋房、骑楼等地域特色民宿销售收入同比增长74.2%。“春节档”电影总票房超67亿元人民币,冰雪运动、主题乐园、户外露营、温泉泡汤、文博展览等成为消费新宠。

结合材料,运用经济生活知识,概括春节消费的特点并说明春节消费对经济发展的积极影响。

39. 阅读材料,完成下列要求。(12分)

为深入贯彻党的二十大精神,某市以党建引领网格化基层治理,不断提升市域社会治理体系和治理能力现代化水平。

该市坚持“一统四治”,以基层党建统领基层治理,把网格化治理与群众自治、依法治理、德治教化、数字治理深度融合,推动基层党组织向下扎根、向上生长,不断增强政治领导力、思想引领力、群众组织力、社会号召力。优化网格设置,配齐网格力量,强化政策支持,提升服务能力,让群众切实感受到党组织就在身边;夯实数据底座,健全线上线下一体联动的工作流程体系,围绕重点工作、城市管理服务高频事项和群众“急难愁盼”问题;丰富应用场

5 景,推进共治共享。
2 结合材料,运用政治生活知识,分析该市如何不断提升市域社会治理体系和治理能力现
代化水平。

气温代

40. 阅读材料,完成下列要求。(26分)

0 实践没有止境,理论创新也没有止境。要继续推进实践基础上的理论创新,首先要把握好
5 新时代中国特色社会主义思想的世界观和方法论,坚持好、运用好贯穿其中的立场观点方法。

必须坚持人民至上

增
海

延安时期,中国共产党提出全心全意为人民服务的根本宗旨并写入党章,强调中国共产党
“这个队伍完全是为着解放人民的,是彻底地为人民的利益工作的”。2022年10月27日,习近
平总书记带领中共中央政治局常委瞻仰延安革命纪念地时强调:“全党同志要站稳人民立场,
践行党的宗旨,贯彻党的群众路线,保持党同人民群众的血肉联系,自觉把以人民为中心的发
展思想贯穿到各项工作之中,扎实推进共同富裕,让现代化建设成果更多更公平惠及全体人
民。”以习近平同志为核心的党中央举全党全国之力脱贫攻坚,实现了中华民族从整体上消除
绝对贫困的历史壮举,中国人民生活全方位改善,获得感、幸福感、安全感更加充实、更有保障、
更可持续,真正过上了全面小康的幸福生活。

必须坚持文化自信自强

假
需
年

文化自信自强是实现中华民族伟大复兴的必然要求。党的十八大以来,以习近平同志为
核心的党中央牢牢把握意识形态工作领导权,将培育和践行社会主义核心价值观作为重大战
略任务,坚持把马克思主义基本原理同中国具体实际相结合、同中华优秀传统文化相结合,发
展社会主义先进文化、弘扬革命文化,传承中华优秀传统文化,坚持把社会效益放首位、社会效
益与经济效益相统一,推动公共文化服务均等化、产业化发展,为文化产业的高质量发展提供
支撑,提高全社会文明程度,推动明大德、守公德、严私德,提高人民道德水准和文明素养,加强
国际传播能力建设,讲好中国故事、传播好中国声音,展现可信、可爱、可敬的中国形象。

(1) 中国共产党坚持人民至上。结合材料,运用价值观相关知识对此加以说明。(12分)

(2) 结合材料,运用文化生活的相关知识,谈一谈如何推进文化自信自强。(10分)

(3) 青年兴,则国家兴;青年强,则国家强。在全面建设社会主义现代化国家的进程中,
广大青年如何才能不负青春,不负韶华?(4分)

41. 阅读材料,完成下列要求。(25分)

材料一 宋代城市商业继续发展,新兴起的商业街道、贸易场所与居民社区在城市内部
混杂交错,给城市管理带来了更多的困难,因此模仿军事编制和军事管理,结合城市社区划
分,首先在都城中出现了都厢、厢、坊、街巷城市分层区划,形成了城市管理的厢坊制。后来

高三文科综合 第11页(共14页)

厢坊制推行到汴京城外郊区,形成了东京都厢制度。宋代城市独立行政管理机构“都厢”,平行于赤县或县,领属于京府,这就是古代建制城市。辽代五京同样属于古代建制城市,上京临潢府“京官、朝官皆有之”,居五京之首,是辽代首位城市,形成了以其他四京为次首位城市的古代城市体系。

——摘编自韩光辉《宋辽金元建制城市的出现与城市体系的形成》

材料二 清代的城市体系在鸦片战争后受到了外来的冲击。清王朝在战后被迫开放广州、厦门、福州、宁波、上海等五个沿海商埠,并允许外人在通商口岸居住,这就在原有体系上捅开了几个小小的缺口。西方列强趁中国的内乱又发动了第二次鸦片战争,从而取得了在长江航行的特权并迫使沿海沿江的更多口岸对外开放。据统计,自五口通商到20世纪初,列强通过历次不平等条约强迫中国开放的通商口岸即达70多处。这些相继开放的、主要分布于沿海沿江地区的通商口岸,最终形成了以上海为中心的面向外部世界的开放型的城市体系。

——摘编自姜涛《中国近代城市体系的变动》

(1) 根据材料一并结合所学知识,概括宋辽时期城市出现的新变化,并说明其原因。(12分)

(2) 根据材料二并结合所学知识,简析近代中国城市出现的特点及其影响。(13分)

42. 阅读材料,完成下列要求。(12分)

国际关系中的权力结构从根本上影响着国际制度的建立、发展和变革。欧洲自18世纪以来经历了维也纳体系、凡尔赛—华盛顿体系、雅尔塔体系等几个历史时期。第二次世界大战结束后,国际上形成以美国和苏联两个超级大国对峙为特征的两极格局,二战后建立的国际治理体系既因先天不足又因两霸相争难有作为。冷战结束后,世界面临百年之大变局,全球治理体系也面临进一步变革。历史事实一再证明,世界各国相互联系和影响日益加深是不可抗拒的历史潮流,加强和完善全球治理是造福全人类的客观要求。

——摘编自徐步《推动全球治理体系朝着更加公正合理的方向发展》

从材料中提取一个观点,并结合所学知识加以合理阐述。(要求:观点明确,阐述清晰,史论结合。)

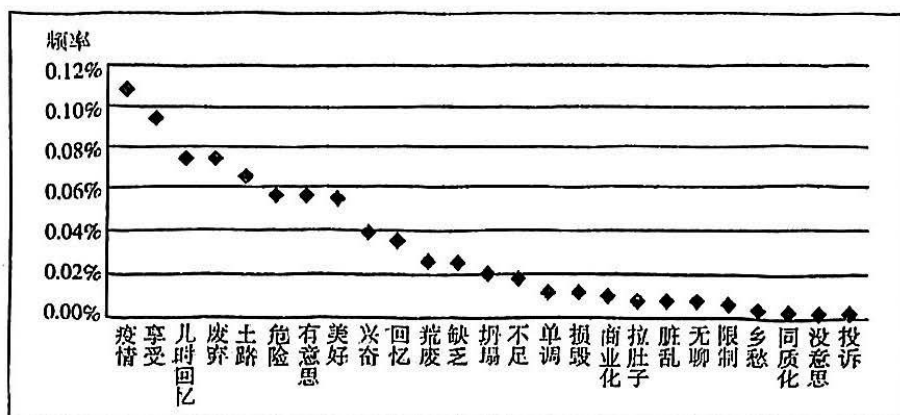
(二) 选考题:共25分。请考生从2道地理题、3道历史题中每科任选一题作答。如果多做,则每科按所做的第一题计分。

43. (10分)[地理——选修3:旅游地理]

2022年6月某研究团队以北京市28个传统村落为对象,通过获取相关互联网文旅大数据,运用旅游消费者行为理论,全面揭示北京传统村落游客的行为画像。基于游客反馈的

高一文科综合 第10页(共14页)

互联网大数据能够较为合理地揭示传统村落旅游的内在特征和问题。下图为该团队利用大数据绘制的消费者反馈词频统计图。



北京传统村落正负面反馈词频占比统计图

请结合材料信息对北京传统村落旅游发展状况进行综合评价。

44. (10分)[地理——选修6:环境保护]

务川臭蛙是中国特有的两栖动物,数量极其稀少,目前仅分布在贵州务川县自治州,被评定为极危物种,专家呼吁应该立刻成立保护区加以保护。务川臭蛙分布在16℃-18℃恒温且水流缓慢的喀斯特溶洞内,食物单一;务川臭蛙常年生长在水质良好、暗黑无光的洞穴内,这些洞穴是周围村民的水源地,洞穴口内安装有引水管或石砌的引水围堰。当地人把山里产的大型蛙类统称为“石磅”,有捕捉食用的习惯。

分析务川臭蛙数量稀少的原因。

45.【历史——选修1:历史上重大改革回眸】(15分)

材料 清末新政期间清政府参考日本等国的地方自治体制,结合自身特点,创造了独特的地方自治法律制度。依照地方自治的有关法律,清政府在城镇中设有议事会和董事会,乡村中设有议事会与乡董作为乡村自治的自治组织。《城镇乡地方自治章程》还规定了乡镇议事会的设置。该法第23条规定,“城镇议会议员以二十名为定额,城镇人口满五万五千后可增加一个名额,自此以上,每增加人口数五千,可多得一名额,最多不能超过六十名。”该法第24条还规定了乡议会议员名额的产生规则。城镇乡的议事会设议长、副议长各一名,依照专门的选举章程的规定由议员无记名投票选举产生。议员及议长、副议长都只享受名誉、不领取工资。议长和议员任期都是两年,每年改选其中一半。城镇议事会是地方议事机关,其职权是决定本地应行变革的事宜、制定自治规约、决定自治经费预算与决算、处理选举争议等。

——摘编自刘志鹏《清末乡村自治立法的百年回顾与启迪》

高三文科综合 第13页(共14页)

利用大

- (1)根据材料并结合所学知识,概括清末乡镇自治改革的主要内容。(8分)
(2)根据材料并结合所学知识,简要评价清末乡村自治改革。(7分)

46.【历史——选修3:20世纪的战争与和平】(15分)

材料 太平洋战争爆发后,蒋介石期盼已久的国际形势大变动来临了,由于远东战场的存在,蒋介石坚信美国援华抗日政策会更加积极,所以蒋介石便趁机向美国借款5亿美元。蒋介石在借款的要求里表示,这笔贷款不可以附带任何条件并且贷款解决的不仅是中国的军费问题,更重要的是解决经济问题。正如他所强调,“所拟借之款全在友邦表示对我信任,所以不能有任何之条件及事先讨论用途与办法,”否则,“恐失盟邦互助之感情。”对于中国这一贷款请求,美国认为在现在局势下,支持中国继续抗日是必要的。但是对于毫无条件的借款以及中国并没有拿出具体借款方案和不让日后美国干涉借款用途表现的并不那么情愿。中美之间经过几番讨论,最后美国决定贷款给国民党。毫无限制的五亿借款在中美外交史上是一次巨大的胜利,与此同时也看出了中国战区的战略价值以及中国国际地位的上升。

——摘编自李丽军《二战期间美国对华援助初探》

- (1)根据材料并结合所学知识,简析二战期间美国对华援助的原因。(8分)
(2)根据材料并结合所学知识,概括二战期间美国对华援助的影响。(7分)

州,被
18℃恒
的洞穴
人把山

47.【历史——选修4:中外历史人物评说】(15分)

材料 1924年在三民主义演讲中,孙中山对自身的国际秩序观作了进一步阐释。他认为“第一次世界大战”后,“俄国人自己推翻帝国主义,把帝国主义的国家变成新社会主义的国家,世界上又生出一个更大的变化”。苏俄“改组内部,把从前用武力的旧政策,改成用和平的新政策”。新政策“不但是没有侵略各国的野心,并且抑强扶弱,主持公道。”因此,不仅仅是打破俄国的帝国主义,“并且打破世界的帝国主义”,欧洲列强“主张侵略,有强权,无公理”,俄国以前也奉行这一主义,现在“主张以公理扑灭强权”。这是两种相反的主义,“所以列强至今还想消灭他”,于是“一齐出兵去打俄国”。正是因为俄国的转变“以后战争是强权和公理的战争”,世界由此形成压迫和被压迫、公理与强权的分野。在全世界范围将会形成两个联合阵线“白人主张公理的和黄人主张公理的一定是联合起来”。

——摘编自李育民《论孙中山的国际秩序观》

- (1)根据材料并结合所学知识,概括孙中山国际秩序观的主要内容。(8分)
(2)根据材料并结合所学知识,分析孙中山国际秩序观产生的背景。(7分)

独特
会,乡
乡镇
五
六十
、副议
长都
是地
决算、

台迪)

打印



下载

关于我们

自主选拔在线是致力于提供新高考生涯规划、强基计划、综合评价、三位一体、学科竞赛等政策资讯的升学服务平台。总部坐落于北京，旗下拥有网站（[网址：www.zizzs.com](http://www.zizzs.com)）和微信公众平台等媒体矩阵，用户群体涵盖全国 90% 以上的重点中学师生及家长，在全国新高考、自主选拔领域首屈一指。

如需第一时间获取相关资讯及备考指南，请关注**自主选拔在线**官方微信号：**zizzsw**。



 微信搜一搜

 自主选拔在线

