

秘密★启用前

自贡市普高 2023 届第三次诊断性考试 文科综合能力测试

本试卷由地理、政治、历史三个学科试卷组成，三个学科满分各 100 分，文科综合总分 300 分，考试时间 150 分钟。

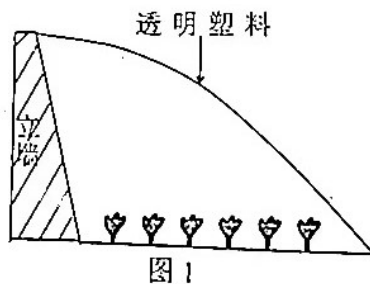
注意事项：

1. 答题前，考生务必将自己的姓名、班级、考号用 0.5 毫米的黑色签字笔写在答题卡上，并检查条形码粘贴是否正确。
2. 选择题使用 2B 铅笔填涂在答题卡对应题目标号的位置上，非选择题用 0.5 毫米黑色签字笔书写在答题卡的对应框内，超出答题区域书写的答案无效；在草稿纸、试题卷上答题无效。
3. 考试结束后，将答题卡交回。

第 I 卷（选择题）

本卷共 35 小题，每小题 4 分，共 140 分。在每小题给出的四个选项中，只有一项是符合题目要求的。

山东寒亭是我国传统的优质西瓜种植基地，近几年大棚西瓜在当地蓬勃兴起，为使西瓜早上市，当地优选耐寒品种，并专门建造墙体厚度较大、内墙与地面呈特定角度的大棚，每年 1 月底至 2 月初上市的早春西瓜单价高、销路好。图 1 为西瓜大棚示意图。据此完成 1-3 题。



1. 立墙墙体较厚、内墙面倾斜的主要作用是
 - A. 增强棚体稳固
 - B. 调节棚内湿度
 - C. 增加棚内空间
 - D. 提高棚内温度
2. 大棚塑料薄膜面应朝向
 - A. 北方
 - B. 南方
 - C. 西方
 - D. 东方
3. 与夏季上市的西瓜相比，寒亭早春西瓜的单价高、销路好的主要原因是
 - A. 市场需求大
 - B. 西瓜品质好
 - C. 产品供应少
 - D. 西瓜品种优

高 2023 届三诊文综试题 第 1 页 共 16 页

我国首座深远海浮式风电平台“海油观澜号”安装于距海南文昌136千米的东南方向海域。与近海固定式风电平台相比，稳定性是深远海浮式风电平台安全运行的关键。经科学设计，深远海浮式风电平台适宜安装在风力资源丰富且用电量大的区域。图2示意海上浮式风电平台。据此完成4-6题。



图2

4. “海油观澜号”风电平台设计及安装时需重点考虑抵御的自然灾害是

- A. 特大暴雨 B. 超强台风 C. 海底地震 D. 火山喷发

5. “海油观澜号”风电平台生产的电力最可能用于

- A. 临近的钻油平台 B. 附近的有人小岛
C. 海南岛上的城市 D. 附近的渔场生产

6. 与功率相同的近海固定式风电平台相比，深远海浮式风电平台

- A. 重量更轻 B. 安装更易 C. 发电更多 D. 投资更少

秦巴山地位于北亚热带和暖温带的过渡带，在水平方向和垂直方向上气温差异显著。随着气温的变化，该区域植被的垂直分带发生了明显的改变。图3示意秦巴山地107.81°E地形剖面线及海拔1500m处年平均气温变化。据此完成7-8题。

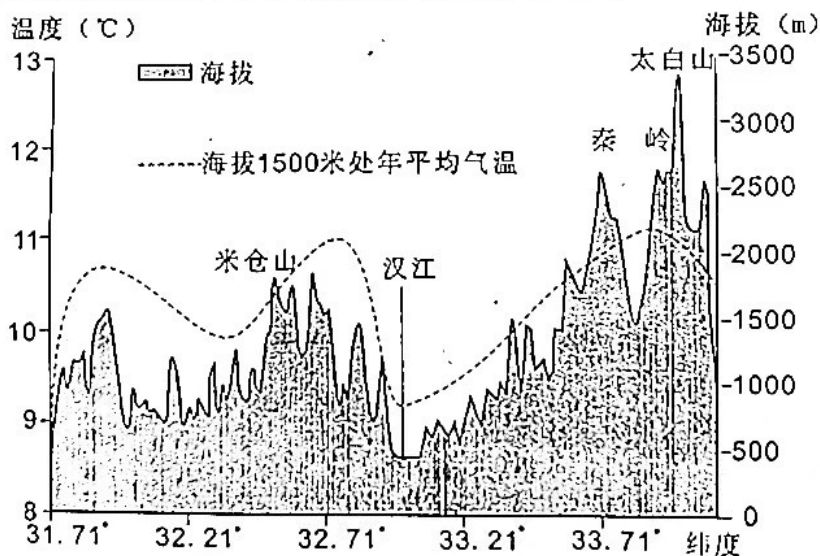


图3

7. 影响图中海拔1500米处年平均气温变化的主要因素是

- A. 地形起伏 B. 坡向差异 C. 水域面积 D. 纬度差异

8. 推测近几十年来，秦岭南坡常绿阔叶林带

- A. 下限上移，面积减小 B. 下限下移，面积增大
C. 上限上移，面积增大 D. 上限下移，面积减小

河流阶地是指河流下切侵蚀，原先的河谷底部（河漫滩或河床）超出一般洪水水位以上，呈阶梯状分布在河谷谷坡上的地形。河流阶地可反映区域地貌演化过程中的地壳运动和水文变化等信息。图4示意晚更新世以来贵州清水江施洞镇段河谷横剖面。据此完成9~11题。

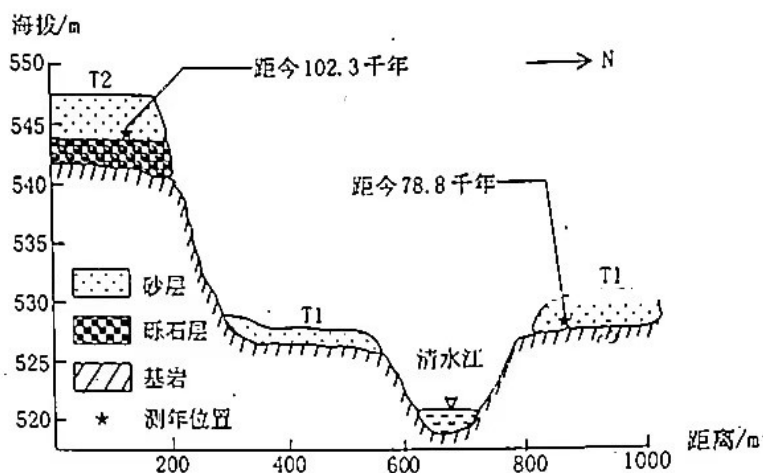


图4

9. T2阶地上层沉积物颗粒比下层小的主要原因是上层沉积物形成时期

- A. 土质更细 B. 植被更密 C. 泥沙更少 D. 流速更慢

10. T1阶地比T2阶地更宽，主要是因T1形成时期

- A. 侧蚀作用更强 B. 侧蚀作用更弱
C. 溯源侵蚀更强 D. 溯源侵蚀更弱

11. 图中信息显示晚更新世以来清水江流域地壳

- A. 下降变慢 B. 下降加快 C. 抬升加快 D. 抬升变慢

12. 近年来，我国社会保障水平与经济发展相适应，社会保障待遇水平稳步提高。我国基本养老保险参保人数达10.4亿人，覆盖范围不断扩大。2022年中央财政对企业职工基本养老保险基金的补助达到6500亿元左右，并重点向西部地区和老工业基地倾斜。完善社会保障体系要

- ①坚持公平对待每个公民并确保其享受相应权益
- ②加大财政投入，社会保障资金全部由国家负担
- ③立足我国国情，做到既尽力而为又要量力而行
- ④坚守应保尽保原则，把我国建设成高福利国家

A. ①②

B. ③④

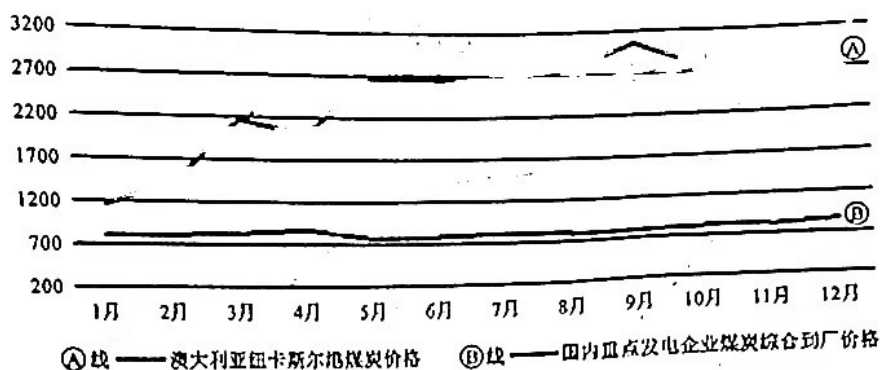
C. ①③

D. ②④

13. 2022年，面对复杂严峻的国际能源形势，国家发改委立足以煤为主的基本国情，创新煤炭价格区间调控机制。按照“下限保煤、上限保电”的原则，加强预期管理，通过“公告煤炭领域哄抬价格行为认定标准、健全煤炭价格检测制度”等实现了国内煤炭价格持续平稳

运行，如图所示。由此可见

2022年国内外煤炭价格走势对比



- ①按照“下限保煤、上限保电”的原则，大力降低上游燃煤发电企业的生产成本
 - ②煤炭价格事关民生，通过政府定价规范煤价，为稳定宏观经济大盘提供有力支撑
 - ③发现价格超出合理区间时，可采取约谈、通报等行政手段，引导价格回归合理区间
 - ④通过“区间调控”发挥政府经济职能，使国内煤炭价格和波动幅度明显低于国际市场
- A. ①② B. ③④ C. ①③ D. ②④

14. 消费是畅通国内大循环的关键环节和重要引擎，对经济具有持久拉动作用。2022年4月，国务院办公厅印发《关于进一步释放消费潜力促进消费持续恢复的意见》。下列关于促进消费措施传导过程的描述，合理的是

- ①加强财税支持→增加基础设施建设基金→以投资促消费→释放消费潜力
 - ②加强财税支持→支持创建放心消费活动→优化消费结构→释放消费潜力
 - ③加强财税支持→给予低碳产品消费补贴→推动绿色消费→释放消费潜力
 - ④加强财税支持→提高消费品进出口关税→激发国内需求→释放消费潜力
- A. ①② B. ③④ C. ②④ D. ①③

15. 跨境电商作为中国外贸的新生力量，动能十足。海关数据显示，2022年中国跨境电商进出口额2.11万亿元，同比增长9.8%。今年以来，中央到地方相继出台一系列政策，如跨境电商出口退运商品可实现“零税负”。跨境电商的发展得益于

- ①政府优化营商环境，培育贸易新模式新业态
- ②跨境支付技术和服 务不断提升，消费更便捷
- ③中国全面优化对外投资方式，提升核心竞争力
- ④营造良好营商环境，开放增强外商投资经营信心

- A. ①② B. ③④ C. ①④ D. ②③



16. 建立基层立法联系点制度是推进全过程人民民主的生动实践。在法律草案的立项、起草、调研、审议、评估、宣传、实施等环节，基层立法联系点“接地气”地听取基层群众的意见建议，并把人民群众的诉求“原汁原味”反馈给国家立法机关作研究吸纳的参考。建立基层立法联系点，推进全过程人民民主旨在

- ①坚持群众路线，扩大公民监督权，夯实基层的治理能力
 - ②调动人民群众的积极性，发挥各方优势，形成治理合力
 - ③加强国家机关自身建设，转变工作作风，实现司法公正
 - ④充分保障人民民主权利，以良法善治护航人民美好生活
- A. ①② B. ③④ C. ②④ D. ①③

17. 某社区有居民 2.3 万余人，其中，少数民族占 10%。近年来，该社区不断优化党群服务中心功能，创办了“共享奶奶”项目，组织各民族中有能力的老年人帮助照顾小孩；成立“民族关系协调室”，汇聚各民族代表人士和法律工作者担任“特约调解员”，及时有效地化解社区内涉及民族因素的矛盾纠纷。该社区的做法

- ①真正让各族人民当家作主成为基本政治制度
 - ②打造了融合各民族共建共治共享社区新格局
 - ③巩固了平等、团结、互助、和谐的民族关系
 - ④完善了社区社会管理和政务服务的制度保障
- A. ①④ B. ②④ C. ①③ D. ②③

18. 中国外交部发布《关于政治解决乌克兰危机的中国立场》的文件中，主张尊重各国主权，摒弃冷战思维，停火止战、启动和谈，解决人道危机，保障粮食外运，停止单边制裁，确保产业链供应链稳定，推动战后重建。材料说明

- ①中国秉持人类命运共同体理念，维护世界和平
 - ②中国维护自身利益的同时兼顾他国合理关切
 - ③各国应坚持独立自主和平外交政策，化解分歧
 - ④解决世界安全困境要坚持多边主义，协商对话
- A. ①② B. ①④ C. ②③ D. ③④

19. 某省积极推进特色文化礼堂建设，着力挖掘乡土文化、民俗文化等特色内容，打造特色文化礼堂，开发文创产品，发展文化旅游。这有利于

- ①借助现代传媒，赋予传统文化新的时代内涵
 - ②提高农民素质，为乡村振兴提供方向保证
 - ③促进文化与经济相互交融，赋能共同富裕
 - ④推动传统文化创造性转化、融入现实生活
- A. ①② B. ②④ C. ③④ D. ①③

高 2023 届三诊文综试题 第 5 页 共 16 页

20. 在第11届重庆国际文化产业博览会上, 文创“红梅旅行茶具”将红梅元素融入产品之中, 产品既有历史沉淀, 又富有时尚元素, 展出的场景化阅读产品《太平门》, 将书中故事还原到相应场景中, 以动人心弦的现场演绎牵引阅读者主动与故事发生交互。这表明

- ①内容和形式的创新能更好彰显文化活力
- ②丰富文化产品有助于满足群众精神需求
- ③多彩的文化活动是文化传播的主要方式
- ④弘扬传统文化促进文化产业高质量发展

A. ①② B. ②③ C. ①④ D. ③④

21. 李大钊说: “凡事都要脚踏实地去作, 不驰于空想, 不骛于虚声, 而惟以求真的态度作踏实的工夫。以此态度求学, 则真理可明; 以此态度做事, 则功业可就。”这是因为

- ①想问题要坚持矛盾客观性和特殊性的统一
- ②实践是主观见之于客观的能动的物质性活动
- ③实践是按照人的主观内在本性改造世界的物质活动
- ④想问题办事情要坚持一切从实际出发, 实事求是的原则

A. ①② B. ③④ C. ①③ D. ②④

22. 党的二十大报告提出, “以中国式现代化全面推进中华民族伟大复兴”。中国式现代化道路, 一方面遵循了现代化的一般规律, 汲取西方现代化的经验, 另一方面又不同于西方现代化老路, 归根到底是一条符合中国实际的社会主义现代化道路, 拓展了发展中国家走向现代化的途径。中国式现代化所体现的辩证法道理是

- ①新生事物必然全面代替旧事物
- ②坚持共性与个性的具体历史统一
- ③办事情要坚持具体问题具体分析
- ④客观实际随着主观认识的变化而变化

A. ①③ B. ②③ C. ①④ D. ②④

23. 科技伦理是开展科学研究、技术开发等科技活动需要遵循的价值理念和行为规范, 是促进科技事业健康发展的重要保障。当前, 我国要加快构建中国特色科技伦理体系, 建立完善符合我国国情、与国际接轨的科技伦理制度, 塑造科技向善的文化理念和保障机制。加强科技伦理治理是基于

- ①科技向善取决于科技实践蕴含的价值取向
- ②上层建筑为新经济基础服务能促进社会发展
- ③价值观对人们认识和改造世界具有导向作用
- ④社会生活的精神方面决定于社会生活的物质方面

A. ①② B. ①④ C. ③④ D. ②③

24. 距今七八千年前,在今河南境内,裴李岗文化几乎继承了贾湖文化全部的器类组合,具体器形则有一定的改造,贾湖文化无疑是裴李岗文化的直系源头。裴李岗文化的三足钵不见于贾湖文化,应该来源于磁山文化,篦点纹、篦划纹与北方的之字纹筒形罐文化系统有关。上述材料强调的是

- A. 天下共主局面的雏形
B. 区域文化的交流融合
C. 中原为中心的文化圈
D. 中华文明的多元并存

25. 1975年,湖北省云梦县出土的1155枚睡虎地秦墓竹简,记录了秦朝大量的法律文书,其内容包括刑法、民法、行政法、诉讼法、经济法、军法等方面,涉及农业、手工业、商业、徭役赋敛、军爵赏赐、官吏任免以及什伍组织等社会生活各领域。秦帝国通过完善立法,旨在

- A. 适应专制皇权治国的需要
B. 培养国民遵纪守法的意识
C. 建立专制主义中央集权制
D. 构筑民族共同的文化心理



26. 隋唐科举取士兴起,成为寒门士子改变命运的重要途径。但五品以上的官员可以指定一个自己的儿子通过荫庇获得入仕资格,不需要参加科举考试:“安能摧眉折腰事权贵”的诗人李白,才华横溢,一生却从未参加过科举,而是通过“干谒”(为谋求禄位而请见当权的人)的方法,在别人推荐下,被征召到长安,成为文学侍从之臣。由此可知

- A. 科举尚未形成风气
B. 唐朝选官制度多元
C. 八股文非李白强项
D. 荐举仍是入仕主流

27. 雍正朝开辟贵州东南苗疆后,当地人开始以汉族“六礼”的程序来实现婚姻的缔结,且逐渐形成“文字凭据”的观念。地方政府在基层社会的代理人,积极参与人们婚姻的缔结与变动,婚姻监督与监管权从亲属向政府地方代理人转换。这一现象表明

- A. 朝廷重视改土归流成效
B. 政府行为推动民族融合
C. 国家权力渗入边疆治理
D. 儒家思想强化婚姻观念

28. 18世纪中叶,英国东印度公司收购中国棉布,每匹价银0.34两,价格之低廉在世界上无出其右,且质量也居世界前列,西方人说它“在色泽上和质地上仍优于英国制品”。从18世纪80年代起,英国商人企图开辟英国棉布在中国的市场,但因其棉布价高而难以卖出。这一现象反映出当时中国

- A. 原有经济结构开始走向解体
B. 对英贸易由出超转变为入超
C. 海外贸易成为政府主要收入
D. 产品具有较强的国际竞争力

29. 1930年5月，红军攻克寻乌县城，毛泽东立即展开深入细致的调查活动，对寻乌县的商业现状、人口结构、土地关系等问题，进行了全面深入的考察分析，写出了著名的《寻乌调查》。以下为江西寻乌县土地调查情况统计，据此可推知

阶级成分	所占比例	所占土地比
大地主（收租五百石以上的）	0.045%	30%
中地主（收租五百石以下二百石以上的）	0.4%	
小地主（收租二百石以下的）	3%	
富农（有余钱剩米放债的）	4%	30%
中农（够食不欠债的）	18.255%	
贫农（不够食欠债的）	70%	
公田		40%

——毛泽东《寻乌调查》1930年5月

- A. 党开启深入开展农村调查先河 B. 建立工农武装割据的迫切性
C. 土地革命拥有广泛的群众基础 D. 地主和农民土地占比矛盾大

30. 20世纪60、70年代，为应对复杂的国际局势，我国开展了大规模的三线建设，其重点放在西南、西北地区。期间，三线地区基本建设投资占全国基本建设投资总额的43.5%，全国近1500家大型企业，三线地区占40%以上。这一举措



- A. 意在建设国家安全战略后方 B. 开启新中国国防现代化进程
C. 改变了西部工业的落后面貌 D. 推动国民经济产业结构调整

31. “傻子瓜子”创始人年广久被誉为“中国第一商贩”，邓小平曾三次力挺他，特别是1992年初“南巡”时指出：“农村改革初期，安徽出了个‘傻子瓜子’问题。当时许多人不舒服，说他赚了一百万，主张动他。我说不能动，一动人们就会说政策变了，得不偿失。”这一谈话表明当时

- A. 中国已解决改革的阻力问题
- B. 人们思想亟待进一步解放
- C. 城市经济体制改革箭在弦上
- D. 市场经济体制已基本建立

32. 查士丁尼《学说汇纂》和《法学阶梯》中记载：罗马人面对高空坠物伤人频发，视情况采取不同应对：如果可以找到具体抛掷人，可在市民法的框架内对此抛掷人提起诉讼；具体抛掷人很难找到时，裁判官通过告示的形式创设抛掷或倒泼之诉，让居住人来承担责任，形成通过市民法与裁判官法解决高空坠物问题的二元机制。据此可知罗马

- A. 为欧洲社会确立了行为规范
- B. 注重维护罗马公民公共安全
- C. 公民法简洁灵活且实用有效
- D. 法律体系已经达到完备程度

33. 16、17世纪以来，欧洲主要国家诞生了一批新型中等学校，这些学校除开设原有的古典主义学科外，科学技术知识开始普遍受到重视，一些新的教学方法（如实物教学、直观教学、观察、实验、实习等）也得到广泛运用。这一现象

- A. 推动了近代自然科学的兴起
- B. 沉重打击了教会的神权统治
- C. 促进了资本主义的快速发展
- D. 助推教育内容与理念的革新

34. 1884年，英议会通过法案：将曾授予自治市的公民权扩大到郡的工人（房客及其家庭）：无论是在郡和自治市，每年只要有价值10英镑的土地或住房的人即有选举权……主要给在郡的工人（男），尤其是农业工人的选举权。这一法案的通过主要缘于

- A. 秘密投票选举方式的形成
- B. 第二国际坚强有力的指导
- C. 工人阶级长期不懈的斗争
- D. 英国责任内阁制度的建立

36. 1921—1927年，苏联本国生产的拖拉机（按功率计算）只占供应农业的全部拖拉机中的8.3%，而在1928—1932年自制拖拉机比重已占51.9%，到战前1940年，苏联农用拖拉机保有量达53.4万台，机械动力已占农业动力的77.7%，畜力仅占22.3%。由此可见，农业集体化

- A. 与国家工业化发展相适应
- B. 顺应了新经济体制发展潮流
- C. 极大地改善了人民的生活
- D. 影响了工业经济结构的调整

第二卷（非选择题）

本卷包括必答题和选答题两部分，共160分。第10—12题为必答题，每个试题考生必须作答；第13—17题为选答题，考生根据要求作答。

36. 阅读图文材料，完成下列要求。(12分)

材料一：纳米比亚面积82万平方千米，人口约250万，是世界人口密度最低的国家之一。国内沙漠广布，西部鲸湾港附近红色沙丘连绵起伏，在特定天气条件下可看到“倒沙入海”奇观。近年来，纳米比亚大力发展海洋捕捞，以传统捕捞方式为主，所获鲜鱼大部分直接出口，渔业成为该国的支柱产业之一。该国钻石和铂矿储量较大，矿石主要通过鲸湾港出口。随着政局逐渐稳定，该国经济得以快速发展。

材料二：非洲部分区域图

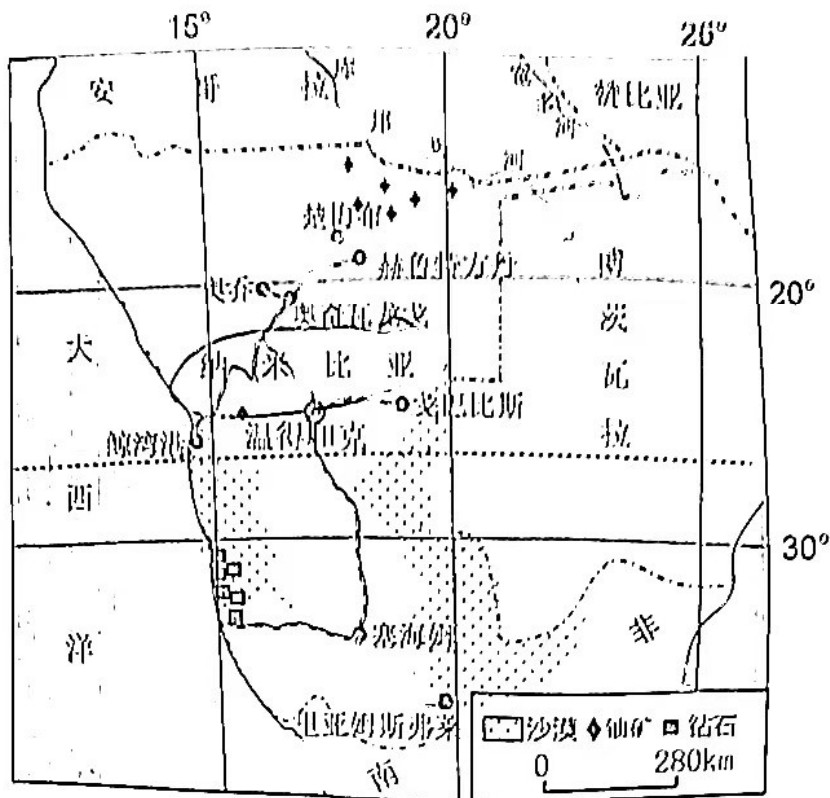


图5

- (1) 说明纳米比亚利用优势自然资源发展的非农产业。(6分)
- (2) 分析渔业成为纳米比亚支柱产业之一的原因。(8分)
- (3) 分析纳米比亚捕获的鲜鱼大部分直接出口的原因。(8分)

植面积最大的现代化农场之一。在这里，卫星遥感、无人机近地空遥感、地面智能检测设备形成了一个立体的智能监测系统，传统农民要定期参加培训课堂，才能成为具备较高科技素质的新型农民。十年来，全国农业科技进步贡献率超过61%，保障粮食产量连续七年稳定在1.3万亿斤以上，科技赋能农业为粮食稳产丰收保驾护航。

山东省寿光市是农圣贾思勰的故乡，生活这里的人们沿着着祖先的智慧，为农业探索着新的方向——订单农业。开学前，家长和孩子们为学校的午餐下好订单，郭廷良的订单农业销售团队，通过分析学校订单，根据缺货品类，更新采摘需求，通过智慧物流、智能中央厨房、共享工厂等智能化流程，让学生们如愿吃到了自己下单的新鲜饭菜。这种新模式推动着现代农业从重养殖加工到销售一体化的延伸升级，实现了农产品产业链的整体串联。

结合材料，运用经济生活相关知识，分析说明发展新型农业对推动我国经济高质量发展的作用。

39. 阅读材料，完成下列要求。（12分）

2023年4月1日起，《中华人民共和国黄河保护法》正式施行。

《黄河保护法》明确要求，黄河流域相关地方要协同推进黄河流域生态保护和高质量发展。国土空间总体规划的编制以及重大产业政策的制定，应当与黄河流域水资源条件和防洪要求相适应，并进行科学论证。

企业和个人违反本法规定，在黄河干流岸线或者重要支流岸线的管控范围内新建、改建、扩建尾矿库等行为，由地方人民政府主管部门按照职责分工，责令停止违法行为，限期拆除或者恢复原状，处五十万元以上五百万元以下罚款。国务院有关部门、黄河流域县级以上地方人民政府及其有关部门，违反本法规定，不符合行政许可条件准予行政许可，发现违法行为或者接到举报不依法查处，对直接负责的主管人员和其他直接责任人员依法给予警告、记过、记大过或者降级处分；造成严重后果的，给予撤职或者开除处分。

结合材料，运用政治生活有关知识，说明实施《黄河保护法》对政府依法行政的意义。

40. 阅读材料，完成下列要求。（26分）

2023年3月，是毛泽东同志发出“向雷锋同志学习”的伟大号召60周年。

雷锋同志无论在哪个岗位上，都干一行、爱一行、钻一行，在平凡的岗位上做出了不平凡的业绩。入伍后，他光荣地加入了中国共产党，全心全意为人民服务，“我要把有限的生命，投入到无限的为人民服务之中去”。

习近平指出：“实践证明，无论时代如何变迁，雷锋精神永不过时。”雷锋精神彰显了中国共产党人的先进本色，是弘扬伟大建党精神的生动写照，始终激励人们奋发图强。新征程上，要深刻把握雷锋精神的时代内涵，更好发挥党员、干部模范带头作用，不断发展壮大学雷锋志愿服务队伍，让学雷锋在人民群众特别是青少年中蔚然成风，让雷锋精神在新时代绽放更加璀璨的光芒，为全面建设社会主义现代化国家、全面推进中华民族伟大复兴凝聚强大力量。

(1) 结合材料,运用文化力量的知识,说明新时代新征程为什么要弘扬雷锋精神。(10分)

(2) 结合材料,运用“事物发展状态”的有关知识,分析说明如何“让雷锋精神在新时代绽放更加璀璨的光芒”。(12分)

(3) 某学校举行“弘扬雷锋精神,争做时代新人”主题月活动,请你为该活动拟两条宣传标语。标语要求:紧扣主题,每条不超过20个字。(4分)

41. 阅读材料,完成下列要求。(25分)

材料一 书院的发展在南宋出现了第一个高潮,书院教育作为一种有组织、制度化的私学体系在宋代正式形成。南宋时,朱熹复兴白鹿洞书院,为白鹿洞书院订立的《白鹿洞书院揭示》是我国第一个系统完整的书院规章制度,也被称为学规,后来成为历代书院共同依据的范本。《揭示》强调:古昔圣贤所以教人为学之意,莫非使之讲明义理,以修其身,然后推以及人,非徒欲其务记览,为辞章,以钓名声,取利禄而已也。今人之为学者,则既反是矣。朱熹认为书院教育的根本方针是实施“五教”:父子有亲;君臣有义;夫妇有别;长幼有序;朋友有信。为实现上述教育方针,朱熹又提出了为学之序:“博学之;审问之;慎思之;明辨之;笃行之。”朱熹复兴白鹿洞书院,将德育置于教育首位的主张,为南宋学者和教育界所认同。以德育人为主旨的书院教育引发了宋代教育的深刻变革,极大地推动了宋代教育的发展,使宋代教育达到了很高水平。

——摘编自刘佩芝、冯会明《朱熹复兴白鹿洞书院探源》

材料二 1917年初,蔡元培就任北大校长后不久,谈及了改革北大的初步构想。他把北大存在的问题归结为两点,一是学制、课程等“学课”的“凌杂”,另一是学校“风纪”的“败坏”。应对之法则是延聘“纯粹之学问家”和“学生之模范人物”。他一入北大即提出:“大学者,研究高深学问者也。...所以诸君须抱定宗旨,为求学而来。”蔡元培认为“学”(学理)与“术”(应用)虽然“关系至为密切”,但因为“习之者兴趣不同”,要区别对待。“文、理,学也。虽亦有间接之应用,而治此者以研究真理为目的,终身以之。所兼营者,不过教授著述之业,不出学理范围。法、商、医、工,术也。直接应用,治此者虽可有永久研究之兴趣,而及一程度,不可不服务于社会。.....学为基本,术为支干,不可不求其相应。”

——摘编自姜忞菲《蔡元培与北大校风的重塑(1917—1918)》

(1) 根据材料一结合所学知识,分析指出朱熹复兴白鹿洞书院的动机并简要评析其教育主张。(13分)

(2) 根据材料二,概括蔡元培的主要观点,并结合所学知识分析其改革北大带来的影响。(12分)

高 2023 届三诊文综试题 第 13 页 共 16 页

42. 阅读材料, 完成下列要求。(12分)

所谓历史分期, 就是史家以不同理论范式为尺度, 在历史记录中置入时间或时代的分割点, 以划分历史时段的做法。

学界	代表人物	分期方法
西方学界	沃勒斯坦	<ul style="list-style-type: none"> • 450—1640年, 世界体系的起源和早期状态 • 1640—1815年, 世界体系的巩固 • 1815—1917年, 世界经济体转变为全球性事业 • 1917年至今, 资本主义世界经济体的巩固及其引发的“革命”局势
	约翰·霍布森	<ul style="list-style-type: none"> • 500—1450年, 原始全球化 • 1450/1492—1830年, 早期全球化 • 1830—2000年, 现代全球化 • 2000—?, 后现代全球化
中国学界	吴于廑 齐世荣	<ul style="list-style-type: none"> • 人类起源至1500年为古代史 • 1500—1900年为近代史 • 20世纪初作为世界现代史的上限……它的下限暂时定在本世纪之末
	现代化学派	<ul style="list-style-type: none"> • 约公元前1000年—公元前500年, 原始农业文明 • 约公元前500—公元1500年, 古典农业文明 • 约1500—1800年, 原始工业文明 • 约1800年开始, 发达工业文明

——摘编自李友东《20世纪以来世界历史分期问题探讨》

中西学界关于世界历史的分期有不同看法。根据材料并结合所学知识, 就世界历史分期提出自己的见解(赞成、质疑、整合均可)并说明理由。(要求: 见解明确, 持论有据, 表述清晰)

43. [地理——选修3: 旅游地理](10分)

青海省冷湖天文观测基地位于柴达木盆地西北部赛什腾山, 平均海拔4000米, 地处偏远, 人口稀少。2023年1月1日, 冷湖出台地方性法规保护该地珍贵的天文观测环境, 依托暗夜星空资源大力发展文旅产业, 打造天文科普、星空摄影、生态旅游基地。但目前到此旅游的人数较少。

分析冷湖天文观测基地游客人数较少的原因。

44. [地理——选修6: 环境保护] (10分)

俄罗斯刺沙蓬又名风滚草(图7),高10—100厘米,根系可深入地下2米处吸取水分,生命力极强,是戈壁常见的一年生草本植物。当干旱来临时,风滚草茎叶收起缩成干球,携带25万颗种子和各种虫卵随风弹跳滚动,遇到水源充足处重新扎根生长。19世纪70年代风滚草种子随亚麻籽传入美国,很快泛滥成灾。




图7

说明风滚草对美国生态环境的主要危害。

45. [历史——选修1: 历史上重大改革回眸] (15分)

材料 甲午战后,为偿还对日赔款,清政府与汇丰银行、德华银行签订《英德续借款合同》,借款1600万英镑,利息为4厘5,限45年还清。因关税抵额不足,另规定由海关总税务司赫德代征江苏、湖北、浙江和江西四省七处厘金(清末至民初征收的国内贸易商业税,因其初定税率为1厘即1%,故名)抵偿部分借款。这一举措意味着庞大的厘金税收通过海关纳入户部直接管辖范围,地方财政收入将严重缩减。为弥补厘金抵债省份损失,清廷推出以昭信股票银为主,裁兵节饷、丁漕折钱平余款项为辅的拨补方案。却因拨补款的来源不够稳定,各种牵制因素变动不居,造成拨补虚悬的窘境。抵债省份和承协省份再三呼吁改变拨款无着的困局,但因调整难度大,随后又新增庚子赔款等筹款压力,户部对拨补方案仅作了微调,相关省份只能自行应对困局。清廷固执于“内重外轻”观念,财政调度能力渐趋低下,央地矛盾不断升级,演变成内外失信态势,这是清末财政纾困筹策失败的关键因素。

——摘编自王静雅《清末财政纾困筹策失败探析》

(1) 根据材料,概括清末财政纾困筹策的特点,并结合所学知识分析其反映的实质问题。(9分)

(2) 根据材料并结合所学知识,分析指出清末财政纾困筹策失败的原因。(6分)

46. 【历史——选修3：战争与和平】（15分）

材料 在苏联的“二战”宣传中，海报是现实艺术的体现，它简洁易懂、无所不在。在《去死吧！法西斯毒蛇》的海报中，用黑色毒蛇的身体摆出纳粹标志的形状来象征危险、邪恶的法西斯纳粹，红色是苏联专有的颜色，代表苏联士兵。海报向士兵宣传着这样的信息：毫不留情地毁灭敌人。而海报《祖国母亲在召唤》，则将母亲的视觉形象与抽象的祖国概念联系在一起，全身穿着红色衣服的母亲具有了俄罗斯民族正直、刚毅的特质，一手握着“红军效忠誓言”，并将它推向读者以制造出视觉心理暗示。另一只手高高举起，将读者的视线引向身后的象征参战的武器，向读者传达出，加入卫国战争是母亲对孩子的召唤，也是孩子对母亲不可推卸的责任。在《闭上你的嘴！》海报中，以母亲形象为主，附以警告式的文字，要求人们在战争期间提高警惕、防范聊天和八卦的潜在危险。

——摘编自李颖《“二战”反法西斯阵营海报宣传的历史考察与分析》

(1) 根据材料并结合所学知识，概括苏联反法西斯海报的特点。（8分）

(2) 根据材料并结合所学知识，简析苏联反法西斯海报的作用。（7分）

47. 【历史——选修4：中外历史人物评说】（15分）

材料 施肇基（1877—1958），民国时期著名外交家，曾历任驻外公使和大使，参与巴黎和会、华盛顿会议等重要国际会议。民国时期，施肇基作为驻外代表，为废除不平等条约四处奔走。1919年，巴黎和会上，在山东问题未能解决时，拒签和约。在华盛顿会议上，为解决山东悬案，力争美国支持。1931年，“九·一八”事变后，代表中国政府向国联申诉；在国联会议上，运用国际法，直指日本的侵略，要求国联采取必要措施，并提出解决问题的方法和建议。1934年，美国放弃金本位，实行美元贬值，大量收购白银，中国存银大量外流。中国为阻止白银外流，实行币制改革，施肇基为我国币制改革争取外汇储备和《中美白银协定》的签订作出了重要贡献，避免了全国性金融危机的爆发。在国内混乱和国际压制的背景下，施肇基在维护国家利益和废除不平等条约的道路上艰难前行，他的许多努力虽没有取得结果，但为我国以后的相关交涉奠定了基础。

——摘编自刘永青《施肇基与民国外交》

(1) 根据材料，概括施肇基在民国外交方面做出的主要贡献。（8分）

(2) 根据材料并结合所学知识，简评施肇基在民国时期的主要外交活动。（7分）


关于我们

自主选拔在线是致力于提供新高考生涯规划、强基计划、综合评价、三位一体、学科竞赛等政策资讯的升学服务平台。总部坐落于北京，旗下拥有网站（[网址: www.zizzs.com](http://www.zizzs.com)）和微信公众平台等媒体矩阵，用户群体涵盖全国90%以上的重点中学师生及家长，在全国新高考、自主选拔领域首屈一指。

如需第一时间获取相关资讯及备考指南，请关注**自主选拔在线**官方微信号：**zizzsw**。



 微信搜一搜

 自主选拔在线