

中学生标准学术能力诊断性测试 2018 年 9 月测试

## 文科综合能力测试地理

第 I 卷（选择题 共 44 分）

本部分共 11 小题，每小题 4 分，共计 44 分。在下列各题的四个选项中，只有一个选项是符合题目要求的。

“曼哈顿悬日”是指日落前太阳正好出现在曼哈顿东西向街道正上方的自然现象。2018 年 5 月 29 日，人们欣赏到了这一美景。图 1 为“曼哈顿悬日”景观图，据此完成 1—3 题。



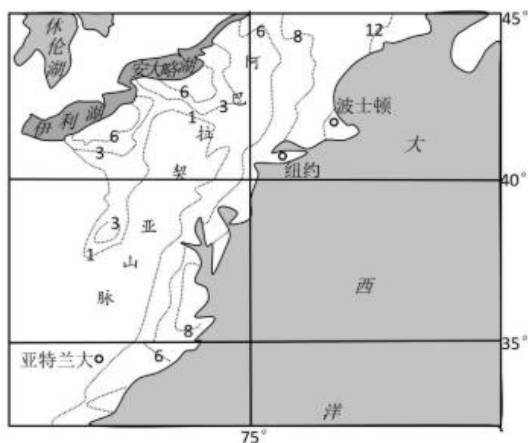
1. 当日曼哈顿的日出方位是  
A. 正东 B. 东南 C. 正南 D. 东北
2. 2018 年人们再次欣赏到这一现象的日期可能是  
A. 1 月 15 日 B. 3 月 21 日  
C. 7 月 16 日 D. 9 月 23 日
3. 当“曼哈顿悬日”出现时  
A. 太阳直射点正向南移动 B. 北印度洋季风洋流呈逆时针方向流动  
C. 墨累—达令盆地正在收割小麦 D. 开普敦温和湿润

晨光文具最初为日韩文具的代工厂，20 世纪 90 年代后期，脱离代理商标签，创立晨光自主品牌。进入 21 世纪后通过商铺合作和连锁加盟的方式，销售网络迅速覆盖全国，近年来又积极探索新业务模式，开设旗舰店和一站式生活馆，打造高端文具精品形象。晨光文具现已成为国内文具品牌的巨头。据此完成 4—6 题。

4. 中国成为日韩文具代工的优势是  
A. 资金充足 B. 劳动力成本低 C. 产业基础好 D. 交通运输便捷
5. 晨光自主品牌创立之初，将研发设计中心建立在了韩国，考虑的主要因素是  
A. 基础设施好 B. 销售市场大 C. 信息通达 D. 交通便利
6. 从发展过程看，晨光文具尚未致力于  
A. 打造自主品牌 B. 扩大生产规模 C. 产品款式多样 D. 增强国际影响

7. 将海鲜从青岛运到莱芜所用的交通运输方式是  
A. 铁路 B. 公路 C. 水运 D. 航空
8. 微信海鲜团购的实现, 得益于  
①交通运输的发展 ②冷藏保鲜技术的进步  
③通讯技术的进步 ④人们消费观念的转变  
A. ①②③ B. ①②④ C. ②③④ D. ①③④
9. 微信群团购的局限性体现在  
A. 销售对象有限, 市场拓展难 B. 销售种类有限, 市场适应性差  
C. 销售成本太高, 利润非常低 D. 销售过程复杂, 产品容易变质

“炸弹气旋”是在冷气团与暖气团相遇时形成的气旋, 其中心气压在 24 小时内下降超过 24 百帕。该类气旋爆发强、发展快, 会带来强烈的暴风雪和降温, 威力如同炸弹。2018 年 1 月 3 日, 名为格雷森的“炸弹气旋”袭击了美国东部。图 4 为美国东部 1 月 3 日降雪量分布图。据此完成 10—11 题。



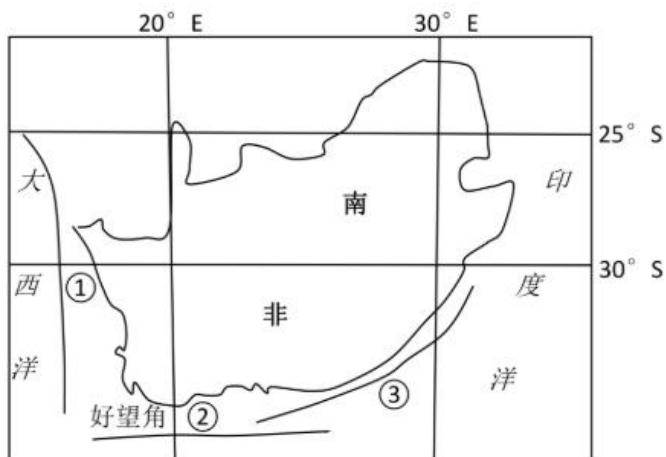
10. 影响图中降雪量的主要因素有  
①海洋 ②地形 ③城市 ④湖泊  
A. ①②③ B. ②③④  
C. ①②④ D. ①③④
11. 美国东部海面冬季易形成“炸弹气旋”的主要条件是  
A. 内陆寒冷气流与海洋暖湿气流相遇 B. 气温较高导致空气的对流运动显著  
C. 内陆的低压中心吸引海洋暖湿气流 D. 海洋湿润气流受地形抬升降温剧烈

第 II 卷 (非选择题 共 56 分)

36. 阅读图文资料, 完成下列要求。(24 分)

南非(见图 9)位于非洲大陆最南部, 东、南、西三面濒临印度洋和大西洋。南非渔业很发达, 以海洋捕捞业为主, 鱼类及其制成品的出口值居非洲前列。

(1) 用箭头标出图中①、②、③洋流的方向, 并说出②洋流名称、性质及


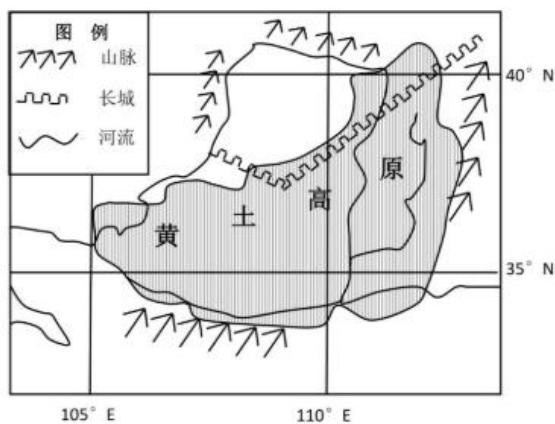


成因类型。(6分)

- (2) 结合图示信息,指出南非渔场的位置,并简述其成因。(8分)
- (3) 分析南非渔场捕捞作业的天气条件。(4分)
- (4) 说出渔产品加工的工业导向型,并分析南非发展渔产品加工的有利社会经济条件。(6分)

37. 阅读图文资料,完成下列要求。(22分)

黄土高原西倚青藏高原,东临华北平原,北接内蒙古高原,南连秦巴山地。行走在沟壑纵横、梁峁交织的黄土高原上,视野中经常会出现与黄土浑然一色的窑洞,这种千百年来延续下来的民居景观,是依托黄土高原生成的特殊建筑。近年来,窑洞民宿旅游发展迅速,为黄土高原地区的居民生活带来了巨大变化。



- (1) 分析黄土高原适宜修建窑洞的自然地理条件。(6分)
- (2) 窑洞作为传统民居,现在仍备受青睐,与现代建筑相比,分析窑洞对区域地理环境的有利影响。(8分)
- (3) 分析窑洞民宿旅游对当地居民生活的影响。(8分)

43. 【地理—选修3:旅游地理】(10分)



钱塘潮是天体引力和地球自转的离心作用，加之杭州湾喇叭口的特殊地形形成的特大涌潮，是世界三大涌潮之一。浙江省海宁盐官镇为观潮第一胜地(最佳观潮胜地)，故亦称“海宁潮”。每年中秋节，波澜壮阔的海潮都会吸引大量的游客前来观赏。钱塘江涌潮虽然壮美，但破坏力也极大，历史上曾发生过观潮事故。

图 13 为钱塘潮景观图。

分析钱塘潮危险但仍吸引大量游客观赏的原因并从安全角度为观潮游客提出合理建议。

44.【地理一选修 6：环境保护】(10 分)

微塑料是指粒径小于 5mm 的塑料，是一种新型海洋污染物，被称为“海洋里的 PM2.5”。主要由陆地进入海洋的大块塑料垃圾分解形成。由于微塑料能够吸附持久性的有机污染物和重金属，也能被鸟类、鱼类等海洋生物摄食，成为国际海洋生态学与环境学研究热点。

分析“海洋里的 PM2.5”的危害及应对措施。



中学生标准学术能力诊断性测试 2018 年 9 月测试

## 文科综合能力测试地理参考答案

### 一、选择题

1234567891011

DCDBCDBAACA

### 二、综合题

36. (若学生用图示箭头表示,只要方向正确,也可得分)(1) ①箭头向北②箭头向东③箭头向西西风漂流寒流风海流。(6分)

(2) 渔场分布:南部沿海;西部沿海(各2分)

南部沿海由于西风漂流和厄加勒斯暖流交汇,海水发生扰动,把海底大量营养物质带到表层,使浮游生物大量繁殖,浮游生物为鱼类提供了丰富的饵料,吸引了大批鱼群;西部沿海盛行离岸风,出现上升补偿流,即本格拉寒流,从海底带来大量营养物质,利于浮游生物的生长,浮游生物为鱼类提供了丰富的饵料,吸引大批鱼群。(各2分)

(3) 冬半年,盛行西风,阴雨天气多,海面风浪大,不利于捕捞(2分)

夏半年,受副热带高压影响,多晴朗高温天气,海面风浪小,利于捕捞(2分)

(4) 原料导向型(2分)面向世界消费市场,市场广阔;临近世界主要运输航线,海运交通方

便；南非经济发达，资金充足，技术先进。(每点2分，共4分)。

37.(1)高原地形，可以依地势开挖窑洞；黄土土层深厚，土壤结构紧密，直立性好，适于凿挖；黄土高原降雨少，可减少窑洞因长期浸泡出现沉陷。(6分)

(2)就地取材，节省建筑材料；冬暖夏凉，节约能源；节约建设用地；减少植被破坏，保护生态环境。(8分)

(3)促进当地经济的发展，提高居民的生活水平；丰富了当地居民的就业方向，增加了就业机会；加强当地与外界的联系与交往，影响了人们的生活观念；过度的民俗旅游，过多的外地游客对居民的生活造成冲击，一定程度上破坏了居民的生活环境。(8分)

43.钱塘潮潮差大，气势壮观，非凡性突出；钱塘潮景观具有明显季节性，每年发生的次数少；钱塘潮知名度高，综合游览价值高，吸引力大。(答对2点得4分)

提高安全意识，熟悉钱塘涨落规律，尤其是充分认识到潮水的危险性；观潮要选择安全区域和地段，注意警示标志，服从管理人员的管理；掌握自救的方法，学会自救。(6分)

44.微塑料吸附的污染物，随海水流动后扩大污染面积；通过食物链进入到海洋生物体内，污染后的海洋生物被人进食后，威胁人类健康。(4分)

加强对海洋微塑料的研究及监测；减少塑料制品的使用，尽量回收，提高重复利用率；加强对塑料企业的监督和监控，减少使用有毒有害的塑料添加剂；加强科学研究，开发塑料替代产品。(答对3点得6分)

**自主招生在线**创始于2014年，是专注于自主招生、学科竞赛、全国高考的升学服务平台，旗下拥有网站和微信两大媒体矩阵，关注用户超百万，用户群体涵盖全国90%以上的重点中学老师、家长和考生，引起众多重点高校的关注。

如需第一时间获取相关资讯及备考指南，请关注**自主招生在线**官方微信号：**zizzsw**。



微信扫一扫，快速关注