

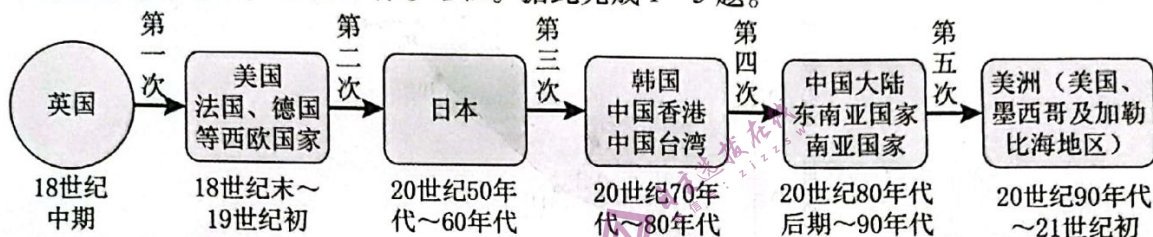
## 高三文科综合能力测试卷

## 注意事项:

1. 本试卷共 12 页,考试时间 150 分钟,卷面总分 300 分。
2. 答题前,考生务必将自己的姓名、准考证号填写在答题卡相应的位置上。
3. 全部答案写在答题卡上,答在本试卷上无效。
4. 考试结束后,将本试卷和答题卡一并交回。

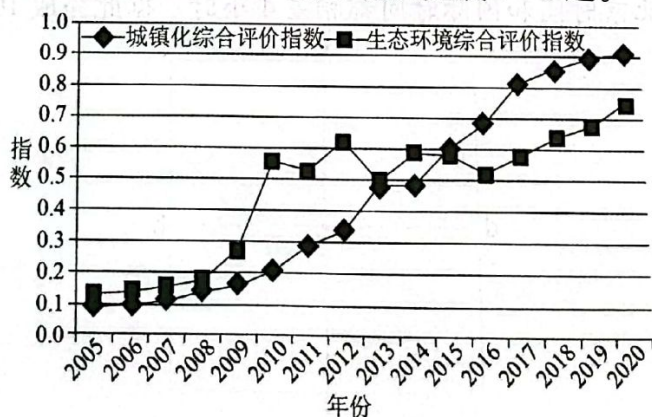
一、选择题:本题共 35 小题,每小题 4 分,共 140 分。在每小题给出的四个选项中,只有一项是符合题目要求的。

在世界纺织工业史上,18 世纪中期的英国纺织工业率先进入工业化生产,自此以后,全球纺织产业重心已历经五次产业转移,每次纺织产业转移都伴随着经济快速发展与世界贸易环境的变化。下图示意全球纺织产业重心转移路径。据此完成 1~3 题。



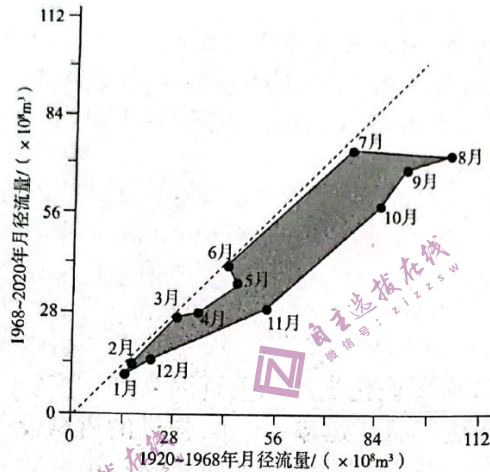
1. 影响 18 世纪中期英国纺织进入工业化生产的关键因素是
  - A. 优质的棉花原料
  - B. 发达的海洋运输
  - C. 先进的机械设备
  - D. 广阔的消费市场
2. 从目前各国经济发展水平来看,在全球纺织产业重心转移中
  - A. 第一、二次都是由发达国家向发展中国家转移
  - B. 第三次由发达国家向新兴发达国家和地区转移
  - C. 第四、五次都是由发展中国家向发达国家转移
  - D. 第三次由发展中国家向发达国家转移
3. 针对当前全球纺织行业转移问题,我国纺织行业的重要抉择是
  - A. 全部转移到西部地区
  - B. 维持并扩大生产规模
  - C. 开拓更多的国际市场
  - D. 转移的同时升级改造

综合评价指数是指按照拟定的诸多项目指标通过计算得出的权重指数。通常,指数越高,质量越优。城镇化综合评价指数和生态环境综合评价指数用来衡量区域城镇化的进程与质量状况。贵州省是我国城镇化水平较低的省级行政区之一,2014 年 12 月底贵州省首条高铁——贵(阳)广(州)高铁开通试运营,极大地推动了贵州省城乡社会经济的发展。下图示意 2005 年~2020 年贵州省城镇化与生态环境综合评价指数的变化趋势。据此完成 4~6 题。



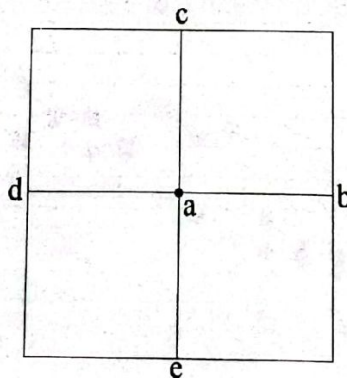


4. 2005年~2008年贵州省城镇化综合评价指数和生态环境综合评价指数的变化,说明该阶段
- A. 农村耕地闲置面积大  
B. 城镇人口回流农村多  
C. 生态环境负面影响小  
D. 城镇化面积减少
5. 与2015年前相比,2015年后相较于生态环境发展贵州省城镇化发展趋势是
- A. 超前发展  
B. 滞后发展  
C. 先滞后发展,后超前发展  
D. 先超前发展,后滞后发展
6. 推测2015年后贵州省城镇化快速发展的主要原因最可能是
- A. 人口自然增长的提高  
B. 高速铁路的开通运营  
C. 生态环境质量的改善  
D. 农业结构的优化调整
- 下图示意我国北方地区某河流下游甲水文站1920~1968年与1968~2020年月径流量对比。据此完成7~9题。



7. 该河流下游甲水文站月径流量总体上
- ①1920~1968年各月径流量较大  
②1920~1968年年内月径流量呈先减后增趋势  
③1968~2020年各月径流量较大  
④1968~2020年年内月径流量呈先增后减趋势
- A. ①②  
B. ②③  
C. ③④  
D. ①④
8. 1920年以来该河流下游甲水文站月径流量突出特征是
- A. 最热月月径流量均最小  
B. 季节变化明显  
C. 最冷月月径流量均最大  
D. 年际变化明显
9. 推测导致1968年以来该河流下游甲水文站月径流量变化的自然原因主要是
- A. 甲水文站处河道侵蚀展宽  
B. 河流下游河道下渗量增加  
C. 全球气候变暖致蒸发加剧  
D. 流域中上游植被覆盖增多

下图为某日北半球一区域图,其中,dab、cae为经纬线,该日a地正午太阳高度与赤道的正午太阳高度角相差 $19^{\circ}42'$ ,与直射点的正午太阳高度角相差 $43^{\circ}08'$ ,与北极点的正午太阳高度角相差 $23^{\circ}26'$ ,且a地地方时与北京时间和国际时间都相差4小时。据此完成10~11题。



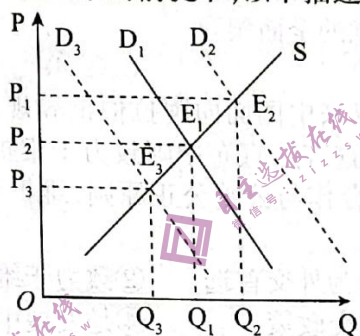


10. a 地最可能位于  
 A.  $0^{\circ}, 60^{\circ}\text{E}$                       B.  $30^{\circ}\text{N}, 120^{\circ}\text{W}$                       C.  $66^{\circ}34'\text{N}, 60^{\circ}\text{E}$                       D.  $66^{\circ}34'\text{N}, 120^{\circ}\text{E}$

11. 该日下列说法正确的是  
 ①微雨过,小荷翻,榴花开欲燃                      ②仲夏苦夜短,开轩纳微凉  
 ③泥新巢燕闹,花尽蜜蜂稀                      ④昼晷已云极,宵漏自此长  
 A. ①②                      B. ①③                      C. ③④                      D. ②④

12. 房地产是国民经济的支柱产业,2022年,全国房地产开发投资 132 895 亿元,比上年下降 10.0%。针对当前出现的下行风险,下列举措可以有助于房地产市场发展的是  
 ①未来一个时期内中国城镇化仍处于较快发展阶段  
 ②逐步使租赁住房享有同等的公共服务权利  
 ③继续增加住宅用地的供应  
 ④防范化解危机,支持刚性需求抑制改善型需求  
 A. ①②                      B. ②③                      C. ③④                      D. ①④

13. 如图表示某产品的供求量与价格的关系(横轴为供求量,纵轴为价格。 $D_1$  为变动前的曲线, $D_2$ 、 $D_3$  为变动后的曲线)。在不考虑其他因素的前提下,以下描述正确的是



- A. 某商品价格上涨后,其互补品的价格从  $E_1$  到  $E_2$  移动  
 B. 国家降低新能源汽车购置税优惠,燃油车需求曲线从  $D_1$  向  $D_3$  方向移动  
 C. 国家药品集中带量采购后某中标企业产品需求量从  $D_1$  向  $D_2$  方向移动  
 D. 疫情防控措施放松后,出境游需求从  $D_1$  向  $D_2$  方向移动
14. 今年以来,重庆着力扩大精准有效投资,加快实施抓项目促投资专项行动,推动经济高质量发展。一季度,重庆市集中开工重大项目 354 个,总投资达 3 194 亿元,涵盖 26 个行业领域。这一传导路径正确的是  
 ①扩大精准有效投资→发挥投资引领作用→扩大总供给→带动全社会投资→经济高质量发展  
 ②扩大精准有效投资→以科研促进产业创新→全面推进机器人换人→以提高劳动生产率→经济高质量发展  
 ③扩大精准有效投资→构建制造产业新体系→提升制造企业竞争力→培育制造数字新动能→推动经济实现高质量发展  
 ④扩大精准有效投资→搭建科研平台→吸引更多相关领域企业聚集→激发经济新动能→推动经济实现高质量发展  
 A. ①②                      B. ②③                      C. ③④                      D. ①④

15. 2022 年中国居民消费出现了萎缩趋势,整体消费量下降,居民消费受到新冠疫情事件的冲击影响巨大。从中长期看,百姓有较多的“后顾之忧”,引发“预防性储蓄”倾向,也是我国居民消费倾向不高的重要原因之一。下列有助于降低我国居民“预防性储蓄”倾向的是  
 ①完善社会保障制度,提高社会保障水平                      ②拓宽居民增收渠道,提高居民收入  
 ③扩大多种投资收益,分散居民投资风险                      ④规范市场经济秩序,让居民愿意消费  
 A. ①②                      B. ②③                      C. ③④                      D. ①④



16. 在广东某村,一场热闹的“说事会”在村民家门口举行。村民们齐聚一堂,用地道的方言你一言我一语,人大代表和村干部认真倾听、仔细记录,并逐一回答群众反映的问题。据统计,从2021年9月至2023年2月,该地共收到群众反映的民生热点和建议410多个,推动解决320多件。“说事会”
- ①不断丰富基层人大履职形式与载体,推动建议高效准确落实  
 ②是全过程人民民主生动体现,是社会主义民主政治的本质属性  
 ③可以真正解决人民群众实际问题,提升人民民主的实践效能  
 ④可以实现行政执法下沉基层,有效防范化解基层群众矛盾纠纷
- A. ①②                      B. ①③                      C. ②④                      D. ③④
17. 全国政协十四届一次会议胜利召开,五年来人民政协适应新时代统一战线形势任务,坚持大团结大联合,落实中央统战工作会议精神,促进政党关系、民族关系、宗教关系、阶层关系、海内外同胞关系和谐。由此可见,人民政协
- ①发扬团结与联合的主题,持续提高协商效能  
 ②围绕服务党和国家工作大局协商议政  
 ③准确把握政协性质定位,发挥政治联盟的独特优势  
 ④毫不动摇的坚持中国共产党的全面领导
- A. ①②                      B. ①③                      C. ②④                      D. ③④
18. 首届中阿峰会是新中国成立以来中国面向阿拉伯世界规模最大、规格最高的外交行动。峰会中发表《首届中阿峰会利雅得宣言》,宣布中阿致力于维护以国际法为基础的国际秩序和多边主义,巩固国际关系中的团结合作与公平公正原则,维护发展中国家利益,捍卫发展中国家权利。这说明,中阿
- ①把捍卫发展中国家权利作为外交首选                      ②致力于维护地区的和平、安全与共同发展  
 ③共同坚持独立自主的和平外交政策                      ④是发展中国家参与全球治理的重要力量
- A. ①②                      B. ①③                      C. ②④                      D. ③④
19. 电影《满江红》票房领跑贺岁档,成为现象级作品。片中涉及的岳飞、秦桧等历史人物,也引发民众关注,与之相关的庙宇、建筑等,游人如织,多地秦桧像被砸。上述行为是基于
- ①文化塑造人,可以增强人的精神力量                      ②文化对人的影响来自特定的文化环境  
 ③文化对人的影响具有潜移默化的特点                      ④文化影响人的交往行为和交往方式
- A. ①②                      B. ②③                      C. ③④                      D. ①④
20. 昔者纣(商纣王)为象箸而箕子(一大臣)怖,以为象箸必不加于土鬲(陶罐),必将犀玉之杯;象箸玉杯必不羹菽藿(粗糙饭食),必旄、象、豹胎;旄、象、豹胎必不衣短褐而食于茅屋之下,则锦衣九重,广室高台。吾畏其卒,故怖其始。居五年,纣为肉圃,设砲烙,登糟丘,临酒池,纣遂以亡。箕子见象箸以知天下之祸说明
- ①量变积累到一定程度会引起质变  
 ②事物发展是渐进性和飞跃性的统一  
 ③质变能够为事物的量变开辟新的道路  
 ④量变向质变的转化需要发挥人的主观能动性
- A. ①②                      B. ②③                      C. ③④                      D. ①④
21. 1996年,美国著名政治学家萨缪尔·亨廷顿认为未来世界的国际冲突的根源将主要不是意识形态的和经济的,而是文化的,全球政治的主要冲突将在不同文明的国家和集团之间进行,“文明的冲突”将主宰全球政治,文明间的(在地缘上的)断裂带将成为未来的战线。“文明的冲突”理论
- A. 揭示了文明差异的必然性与合理性                      B. 否认了西方文明具有普世的价值性  
 C. 说明了不同国家间冲突的根本原因                      D. 忽视了多种文明间交流互鉴的价值



22. 为解决金融领域长期存在的突出矛盾和问题,根据国务院提请十四届全国人大审议国务院机构改革方案的议案,组建国家金融监督管理总局。国家金融监督管理总局统一负责除证券业之外的金融业监管,强化机构监管、行为监管等,统筹负责金融消费者权益保护,加强风险管理和防范处置,依法查处违法违规行为等。组建国家金融监督管理总局体现了

- ①国务院机构改革要从科学顶层设计出发
- ②价值判断与选择具有社会历史性的特点
- ③先进的社会意识对社会存在具有促进作用
- ④上层建筑一定要适应经济基础的发展状况

A. ①②

B. ②③

C. ③④

D. ①④

23. 漫画“只顾一头”反映的哲理是

- ①发挥主观能动性是取得成功的关键
- ②客观的物质条件是实现人生价值的基础
- ③愿望与效果的统一需要主观符合客观
- ④联系具有多样性,要把握事物存在和发展的条件

A. ①②

B. ②③

C. ③④

D. ①④



24. 《礼记·祭统》载:“凡治人之道,莫急于礼,礼有五经,莫重于祭”;《国语·楚语》载:“祀所以昭孝息民,抚国家,定百姓也”。材料认为,祭祀之礼有助于

A. 稳定人伦社会秩序

B. 推动宗法体系完善

C. 改变家国同构模式

D. 增强华夏认同观念

25. 秦朝所设七十博士之中有伏生专治儒学。秦二世曾召博士、诸儒生询问如何平定陈胜起义之事,“博士、儒生三十余人前曰:‘人臣无将,将即反’。”其中的叔孙通作为秦博士之一,后来降汉之时所从儒生弟子也有百人。这说明,这一时期

A. 统治阶层的内部矛盾缓和

B. 儒学依然占有一席之地

C. 德治与法治之争持续开展

D. 统一思想成为当务之急

26. 唐朝天宝年间,于阗王尉迟胜娶唐宗室女,助唐攻破播仙等地;安史之乱爆发后,尉迟胜亲自率兵勤王。和亲回纥之后,回纥助唐平定内祸,并多次抵御吐蕃入侵。由此可见,当时唐朝的和亲政策

A. 开创了民族交融新方式

B. 缓解了国家的紧张形势

C. 遏制了地方势力的膨胀

D. 推动了国家疆域的拓展

27. 据载,清代临襄会馆“该馆极宏敞,可容数百人,最宜建为商市”;河南泌阳山陕会馆“祠内宽敞,两厢均有回廊,以为买卖摆物置棚之所”;河南社旗山陕会馆当时建造时,虽用地吃紧,但仍自街面后退数米,临街建店铺。由此可见,会馆的设立

A. 扩展了商贸活动的领域

B. 助推集镇经济的发展

C. 提高了商人的社会地位

D. 导致农业生产的衰退

28. 洪仁玕在《资政新篇》中提出设“朝廷考察”和新闻官的政改方案。其中专设台谏官职司监察,延续了中国历代相承的监察制度。新闻官虽换以新谓,但实际职权与性质并未超出传统台谏之官的范畴。至于新闻馆、新闻篇、邮亭、书信馆、丈量官等则是新事物。这一方案

A. 冲破了封建思想束缚

B. 强调选官制度的改革

C. 反映民族资产阶级诉求

D. 具有中西合璧的特征

29. 1876年,清政府派遣首个驻外使团驻扎英国伦敦,而当时出使是“为士大夫所不耻的事情”,使团正使郭嵩焘被任命驻英公使后,曾有士人作了一幅对联羞辱他,在等待出使的时间里,他曾三次上奏,“求免出洋”。这反映出当时

A. 外交近代化艰难推进

B. 宗藩关系逐渐解体

C. 中外间交涉事务减少

D. 洋务新政陷入困境



30. 1936年3月,国民政府预计在江西、湖南建立国有化重工业区,并在西南各省开发矿产资源。同年6月,资源委员会《中国工业发展三年计划》呈报国民政府核准,获批1000万元建设经费。利用这笔经费和国外投资,资委会立即着手创办一批重工业。其主要背景是
- A. 沿海地区民族工业实施内迁  
B. 中日民族矛盾上升为主要矛盾  
C. 华中地区的国防战略地位显现  
D. 抗日民族统一战线初步形成
31. 表1 中国共产党不同时期的政策(部分)

时间	主要内容
八大	正确分析了国内主要矛盾的变化,要求党的工作重点转向社会主义建设
八届九中全会	正式决定对国民经济的方针实行“调整、巩固、充实、提高”的八字方针
十一届三中全会	指出“应当坚决实行按经济规律办事,重视价值规律的作用”,肯定了价值规律在中国经济发展中的作用和重要性
十四大	报告确定中国经济体制改革的目标是建立社会主义市场经济体制,指出“社会主义市场经济体制是同社会主义基本制度结合在一起的”,从制度上将社会主义和市场经济作为统一的整体

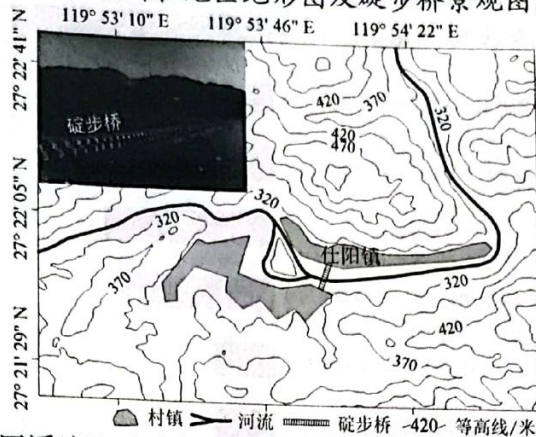
据表1可知,中国共产党

- A. 开启了马克思主义中国化的历程  
B. 致力推动中国历史上最深刻的变革  
C. 积极探索中国自己的建设社会主义道路  
D. 开创、坚持、发展了中国特色社会主义
32. 苏格拉底认为,法是指导城邦生活的最高原则,宣称:“在战争中,在法庭上,在不论什么其他地方,你必须遵照国家……命令行事;或者用说服的方法向它表明什么是真正对的。”而且认为“不能忘恩负义”“不得偷盗”等都是神给人们制定的法律,人们依然得遵守。在此,苏格拉底
- A. 阐释公民与城邦的关系  
B. 强调公民应有契约精神  
C. 主张建立完备的法律体系  
D. 认为法律应服从民众意愿
33. 美国“(1787年)宪法经九州代表大会批准后,即告成立,并在批准宪法之各州内,当即发生效力。尚必须经过十三州全部加以批准……将使之久延不决,并将因此中途发生演变”。即便是在批准宪法的九个州之中,真心拥护宪法的人民也为数不多。这体现了美国宪法
- A. 践行权力制衡原则  
B. 制度设计弊端凸显  
C. 违背各州平等原则  
D. 民主性基础的缺失
34. 1921-1926年,苏俄(联)与外国资本家签署的合同共有135个之多,引进的外资达4800万金卢布(其中英国2000万,瑞典760万,德国750万,日本670万,美国240万)。据统计,仅1924-1925年经政府注册的大小外国资本企业多达1611家,企业的工人数占全俄工人总数的1.4%。这表明当时苏俄(联)
- A. 通过市场机制增强经济活力  
B. 社会主义经济面临着挑战  
C. 确认商品经济的主导地位  
D. 致力缓和与协约国外交关系
35. 20世纪80年代后,全球化使人类的“社会关系和交易的空间组织”发生了深刻变革,普遍化的规则体系转变成法律,并产生出监督实施这些法律的各种各样的国际机构,同时,“人、观念和思想失去空间边界”,似乎“世界上所有居民被整合进一个单一社会”。由此可见,全球化
- A. 推动各国文化特性的改变  
B. 促进人类生活方式的重构  
C. 稳定了国际政治经济秩序  
D. 顺应了全球治理机制变革
- 二、非选择题:本题包括必考题和选考题两部分。第36~42题为必考题,每道试题考生都必须作答。第43~47题为选考题,考生根据要求作答。
- (一)必考题:135分。



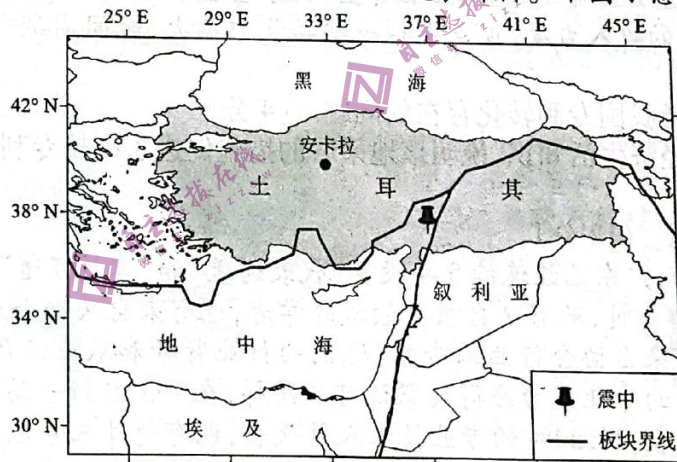
36. 阅读图文材料,完成下列要求。(24分)

碇步桥也称汀步桥、踏步桥,民间称之为跳墩,是桥的最原始形态之一,多见于我国南方丘陵地区的溪流上,如花岗岩广布的福建、浙江等地。碇步桥是由用大小砾石到雕琢较整齐的花岗岩条石放在水中筑起石墩,连接后形成的堤梁式石桥,由高低两级组成,一般桥长约几十米到数百米不等。目前,在我国碇步桥多为明清时期建设保留至今,并列为全国重点文物保护单位。下图为我国浙江泰顺县仕阳镇所在地区地形图及碇步桥景观图。



- (1) 分析我国南方丘陵地区溪流上碇步桥条石多用花岗岩石材的主要原因。(6分)
  - (2) 早期我国南方丘陵地区溪流上建造的碇步桥多于木构桥,请说明理由。(6分)
  - (3) 推测明清时期当地居民选择在图示溪流河段修建碇步桥的主要原因。(6分)
  - (4) 简述我国南方丘陵地区溪流上早期碇步桥的主要功能及其随时代的变迁。(6分)
37. 阅读图文材料,完成下列要求。(22分)

土耳其地跨欧亚大陆,是亚欧非战略要冲和多地震国家。2023年2月6日4时17分(当地时间)土耳其发生7.8级强烈地震及多次强余震,震源深度均为20千米。震中区内人口密集,有33多座大中城市。在现场雪中救援发现,此次地震给土耳其造成了损失相当惨重,震中区内建筑物均被毁于“煎饼式坍塌”(建筑物结构破坏后层层下降煎饼般坍塌的一种现象),少量倾倒性坍塌,同时,震区内地面出现许多东北—西南走向锯齿状的地震裂缝,横跨田野、公路、山坡,因此,土耳其有着“成也位置,败也位置”的发展评价。下图示意土耳其地震位置。

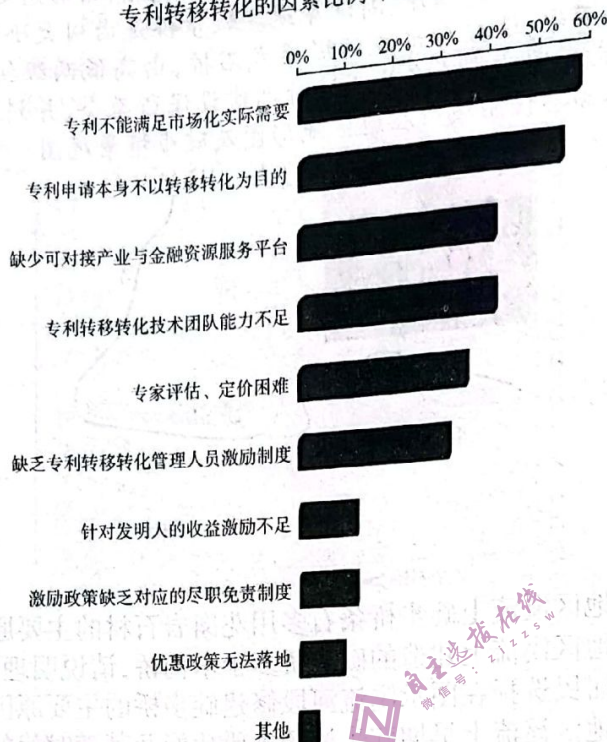


- (1) 板块运动方向有垂直运动和水平运动两种。判断土耳其此次震中区建筑物运动的主要方向,并说明判断依据。(6分)
  - (2) 土耳其此次地震区域内地表出现了许多东北—西南走向的地震裂缝。请对此作出合理解释。(6分)
  - (3) 分析土耳其此次地震中损失惨重的主要原因。(6分)
  - (4) 简述土耳其“成也位置,败也位置”的地理含义。(4分)
38. 阅读材料,完成下列要求。(14分)



材料一

中国高校和科研单位认为制约  
专利转移转化的因素比例 (2021年)



数据来源：中国国家知识产权局《2021年中国专利调查报告》

材料二 截至2021年底,我国高校发明专利平均维持年限为4.6年,明显低于全国6.9年的平均水平。某地以科技成果信息库为突破点,建立集知识产权、专利评价、项目融资等为一体综合服务平台,加强专利推广,充分发挥市场导向,实现科技研发与市场协同,促进专利高效转化;深化职务发明赋权改革,制定便于实现专利转化价值的赋权改革方案,健全职务发明信息披露和争议解决制度;完善决策容错机制,制定专利转化负面清单、勤勉尽责规范细则,为高校专利转化松绑;通过设立项目资金、匹配资金、种子基金、风险基金的形式,加大对高校科研经费和专利转化经费的投入力度,重点支持一些转化难度大、时间周期长、收益比较高的科技成果和项目。

(1) 根据材料一概括我国专利转化存在的问题。(4分)

(2) 结合材料二和经济生活知识,说明该地采取的措施促进了高校专利转化的原因。(10分)

39. 阅读材料,回答问题。(12分)

从2019年开始,广东已经连续5年设置“代表通道”和“委员通道”,综观今年走上首场“委员通道”的6位政协委员,既有来自教育领域的学者,也有来自头部企业的科学家,既有来自传媒领域的大咖,也有来自协会行业的专家,他们的行业背景和从业经历虽不同,却有共同的目标和追求,凭借突出的专业能力赢得大家认可。同样,在793名新一届省人大代表中,既有22.32%的工人、农民代表,24.34%的专业技术人员代表,也有超过三分之一的妇女代表,还有党政领导干部代表、少数民族代表、连任代表等。从两会“通道”出发,我们看到的是中国式民主不是一线、充分调研、收集问题,形成议案提案;会上充分讨论、形成共识,将党的主张、人民的意愿通过法定程序转化为国家意志;会后返回岗位、砥砺前行,将两会共识贯彻于具体工作。环环有力保障,成为全过程人民民主的集中体现和靓丽名片。

透过两会通道,请你根据政治生活知识和材料解读中国式民主的自信。

40. 阅读材料,回答问题。(26分)



材料一 中华文明在长期演进过程中,形成了中国人看待世界、看待社会、看待人生的独特价值体系、文化内涵和精神品质。每个国家和民族的历史传统、文化积淀、基本国情都不同,其发展道路必然有着自己的特色。一个国家的治理体系和治理能力,与这个国家的历史传承和文化传统密切相关。中华优秀传统文化,就是我们最深厚的文化软实力,也是中国特色社会主义植根的文化沃土。数千年来,中华民族走着一条不同于其他国家和民族的文明发展道路。解决中国的问题,只能在中国大地上探寻适合自己的道路和办法。到今天,我们开辟了中国特色社会主义现代化道路不是偶然的,而是我国历史传承和文化传统决定的。只有理解了中华文化,才能更好地理解中国模式、中国道路和中国式现代化。

材料二 1983年6月,时任中国领导人邓小平阐述了有关中国现代化的概念。他提出了两个观点:第一,各个民族和国家迈向现代化的道路绝非一条,每个民族和国家都应该根据自己的情况探索具体而管用的现代化道路。第二,“中国式的现代化”道路就是中国共产党领导中国人民所开创的社会主义现代化道路。社会主义的这些“中国特色”被定义为,既始终坚持社会主义的发展方向,同时又根据自己的历史传统、历史方位和现实基础而赋予其鲜明的中国特色。

(1)结合材料一,运用文化生活回答为什么说只有理解了中华文化,才能更好地理解中国式现代化。(10分)

(2)结合材料二,运用矛盾的相关知识分析邓小平分析中国现代化的正确性。(12分)

(3)实现中国式现代化的道路,需要一代又一代人接续奋斗。某校国旗下讲话以“从中国式现代化看青年学生的使命与担当”为题,请你撰写一个发言提纲。要求利用政治学术术语,内容积极向上。(4分)

41. 阅读材料,完成下列要求。(25分)

材料一 15世纪,英国乡村工业焕发出勃勃生机,并对城市造成了冲击。随着城市工匠向乡村的转移,大批的工匠在乡村定居下来,商人也云集在此。工商业的发展和人口的聚集,使乡村由工业村庄成长为新兴城镇,其商业活动也进一步扩大。如利兹的商人习惯用马驮着大量的呢绒在全国旅行,以赊账的方式卖给零售店,并且已和外国开展出口贸易。一些市镇从外地调来粮食,供应给周围乡村工业地区,不少传统的城市成为物资集散地和商业中心。城乡间联系的形成,加上它们对伦敦向心力的产生,最终在16世纪初步建立了以伦敦为核心、各级城市为结点的全国统一的经济网络。

——摘编自李群《城市与近代早期英国统一市场的形成》

材料二 明清时期是江南市镇发展繁荣的时期。由于江南水乡的地理位置特殊,因此绝大多数市镇都在河道畅通的地方夹河为市,市廛都在河道两边与跨河桥畔。这些市镇大多位于松江、嘉定、太仓一带,靠近沿海,便于海上贸易。这些市镇有的以经营手工业为主;有的以某些行业著称;有的是农村产品的交易市场或产地,如吴江的庵门市即为制铁业发达的市镇;苏州的枫桥和平望都是运河线上的商业市镇,是米、豆、麦等农产品的贸易市镇。随着市镇的发展与社会经济的发达,明中叶以后,在经济作物广泛种植和水路交通发达的地区,先后出现了一批著名的工商业巨镇,如苏州的盛泽、湖州的南浔等。市镇的发展,加速了商品经济的发展,孕育着资本主义萌芽。

——摘编自何荣昌《明清时期江南市镇的发展》

(1)根据材料一并结合所学知识,简析近代早期英国城市商业发展的重要历史影响。(10分)

(2)根据材料二并结合所学知识,概括明清时期江南市镇的发展特点。(8分)

(3)综合上述材料并结合所学知识,简析明清时期商品经济繁荣未能推动中国社会实现转型的原因。(7分)



42. 阅读材料,完成下列要求。(12分)

材料 从历史大视野观之,人类曾有过三次启蒙:“轴心时代”第一次,“启蒙时代”第二次,现今时代则是第三次……人类的三次启蒙我们都参与其中。中国参与了第一次启蒙,也就是“轴心时代”的哲学突破,儒、道、墨、法诸家延续至今。第二次启蒙,欧洲占据了主导,但是20世纪初期的五四新文化运动,使得中国最终参与其中,大概晚了200年。第三次启蒙,西方世界始于20世纪50年代之后,而中国则在20世纪80年代参与其中,我们仅仅晚了30年,而且全球化的脚步使得中国对这轮启蒙的参与越来越密切。

——刘悦笛《如何认识新文化运动百年的全球意义》

结合所学知识,试选取材料中任一时期或多个时期,围绕“启蒙”自拟论题,并进行阐释。(要求:联系材料,紧扣题意,史论结合,条理清楚)

(二)选考题:共25分。请考生从2道地理题、3道历史题中每科任选一题作答。如果多做,则每科按所做的第一题计分。

43.【地理——选修3:旅游地理】(10分)

新疆乌鲁木齐某中学师生一行30人的旅游团准备到我国东部沿海进行一次暑假海岸游,当地旅行社为该旅游团设计了一条旅游线路,具体行程路线如下表所示:

时间	行程
第一天	13:10从乌鲁木齐地窝堡机场乘飞机前往河北省秦皇岛市北戴河机场
第二天	10:35抵达北戴河机场,住秦皇岛市,下午自由活动
第三天	上午乘旅游大巴出发,游览山海关——天下第一关和老龙头及看渤海,下午到昌黎县黄金海岸,途中游览秦皇求仙入海处、秦皇行宫遗址、黄金海岸地貌,住昌黎渔家民宿,品尝渔家海鲜
第四天	上午从昌黎出发沿海岸公路南行,过唐山、经天津,进入山东省,先游黄河入海口看河海壮景,经蓬莱水城蓬莱阁看海,下午到威海乘船观海并到刘公岛游览中国甲午战争博物院等景点,傍晚乘船返回住威海
第五天	上午乘旅游大巴沿旅游公路到青岛,先游览崂山登高望海,下午到五四广场和栈桥近距离看海,住青岛市
第六天	上午游览中国海洋馆和青岛奥帆中心景区,12:00在青岛啤酒博物馆聚餐,品尝海鲜,午饭后安排自由活动,16:33乘火车返程
第七天	15:54抵达乌鲁木齐

说明该旅行社为乌鲁木齐师生旅游团设计的暑假海岸旅游线路的合理性。



44.【地理——选修6:环境保护】(10分)

在我国南方低山丘陵区,森林资源的分山到户导致林地细碎化,影响着林业生产规模化集约化经营,尤其是在人多山少的丘陵区,各户对待林地态度不同,或精耕细作,林木郁郁葱葱,或弃之不管,荒芜一片,使得很多肥沃的林地未能充分发挥经济效益,甚为可惜。近期基层林业人员认为,林业应借鉴农业上“小田并大田”的做法,实行“小山并大山”,统一发包管理或流转给大户经营,让林地资源的效益最大化。

简述小山经营期间存在的问题及并大山后产生的生态增益。

45.【历史——选修1:历史上重大改革回眸】(15分)

材料 北魏末年的农民战争使原有的土地关系被打乱,出现了大量无主荒地,东魏北齐政权重新推行均田制。此外,还推行了其他一些恢复和发展经济的措施。536年,“神武请均斗尺,班于天下”。544年,“东魏以丧乱之后,户口失实,徭赋不均。以太保孙腾为括户大使,分行诸州,得无籍之户六十余万,侨居者皆勒还本属”。557年,高欢为北朔州刺史,“量置烽戍,内防外御,备有条法,大为兵民所安。有无水之处,祷而掘井,锹锄裁下,泉源涌出”。560年,平州刺史稽晔建议,开幽州督亢旧陂,长城左右营屯,岁收稻粟数十万石,北境得以周贍。北齐河清(562—565年)中,“令诸州郡皆别置富人仓。……谷贵,下价粟之;贱则还用所粟之物,依价粟贮”。574年,“文襄(高澄)请……豪贵之家,不得占护山泽。”自高洋后期以后,北齐政治日趋腐败,大土地所有制又逐渐发展起来。

——摘编自刘精诚《北魏末年人民起义与东魏北齐、西魏北周的改革》

(1)根据材料并结合所学知识,概括东魏北齐所采取的经济措施。(7分)

(2)根据材料并结合所学知识,简析东魏北齐所采取的经济措施的影响。(8分)



46.【历史——选修3:20世纪的战争与和平】(15分)

材料 1949年,第一届世界保卫和平大会在巴黎——布拉格召开,世界和平理事会宣告成立。世界和平理事会号召世界各国不同政治见解、不同宗教信仰的人们,广泛集合起来,进行讨论,寻求缓和国际紧张局势的办法。1952年7月,亚洲、澳洲、南北美洲三十七个国家的代表在北京召开了亚洲及太平洋区域和平会议,并特别通过了一项决议,拥护世界人民和平大会的召开;欧洲十五个国家在柏林举行国际争取和平解决德国问题会议……1952年12月,世界人民和平大会在维也纳召开。到会国家85个,代表1880名,这些代表来自不同种族、不同阶层、不同信仰、不同派别。会议共进行八天,讨论了三个中心问题:(一)关于民族独立与国际安全;(二)关于停止现行战争,首先是朝鲜战争;(三)关于缓和国际紧张局势。经过自由民主的讨论,大会形成了《世界人民和平大会宣言》和《世界人民和平大会致五大国政府书》两个重要文件。中国代表团在宋庆龄团长领导下参加了这次大会。这次大会的召开,标志着世界和平运动进入了一个新的发展阶段。

——摘编自《人民日报》1953年2月7日第一版

(1)根据材料并结合所学知识,简析第一届世界人民和平大会召开的背景。(7分)

(2)根据材料并结合所学知识,简述第一届世界人民和平大会召开的意义。(8分)

47.【历史——选修4:中外历史人物评说】(15分)

材料 王炽(1836~1903),晚清巨商。他自幼聪明好学,因家境困难,不得不离开私塾,做起了小本生意。他始终坚持“以德为根,以质为本”的为商价值观,对客户“诚实忠诚”,生意越做越红火。清同治十一年至十二年间,王炽在昆明开设“同庆丰”,经营汇兑存放款事业,各埠天顺祥为分号,数年之内,成为南方富商。同时,王炽深深认识到“官之所求,商无所退”的道理,在道员唐炯的支持下,开汇号并代办盐运。光绪九年,王炽斥巨资从法国人手里买回了滇越铁路的路权。并冒险夺标,垫付数十万两白银与官府一同筹办云南铜、锡矿业。晋、陕两省大旱,黄河断流,王炽捐银数百万两给工部兴修水利,被李鸿章称之为“犹如清廷之国库也”。王炽还四处募集资金,将云南“状元楼”重新修复起来,鼓励青年求学。他还修葺云南虹溪书院,捐置学租田80余亩,并捐赠《古今图书集成》二部(四万册)。他在英国《泰晤士报》评选的19世纪初世界首富中排名第四,是入选这一榜单的唯一一位中国人,也是中国历史上唯一的一位“三代一品红顶商人”。

——摘编自黄光平《一品商人王炽》等

(1)根据材料,概括归纳王炽的主要事迹。(7分)

(2)根据材料并结合所学知识,分析王炽成功的因素。(8分)