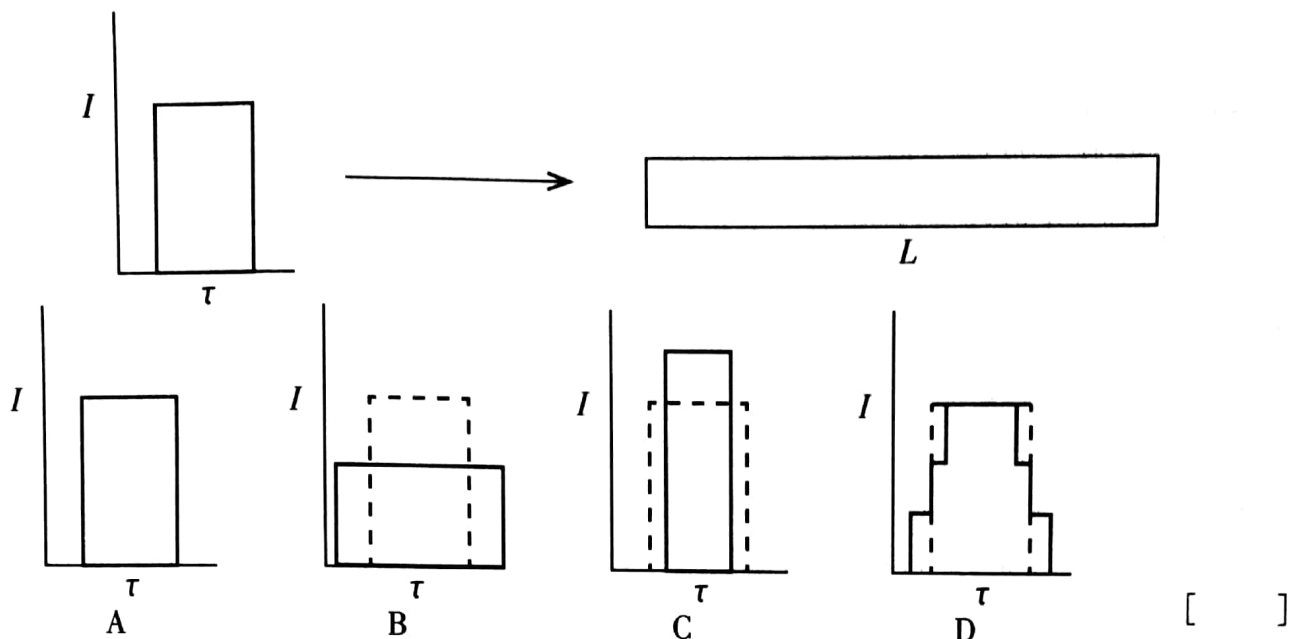




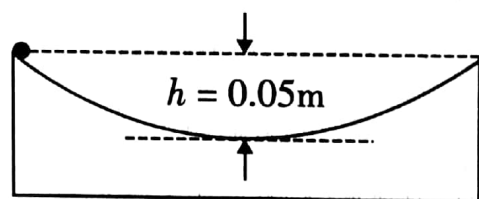
5. 有 3 种不同波长的光, 每种光同时发出、同时中断, 且光强都相同, 总的光强为  $I$ , 脉冲宽度(发光持续时间)为  $\tau$ , 光脉冲的光强  $I$  随时间  $t$  的变化如图所示。该光脉冲正入射到一长为  $L$  的透明玻璃棒, 不考虑光在玻璃棒中的传输损失和端面的反射损失。在通过玻璃棒后光脉冲的光强  $I$  随时间  $t$  的变化最可能的图示是(虚线部分为入射前的总光强随时间变化示意图)



二、填空题. 把答案填在题中的横线上. 只要给出结果, 不需写出求得结果的过程.

得分	阅卷	复核

6. (10 分) 如图, 一个球冠形光滑凹槽深度  $h = 0.050\text{m}$ , 球半径为  $20\text{m}$ . 现将一质量为  $0.10\text{kg}$  的小球放在凹槽边缘从静止释放。



重力加速度大小为  $9.8\text{m/s}^2$ . 小球由凹槽最高点滑到最低点所用时间为\_\_\_\_\_ s.

得分	阅卷	复核

7. (10 分) 先用波长为  $\lambda_1$  的单色可见光照射杨氏双缝干涉实验装置; 再加上波长为  $\lambda_2$  ( $\lambda_2 > \lambda_1$ ) 的单色可见光照射同一个杨氏双缝干涉实验装置。观察到波长为  $\lambda_1$  的光的干涉条纹的 1、2 级亮纹之间原本是暗纹的位置出现了波长为  $\lambda_2$  的光的干涉条纹的 1 级亮纹, 则两种光的波长之比  $\lambda_2 : \lambda_1 =$ \_\_\_\_\_。


得分	阅卷	复核

8. (10 分) 某一导体通过反复接触某块金属板来充电。该金属板初始电荷量为  $6\mu\text{C}$ , 每次金属板与导体脱离接触后, 金属板又被充满  $6\mu\text{C}$  的电荷量。已知导体第一次与金属板接触后, 导体上带的电荷量为  $2\mu\text{C}$ ; 经过无穷次接触, 导体上所带的电荷量最终为\_\_\_\_\_。



得分	阅卷	复核

9. (10分) 如图, 一焦距为  $20\text{cm}$  的薄透镜位于  $x=0$  平面上, 光心位于坐标原点  $O$ , 光轴与  $x$  轴重合。在  $z=0$  平面内的一束平行光入射到该



透镜上, 入射方向与光轴的夹角为  $30^\circ$ . 该光束通过透镜后汇聚点的位置坐标为 \_\_\_\_\_。

得分	阅卷	复核

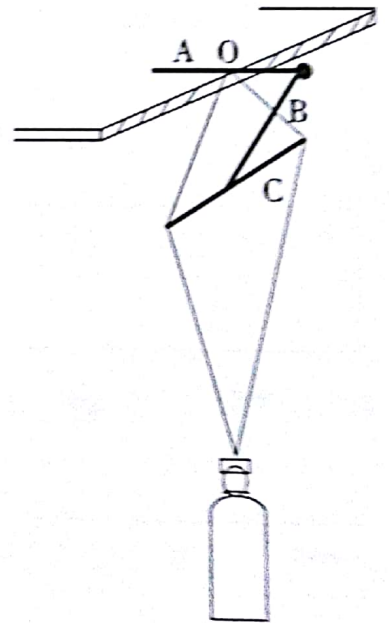
10. (10分) 一质量为  $m$  的小球与一劲度系数为  $k$  的弹簧连接, 置于光滑水平桌面上, 弹簧的另一端与固定墙面相连, 小球做一维自由振动, 弹簧的伸缩方向与小球的振动方向一致。在一沿此弹簧长度方向以速度  $u$  做匀速直线运动的参考

系里观察, 此弹簧和小球构成的系统的机械能 \_\_\_\_\_ (填“守恒”或“不守恒”), 理由是 \_\_\_\_\_。

三、计算题. 计算题的解答应写出必要的文字说明、方程式和重要的演算步骤, 只写出最后结果的不能得分. 有数值计算的, 答案中必须明确写出数值和单位。

得分	阅卷	复核

11. (20分) 某电视节目中演示了一个用三根火柴棍和细棉线悬挂起一瓶或多瓶矿泉水的实验, 如图所示。A、B、C 为三根相同的火柴棍, 火柴棍长为  $l$ , 细实线为棉线, 棉线的直径为  $d$  ( $d \ll l$ )。火柴棍 A 的一半在水平桌面内, 另一半在桌面外, 火柴棍 A 与桌面上表面的边沿垂直; 桌面厚度为  $h$ ; O 是火柴棍 A 的中点与桌面边沿的接触点; 棉线紧贴桌沿绕过 A, 压在水平火柴棍 C 的两端; 火柴棍 B 的一端顶在火柴棍 A 的球状头部 (可近似忽略球状头部的尺度), 另一端顶在火柴棍 C 的中点。这样的结构可以稳定地悬挂起一瓶或多瓶矿泉水。



火柴棍长为  $l$ , 细实线为棉线, 棉线的直径为  $d$  ( $d \ll l$ )。火柴棍 A 的一半在水平桌面内, 另一半在桌面外, 火柴棍 A 与桌面上表面的边沿垂直; 桌面厚度为  $h$ ; O 是火柴棍 A 的中点与桌面边沿的接触点; 棉线紧贴桌沿绕过 A, 压在水平火柴棍 C 的两端; 火柴棍 B 的一端顶在火柴棍 A 的球状头部 (可近似忽略球状头部的尺度), 另一端顶在火柴棍 C 的中点。这样的结构可以稳定地悬挂起一瓶或多瓶矿泉水。

(1) 如果没有火柴棍 B 和 C, 光靠 A 是否可能悬挂起一瓶矿泉水? 为什么?

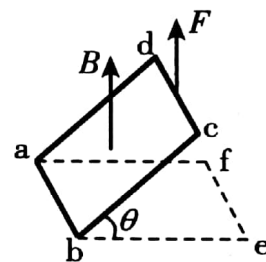
(2) 加上火柴棍 B 和 C、小心挂上重物时, 火柴棍 A 会在过 A 的竖直平面内绕 O 点有一个角位移, 通过火柴棍 B 的带动, 压在火柴棍 C 两端的棉线将绕桌面下表面的边沿转动一个很小的角度; 只要角度大小合适, 可使整个系统达到稳定平衡。求平衡时该角度的大小。

已知火柴棍与桌沿、火柴棍与棉线以及火柴棍之间都足够粗糙 (即可以没有滑动), 而且它们的质量与重物相比均可忽略。



得分	阅卷	复核

12. (20分) 如图, 一边长为  $L$  的正方形铜线框  $abcd$  可绕水平轴  $ab$  自由转动, 一竖直向上的外力  $F$  作用在  $cd$  边的中点, 整个线框置于方向竖直向上的均匀磁场中, 磁感应



强度大小随时间变化。已知该方形线框铜线的电导率 (即电阻率的倒数) 为  $\sigma$ , 铜线的半径为  $r_0$ , 质量密度为  $\rho$ , 重力加速度大小为  $g$ .

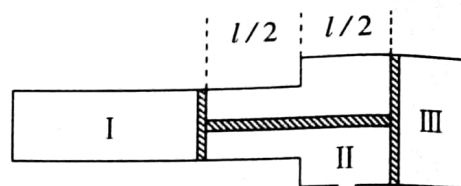
- 当框平面与水平面  $abef$  的夹角为  $\theta$  时, 求该方形线框所受到的重力矩。
- 当框平面与水平面  $abef$  的夹角为  $\theta$  时, 框平面恰好处于平衡状态。求此时线框中  $cd$  边所受到的磁场  $B$  的作用力的大小与外力的大小  $F$  之间的关系式。
- 随着磁感应强度大小随时间的变化, 可按照 (2) 中的关系式随时调整外力  $F$  的大小以保持框平面与水平面  $abef$  的夹角总为  $\theta$ . 在保持夹角  $\theta$  不变的情形下, 已知在某一时刻外力为零时, 磁感应强度大小为  $B$ ; 求此时磁感应强度随时间的变化率  $\left| \frac{\Delta B}{\Delta t} \right|$ .



考生答题不得超过此线

得分	阅卷	复核

13. (20分) 横截面积为  $S$  和  $2S$  的两圆柱形容器按图示方式连接成一气缸，每个圆筒中各置有一活塞，两活塞间的距离



为  $l$ ，用硬杆相连，形成“工”字形活塞，它把整个气缸分隔成三个气室，其中 I、III 室密闭摩尔数分别为  $\nu$  和  $2\nu$  的同种理想气体，两个气室内都有电加热器；II 室的缸壁上开有一小孔，与大气相通；1 mol 该种气体内能为  $CT$  ( $C$  是气体摩尔热容量， $T$  是气体的绝对温度)。当三个气室中气体的温度均为  $T_1$  时，“工”字形活塞在气缸中恰好在图所示的位置处于平衡状态，这时 I 室内气柱长亦为  $l$ ，II 室内空气的摩尔数为  $\frac{3}{2}\nu_0$ 。已知大气压不变，气缸壁和活塞都是绝热的，不计活塞与气缸之间的摩擦。

现通过电热器对 I、III 两室中的气体缓慢加热，直至 I 室内气体的温度升为其初始状态温度的 2 倍时，活塞左移距离  $d$ 。已知理想气体常量为  $R$ 。求

- (1) III 室内气体初态气柱的长度；
- (2) III 室内气体末态的温度；
- (3) 此过程中 I、III 室密闭气体吸收的总热量。



得分	阅卷	复核

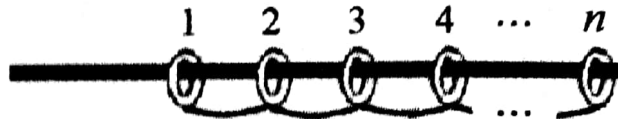
14. (20分) 把沿  $x$  方向通有电流 ( $x$  方向的电场强度为  $E_x$ ) 的长方体形的半导体材料, 放在沿  $z$  方向的匀强磁场中, 半导体材料的六个表面分别与相应的坐标平面平行; 磁感应强度大小为  $B_z$ . 在垂直于电场和磁场的  $+y$  或  $-y$  方向将产生一个横向电场  $E_y$ , 这个现象称为霍尔效应, 由霍尔效应产生的电场称为霍尔电场。实验表明霍尔电场  $E_y$  与电流的电流密度  $J_x$  和磁感应强度  $B_z$  的乘积成正比, 即  $E_y = R_H J_x B_z$ , 比例系数  $R_H$  称为霍尔系数。

某半导体材料样品中有两种载流子: 空穴和电子; 空穴和电子在单位电场下的平均速度 (即载流子的平均速度与电场成正比的比例系数) 分别为  $\mu_p$  和  $-\mu_n$ , 空穴和电子的数密度分别为  $p$  和  $n$ , 电荷分别为  $e$  和  $-e$ . 试确定该半导体材料的霍尔系数。



得分	阅卷	复核

15. (20分) 某根水平固定的长滑竿上有  $n$  ( $n \geq 3$ ) 个质量相同的滑扣 (即可以滑



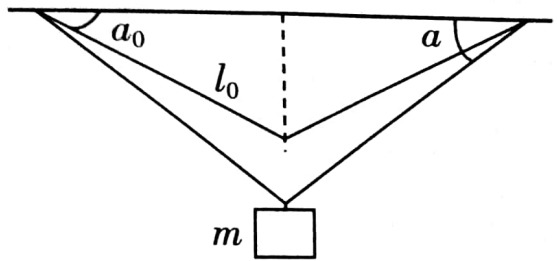
动的圆环), 每相邻的两个滑扣 (极薄) 之间有不可伸长的柔软轻质细线相连, 细线长度均为  $L$ , 滑扣在滑竿上滑行的阻力大小恒为滑扣对滑竿正压力大小的  $\mu$  倍。开始时所有滑扣可近似地看成挨在一起 (但未相互挤压); 今给第 1 个滑扣一个初速度使其在滑竿上开始向左滑行 (平动); 在滑扣滑行的过程中, 前、后滑扣之间的细线拉紧后都以共同的速度向前滑行, 但最后一个 (即第  $n$  个) 滑扣固定在滑竿边缘。已知从第 1 个滑扣开始的  $(n-1)$  个滑扣相互之间都依次拉紧, 继续滑行距离  $l$  ( $0 < l < L$ ) 后静止, 且所有细线拉紧过程的时间间隔极短。求

- (1) 滑扣 1 的初速度的大小;
- (2) 整个过程中克服摩擦力所做的功;
- (3) 整个过程中仅仅由于细线拉紧引起的总动能损失。



得分	阅卷	复核

16. (20分) 如图, 两劲度系数均为  $k$  的同样的轻弹性绳的上端固定在一水平面上, 下端悬挂一质量为  $m$  的



小物块。平衡时, 轻弹性绳与水平面的夹角为  $\alpha_0$ , 弹性绳长度为  $l_0$ 。现将小物块向下拉一段微小的距离后从静止释放。

- (1) 证明小物块做简谐振动;
- (2) 若  $k=0.50\text{N/m}$ 、 $m=50\text{g}$ 、 $\alpha_0=30^\circ$ 、 $l_0=2.0\text{m}$ , 重力加速度  $g=9.8\text{m/s}^2$ , 求小物块做简谐振动的周期  $T$ ;
- (3) 当小物块下落的距离为  $0.010\text{m}$  时, 写出此后该小物块相对于平衡位置的偏离随时间变化的方程。已知: 当  $x \ll 1$  时,  $\frac{1}{1+x} \approx 1-x$ ,  $\sqrt{1+x} \approx 1 + \frac{1}{2}x$ 。

考生  
生  
答  
题  
不  
得  
超  
过  
此  
线

