

高三文科综合考试

(考试时间：150 分钟试卷满分：300 分)

注意事项：

1. 答卷前，考生务必将自己的姓名、考生号、考场号和座位号填写在答题卡上。
2. 回答选择题时，选出每小题答案后，用铅笔把答题卡上对应题目的答案标号涂黑。如需改动，用橡皮擦干净后，再选涂其他答案标号。回答非选择题时，将答案写在答题卡上。写在本试卷上无效。
3. 考试结束后，将本试卷和答题卡一并交回。

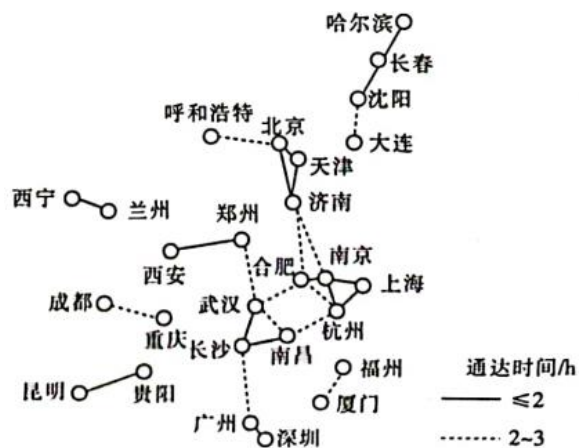
第 I 卷(选择题共 140 分)

本卷共 35 小题，每小题 4 分，共 140 分。在每小题给出的四个选项中，只有一项是符合题目要求的。

集成电路作为电子信息技术的核心，是全球关键核心技术竞争的焦点。新兴工业化经济体崛起，推动网络空间结构由以北美为主导的单中心演变为以北美、东亚—东南亚为主导的多中心格局。随着中国集成电路出口能力的提高，中国已替代美国成为东南亚地区的主要贸易合作伙伴。据此完成 1~3 题。

1. 推测东南亚地区在全球集成电路产业中的主要分工是
A. 设备研发 B. 市场营销 C. 芯片设计 D. 封装测试
2. 与美国相比，我国出口的集成电路产品对于东南亚地区而言的主要优势是
A. 技术先进 B. 贸易渠道多样 C. 价格较低 D. 应用范围更广
3. 随着经济发展，全球集成电路产品跨洲贸易中
①联系节点增加 ②联系节点减少
③所有区域跨洲贸易强度都增强 ④部分区域跨洲贸易强度可能减弱
A. ①③ B. ①④ C. ②③ D. ②④

交通网络构筑了城市关联骨架，发达的交通网络能够深刻影响城市空间联系并重塑区域空间格局。右图示意 2021 年我国中心城市间高铁 3 小时以内通达时间格局。据此完成 4~6 题。



4.城市节点之间高铁的通达时间主要取决于

- A.经济体量 B.客流规模
C.空间距离 D.技术水平

5.我国城市群之间高铁通达度最高的是

- A.长三角—珠三角 B.长江中游—京津冀
C.长江中游—珠三角 D.长三角—京津冀

6.为提高我国高铁通达度及高铁运营的经济效益,建议应

- ①加快东西向通道布局②提升东南沿海通道运能
③完善发达城市内部高铁网络④快速提高西部地区城市间的高铁密度
A.①② B.②③ C.①④ D.③④

克拉通是地球上古老且稳定的大陆地块。非洲大陆拥有三处规模较大的克拉通,它们形成于几亿年前,其中位于赤道附近的刚果克拉通西部未延伸到海岸线。据此完成7~8题。

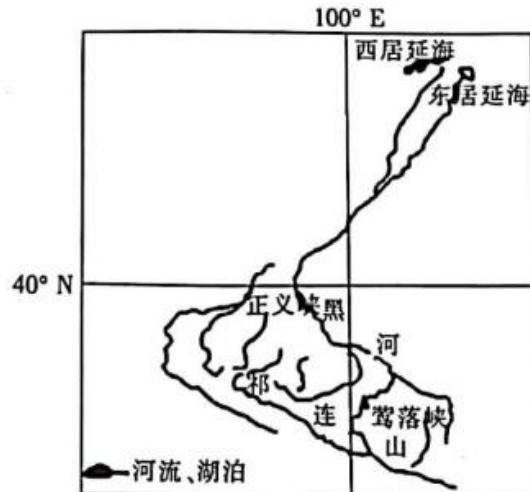
7.非洲克拉通岩石中,多见

- A.石灰岩 B.花岗岩 C.玄武岩 D.角砾岩

8.刚果克拉通未延伸到海岸线,推测刚果克拉通西部边缘

- A.地壳运动较少 B.为板块交界处
C.矿产资源匮乏 D.地势起伏较大

黑河沿岸多线状分布的胡杨。每年夏季出现胡杨母株上大量散落种子的现象,被称为“种子雨”。胡杨种子有白色绒毛,可借助风力、流水传播。由于上游过度用水,20世纪末黑河下游断流,严重威胁胡杨生存。近年来,每年秋季黑河集中向下游生态输水,但未能明显遏制胡杨种群退化。部分来水量较大的年份成为胡杨种子向下游扩散的关键时期。下图示意黑河流域位置。据此完成9~11题。



9.胡杨呈线状分布在黑河沿岸主要取决于

A.降水量 B.蒸发量 C.地下水位 D.下渗率

10.生态输水未能明显遏制黑河流域内胡杨种群退化，可能是因为

A.“种子雨”与生态输水时间不一致 B.胡杨种子被风沙大量掩埋

C.上、中、下游水资源分配不均 D.流域内气候变湿，风速减小

11.评估胡杨种子向下游扩散条件的最合适指标是

A.莺落峡水量 B.正义峡水量 C.东居延海水位 D.西居延海水位

12.十九大以来的五年是极不寻常、极不平凡的五年。五年来，我们党团结带领人民攻克了许多长期没有解决的难题，办成了许多事关长远的大事要事，推动党和国家事业取得举世瞩目的重大成就。这些成就的取得有赖于

①党牢牢把握以中国式现代化推进中华民族伟大复兴的使命任务

②全面建成小康社会和实现社会主义现代化强国

③坚持党的领导，把发展作为执政兴国的第一要务

④坚持改革开放这一最为广泛而深刻的社会变革

A.①③ B.①④ C.②③ D.②④

13.从曾经的“十里洋场”到如今的改革开放排头兵，从新中国成立前的百废待兴到现在的欣欣向荣，今天的上海，作为中国最大的经济中心、创新发展中心、世界经贸航运枢纽，正走在时代的前列，立于发展的潮头，成为中国式现代化的亮丽名片。上海的蜕变从一个侧面证明了

①新民主主义革命的胜利实现了中华民族从站起来到富起来的伟大飞跃

②只有社会主义才能救中国，只有中国特色社会主义才能发展中国

③改革开放是党和人民大踏步赶上时代的重要法宝

④我国仍处于并将长期处于社会主义初级阶段

A.①②B.①④C.②③D.③④

14.党的二十大报告提出,支持“专精特新”(专业化、精细化、特色化、新颖化)企业发展。“专精特新”企业在发展中仍存在融资难、融资贵、财务负担较重、政策支持不足等问题,要解决这些企业的“急难愁盼”有赖于更强有力的支持。以下政策支持发挥作用的路径正确的是

①信贷支持:降低存款准备金率→提高资金周转效率→纾解“专精特新”企业困难

②人才支持:提高企业工资待遇→吸纳专业技术人员→推动“专精特新”企业创新

③财税支持:提高增值税起征点→减轻企业纳税负担→激发“专精特新”企业活力

④平台支持:搭建孵化平台→整合发展所需配套资源→增强“专精特新”企业信心

A.①②B.①③C.②④D.③④

15.2023年中央一号文件提出,加快乡镇区域养老服务中心建设。某县深化“资金+物资+服务”社会救助模式,优先聘用周边村组脱贫户、低保户、低收入户中有照护能力的闲置劳动力,开展定人、定时、定点“三定”服务,对全县的分散供养特困人员,根据全自理、半自理、全护理类别提供服务。该模式

①有利于实现劳动力资源的有效利用,保障和改善民生

②意在发挥第三次分配作用,维护 and 实现社会公平正义

③可以完善社会保障体系,提升特困人员供养服务质量

④贯彻落实按劳分配原则,增加低收入群体的劳动收入

A.①②B.①③C.②④D.③④

16.2022年是中国共产党统一战线政策提出100周年。在百年实践中,统一战线坚持大团结大联合,正确处理一致性和多样性的关系,将各方面力量有效组织起来,引导他们积极反映不同群体的社情民意,使之纳入党和国家的决策体系之中,切实增强“统”的力量、“合”的效能。统一战线的大团结大联合

①全面准确地履行了政治协商、民主监督、参政议政的职能

②彰显了社会主义民主的优越性,应将其作为我国一项基本政治制度

③能最广泛地反映民意、最充分地集思广益、最大限度地凝聚共识

④能最大限度地调动一切积极因素,为实现共同的政治目标服务

A.①②B.①③C.②④D.③④

17.2023年3月,国家市场监督管理总局与北京市市场监管局签署《市场监管综合执法协同联动框架协议》,建立执法协同联动机制、政策指导调研机制、宣传培训合作机制,同时配套建立“联合专案组制度、联商会审制度、重大案件双向沟通制度和跨区域执法支持制度”。建立执法联动机制的意义在于

- ①有助于建设协同高效的市场监管执法体系,更好地发挥政府经济职能
- ②有助于强化统一市场监管执法,提高执法水平,推动经济社会高质量发展
- ③加强市场监管总局对地方市场监管局的指导和调度,提高市场监管总局权威
- ④扩大地方市场监管局的行政执法权限,调动地方市场监管局的积极性和主动性

A.①②B.①④C.②③D.③④

18.2023年4月1日,黄河保护法正式施行。该法律重视顶层设计,对上中下游生态建设重点各有侧重,分类施策,同时抓住水沙关系调节的“牛鼻子”,设立“水沙调控与防洪安全”专章,将调水调沙实践的成果写入条文中,在黄河流域组织建设水沙调控和防洪减灾工程体系。由此可见

- ①解决复杂问题要集中力量解决主要矛盾
- ②对待不同事物的矛盾要采取不同的方法
- ③只有把握矛盾的普遍性才能认清事物本质
- ④关注矛盾特殊性时要把握矛盾主要方面

A.①②B.①④C.②③D.③④

19.“文明探源彩出中原”之《我陪国宝瞰老家》系列节目第一期聚焦中华文明探源工程的原点和基石——安阳殷墟,融入卫星图、手绘地图、3D特效复原等手段,引导人们跟随后母戊鼎、甲骨文、妇好鸮尊等国宝的指引回到“老家”,沉浸式走进考古遗址现场,感受中华文明的璀璨华光。该节目的可取之处在于

- ①立足现代科学技术,深入挖掘传统文化的当代价值
- ②创新国宝的展示方式,更好地涵养中华民族文化自信
- ③丰富中华优秀传统文化内涵,增强民族文化的价值认同
- ④从古老厚重的国宝文物中萃取精华,激发观众共鸣

A.①②B.①③C.②④D.③④

20.2023年2月,一列载有易燃且致癌气体氯乙烯的列车在美国俄亥俄州脱轨,毒气泄漏,造成严重污染。漫画《脱轨的毒火车》反映了



事故发生后美国民众对美国政府的失望。对此，下列解读正确的是

- ①美国政府代表并维护资产阶级的利益
- ②美国总统只对利益集团负责，不对选民负责
- ③美国政府把维护地区和平放在第一位
- ④插手乌克兰问题符合美国的国家利益

A.①③ B.①④ C.②③ D.②④

21.2023年是习近平主席提出构建人类命运共同体理念十周年。十年来，这一理念受到越来越广泛的欢迎和响应，展现出越来越强大的真理力量和实践伟力。构建人类命运共同体不是空泛理念，而是丰富实践；不是单打独斗，而是共商共建；不会一蹴而就，而需持续推进。世界各国应当

- ①坚持共同发展，为改变国际力量对比注入动力
- ②推动共同开放，为深化合作共赢创造机遇
- ③弘扬共同价值，为推动政治经济一体化构筑桥梁
- ④承担共同责任，为维护国际战略稳定尽职尽责

A.①③ B.①④ C.②③ D.②④

22.杨某与张某是邻居，双方因相邻关系问题没有妥善解决而交恶。近日，杨某发现张某买了一只宠物狗并故意给其宠物狗取和他一样的名字。在该事件中，张某的行为

- ②侵犯了杨某的身份权
- ①侵犯了杨某的人格权
- ④侵犯了杨某的荣誉权
- ③侵犯了杨某的姓名权

A.①② B.①③ C.②④ D.③④

23.马克思指出：“共产主义并不剥夺任何人占有社会产品的权力，它只剥夺利用这种占有去奴役他人劳动的权力。”引号中的语句属于

- ①联言判断
- ②选言判断
- ③性质判断
- ④复合判断

A.①③ B.①④ C.②③ D.②④

24.有学者指出，夏代是个空前广泛的城邦联盟，处于早期国家的第一个发展阶段；商、周则属于第二个阶段，其特征是出现了中央王国和地方族邦的联合体。最适合作为该观点依据的是

A.土地私有制取代井田制 B.官僚政治取代世卿世禄

C.王位世袭制取代禅让制 D.分封诸侯取代方国联盟

25.始铸于东汉晚期的“色兹(古国名、位于今新疆)五铢”(正面有小篆“五铢”字样,背面为化兹文符号),直到南北朝时期仍在持续待造,仅字风随中原书法风尚变化而略有改变。这反映了当时

- A.农耕文明开始西传 B.西域与中原联系紧密
- C.国内货币形制统一 D.丝绸之路贸易较繁荣

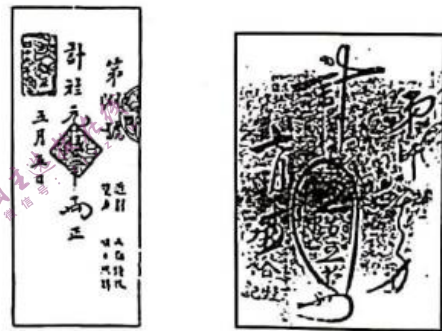
26.朱熹曾说:“耳目口鼻之在人,尚各有攸司……本分当为者,一事有阙,便废天职……必知夫所处之职,乃天职之自然,而非出于人为,则各司其职以办其事者,不出于勉强不得已之意矣。”这一言论蕴含了

- A.道德修养方法 B.佛道神学思想
- C.社会责任意识 D.唯物主义倾向

27.明初沿袭前朝制度,规定从事盐生产的灶户世代相袭,对于冒充或改当他籍者,施以重罚并令其重归原籍;灶户成为与军户、民户、匠户并列的四籍之一。这类规定旨在

- A.禁锢社会阶层的流动 B.放松封建人身依附关系
- C.减轻户籍管理的压力 D.强化对垄断行业的控制

28.右图所示为晚清上海中国通商银行等机构发行的庄票。庄票俗称银票,在晚清口岸城市中使用日益普遍,甚至参与饷银的发放。晚清庄票流行的背景是



上海的庄票

- A.列强资本输出的扩大
- B.近代银行体系的建立
- C.国内经济结构的变动
- D.清廷政治腐败的加深

29.1918年,李大钊指出,自俄国革命以来,“马克思主义”几有风靡世界之势,德、奥匈诸国的社会革命也都奉“马克思主义”为正宗。“马克思主义”引发了世人的注意,也招致很多误解。在马克思诞辰100周年之际,各国批评他、介绍他的学者都有很多。这表明马克思主义在中国的传播

- A.与国际潮流遥相呼应 B.直接激发了五四运动
- C.具有真伪混杂的特征 D.与工人运动结合紧密

30.1927年12月下旬,中共中央连续发出通知,指示一些地区如果条件不具备,就不要

立刻暴动，也停止了原计划的湖南、湖北年关暴动。次年4月，中共中央临时政治局指出，争取群众、建立城乡群众组织、巩固与健全党的组织是当前最重要的工作。中共中央的这些决定

- A.统一了全党思想认识 B.有助于积蓄革命力量
- C.纠正了革命路线偏差 D.得到共产国际的支持

31.1997年7月，始于泰铢贬值的亚洲金融危机开始爆发，韩国、菲律宾等国家为保护出口产业和减少外汇流失，纷纷推动本位货币大幅贬值，加剧了金融市场的动荡。中国政府则对外承诺，人民币坚决不贬值，保持汇率的稳定。中国的做法

- A.彰显了负责任的开放大国气度 B.显示了社会主义制度的优越性
- C.扩大了对周边国家的出口贸易 D.冲击了美国在金融领域的霸权

32.公元前5世纪后期的伯罗奔尼撒战争，不仅使雅典公民数量从4万多锐减至约2万，也使雅典失去了大量盟友和附属城邦。战后的雅典公民热衷于个人创收，宁愿雇外邦人当兵打仗。得益于工商业收入的增长，雅典公民的福利不减反增。这可用于说明当时雅典

- A.发展海外殖民迫在眉睫 B.民主政治进入鼎盛时期
- C.城邦制度根基受到侵蚀 D.公民个人自由得到保障

33.在古代玛雅文明中有多个神学系统，玉米神在其中处于一个非常特殊的位置。从某种意义上说，玉米神可以被视为众神之王，其他许多神灵(如雨、雷、蜂等与玉米生长有关的自然现象或自然事物化身)都是由玉米神创造的。这一现象源于

- A.玉米在农业领域的突出地位 B.祭司阶层对文化事业的垄断
- C.大一统王朝统一思想的需要 D.城邦制时代的多神崇拜传统

34.下表所示为1760~1870年，欧美主要国家固定式蒸汽机装机容量统计表(单位：千马力)。据表可知，这一时期

	1760年	1800年	1840年	1870年
英国	5	35	200	2 060
法国	—	3	33	336
普鲁士	—	—	7	391
比利时	—	—	25	176
美国	—	0	40	1 491

注：—表示缺乏统计资料。

- A.英国实现了对传统动力的淘汰 B.蒸汽机在欧洲实现批量化生产

C.技术革命推动经营方式的嬗变 D.欧美工业化发展水平明显提升

35.1997年,不结盟运动提出了将安理会成员总数增加到26国的改革方案,后又追加了增加6个具有否决权的常任理事国(其中必须包括非洲国家)的提案;2005年,不结盟运动作为主要利益集团的代表,对联合国改革的《成果文件》进行了广泛讨论,并提出了大量修改建议。这体现出

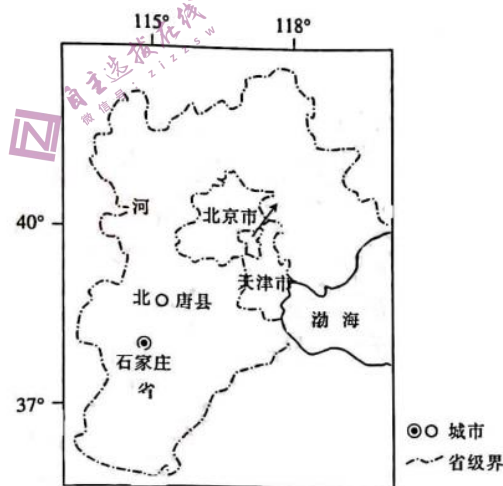
- A.不结盟运动的兴起 B.多极化趋势的加强
C.联合国改革的成果 D.国际关系的民主化

第II卷(非选择题共160分)

本卷共9道题,全部为必做题,共160分。

36.阅读图文材料,完成下列要求。(30分)

唐县为华北平原传统农业县,历史上人多地少,收入较低。1980年以前,养殖肉羊一直是补贴唐县农民农拼收入不足的副业。1090年,唐县成功引进鲁西小尾寒羊,养殖户多在自家庭院或房前屋后简单搭建养殖棚进行养殖。1995年,唐县成立肉羊养殖企业。2010年,唐县内羊出栏量有100万余只,但人地矛盾尖锐,养殖户将目光投放在招荒的耕地上。唐县大规模发展内羊养殖对土地资源产生严重的不利影响,也给当地居民正常生产生活带来干扰,当地政府开始介入优化管理。2018年之后,唐县养殖空间呈集聚和扩散并存态势,一方面向大型养殖园区集聚,另一方面向远离主城区的地带和主要乡村的外围地带扩散。下图示意唐县位置。

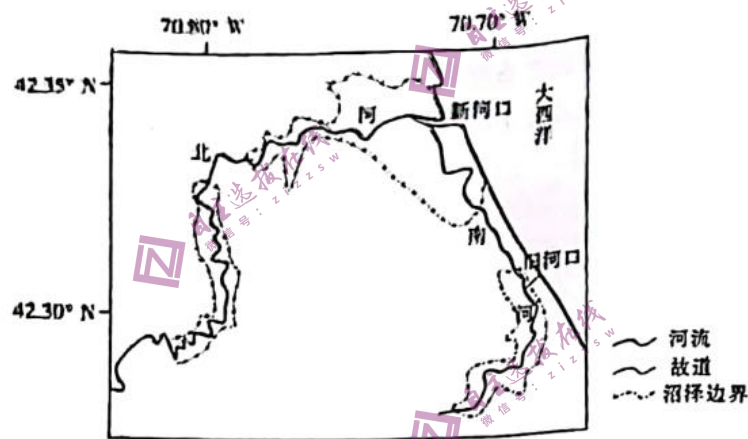


- (1)简述1995年以前,养殖户在自家庭院搭建养殖棚的原因。(8分)
(2)2010年前后撂荒地取代闲置院落成为拓展养殖空间的首选地,试对此做出合理的解释。(8分)
(3)分析唐县大规模发展肉羊养殖对土地资源的不利影响。(6分)

(4)简述 2018 年之后，唐县养殖空间呈集聚和扩散并存态势的意义。(8 分)

37.阅读图文材料，完成下列要求。(26 分)

北河、南河地处美国东北部马萨诸塞州(如图)，两河共用一处入海通道，流域内植被覆盖率较高。历史上北河、南河冰川发育，海岸带多末次冰期留下的冰碛物。两河河口地带为盐沼滩涂，滩涂上广布根系发达的互花米草。1898 年，一场海岸风暴侵蚀了海岸带冰碛物，形成新的入海通道，北河缩短了 5.6km，同时延长了南河的长度。入海通道改变后，南河河道保持稳定，而北河河口段河道变宽，最大潮位升高了 30cm。尽管被淹没范围增大，但北河沿岸盐沼堆积加快，盐沼滩涂生态系统并未大面积萎缩。近年来，为整治航道，开展河口和近海岸疏浚工程，导致滩涂侵蚀加快，植被萎缩。



(1)分析北河、南河新河口附近的沉积物主要来自海洋的原因。(6 分)

(2)对入海通道改变后南河河道保持稳定的现象做出合理解释。(6 分)

(3)分析入海通道改变后北河沿岸盐沼堆积加快的条件。(6 分)

(4)为恢复河口盐沼滩涂生态系统提出合理化建议。(8 分)

38.阅读材料，完成下列要求。(10 分)

党和国家机构职能体系是中国特色社会主义制度的重要组成部分，是我们党治国理政的重要保障。党的十八大以来，以习近平同志为核心的党中央把深化党和国家机构改革作为一项重要任务，党和国家机构职能实现系统性、整体性重构。面对新时代新征程提出的新任务，党和国家机构设置和职能配置同当前国家发展还不完全适应。为此，根据党的二十大对深化机构改革作出的重要部署，党的二十届二中全会审议通过《党和国家机构改革方案》。在党中央机构改革方面，决定组建中央金融委员会、中央金融工作

委员会、中央科技委员会、中央社会工作部、中央港澳工作办公室；在国务院机构改革方面，重点加强科学技术、金融监管、数据管理、乡村振兴、知识产权、老龄工作等重点领域的机构职责优化和调整。2023年3月，中共中央、国务院印发《党和国家机构改革方案》，明确要求各地区各部门要不折不扣把机构改革任务落到实处。

党和国家机构改革是推进国家治理体系和治理能力现代化的深刻变革。结合材料，运用《政治与法治》的知识对此加以说明。

39. 阅读材料，完成下列要求。(10分)

当前，世界百年未有之大变局加速演进，逆全球化思潮抬头，单边主义、保护主义明显上升，世界经济复苏乏力。2023年4月15日，第133届广交会全面恢复线下办展，同时开始全年常态化运营线上平台，为境内外企业搭建了高效的沟通交流和贸易对接平台，来自220多个国家和地区的数十万采购商参加广交会线下展或者线上展。据统计，本届广交会进口展规模进一步扩大，首次在3个展期均设进口展，达到3万平方米，来自40个国家和地区的508家企业在12个专业展区参展，其中“一带一路”沿线国家和地区的参展企业占73%。

结合材料，运用《当代国际政治与经济》的知识，说明广交会是如何助力世界经济复苏的。

40. 阅读材料，完成下列要求。(12分)

1996年7月，王英与次子王小英因项事发生争吵，后矛盾逐渐激化，最终双方在同杆的亲精好友的见证下签订了断绝父子关系的协议，芬完协议后，王小某随即与妻子幽开了家乡，此后再未看过父母，

2023年初，王某因病住院，身体大不如前，需有人看护。在此期间，其余的三个兄弟希望王小某能够见见父亲王某，对父亲履行胜养义务，级和父子关系。但是，王小某以签订了断地父子关系的协议为由表示对王某没有赔养义务，父亲王某见儿子王小某如此尚度，一纸诉状将王小某告上法庭，要求其履行赔养义务，每个月给付500元赔养费并且负担四分之一的医疗费用。

2023年5月，受理人民法院判决被告王小某履行对原告王某的雕养义务，需要按月给付一定数额的瞻养费并分担医疗费用。

(1)结合材料，运用《法律与生活》的知识，分析受理人民法院作出上述判决的理由。(8

分)

(2)本案中，原告王某在起诉前应做哪些准备?(4分)

41.阅读材料，完成下列要求。(20分)

马克思主义政党所肩负的使命任务、所从事的事业，都是前无古人的，在开创性实践中遇到的大量崭新课题，没有也不可能从马克思主义经典著作中找到现成答案。我们党在领导革命、建设、改革的历史进程中，面临的历史条件、承担的历史任务、遇到的具体矛盾和问题、需要解答的时代课题，都具有不同于其他国家的特殊性。百年来，我们党坚持用马克思主义之“矢”，射中国的实际之“的”，用接续推进的马克思主义中国化和时代化创新理论成果，指导党和人民事业不断开创新局面。

党的十八大以来，以习近平同志为主要代表的中国共产党人坚持把马克思主义基本原理同中华优秀传统文化相结合，结合新的时代要求提炼概括出一系列重大理念和思想。例如，吸收借鉴天下为公、民为邦本、为政以德等传统理念，创造性提出以人民为中心的发展思想；传承弘扬天人合一、道法自然、取之有度等中华优秀传统文化，提出构建人与自然生命共同体理念……这些都得到了马克思、恩格斯关于“无产阶级的运动是绝大多数人的，为绝大多数人谋利益的独立的运动”“人的全面自由的发展”“生产将以所有的人富裕为目的”等思想的科学指引，也都得到了中华优秀传统文化中“保民、安民、富民、乐民”等思想的滋养，得到了“合则强，孤则弱”等思想的启迪。这一系列重大理论创新，赋予马克思主义科学理论鲜明的中国特色和时代内涵，使之成为人民所喜爱、所认同、所拥有的理论。

(1)结合材料，运用物质与意识的辩证关系原理，说明继续坚持和推进马克思主义基本原理同中国具体实际相结合的原因。(10分)

(2)结合材料，运用辩证思维的知识，阐述推动马克思主义基本原理同中华优秀传统文化相结合的积极影响。(10分)

42.阅读材料，完成下列要求。(25分)

材料一

秦始皇在统一文字的基础上，提出了文书档案制度改革的方法。《史记·秦始皇本纪》记载：“制诏三代无文，秦始有之。”秦始皇在文书用印方面，规定只有天子之印称“玺”，百官的印章则统称为“印”或“章”。文书抬头制度主要规定在书写文书时，

把一些特定的名词或句子，比如，本朝代名、帝号或与皇帝言行有关的字，在其前都要空一格或几格，或重新另起一行顶格书写，或另起一行高出数格书写。秦始皇还下达了关于避讳的规定，无论是在公务文书还是其他私人文书，所有的书面文字或语言中均不得直呼皇帝的名字。秦朝“以文书御天下”为后世档案工作的发展奠定了基础。

—摘编自张忠年《浅谈秦朝尊君抑臣的文书制度》

材料二

法国大革命前夕，法国档案机构的数量和类型众多，档案的保存相当分散。根据1789年7月29日颁布的《国民议会组织条例》，法国建立了国民议会档案馆，负责保存国民议会的文件。1790年9月，法国颁布了《国家档案馆条例》，将国民议会档案馆改名为国家档案馆，建立了世界上第一个真正具有国家意义的综合性档案馆，负责保存历史档案和历届国民议会、中央各机构的档案文件。同年11月，法国颁布了《关于成立行政区档案馆的法令》。1794年6月，法国国民议会颁布了世界上第一部专门的档案法——《穉月七日档案法令》，使国家档案馆担负起对所有地方档案馆的领导、业务指导和监督之职。1841~1842年，法国普遍建立了市镇档案馆和医院档案馆，如市镇的记录和账目，户籍和市民权利方面的档案，公共财产和地方行政的档案，地亩册、户口调查登记文件、候选人名单和有关选举的档案等。

—摘编自刘晓辉《简述法国档案管理机制与方法》

材料三

国际共产主义运动(下文简称“国际共运”)对于世界发展起到了重要的推动作用，留下了卷帙浩繁的档案。这些档案对于解读国际共运，还原国际共运的真实面貌，具有不可替代的作用。长期以来，一些人趁国内外出现“历史虚无主义”之机，否定国际共运在世界历史中的作用。从目前的国内外形势上看，整理搜集并正确解读国际共运的文献，对抵制“历史虚无主义”能够起到重要作用，也可为党史教育提供重要的国际视角。——摘编自吴耀庭《档案学视角下国际共产主义运动档案的建设现状——以澳大利亚国家档案馆为例》

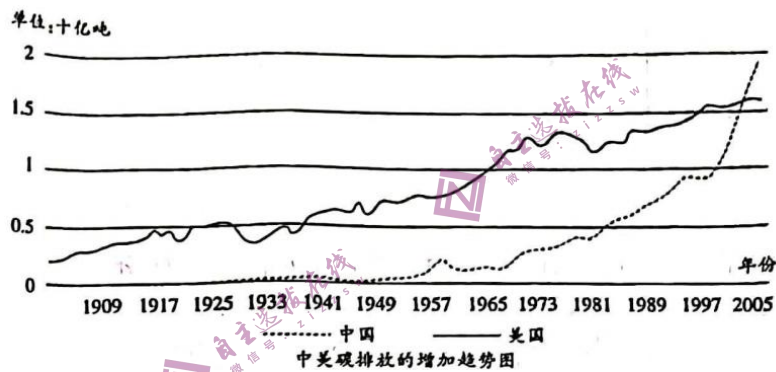
- (1)根据材料一、二，概括中国秦朝和近代法国文书档案制度建设的异同。(10分)
 - (2)根据材料一、二并结合所学知识，分别说明中国秦朝和近代法国开展文书档案制度建设的背景。(10分)
 - (3)综合以上材料并结合所学知识，简析历史文书档案的在史学研究中的价值。(5分)
- 43.阅读材料，完成下列要求。(12分)

材料一

2018年，中国单位GDP能耗比1953年降低43.1%，年均下降0.9%。从单位GDP能耗指标值(GDP按2018年价格计算)来看，由1953年的0.91吨标准煤/万元逐步上升到1960年最高的2.84吨标准煤/万元后逐步下降，20世纪70年代开始又逐步上升后，基本呈现稳步下降态势，2018年下降到0.52吨标准煤/万元。

——摘编自国家统计局能源词《能源发展实现历史巨变节能降耗唱响时代旋律——新中国成立70周年经济社会发展成就系列报告之四)

材料二



——据美国二氧化碳信息分析中心(CAIAC)相关数据整理

对比两则材料中的信息，围绕“新中国的经济建设”自拟一个论题，并加以阐述。(要求：明确写出所拟论题，阐述须有史实依据。)

44. 阅读材料，完成下列要求。(15分)

材料

二战结束后，印度尼西亚和(南美)苏里南大量人口移居荷兰。从20世纪50年代中期开始到70年代初，荷兰从地中海沿岸国家输入大量劳工，随后劳工移民的家属也涌入荷兰。20世纪80年代中期以后，难民及其他类型寻求庇护者成为荷兰移民的重要部分。至此，荷兰的人口结构发生重大改变，大量外来移民的存在，尤其大量穆斯林人口的存在，给荷兰社会带来了新问题，如移民少数族群与荷兰本土人群在就业与教育上的差距较大。1994年，荷兰《少数族群平等就业促进法》开始实施。公司和商户必须登记员工的族群背景，并出台相应措施推动其更多地雇佣少数族群员工。1999年，荷兰政府强调劳动力市场在阻止和克服种族主义方面的作用。2000年，荷兰社会事务部开始对就业市场上可能存在的种族歧视行为进行监控。荷兰政府还要求公共服务遵循“操作规范”，克服种族歧视。这些做法一定程度上促进了移民群体参与社会活动和分享发展成果。

——摘编自高原《荷兰人民的民族构成》等

(1)根据材料并结合所学知识,分阶段概述 20 世纪 40 年代至 90 年代,大量移民涌入荷兰的主要影响因素,并分析移民浪潮对荷兰的影响。(9 分)

(2)根据材料并结合所学知识,归纳 20 世纪 90 年代以来,荷兰应对移民问题的历史经验。(6 分)

高三文科综合考试参考答案

1.D【解析】本题考查全球集成电路产业的分工,同时考查学生获取和解读地理信息、阐释地理事物的能力。东南亚地区技术水平有限,生产成本低,主要发展产业链的低端环节。故 D 选项正确。

2.C【解析】本题考查我国出口的集成电路产品对于东南亚地区而言的主要优势,同时考查学生获取和解读地理信息、阐释地理事物的能力。我国是制造业大国,制造能力强,集成电路产品可以大批量生产,且劳动力成本比美国低,产品价格较低。故 C 选项正确。

3.B【解析】本题考查全球集成电路跨洲贸易的特点,同时考查学生获取和解读地理信息、阐释地理事物的能力。随着经济发展,世界更多国家和地区加入集成电路产业体系,联系节点增多,①正确;各地区内部,如东亚—东南亚逐渐形成较为完善的生产—贸易网络,跨洲贸易强度可能减弱,④正确。故 B 选项正确。

4.C【解析】本题考查不同城市节点之间高铁通达时间的影响因素,同时考查学生获取和解读地理信息、阐释地理事物的能力。由图可知,中心城市间高铁能快速通达的仍然是距离较近的城市,空间距离是交通时间最根本的制约因素。故 C 选项正确。

5.D【解析】本题考查我国高铁通达度最高的城市群,同时考查学生获取和解读地理信息、阐释地理事物的能力。由图可知,长三角—珠三角城市群目前未能通过东南沿海通道直连,路径较长;长江中游—京津冀城市群也需要绕道;长江中游—珠三角城市群路径单一;长三角—京津冀城市群之间通达度最高,且路径较为顺畅。故 D 选项正确。

6.A【解析】本题考查提高我国高铁通达度和高铁运营经济效益的措施,同时考查学生获取和解读地理信息、阐释地理事物的能力。由图可知,与南北向相比,我国东西向高