

## 大庆铁人中学20级高三学年第二次模拟考试

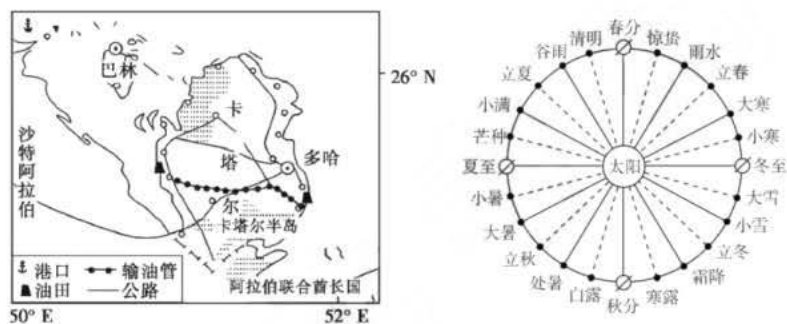
### 文科综合试题

注意事项:

1. 答卷前, 考生务必将自己的姓名、准考证号填写在答题卡上。
2. 回答选择题时, 选出每小题答案后, 用铅笔把答题卡上对应题目的答案标号涂黑。如需改动, 用橡皮擦干净后, 再选涂其他答案标号。回答非选择题时, 将答案写在答题卡上。写在本试卷上无效。
3. 考试结束后, 将本试卷和答题卡一并交回。

一、选择题: 本题共35小题, 每小题4分, 共140分。在每小题给出的四个选项中, 只有一项是符合题目要求的。

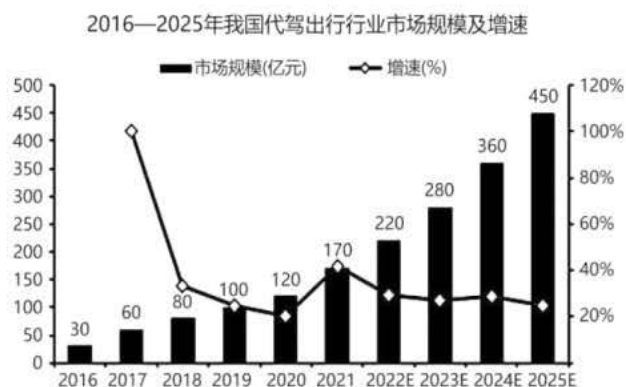
2022年卡塔尔足球世界杯于11月21日至12月18日举行, 小组赛安排在当地时间的每天13点、16点、19点和22点。图为卡塔尔位置示意图。读图, 完成问题。



- A. 正值我国小寒至大寒节气之间
  - B. 北京不熬夜可收看全程直播
  - C. 多哈比北京正午太阳高度角大
  - D. 多哈19时可看到海面落日
2. 卡塔尔境内无铁路, 各主要城市之间由公路相连, 主要原因是 ( )
- ①铁路建设投资大
  - ②海洋运输发达
  - ③城市之间距离短
  - ④国土面积狭小
- A. ①②
  - B. ①④
  - C. ②③
  - D. ③④

代驾服务业是指在车主不能自行驾车到达目的地的情况下, 由专业驾驶人员驾驶车主的车将其送达目的地并收取一定费用的新兴行业。近年来, 随着“新交规”的实施, 代驾服务业呈现良好的发展趋势, 为人们的安全出行保驾护航, 具体包括新手陪驾、酒后代驾、旅游代驾、商务代驾等。下图示意2016-2025年我国代驾出行行业市场规模及增速。据此完成下面小题。

2016-2025年我国代驾出行行业市场规模及增速



3. “新交规”实施后，市内代驾服务接单地主要集中的城市功能区为（ ）

A. 居住区 B. 文化区 C. 驾校周边 D. 商业区

4. 近年来，我国积极推动代驾服务业，有利于（ ）

A. 提高车主驾技 B. 增加就业机会 C. 保障道路畅通 D. 提升车辆性能

5. 有关我国代驾行业市场形势的描述正确的是（ ）

A. 2017年市场规模最大

B. 2018年市场规模出现大幅下滑

C. 2017年市场规模增速最大

D. 2018年到2025年市场规模波动上升

当城市扩张得越来越大，摩天大楼“身高攀比”日趋激烈，留给看似没有太多经济作用的绿色公园的面积就变得越来越少。但都市人对公园、绿植的渴望一刻都没有停止，在这样的矛盾之下，“口袋公园”也应运而生。口袋公园利用城市中老旧“边角料”的改造，重新焕发新生。近年来，口袋公园如玉珠般散落在国内城市的大街小巷，不仅提升了城市“颜值”，更融入了城市“基因”，传承记载了城市记忆，成为靓丽的城市名片。据此完成下列小题。

6. 导致口袋公园应运而生的主要原因是（ ）

A. 城市扩张

B. 城市密度变大

C. 城市绿地太少

D. 经济和社会的发展

7. 下列关于口袋公园特点的说法正确的是（ ）

①选址灵活 ②分布面广 ③规范统一 ④职能多样

A. ①②

B. ②③

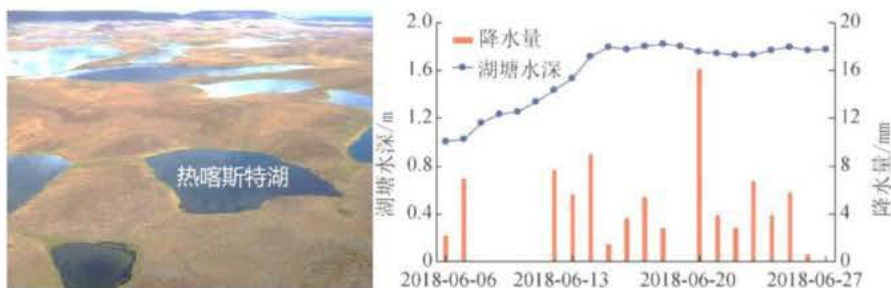
C. ③④

D. ①④

8. 口袋公园建设中，为防避城市内涝发生，可采取的有效措施是（ ）

- A. 优化城市主干道，立交桥底下禁止建设口袋公园
- B. 完善排水设施，口袋公园建设需协调城市管网分布
- C. 发挥口袋公园生态效益，种植可吸取地下水的树种
- D. 在城市高温区域建设口袋公园，减弱城市热岛效应

多年冻土分为两层，上层为夏季融化、冬季冻结的活动层，下层为多年冻结层。受全球气候变化和人类活动的影响，多年冻土层发生局部融化，地表土层塌陷，积水后形成的湖塘称为热喀斯特湖（图左）。图右示意长江源北麓河盆地某热喀斯特湖6月份水深与降水变化情况。据此完成下面小题。



9. 6月6日开始降水导致湖塘水位迅速升高，但6月20日的降水并未引起湖塘水位增加是因为（ ）
- A. 降水持续时间较长
  - B. 湖塘蓄满产流外泄
  - C. 暖季升温蒸发旺盛
  - D. 植被生长耗水增多
10. 研究发现该区域近十年来少数湖塘消失，推测其变化过程是（ ）
- A. 人口增长——农牧业用水多——湖水枯竭
  - B. 暖季降水——水土流失严重——湖床淤塞
  - C. 水体蓄热——多年冻土融穿——湖水下泄
  - D. 城市发展——平整建设用地——湖盆填充
11. 热喀斯特湖季节性扩张与退缩过程对湖岸带环境的影响是（ ）
- A. 增加地表比热容，减慢冻土融化
  - B. 空气湿度增加，昼夜温差减小
  - C. 水分周期性补给，植被更加繁茂
  - D. 改变土壤特性，加剧土地沙化
12. 1978年12月，党召开十一届三中全会，果断结束“以阶级斗争为纲”的政治路线，实现党和国家工作中心战略转移，作出实行改革开放的伟大决策。40多年来，在改革开放的推动下，我国经济实力、综合国力进入世界前列，创造了人类发展史上的奇迹。事实证明（ ）
- ①中国共产党拥有强大的纠错能力，能够正视历史，以史为鉴，谋求发展
  - ②错误中总是包含着经验教训，如果能够汲取教训，错误便不再是错误了
  - ③改革开放是党和人民赶上时代的重要法宝，是民族伟大复兴的关键一招
  - ④战略决策对国家的发展起着决定性作用，持续的发展依赖于科学的决策
- A. ①③

B. ①④

C. ②③

D. ②④

13. 供销合作社是由农民自愿组织起来的集体经济组织，可以充分发挥“供”和“销”的优势，把农户的小生产与大市场紧密联系起来，整合各类市场资源，为不同类型产品和服务制定规范，从而克服目前国内市场存在的分割性、封闭性、垄断性和无序性的弊端。由此可见，大力发展供销合作社有利于（ ）

①畅通农产品流通，实现资源高效配置 ②完善市场规则，弥补市场调节的缺陷

③发挥合作经济在乡村振兴中的主体作用 ④消除城乡二元结构，构建了全国统一大市场

A. ①②

B. ①③

C. ②④

D. ③④

14. 剧本杀、密室逃脱在其快速“生长”的过程中也存在产品质量良莠不齐、经营场所安全保障不完善等隐患。2022年10月12日，成都市文广旅局等7部门联合制定的《成都市促进剧本娱乐行业健康有序发展的办法（试行）》正式公布，为剧本杀、密室逃脱等剧本娱乐行业健康有序发展划定了底线、红线。为剧本娱乐行业划定底线、红线（ ）

①旨在引导和促进剧本娱乐行业的健康发展

②可以消除市场调节的弊端，规范市场秩序

③加大对于相关行业的监管，限制资本竞争

④助推形成统一开放、竞争有序的市场体系

A. ①②

B. ①④

C. ②③

D. ③④

15. 2022年，国家组织开展了基本医疗保险药品目录调整工作。新公布的调整方案共有111个药品新增进入目录，涵盖了抗肿瘤、慢性病、罕见病、新冠治疗等领域的药品。谈判和竞价新准入的药品，价格平均降幅达60.1%。自国家医保局成立以来，已连续5年开展药品目录调整工作。医保药品目录的调整意在（ ）

①提高社会福利的水平，满足人民群众的保障诉求

②增强医疗保障的普惠性，深度推进健康中国建设

③实现多方利益共赢，助力医药行业持续健康发展

④减轻群众医疗费用负担，提升人民用药保障水平

A. ①②

B. ①③

C. ②④

D. ③④

16. 某县政协通过组织开展各类委员培训班、专题讲座、投身经济社会发展前线等形式深入学习贯彻中共二十大精神，实现理论学习富有成效、党的领导更加坚定、党的建设不断完善，切实做到思想上同心、政治上同向、行动上同步。这说明人民政协（ ）

- ①是同中国共产党通力合作的亲密友党
  - ②开展民主监督，聚焦党和国家中心任务
  - ③坚持党的领导，确保政协事业方向正确
  - ④加强自身学习，提升成员参政议政能力
- A. ①②  
B. ①④  
C. ②③  
D. ③④

17. 在《法治政府建设实施纲要（2021-2025年）》开启之年，国务院制定了《地下水管理条例》等9部行政法规，修订了《土地管理法实施条例》等6部行政法规，废止了《计划生育技术服务管理条例》等3部行政法规，并上线运行了行政法规库。这体现了（ ）

- ①我国不断完善依法行政制度体系，推动法治与时俱进
  - ②国务院享有立法权，使行政法规符合社会发展的需求
  - ③我国全面加强行政权力的有效监督，建设法治政府
  - ④司法机关认真履职，为法治政府建设提供了有力保障
- A. ①②  
B. ①④  
C. ②③  
D. ③④

18. FIFA2022卡塔尔世界杯首款官方授权玉玺世界杯《冠军徽宝》，是世界杯历史上首次以中国传统“玉文化”“玺文化”为主创作的世界杯纪念作品。玉玺融合了花丝镶嵌、雕塑、玉雕、金镶玉、篆刻、珐琅、整金等多项传统工艺，更是将卡塔尔世界杯会徽、吉祥物、大力神杯、32强等官方核心元素一次收全，将中国非遗文化与世界重大体育赛事强势结合，受到了世界各国体育爱好者和收藏界人士的热捧。由此可见（ ）

- ①文化具有多样性，因交流而多彩，因交融而丰富
  - ②玉玺在国际舞台的展现赋予了中华文化新的内涵
  - ③中华文化以其特有的包容性展现了自身的文化价值
  - ④传统文化是中华民族的精神标识，是中华文化之根
- A. ①②  
B. ①③  
C. ②④  
D. ③④

19. 说到夏季最令人生厌的动物，不少人的答案是蚊子。清华大学一科研团队在一项研究中，揭示了蚊媒病毒的狡猾之处：病毒通过改变人体的皮肤微生物，重塑感染者的气味，影响蚊子的嗅觉感知。这项发现也为阻断蚊媒病毒在自然界中的快速传播流行提供了全新策略。由此可见（ ）

①改造客观世界为人类造福是我们研究的目的②源于实践的认识推动社会实践的进一步发展

③科研能够帮助我们透过现象揭示事物的本质④人们对复杂事物的认识受到各种条件的限制

A. ①②

B. ①③

C. ②④

D. ③④

20. 中国连续5年缩减外商投资准入负面清单，同时积极推动从商品和要素流动型开放向规则、规制、管理、标准等制度型开放转变，带动形成更高层次改革开放新格局。材料表明，提高对外开放水平需要（ ）

①放宽市场准入，保护外商投资合法权益

②创新对外投资方式，提高对外投资质量

③坚持对外开放国策，实施积极主动的开放战略

④坚持正确的义利观，与世界各国共享发展机遇

A. ①②

B. ②④

C. ①③

D. ③④

21. 2023年2月初，土耳其发生7.8级大地震。人员伤亡严重。中国第一时间派出多支救援力量驰援土耳其地震灾区展开救援工作，并向土耳其和叙利亚两国运送大量救灾物资。中国的救灾行动（ ）

①彰显了中国是世界和平与发展的主导力量

②弘扬了尊重生命、真诚相助的大国责任担当

③表明了国家间的共同利益是国家合作的基础

④超越了狭隘国家利益观，践行人类命运共同体理念

A. ①②

B. ③④

C. ①③

D. ②④

22. 电影《人生大事》于2022年上映，讲述的是刑满释放的殡葬师莫三妹在一次出殡中遇见了孤儿武小文。这次相遇意外地改变了莫三妹对职业和生活的态度的故事，其中一个故事线是武小文的外婆去世后，在其舅舅和舅母不想成为小文的监护人的情形下，小文被王建仁夫妇收养，由未婚的莫三妹教育。之后，被宣告死亡并销户的小文母亲突然回来，向莫三妹要回小文。下列对此案例的分析正确的是（ ）

①小文的外婆去世后留下遗产若干，遗产应归小文与小文的舅舅继承

②若小文的母亲去世，亲生父亲未知，小文的舅舅是法定的抚养义务人

③若小文被收养成功，则王建仁夫妇和小文之间构成养父母与养子女的关系

④被宣告死亡的小文母亲重新出现，但她不能以生母的理由要回抚养权

A. ①②

B. ①③

C. ②③

D. ③④

23. 党的二十大报告指出, 全面从严治党永远在路上, 党的自我革命永远在路上, 决不能有松劲歇脚、疲劳厌战的情绪, 必须持之以恒推进全面从严治党, 深入推进新时代党的建设新的伟大工程, 以党的自我革命引领社会革命。这告诉我们 ( )

①推进全面从严治党需要对疲劳厌战的情绪进行否定

②党的自我革命意味着将矛盾双方消解为虚无

③肯定与否定的斗争使事物发展进入自我肯定阶段

④辩证的否定可以使事物产生新的规定性

A. ①②

B. ①④

C. ②③

D. ③④

24. 近年来, 中国社会科学院考古研究所与山西省考古研究所联合对陶寺遗址进行解剖发掘, 确认陶寺遗址存在近13万平方米宫城。此外陶寺遗址还先后发掘出城墙、大型宗教礼制建筑、政府掌控的大型仓储区等。由此可见, 陶寺遗址所展示的文明 ( )

A. 已具备了国家的初始形态

B. 君主集权统治得到加强

C. 重视农业与手工业的管理

D. 反映了仰韶文化的成就

25. 据记载, 秦朝初步确定了乡官制度, 有秩、嗇夫、游徼等行政吏员与三老以及治安亭史 (介于乡与里之间), 共同构成权力中介, 职能涵盖百姓的人身、赋役、治安和精神各个领域。这表明秦朝 ( )

A. 政府行政效率得到提高

B. 权力制衡机制已经形成

C. 君主专制统治得以强化

D. 地方治理体系有所完善

26. 2012年6月, 元上都遗址 (含古城、防洪渠、墓葬群等) 因整体格局清晰、保存较为完好被列入《世界遗产名录》。下图为无人机拍摄的元上都遗址宫殿区俯视图。据此可知,

元上都的兴建 ( )

A. 注重人文景观与自然的协调

B. 受到了传统华夏文化的影响

C. 旨在纾解大都的非首都职能

D. 有效加强了北部边境的国防



27. 明代的田宅买卖契约文书中有“二意情愿, 并无逼勒”“两相允洽, 各无异言”之类的话语。“自愿非逼”是有效的契约不可缺少的条件, 而立契人遵守自愿订立的契约被认为是理所当然的义务。这种契约订立形式 ( )

A. 保障了农民的土地所有权

C. 杜绝了土地交易中的纠纷

- B. 打击了土地兼并行为 D. 适应了经济发展需要

28. 下表是晚清时期一些国人的思想主张

人物	思想主张
冯桂芬	洋务为国家招携怀远一大政……如以中国之伦常名教为原本，辅以诸国富强之术，不更善之善者哉。
李鸿章	处今日喜谈洋务，乃圣之时。
郑观应	日击时艰，无可下手，而一言以蔽之曰：莫如自强为先。
张之洞	方今万国盟聘，事变日多，洋务最为当务之急。

这些思想

- A. 助推中国早期现代化到来 B. 表明变法图强成为共识  
C. 基于对欧美社会全面了解 D. 彻底颠覆传统华夷观念
29. 1927年4月27日至5月9日，中共五大在武汉召开。会议通过了《组织问题议决案》指出，“党内纪律非常重要”，特意强调党员要“重视政治纪律”，要求各级党组织和全体党员，在政治问题上都必须严格服从党的领导。这表明中国共产党（ ）

- A. 认识到革命领导权的重要性 B. 努力应对党面临的内外危机  
C. 开始加强党的政治纪律建设 D. 为工作重心转向农村做准备

30. 如图为1965年中国出现的宣传海报，此图体现出当时教育要（ ）



- A. 适应新时期农业现代化建设需要 B. 为经济建设提供高素质的劳动者  
C. 满足经济发展和国防建设的要求 D. 为农业合作化运动培养技术人才
31. 浙江义乌“鸡毛换糖”源于清代乾隆年间，每年农闲季节，农民肩挑糖担走村串巷，用自己熬制的红糖上门换取禽兽毛骨、废铜烂铁，博取微利。1980年义乌县政府颁发了7000余份《小百货敲糖换取鸡毛临时许可证》，允许农民从事该活动。这一做法反映了当时（ ）

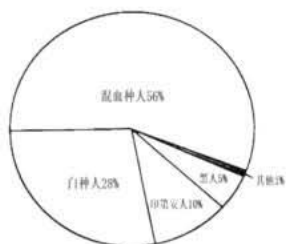
- A. 对计划经济体制的突破 B. 市场经济已经成为社会共识  
C. 农村乡镇企业蓬勃发展 D. 国家对商业活动的严格限制

32. 自4世纪起，西欧精美的丧葬建筑和雕塑墓逐渐消失了，取而代之的是朴素的墓葬。进入12世纪以后，建筑式墓和模拟像才开始在法国王室墓葬中得到重现，并很快影响意大利地区。这一变化的出现，是由于（ ）

- A. 法兰西民族国家逐渐形成 B. 西欧愈发重视现世的幸福  
C. 教会精神束缚不断的强化 D. 法国自由民主思想的传播

33. 如图为某地区近代以来的人口结构图，与该地区发展状况符合的有（ ）






①拉丁舞成为当地的重要文化符号之一 ②独立战争之后考迪罗独裁权力的形成 ③华工是中央太平洋铁路工地主要劳动力 ④因殖民活动导致当地人口的结构变化（ ）

- A. ①②③
- B. ①②④
- C. ②③④
- D. ①②③④

34. 19世纪以前，英国地方治理基本上沿用中世纪的管理体制，各郡、各教区的管理权仍然掌握在当地的贵族乡绅手中。1835年，英国通过了《城市自治机关法》，强调各地区要设立地方议会、定期选举地方的行政官员和议员。这一变化（ ）

- A. 表明中世纪管理体制最终瓦解
- B. 促使英国走上代议制民主的道路
- C. 保障了地方行政治理的稳定性
- D. 源于工业革命后的社会结构变化

35. 下图为1980-2008年发达国家与发展中国家全球贸易规模对比情况。据此可知（ ）



- A. 发展中国家主导了经济全球化
- B. 全球贸易规模持续扩张
- C. 旧的世界经济秩序受到了冲击
- D. 发达国家逐步走向衰落

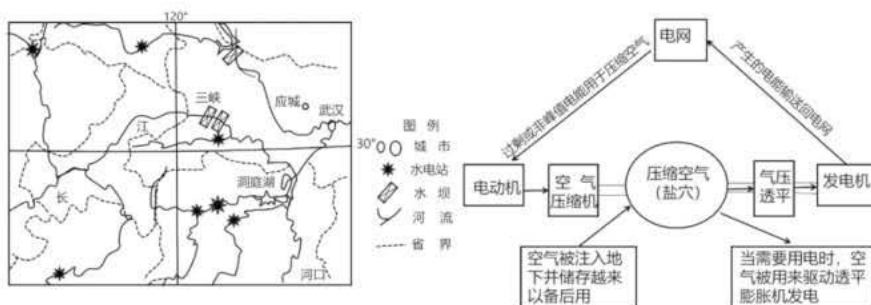
二、非选择题：本题共10小题，共160分。

36. 阅读图文材料，完成下列问题。（24分）

材料一：下左图为我国局部地区大型水电站分布图。该地区水电丰富，是西电东送电力主要输出地之一。

材料二：2022年7月，世界首台300兆瓦级压缩空气储能电站示范工程在湖北省应城市开建，依托丰富的盐矿资源和众多的盐穴，优秀的地下、地面科研团队、钻井科研团队和管理领导团队，湖北省力求将应城打造为“储能之都”。右图为空气蓄能电站的示意图。

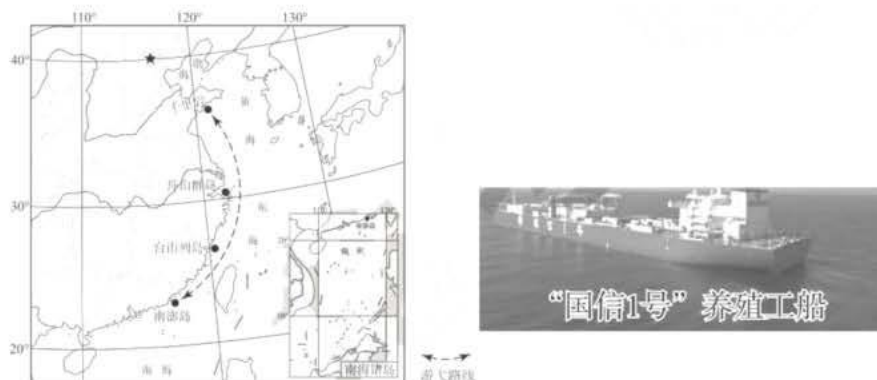
材料三：与空气储能电站压缩空气不同，抽水蓄能电站利用电力负荷低谷时的电能抽水至上水库（建在海拔高的地区），在电力负荷高峰期再放水至下水库（建在海拔低的地区）发电的水电站。



- (1) 简析该地区水电丰富的自然原因。（4分）
- (2) 说出应城市建设空气压缩蓄能电站的有利条件。（8分）
- (3) 从能源的供需角度，说明应城打造储能之都的必要性。（6分）
- (4) 与抽水蓄能电站相比，说出空气压缩蓄能电站的优越性。（6分）

37. 阅读图文材料，完成下列要求。（32分）

2022年5月20日，全球最大的智慧养殖工船“国信1号”在青岛交付运营，它是我国驶向深蓝的“移动的海洋牧场”，将为我国持续提供稳定的优质蛋白质来源。通过“船载舱养”模式常年游弋在黄海千里岩、东海舟山群岛、台山列岛和南海南澎岛之间，利用深远海优质海水养殖大黄鱼、石斑鱼、大西洋鲑鱼等名贵鱼种。该船全长249.9米，排水量13万吨，内设2108个监测点，实时监测并集中控制15个养殖舱内的水、氧、光、饲、鱼等状况，每日24小时不间断换水16次，养殖密度是传统网箱的4~6倍，养殖周期缩短1/4以上。此外，该船还拥有苗种培育、饲料加工、物流运输、销售为一体的完整产业体系以及“科技+资本+产业”的发展模式。下图为“国信1号”养殖工船及其游弋路线示意图。



- (1) 说明与传统近海养殖方式相比，“国信1号”模式的优势。（10分）
- (2) “国信1号”的运营使我国深远海大型养殖业实现了跨越式发展。为了进一步提升深远海大型养殖业的竞争力和经济效益，请说明国信集团可采取的有效措施。（10分）
- (3) 我国“十四五”规划中明确提出要积极拓展海洋经济发展空间。驶向深蓝的“移动的海洋牧场”为拓展海洋经济发展空间迈出了坚实的步伐。请以大力发展驶向深蓝的“移动的海洋牧场”为例，阐述其对我国国家安全的有利影响。（12分）

38. (10分) 阅读材料，完成下列要求。

学习宣传贯彻党的二十大精神。2022年10月25日，二十届中共中央政治局召开会议，研究部署学习宣传贯彻党的二十大精神。学习宣传贯彻党的二十大精神是当前和今后一个时期全党全国的首要政治任务，要引导广大干部群众原原本本学习研读党的二十大报告和党章，认真领悟党的二十大精神提出的新思想新论断、作出的新部署新要求。要紧密联系党的百年奋斗历程特别是党的十八大以来新时代十年的伟大变革，深刻领悟“两个确立”的决定性意义，加深对习近平新时代中国特色社会主义思想、马克思主义中国化时代化、中国式现代化等重大问题的认识，深刻理解党的二十大对全面建设社会主义现代化国家作出的战略部署，切实把思想和行动统一到党中央精神上来。

结合材料，运用“中国特色社会主义最本质特征”的知识，说明学习宣传贯彻党的二十大精神是当前和今后一个时期全党全国的首要政治任务。

39. (16分) 阅读材料，完成下列要求。

“共享员工”是指由企业端主导发起人力资源共享的企业间余缺调剂灵活用工模式。疫情期间，“共享员工”成为潮流，劳动力暂时过剩的传统餐饮业员工到劳动力暂时紧缺的电商零售平台工作。劳动共享，解决餐饮、电商和员工三方燃眉之急。有人认为“共享员工”实现了将闲置劳动力资源进行跨界共享并调配至具有用工需求缺口的用工企业，也让闲置的员工获得额外收入，必将成为将来的用工趋势。但也有人

认为，“共享员工”协议模糊、责任不清，劳务纠纷、工伤等责任界定难；同时有可能侵犯核心商业秘密，进而会影响企业的长期发展，甚至降低企业核心竞争力等。

(1) 你是赞成还是反对实行“共享员工”制度？请运用矛盾的相关知识进行分析。(6分)

(2) 结合材料，运用《法律与生活》的知识，谈谈如何实现“共享员工”模式的健康发展。(10分)

40. (6分) 阅读材料，完成下列要求。

新年伊始，一部被观众称为“土味扶贫剧”的《山海情》赢得广泛好评，成为2021年的爆款剧。《山海情》深深扎根时代的土壤，从人民的实践中汲取营养。有力地回应了“为时代画像、为时代立传、为时代明德”的创作要求。《山海情》的创作用真心呼唤真情，用饱含深情的笔触，展现了黄土地上的人们对美好生活的向往，展示了脱贫攻坚道路上人民的主体地位，靠着真挚、朴实的情怀打动了观众。《山海情》的主创对艺术规律高度尊重，牢固树立质量观念和精品意识，注重全流程质量管理，踏踏实实地选择了实景、实地拍摄。《山海情》对中国解决贫困的道路和方式充满了表达自信。剧中勤劳的中国人民、热忱质朴的党员干部、跨越山海的心血交融，是典型的中国人物和中国故事，唤起了人们对中华民族的文化认同和集体记忆。

结合材料并运用文化生活的知识，分析《山海情》成为2021年爆款剧的原因。

41. (10分) 阅读材料，完成下列要求。

实现祖国完全统一，是全体中华儿女的共同愿望，是实现中华民族伟大复兴的必然要求。长期以来，我们党为此进行了不懈奋斗，付出了巨大努力。党的十八大以来，中国特色社会主义进入新时代，中华民族比以往任何时候都更有能力、更有信心也更加接近实现祖国完全统一。同时，世界百年未有之大变局加速演进，美国加大“以台制华”，解决台湾问题面临新的战略环境。

在2022年11月14日中美首脑会晤中，习近平总书记明确向拜登指出，台湾问题是中国核心利益的核心，是中美关系政治基础中的基础，是中美关系第一条不可逾越的红线。

运用《当代国际政治与经济》的知识，分析台湾问题为什么是中美关系第一条不可逾越的红线。

42. (10分) 阅读材料，完成下列要求。

在一次狗伤人的案件法庭辩论过程中，刁某虽承认自己的宠物狗咬伤抓伤王某，却提出如下看法和主张：

只要证明自己没有过错的，就不用承担侵权责任；事故发生期间，有证据证明我没有过错；所以我不承担侵权责任。

请结合材料，说明这一推理是否有效，并分析其推理结构。

43. 阅读材料，完成下列要求。(25分)

材料一 贞观十八年(644年)，太宗提出“王者视四海如一家，封城之内，皆朕赤子，朕一一推心置其腹中。”“岂独百姓不欲而必顺其情，但夷狄不欲，亦能从其意耳。”唐玄宗在《命备吐蕃制》中说“朕以虚薄，君临寓县，……无隔于夷夏，柔服四裔”，又说“怀远以德，……中外无隔，夷夏混齐，托声教于殊方，跻含灵于仁寿。”在《安置降蕃诏》中说“开怀纳戎，张袖延狄”。唐代在边疆民族地区设置羁縻州，根据不同地区具体情况，针对性推行政令、法令。边疆民族除可保留本部族风俗习惯之外，有的甚至允许内部保留着政权组织形式及其原有官职等级序列。

——摘编自《资治通鉴》等

材料二 19世纪末，梁启超较早地提出了“中国民族”“中华民族”的概念，指出“中华民族自始本非一族，实由多民族混合而成”。康有为不赞成把满族说成夷狄，且对清胡开拓疆土、巩固边疆的贡献做了肯定，认为“自满、汉及篆、回、藏既同隶一国，并同当为中华人，不得殊异，其满人并赐汉姓，俾合同而化，永泯猜嫌，则团合大群以强中国，莫善于此。”五四运动后，孙中山对三民主义作了新的解释。关于民族主义，他指出：“民族主义有两方面之意义，一则中国民族自求解放；二则中国境内各民族一律平等。”1937年卢沟桥事变后，“中华民族”的自觉意识进一步增强，“中华民族”的称谓得到全国各族人民的认同，对民族问题的探讨由此更加受到重视。

——摘编自周励恒《近代以来民族观是怎样形成的》

材料三 党的十八大以来，党中央高度重视民族工作，深入推进民族团结进步事业，着力打牢中华民族共同体思想基础，大力营造中华民族一家亲的社会氛围，各民族交往交流交融广泛开展，平等团结互助和谐的社会主义民族关系不断巩固和发展，中华民族共同体意识不断铸牢。

——摘自陈立鹏《铸牢中华民族共同体意识要加强五方面工作》

- (1) 根据材料一并结合所学知识，概括指出唐代民族观的突出特点及其影响。(10分)
- (2) 根据材料一、二并结合所学知识，指出近代中国民族观不同于唐代之处并分析其原因。(10分)
- (3) 根据材料三并结合所学知识，简析你对党中央强调铸牢中华民族共同体意识的认识。(5分)

44. 阅读材料，完成下列要求。(12分)

材料 新版高中历史课程标准把时空观念作为核心素养之一，并提出了五点具体要求：“知道特定的史事是与特定的时间和空间相联系的；知道划分历史时间与空间的多种方式，并能够运用这些方式叙述过去；能够按照时间顺序和空间要素，建构历史事件、历史人物、历史现象之间的相互关联；能够在不同的时空框架下对史事作出合理解释；在认识现实社会时，能够将认识的对象置于具体的时空条件下进行考察”。

——朱汉国《历史学科五大核心素养》

依托时空观念这一核心素养具体要求(任意一点或整体)，围绕20世纪二三十年代相关历史事件，自拟

一个论题，并运用具体史实予以论证。（要求：论题明确，论证充分，史实准确，表述清晰。）

45. 阅读材料，完成下列要求。（15分）

材料 二战后，欧洲在整个亚洲的影响衰落。“1949年中国的震动”给美国造成“第二次红色恐怖”，到艾森豪威尔就任美国总统的前后，美国还没有走出从“震动”到“恐怖”的怪圈。1954年，美国国务卿杜勒斯把南朝鲜、台湾和印度划为“抵御中国共产党侵略的”三个重要保护地区，扶植日本成为对抗共产主义的战略基地和一“反共经济堡垒”。从1951~1955年，美国通过《美日安全条约》《美菲条约》《美、澳、新条约》《美韩共同防御条约》《东南亚集体防务条约》《美台共同防御条约》，完成了亚太地区的军事体系部署。

——据王绳祖《国际关系史》

- (1) 根据材料并结合所学知识，指出美国完成亚太地区军事体系部署的背景。（6分）
- (2) 根据材料并结合所学知识，简析美国完成亚太地区军事体系部署的影响。（9分）



## 关于我们

自主选拔在线是致力于提供新高考生涯规划、强基计划、综合评价、三位一体、学科竞赛等政策资讯的升学服务平台。总部坐落于北京，旗下拥有网站（[网址：www.zizzs.com](http://www.zizzs.com)）和微信公众平台等媒体矩阵，用户群体涵盖全国90%以上的重点中学师生及家长，在全国新高考、自主选拔领域首屈一指。

如需第一时间获取相关资讯及备考指南，请关注**自主选拔在线**官方微信号：**zizzsw**。



微信搜一搜

自主选拔在线