

武功县 2023 届高三第二次质量检测 文综试题

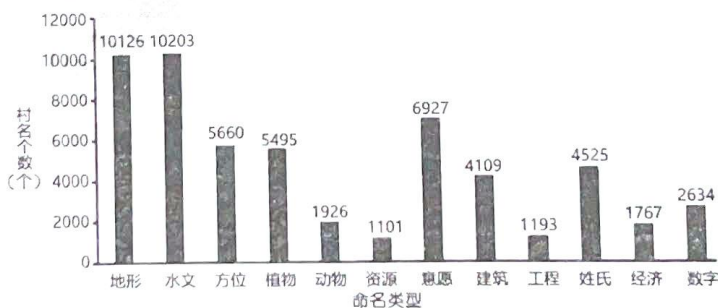
注意事项:

1. 本试题共 14 页, 满分 300 分, 时间 150 分钟。
2. 答卷前, 务必将答题卡上密封线内的各项目填写清楚。
3. 回答选择题时, 选出每小题答案后, 用 2B 铅笔把答题卡上对应题目的答案标号涂黑。如需改动, 用橡皮擦干净后, 再选涂其它答案标号。回答非选择题时, 将答案写在答题卡上。写在本试卷上无效。
4. 考试结束后, 监考员将答题卡按顺序收回, 装袋整理; 试题不回收。

第 I 卷(选择题 共 140 分)

一、选择题: 本大题共 35 小题, 每小题 4 分, 共 140 分。在每小题给出的四个选项中, 只有一项是符合题目要求的。

地名是人们赋予某一特定空间位置上自然或人文地理实体的专有名称, 据湖南省行政村名的特征, 湖南省地名分为 12 类, 其中带有“河、湖、峰、岭、坳、塘、井、坪、堰”等字的地名较多。因多种因素, 地名逐渐消失, 成为地名文化遗产上的一大遗憾。下图示意某年湖南省行政村名类型及个数统计。据此完成 1~3 题



1. 图中行政村名类型及个数统计反映出湖南省最突出的自然地理特征是
 - A. 古迹众多, 建筑多样
 - B. 水热充足, 经济发展水平高
 - C. 地形复杂, 水网密布
 - D. 平原辽阔, 动植物资源丰富
2. 湖南省地名中与“塘”、“坪”、“堰”相关的地理要素依次是
 - A. 地形、意愿、工程
 - B. 水文、资源、意愿
 - C. 方位、水文、建筑
 - D. 水文、地形、工程
3. 地名逐渐消失的主要原因最有可能是
 - ①城市化
 - ②资源开发
 - ③城乡规划
 - ④人口老龄化

武功县 2023 届高三文综第二次质量检测试题-1-(共 14 页)

学 校

班 级

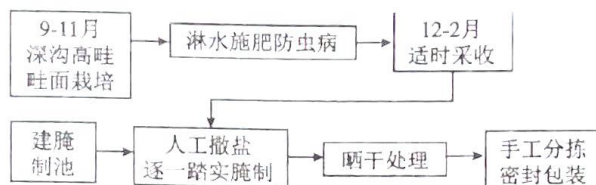
姓 名

考 号

座位号

- A. ①③ B. ①④ C. ②③ D. ②④

梅菜是岭南三大名菜之一,民间用新鲜的梅菜经晾晒、精选、配盐等多道工序制成,历来被作为宫廷食品。地处珠三角的广东省惠州市横沥镇是中国梅菜之乡,距今有400多年历史。近年来,当地梅菜产业蓬勃发展,产品辐射全国并远销北美和东南亚。下图示意横沥镇梅菜种植与加工制作流程。据此完成4~6题。



4. 据资料推测梅菜的生长习性是
A. 喜阴湿 B. 耐盐碱 C. 喜湿热 D. 喜温凉
5. “深沟高畦,畦面栽培”的方式种植梅菜主要利于
A. 预防虫害 B. 排水防涝 C. 增大温差 D. 获得光照
6. 近年来,横沥镇梅菜产业蓬勃发展主要得益于
①加工制作标准化、效率高 ②冷藏保鲜技术的广泛使用
③消费市场的拓展 ④保留传统的生产制作方式
A. ①② B. ②④ C. ②③ D. ③④

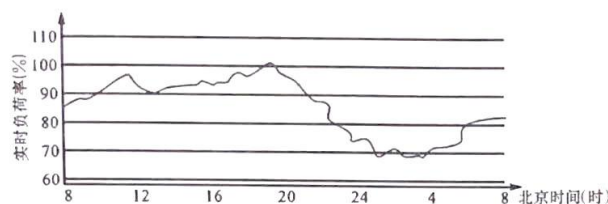
闪光是一种自然现象,尤其在亚洲、欧洲、非洲的炎热地区十分常见。雷电通常会伴随闪光,但在寒冷地区却是一种比较罕见的现象。据美国国家地理杂志报道,2019年8月第二个周末,在距离北极点约500公里的冰冷区域内,却发生了48次单独闪光。右图为北极闪光景观图。据此完成7~9题。



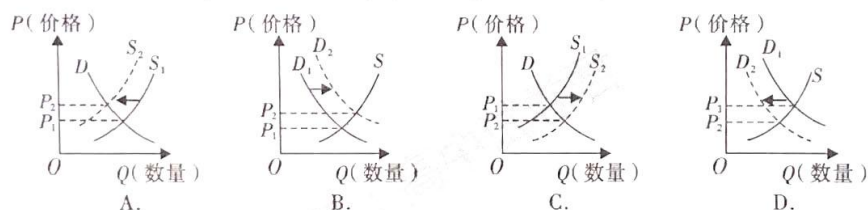
7. 正常年份的夏季,北极闪光极为罕见的原因最有可能是
A. 气温偏低,空气干燥 B. 植被增加,空气对流减弱
C. 风力强劲,云层稀薄 D. 冰川消融,陆地吸热增温
8. 2019年8月北极闪光频现的原因最有可能是
A. 冰川大量融化 B. 气温明显升高 C. 云雨天气增多 D. 太阳辐射增强
9. 在北极闪光频现时,可能出现的地理现象是
A. 两极地区极光现象增加 B. 玉龙雪山雪线下降
C. 格陵兰岛冰盖融化 D. 北极熊生存空间扩大

现代经济发展和复杂电网催生了电能储备需求,抽水蓄能是其中一种重要方式。抽水蓄能电站有上、下两个水库,将下库的水输到上库时就是抽水蓄能,消耗电能转换为水的势能,待需要时再转为电能。当发电站发电机组处于稳定负荷范围内时,电力供需接近平衡。下图为我国某发电站实时负荷率变化曲线图。据此完成10~11题。

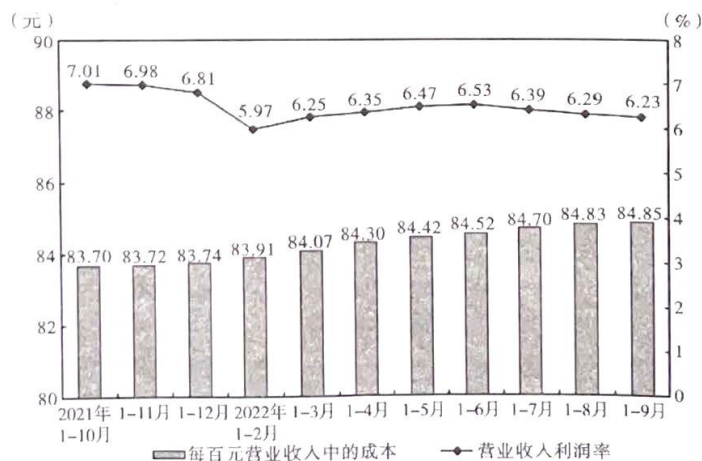
武功县2023届高三(文综)第二次质量检测试题-2-(共14页)



10. 修建抽水蓄能电站的目的是
 A. 稳定电能供应 B. 弥补发电量的不足 C. 促进节能减排 D. 改善大气环境
11. 若该发电站发电机组的稳定负荷在 80% ~ 90% 范围之内,该区域的抽水蓄能电站
 A. 8 时 ~ 10 时,上库的水流向下库 B. 10 时 ~ 20 时,下库的水流向上库
 C. 22 时 ~ 6 时,下库的水流向上库 D. 20 时 ~ 22 时,上库的水流向下库
12. 2022 年 9 月 1 日起,我国给予多哥等 16 国 98% 税目产品零关税待遇,这些国家的水产肉类可享零关税待遇(图中 D、S 分别表示我国国内市场多哥等国水产品的需求和供给)。如果不考虑其他因素,这一政策可能带来的影响是



13. 下图是 2021 ~ 2022 年全国规模以上工业各月累计利润率和每百元营业收入中的成本变化走势。(注:中国规模以上工业企业是指年主营业务收入在 2000 万元以上的工业企业)



针对上图反映的问题,规模以上工业企业的应对办法是

- ①增加固定资产投资,扩大工业产品生产规模
 ②以需定产缩短生产周期,降低企业生产成本

武功县 2023 届高三文综第二次质量检测试题-3-(共 14 页)

- ③创新经营管理模式,提高生产要素的利用率
④降低制度性交易成本,提高营业收入利润率
- A. ②③ B. ①④ C. ①③ D. ②④
14. 2022年9月9日,国务院办公厅转发的《关于推进国家公园建设若干财政政策意见》提出,到2025年,充分发挥财政的支持引导作用,不断丰富完善财政政策工具,创新财政资金运行机制和财政保障制度,建立以国家公园为主体的自然保护地体系。这是基于
- ①充分发挥市场作用以实现生态产品的价值 ②扩张性财政政策促进国民经济平稳运行
③国家财政具有促进资源合理配置的作用 ④财政支持国家生态安全、建设生态文明
- A. ①② B. ①③ C. ②④ D. ③④
15. 2022年9月,农业农村部印发《关于实施农产品“三品一标”四大行动的通知》,部署实施优质农产品生产基地建设行动、优质农产品品质提升行动、优质农产品消费促进行动和达标合格农产品亮证行动。实施“三品一标”提升行动
- ①有利于提高农产品质量品质,拓展增值增效空间
②有利于解决农业“卡脖子”问题,培育新的经济形态
③可以提高农业品牌知名度,优化农产品供给结构
④助推农村产业转型升级,确保农业农村的优先发展
- A. ①② B. ①③ C. ③④ D. ②④
16. 为切实推进乡村振兴,某村利用“党建+积分”机制,将环境卫生、乡风文明、遵纪守法、伦理道德、参与社会治理情况等纳入积分管理,每月对农户进行评分考核,考核中高分的纳入红榜进行奖励,低分的纳入黑榜进行监管,连续三次进入黑榜的纳入议事日程进行评议,并限时进行整改。上述机制
- ①能够激发群众参与基层治理的积极性、主动性
②丰富了基层群众性自治组织的类型和职能
③有利于提高基层社会治理中的行政效能
④有助于发挥自治、法治、德治的协同效应
- A. ①② B. ②③ C. ①④ D. ③④
17. 党的二十大报告强调:“巩固和发展最广泛的爱国统一战线,完善大统战工作格局,坚持大团结大联合,动员全体中华儿女围绕实现中华民族伟大复兴中国梦一起来想、一起来干。”巩固和发展最广泛的爱国统一战线,需要
- ①加强党对民主党派的全面领导,各党凝心聚力推动民族复兴
②政协委员履行参政议政的职责,发挥好协商民主的独特优势
③不断铸牢中华民族共同体意识,加强民族团结促进共同繁荣
④用宗教浸润中华优秀传统文化,引导宗教与社会主义社会相适应
- A. ①④ B. ①③ C. ②④ D. ②③
18. 2022年8月4日召开的中国—东盟外长会议指出,中国和东盟各领域合作取得可喜成果。

武功县 2023 届高三文综第二次质量检测试题-4-(共 14 页)

下
装
订
线

上

装

订

线

双方携手应对挑战,守护了“和平绿洲”;加强应急管理合作,共筑了“安全之盾”;推进互联互通,打造了“发展高地”;开展可持续发展合作年活动,汇聚了“绿色动能”;调增直航航班,夯实了“民意支柱”。可见,中国和东盟

- ① 推动共同发展,积极构建中国东盟命运共同体
- ② 坚持求同化异,助力全球发展倡议在东盟落地
- ③ 践行多边主义,为主导全球治理作出亚洲贡献
- ④ 顺应时代潮流,共同维护本地区和平稳定繁荣

A. ①④ B. ③④ C. ①② D. ②③

19. 2022年9月,故宫推出《我们的清明上河图》纪录片,用200小时4K超高清画面记录了30余位亲历者和见证者,讲述《清明上河图》“临摹”“修复”“数字化”“学术研究”的故事,在网络平台播出之后引起强烈反响,感人至深。由此可知

- ① 现代观众的审美需求是检验文化创新的根本标准
- ② 现代传媒超越时空的传播能够丰富传统文化的内涵
- ③ 创新性发展才能守护好中华文化的“根”与“魂”
- ④ 优秀文化能够丰富人的精神世界,增强人的精神力量

A. ①② B. ③④ C. ①③ D. ②④

20. 2022年8月14日,北京市文联“到人民中去”文化交流活动走进内蒙古自治区巴林右旗,首都文艺家、两地文联的文艺工作者,发扬和传承“红色文艺轻骑兵”优良传统,与当地群众一道,举办了精彩的惠民演出。当天,还组织了“深入生活、扎根人民”主题采风创作活动,与牧民朋友亲切交流,学习当地的历史文化沿革,感受一代代乌兰牧骑队员迎风雪、冒寒暑,以天为幕、以地为台的红色传承。这给我国文艺工作者的启示是

- ① 要弘扬主旋律,培育和践行社会主义核心价值观
- ② 要融通古今中外各种资源,保障人民群众的基本文化权益
- ③ 人民是文化发展的主体,文化发展要依靠人民
- ④ 要牢牢掌握意识形态工作的领导权

A. ①② B. ②④ C. ①③ D. ③④


21. “梦后楼台高锁,酒醒帘幕低垂。去年春恨却来时,落花人独立,微雨燕双飞。”北宋著名词人晏几道的这首词运用意象的手法点出画面,同时透过画面去传达心情。这首词用相对独立的镜头渲染着词人的感伤落寞,字字景中有情,使读者的情感受到强烈的感染。对此词哲学理解正确的有

- ① “楼台锁”和“帘幕垂”,是词人借现实的场景表达内心的惆怅
- ② “去年春恨”的回想,来源于诗人独特的思维和丰富的想象
- ③ 从燕子双飞,反衬愁人独立,说明词人通过主观想象创造了联系
- ④ 借“落花”“微雨”表达美好事物将逝,体现了意识的自觉选择性

A. ①② B. ③④ C. ①④ D. ②③

武功县 2023 届高三文科第二次质量检测试题-5-(共 14 页)

22. 右图漫画《问题解决了?》警示我们
- ①勇于承认并解决矛盾,不能掩盖矛盾
 - ②要做好战胜困难和挫折的心理准备
 - ③要实事求是,纠正形式主义不良作风
 - ④要重视量变,防止量的积累引起质变



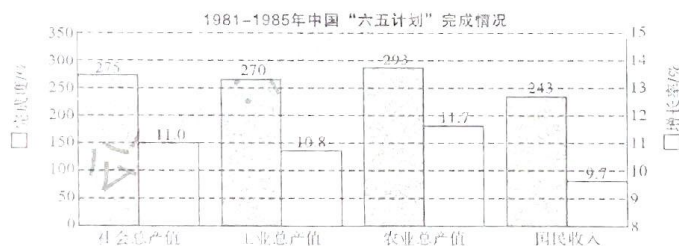
- A. ①③ B. ②③ C. ②④ D. ①④
23. 2022年8月,国务院印发《关于取消和调整一批罚款事项的决定》(以下简称《决定》),取消和调整了公安、交通运输、市场监管领域行政法规和部门规章设定的53个罚款事项。这些调整主要集中在与企业 and 群众生产生活密切、社会关注度较高的领域。《决定》的出台
- ①印证了整体和部分在一定条件下相互转化
 - ②是在正确价值判断基础上作出的正确价值选择
 - ③是基于客观存在的变化可以让谬误变为真理
 - ④可以更好地发挥上层建筑服务经济基础的作用
- A. ③④ B. ①② C. ①③ D. ②④
24. 春秋时期,由于征战频繁,社会上出现了大量的战败贵族和失国贵族。如楚国的钟氏贵族钟仪,在和郑国交战之中被郑国俘虏,后又被郑国交给了晋国,类似现象屡有发生。这一现象
- A. 导致了贵族统治的崩溃
 - B. 加剧了楚国的人才外流
 - C. 冲击了宗法分封的秩序
 - D. 缓和了诸侯国间的矛盾
25. 汉武帝元狩三年,山东发生水患,“乃徙贫民于关以西,及充朔方以南新秦中,七十余万口”;汉武帝元鼎二年,山东发生河灾,“令饥民得流就食江淮间”,派人护送,并调集巴蜀粮食救济。这些举措
- A. 促进了区域经济协调发展
 - B. 发挥了大一统国家的优势
 - C. 表明了赈灾政策日趋完善
 - D. 刺激了汉代农业人口流动
26. 下表是唐朝部分诗歌摘录。这些诗歌

摘录	来源
从官重公慎,立身贵廉明。	陈子昂《座右铭》
勿慕贵与富,勿忧贱与贫。自问道何如,贵贱安足云。	白居易《续座右铭》
历览前贤国与家,成由勤俭破由奢。	李商隐《咏史》

- A. 充满奋发向上精神
 - B. 具有社会教化功能
 - C. 具有兼收并蓄特征
 - D. 蕴含经世致用理念
27. 明初,湖南洞庭湖区棉花、葛、丝麻、蚕桑等作物产量大增,且大多“市卖长(沙)、衡(阳)”,清初,岳阳棉纺织业、湘潭麻纺织业发展成为独立的小手工业作坊。清中叶,“浏阳、湘乡、攸县、茶陵皆出苧布,世称浏阳最佳”。这反映出明清时期,湖南
- A. 民营手工业占主导
 - B. 区域合作不断深化
 - C. 纺织业领先于全国
 - D. 商品经济显著发展

武功县 2023 届高三文综第二次质量检测试题-6-(共 14 页)

28. 1898年,因日语词汇“领土”的输入,国人开始零星地运用这一新概念。自1905年起,该词不仅为大量新式知识分子所运用,而且见诸官方文书。辛亥革命前夕,“领土”更是取代“版图”成为中国最为核心的疆土概念。这反映了
- A. 国人对主权的强烈诉求
B. 西学东渐影响语言结构
C. 日本侵略激起国人抵抗
D. 辛亥革命强化民族意识
29. 1940年1月9日,毛泽东在陕甘宁边区文化协会第一次代表大会上发表演讲,共讲了中国向何处去、我们要建立一个新中国、中国的历史特点、中国革命是世界革命的一部分、驳资产阶级专政、驳顽固派等十五个问题。据此可知,该演讲的核心主题是
- A. 争取抗战胜利的途径
B. 世界革命对中国的影响
C. 批判资产阶级的专政
D. 中国革命的特点和规律
30. 国民政府行政院疏运会议通过疏散要点十条,明确规定疏运重要公物以档案为主,到达地点为福州、汕头、广州三地。外交部也正式照会各驻华使节,长江以北前线南移,南京已接近战区,为使团安全计,请准备迁至广州驻节。据此判断,当时的军事形势是
- A. 北伐战争迅速取胜
B. 红军实现战略转移
C. 日军准备进攻南京
D. 渡江战役即将进行
31. 下图所示现象表明当时中国



- A. 国民经济协调发展
B. 计划经济占据主导
C. 经济发展充满活力
D. 市场发挥决定作用
32. “如被告因疾病或年老不能出庭,原告应提供交通工具,但除自愿外,不必用有篷盖的车辆。……如诉讼当事人为富有者,则担保其按时出庭的保证人,应为具有同等财力的人;如为贫民,则任何人都可充任。”材料可用来论证《十二铜表法》
- A. 考虑周全,力求审判公正
B. 宽容忍让,代表弱势群体
C. 条文明晰,限制贵族专横
D. 司法不公,利于富人胜诉
33. 1543年,比利时人维萨里出版了《人体之构造》,著作以人体解剖与活体观察为主,同时配制了精美的人体图像以描述正常的身体构造。著作刚面世,便受到医学生们的欢迎。这一著作
- A. 高扬理性主义的光辉
B. 体现了近代科学精神
C. 沉重打击天主教势力
D. 深受印象派风格影响
34. 19世纪晚期,某国规定工厂视察员可以在任何时间视察工厂,检查工厂法的执行情况,并

武动其 2023 届高三·文理第一次质量检测试题·7-(共 14 页)

制定相应的规定,他们的工资由中央政府直接拨给。下表为1878-1901年某国工厂视察员数量变化表,这一变化表明

年份	数量(人)	年份	数量(人)
1878	55	1895	96
1891	56	1898	112
1892	65	1899	128
1893	86	1900	138
1894	89	1901	139

- A. 工厂违规行为剧增
B. 工业经济持续发展
C. 劳资矛盾不断激化
D. 政府职能得到加强
35. 1971年,美国与英、法、苏在柏林签订了《西柏林协定》,保证今后不在西柏林地区使用武力威胁;1973年,美国与苏联讨论了包括欧洲安全、经济合作、人道主义合作等问题,推动了欧安会的顺利召开。这反映出20世纪70年代
- A. 美国霸权主义的破产
B. 世界多极化趋势的加强
C. 美苏关系的有限缓和
D. 合作共赢成为各国共识

第II卷(非选择题 共160分)

二、非选择题:共160分。第36~42题为必考题,每个试题考生都必须作答。第43~47题为选考题,考生根据要求作答。

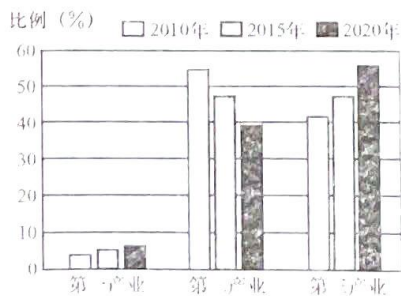
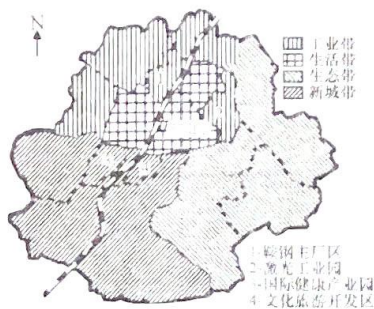
(一)必考题:共135分。

36. (24分)阅读图文材料,完成下列要求。

材料一:辽宁省鞍山市有丰富的铁矿、菱铁矿、滑石等自然资源,邻近本溪、抚顺、阜新等大型煤田。鞍山市因钢而兴,有“共和国钢都”的美誉,是重要的铁路用钢、无缝钢管、特殊钢生产基地,还是我国最大的钒、钛原料生产基地。鞍山市钢铁工业的发展为新中国经济建设做出了卓越贡献。

材料二:鞍山市拥有世界第一玉佛、亚洲著名温泉和国家名胜千山,是中国优秀旅游城市,还是国家级森林城市、园林城市、卫生城市和文明城市,也是中国综合实力30强城市。目前,鞍山市已向100多个国家和地区建立了贸易往来。2017年鞍山市入围中国特色魅力城市200强。

材料三:下面左图为“鞍山市一核四带多园区城市空间布局示意图”,右图为“鞍山市产业结构变化图”。



武功县2025届高三二文综第二次质量检测试题-8-(共14页)

下

装

订

线

上 下

学校

班级

姓名

考号

座位号

装 装

线 线

- (1)分析鞍山市成为我国钢都的主要区位优势。(6分)
- (2)说明鞍山市入围特色魅力城市的主要原因。(6分)
- (3)试对鞍山市工业带和生活带的区位关系进行简要评价。(6分)
- (4)简述鞍山市新城带的空间拓展特点及其对城市可持续发展的意义。(6分)

37. (22分) 阅读图文材料,完成下列要求。

材料一:天兴洲位于湖北省武汉市长江段江心,距今有八百多年历史,年内枯季洲头淤积洲尾冲刷,1980年以来,特别是三峡水库建成后,天兴洲发生明显变化。图1为天兴洲洲体变化图。

材料二:受拉尼娜等异常天气现象影响,2022年7月湖北省平均累计降水量为152.8毫米,较常年同期减少2.5成。8月,长江流域水位出现历史新低。

材料三:磁线理度,反映沉积颗粒呈线状排列程度,受控于搬运介质的动力强度。流体流动强,颗粒排列有序度高,磁线理度值大;反之,磁线理度值小。图2为天兴洲采样点剖面磁线理度值示意图。



图1

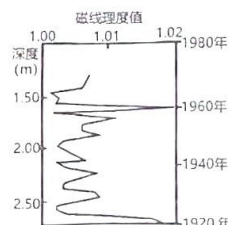
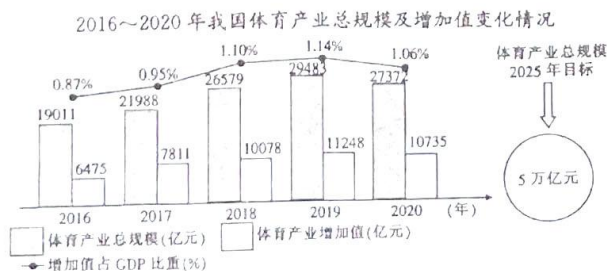


图2

- (1)描述天兴洲洲头空间变化特征,并分析其成因。(8分)
- (2)结合图2,推测长江中上游地区1920~1960年降水强度的变化特征,并说明理由。(6分)
- (3)从天气系统角度分析此次长江流域水位较低的原因。(8分)

38. (14分) 阅读材料,完成下列要求。

材料一:



武功县2023届高三文科第二次质量检测试题-9-(共14页)

注:①2020年年初,新冠肺炎疫情暴发。②2021年,我国体育产业增加值占GDP的比重为1.06%,而以美国和法国为代表的体育强国,体育产业增加值占GDP比重在2.5%以上,全球平均水平达到2.1%。

材料二:《巴蜀文化旅游走廊建设规划》提出大力发展山地、洞穴、徒步、漂流、骑行、潜水、滑雪、垂钓、高空、水上等体验性体育旅游项目。海南万宁大力发展体育旅游产业,打造“活力海岸”,形成了体育赛事、体育培训、场地设施、考级考证、大众休闲、器材装备销售等多元化产业集聚的产业生态系统。山地自行车越野挑战赛、帐篷徒步音乐节……这些极具特色的体育旅游项目吸引着游客前去打卡。“露营热”持续高涨,帐篷、烧烤架、天幕、露营车等户外装备销量激增。随着“双减”政策落地,原本被边缘化的体育类培训受到越来越多家庭的青睐。2022年7月,国家体育总局印发《关于体育助力稳经济促消费激活活力的工作方案》,提出要不断丰富体育产品和服务。

(1)解读材料一包含的经济信息。(4分)

(2)结合材料二,运用经济生活知识,说明我国丰富体育产品和服务对消费和产业发展的积极影响。(10分)

39.(12分)阅读材料,完成下列要求。

近年来,电信网络诈骗犯罪活动形势严峻,严重危害人民群众幸福感、安全感。从实践情况看,反电信网络诈骗工作综合治理、源头治理方面的制度措施不够充分,需要进一步建立完善各方面责任制度,形成协同打击治理合力。习近平总书记高度重视打击治理电信网络诈骗犯罪工作,多次作出重要指示批示,就反诈工作的指导思想、基本原则以及加强法律制度建设等提出明确要求。

2021年4月,反电信网络诈骗法由全国人大常委会法工委着手启动。为了让立法能“治住”花样翻新的电诈犯罪,在立法过程中,法工委深入企业、地方调研。通过召开专题座谈会、书面征求意见等方式,听取金融、互联网企业及相关监管部门、司法部门等意见建议。通过公示方式,就相关法律草案向社会公众征求意见。2021年10月至2022年8月,反电信网络诈骗法草案先后三次提请全国人大常委会进行审议。2022年9月2日,第十三届全国人大常委会第三十六次会议审议通过反电信网络诈骗法,自2022年12月1日起施行。

全民反诈,人人有责。反电信网络诈骗法强调“综合治理”,就要动员全社会力量,广泛开展全民反诈宣传教育,鼓励群众举报的奖励制度,构建电信网络诈骗群防群治体系。强化政府和部门反诈职责,规定各部门、各地之间协同配合、快速联动。规定各部门工作人员在反电信网络诈骗工作中滥用职权、玩忽职守的法律责任。

结合材料,运用政治生活知识,分析我国应如何开展反电信网络诈骗工作综合治理活动。

40.(26分)阅读材料,完成下列要求

党的二十大号召,从现在起,中国共产党的中心任务就是团结带领全国各族人民全面建成社会主义

武功县2023届高三(文科)第二次质量检测试题-10-(共14页)

现代化强国、实现第二个百年奋斗目标,以中国式现代化全面推进中华民族伟大复兴。与西方现代化不同的是,中国式现代化坚持以文明交流超越文明隔阂,以文明互鉴超越文明冲突,以文明共存超越文明优越,探索创立具有中国特色的新型人类文明新形态。我们党坚持把马克思主义基本原理同中国具体实际相结合、同中华优秀传统文化相结合,用马克思主义真理的力量激活了中华民族历经几千年创造的伟大文明,使中华文明再次迸发出强大精神力量。坚持弘扬平等、互鉴、对话、包容的文明观,尊重文明多样性,推动不同文明交流对话、和平共处、和谐共生,努力让文明交流互鉴成为增进各国人民友谊的桥梁、推动人类社会进步的动力、维护世界和平的纽带。中国式现代化打破了西方“文明冲突论”对人类文明的桎梏,推动人类创造的各种文明交相辉映、相互尊重、和谐共处。

“中国式现代化”是习近平新时代中国特色社会主义思想的一个原创性科学概念,是贯穿党的二十大报告全文的一个关键词。同时党的二十大报告指出,当代中国青年生逢其时,施展才干的舞台无比广阔,实现梦想的前景无比光明。青年学生是未来实现中华民族伟大复兴中国梦的主力军,深刻领会二十大精神,明确使命担当意义重大。

(1)比较中西方现代化发展道路并运用矛盾的基本属性原理,说明坚持中国式现代化发展道路的合理性。(12分)

(2)中国式现代化创造了人类文明新形态。结合材料并运用文化生活知识加以说明。(10分)

(3)新时代的十四青年学生如何在中国式现代化道路上实现人生价值?请你提两点合理建议。(4分)

41. (25分) 阅读材料,完成下列要求

材料一:19世纪末开始,美国总统积极利用媒体寻求民众支持,不断扩大自己的权力。麦金莱是美国历史上第一位与记者保持频繁接触的总统,他让秘书每天与记者见面,提前向记者提供总统正式发言稿、声明、密文等材料,在照顾记者职业需求的同时,确保白宫对信息流的掌控。这些做法逐渐成为总统政治传播的惯例。1913年,威尔逊总统定期召开对所有正式记者开放的总统新闻发布会,此后白宫记者可以通过这个平台合理合法地代表公众直接向总统质询。经过两次世界大战的洗礼,多数西方国家领导人将新闻发布纳入重要的国务活动,成为国家政治议程中不可或缺的常态化机制。20年代随着商业广播发展,广播逐渐被视为一种有力的大众沟通工具。各国领导人也尝试利用照片和电影等媒体帮助自己和政府塑造更加立体的公众形象。

——摘编自引自《美国总统政治传播体系的打造及其演变》

材料二:新中国成立后,面对中西意识形态对立及中外舆论博弈等复杂环境,我国领导人新闻发布机制的探索非常艰难,大体可划分为四个阶段。

（来源:2023届高三《文综》第一次质量检测试题 11-6 共14页）

时间	新中国的国家领导人新闻发布机制
短暂关闭 1949-1954 年	允许极少数苏联及东欧国家记者采访,对西方记者“暂不开放”。新华社、《人民日报》将国家领导人的重大决策及讲话精神作为重点内容报道。
审慎试探 1954-1977 年	在外交出访活动中举办记者招待会,邀请西方记者观看《梁祝》等中国影片。接受国外记者专题采访,利用与国外记者的良好私人关系发布重大新闻。
国内外兼顾 1978-1992 年	在外交活动中与外国领导人联合举办新闻发布会。开启党的领导人对内新闻发布机制,创建“两会”闭幕日的总理记者招待会,实行剪辑录播的形式,参与记者须提前递交纸条提问。
持续常态 1993-2019 年	形成出国访问新闻发布“三部曲”:访问目的国主流媒体发表署名文章、举办联合记者招待会、接受主流媒体记者专题采访。2000 年国家主席接受专题采访时“不限时间、不限问题”,引发巨大反响。国内新闻发布重点完善“总理新闻发布会”品牌,参与记者来源多样化,实行电视现场直播及互联网直播形式。

——摘编自吴锋《新中国 70 年国家领导人新闻发布:机制演变、基本经验、完善方略》

- (1) 根据材料一并结合所学知识,简析影响 20 世纪西方新闻发布机制发展的因素。(10 分)
- (2) 根据材料二并结合所学知识,概括新中国国家领导人新闻发布机制的演变趋势及其意义。(15 分)

42. (12 分) 阅读材料,完成下列要求。

材料:

近代以来我国工业空间格局的演变



——据王军等《千年未有之变局:我国工业空间格局演化的脉络特征与启示》
武功县 2023 届高三二文综第二次质量检测试题-12-(共 14 页)

材料揭示了近现代中国经济、政治发展的若干特征,根据材料并结合所学知识,就材料整体或其中任意一点概括指出一个发展特征,并予以说明。(要求:观点明确,史论结合,逻辑严密。)

(二) 选考题:共 25 分。请考生从 2 道地理题、3 道历史题中每科任选一题作答。如果多做,则每科按所做的第一题计分。

43. (10 分)【地理——选修 3:旅游地理】

饶州古镇,位于江西省上饶市鄱阳县,是由中国文旅产业运营 TOP10 的上海翼天文旅集团匠心打造的新一代鄱阳综合休闲文化旅游圣地,古镇占地面积 245 亩,设计总建筑面积近 4 万平方米。以赣鄱文化为精髓,复原历史时期饶州街坊风貌,结合鄱阳历史复制明清街巷式城市格局,将打造成为鄱阳乃至周边业态最全面,产业链最完整的综合休闲文化旅游圣地。

请为饶州古镇设计可开发的特色旅游项目,并为其未来发展献计献策。

44. (10 分)【地理——选修 6:环境保护】

据生态环境部发布的《2020 中国生态环境状况公报》,我国已发现 660 多种外来入侵物种,其中,71 种对自然生态系统已造成或具有潜在威胁,并被列入《中国外来入侵物种名单》。自 2003 年以来,环境保护部和中国科学院陆续发布了 4 批《中国外来入侵物种名单》,其中植物有 40 种。

归纳外来入侵物种的共同特点并说明外来入侵物种给我国生态环境带来的危害。

45. (15 分)【历史——选修 1:历史上重大改革回眸】

材料:1896 年,湖南巡抚陈宝箴批准了机器制造公司负责人王先谦等创办学堂的计划,并将学堂命名为“时务学堂”。熊希龄接手时务学堂的管理责任后,邀谭嗣同、黄遵宪等人参与其事,黄遵宪即力荐梁启超担任中文总教习。梁启超到长沙之后,正式公布《湖南时务学堂学约》十章,以此作为学堂办学原则。这个学约,强调学生在深通儒家六经的同时,实际上更多地强调了向西方学习。梁启超刚到长沙时,受到湖南各界的一致欢迎,然而没过多久,他却与湖南的旧势力发生了极为激烈的冲突。1898 年 3 月,梁启超因故离开长沙,不久,熊希龄去职,时务学堂在维新运动早期的使命结束。湖南时务学堂的开办,极大地改变了湖南的社会风气,湘中志士于是靡然发奋,湖南很快成为全国瞩目的中心。

——摘编自张海鹏主编《中国近代通史》

(1) 根据材料并结合所学知识,简析湖南创办时务学堂的原因。(6 分)

(2) 根据材料并结合所学知识,指出湖南时务学堂对近代湖南的贡献。(9 分)

武功县 2023 届高三文综第二次质量检测试题-13-(共 14 页)

46. (15分)【历史——选修3:20世纪的战争与和平】

材料:上世纪八九十年代,原南斯拉夫联邦一分为五,南斯拉夫联盟共和国是其中之一,简称“南联盟”。由于利益分割的现实矛盾以及原本存在的民族纠纷和宗教冲突,1997年以后,科索沃地区不断发生旨在分裂的武装冲突事件,南联盟坚称对科索沃地区拥有主权,采取强硬镇压措施。基于巴尔干半岛重要战略地位的考虑和图谋借机排除被其视为异己的南联盟米洛舍维奇政权的需要,1998年底以美国为主导的北约开始介入,进而发动科索沃战争,迫使南联盟军队撤出科索沃,1999年6月10日战争结束。战后,俄罗斯彻底被挤出了在东欧的原有势力圈。继科索沃战争后,北约将武装干涉他国内政、先发制人提升至战略层面,不断突破联合国安全底线,挑起阿富汗战争、伊拉克战争、利比亚战争,进一步沦为进攻性军事集团,沦为服务于西方国家政治经济利益的工具。

——摘编自王则静《北约为何成为世界动荡之源》等

- (1)根据材料并结合所学知识,概括科索沃战争爆发的原因。(9分)
- (2)根据材料并结合所学知识,分析苏联解体后北约在国际政治局势中所起的作用。(6分)

47. (15分)【历史——选修4:中外历史人物评说】

材料:张载(1020~1077年),字子厚,号横渠,北宋思想家,世称“横渠先生”。张载创立的“关学”,是理学的一个重要学派,其思想具有独创性。在宇宙观上,张载提出“太虚即气”,认为宇宙并非空、无,而是以“太虚”形式存在的实体,蕴含着丰富的秩序;在发展观上,张载提出“一物两体”学说,认为事物存在矛盾对立的双方,即“两”,但事物又不能因此而绝对分割开来,即“一”。张载还引申和发挥了孟子的养浩然之气的理论,主张存心用敬、集义修道。王夫之认为“张子之学,上承孔、孟之志,下救秦、汉之失”。“为天地立心,为生民立命,为往圣继绝学,为万世开太平”是张载的名言,被哲学家冯友兰称为“横渠四句”。“横渠四句”凝聚了张载的学术追求和社会使命感。

——摘编自姜国柱《张载思想的基本内容和主要特征》

- (1)根据材料并结合所学知识,概括张载的思想贡献。(6分)
- (2)根据材料并结合所学知识,谈谈对张载“横渠四句”的认识。(9分)

关于我们

自主选拔在线是致力于提供新高考生涯规划、强基计划、综合评价、三位一体、学科竞赛等政策资讯的升学服务平台。总部坐落于北京，旗下拥有网站（[网址：www.zizzs.com](http://www.zizzs.com)）和微信公众平台等媒体矩阵，用户群体涵盖全国 90% 以上的重点中学师生及家长，在全国新高考、自主选拔领域首屈一指。

如需第一时间获取相关资讯及备考指南，请关注**自主选拔在线**官方微信信号：**zizzsw**。



自主选拔在线

