

龙岩市 2023 年高 毕业班三月教学质量检测

历史 试题

(考试时间: 75 分钟 满分: 100 分)

注: 请将试题的全部答案 写在答 卡上。

第 I 卷 (选择题, 共 48 分)

一、选择题: 本题共 16 小题, 每小题 3 分, 共 48 分。在每个小题给出的四个选项中, 只有一项是符合题目要求的。

- 先秦时期, 诸子百家纷纷提出各自的“圣人”观念, 尊称本派研习典籍为“经”, 并对其宗师多加推崇, 推动了圣人崇拜思潮的发生。诸子百家意在
 - 践行仁政理念
 - 完善理论体系
 - 重建社会秩序
 - 推动文化变革
- 西汉初年, 汉惠帝曾诏令女子到十五岁不出嫁者就要缴纳六百钱的税额。对于妇女的再嫁法律也予以保护, “夫死无男, 有改嫁之道”, “夫死未葬, 就嫁之妇, 亦不干法规”。这表明当时
 - 婚姻观念自由开放
 - 国家加强对基层社会控制
 - 农民田赋负担沉重
 - 政府重视社会经济的恢复
- 李白以剑言志使其在名家辈出的唐代诗坛独树一帜, 裴旻将陷阵杀敌之技与“舞”结合创造了气势恢宏的剑舞, 张旭把剑意寄寓在笔墨之中形成了变幻莫测的狂草, 被唐文宗御封为“三绝”。由此可见, 唐代
 - 尚武崇侠风气浓厚
 - 实行兼收并蓄的文化政策
 - 市民生活丰富多彩
 - 具有豪迈进取的文化气质
- 在唐代, 政府对妇女的封赠不限从夫、从子, 按就高不就低的原则施行。而宋代则遵循“妇爵从夫”, 妇人的封赠以丈夫的官职为准, 丈夫去世后才根据子孙的官职执行。这一变化
 - 重构了等级秩序
 - 强化了封建纲常伦理
 - 削弱了官员特权
 - 提高了妇女社会地位
- 明代设六科给事中以监察六部, 担任该职位的官员需风采奋发、精神刚正, 还必须是“在京各衙门办事进士及历俸二年以上行人、博士并推官、知县三年考满到部者”。这些规定
 - 有利于增强监察机构的效能
 - 确保了官僚机构的廉洁和效率
 - 有利于强化中央对地方管理
 - 推动了封建君主专制达到顶

高三历史 第 1 页 (共 6 页)

6. 表 1 为 1867 年到 1894 年中国铁、锡、煤、煤油等原料进口量变化情况（单位：海关两）。这反映出，当时中国

表 1

	铁	锡	煤	煤油
1867 年	264503	582146	992649	2211459
1894 年	2467590	2046897	3221343	8005314
增幅	832.92%	251.61%	224.52%	261.99%

- A. 成为资本主义经济附庸
B. 国际贸易逆差程度加深
C. 民族工业得到一定发展
D. 天朝上国观念得以改变
7. 在传统文化范畴内，屈原形象往往被界定为忠君的“忠臣”。到 20 世纪初，屈原作为文豪、诗人、文学家的“伟人”身份被重建起来。导致这一转变的主要原因是
- A. 君主专制制度的废除
B. 民主思想的传播
C. 全盘西化思潮的影响
D. 民族危机的加深
8. 1944 年 12 月 31 日，蒋介石在日记中写道：“（国际上尤其是美国）有非以共党主政则不能抗战之谬见。因之无论军事、外交在华人员，在言论宣传上与物质行动上，皆一致协助共匪，以推倒我国民政府为其唯一目的。”据此可以推知，当时
- A. 国民党已失去美国支持
B. 美国认同中共的政治主张
C. 国共合作抗战基础破裂
D. 敌后战场成为抗战主战场
9. 1950 年 10 月，中央人民政府政务院颁布法令，规定“解放前农民所欠农民的债务及其他一般借贷关系，均继续有效”，从而改变了解放前“废除一切乡村中在土地制度改革以前的债务”的政策。这一调整
- A. 满足了农民的土地要求
B. 适应了农村经济发展的需要
C. 保留了剥削制度的残余
D. 实现了党的工作重心的转移
10. 表 2 为改革开放后我国制定的若干法律法规。这些法律法规的制定

表 2

时间	法律文件
1981 年 11 月	《中华人民共和国合同法》《中华人民共和国企业所得税法》
1986 年 1 月	《中华人民共和国城乡个体工商户所得税暂行条例》
1993 年 12 月	《公司法》《会计法》
1998 年 12 月	《证券法》
2005 年 10 月	修改《公司法》《证券法》

- A. 旨在建立社会主义市场经济体制
B. 表明我国立法程序日益规范
C. 形成了中国特色社会主义法治体系
D. 适应了经济体制改革的需要
11. 柏拉图在其《理想国》中提出了一套普通教育课程，除了体育和音乐这两门初等课程之外，还必须学习算术、几何、天文学和谐音学等。柏拉图这一设想旨在
- A. 扩大雅典政权统治基础
B. 培育城邦治理合格公民
C. 推动古希腊哲学的发展
D. 创立世界最先进的教育

高三历史 第 2 页（共 6 页）

12. 马克思说：“租地农场主成了这种农业工人的实际指挥官，成了他们的剩余劳动的实际剥削者，而土地所有者现在只和这种资本主义租地农场主发生直接关系，而且是单纯的货币关系和契约关系。”在马克思看来，中世纪农奴获得人身自由的主要条件是
- A. 垦殖运动兴起
B. 新兴城市产生
C. 价格革命发生
D. 土地集中经营
13. 18世纪中期后，德意志地区掀起了对本民族文化的研究热潮。思想家赫尔德热情赞美德语，强调德意志历史的独特性；文学家格林兄弟出版了《德国英雄传说》《论德国古代民歌》等书。这反映出
- A. 文艺复兴运动扩展到德意志广大地区
B. 宗教改革唤起民族意识的觉醒
C. 启蒙运动促进德意志民族国家的形成
D. 德意志统一推动民族文化发展

14. 图1为1870—1914年欧洲四大国的国防费用概算（单位：百万英镑）。由此可见

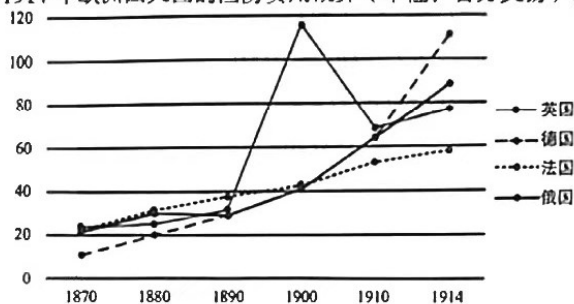


图1

- A. 英德两国的国防费用持续大幅增加
B. 大国竞争严重削弱了欧洲整体实力
C. 新兴国家对老牌帝国霸权发出挑战
D. 欧洲各国的极端民族主义肆意泛滥
15. 表3是二战后美国对殖民地问题的主张和实施的政策。由此可见，美国的这些主张和政策

表3

1950年	美国国务院出台文件：支持所有殖民地自治，促进殖民地地区经济的平衡发展，在殖民地和其他国家之间扩展经济活动。
1953年	杜勒斯认为殖民地地区已成为西方与苏联阵营进行激烈竞争的战场，美国应帮助殖民地获得自治或独立。
1956年	英法与埃及苏伊士运河之争中，美国谴责英法并施加压力。

- A. 服从于自身国家战略需要
B. 致力于维护殖民主权和独立
C. 积极践行非殖民地化原则
D. 旨在帮助殖民地摆脱贫穷落后
16. 20世纪七八十年代，西方国家大幅削减公共开支，积极推进公共部门的私有化，政府逐渐从服务供给的垄断者身份转变为服务购买的最大雇主，形成了以社区为依托的社区照顾政策。这一转变
- A. 使基层社区承担更多的政府功能
B. 扩大了地方社区的行政权力
C. 使居民自我管理的能力不断提高
D. 实现了地方社区管理行政化

第Ⅱ卷（非选择题，共52分）

二、非选择题：本大题共4小题，共52分，第17题8分，第18题8分，第19题24分，第20题12分。

17. 阅读材料，完成下列要求。（8分）

材料一

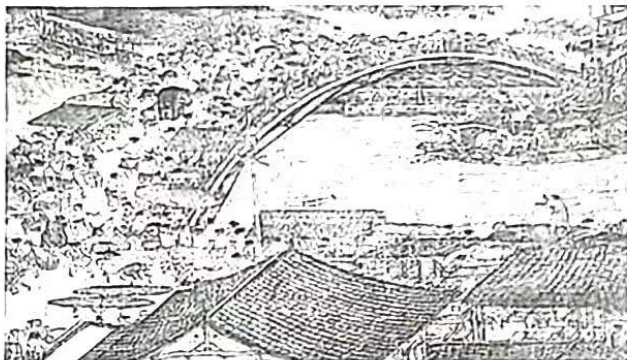


图2 《清明上河图》（张择端绘，局部） 北京故宫博物院藏

材料二

张择端，北宋绘画大师。宋徽宗赵佶时期供职翰林图画院。专工中国画中以界笔、直尺划线的技法，用以表现宫室、楼台、屋宇等题材。其留世代表作《清明上河图》本是进献给宋徽宗的贡品。作品气势恢弘，长528.7厘米、宽24.8厘米。画作由城郊、河桥、街市三个部分组成，把熙攘纷繁的人物、舟车、市肆、桥梁、街道、城郭等安排得错落有致，浑然一体。

——摘编自袁行霈主编《中华文明史》等

(1) 就表现形式而言，指出材料一所示画作的史料类型。（2分）

(2) 根据材料并结合所学知识，你如何看待《清明上河图》的史料价值？（6分）

18. 阅读材料，完成下列要求。（8分）

材料

1901年，澳大利亚联邦成立，实行所谓的“白澳政策”，联邦政府以有色人种危及澳大利亚的国家尊严、国家性质和国家前途，以及影响工人阶级的生活水平为借口，制定《限制移民入境法案》，规定任何移居澳大利亚的人必须通过欧洲语言测验，不及格者禁止入境；任何居住期未满5年的入境者也必须参加这种测验，不及格者将被驱逐出境，从而从法律上确认了白澳政策。1973年开始以多元文化政策来处理民族问题，在承诺对澳大利亚及其根本的社会制度和民主的价值观念承担压倒一切的义务和责任的前提下，认可和尊重所有澳大利亚人表达和享有自己独特文化传统的权利。

——摘编自杨洪贵《试论澳大利亚国民认同的构建》

高三历史 第4页（共6页）

根据材料并结合所学知识，指出 20 世纪以来澳大利亚实施的文化政策并概括特点，指出澳大利亚文化政策调整的借鉴意义。（8 分）

19. 阅读材料，完成下列要求。（24 分）

材料一

明朝政府要求各地定期测绘地图，并形成“三年一报”的地图造送制度，测绘了大量区域性地图。朱元璋为掌握边防重镇的军事部署和防务情况，测绘过不少军事防务地图。郑和七下西洋进行了大量的海图测绘，发展了海上定位技术，绘制了举世闻名的《郑和航海图》。明代中期也绘制了不少海防图、江防图，地图学家们绘制了数量众多、水平较高的地图集。清康熙皇帝在西方传教士的帮助下，用西方的测量技术进行了全国范围的地图测绘，绘成了《皇舆全览图》。

——摘编自马辰燕等《对中国古代地图测绘政治依附性的评价》

材料二

表 4 近代中国绘制地图（部分）

地图	出版、编著者	时间	备注
海国图志	魏源	1842 年	既延续了中国传统的图志体例，又树立了“五大洲、四大洋”的新的世界史地观
钦定大清会典图	清政府	1886-1899 年	采用传统“计里画方”法，绘制了省、府两级地图，并绘制了具有切圆锥投影技术的全国总图
中外舆地全图	邹代钧主编	1903 年	第一次民间公开出版地图集
大清邮政公署备用舆图	清政府	1903 年	绘制了递送快信邮路，以及电报局的分布等，各类要素的表示均已符号化
二十世纪中外大地图	周世棠、孙海环	1906 年	民间刊行四大全国地图集之一
东三省铁路图	商务印书馆	1905 年	时务专题地图
民国重要矿产分布图	申报	1912 年	

——摘编自陈潮《中国近现代地图出版概况》等

(1) 根据材料一并结合所学知识，概括明清地图绘制的特点。（8 分）

(2) 比较材料一、二，指出中国近代地图绘制新发展的表现，并结合所学知识，分析其原因。(12分)

(3) 综合上述材料并结合所学知识，分析地图绘制发展的意义。(4分)

20. 阅读材料，完成下列要求。(12分)

材料

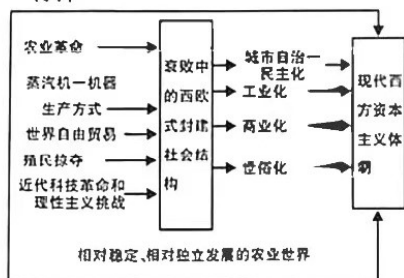


图3 内源性现代化的一般进程

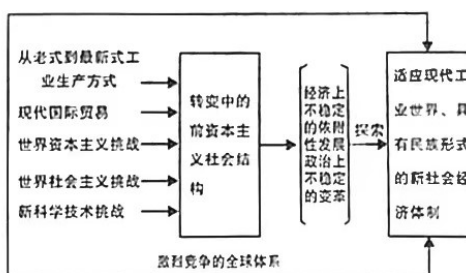


图4 外源性现代化的一般进程

——据罗荣渠《现代化新论》等

综合上述材料，提取两者之间相互关联的历史信息，自拟论题，并运用所学世界近现代史知识予以阐述。(要求：论题明确，信息关联，史实准确，史论结合，逻辑清晰。)

关于我们

自主选拔在线是致力于提供新高考生涯规划、强基计划、综合评价、三位一体、学科竞赛等政策资讯的升学服务平台。总部坐落于北京，旗下拥有网站（[网址: www.zizzs.com](http://www.zizzs.com)）和微信公众平台等媒体矩阵，用户群体涵盖全国90%以上的重点中学师生及家长，在全国新高考、自主选拔领域首屈一指。

如需第一时间获取相关资讯及备考指南，请关注**自主选拔在线**官方微信号：**zizzsw**。



 微信搜一搜

 自主选拔在线