

# 高三文科综合试卷

考生注意：

1. 本试卷分第I卷(选择题)和第II卷(非选择题)两部分,共300分。考试时间150分钟。
2. 请将各题答案填写在答题卡上。
3. 本试卷主要考试内容:高考全部内容。

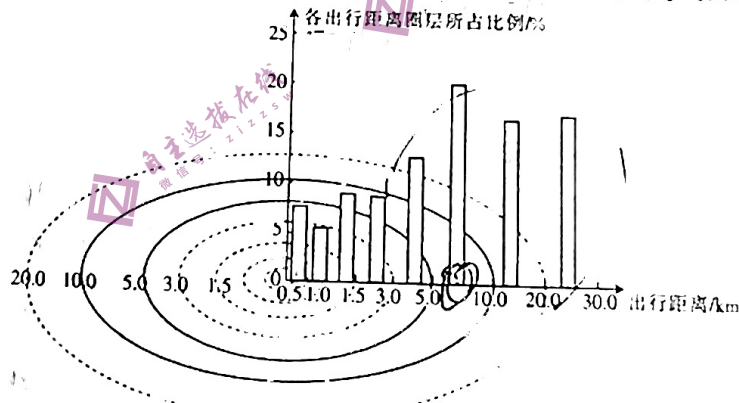
## 第I卷 (选择题 共140分)

本卷共35小题,每小题4分,共140分。在每小题给出的四个选项中,只有一项是符合题目要求的。

我国草食畜产品进口规模从2000年的2.41万吨扩大到2019年的205.23万吨,跃居全球首位。巴西、阿根廷是我国主要的(牛肉)进口国,新西兰、澳大利亚是我国主要的羊肉进口国。过去,人们认为我国经济发展、收入水平提升是草食畜产品进口规模扩大的主要原因。最新研究表明,国内外价差是中国草食畜产品进口数量持续增加的驱动力。据此完成1~2题。

1. 与进口来源国的平均水平相比,我国草食畜产品生产成本居高不下的首要原因是
  - A. 劳动力成本高
  - B. 土地租金高
  - C. 规模效应不足
  - D. 交通成本高
2. 为保障我国草食畜产业的可持续发展,应采取的措施是
  - A. 取消草食畜产品进口关税
  - B. 鼓励各地农户从事养殖
  - C. 实行进口来源单一化政策
  - D. 建立畜牧业生产合作社

城市外来务工人员购物活动对公共交通依赖度较高,一般倾向于近距离的消费。下图示意某年南京市外来务工人员线下购买服装类商品不同出行距离的占比分布。据此完成3~5题。



3. 图中反映出南京市中心部分外来务工人员
  - A. 居住位置较偏
  - B. 消费水平较高
  - C. 消费总量较少
  - D. 购物场所多元
4. 随着南京城市的发展,外来务工人员服装类商品线下购物
  - A. 与原购物地距离延长
  - B. 单次购买水平下降
  - C. 出行范围更加集中
  - D. 单次购买时间缩短

考号

题

答

要

不

内

线

封

密

班级

姓名

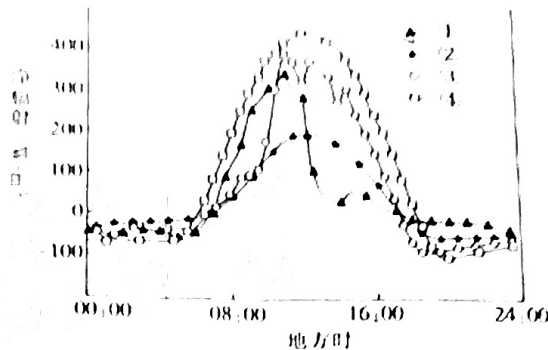
与服装类线上消费相比,南京市外来务工人员服装类消费更多在  
 商业区 住宅区 文教区

B. 住宅区

C. 文教区

D. 商业区

地面净辐射是指地面吸收的辐射与地面发出的有效辐射的差值。下图示意夏季某气象站晴天、阴天、浮尘、沙尘暴四种不同天气情况下地面净辐射的日变化,其中浮尘、风或平均风速  $> 0 \text{ m/s}$  时,能见度  $< 10000 \text{ m}$  的天气现象。据此完成6~8题。



6. 该气象站可能位于

A. 东北平原

B. 华北平原

C. 拉萨河谷

D. 塔里木盆地

7. ④代表的天气情况是

A. 阴天

B. 晴天

C. 浮尘

D. 沙尘暴

8. ①曲线上午地面净辐射显著高于下午,主要原因是上午

A. 太阳高度较大

B. 昼长较长

C. 对流强度较弱

D. 高空云量较多

太岳山地处山西省中南部,海拔  $1300 \sim 2200 \text{ m}$  为针阔叶混交林带。某研究小组在太岳山海拔  $1800 \text{ m}$  附近选取不同范围样地,研究针阔叶混交树种的空间分布规律(如下表)。据此完成9~11题。

样地范围	小范围	中等范围	较大范围
植被分布特征	<p>聚集</p>	<p>随机</p>	<p>均匀</p>

9. 样地范围较小时,针阔叶混交树种呈聚集式分布,其主要影响因素是

①土壤差异 ②种间竞争 ③降水差异 ④热量差异

A. ①②

B. ①④

C. ②③

D. ③④

10. 随着样地范围的扩大,植被分布特征的变化体现出该海拔处的针阔叶混交林

A. 养分争夺激烈

B. 仅能在少数生境中生长

C. 总体覆盖较多

D. 对生存环境差异不敏感

11. 推测太岳山海拔  $2200 \text{ m}$  以上较大的一段范围内

A. 常绿阔叶树种聚集分布

B. 针叶树种聚集分布

C. 常绿阔叶树种均匀分布

D. 针叶树种均匀分布



16. “正面清单”是近年来生态环境执法制度“无事不扰”、清单企业开展非现场检查 8 万余次，其中，第一季度非现场检查次数较第一季度减少 10% 以上，有利于

- ① 彰显生态环境保护执法温度，助力稳住经济大盘
- ② 优化生态环境保护执法监督方式，加强社会建设
- ③ 避免干扰企业经营活动，激发企业生产经营活力
- ④ 进一步深化“放管服”改革，加快政府职能转变

A. ①③

17. 2022 年 12 月 27 日，内蒙古自治区十一届人大常委会第三十九次会议通过《内蒙古自治区家庭教育促进条例》。条例第一条明确指出，为了发扬中华民族重视家庭家教、家风，增进家庭幸福与社会和谐，培养德智体美劳全面发展的社会主义建设者和接班人，根据《中华人民共和国家庭教育促进法》等国家有关法律、法规，结合自治区实际，制定本条例。这体现

- ① 民族区域自治制度是实现民族平等团结的根本保证
- ② 尊重国家法律、法规规定是民族区域自治的前提和基础
- ③ 人民当家作主与依法治国统一于中国特色社会主义实践
- ④ 内蒙古自治区依法行使自治权，促进各民族和睦相处

A. ①②

B. ①④

C. ②③

D. ③④

18. 从对发展中国家减免债，到促进全球贸易、数字经济、绿色转型、反腐败，再到确保粮食和能源安全，中国始终想着发展中国家的难处，照顾发展中国家关切，以实际行动支持二十国集团巴厘岛峰会确立的“共同复苏、强劲复苏”的合作愿景，为全球发展事业贡献中国力量。这表明

- ① 中国重信守诺，切实践行构建人类命运共同体理念
- ② 中国作为负责任大国，致力于推动世界多极化进程
- ③ 中国在维护国际社会公平正义事业中发挥了积极作用
- ④ 中国帮助发展中国家在国际舞台上发出强有力的声音

A. ①③

B. ①④

C. ②③

D. ②④

19. 2023 年初，此前并不被看好的电影《满江红》以超 40 亿的票房位居“春节档”榜首。该影片导演以《满江红》这首名词为影片名，并进行大手笔改编，巧妙地串联岳飞以及精忠报国的家国情怀，引起了观众的强烈共鸣。由《满江红》所引发的岳飞“怒发冲冠”词广泛传播，岳王庙人流如潮。由此可见

- ① 是否满足人民群众需要是衡量艺术作品价值的根本尺度
- ② 主旋律文化作品是弘扬社会主义核心价值观的重要载体
- ③ 文化与经济相互交融，一定的文化由一定的经济所决定
- ④ 优秀的文学作品能够在潜移默化中影响人们的认识活动

A. ①③

B. ①④

C. ②③

D. ②④

20. 在博物馆或文旅景区的标志性场景前举起一支文创雪糕，完成一张仪式感满满的打卡晒照，这样的照片不知不觉占领了社交媒体和朋友圈。除了“出圈”的文创雪糕，巧克力、节令糕

点、甜品蛋糕、棒棒糖等越来越多“舌尖上的文创”正在社交媒体上吸引年轻人的关注,成为热销的文创产品。“舌尖上的文创”“出圈”

①得益于优秀传统文化的创造性转化  
②提升了优秀传统文化的价值和内涵

③实现了传统与现代的有机结合  
④能增强文化自信

21. “创新链”是由基础理论研究、应用技术研究、开发试制等环节是从原材料、中间产品到最终产品的生产过程。党的二十大报告强调,“要用经济产业链部署创新链,围绕创新链布局产业链”。为此,我们应当

- ①尊重事物联系的多样性,促进创新链与产业链深度融合
- ②运用系统思维的方法,提高我国创新型经济布局的协同性
- ③把握联系的条件性,根据需要搭建产业链和创新链的新联系
- ④正确发挥主观能动性,推动联系的特殊性向普遍性转化

A. ①②

B. ①④

C. ②③

22. 漫画《欲速则不达》给我们的启示是

- ①矛盾双方既对立又统一,由此构成了事物的变化和发展
- ②有量变的积累才会有质变的产生,办事情不能急于求成
- ③成功实现改造世界的预期目标要集中力量解决主要矛盾
- ④人们的实践活动必须遵循客观规律,否则就会事与愿违

A. ①②

B. ①③

C. ②④

D. ③④

23. 2022年9月5日,四川省泸定县发生6.8级地震,距离震中仅21公里的国家能源集团大渡河大岗山水电站震感强烈。大岗山水电站装机260万千瓦,是四川省主力电源点,如果人员撤离,将造成生产失控,会对下游多个梯级电站、重要城镇产生危害,更会严重危及电网安全。该电站班组成员在地震来临时选择了用生命坚守,确保电站与设备安全,为震后重建提供了稳定电力保障。从中我们可以认识到

- ①人们作出正确的价值选择依赖于正确的价值判断
- ②树立正确的价值观要处理好个人与社会的关系
- ③实现人生价值要充分利用社会提供的各种物质条件
- ④在灾难面前彰显自我价值是先进人物的最高价值追求

A. ①②

B. ①③

C. ②④

D. ③④

24. 考古研究发现,辽河流域、淮河流域、黄河下游和长江中下游地区在农业起源时间上以及文化发展水平上并不落后于中原地区,甚至在特定阶段超过中原地区,但夏、商、周这三个最早的王朝文明都出现在中原地区。据此可推知,当时中原地区崛起的主要原因可能是

- A. 国家政治经济的重心
- B. 适宜生产的气候条件
- C. 高度发达的农业文明
- D. 多元文化的汇聚融合

25. 中国古代的“德法共治”思想可以追溯到西周的“明德慎刑”,汉武帝以后发展为“德主刑辅”到唐代最终确立为“德教为政教之本,刑罚为政教之用”。这反映出古代“德法共治”思想

- A. 提升了国家治理能力
- B. 促进了儒法思想合流
- C. 植根于传统政治文化
- D. 推动了治国理念趋同

年轻人的关注,成为

的个性化表达  
同和文化自信

D. (2)(4)  
链式结构,“产业链”  
链条。习近平总书记  
链和产业链精准对

《中国有件皮影戏》  
“中国有件皮影戏”  
也向由古

《中国有件皮影戏》  
也向由古  
《中国有件皮影戏》  
也向由古

《中国有件皮影戏》  
也向由古

《中国有件皮影戏》  
也向由古

《中国有件皮影戏》  
也向由古

《中国有件皮影戏》  
也向由古

自主选播在线  
电话: 212255

能源集团大渡  
点,如果人员  
危及电网安  
震后重建提

上以及文  
二个最早

刊辅”,  
思想

29. 1905年,清廷下令立停科举的同时,还要求各省于1906年、1909年、1912年举行统  
生员考职和保送举贡,并在1909年按惯例举行贡生考试。1908年年底,为庆祝  
帝即位,还照例开设了举荐孝廉方正科。这反映了

- A. 科举停废旨在笼络士人
- B. 传统观念影响社会转型
- C. 统治阶层无意推进改革
- D. 新式教育受到民众抵制

自主选播在线  
电话: 212255

30. 下表所示为1943年7月国民党重庆图书杂志审查处呈送中央的部分待焚书刊目录。据此可知,当时国民党

书名	著译者	出版社	出版时间
《打回老家去》	张庚	戏剧出版社	1936年
《什么是列宁主义》	凯丰	中国出版社	1941年
《抗日游击战争一般问题》	毛泽东	上海生活书店	1939年
《一九一八年的列宁》	陈原	言行社	1910年
《毛泽东抗战言论集》	张剑萍	战时读物编译出版社	1938年
《陕行纪实》	楚云	读书生活出版社	1938年
《全民族抗战》	潘汉年	上海生活书店	1939年

- A. 塑造战时政府形象
- B. 消弭红色文化影响
- C. 捍卫新闻出版自由
- D. 维护专制独裁统治

12. 2021年开  
万吨提高到  
的效率从  
12月开始  
①价格的变  
②供求关系  
③个别劳动  
④对既定商  
A. ①②  
煤炭是我  
月30日,中  
署,双方进  
维度联合,  
①发挥双方  
②优化央企  
A. ①②  
2023年1月  
务重心下  
展,下列  
/增发(国  
推动市  
聚焦金  
实行股  
反映的

31. 下图所示为1953年关于土地改革的宣传画。该作品的主要寓意是



- A. 人民当家作主成为现实
  - B. 社会主义生产活动全面展开
  - C. 国民经济得到恢复发展
  - D. 农民增加生产积极性
32. 公元前4世纪后期,雅典重大政治案件必须由陪审法庭审理,包括公民大会所通过的对其自身的指控案件及其判决书,也必须由陪审法庭进行最终判决才能生效。由此可知,当时雅典
- A. 公民大会形同虚设
  - B. 司法具有较强的独立性
  - C. 注重对权力的监督
  - D. 机构职责分明

33. 新航路开辟后,英国的海外殖民并不以剥削殖民地来满足祖国需要为主要目的,而西班牙在殖民地收缴的税收大部分被送回祖国且国王至为关注,自此,两国走上了不同的发展道路。对材料信息解读合理的是,当时

- A. 英西两国政治体制趋同
- B. 英国率先完成了工业革命
- C. 西班牙的生产方式落后
- D. 殖民地文明程度存在差异

34. 列宁认为只有根据苏俄的实际国情,制定符合苏俄小农经济发展规律的市场经济政策,才能保障农民经济利益的实现,他主张在粮食税的基础上通过完善城乡间自由贸易和市场机制,把商品交换作为维护农民经济利益的主要杠杆。列宁这一设想

- A. 要求进行社会主义改造
- B. 主张重建市场经济体制
- C. 利于巩固政权统治基础
- D. 极力维护小农经济形态

35. 1970年,美国总统尼克松发表声明,指出“(我们)过去对穷人的援助计划已经失败,这些计划使穷人堕落,使纳税人受骗”,并主张推行家庭援助计划,将有工作的贫困家庭作为援助的前提条件之一。这一举措的主要目的是

- A. 维护社会公平
- B. 稳定统治秩序
- C. 扩大财政支出
- D. 提高社会效率

## 第 II 卷 (非选择题 共 160 分)

本卷包括必考题和选考题两部分。第 36 题~第 42 题为必考题,每个试题考生都必须作答。第 43 题~第 47 题为选考题,考生根据要求作答。

36. 阅读图文材料,完成下列要求。(22 分)

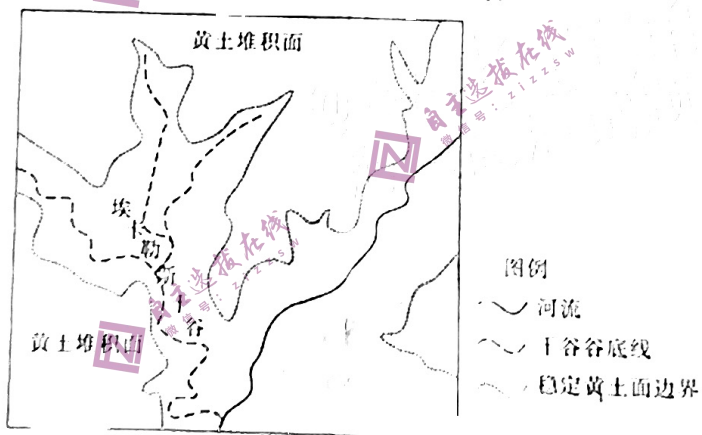
氟新材料因其优异性能被应用到航空航天、海洋船舶、电子电器、化学机械等众多行业和领域。福建省三明市萤石矿产资源丰富,该市先后建成的以氟新材料为主要产品的四大经济产业园,各具特色,已列入福建省重点支持建设计划。氟新材料的生产以萤石矿产为原料,生产过程中排放大量废气、废水、废渣等副产物,目前三明市部分企业需要外购萤石精粉。

... 人才

- (1) 简述三明市氟新材料产业形成国内经济产业园的原因。(6分)
- (2) 分析三明市部分企业需外运萤石精粉的原因。(6分)
- (3) 说明三明市氟新材料产业吸引高端人才方面面临的挑战。(4分)
- (4) 从循环利用萤资源的角度,为三明市氟新材料产业发展提出合理建议。(6分)

37. 阅读图文材料,完成下列要求。(24分)

埃卡勒斯干谷地处欧洲西部,上更新世时期,该干谷周边山坡被深厚的黄土层覆盖,之后一段时期内(全新世前期)随着气候的改善,森林植被陆续恢复,坡面径流经常性地冲走表土,但始终未发育稳定的河流。埃卡勒斯干谷谷底堆积有较厚的沉积物,主要性状与黄土相似,古人采活动以来沉积速率明显加快。两千多年来,埃卡勒斯干谷景观在稳定与不稳定阶段之间反复转化。下图示意埃卡勒斯干谷的地貌组成。



- (1) 在上更新世时期,埃卡勒斯干谷周边山坡被黄土覆盖,据此推测当时的气候特征。(6分)
  - (2) 全新世前期,该干谷森林恢复,但未发育稳定的河流,试对此做出合理解释。(6分)
  - (3) 说明埃卡勒斯干谷谷底沉积物的自然来源。(6分)
  - (4) 简述埃卡勒斯干谷景观在稳定与不稳定阶段之间反复转化的影响因素。(6分)
38. 阅读材料,完成下列要求。(14分)

当前,全球新一轮科技革命与产业变革蓬勃兴起,主要发达国家纷纷加强对量子信息科学、先进制造、生物技术、先进通信网络等前沿领域的布局。我国从中央到地方都在加大对未来产业(由前沿技术所推动,以满足经济社会不断升级的需求为目标,会在未来发展成熟和实现产业转化并形成对国民经济具有重要支撑力和巨大带动力,但当前尚处于孕育孵化



姓名  
班级  
学号

内  
线  
封  
密

... 基因技术、... 产业孵化... 作为... 行动... 布...  
... 人工智能、量子... 基因技术、... 产业孵化... 作为... 行动... 布...  
... 人工智能、量子... 基因技术、... 产业孵化... 作为... 行动... 布...

结合材料，运用政治生活知识，说明该市在超大城市治理中是如何交出人民满意的答卷的。

阅读材料，完成下列要求。(16分)

超大城市的基层治理如何让群众真正满意？近年来，从“吹哨报到”到“群众点单、街乡接单”，某市逐步形成超大城市基层治理的实践路径。“群众点单”就是群众的诉求，“街乡接单”就是群众报单。该市招募了万余名热心居民担任“小巷管家”，办好小院议事厅，居民恳谈会，居民议事室；开发“党员先锋”信息平台，组织全市1000余个法人单位党组织、78万余名党员在各自所属地（居住地）街乡、社区（村）报到。街乡通过吹响“综合指挥哨”或“工作哨”、“急难处置哨”，有效解决群众身边的物业管理、停车、群租房等老大难问题。该市实行群众诉求“首接负责”制度，所有诉求直派街乡，街乡能够自行解决的，及时就地解决；需要跨部门解决的复杂问题，由街乡启动“吹哨报到”机制，调动部门力量共同研究解决。“接诉即办”改革以来，该市12345市民服务热线共受理群众来电反映8000余万件，解决率达94%，提升到94%，满意率从65%增长到95%，满意率始终高于解决率，交出了人民满意的答卷。

结合材料，运用政治生活知识，说明该市在超大城市治理中是如何交出人民满意的答卷的。

40. 阅读材料，完成下列要求。(26分)

这些年来，随着乡村文化振兴的持续推进，我国农村公共文化基础越打越牢、效果越来越好。与此同时，无论是在城市还是乡村，老百姓对乡村文化的期待也水涨船高。城里人盼着能从田园中找寻更美的“诗和远方”，村里人则梦想故乡的小路上也能感受到阳春白雪的芬芳。但在部分地区，农村的“空心化”造成了乡村文化的“荒芜化”，而乡村文化的“荒芜化”反过来又加剧了这些地方农村的“空心化”。乡村文化供需不平衡是影响乡村振兴成效的一个重要短板。在不少地方，乡村文化需求一直很旺盛，但乡村文化供给却长期不能得到很好的解决。与城市相比，乡村文化产业的基础还较薄弱，存在市场投入较大、回报周期较长等问题。

乡村文化资源是一座富矿，乡村文化市场是一个旺铺。治理乡村文化的“水土流失”，做好了不仅能收获村里人的“芳心”，更能吸引城里人的目光。2023年2月，文化和旅游部、农业农村部、国家乡村振兴局三部局印发工作方案，在2023年举办“大地欢歌”全国乡村文化活动现场，以“四季村晚”“农业文化遗产里的中国”等文化展示活动为引导，带动各地因地制宜组织开展系列群众性文化活动。“四季村晚”等活动的显著特征是时代性强、乡土味浓、人情味重——时间线贯穿二十四节气，地点主要在村里头和家门口，主人公大部分是土生土长的“咱们屯里的人”，展现的都是新时代各地农村的盎然气象和广大农民的新风貌。

(1) 举办“大地欢歌”全国乡村文化活动现场是助力乡村振兴的重要抓手。结合材料，运用文化生活知识对此加以说明。(10分)

(2)结合材料,运用一切从实际出发,实事求是的知识,说明我们应如何治理乡村文化“水土流失”。(12分)

(3)为加大2024年“大地欢歌”全国乡村文化活动的宣传力度,请你写两条宣传标语。(4分)

要求:围绕主题,言简意赅,每条标语限15字以内

11. 阅读材料,完成下列要求。(15分)

材料一

宋代士大夫对民众的劝诫,大多结合相关社会教化活动来进行。宋仁宗时期,“文治浸盛,学校大修,远郡僻邑莫不建学”,“州郡不置学者鲜矣”,宋仁宗还对江淮以南地区的民间非法宗教“皆严禁绝”,大力推行儒学。两宋时期的士大夫,官员常常对所辖地区的名宦名士、孝子贤孙、贞节烈女进行统计上报,对受到朝廷褒奖者给予匾额或旌表门闾的奖励,“厚民俗”。赵抃任职越州时,就上报神宗对上虞县刘承诏加以旌表;朱熹任职南康军时,通过查阅方志、走访各地,对东晋陶侃、北宋刘涣等前代忠臣孝子、义夫节妇,或建祠,或拜谒,以此来收劝民效。

摘编自张淑生《宋代俗训与社会教化》

材料二

明代初期,朱元璋就十分注重用儒家思想来教育基层百姓,以纲常礼教为总原则,继承了以儒为宗的统治思想,通过“每年正月十五日,十月初一日”举行“乡饮酒礼”来落实。此外,明政府还将民间百姓作为教化的主要对象,洪武二十三年(1390年),朱元璋制定州县官员条例,要求县官亲自下乡督查乡约讲授情况,以重其事;明代民间还建有申明亭和旌善亭,“凡民间有孝子、顺孙、义夫、节妇,皆书其实行,揭于其中,劝善也”。明代统治者认为“致治之道在于善俗”,洪武五年(1372年)规定“有司今后考课,必书农桑、学校之绩”,并亲作“农桑学校诏”,督促执行,以导善行。

——摘编自许燕婵《试论明代教化》

材料三

宗教改革以来,英国在不断创立对穷人进行扫盲并传播宗教的慈善学校的同时,季审小法庭也发展成为民间基层较为繁忙的司法机构,处理案件并普及司法常识。17世纪,乡绅和富商捐助建立了大批提供识字教育和宗教教育的学校并将子弟送到欧洲大陆游学。英国基层社会受到启蒙思想的影响,英国政府主动为乡村社会的转型提供制度和经费保障的举措,使更多的英国乡村民众获益。

——摘编自付有强《城市化背景下的近代英国乡村教育》等

(1)根据材料一、二并结合所学知识,概括宋明时期社会教化的共性特点。(8分)

(2)根据材料二、三并结合所学知识,分析明代中国与近代英国在社会教化方面产生不同的原因。(12分)

(3)根据材料三并结合所学知识,分析近代英国社会教化的积极影响。(5分)

42. 阅读材料,完成下列要求。(12分)

材料

近代以来,中国经济形成了如下图所示的“口岸—腹地”空间秩序。这一经济发展模式呈现出以下特征:(1)口岸形成了现代式的功能性城市;(2)口岸城市的外部市场准入度高;(3)口岸城市与国内市场联系密切。

得更加混乱  
税很。  
雍正元  
推行单一  
明中期去  
政策在晚  
很推系  
税负和  
加之人

(1)根  
(2)根  
16. 历史  
材料

取了  
会加  
苏都  
性。  
苏切  
推命

(1  
(2  
17. [E  
材

摘编自王生《近代中国经济空间秩序的形成与内容》  
从材料中选取最有价值,且具体的城市或地区为对象,拟定一个论题,并结合近代中国的相  
关史实予以阐述。(要求:所列城市或地区符合图示程序,论题明确,史实准确,表述清晰。)

请考生从3道地理选考题、3道历史选考题中每科任选一题作答。如果多做,则每科按所  
做的第一题计分。

18. 地理——选修3:旅游地理(10分)

近日,素有“地球彩带”“杜鹃王国”美誉的毕节百里杜鹃,精心打造了贵州省首个  
“G+”A级景区,结合丰富多彩的5G业务,在百里杜鹃景区内配置多架无人机,搭载360°全  
景摄像头,分时起飞采集视频,对花海盛况进行24小时直播,让游客借助“天空之眼”来全  
方位观景。无人机带来的鸟瞰视角让即使曾经到过景区的游客,也能有全新的观感,故地重  
游变得趣味横生。下图为无人机航拍的百里杜鹃景观图。



简述无人机对改善旅游体验的作用。

44. [地理——选修6:环境保护](10分)

西昌市位于四川省西南部,山地面积约占市域总面积的80%,是农、林、牧交错的生态  
脆弱区,面临水土流失严重、地质灾害多发、环境污染加剧等问题。近年来,西昌市大力推行  
合村并居,对农村居民点布局进行集中优化,在改善居住条件的同时能为人类提供自然资  
源,满足人类生存和发展的空间与物质需求,为人类提供相对适宜的生存环境,使人能从自  
然环境中获得较好的精神享受,维持自然环境自身的相对稳定状态。

说明西昌市农村居民点布局优化的作用。

45. [历史——选修1:历史上重大改革回眸](15分)

材料

明末清初,农民起义频发,规模浩大的农民起义战争一波又一波地在全国十余个省席卷  
开来。康熙登基前,全国耕地面积只有五百四十九万二千余顷,不及明代初统计耕种土地额  
的十分之六。而山海关外广大地区,更是“沃野千里,有土无人”。清政府的盘剥使赋税变

得更加多，粮食也增多了，在宣布废除明代的“丁徭”后，又按照明制逐年征收“加派”的税银。

雍正元年(1723年)颁发诏令：“自本年伊始将丁徭均摊到地亩之中，造册征收，在全国推行。自此征收标准的‘摊丁入亩’税制改革‘摊丁入亩又作丁合一，具体做法是：一是明中的丁徭的一条鞭法继续施行，个别丁徭摊入田亩征收，部分丁徭归入丁征收。摊丁入亩政策在乾隆年改革年间通行全国后，丁合一，丁徭和田赋统一以田亩力征赋对等；二是将丁徭摊入田亩中征收，取消了以前的‘丁税’，黎民百姓摆脱了千百年来丁徭负担，地主赋税负担减轻，一定程度上限制或减缓了土地兼并之风；三是政府放松对户籍的控制，加速人口的流动，农民和手工业者得以自由迁移，买卖劳动力。

摘编自李明、李济南《“摊丁入亩”对当前我国财税改革的启示》

(1) 根据材料并结合所学知识，概括“摊丁入亩”改革的历史背景。(6分)

(2) 根据材料并结合所学知识，简析“摊丁入亩”改革的积极影响。(9分)

46. [历史 选修3:20世纪的战争与和平](15分)

材料

两伊战争自1980年9月22日至1988年8月20日，历时8年。美苏都对两伊战争采取了中立和均势的政策。美苏虽表面上声明保持中立，不直接介入，但实际上却利用战争机会加紧了对海湾地区的争夺，排挤对方。美苏中立的主要原因，在于两伊在战争爆发前与美苏都有矛盾，不冷不热，难以形成美苏各支持一方的态势。另外，由于海湾地区问题的敏感性，两伊战争潜伏着无法预测的不利因素，美苏都不愿直接插手，造成一方获胜的局面。美苏认为，一旦伊朗获胜，必将扩大伊朗在海湾地区的影响；如果伊拉克获胜，又将把伊朗彻底推向对方的怀抱。只有两伊形成“不战不和”“不胜不败”的局面，才能实现美苏的最大利益。

摘编自杨明星《试论两伊战争及其遗产》

(1) 根据材料并结合所学知识，分析美苏对两伊战争采取中立政策的原因。(6分)

(2) 根据材料并结合所学知识，简述两伊战争对中东和世界的影响。(9分)

47. [历史 选修4:中外历史人物评说](15分)

材料

谭平山(1886—1956)，广东佛山人。他在北大求学时直接受到陈独秀、李大钊等人的影响，积极参与五四运动，经常把《新青年》等进步刊物寄给广东的亲友。1920年年初，他在上海与他人共同创办《政衡》，提出“政治：根本的革新；社会：根本的改造；各种问题，根本的解决”的宗旨。1920年7月，谭平山到广东高等师范学校任教后，深感广东运动潮流落后，提出要**加强宣传工作**，先后创办《广东群报》《劳动与妇女》等刊物。他还积极创办了宣传员养成所、注音字母教导团，经常深入到工人中去批判无政府主义的各种谬论。1921年，陈独秀、谭平山等创立了广东共产党早期组织。

——摘编自何立波《谭平山与马克思主义在广东的传播》

(1) 根据材料并结合所学知识，简析20世纪20年代谭平山宣传马克思主义的条件。(6分)

(2) 根据材料并结合所学知识，评述谭平山宣传马克思主义的方法。(9分)