

2023 届高三二轮复习联考(三)

文科综合

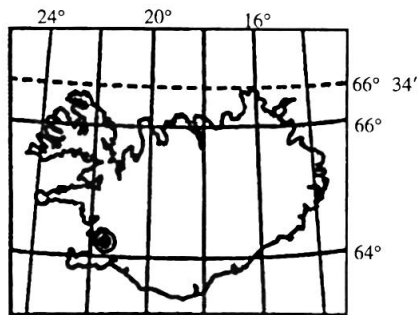
注意事项:

1. 答卷前,考生务必将自己的姓名、考生号等填写在答题卡上。
2. 回答选择题时,选出每小题答案后,用铅笔把答题卡上对应题目的答案标号涂黑。如需改动,用橡皮擦干净后,再选涂其他答案标号。回答非选择题时,将答案写在答题卡上。写在本试卷上无效。
3. 考试结束后,将本试卷和答题卡一并交回。

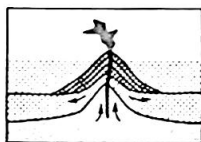
考试时间 150 分钟,满分 300 分

一、选择题:本题共 35 小题,每小题 4 分,共 140 分。在每小题给出的四个选项中,只有一项是最符合题目要求的。

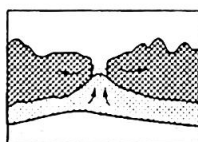
下图为世界某岛国示意图,该国从牙买加和圭亚那进口铝土矿发展了炼铝工业,是世界铝生产大国之一。据此完成 1~2 题。



1. 关于该国所在海域海底地貌状况,对应正确的是




①



②



③



④

A. ①

B. ②

C. ③

D. ④

2. 该国发展铝生产的最主要因素为

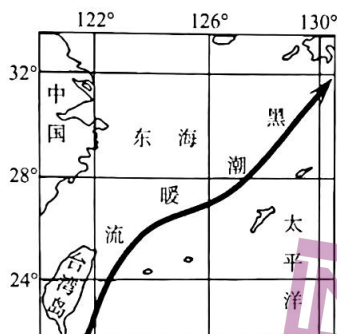
A. 原料

B. 土地

C. 劳动力

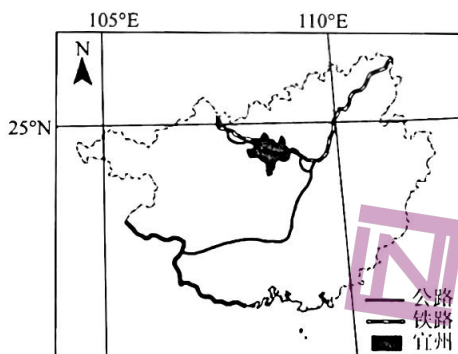
D. 能源

黑潮是北赤道暖流的延续,起源于台湾岛东南和吕宋岛以东海域,在 24°N 左右通过台湾岛以东进入东海,一直延伸至 35°N、141°E 附近海域。在整个黑潮系统中,将位于 130°E 以西,30°N 以南海域,主流经过东海外缘的黑潮,称为东海黑潮。东海黑潮的盐度分布具有显著的季节变化特点。下图示意东海黑潮分布。据此完成 3~5 题。



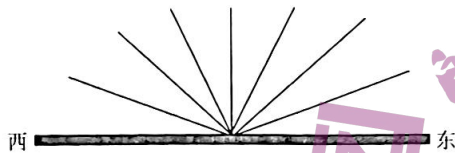
3. 东海黑潮表层海水盐度最高的季节是
 - A. 春季
 - B. 夏季
 - C. 秋季
 - D. 冬季
4. 影响东海黑潮表层海水盐度的主要因素是
 - A. 降水量、含沙量
 - B. 蒸发量、径流量
 - C. 含沙量、蒸发量
 - D. 径流量、降水量
5. 黑潮暖流海水盐度垂直变化规律是
 - A. 夏季变化率大
 - B. 冬季变化率小
 - C. 春秋变化率大
 - D. 秋冬变化率大

我国传统的桑蚕产业主要分布在长江中下游和珠江三角洲地区。“东桑西移”是指我国逐步把蚕茧主产区从东部(主要是长江中下游和珠江三角洲)地区向西部地区转移的蚕丝产业发展战略。广西的宜州市是东部蚕丝产业的主要承接地。宜州的养蚕季节(3月~11月)较长。目前,宜州的桑园面积已居全国县域第一,但在蚕桑品种选育、种养殖技术方面相对落后。下图为广西宜州示意图。据此完成6~8题。




6. 长江中下游和珠江三角洲桑蚕产业移除的主要原因是
 - A. 劳动力短缺,后继无人
 - B. 土地、劳动力价格上升
 - C. 生态破坏,环境遭污染
 - D. 耕地撂荒、大面积退化
7. “东桑西移”选址宜州,主要是为了
 - A. 开发山区资源,利用良好气候
 - B. 沿铁路线布局,发展对外贸易
 - C. 免遭环境污染,减轻土地压力
 - D. 获得丰富原料,降低生产成本
8. 为了提高品种选育、种养殖技术,宜州市应采取的措施是
 - A. 扩大规模,形成竞争优势
 - B. 吸纳人才,鼓励创新研发
 - C. 重视环保,保持生态平衡
 - D. 加强水利,保障稳产高产

太原市(37°54'N,112°33'E)某中学地理研学小组在校园的操场竖立一竹竿,通过观察竹竿影子朝向和长短的变化,印证地球公转的地理意义。小组成员将日出到日落的观察记录绘制成图(见下图),图中实线表示不同时刻竹竿的朝向和影长。据此完成9~11题。



9. 当竹竿影长最短时,北京时间约
A. 10时48分 B. 11时30分 C. 12时48分 D. 12时30分
10. 由此推测,该日太阳
A. 向北移动 B. 向南移动
C. 昼短夜长 D. 昼长夜短
11. 若该研学小组连日的观测竹竿影子朝向和长短的变化,可以印证地球公转的地理意义有
①正午太阳高度的变化 ②当地所处的气候带
③一日内昼与夜的交替 ④当地所处的季节
A. ①② B. ③④ C. ②③ D. ①④
12. 在中国传统文化中,兔子有多子多孙、健康长寿的美好寓意,古人常将兔的形象融入生活中,希望为自己带来福气,帝王公侯也不例外。在山西省晋国博物馆内,陈列着4件青铜兔尊,出土于约3000年前的晋国晋穆侯墓。在晋国晋穆侯时期
①土地逐渐变成私有财产,私有制确立起来
②存在着人类社会最早形成的两大对立阶级
③金属工具得到广泛使用,推动生产力发展
④收取地租是剥削阶级剥削被剥削阶级的主要方式
A. ①③ B. ①④ C. ②③ D. ②④
13. 2023年,中国的改革开放迈入到第45个年头。45年来,我国在公共文化服务、乡村振兴、文化产业、传统文化等方面的发展令人瞩目(如漫画)。这些成绩的取得是因为



新时代

新华社发 曹一作

- ①中国特色社会主义制度具有明显优势 ②我国基本实现了社会主义现代化的目标
③始终坚持以中国特色社会主义理论为指导 ④改革开放从根本上改变了中国社会发展方向

二轮复习联考(三) 文科综合 第3页(共12页)

- A. ①② B. ①③ C. ②④ D. ③④
14. 习近平总书记指出,高质量发展对民营经济发展提出了更高要求,有能力、有条件的民营企业要加强自主创新,在推进科技自立自强和科技成果转化中发挥更大作用。同时中国式现代化是全体人民共同富裕的现代化,无论是国有企业还是民营企业,都是促进共同富裕的重要力量,都必须担负促进共同富裕的社会责任。这要求民营企业要
- ①增强家国情怀,自觉践行以人民为中心的发展思想
②坚持自主创新、回报社会,树立企业的良好社会形象
③积极发展壮大农村集体经济,担负起促进共同富裕的社会责任
④鼓励、支持、引导非公有制经济发展,培育更多市场主体
- A. ①② B. ①③ C. ②④ D. ③④
15. 2023年1月9日,财政部、税务总局发布了2023年的第1号公告,明确增值税小规模纳税人减免增值税等政策。自2023年1月1日至2023年12月31日,对月销售额10万元以下(含本数)的增值税小规模纳税人,免征增值税;增值税小规模纳税人适用3%征收率的应税销售收入,减按1%征收率征收增值税。若不考虑其他因素,此项政策传导正确的是
- ①落实积极财政政策——减轻企业成本负担——增加企业所得——扩大生产规模
②降低增值税起征点——减轻企业税负——激发企业活力——推动经济复苏发展
③增加财政支出——缓解企业资金短缺——扶持小微企业发展——扩大税收来源
④加强国家宏观调控——企业支出减少——激励创业创新——刺激经济增长
- A. ①③ B. ①④ C. ②③ D. ②④
16. 2023年1月,第十四届全国政协委员名单公布。全国政协34个界别中,“环境资源界”首次亮相。从人员构成看,环境资源界85名委员的背景涵盖生态环境、自然资源、海洋、林业、地质等多个领域,三成以上是专家学者。在今年的政协会议上,该界别委员建言献策高度聚焦“环境资源”主业,不断提出真问题,找到好办法。由此可以看出
- ①民主党派作为参政党,参与国家社会事务的管理
②政协委员通过行使提案权,为国家发展建言献策
③政协委员聚焦社会热点重点问题,积极参政议政
④政协完善协商议政的内容,切实履行职能
- A. ①② B. ①③ C. ②④ D. ③④
17. 2022年12月4日是我国第九个国家宪法日,也是我国现行宪法公布施行四十周年。2022年全国“宪法宣传周”宣传活动的主题为“学习宣传贯彻党的二十大精神,推动全面贯彻实施宪法”。全面贯彻实施宪法应
- ①提高宪法的国家根本法地位,坚持维护宪法权威和尊严
②与时俱进,加快完善以宪法为核心的中国特色社会主义法律体系
③有自信、有志气宣传中国宪法制度、宪法理论的显著优势和强大生命力
④把宪法实施贯穿到治国理政各方面全过程,提高政府依宪治国、依宪执政的能力
- A. ①③ B. ①④ C. ②③ D. ②④
18. 2018年11月5日,习近平总书记宣布在上海证券交易所设立科创板并试点注册制,标志着注册制改革进入启动实施阶段。经过4年试点,市场各方对注册制的基本架构、制度规则总体认同,向全市场推广的条件已经具备、水到渠成。2023年2月1日,全面实行股票发行注册制改革正式启动,统筹完善多层次资本市场体系,统筹推进发行、上市、交易、退市等基础

制度改革,统筹抓好证监会自身建设。这体现出股票发行注册制改革

- ①遵循了联系的普遍性,认为任何事物之间都存在着联系
- ②坚持了系统优化的方法,用综合的思维方法认识事物
- ③坚持了从矛盾的特殊性到普遍性,再从普遍性到特殊性的方法
- ④属于人为事物的联系,具有“人化”的特点,以人的意志为转移

A. ①③ B. ①④ C. ②③ D. ②④

19. 2023年3月15日,国家主席习近平在中国共产党与世界政党高层对话会上首次提出全球文明倡议,他说:“我们愿同国际社会一道,努力开创世界各国人文交流、文化交融、民心相通新局面,让世界文明百花园姹紫嫣红、生机盎然。”这有利于

- ①更好认同其他民族文化,推动世界文化繁荣发展
- ②世界各国不同文化更好实现交流互鉴、包容共存
- ③推动中华优秀传统文化创造性转化和创新性发展
- ④促进不同文明的美美与共,构建人类命运共同体

A. ①② B. ①③ C. ②④ D. ③④

20. 2023年1月7日,共和党领袖凯文·麦卡锡当选美国众议院议长。在众议院的434个席位中,共和党掌控222个议席,民主党控制212个议席。尽管共和党占据议席优势,但由于麦卡锡遭到共和党内极端保守派强烈反对,经过众议院议员5天15轮表决,麦卡锡才“艰难”当选众议院议长。由此可以看出

- ①美国实行的政权组织形式是总统共和制
- ②美国两党制存在着效率低下的弊端
- ③美国众议院议长由众议院议员选举产生
- ④两党制已经不适合美国当前的政治发展

A. ①② B. ①④ C. ②③ D. ③④

21. 2023年4月6日,国家主席习近平同来华进行国事访问的法国总统马克龙举行会谈。近年来,中法关系保持良好发展,两国战略沟通富有成效,务实合作成果丰硕,在国际和地区事务中保持着良好的沟通协作。中法两国的沟通协作

- ①是中法两国政府坚持独立自主的和平外交政策的结果
- ②有利于积极应对全球性挑战,更好推动国际关系民主化
- ③充分体现我国在维护他国合理关切的同时,兼顾自身的利益
- ④有利于践行真正的多边主义,维护世界和平、稳定和繁荣

A. ①② B. ①③ C. ②④ D. ③④

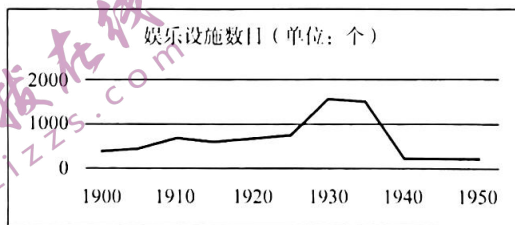
22. 河北衡水的郑女士通过房产中介购买了一套74平米的住房,但来到新买的房子发现套内面积只有40平米,买的房屋公摊面积约为46%,远超楼市常见的公摊系数,而且购房合同也没有对公摊的具体项目、面积大小等进行说明。对此,下列认识正确的是

- ①房产中介的做法侵犯了郑女士的知情权
- ②郑女士有权委托辩护人帮助其进行诉讼
- ③房产中介的做法侵犯了消费者安全消费的权利
- ④郑女士可以向有关行政部门投诉或者申请仲裁

A. ①② B. ①④ C. ②③ D. ③④


23. 2023年3月15日,国家统计局新闻发言人表示,政府工作报告提出今年经济增长5%左右的预期目标综合考虑了各方面的因素,符合当前经济发展的实际和需要。经济增速如果过低,可能导致经济中存在的一些问题暴露,风险就会增加。如果经济增速设定过高,会导致各方面资源条件比较紧张,不利于实现经济高质量发展。这表明

- ①整体性是辩证思维的重要特征
②在实践中要掌握适度的原则
③认识要从感性具体发展到思维抽象
④事物的发展是渐进性与飞跃性的统一
- A. ①② B. ①③ C. ②④ D. ③④
24. 他认为音乐的本质是表现“民之常性”，故他的音乐美学观点表现为“法天贵真”。法天贵真的音乐就是合乎人的自然情性、自由抒发人的情性的音乐。这一思想曾极大地影响了嵇康、李贽。材料中的“他”是
- A. 孟子 B. 墨子 C. 庄子 D. 韩非子
25. 西汉高祖时“诸侯皆赋”，“(王国)置丞相，黄金印”。景帝时，“(王国)去丞相曰‘相’，银印，诸侯独得食租税”。这一转变旨在
- A. 削弱丞相权力 B. 加强中央集权
C. 完善官僚政治 D. 实施“推恩令”
26. 据《蜀堰记》记载，顺帝至正元年(1341年)重修都江堰，效果很好，修堰之前，“常岁获水之用仅数月，堰辄坏。今虽缘渠所置碓磑纺绩(借助水力推动的捣米器具和纺车)之处以千万数，四时流转而无穷”。这表明，都江堰的重修
- A. 有利于古代水力机械的推广 B. 巩固了官营手工业的技术优势
C. 促成手工业领域的技术革新 D. 推动了中国南北经济均衡发展
27. 清代规定：“满洲、蒙古尚书以下，司官、小京官以上，亲伯叔兄弟同衙门者，令官小者回避。……祖孙父子，均令子孙回避。……汉官在京部院祖孙父子亲叔伯兄弟回避之例，与满洲蒙古同。”清政府此举主要是为了
- A. 维护等级制度 B. 学习汉族文化 C. 加强官员管理 D. 消除民族隔阂
28. 19世纪60年代，为解决生源问题，清政府规定同文馆的学生可以拿薪水。开始年薪为36两银子，后又提高到120两，最高时达到140两。当时七品官年薪才45两，五品官也不过80两上下。这从侧面深刻反映了
- A. 科举制度渐趋衰落 B. 官办学校待遇较高
C. 洋务运动成效显著 D. 传统思想根深蒂固
29. 清末，东北地区的大豆及大豆制品在未建铁路时出口量不多，1890年输出总值为白银37万两，自有了铁路后，大豆及大豆制品输出总值逐年增加，1900年达白银547万两，1910年达白银3669万两。这说明，铁路在当时
- A. 促进了农产品的商品化 B. 改变了农业的产业布局
C. 导致了传统农业的衰落 D. 丰富了出口货物的种类
30. 下图为20世纪上半期上海近代文化娱乐设施数量曲线图。影响这一时期上海娱乐设施数目变化的主要因素是



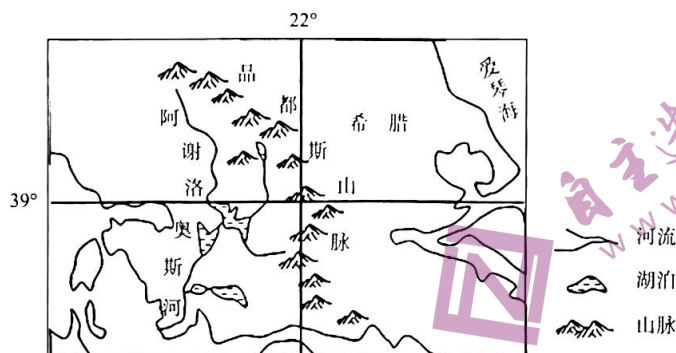
- A. 人口数量的增减 B. 民族工业的发展
C. 政治局势的变化 D. 租界面积的大小

31. 1955年,毛泽东说:“我们……所钻研的,是钻社会主义工业化……并且开始要钻原子能……”;1963年,他又指出“科学技术这一仗,一定要打,而且必须打好。……不搞科学技术,生产力无法提高”。这表明毛泽东
- A. 对科学技术重要性的认识不断深化
B. 看到了参与国际科技竞争的重要性
C. 主张科技成果由军用逐步转为民用
D. 认为“一五”计划要为科技现代化服务
32. 公元前4世纪,九执政官是雅典最重要的官职,分管军事、宗教和司法等相关事务。但他们就职前须先经五百人议事会初审,之后还必须通过陪审法庭的复审。这一举措
- A. 体现了古代分权制衡原则的运用
B. 是防止公共权力腐败的重要机制
C. 是原始行政程序繁琐的典型表现
D. 促成了民主政治鼎盛时期的到来
33. 这一时期,他们对宗教秉持着一种以理性改之的态度,开始摆脱宫廷、教会进行创作,对于某些基督教神学的荒谬、教会因迷恋权力而导致的堕落以及因人民的盲从与轻信而仍然影响人民生活的有害权力予以讽刺和抨击。材料中的“他们”可能包括
- A. 但丁 B. 马丁·路德 C. 哥白尼 D. 休谟
34. 1849—1870年,英国第三级铁路客运(为下层人民提供运输服务)人数增长了6倍,而其他两级客运人数只增长了4倍。1846—1870年,第三级客运人数的比重由不足一半提高到65%,而客运收入的比重则由不足20%提高到44%。这表明铁路客运
- A. 促进了城乡经济的一体化 B. 实现了交通运输的商业化
C. 推动了社会观念的平等化 D. 加速了交通服务的大众化
35. 下图为2018年加拿大讽刺特朗普的漫画,以反对美国对加拿大等盟友的进口钢铁和铝分别征收25%及10%的高关税。据此可知



- A. 霸权主义导致资本主义阵营的动荡 B. 经济危机使多极化趋势放缓
C. 单边主义易加重“逆全球化”现象 D. 经济全球化使单极世界解体
- 二、非选择题:本题共10小题,共160分。36-37题为地理,38-42题为政治,43-45题为历史。
36. 阅读图文材料,完成下列要求。(30分)

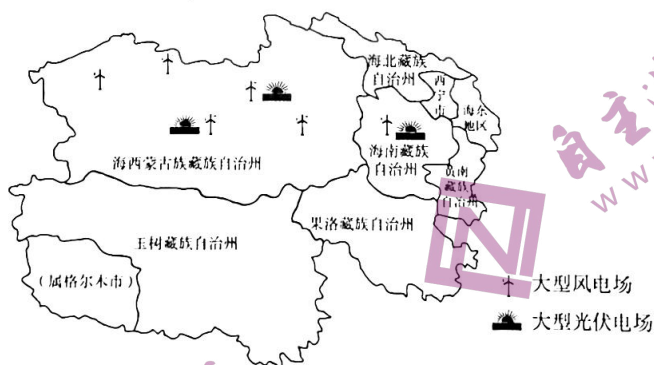
阿谢洛奥斯河是希腊最长的河流之一,源出品都斯山脉,流程220千米,流域面积0.63万平方千米。该河流多流经峡谷,最后注入爱奥尼亚海。河流上游建有两座大坝,河口水深不足0.6米。下图示意阿谢洛奥斯河水系。



- (1) 由阿谢洛奥斯河的流程可知希腊河流比较短促,试分析原因。(9分)
- (2) 简述阿谢洛奥斯河流域的水文特征。(6分)
- (3) 判断阿谢洛奥斯河的航运价值,并说明理由。(7分)
- (4) 分析阿谢洛奥斯河两座大坝的社会经济效益。(8分)

37. 阅读图文材料,完成下列要求。(26分)

碳达峰指的是二氧化碳达到峰值,是指我国承诺2030年前,二氧化碳排放不再增长,达到峰值之后逐步降低。为此我国积极开发新能源,其中青海省成为我国新能源的战略基地,助推我国碳达峰目标的实现。目前,青海省清洁能源装机占比达到90.36%,海南州、海西州两个太阳能和风能、水光风多能互补的能源基地全部跃上千万千瓦级台阶。下图示意青海省太阳能和风能发电基地分布。



- (1) 阐释青海省新能源基地建设的有利条件。(8分)
- (2) 分析与海西州相比,海南州建立新能源基地的区位优势。(6分)
- (3) 简述青海省新能源开发对实现碳达峰目标的重要意义。(4分)
- (4) 说出青海省除太阳能、风能外,还可开发的清洁能源,并分析原因。(8分)

38. 阅读材料,完成下列要求。(10分)

履职五年来,十三届全国人大及其常委会紧紧围绕党和国家工作大局,认真履行宪法法律赋予的职责,人大工作取得新的重大进展。

从民法典编纂,到助力打好污染防治攻坚战,再到维护特别行政区宪制秩序和法治秩序等,十三届全国人大及其常委会坚决贯彻落实党中央决策部署,在大事要事上担当尽责。加快立法步伐,通过宪法修正案,制定法律47件,修改法律111件次,作出法律解释1件。抓住提高立法质量这个关键,遵循和把握立法规律,使每一项立法都符合宪法精神、反映人民意志、得到人民拥护。听取、审议109个有关监督工作的报告,检查30件法律和决定实施情况,开展33项专题调研、11次专题询问,对近万件规范性文件进行备案审查。五年间,近3000名十三届全国人大代表深入基层、深入群众,了解民情、反映民意、集中民智,共提出2282件议案和43750件建议,均已办结,为党和国家事业发展提供了重要决策参考。

结合材料,运用政治与法治的知识,谈谈十三届全国人大及其常委会这五年的工作是如何体现社会主义民主政治特点的。

39. 阅读材料,完成下列要求。(10分)

材料一 2022年中央经济工作会议于2022年12月15日至12月16日在北京举行,会议对2023年的经济工作作出全面部署。中央经济工作会议提出,当前我国经济恢复的基础尚不牢固,企业预期有所走弱,稳增长紧迫性明显提升,会议将“稳增长”摆在“三稳”首位,通过稳增长实现稳就业、稳物价。但同时还要看到,我国经济韧性强、潜力大、活力足,各项政策效果持续显现,明年经济运行有望总体回升,要坚定做好经济工作的信心。我国经济发展已由高速增长阶段转向高质量发展阶段,必须进一步优化产业政策,更好统筹经济质的有效提升和量的合理增长,加快建设现代化产业体系。

材料二 当前,我国经济正面临需求收缩、供给冲击、预期转弱三重压力。如何坚定信心,做好今年经济工作,为全面贯彻落实党的二十大精神开好局起好步?2023年3月6日,习近平参加民建、工商联界委员联组会时说:“企业家要增强家国情怀,自觉践行以人民为中心的发展思想,增强先富带后富、促进共同富裕的责任感和使命感。”

结合材料一,运用矛盾的特殊性原理分析当前我国的经济形势。

40. 阅读材料,完成下列要求。(10分)

位于“五海三洲之地”的中东地区历来是中国外交重点关注的区域之一。

材料一 在当前全球能源紧张,价格一路飙升的大背景下,2022年11月21日,卡塔尔国家能源公司宣布与中国达成为期27年的液化天然气长期购销协议,该公司将从其北方气田扩能项目每年向中国石化供应400万吨液化天然气。中国石化董事长马永生表示,中国与卡塔尔两国关系友好、密切,在能源领域有天然互补性,为双方不断深化合作创造了良好环境。

材料二 沙特和伊朗两国关系长期紧张,两国在信仰和政治上存在严重分歧。2023年3月

10日,在中国的积极调解下,沙特和伊朗在北京会晤,两国恢复外交关系。沙伊双方表示愿恪守《联合国宪章》宗旨和原则,通过对话和外交方式解决双方分歧,尊重各国主权,不干涉别国内政。沙伊赞赏并感谢中方承办和支持此次对话并推动其取得成功。

中共中央政治局委员、中央外办主任王毅表示,沙特伊朗北京对话是和平的胜利。结合材料,运用世界多极化的知识进行阐释。

41. 阅读材料,完成下列要求。(12分)

老旧小区加装电梯,本是为方便居民出行,但在实际改造中,常常遭到低楼层业主的反对。

某县某小区单元共有六层,其中三至六楼住户申请加装电梯。在获得专有部分占建筑物总面积三分之二以上业主同意,并经过公示、社区乡镇调解、安全性鉴定、审批等多项程序后,电梯公司准备入场施工,但却遭到了一楼业主的反对和阻挠,理由是:一楼房屋本身处于低洼地段,加装电梯影响采光,雨季可能造成雨水倒灌等。于是楼上三至六楼的住户起诉了一楼的住户。

2023年3月6日,该县人民法院对这起小区电梯加装纠纷案进行了公开宣判,判决一楼两名住户立即停止对电梯安装施工的阻碍。

(1) 结合材料,运用法律与生活的知识,分析法院判决的理由。(7分)

(2) 加装电梯对低楼层业主的通行、采光等方面产生了一定影响。请运用法律与生活的知识说明如何保障其合法权益。(5分)

42. 阅读材料,完成下列要求。(10分)

材料一 2022年中央经济工作会议于2022年12月15日至12月16日在北京举行,会议对2023年的经济工作作出全面部署。中央经济工作会议提出,当前我国经济恢复的基础尚不牢固,企业预期有所走弱,稳增长紧迫性明显提升,会议将“稳增长”摆在“三稳”首位,通过稳增长实现稳就业、稳物价。但同时还要看到,我国经济韧性强、潜力大、活力足,各项政策效果持续显现,明年经济运行有望总体回升,要坚定做好经济工作的信心。我国经济发展已由高速增长阶段转向高质量发展阶段,必须进一步优化产业政策,更好统筹经济质的有效提升和量的合理增长,加快建设现代化产业体系。

材料二 当前,我国经济正面临需求收缩、供给冲击、预期转弱三重压力。如何坚定信心,做好今年经济工作,为全面贯彻落实党的二十大精神开好局起好步?2023年3月6日,习近平参加民建、工商联界委员联组会时说:“企业家要增强家国情怀,自觉践行以人民为中心的发展思想,增强先富带后富、促进共同富裕的责任感和使命感。”

党和国家对2023年的经济工作提前作出了全面部署。结合材料一,运用超前思维的知识对此加以说明。

43. 阅读材料,完成下列要求。(25分)

材料一 萌发于中世纪的英国职业教育,在19世纪后半期迅速发展。19世纪,马尔萨斯等人提出了教育是一项公共事业的思想,教育家阿诺德等人积极提倡发展职业教育。斯德奇等人更是直接参与职业教育,如创办的成人夜校就推动了机械工人讲习所运动的发展。19世纪中期,英国成立了“皇家工艺学会”等以加强对职业教育的管理。1889年,通过了《技术教育法》,要求地方当局提供技术教育等。19世纪后半期的大学不仅开始培养工商业人才,而且也“向每天的劳动仅足以糊口的人民群众的子弟开放”。为了提升英国的经济竞争力,1880年,“伦敦同业公会”成立了旨在从旁援助技术教育的“伦敦市成人教育协会”。

——摘编自李渝红《英国职业教育介绍》

材料二 建国之初中等技术教育的很多实施机构来源于旧时的公、私立职业学校。1952年3月政务院对其进行调整,规定每所学校都有特定的专业方向,统称为中等专业学校。同时,由于生产部门急需补充技术工人,技工教育制度逐步建立起来。中专和技工学校的毕业生由其管理部门分配工作。为了使不能升学的学生掌握一技之长以便就业,国家还尝试开辟新的途径,从1958年开始,各地农村职业学校大量开办,开展农牧、林果、养殖以及农副产品加工等多类教学。与此同时,城市职业教育也逐步发展,1965年,全国中专在校生54.7万人,技校在校生18.3万人,农业等职业中学在校生443.3万人,三者已占到当时中学在校生总数的34.8%。

——摘编自俞启定《新中国成立以来职业教育定位及规模发展演进的回顾》

- (1) 根据材料一并结合所学知识,概括19世纪后半期英国职业教育迅速发展的原因。(8分)
- (2) 根据材料二并结合所学知识,说明20世纪五六十年代我国职业教育发展的特点及意义。(17分)

44. 阅读材料,完成下列要求。(12分)

材料 晚清时期,画报画刊作为“图文并茂”的新式媒介开始出现,以下为其发展历程简表。

时期	阶段	概况
1872—1883	发轫期	教会画报画刊独步天下,如《画图新报》就以宣传基督教义为主,兼及科学知识介绍
1884—1899	兴起期	创办主体逐渐向国人自办转变,一系列丧权辱国的事件使国内各阶层不断掀起反帝反封建的浪潮,画报画刊更以独特的图像叙事方式深受人们欢迎
1900—1904	发展期	“刊载国内外时事、揭露帝国主义侵略、介绍西方科学技术知识”成为画报画刊宣传的主流。部分画报画刊为吸引读者、扩大发行量,颇为重视编辑业务的改革,如1904年商务印书馆出版的《东方杂志》经常选登官办或民办报刊上的新闻讯息,留下了回看历史场景的珍贵影像资料

二轮复习联考(三) 文科综合 第11页(共12页)

(续表)

时期	阶段	概况
1905—1911	鼎盛期	共创刊 93 种,占晚清画报画刊出版总数的 73.8%;除政治中心北京外,主要集中在上海、广州等南方沿海沿江城市,其中上海最为抢眼有 72 种,占晚清画报画刊出版总数的 57.1%。各政治派别不断创办画报画刊作为宣传其主张、形象的代言平台,如 1905 年留日学生创办的《醒狮》、汉口黄陂街昌明公司发行的《不缠足画报》等。此外,还有些跳出“政治圈”的画报画刊,如劝募赈灾的《图画灾民录》、专注知识介绍的《科学画报》、文化遗产保护的《中国名画》等

——摘编自任谢元《晚清时期画报画刊出版的历程、特点及影响》
根据材料及所学,谈谈你对晚清时期画报画刊出版这一历史现象的认识。

45. 阅读材料,完成下列要求。(15 分)

材料 一战中,英国政府成立了战争宣传局等专门机构,利用报刊、传单、漫画、书籍等形式展开有战争史以来最大规模的宣传战。报刊、书籍、漫画主要供国人阅读,官方出版物旨在影响中立国政府和民众,传单则用飞机撒向敌战区的平民和德军。英国的宣传家们相信,在信息不对称的环境下,像是事实的谎言,有时会收到奇效。如 1915 年英国就把德军一次割下数百名比利时少女耳朵的传闻当成事实煞有介事地广为宣传。为确保英国的正义形象,英国官方还对宣传内容实行严格的检查制度,以封杀不同声音,确保舆论一致。同时,协约国定期在伦敦举行宣传工作联席会议,并设立了专门的协调宣传机构。在英国舆论的凌厉攻势面前,德国的抗辩一开始就十分被动,如德国总理关于国际公约只是“一张废纸”的不加掩饰的坦率令全世界为之震惊。因此,西方学者普遍承认英国一战时的宣传取得了巨大的成功。

——摘编自吴文武《国际法、女权保护与第一次世界大战期间的英德宣传战》

- (1) 根据材料并结合所学知识,概括一战中英国宣传战取得成功的原因。(6 分)
- (2) 根据材料并结合所学知识,说明一战中英国宣传战的历史作用。(9 分)

关于我们

自主选拔在线是致力于提供新高考生涯规划、强基计划、综合评价、三位一体、学科竞赛等政策资讯的升学服务平台。总部坐落于北京，旗下拥有网站（[网址: www.zizzs.com](http://www.zizzs.com)）和微信公众平台等媒体矩阵，用户群体涵盖全国90%以上的重点中学师生及家长，在全国新高考、自主选拔领域首屈一指。

如需第一时间获取相关资讯及备考指南，请关注**自主选拔在线**官方微信号：[zizzsw](https://www.zizzs.com)。



微信搜一搜

自主选拔在线