

2021~2022 学年高三核心模拟卷(中)

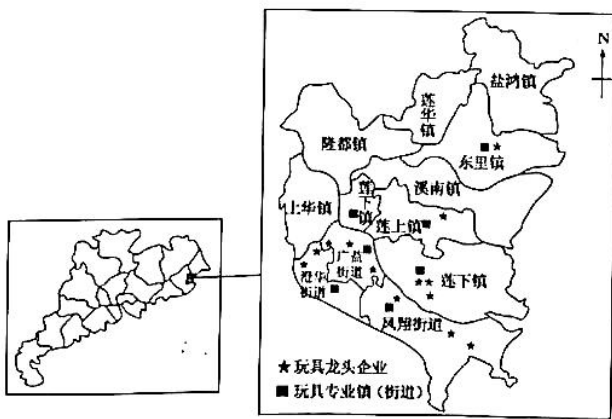
文科综合(三)

注意事项:

1. 本卷满分 300 分,考试时间 150 分钟。答题前,先将自己的姓名、准考证号填写在试题卷和答题卡上,并将准考证号条形码粘贴在答题卡上的指定位置。
2. 选择题的作答:每小题选出答案后,用 2B 铅笔把答题卡上对应题目的答案标号涂黑。写在试题卷、草稿纸和答题卡上的非答题区域均无效。
3. 非选择题的作答:用签字笔直接答在答题卡上对应的答题区域内。写在试题卷、草稿纸和答题卡上的非答题区域均无效。
4. 选考题的作答:先把所选题目的题号在答题卡上指定的位置用 2B 铅笔涂黑。答案写在答题卡上对应的答题区域内,写在试题卷、草稿纸和答题卡上的非答题区域均无效。
5. 考试结束后,请将本试题卷和答题卡一并上交。

一、选择题:本题共 35 小题,每小题 4 分,共 140 分。在每小题给出的四个选项中,只有一项是符合题目要求的。

智慧城市是指利用各种信息技术或创新概念,将城市的系统和服务打通、集成,以提升资源运用的效率,优化城市管理和服务,以及改善市民生活质量。2021 年 10 月,广东省汕头市澄海区入选“2021 中国智慧城市百佳县市”榜单,该区是全国唯一的“中国玩具礼品出口基地”。下图示意澄海区位置及澄海区玩具业分布。据此完成 1~2 题。



1. 影响澄海区玩具业分布的主要因素是

A. 原料	B. 劳动力
C. 地理位置	D. 交通状况
2. 与澄海区入选“2021 中国智慧城市百佳县市”榜单关联度最大的是

A. 玩具制造生产效益高	B. 智能玩具注重创意设计
C. 制造玩具的历史悠久	D. 国家政策扶持玩具产业

【高三核心模拟卷(中)·文综(三) 第 1 页(共 12 页)】

考号

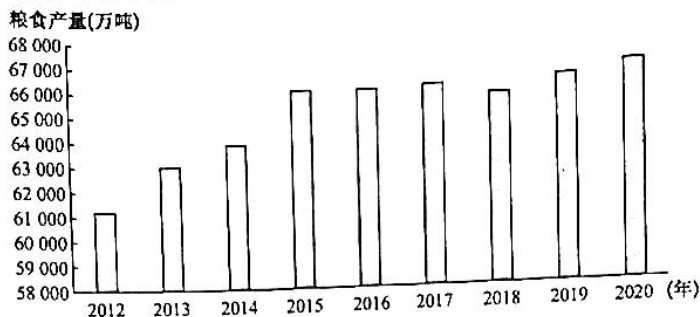
姓名

班级

学校

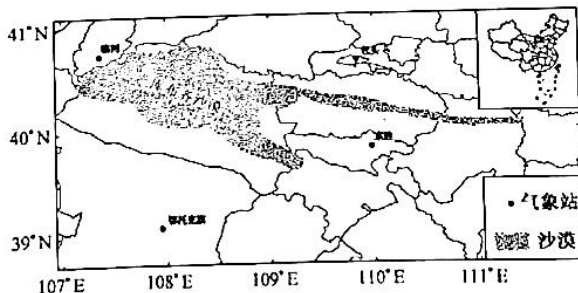
答题要 区内 密封

2017年中央一号文件把推进农业供给侧结构性改革作为主题,提出顺应新形势新要求,坚持问题导向,调整工作重心。2021年11月3日,商务部发声“鼓励家庭储存一定数量的生活必需品”,粮食问题被推上了热搜。研究数据显示,我国粮食产量主要由粮食主产区引领,粮食单产贡献是不同区域粮食生产变化量的主要贡献因素。下图示意2012~2020年我国粮食(谷类作物)产量走势。据此完成3~5题。



- 形成2012~2015年我国粮食产量(谷类作物)状况的主要原因是
 - 兴修水利设施
 - 耕地面积扩大
 - 加大科技投入
 - 流通体系完善
- 与2017年相比,2018年我国粮食产量(谷类作物)减少约371万吨,主要是因为我国
 - 种植结构调整
 - 土壤肥力下降
 - 气象灾害严重
 - 城市化占用耕地
- 目前我国粮食产量一直居于高位,下列地区中粮食增产贡献最大的是
 - 江汉平原
 - 成都平原
 - 太湖平原
 - 三江平原

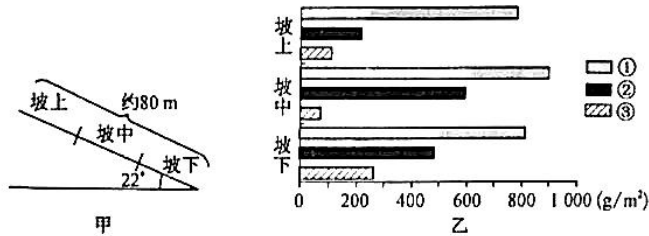
库布齐沙漠位于鄂尔多斯高原脊线的北部,河套平原黄河“几”字弯里的黄河南岸,呈带状分布,东西长400 km,南北宽15~40 km,面积约1.61万 km²,年降水量自西向东由150 mm递增至400 mm。沙漠北部以新月形沙丘(链)为主,中西部多为纵横交错的格状沙丘。下图示意库布齐沙漠地理位置。据此完成6~8题。



- 库布齐沙漠地区
 - 地势北高南低
 - 灌溉农业较为发达
 - 河流多注入黄河
 - 位于草原向荒漠过渡地带
- 库布齐沙漠的沙源最可能主要来自
 - 风力搬运
 - 黄河冲积物
 - 就地岩石风化
 - 山体滑坡物
- 库布齐沙漠北部新月形沙丘(链)的形成,主要在于
 - 昼夜温差大
 - 地形崎岖
 - 风力强劲
 - 土壤贫瘠

【高三核心模拟卷(中)·文综(三) 第2页(共12页)】

凋落物一般是指自然界植物在生长发育的过程中所产生的新陈代谢产物,由植物地上部分产生并归还到地面,其蓄积量与地表植被生物量、地表径流等因素密切相关。某科考组选择华北地区某低山坡内坡向、坡度、土壤等相同的三个坡面分别种植当地典型的乔木、灌木、草本,并适当加以干预,确保各坡面单一植被均匀分布。甲图示意实验观察坡的三个坡面,乙图示意三个坡面凋落物蓄积量实验数据。据此完成9~11题。



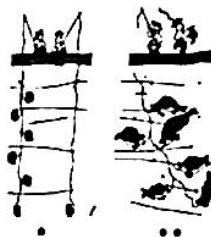
9. 实验观察坡的三个坡面凋落物蓄积量最大的季节是
 A. 春季
 B. 夏季
 C. 秋季
 D. 冬季
10. ①②③代表的植被类型分别是
 A. 乔木、草本、灌木
 B. 乔木、灌木、草本
 C. 灌木、乔木、草本
 D. 草本、灌木、乔木
11. 与①②相比,导致③植被蓄积量坡上、坡中及坡下差异的主导因素是
 A. 径流量
 B. 生物量
 C. 热量
 D. 坡向
12. 国家发改委2021年9月16日举行新闻发布会表示,17个省份已开展或启动猪肉收储工作。在生猪养殖成本中,饲料占有极高权重。国家是否启动托市收储,参考依据就是猪粮比,即生猪价格与作为饲料的玉米价格之比。根据近年生产成本数据测算,目前对应生猪生产盈亏平衡点的猪粮比价约为7:1。不考虑其他因素,下列认识正确的是
 ①扩大生猪养殖规模有利于提高猪粮比价 ②玉米价格下跌会带来生猪养殖盈利空间增大 ③当猪粮比价大幅下跌时国家将启动托市收储 ④猪粮比价越高,养猪利润越高,越利于市场稳定
 A. ①③
 B. ①④
 C. ②③
 D. ②④
13. 国务院总理李克强2021年9月22日主持召开国务院常务会议,要求做好跨周期调节,稳定合理预期,保持经济平稳运行。会议明确,做好预调微调和跨周期调节,加强财政、金融、就业政策联动,稳定市场合理预期。下列路径能准确反映财政、就业联动的是
 ①加快专项债券发行→资金落到具体项目→大力拉动有效投资→创造更多就业岗位
 ②落实减税降费政策→激发市场主体活力→市场主体增效添能→主力解决就业问题
 ③央行实施全面降准→缓解金融机构流动性不足→破解企业资金难题→稳定市场就业
 ④发放农资价格补贴→降低农资价格→保护农民种粮积极性→鼓励农民返乡创业
 A. ①②
 B. ①④
 C. ②③
 D. ③④
14. 目前,腾讯在上游网络游戏运营服务市场份额超过40%,排名第一;虎牙和斗鱼在下游游戏直播市场份额分别超过40%和30%,排名第一、第二。腾讯已具有对虎牙的单独控制权和斗鱼的控制权。2021年7月10日,国家市场监督管理总局发文表示,依法禁止虎牙公司与斗鱼国际控股有限公司合并。禁止两企业合并
 ①可以有效预防和制止企业垄断行为 ②表明市场行为必须受制于政府行为 ③旨在维护消费者利益和社会公共利益 ④能通过限制竞争维护良好市场竞争格局
 A. ①②
 B. ①③
 C. ②④
 D. ③④

15. 经过多年研究和谈判,2021年7月1日,经济合作与发展组织(经合组织)推出重新分配跨国企业利润征税权方案,即跨国企业除在公司总部和子公司所在地缴纳企业所得税外,还需在销售目的地缴税。该方案
- ①有利于避免多重征税和防止税收流失 ②适应了全球经济数字化发展的客观需要 ③有利于解决全球发展失衡、数字鸿沟等问题 ④会增加跨国企业海外合规成本,但不会增加税负
- A. ①③ B. ①④ C. ②③ D. ②④
16. 日前,我国要充分发挥村(居)民委员会下设的人民调解、治安保卫、公共卫生等委员会作用,村民委员会应设妇女和儿童工作等委员会,社区居民委员会可增设环境和物业管理等委员会,并做好相关工作。完善村(居)民委员会成员履职承诺和述职制度。上述措施
- ①旨在提高基层政权的社会建设能力 ②有利于夯实国家治理的根基 ③拓展了村(居)民参与民主管理的范围 ④有利于健全完善基层群众自治制度
- A. ①② B. ①③ C. ②④ D. ③④
17. 2021年7月中旬至10月中旬,全国人大常委会执法检查组对我国6个省(区、市)公证法实施情况进行检查。检查过程中,注重了解法律实施和公证工作中存在的主要问题,听取各方对进一步推进法律实施和与时俱进修改完善公证法的意见建议。此次执法检查是全国人大常委会
- ①通过加强履职能力建设推动国家治理现代化 ②通过行使监督权推进公证法的有效贯彻实施 ③坚持民主集中制原则和科学立法的必然选择 ④坚守社会公平正义最后一道防线的客观要求
- A. ①② B. ①④ C. ②③ D. ③④
18. 2021年7月14日,中共中央统战部组织召开调研协商座谈会,就相关民主党派中央和无党派人士代表开展的“构建新发展格局”调研成果进行协商。民盟、民建、致公党、台盟、无党派人士在座谈会上介绍了调研成果,从不同角度提出了务实中肯的意见建议。据此,正确的解读是
- ①各民主党派积极承担促进发展、完善治理的责任 ②形成多党合作格局是中国共产党执政的重要内容 ③政协协商是提高各民主党派参政能力的有效途径 ④中国共产党通过协商民主加强团结、广泛凝聚共识
- A. ①③ B. ①④ C. ②③ D. ②④
19. 非遗直播、“图书外卖”、文创推广平台……近年来,以“文化+科技”为基础的“新文创”扮演着越来越重要的角色。“十四五”规划纲要明确提出实施文化产业数字化战略,加快发展新型文化企业、文化业态、文化消费模式。上述做法是基于
- ①文化始终是经济社会发展的重要平台 ②科技是促进经济、文化发展的重要因素 ③当今时代文化与经济相互交融的特点显著 ④文化和科技是各国综合国力竞争的基础和关键
- A. ①③ B. ①④ C. ②③ D. ②④
20. 江南古称“吴地”,该地民歌称为吴歌。田山歌以稻作文化为基础,是吴歌的组成部分,它又分为小山歌和大山歌。小山歌多是在劳作后,以舒缓情绪为主,唱时人数少、旋律平稳、乐句小;大山歌则是在劳作中,以振作劳动中人们的精神和情绪,唱时人数多、多起伏、多乐句。可见
- ①劳动群众在民歌创作中不断提高文化素养 ②民歌形式的多样性推动生产实践丰富多彩 ③熟悉生产实践才能深谙民歌的内涵和形式 ④异彩纷呈的民歌体现中华文化的博大精深
- A. ①② B. ①④ C. ②③ D. ③④
21. 同是杂交水稻“三系”配套,为什么日本没有搞成高产杂交水稻?袁隆平曾向记者解释了地理、气候、品种等诸多方面的因素,看记者似懂非懂,他沉吟片刻说:“可能根本原因是,他们没有像我们那样饥饿过。”饥饿是经历1959年至1961年三年困难时期人们的共同记忆。材料说明
- ①人们的认识受主观条件和客观条件的制约 ②认识客体的复杂性制约认识主体的能动性 ③人们获得真理的过程必然打上客观条件的烙印 ④实践提出新要求加快人们进行探索和研究步伐
- A. ①② B. ①④ C. ②③ D. ③④

【高三核心模拟卷(中)·文综(三) 第4页(共12页)】



22. 漫画《钓》讽刺了一些人想问题、做事情
- ①不懂得突破一定的度后事物可能走向反而
 - ②不能准确把握事物存在和发展的各种条件
 - ③没有坚持主观能动性和规律客观性的统一
 - ④忽视了事物发展是前进性和曲折性的统一



- A. ①②
- B. ①③
- C. ②④
- D. ③④

23. 《红楼梦》第五回写道：如今宝玉与黛玉同处贾母房中，故略比别的姊妹熟惯些，既熟惯便更觉亲密，既亲密便不免有些不虞之隙、求全之毁。本段描写蕴含的辩证法道理是

- ①矛盾双方对立统一总能推动事物和谐发展
- ②世界上的事物包含着对立统一的两个方面
- ③非统一体中的矛盾双方的相互依赖性较弱
- ④矛盾就是对立统一，对立是统一中的对立

- A. ①③
- B. ①④
- C. ②③
- D. ②④

24. 三星堆器物坑中出土的大青铜立人像，铜器中的尊、盘等重要礼器，从形制到纹饰，均吸收了中原王朝的制作技术。金杖、金面具、青铜人像等在黄河流域则鲜见。青铜器器形虽然明显仿效中原商文化风格，其组合却有别于鼎、爵、觚、斝的商文化系列而凸显民族和地域文化特征。据此可知

- A. 分封制促进了区域间文明交流
- B. 古蜀地区手工业水平领先世界
- C. 奴隶社会王权与神权紧密结合
- D. 中华文明具有多元一体的特征

25. 魏晋之际，在乱世中寻求精神解放和幸福的魏晋士人对传统价值标准和信仰追求由怀疑到否定，并进而形成了玄学。魏晋玄学的幸福观以其畅性情之自然、重生命之长久、贵精神之自由、尚行为之放达的基本价值取向诠释了对“名教”（礼教）反思后的自然论。据此可知，魏晋时期

- A. 传统儒家幸福观被彻底颠覆
- B. 士人倡导“理”性的社会生活
- C. 玄学是传统文化融合的产物
- D. 政府文化专制政策日益强化

26. 唐朝前期，中书省秉承帝旨，参与决策军国要务。自唐高宗将政事堂迁至中书省后，中书省更显得权尊势隆。安史之乱后，逐渐演变为功臣将帅的加官。唐肃宗时，翰林院学士开始与中书舍人“公章诏敕”。唐宪宗时，“凡将相出入，皆翰林草制”。据此可知，中书省的发展演变反映出唐朝

- A. 人才选拔制度得到完善
- B. 政府治理能力得到全面提升
- C. 君主专制统治得到强化
- D. 吏治的清明与高效得到保障

27. 有学者认为，就耕织图而言，历代虽多有绘制，但基本都是以南宋楼璣《耕织图》为“母本”的（见下图 1）。图 2 为康熙朝《耕织图》，二者大同小异。对该学者的观点解读正确的是




图 1 南宋《耕织图》



图 2 清朝《耕织图之一·耕田》

- A. 中国传统经济政策得以实施
- B. 古代农业发展未有根本突破
- C. 农民社会境遇得到明显改善
- D. 南方北方农耕技术基本相同

28. 梁启超曾说：“国者何，积民而成也。国家思想者何：一曰对于一身而知有国家，二曰对于朝廷而知有国家，三曰对于外族而知有国家，四曰对于世界而知有国家。”梁启超的这些主张

- A. 迎合了当时中国救亡图存的时代需要
- B. 摆脱了传统儒学的影响
- C. 是中国国家主权意识开始形成的标志
- D. 旨在倡导革命救亡图存

【高三核心模拟卷(中)·文综(三) 第 5 页(共 12 页)】

29. 1920年5月1日,李大钊在《“五一”May Day运动史》一文中指出:“中国人的‘五一’运动,仍然不是劳工阶级的运动,只是三五文人的运动;不是街市上的群众运动,只是纸面上的笔墨运动。”李大钊意在
- A. 回顾“五一”纪念日的起源与发展过程
B. 阐明创建工人阶级政党的重要意义
C. 强调马克思主义应与工人运动相结合
D. 号召青年知识分子追求真理与进步
30. 1940年,毛泽东指出:“在中国目前的情况下,八小时工作制还难于普遍推行,在某些生产部门内还须允许实行十小时工作制。其他生产部门,则应随情形规定时间。劳资间在订立契约后,工人必须遵守劳动纪律,必须使资本家有利可图。”这反映出毛泽东
- A. 注重巩固抗日民族统一战线
B. 主张践行社会主义革命理论
C. 把发展生产力作为工作中心
D. 开始重视联合民族资产阶级
31. 下表是1978~2010年中国经济发展状况的有关统计。这一时期中国经济结构的变化主要得益于

1978~2010年中国经济结构的变化(%)

年份	1978	1980	1985	1990	1995	2000	2001	2005	2010
GDP结构									
农业占比	28.2	30.1	28.4	27.1	20.5	16.4	14.1	12.5	10.2
工业占比	44.1	43.9	38.3	36.7	41.0	40.4	39.7	42.2	46.9
服务业占比	23.7	21.4	28.5	31.3	30.7	39.0	40.5	40.1	43.0
就业结构									
农业占比	70.5	68.7	62.4	60.1	52.2	50.0	50.0	44.8	36.8
贸易结构									
农产品出口占比	—	26.7	24.5	17.2	9.4	6.3	6.1	3.6	3.1
农产品进口占比	—	33.8	12.1	16.1	9.3	5.0	4.9	4.3	5.2
农村人口比重	82.1	80.6	76.3	73.6	71.0	63.8	62.2	57.0	50.3

- A. 世界政治局势持续稳定
B. 生产关系变革推动经济持续稳定发展
C. 中国加入世界贸易组织
D. 改革开放促使现代化进程的不断深化
32. 随着罗马商品经济的发展和个人权利意识的兴起,特别是契约法的出台,契约因素逐渐压倒了血缘因素。商业贸易、借贷、租赁、财产转让、遗嘱继承等经济交往中的契约,强调以双方意思一致为契约基础。这体现出古罗马法
- A. 以自然法为核心理论
B. 对个人权利的承认和尊重
C. 体现人人平等的理念
D. 建立在民主政治体制之上
33. 14世纪,意大利的大学科目设置增加了修辞、哲学和天文学,这些古典学问是非基督教的,被看作是“人文学科”。到了15世纪,牛津和剑桥大学开设了人文学科,德国莱比锡大学也开设了人文教育讲座。这反映出
- A. 人类自我意识的第一次伟大觉醒
B. 非宗教的理性时代来临
C. 文艺复兴推动了欧洲教育近代化
D. 基督教神学被彻底颠覆
34. 为了使费城会议代表的选举不受人民的左右,各利益集团在1787年通过州宪时制定了关于投票人和州议会财产的限制,而制宪会议代表的选举也遵循了这种限制。这体现了1787年美国宪法
- A. 使三权分立由理论到实践
B. 违背了共和主义基本原则
C. 扩大了美国联邦政府的权力
D. 具有较强的资产阶级性质
35. 1964年10月,第二次不结盟首脑会议提出《关于建立新的国际经济秩序的宣言》;77国集团在1972年《利马宣言》中提出《各国经济权利和义务宪章》,以上文件于1974年联合国大会获得通过。确认了各国对其自然资源和一切经济活动拥有充分主权,承诺改革不利于发展中国家的国际金融制度和贸易条件等。这反映出
- A. 世界经济朝着体系化和制度化方向发展
B. 世界经济的多极化趋势加强
C. 全球化致使传统社会问题呈现全球共性
D. 世界政治经济秩序需要重构

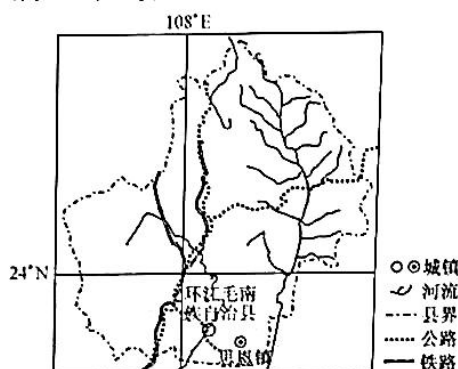
【高三核心模拟卷(中)·文综(三) 第6页(共12页)】

二、非选择题:共 160 分。第 36~42 题为必考题,每个试题考生都必须作答。第 43~47 题为选考题,考生根据要求作答。

(一)必考题:共 135 分。

36. 阅读图文材料,完成下列要求。(24 分)

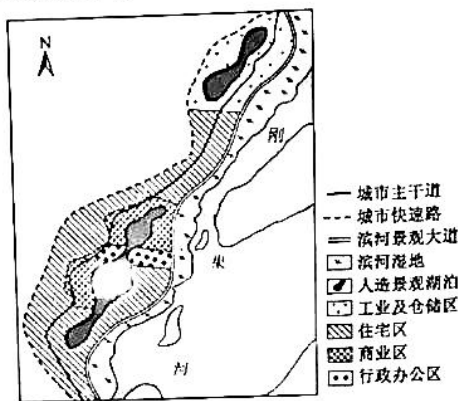
1996 年,中国科学院亚热带农业生态研究所因地制宜提出环境移民和异地科技扶贫设想,在广西河池环江毛南族自治县政府的支持推动下在思恩镇建设“肯福环江生态移民示范区”。当年 9 月,上南、下南、龙岩等乡镇的 97 户 513 名移民从大石山区迁出,搬进肯福示范区。为了避免村民过度开发,造成新的环境破坏,中科院扶贫团队专家们以丘陵坡地为生态系统,根据土地资源结构,合理配置各项用地,荒坡上新开果蔗园,旱土均采取水平梯土、地膜覆盖等措施,避免了以往因不合理开垦产生的水土流失、环境恶化、再度陷入贫困的恶性循环现象,人均纯收入由 1996 年不足 300 元提高到 2018 年的 12 180 元,实现脱贫致富。下图示意广西河池环江毛南族自治县思恩镇地理位置及周边地区。



- (1) 推测大石山区贫困落后的主要原因。(6 分)
- (2) 说明荒坡上开果蔗园对保护当地地表环境的作用。(6 分)
- (3) 地膜覆盖有助于肯福示范区农业增产增收,对此谈谈你的理解。(6 分)
- (4) 指出当地政府为推动农业进一步发展可采取的主要措施。(6 分)

37. 阅读图文材料,完成下列要求。(22分)

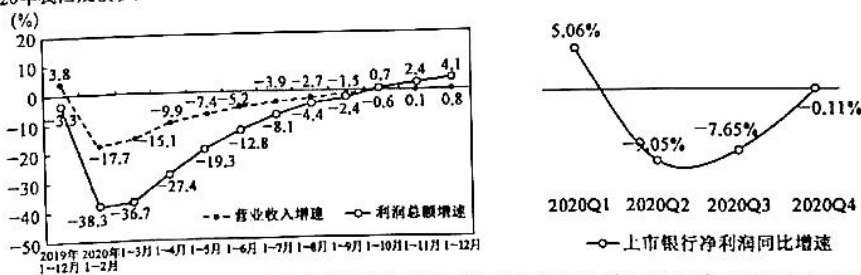
刚果共和国是非洲经济发展速度最快的12个国家之一,也是撒哈拉以南非洲城市化程度较高的国家。为了2015年非洲运动会的召开,刚果政府在其首都布拉柴维尔市区东北部的郊区建设了大型体育设施,并修建了联通市中心和体育场馆的高架桥以及滨河大道。随着交通设施的完善,政府提出建设滨河新城。下图示意滨河新城规划。



- (1)指出刚果政府提出建设滨河新城的主要原因。(6分)
- (2)说明滨河新城内规划建设一些人造景观湖泊的主要目的。(4分)
- (3)推测滨河新城东部可能面临的主要风险。(4分)
- (4)为滨河新城的开发建设提出合理化建议。(8分)

38. 阅读材料,完成下列要求。(14分)

材料一 2020年我国规模以上工业企业累计营业收入与利润总额同比增速 2020年四个季度我国上市银行净利润同比增速



注:2021年1~6月份,全国规模以上工业企业实现利润总额42183.3亿元,同比增长66.9%;全部商业银行累计实现净利润1.1万亿元,同比增长11.1%。

材料二 2021年上半年,金融资源持续向重点领域、薄弱环节倾斜。制造业贷款较年初增加1.7万亿元,同比增速连续14个月保持在10%以上;涉农贷款余额超过41万亿元,绿色信贷余额达12.52万亿元。2021年前5个月,全国新发放普惠小微企业贷款利率5.68%,比2020年下降0.2个百分点。截至2021年6月末,普惠型小微企业贷款增速保持在30%以上,信息技术服务业、科学研究服务业贷款同比分别增长19.3%、23.7%,均高于各项贷款增速。

【高三核心模拟卷(中)·文综(三) 第8页(共12页)】

密 封 线 内 不 要 答 题

目前,我国绿色信贷规模位居世界第一。截至2021年一季度末,国内21家主要银行绿色贷款余额达12.5万亿元,占各项贷款的9.3%,其中绿色交通、可再生能源、节能环保产业贷款余额占比超过70%。

(1)解读材料一包含的经济信息。(4分)

(2)结合材料二并运用经济生活知识,说明金融是如何促进我国发展的。(10分)

39. 阅读材料,完成下列要求。(12分)

2015年9月,习近平主席在出席联合国成立70周年系列峰会时宣布,中国将设立“南南合作援助基金”和南南合作与发展学院(简称“南南学院”)。2021年7月8日,南南合作援助基金和南南合作与发展学院成立5周年纪念活动在北京举行。

5年来,南南合作援助基金与联合国开发计划署、世界粮食计划署、世界卫生组织等10多个国际组织密切合作,在近50个发展中国家实施上百个项目,惠及2000多万民众。2017年5月,中方宣布在首期提供20亿美元基础上再向南南合作援助基金增资10亿美元。

5年来,由于课程具有实用性,南南学院在发展中国家的政府官员中广受欢迎。截至2021年7月,南南学院已招收近60个国家的200多名硕士和博士学员,有160多名学员毕业归国,将在中国学习的经验知识付诸本国建设实践。

结合材料并运用政治生活知识,说明中国为什么要加快推进南南合作。

40. 阅读材料,完成下列要求。(26分)

100年来,一代又一代中国共产党人,视死如归,顽强奋斗,无私奉献,创造了一个又一个奇迹。美术工作者用手中的画笔和刻刀,真实记录下这些闪光的灵魂和动人的精神,让共产党人的形象更加深入人心。

在位于李大钊家乡河北唐山的大钊公园,屹立着国内最大的半身人像雕塑《李大钊纪念像》。它的创作者打破常规,采用了高度夸张的表现手法,以概括的艺术语言表现了一代革命家坚定的信仰和刚正不阿的精神,使之成为中国城市雕塑的经典范例。



每天,都会有人来到大钊公园,瞻仰这位已经离开我们90多年的革命先烈。这件雕塑和常见的纪念碑式雕塑有很大不同。为表现李大钊脸型方正的形象特征,突出“铁肩担道义”的主题,创作者借鉴中国北方传统城楼建筑对称、开闢的形式,取法汉代石刻艺术,追求重、拙、大的审美取向,将原计划3米高的全身坐像,改为了3米多高、7米多宽的头像,体量感增大数倍,形式也更加单纯洗练,而主题则愈加鲜明深刻。方正、刚直、沉稳、开闢的雕塑形象,如同中国革命的一方基石,与大地融为一体。这件作品不仅获得“新中国城市雕塑建设成就奖”,也对年轻一代的雕塑家产生了巨大影响。湖南长沙橘子洲头的《青年毛泽东像》等一批优秀城市雕塑中,都可以感受到这种艺术的传承。

【高三核心模拟卷(中)·文综(三) 第9页(共12页)】

考号

姓名

班级

学校

题 答 要 不 内 封 密

- (1)结合材料并运用意识的相关知识,解读中国共产党英雄人物雕像采用夸张手法的哲学智慧。(12分)
- (2)红色美术经典让共产党人的形象更加深入人心,结合材料并运用文化创新的相关知识加以说明。(10分)
- (3)请在大钊公园留言簿上写下两条瞻仰留言。(4分)

41. 阅读材料,完成下列要求。(25分)

材料一

《宋史·食货志》云:“钱本中国宝货,今乃与四夷共用。”据统计,日本全国已有 298 处出土了中国的铜钱。从唐到明共 553 000 余枚,其中北宋的钱币占 82.4%。1899 年在越南河内发现的况赛场宝藏两个陶罐中,北宋钱币就有 20 618 余枚,占此次发现中国钱币的 89% 以上。宋钱在印度尼西亚亦有很多出土。另外,1959 年以来,东非发现中国钱币中能鉴定出年代的约有 91% 是宋钱。制作精良、信用良好的宋钱得以在当时的中外贸易中广泛流通,出现了“蕃者非铜钱不往,而蕃货亦非铜钱不售”的现象。而中国商人亦经常用铜钱换取外国商品。13~15 世纪的东南亚及以西各国多以金银为主币,然而却采用中国铜钱为辅币,其中不少国家和地区将中国铜钱作为财富贮藏。

——摘编自崔蕊满《宋代钱币的国际化程度考》

材料二

二战后,美国主导建立了以黄金为参照、美元为中心,欧洲货币汇率紧盯美元的布雷顿森林体系,并由此确立了美元的国际贸易结算货币地位。1960 年,美国经济学家罗伯特·特里芬在其《黄金与美元危机》一书中提出:“由于美元与黄金挂钩,各国为了发展国际贸易,必须用美元作为结算与储备的货币币种,这样就会导致流出美国的货币在海外不断沉淀,对美国来说就会发生长期贸易逆差;而美元作为国际货币核心的前提是必须保持美元币值稳定与坚挺,这又要求美国必须是一个长期贸易顺差国。”20 世纪 70 年代,随着世界形势的重大变化,美元放弃与黄金的固定比价,布雷顿森林体系崩溃。

——摘编自罗伯特·特里芬《特里芬难题》

- (1)根据材料一并结合所学知识,概括宋代钱币国际化的原因并分析其影响。(12分)
- (2)根据材料二并结合所学知识,比较指出北宋时期和二战后货币国际化的异同。(13分)

42. 阅读材料,完成下列要求。(12分)

材料

文化是一个民族的本质、核心的部分,具有稳定性。但每一种文化有各自的自我发展形式,所以世上并不只有一种雕塑,一种绘画,一种数字,而是有许多种。从人类文化发展的历史来看,文化的冲突与融合是一种规律,或者说文化的进步和发展的真正动力正来自于文化的交流。如果说没有文化的冲突与融合,也就没有文化的发展与创新,文化就会走向故步自封,最终走向灭亡。在这一过程中,经历了一个由怀疑、排斥到被迫接受再到主动融合这样一个漫长的过程,而在这个漫长的过程中,时常会出现不同的杂音,但总的发展趋势则是由抵制、排斥不断走向融合,由保守封闭逐步走向激进开放。


——摘编自熊吕茂《近代中西文化冲突与融合的特点及其影响》

根据材料并结合中国近现代史的相关知识,围绕“中西文化冲突与融合”提出自己的见解,并说明理由。(要求:见解明确;持论有据,表述清晰)

(二) 选考题:共 25 分。请考生从 2 道地理题、3 道历史题中每科任选一题作答。如果多做,则每科按所做的第一题计分。

43. [地理——选修 3:旅游地理](10 分)

圣家族大教堂(如下图)位于西班牙加泰罗尼亚巴塞罗那,由西班牙建筑师安东尼奥·高迪设计。尽管教堂还未竣工,但已被联合国教科文组织选为世界遗产。2010 年 11 月,教皇本笃十六世将教堂封为宗座圣殿;如今,众多婚礼也会预约到该教堂举行。



指出圣家族大教堂的旅游价值,并简述其被选为世界遗产对加泰罗尼亚巴塞罗那的重要意义。

44. [地理——选修 6:环境保护](10 分)

“无废城市”是以创新、协调、绿色、开放、共享的新发展理念为引领,通过推动形成绿色发展方式和生活方式,持续推进固体废物源头减量和资源化利用,最大限度减少填埋量,将固体废物对环境的影响降至最低的城市发展模式。2019 年 4 月 30 日,中华人民共和国生态环境部公布 11 个“无废城市”建设试点。

分析政府在“无废城市”建设中推行绿色生活方式可采取的主要措施。

45. [历史——选修1:历史上重大改革回眸](15分)

材料

行政体制改革是政治体制改革的重要内容,也是我国全面深化改革的重要组成部分。全面深化改革的总目标是完善和发展中国特色社会主义制度,推进国家治理体系和治理能力的现代化。这一目标既是新时期行政体制改革的战略坐标,也是把握和推进新时期行政体制改革的目标指针。科学的宏观调控,有效的政府治理,是发挥社会主义市场经济体制优势的内在要求。新时期政府职能转变的宏观调控,有效的政府治理,是发挥社会主义市场经济体制优势的内在要求。新时期政府职能转变是要把握好行政管理体制和流程的本质联系,辩证处理简政放权与有效管制之间的关系,使转变政府职能的改革集中体现为政府行政管理方式的转变,既把该放的权力放开放到位,又把该管的事务管住管好。在法治国家、法治政府和法治社会的基础上建设服务型政府,使法治政府建设与服务型政府建设紧密结合,深化和拓展了政府体制改革的目标和方向。法治政府和服务型政府的有机结合,正是政府运行的价值取向与规则取向、实体正义与程序正义的有机结合,是政府的宗旨目的及其实现方式的有机结合。

——摘编自李彤《深化行政体制改革的新特点》

(1)根据材料并结合所学知识,概括新时期中国行政体制改革的特点。(9分)

(2)根据材料并结合所学知识,说明新时期中国行政体制改革的意义。(6分)

46. [历史——选修3:20世纪的战争与和平](15分)

材料

20世纪50年代,让世界信服美国的“和平意图”成为美国重大宣传主题之一。自1953年3月5日斯大林去世至1955年7月23日内瓦峰会期间,美国政府几乎同时启动了“和平的机遇”“和平的原子”和“开放领空”的三大宣传运动,力图全方位塑造美国海外“和平”形象,借此团结“自由世界”与击败共产主义。这一时期美国将和平视为一种可行的冷战政策,看似平等,实则是对别国未来走向进行了强有力的干预,实际上是一种新殖民主义。这一“和平”宣传不但不能得到盟友的满意,也不被新兴国家买账,因此美国的形象必定深受其殖民主义行径的冲击。

——摘编自胡腾蛟《美国海外“和平”形象宣传运动探略(1953~1955)》

(1)根据材料并结合所学知识,分析20世纪50年代美国制定“和平”宣传政策的原因。(6分)

(2)根据材料并结合所学知识,简要评价20世纪50年代美国的和平宣传运动。(9分)

47. [历史——选修4:中外历史人物评说](15分)

材料

陶澍,湖南安化人,是嘉庆、道光年间的名臣,著名的理财能手,曾经当了十多年的两江总督,在林则徐、贺长龄、魏源等属吏的协助下,兴利除弊,政绩斐然。他大胆改河运为海运,在运河发生水患时,将当年的漕粮按时送到北京;他改革整顿两淮盐政,改引为票;他兴办全省河工,治理水害,大修水利。陶澍出身贫寒,“少负经世志”,也是当时倡导经世致用之学的代表人物。他和龚自珍、魏源、林则徐、贺长龄等人志同道合,敢于正视现实,关注民生,揭露封建衰世的黑暗和腐败,要求改革内政,严禁鸦片,加强军务,防御外敌,是一代名臣。

——摘编自河山曲《追寻一个真实的左宗棠》

(1)根据材料,概括陶澍担任两江总督时期的主要贡献。(8分)

(2)根据材料并结合所学知识,分析陶澍被称为“一代名臣”的主要原因。(7分)

政治部分(三)

12. C 不考虑其他因素,玉米价格下跌,生猪养殖成本下降,生猪养殖盈利能力提高,故②入选;猪粮比价大幅下跌,意味着猪肉价格大幅下跌,这样会挫伤生猪养殖户的积极性,故国家应启动托市收储,稳定生猪价格,维护生猪养殖的利益,故③入选。扩大生猪养殖规模,会导致生猪价格下跌,进而会缩小猪粮比价,故①不选;猪粮比价过高,会破坏市场稳定,故④不选。
13. A 加快专项债券发行,资金落到具体项目,大力拉动有效投资,有利于创造就业岗位,①入选;落实减税降费政策,激发市场主体活力,提高企业盈利能力,有利于稳定就业,故②入选。央行实施全面降准,属于货币政策,故③不选;发放农资价格补贴,不能降低农资价格,故④不选。
14. B 国家市场监督管理总局依法禁止虎牙公司与斗鱼国际控股有限公司合并,主要是为了防止因合并而形成行业垄断,进而破坏市场秩序,侵害消费者合法权益和社会公共利益,故①③符合题意。政府行为应受制于市场规律,故②不选;政府不应限制公平合法竞争,故④不选。
15. D 随着经济全球化、数字化深度发展,跨国企业生产的商品已广泛销售到世界各地,按照公司所在地征收企业所得税的做法已不适应新的发展形势,故经合组织推出重新分配跨国企业利润征税权方案,实行所在地和销售地共同征税,由于是征税权方案重新调整,故不增加企业税负,所以②④符合题意,①③不符合题意。
16. C 要充分发挥村(居)民委员会下设委员会作用,增设相关委员会,完善村(居)民委员会成员履职承诺和述职制度,有利于夯实国家治理的根基,有利于健全完善基层群众自治制度,故②③入选。村(居)民委员会不是基层政权,故①不选;村(居)民参与民主管理的范围,由法律法规规定,故④不选。
17. C 全国人大常委会对我国6个省(区、市)公证法实施情况进行检查,注重了解法律实施和公证工作中存在的主要问题,听取各方对进一步推进法律实施和与时俱进修改完善公证法的意见建议,行使了监督权,坚持了民主集中制原则,有利于推动科学立法,故②③符合题意。材料没有涉及全国人大常委会加强履职能力建设问题,故①与题意不合;公正司法是坚守社会公平正义的最后一道防线,故④不选。
18. B 就“构建新发展格局”,中国共产党和各民主党派进行协商,广泛凝聚共识,故①④符合题意。多党合作的格局早已形成,故②不选;材料未提及人民政协,故③不选。
19. C “非遗直播”、“图书外卖”、“文创推广平台”必须基于现代技术,故②入选;文化产业数字化、新型文化企业、文化业态、文化消费模式等,都是文化与经济相互交融的突出表现,故③入选。文化是人类实践的产物,经济决定文化,故①不选;文化不是综合国力竞争的基础,故④不选。
20. D 江南民歌分为小山歌和大山歌,小山歌多是在劳作后,以舒缓情绪为主,唱时人数少、旋律平稳、乐句小,大山歌则是在劳作中,以振作劳动中人们的精神和情绪,唱时人数多、多起伏、多乐句,显示出熟悉生产实践才能深谙民歌的内涵和形式,异彩纷呈的民歌体现中华文化的博大精深,故③④入选。材料没有涉及提高文化素养的问题,故①与题意不合;材料没有涉及民歌推动生产实践丰富多彩,②不选。
21. D 对“为什么日本没有搞成高产杂交水稻”的回答,袁隆平一方面分析诸多客观方面因素,另一方面重点强调了中

- 人有强烈的客观需要,故③④符合题意。材料不涉及人们的认识受主观条件制约,也不涉及人们的认识受认识客体的制约,①②不选。
22. A 漫画反映的是,因垂钓者忽视了钓线的承受能力,终因有多条鱼儿上钩导致钓线断了而一无所获,故①②符合题意。材料没有涉及尊重客观规律、前进性和曲折性等问题,故③④与题意不合。
23. D 宝玉与黛玉同处贾母房中,有亲密,也有不虞之隙、求全之毁,意即统一体中的矛盾双方也存在对立,事物包含着对立统一两个方面,故②④符合题意。矛盾双方对立统一不一定总是推动事物和谐发展,故①不选;矛盾双方处于统一体之中,故③不选。
38. (1)受疫情影响,我国规模以上工业企业利润、上市银行业利润增速出现大幅下滑。(1分)随着我国经济复苏,我国规模以上工业企业利润、上市银行业利润增速又出现大幅回升,(1分)全国规模以上工业企业利润回升远快于全部商业银行,(1分)这在一定程度上反映出我国金融向工业企业让利的积极效果,金融服务工业企业质效持续提升。(1分)(其他答案,符合题意,可酌情给分)
- (2)金融服务制造业,推动我国实体经济发展,夯实现代化经济体系的基础;金融服务“三农”,推动我国乡村振兴,维护国计民生;金融服务小微企业,解决小微企业融资难、融资贵问题,激发我国市场活力,推动非公有制经济发展;金融服务科技创新,增强我国科技实力,推动产业升级、推进创新型国家建设;金融服务绿色发展,提高我国经济发展质量,推动生态文明建设。(每点2分,共10分)(其他答案,符合题意,可酌情给分)
39. 加快推进南南合作,是我国奉行独立自主的和平外交政策的要求,是顺应时代发展潮流、推动解决发展问题的需要;(3分)有利于加强与国际组织的合作,坚定捍卫多边主义,维护以联合国为核心的国际体系;(3分)有利于维护广大发展中国家的发展权益,推动建立国际新秩序,积极构建人类命运共同体;(3分)有利于为促进发展中国家发展贡献中国经验、中国智慧和力量,发挥我国负责任大国的作用,增强我国的国际地位和影响力。(3分)(其他答案,符合题意,可酌情给分)
40. (1)意识是客观存在的主观映象。(2分)意识对于人体生理活动具有调节和控制作用。(2分)意识对改造客观世界具有指导作用。(2分)中国共产党英雄人物雕像采用夸张手法,既反映了创作者的艺术风格和价值追求,更生动准确地反映了中国共产党人的英雄品格和伟大形象;(2分)中国共产党英雄人物雕像采用夸张手法,能带给参观者巨大的心灵震撼,增强人们坚持党的领导的决心,进一步激发人们报效祖国的巨大热情,(2分)推动实现中华民族伟大复兴。(2分)(其他答案,符合题意,可酌情给分)
- (2)①立足社会实践是文化创作的基本要求。(2分)②文化创新可以推动社会实践的发展。(2分)红色美术经典,服务于中国特色社会主义的伟大实践。(2分)③继承传统,推陈出新,是文化创新的重要途径。(2分)红色美术经典,继承中国传统城楼建筑、汉代石刻艺术等创作手法。(2分)(其他答案,符合题意,可酌情给分)
- (3)继承革命烈士遗志,珍惜今天幸福生活;时间的长河流淌不息,却冲不淡我们对革命先烈的缅怀;学习先烈革命精神,为振兴中华建功立业。(每条2分,答出两条即可得4分)(其他答案,符合题意,可酌情给分)

历史部分(三)

24. D 考查中国古代文明的特征。据材料可知,三星堆出土的文物与黄河流域的中原文明——商文明既具有相似性,又有诸多不同,反映了早期中华文明多元一体的特征,故选D项。夏商时期尚未实行分封制,故排除A项;材料中没有提供世界其他地区手工业发展状况,故排除B项;仅从材料中不能得出王权与神权相结合的历史结论,故排除C项。
25. C 考查魏晋玄学。根据所学知识可知,玄学是三国两晋时期兴起的,以融合道家和儒家思想为主的哲学思潮,魏晋玄学的幸福观体现其一方面受到道教思想的影响,另一方面又体现出儒家文化重现实、爱生命等积极入世的思想,故C项正确。儒家思想从根本上动摇是在近代新文化运动之后,故排除A项;士人倡导“理”性的社会生活是理学阶段,故排除B项;材料未涉及封建政府的文化专制政策的日益强化,故排除D项。
26. C 考查唐朝政治。根据材料并结合所学知识可知,唐初,中央设三省中书、门下和尚书为最高政府机构,分别负责决策、审议和执行。然而唐初三省制确立后,很快就发生分化演变,究其原因主要是君主强化专制统治的需要。材料中中书省由最初的位高权重最后演变为被翰林院学士剥夺了其撰写诏敕的职权,中书省的职能几乎旷废,故C项正确。A、B两项与题干主旨不符,在材料中也体现不出来,故排除;任何一种选官任人的制度都无法保障吏治的清明与高效,故排除D项。
27. B 考查中国古代的农业经济。根据材料“就耕织图而言,历代虽多有绘制,但都是以楼璠《耕织图》为‘母本’的”“下图为后世广为流传的康熙朝《耕织图》,二者大同小异”,这实质上反映出古代中国农业未有根本突破,故B项正确。中国传统的经济政策即重农抑商的经济政策,抑商在材料中体现不出来,故排除A项;C项在材料中体现不出来,故排除;根据所学知识可知,D项表述有误,故排除。
28. A 考查近代思想。根据材料并结合所学知识可知,梁启超认为国家是全体人民的国家,不是一家一姓私人的国家。因此,每个国民必须具有爱国思想,必须热爱自己的国家。“一身而知有国家”是指国家思想是建立在个人自身权利之上,爱国既是热爱国家整体,也是尊重国民个人权利,从而使爱国主义思想包含了热爱国家整体与尊重国民个人权利两方面的思想内容。这是对传统儒家爱国主义思想的发展,迎合了救亡图存的时代需要,故A项正确。梁启超的思想并未摆脱传统儒学的影响,故排除B项;C项缺乏依据,故排除;梁启超主张变法图强,而非革命,故排除D项。
29. C 考查马克思主义在中国的传播。根据材料1920年5月1日,李大钊指出:“中国人的‘五一’运动,仍然不是劳工阶级的运动,只是三五文人的运动;不是街市上的群众运动,只是纸面上的笔墨运动”可知李大钊这一时期已转变为马克思主义者(1920年5月),他意在主张马克思主义与工人运动相结合,故C项正确。以李大钊的《“五一”May Day 运动史》作为发刊词,介绍了“国际劳动节”的由来以及欧美工人争取8小时工作制的胜利斗争,是材料表述的现象,不符合材料的主旨,故排除A项;材料中并未涉及工人阶级政党建立及号召青年知识分子追求真理与进步的情况,排除B、D两项。
30. A 考查抗战时期毛泽东思想。从材料看到,毛泽东代表的中国共产党强调“工人必须遵守劳动纪律,必须使资本家有利可图”,这反映出毛泽东注重巩固抗日民族统一战线,故A项正确。新中国成立后中共才开始践行社会主义革命理论,故B项错误;C项说法与材料主旨无关,且当时的工作中心是集中一切力量打败日本帝国主义,故排除;D项“开始”说法不符合史实,故排除。
31. D 考查现代中国经济。由图表资料并结合所学知识可知,该表内容反映的是中国1978~2010年经济结构的变化。结构的变化包括产业比重、就业结构等,根据图表内容可看出,随着中国工业化进程的加快,产业结构进一步优化,城市化水平不断提高,从而使经济社会全面协调发展,也就是使中国现代化进程不断深化,而这一切成就的取得主要得益于改革开放的推动,故D项正确。A项不符合史实,故排除;这一时期中国经济发展除了生产关系变革这一因素外,还有生产力发展这一因素,B项表述片面,故排除B项;C项只是其中一个因素,不符合主要得益于这一限定,故排除。
32. B 考查罗马法的发展。材料中罗马法律思想和契约精神,本质上是对个人权利的尊重和承认,故选B项。材料没有体现自然法思想,故排除A项;蕴含人人平等的理念与史实不符,故排除C项;材料没有体现古罗马法与民主政治的关系,排除D项。

· 历史部分 参考答案

33. C 考查文艺复兴及其影响。根据材料并结合所学知识可知,14、15世纪,这一时期正值欧洲文艺复兴时期,相对于宗教神学,天文学等人文学科的设立推动了当时欧洲教育的近代化,故C项正确。人类自我意识第一次伟大觉醒的标志是智者学派提出的“人是万物的尺度”,故排除A项;启蒙运动开启了理性时代,故排除B项;D项不符合史实,故排除。
34. D 考查1787年美国宪法。由材料“为了使费城会议代表的选举不受人民的左右,各利益集团通过州宪时制定了关于投票人和州议会财产的限制,而制宪会议代表的选举也遵循了这种限制”,可知1787年美国宪法具有较强的资产阶级性质,故选D项。材料没有涉及三权分立,排除A项;共和主义原则主要指的是上到总统,下至国家公职人员均由选举产生,这不符合题干主旨,故排除B项;C项不是材料主旨,美国宪法制定时联邦政府还没有成立,故排除。
35. D 考查战后世界政治经济。根据材料并结合所学知识可知,随着时间的推移,旧的世界经济秩序,弊端已显现,越来越多的国家主张建立新的国际政治和经济秩序,故选D项。二战后资本主义世界经济的三大支柱的建立,标志着国际经济发展朝着体系化、制度化方向发展,这与题干主旨不符,故排除A项;B、C两项在题干中体现不出来,故排除。
41. (1)原因:宋代造船技术和航海技术进步奠定了货币流通的基础;宋朝经济发达,对外贸易繁荣,货币流通,市场广阔;宋代统治者鼓励发展海外贸易;宋朝货币币制先进,信誉良好,货币体系完善;宋代货币具有货币流通与财富贮藏的双重价值。(6分,任答三点即可)影响:增加了中国国内社会财富,提高了宋朝货币的流动性;承担了国际货币职能,推动了海上丝绸之路贸易的发展;推动了周边国家和地区货币制度演进,促进了域外国家和地区的商品经济发展;成为文化交流的载体,传播了中华文明。(6分,任答三点即可)
- (2)同:都是经济交流和发展的产物;都有一个核心国家;都有一种主导货币。(6分)异:北宋时期是自发状态,二战后进入制度化;北宋时期是区域化,二战后是全球化的结果;北宋时期是和平交流的结果,二战后是美国霸权的产物。(7分)
42. 示例:
见解:近代中国向西方学习与救亡图存紧密相连。(2分)
阐述:中国近代史,就其主流和本质来说,是中国一代又一代的仁人志士和人民群众为救亡图存和实现中华民族的伟大复兴而英勇奋斗和艰苦探索的历史。鸦片战争像晴天霹雳,惊醒了先进知识分子“天朝上国”的迷梦,受到鸦片战争中国战败的强烈刺激,魏源提出了“师夷长技以制夷”的思想,开创了中国近代向西方学习的新风。第二次鸦片战争使中国的民族危机进一步加剧,洋务派提出“中体西用”,主张通过学习西方的器物和技术来挽救民族危机。甲午中日战争中国战败,标志着洋务运动破产。面对中国半殖民地半封建化程度大大加深的痛苦现实,先进的知识分子认识到只有改变中国的制度才可以挽救民族危机,于是陆续掀起了戊戌变法和辛亥革命。辛亥革命胜利果实被袁世凯篡夺,使知识分子认识到想要挽救民族危机就必须首先要改造国民性,于是一场学习西方文化,提倡民主、科学的新文化运动开展了起来。(8分)
总之,近代中国向西方学习是救亡图存的思想武器。(2分)
45. (1)特点:全面深化目标;行政改革与市场经济发展密不可分;民主与法制有机结合;创新与实际相结合;规则取向与价值取向有机结合。(9分,任答三点即可)
- (2)意义:是进一步深化经济体制改革和其他各项体制改革的重要保证;有利于加强社会主义民主政治建设;有利于应对全球化、信息化时代带来的挑战;是全面贯彻落实科学发展观、构建社会主义和谐社会的必然要求。(6分,任答三点即可)
46. (1)原因:反击苏联和平宣传的需要;维系美苏争霸的需要;化解世界舆论压力的需要。(6分)
- (2)评价:美国和平宣传运动是美国实行冷战政策的重要组成部分;其目的不仅是造就美国对外的“和平形象”,也是遏制以苏联为首的社会主义阵营的需要;这一政策是对别国舆论的干预,体现了美国的新殖民主义倾向。(9分)
47. (1)贡献:改革内政;改革河运;整顿盐政;治理水害,兴修水利。(8分)
- (2)原因:勤政亲为;忠君恤民;选贤任能;循良笃实,为官正直,廉洁奉公。(7分,言之成理即可)

地理部分(三)

1. C 据图结合所学知识分析可知,澄海区玩具业主要集中在东南地区,东南地区地处沿海,距港澳较近,地理位置优越,水陆交通便利,手工制作玩具基础好,易吸引玩具企业入驻发展,即地理位置是影响澄海区玩具业分布的主要因素。
2. B 据材料分析可知,智慧城市是把各种信息技术或创新概念充分运用到城市中的各行各业,实现信息化、工业化与城镇化的深度融合,因此,澄海区入选“2021 中国智慧城市百佳县市”榜单与智能玩具注重创意设计关联度最大。
3. C 据图分析可知,2012~2015 年我国粮食产量出现四连增,主要是因为我国科技发展快,并广泛应用于农业生产,使得粮食单产增加,粮食产量出现四连增。
4. A 2017 年中央一号文件把推进农业供给侧结构性改革作为主题,我国大部分省市都按照“藏粮于地、藏粮于技”的发展思路,深入推进农业供给侧结构性改革,调减库存较多的稻谷和玉米种植,扩大大豆种植,使得 2018 年粮食产量减少。
5. D 三江平原地处东北地区,纬度高,气温低,地广人稀,发展农业生产的限制性因素多,但近几年来随着科技进步,粮食品种改良,机械化水平提高,粮食单产提高,粮食增产量大。江汉平原、成都平原与太湖平原受城市化发展和农业结构调整等因素的影响,增产受限制。
6. D 据图文材料分析可知,库布齐沙漠位于鄂尔多斯高原脊线北部,河套平原南部,地势南高北低,位于草原向荒漠过渡地带。库布齐沙漠地区沙漠广布,干旱缺水,位于内流区,无河流流入黄河。
7. B 据图分析可知,库布齐沙漠西、北、东三面被黄河环绕,古代黄河形成的深厚冲积物在此处堆积,冬春季节受起沙风影响就地起沙,成为库布齐沙漠的主要沙源。库布齐沙漠位于干旱荒漠向半干旱草原的过渡地带,年降水量少,山体滑坡发生少。
8. C 结合所学知识分析可知,库布齐沙漠北部靠近黄河及河套平原,沙源丰富,受强劲的偏北风影响,形成较多的新月形沙丘,密集的新月形沙丘相互连接,形成新月形沙丘链。
9. C 华北地区位于温带季风气候区,到了秋季,气温降低,雨水减少,空气干燥,土壤中的含水量也随之减少,满足不了植被生长的需要,导致乔木、灌木落叶,草本枯萎,产生的凋落物最多,蓄积量最大。
10. B 据图分析可知,华北地区位于温带季风气候区,典型乔木为落叶阔叶林,植株高大,树冠大,地表生物量大,产生的凋落物最多;二类植被中,草本植物植株矮小,地表生物量最少,产生的凋落物最少。
11. A 据图文材料分析可知,与②③相比,①产生的凋落物数量少,对地表径流的阻力小;坡上、坡中、坡下原有凋落物数量相当,与坡上相比,坡中地表径流量较大(坡上径流汇入),能搬运更多的凋落物,坡中接纳坡上调落物数量少于被搬运至坡下的凋落物,坡下堆积的凋落物数量多于被搬运走的凋落物。
36. (1)地处山区,交通不便;多山地丘陵,耕地面积少;土壤贫瘠,自然条件差;喀特地貌广布,地表水缺乏等。(任答 3 点即可,6 分)
(2)提高植被覆盖率,调节气候;截流大气降水,减缓地表径流;涵养水源,保持水土;补充土壤有机质等。(任答 3 点即可,6 分)
(3)提高土壤温度,增加有效积温,延长生长期,提高产量;减少蒸发,保持土壤水分(保墒),减少对水资源的浪费;保护表土,减轻风、水等对土壤的侵蚀;防止土壤板结等。(任答 3 点即可,6 分)
(4)加强种植户培训,提高农业技术水平;招商引资引才;加强环境与农产品监测,推进绿色农业发展;完善水电、交通等基础设施建设;培育特色品牌,扩大产品知名度等。(任答 3 点即可,6 分)
37. (1)布拉柴维尔市处于城市化快速发展阶段,而中心城区建设基本被占满,城市亟须寻找新的可供开发的土地;东北部郊区非洲运动会场馆的建设,为城市未来的用地扩张提供了一个主要的发展方向和发展空间;新城开发可能提供的工作岗位对缓解失业压力有一定的积极作用;提升城市的整体形象等。(任答 3 点即可,6 分)
(2)汛期自动蓄水,可以减少城区内涝,保证新城建设的抗洪和地质安全;发挥湿地调节局地气候、维护生物多样性等功能;改善环境,提高周边土地的商业价值等。(任答 2 点即可,4 分)
(3)滨河新城东部位于刚果河沿岸,地势较低,在刚果河泛滥期有被淹没的可能性;地下水水位较高,有一定的内涝风险等。(4 分)
(4)建立完善的土地管理制度;通过工程技术保障新城地质安全;建设通达的道路交通系统;建造多层次的住宅产品;建设与当地经济发展相适应的产业园区;建设生态新城,提升城市环境质量等。(任答 4 点即可,8 分)
43. 旅游价值;经济价值;科学价值;历史文化价值。(任答 2 点即可,4 分)重要意义:促进当地对文化遗产的保护;促进基础设施建设,提升旅游接待能力;提高知名度,扩大旅游客源市场,促进当地旅游业及相关产业的发展;提供大量就业岗位,增加居民收入等。(任答 3 点即可,6 分)
44. 发布绿色生活方式指南,引导公众在衣、食、住、行等方面践行绿色低碳生活;限制生产、销售和使用不可降解塑料袋、塑料餐具,推广使用可循环利用物品;推广“光盘行动”,注重节约,避免浪费;全面推进快递包装绿色治理,推动同城快递环境友好型包装材料全面运用;落实垃圾分类要求,推动资源化利用;大力发展公共交通,倡导公交出行;将衣物、家具等回收与公益慈善相结合,提高公民回收积极性等。(任答 5 点即可,10 分)

关于我们

自主选拔在线是致力于提供新高考生涯规划、强基计划、综合评价、三位一体、学科竞赛等政策资讯的升学服务平台。总部坐落于北京，旗下拥有网站（[网址: www.zizzs.com](http://www.zizzs.com)）和微信公众平台等媒体矩阵，用户群体涵盖全国90%以上的重点中学师生及家长，在全国新高考、自主选拔领域首屈一指。

如需第一时间获取相关资讯及备考指南，请关注**自主选拔在线**官方微信号：**zizzsw**。

