

# 高三地理试卷

本试卷满分 100 分,考试用时 75 分钟。

## 注意事项:

1. 答题前,考生务必将自己的姓名、考生号、考场号、座位号填写在答题卡上。
2. 回答选择题时,选出每小题答案后,用铅笔把答题卡上对应题目的答案标号涂黑。如需改动,用橡皮擦干净后,再选涂其他答案标号。回答非选择题时,将答案写在答题卡上。写在本试卷上无效。
3. 考试结束后,将本试卷和答题卡一并交回。
4. 本试卷主要考试内容:区域地理、地球的运动、地貌、大气。

一、选择题:本题共 16 小题,每小题 3 分,共 48 分。在每小题给出的四个选项中,只有一项是符合题目要求的。

岛屿是海洋活动的重要支点,地处某大洲的某岛屿地理位置十分特殊,为某大洋重要的战略门户。图 1 示意该岛屿位置。据此完成 1~2 题。

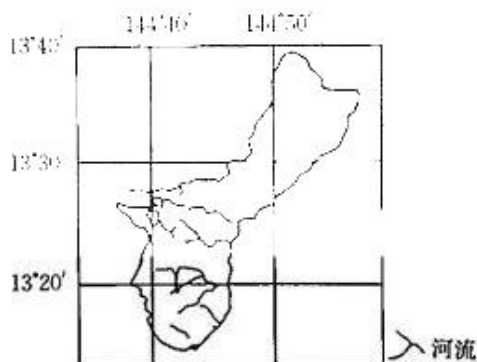


图 1

1. 某战斗机编队从该岛屿飞往北极点,最近的直飞距离大约是  
A. 8500 km  
B. 10000 km  
C. 16000 km  
D. 20000 km
2. 材料“某大洋重要的战略门户”中的“某大洋”指的是  
A. 北冰洋  
B. 大西洋  
C. 印度洋  
D. 太平洋

图2为印度主要农作物分布及工业区分布示意图。据此完成3~4题。

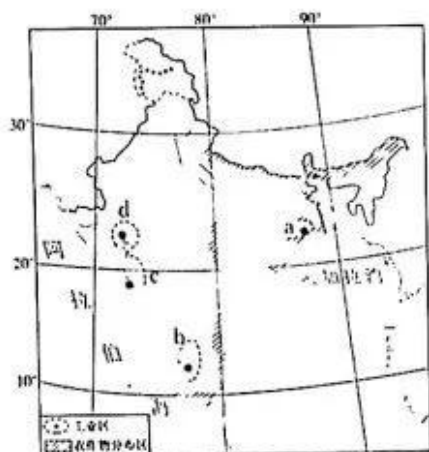


图2

3. 图中描述的主要农作物是

- A. 小麦                      B. 水稻                      C. 棉花                      D. 茶叶

4. 图中表示印度传统麻纺织工业区的是

- A. a                              B. b                              C. c                              D. d

图3为我国北方地区轮廓图。据此完成5~6题。

5. 图示a、b两地

- ①种植的主要农作物分别为春小麦、冬小麦    ②都位于暖温带  
③都属于半湿润区    ④土壤类型都属于黑土

- A. ①③                              B. ②③  
C. ①④                              D. ②④

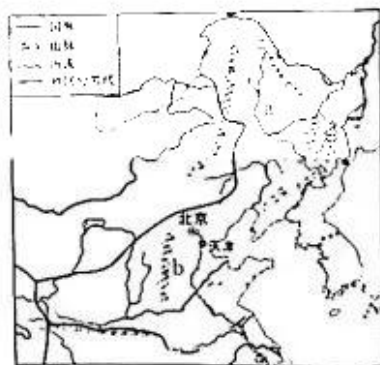


图3

6. a地典型的自然环境特征是

- A. 白山黑水, 滚滚沙尘  
B. 地广人稀, “中国粮仓”  
C. “中华水塔”, 雪域高原  
D. 山环水绕, 沃野千里

久居城市的张某在撰写文章中描述道: 爷爷的乡愁是家里的稻田, 爸爸的乡愁是幽深的雨巷, 我的乡愁是村口的橘子树(如图4)。据此完成7~8题。




图4

7. 材料中张某所写文章中描述的地区

- A. 地形以高山、高原为主  
B. 地形以丘陵为主  
C. 传统民居以平顶房为主  
D. 河流冬季有结冰期

8. 农耕文化终将“逝去”的原因有

- ①全球气候变暖 ②城镇化的发展 ③现代化农业的发展 ④人口生育政策影响

- A. ①②③ B. ②③④ C. ①②④ D. ①③④

南美洲最南端岛群(图5)隔麦哲伦海峡与南美大陆相望,隔德雷克海峡与南极半岛相望。其主岛火地岛地形多变,西部海湾众多,多幽深的峡湾,海岸曲折。此地夏凉冬冷,地区年降水量差异显著。据此完成9~10题。



图5

9. 火地岛西侧海岸线曲折主要是因为

- ①风力的侵蚀作用 ②冰川的侵蚀作用 ③海浪的侵蚀作用 ④河流的侵蚀作用

- A. ①② B. ②③ C. ①③ D. ③④

10. 火地岛西侧苔藓分布广泛而无高大树木生长,是因为该地

- A. 降水多,水土流失  
B. 气温低,西风强劲  
C. 纬度高,光照不足  
D. 坡度陡,土层太薄

地面净辐射是单位时间、单位面积地面吸收的太阳总辐射和大气逆辐射与地面辐射之差。

图6示意我国部分省区年内地面净辐射强度。据此完成11~13题。

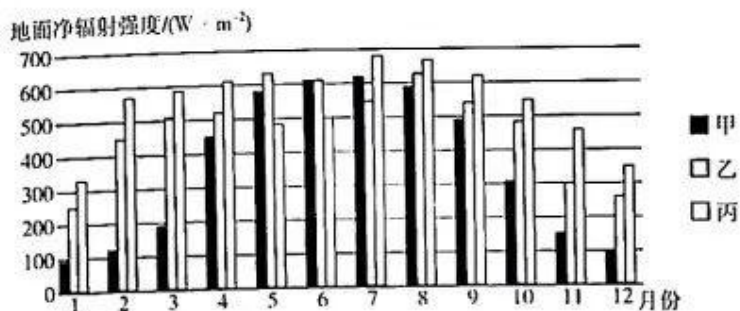


图6

11. 甲、乙、丙代表的省区最可能是

A. 藏、湘、豫

B. 黑、陕、湘

C. 辽、吉、琼

D. 青、川、渝

12. 造成丙区域7月份地面净辐射强度达到峰值的天气系统是

A. 准静止锋

B. 高压中心

C. 高压脊

D. 热带气旋

13. 冬季丙地地面净辐射强度远高于甲地,其主要影响因素是

A. 土壤

B. 经度

C. 植被

D. 纬度

7月初某学校师生前往河南省安阳市(36° N, 114° E)殷墟进行为期两周的研学活动。大巴车上钟表显示8:30时,司机前方的遮阳板、车辆右侧的遮阳帘均已启用。此时某国外研学小组恰巧发来在某地看日出的照片。据此完成14~16题。

14. 遮阳板、遮阳帘启用时,大巴车行驶方向大致是

A. 向东

B. 向南

C. 向西

D. 向北

15. 该国外研学小组所在的城市可能是

A. 科伦坡(7° N, 80° E)

B. 乌兰巴托(48° N, 107° E)

C. 华盛顿(38° N, 77° W)

D. 巴西利亚(16° S, 48° W)

16. 该校师生研学期间,安阳市

A. 日均气温逐渐变低

B. 白昼长度逐渐变长

C. 日出时间逐渐推迟

D. 正午太阳高度逐渐变大

二、非选择题:共 52 分。

17. 阅读图文材料,完成下列要求。(14 分)

K 岛于 1983 年火山爆发,植被消失殆尽。1987 年,该岛上已有 64 种植物,植物生长旺盛。研究发现,百年之内该岛上的天然植被就可以恢复。图 7 示意 K 岛地理位置。

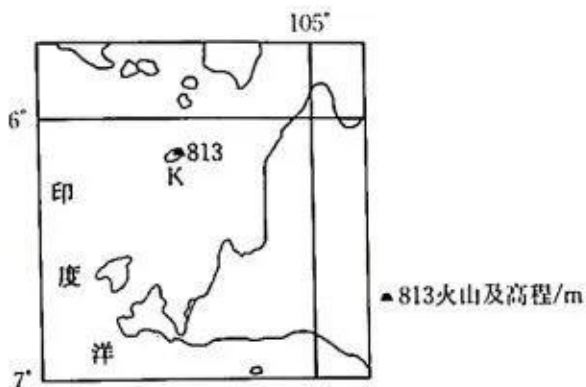


图 7

- (1) 指出 K 岛的气候类型,并说出该气候类型的主要分布范围。(4 分)
- (2) 简述 K 岛天然植被恢复较快的条件。(4 分)
- (3) 分析该区域多雷阵雨的原因。(6 分)

18. 阅读图文材料,完成下列要求。(12 分)

青海省祁连县地处祁连山中段腹地,被称为“风沙长廊”,风沙具有季节性和日变化性,区域内平均海拔 3169 m。为实现乡村振兴,祁连县阿柔乡大力发展林麝养殖专业合作社,该合作社采用“科研机构+公司+基地+农户”的养殖模式,与该省科研机构进行技术合作,加大畜产品研发力度,提高产业附加值,走上了一条集特色养殖、产业加工、实体销售于一体的多元化发展道路。图 8 为青海省祁连县地理位置图。

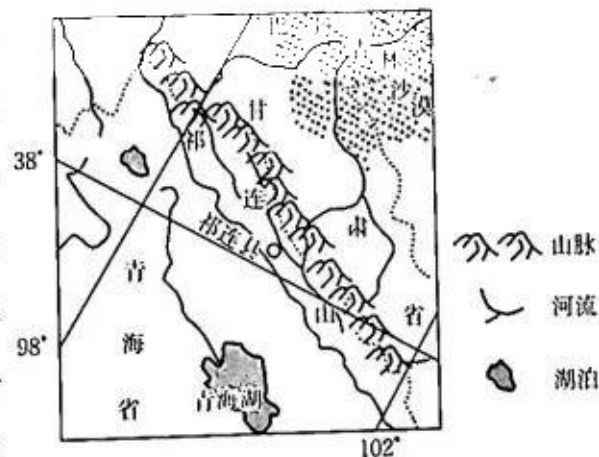


图 8

- (1) 说出祁连县风沙天气多发的原因。(4 分)
- (2) 结合材料,分析祁连县发展畜牧业的有利自然条件。(4 分)
- (3) 简述“科研机构+公司+基地+农户”模式对农业发展的意义。(4 分)

19. 阅读图文材料,完成下列要求。(10分)

波河(如图9)发源于维索山,向东注入亚得里亚海,是意大利最长的河流。该河沿途地势平坦,中下游地区分布着大大小小的牛轭湖,河口情况十分复杂,至少有14个河口。波河丰水期持续时间较长,常发生大洪水。

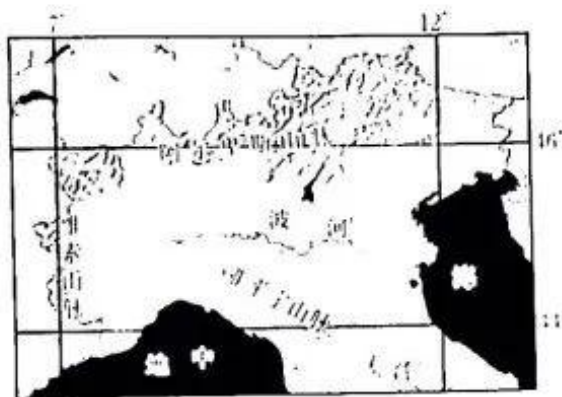


图9

- (1)指出波河的汛期及其形成原因。(6分)
- (2)波河中下游地区牛轭湖较多,试简述其形成过程。(4分)

20. 阅读图文材料,完成下列要求。(15分)

“天漏之城”雅安,与西侧高大雄峻的二郎山、西北方险峻的夹金山、南部的大相岭相邻,只留东西一个开口。雅安终日云雾笼罩,云中很小的水珠落下来都会成雨。雅安一年中降水日数为220~305天,70%以上发生在夜间,年降水量为1200~2000mm。图10示意雅安位置。




图10

- (1)描述雅安的气候特点。(6分)
- (2)分析雅安的位置对气候的影响。(6分)
- (3)说明雅安的降水类型。(4分)

## 关于我们

自主选拔在线是致力于提供新高考生涯规划、强基计划、综合评价、三位一体、学科竞赛等政策资讯的升学服务平台。总部坐落于北京，旗下拥有网站（[网址：www.zizzs.com](http://www.zizzs.com)）和微信公众平台等媒体矩阵，用户群体涵盖全国 90% 以上的重点中学师生及家长，在全国新高考、自主选拔领域首屈一指。

如需第一时间获取相关资讯及备考指南，请关注**自主选拔在线**官方微信号：**zizzsw**。

