

2023届4月质量监测考试

文科综合

试卷满分:300分 考试时间:150分钟

注意事项:

- 1.答题前,考生先将自己的姓名、准考证号填写清楚,将条形码准确粘贴在条形码区域内。
- 2.全部答案在答题卡上完成,答在本试卷上无效。
- 3.回答选择题时,选出每小题答案后,用2B铅笔把答题卡上对应题目的答案标号涂黑。如需改动,用橡皮擦干净后,再选涂其他答案标号。回答非选择题时,将答案用0.5mm黑色笔迹签字笔写在答题卡上。
- 4.考试结束后,将本试卷和答题卡一并交回。

第I卷(选择题,共140分)

一、选择题:本题共35小题,每小题4分,共140分。在每小题给出的四个选项中,只有一项是符合题目要求的。

加蓬位于非洲中部西海岸,石油、锰、铀、森林资源丰富,森林覆盖率高达85%,享有“资源宝库”和“绿金之国”的美誉,加工工业和农业基础薄弱。加蓬总人口180多万,首都利伯维尔近80万,让蒂尔港近20万,全国城镇化率高达90.42%,是非洲城镇化水平最高的国家。图1示意加蓬位置及城镇分布。据此完成1~2题。

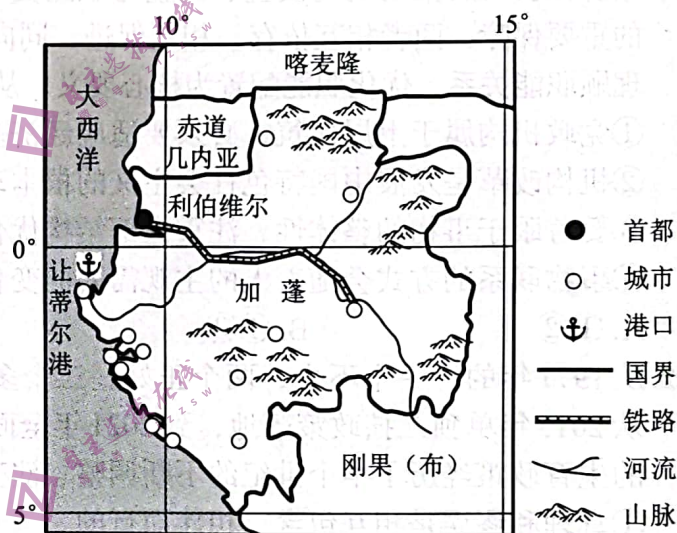


图1

1.加蓬城镇化水平高的主要原因可能是

- A.经济发达,GDP增长较快
- B.雨林连绵,限制农业发展
- C.沿海凉爽,适宜人口居住
- D.城镇较少,首都人口密集

2.加蓬城镇化进程中出现诸多城市问题,主要表现为

- ①供水、供电条件差
- ②医疗卫生水平低
- ③产业规模大,城区规模大
- ④贫民窟多,贫困人口多

- A. ①②③
- B. ②③④
- C. ①②④
- D. ①③④

当气旋发展到24小时降低24hpa或12小时降低12hpa,风速达到30m/s(≥ 11 级)时为爆发性气旋,又称“炸弹气旋”,常常发源于北半球中高纬的洋面上,素有“温带台风”之称。2022年12月下旬,北美大陆遭受“炸弹气旋”袭击,多地出现大风、强降温、冻雨、暴风雪天气,五大湖区降雪量突破当地极值。据此完成3~5题。

3.“炸弹气旋”一般孕育于洋面上的

- A.副热带高压带
- B.盛行西风带
- C.副极地低压带
- D.极地东风带

4.“炸弹气旋”能够给北美带来大面积暴雪,可能是由于该天气系统

- A.南下速度放缓
- B.途经五大湖区
- C.高大山脉阻挡
- D.暖气团势力强

5. “炸弹气旋”在我国较少出现，主要影响因素是

- A. 阶梯地形 B. 海陆位置 C. 高空风带 D. 水域面积

5年前，广东佛山市顺德北滘镇西海二支工业区还是破旧厂房遍地、污水横流的景象，当时园区的主导产业是家具、塑料、五金等。如今，这里水清岸绿，成为智能机器人产业新高地，实现了“腾笼换鸟”，“低效地”变为“高产地”的飞跃。园区改造前建筑面积约18.4万平方米，改造后建筑面积约60万平方米，用地效益提升3.3倍。近年来，园区招商引入的机器人研发端、生产端及应用端各环节的配套企业齐全，装备机器人、协助机器人、建筑机器人等成为制造业高质量发展的利器。据此完成6~8题。

6. 家具、塑料、五金等工业在西海二支工业区难以为继的主要原因是

- A. 污染严重，环境质量恶化 B. 工资上涨，生产利润下降
C. 土地紧缺，土地租金较高 D. 原料短缺，运输压力增大

7. 入驻北滘镇西海二支工业区的企业，主要考虑的因素是

- A. 优惠政策、消费市场 B. 交通运输、海陆位置
C. 基础设施、厂房设备 D. 通讯网络、科技人才

8. 北滘镇西海二支工业区改造后用地效益显著提高，说明该工业区实现了

- A. 企业间距离缩短 B. 工业立体化布局
C. 地下工厂在兴起 D. 厂房密集度提高

我国某中学地理研学小组以教学楼前的国旗旗杆影子变化为参照物，研究太阳的视运动状况。该研学小组于2022年12月某日观测到太阳升起时旗杆影子与教学楼平行，且与正西方偏角15°。该日旗杆影子最短时，北京时间12:30。据此完成9~11题。

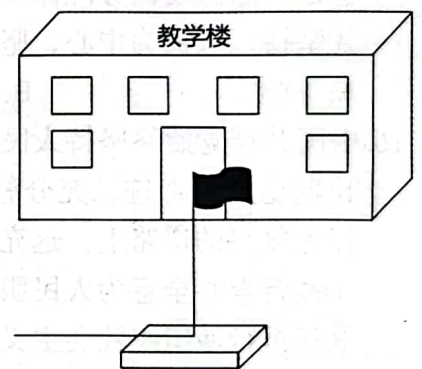


图2

9. 该日观测点的昼长时间为

- A. 8小时 B. 9小时
C. 10小时 D. 11小时

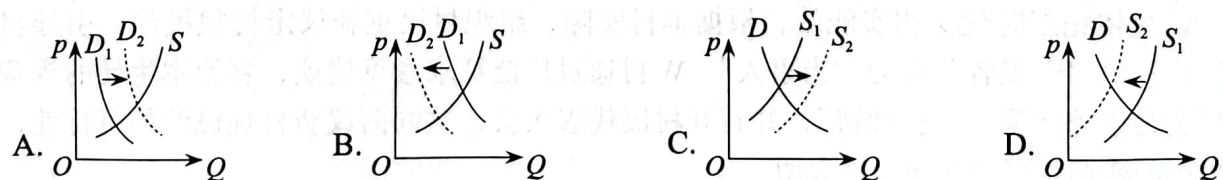
10. 图2中教学楼的走向为

- A. 东北——西南 B. 西北——东南 C. 正东——正西 D. 正南——正北

11. 该中学所在的城市可能是

- A. 哈尔滨市 B. 太原市 C. 乌鲁木齐市 D. 成都市

12. 2022年秋冬季节全国各地蔬菜价格较低，影响了部分菜农积极性；2023年初，我国大部分地区雨水较多、气温偏低导致蔬菜生长周期长；1月份数据显示，28种蔬菜平均批发价格环比上涨22.60%。若不考虑其它因素，下列图示（D表示需求曲线，S表示供给曲线）能正确反映这一现象的是



13. 2022年广东坚持稳中求进工作总基调，着力破解城乡差异，高质量发展取得新的成效。居民人均可支配收入同比增长4.6%，居民人均工资性收入依旧占到大头，同比增长4.6%。农村居民人均可支配收入增速快于城镇居民2.1个百分点；农村人均消费支出增速快于城镇居民3.0个百分点。这表明

- ①按劳分配的基本原则促使居民人均工资性收入增加

②城乡区域协调发展有利于农村的消费潜力进一步释放

③居民人均可支配收入的增长得益于经济高质量发展

④农村居民生存资料消费支出减少，恩格尔系数下降

A. ①②

B. ①④

C. ②③

D. ③④

14. 作为中国羽绒服领域的龙头企业，B公司围绕新的战略方向，集中全部资源优势，聚焦核心羽绒服业务，从产品、品牌、渠道三个方面进行全面布局，推进产品技术创新，夯实客户品牌认知，实现了业绩全方位高速增长。B公司经营成功给我们的启示是

①聚焦核心业务可以提高商品的价值量

②推进产品技术创新能保证企业经营成功

③公司要顺应时代发展潮流，制定正确经营战略

④要从消费者需求出发，提供更强烈体验感的产品和服务

A. ①②

B. ①④

C. ②③

D. ③④

15. 2023年，S省民政部门会同发改委等部门，密切关注物价波动情况，将价格临时补贴保障范围由原来的低保对象、特困人员延伸到低保边缘人口；将联动机制启动条件中的居民消费价格指数CPI的单月同比涨幅由3.5%降到3%，最大程度的保障低收入群体基本生活。S省民政部门的这一做法

①是在通过初次分配保障居民的基本生活稳定 ②表明社会保障能有效维护社会的公平正义

③坚持以人民为中心，坚决兜住兜牢民生底线 ④通过发挥财政的作用有序扩大中等收入群体

A. ①③

B. ①④

C. ②③

D. ②④

16. 中国共产党始终坚持人民当家作主，紧紧依靠人民推动国家发展，创造了经济快速发展和社会长期稳定的奇迹，充分彰显了中国式民主的独特优势，中国正昂首阔步行进在实现中华民族伟大复兴的道路上。这充分体现了中国共产党

①践行全心全意为人民服务的根本宗旨 ②始终坚持人民主体地位、以人民为中心

③积极行使组织社会主义经济建设职能 ④是决定我们国家前途命运的根本力量

A. ①②

B. ①③

C. ②④

D. ③④

17. 习近平总书记在党的二十大报告中指出：坚持大抓基层的鲜明导向，抓党建促乡村振兴，加强城市社区党建工作，推进以党建引领基层治理，持续整顿软弱涣散基层党组织，把基层党组织建设成为有效实现党的领导的坚强战斗堡垒。这

①体现了基层是党的执政之基、力量之源 ②完善了乡村振兴和基层治理的行政体制

③有利于发挥基层党组织的战斗堡垒作用 ④有利于加强完善基层党组织的国家权力

A. ①②

B. ①③

C. ②④

D. ③④

18. 近日，W村依托新时代文明实践站，根据本村实际，组织村民重新议定村规民约，引导村民从乡村治理的“旁观者”变为“当事人”。W村通过广泛征求意见建议，将原本生硬的规章制度编写成为生动活泼的“打油诗”，并召开村民代表大会，共同商议新村规民约的可行性，受到了村民的普遍认可和欢迎。这表明

①W村村民通过重大事项公示制度参与民主决策

②村民依法直接行使民主权利，管理基层公共事务

③扩大基层民主是社会主义最为广泛而深刻的实践

④积极参与基层治理制定村规民约是村民自治的基础

A. ①③

B. ①④

C. ②③

D. ②④

19. 上海绒绣是在西方毛线绣花的基础上结合了中国传统刺绣技法发展而成的艺术门类，20世纪五六十年代，上海绒绣艺术家对绒绣进行了创新改革，不仅能够绣制传统油画，还可以表现中国水墨画作品，大大丰富了绒绣的艺术表现力。绒绣工艺的发展

- ①符合中国的实际，是中华文化的集中展示
- ②表明文化多样性是文化创新的重要基础
- ③体现了任何时代的文化都离不开对传统文化的继承
- ④表明文化交流融合是促进民族文化走向世界的重要手段

A. ①③ B. ①④ C. ②③ D. ②④

20. 在抗战时期异常困难的情况下，八路军第三五九旅响应党中央号召，一手拿枪、一手拿镐，奔赴延安东南四十多公里的南泥湾垦荒屯田，把戈壁变成良田、荒漠变成绿洲，为人民军队和抗日根据地树立了“自己动手、丰衣足食”的光辉旗帜，形成了宝贵的南泥湾精神。这一精神

- ①是中华民族精神丰富和发展的生动体现 ②为实现中华民族伟大复兴提供智力支持
- ③能丰富人的精神世界，增强人的精神力量 ④体现了爱国主义的要求和具体内涵始终不变

A. ①③ B. ①④ C. ②③ D. ②④

21. 经济社会发展推动机构设置、调整与职能变革，机构改革的成果又成为更好推动经济社会发展的重要保障，两者相互依存、相互促进、同向发力。新一轮党和国家机构改革以转变政府职能、理顺职能关系、优化职能配置为核心要义。从哲学角度看，以下说法正确的是

- ①党政机构属于上层建筑，必须要适应经济基础
- ②机构改革是发展中国特色社会主义的根本动力
- ③要着眼于事物的整体性，注重内部结构优化趋向
- ④事物联系的方式会随着人的主观需要的变化而变化

A. ①② B. ①③ C. ②④ D. ③④

22. 从1971年的“一个不少，两个正好，三个多了”，到1982年的“一对夫妇只生育一个孩子”；从2015年单独二孩政策落地，到2021年全面实施一对夫妇可生育三个孩子。结合实际，我国的生育政策经历了半个世纪的不断调整、演变和完善的过程。这表明

- ①真理和谬误是相互包含、相伴而行的
- ②任何真理都是主观与客观具体历史的统一
- ③认识通过推翻已确定的真理而不断向前发展
- ④认识的反复性上升性能推动我们不断发现真理

A. ①② B. ①③
C. ③④ D. ②④

23. 下列诗句蕴含的哲学道理与漫画《志高没难事》寓意相近的是

- A. 人间四月芳菲尽，山寺桃花始盛开
- B. 横看成岭侧成峰，远近高低各不同
- C. 长风破浪会有时，直挂云帆济沧海
- D. 善不积不足以成名，恶不积不足以灭身



图3 志高没难事

24. 西周初年，统治者对古帝王之后以及夏商王朝宗室后裔的褒封，本质上是原为“西土之人”的周族人主中原后，对三皇五帝以来的古史体系及其文化传统的历史认同与文化认同，强调新兴西周王朝是一脉相袭，直接承继三皇、五帝、夏和商王朝。西周统治者此举意在

- A. 推动区域文化的交流认同 B. 彰显天下共主的合法地位
- C. 缓解商代移民的不满情绪 D. 增强各族的家国一体观念

25. 英国汉学家鲁惟一先生指出：“《淮南子》（西汉作品一编者注）的作者们试图部分地根据神话、部分地按照科学假说来解释宇宙的奇观及其运作。他们的观点是更重视遵循自然的秩序，而不是服从于组织人类的需要”。该作品的这一特征

- A. 摒弃了儒学的德治主张
- B. 印证了治乱兴衰的规律
- C. 受到天人合一思想影响
- D. 源于先秦唯物论的发展

26. 唐代科举考试按照诸府州发展水平、文化程度、人口多少等因素分配名额，称“解额”。这种做法使得边远、落后地区举子可以获得应试资格，笼络了天下英才。据此可知，解额制度

- A. 有违科举公平公正原则
- B. 导致异地冒籍现象泛滥
- C. 实现了各地区均衡发展
- D. 维护了大一统中央集权

27. 下图4是某学者绘制的有关“明清时期，江南的早期工业化中生产、流通、金融领域之间关系示意图”。这表明

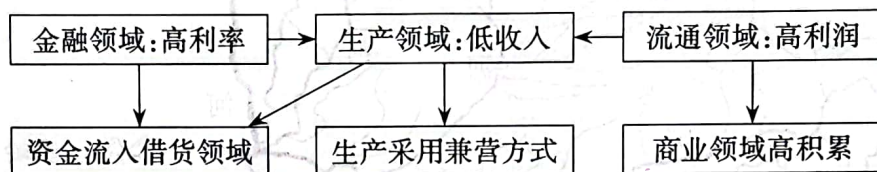


图4

- A. 金融资本注入生产领域
- B. 利润分配制约产业升级
- C. 重农抑商政策出现松动
- D. 手工工场规模不断扩大

28. 下表1为鸦片战争后在华外资银行一览表（部分）。由此可知近代列强在华外资银行的设立

银行名称	成立时间及总行所在地	香港分行设立时间	上海分行设立时间
丽如银行	1842年, 孟买	1845年	1847年设代理处
汇隆银行	1851年, 孟买	1862年	1854年设代理处
渣打银行	1853年, 伦敦	1859年	1858年
法兰西银行	1848年, 巴黎	1863年	1860年

表1

- A. 顺应了资本输出的现时需求
- B. 表明英法成为侵华急先锋
- C. 强化了香港侵华基地的作用
- D. 适应了对华贸易增长趋势

29. 郭嵩焘说：“泰西立国之势，与百姓共之。国家有所举废，百姓皆与其议；百姓有所为利害，国家皆与赞其成而防其患。汽轮车之起，皆百姓之自为利也，其国家与其人民交相比倚，合而同之。民有利则归之国家，国家有利则任之人民。是以事举而力常有继，费烦而用常有余。据此，郭嵩焘阐发了

- A. 实业救国的经济思想
- B. 中体西用的改良方案
- C. 救亡图存的危机意识
- D. 民富国强的改革主张

30. 孙中山曾经称赞李大钊是“真正的革命同志”，劝告国民党员要以“以共产党人为榜样，像共产党人一样为革命辛勤工作，不怕牺牲”，还表示“共产主义是民生主义的好朋友”。孙中山的这一论断

- A. 奠定了国共合作的政治基础
- B. 拓展了共产主义的伟大蓝图
- C. 丰富了民主革命的理论内涵
- D. 改变了三民主义的发展方向

31. 下表2为20世纪70年代新中国外交政策和成就。这说明了当时我国

时间	外交政策和成就
20世纪70年代	中国执行“一条线”和“一大片”外交战略,不但团结第三世界及第二世界的国家,也团结美国这个第一世界的国家
1971年10月	中国恢复在联合国的合法席位
1972年9月	《中日联合声明》签署,实现了中日邦交正常化
1979年1月	中美正式建交

表2

- A. 外交活动以联合国为中心
B. 深度融入不结盟运动组织
C. 发展完善了多边外交政策
D. 外交政策制定的灵活务实
32. 神话《潘多拉的盒子》叙述了潘多拉手捧着神给他的一个巨大的封闭的盒子,她打开盒子,从里边蜂拥而出大堆害人的“小魔鬼”(疾病、瘟疫等),而盒子底下留下了唯一美好的东西——“希望”。这个“希望”的精灵意味着什么呢?“希望”可以使人产生与恶魔或厄运抗争的勇气、与灾难抗争的力量。这一神话故事
- A. 凸显了人的个性自由
B. 标志着人类自我意识觉醒
C. 蕴含丰富的人文内涵
D. 体现了感性和理性的结合
33. 下图5为英国《航海条例》不同时期版本的主要内容节选。这折射出英国

●1651年版本

- 凡进入英国的商品必须用英国的或生产国的船只运输
- 英国籍船员数量不得少于船员总数的75%
- 禁止外国商人染指英国与其殖民地之间的贸易

●1660年版本

- 英国殖民地产出的砂糖只准许贩运到英国本土或其他英国殖民地
- 只有英国商人和英国船只或殖民地的船只,才能在殖民地内从事商业活动
- 其他国家制造的产品,必须经由英国本土,而不能直接运销殖民地

图5

- A. 与荷兰贸易争夺激烈
B. 航运能力已称霸世界
C. 已成为世界殖民霸主
D. 对外贸实行严格管控
34. 1868年通过的美国宪法第十四条修正案指出:“任何人,凡在合众国出生或归化合众国并受其管辖者,均为合众国及所居住之州的公民……任何人,如未经适当法律程序,均不得剥夺任何人的生命、自由或财产……”这些法律规定
- A. 加速了美国南北战争的结束
B. 肯定了被解放奴隶人权
C. 加强了州与联邦的相互钳制
D. 消除了美国的种族歧视
35. 20世纪80年代初期,英国政府公布了一个为期4年的“中期金融战略”,宣布要把货币供应量的增长率从1980年的7%—11%,下降到1984年的4%—8%,并在4年内把政府的公共开支降低4%,严格控制财政赤字。这体现出当时英国
- A. 延续了国家对经济的干预
B. 坚持凯恩斯主义经济理论
C. 增强了对世界金融的控制
D. 回归自由放任的经济政策

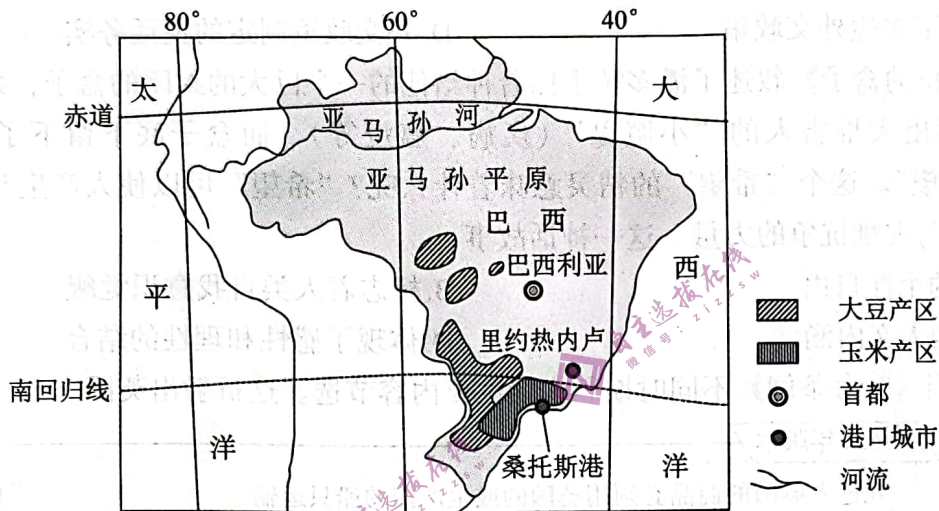
第Ⅱ卷 (非选择题, 共160分)

二、非选择题: 共160分。第36~42题为必考题, 每个试题考生都必须作答。第43~47题为选考题, 考生根据要求作答。

(一) 必考题: 共135分。

36. 阅读图文材料, 完成下列要求。(22分)

桑托斯港是南美洲最大的港口, 为中粮国际有限公司(简称中粮国际)在南美洲的重要粮食转运基地。中粮国际在当地建厂, 加工玉米、大豆等农产品, 再通过货轮将豆粕、豆油、食糖等产品源源不断运往世界各地。目前, 中国企业在巴西以及南美洲其它国家的多个地方建立了内陆物流节点城市和加工厂。下图6示意巴西玉米、大豆主产区及桑托斯港。



- (1) 分析桑托斯港成为中粮国际在南美洲重要粮食转运基地的区位优势。(6分)
- (2) 简述中粮国际在桑托斯港建立粮食加工厂的主要目的。(4分)
- (3) 阐释中粮国际在巴西各地建立粮食加工厂对巴西粮食产业发展的作用。(6分)
- (4) 指出中粮国际有限公司还可能在南美洲哪个国家建立中转基地和加工厂。并说明理由。(6分)

37. 阅读图文材料，完成下列要求。(24分)

渭河是黄河的最大支流，发源于甘肃省渭源县鸟鼠山，全长818千米，流域总面积134766平方千米。渭河径流空间分布不均衡，径流深（径流深是指某一时段内的径流总量平铺在其集水区上的水层深度）具有垂直分异特点。

渭河流域的人类活动踪迹达80~100万年以上，有蓝田猿人、大荔人、母系氏族公社群落半坡遗址，以及大量的仰韶文化、龙山文化遗址等。渭河流域是中华文明的发祥地之一。下图7示意渭河流域主要支流。

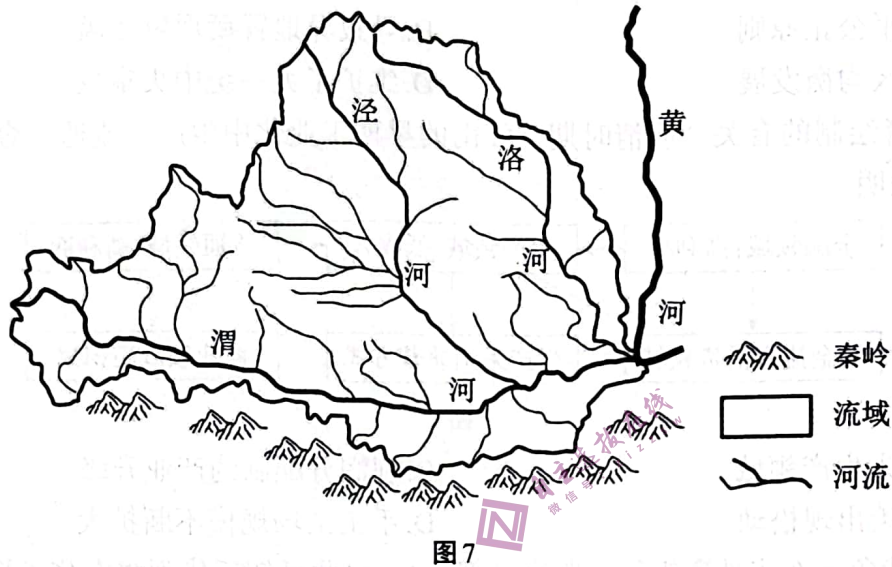


图7

- (1) 根据图示信息，概述渭河水系分布特点。(6分)
- (2) 推测渭河流域径流量的空间分布特点，并分析原因。(8分)
- (3) 渭河南部支流径流深随海拔增高而增加。就此作出合理解释。(4分)
- (4) 阐释渭河水系在中华古文明发展中的奠基作用。(6分)

38. 阅读材料，完成下列要求。(14分)

党的二十大报告指出，要优化民营企业发展环境，依法保护民营企业产权和企业家权益，促进民营经济发展壮大。2022年中央经济工作会议强调要从政策和舆论上鼓励支持民营经济和民营企业发展壮大，这些都体现了中央支持民营经济发展的坚定决心。

民营经济是社会主义市场经济发展的重要成果，在“看不见的手”的指引下，千千万万的民营企业从市场中发现商机，提高了商品和服务的有效供给能力；我国民营企业在智能制造、大数据、物流仓储、生物健康等领域，已经牢牢占据领跑地位；近十年来，我国私营个体就业总数增加了2亿多人，已成为我国就业平稳的稳定器和税收的重要贡献者。民营经济已成为推动我国经济高质量发展不可或缺的重要力量。

结合材料，运用经济生活知识分析，民营企业是怎样助推我国经济实现高质量发展的。(14分)

39. 阅读材料，完成下列要求。(12分)

人民代表大会制度是我国根本政治制度。过去五年，全国人大及其常委会坚持党的全面领导，各项工作取得新进展新成效。立法数量多、分量重、节奏快、质量高，监督机制得到完善、成效显著增强，代表工作不断深化和拓展，书写出全国人大工作的绚丽华章。在上海虹桥街道，新当选的全国人大代表充分发挥基层立法联系点的作用，向市民征集意见建议，让民意搭上立法“直通车”；在陕西宝鸡，全国人大代表走进市中级人民法院，就推动接受人大监督工作规范化、创新代表建议办理机制等进行调研；在山东临沂，从事教育工作35年的全国人大代表走访多所中小学校，为撰写建议做准备。在新征程上，全国人大及其常委会围绕党和国家工作大局，不断彰显人民代表大会制度优势，推动人民代表大会制度优势更好转化为国家治理效能。

结合材料，运用政治生活知识分析，怎样推动人民代表大会制度优势更好转化为国家治理效能。(12分)

40. 阅读材料，完成下列要求。(26分)

材料一 2022年11月“中国传统制茶技艺及其相关习俗”申遗成功。“中国传统制茶技艺及其相关习俗”是有关茶园管理、茶叶采摘、茶的手工制作，以及茶的饮用和分享的知识、技艺和实践。作为传承中华文化的重要载体，茶文化已深深融入中国人生活，该遗产项目在中国世代传承，形成了系统完整的知识体系、广泛深入的社会实践、成熟发达的传统技艺、种类丰富的手制品，茶文化也深受世界各国人民喜爱，已经成为中国与世界人民相知相交、中华文明与世界其他文明交流互鉴的重要媒介，成为人类文明共同的财富。

材料二 非物质文化遗产是一种具有地方性、历史性、审美性和真实性的文化资源，是重要的旅游吸引物，具有极强的旅游开发价值。旅游是非物质文化遗产保护、传承和利用的重要渠道。合理的旅游开发能保护非遗的活态性，同时也有助于旅游文化内涵的提升。以文促旅，以旅彰文，“非遗+旅游”已成为文旅融合发展的重要一环，不仅丰富了旅游供给，也激活了数量巨大的非物质文化遗产资源，使非物质文化遗产通过旅游市场走进了千家万户。

(1) 结合材料一，运用文化生活的知识，说明中国传统制茶技艺及其相关习俗申遗成功的积极影响。(10分)

(2) 结合材料二并运用对立统一的观点，分析怎样处理好旅游开发和非遗保护的关系。(10分)

(3) 目前，非遗工作已初步形成社会广泛参与、人人保护传承的生动局面。非遗保护传承成为当代社会生活、文化实践、文化建设的一大亮点，保护活动在各地蓬勃开展。请你结合实际，为当地政府部门非遗保护传承工作提出三点合理化建议。(6分)

41. 阅读材料，完成下列要求。(25分)

材料一 在中国古代传统社会中，基层治理实行的是“士绅之治”，乡村的实际权力掌握在作为地方精英的士绅手里。士绅们具有公共地位，负责地方事务，其地位则是被其所管辖的乡民所授权的。乡绅必须要对乡民负责，接受乡民监督，一切行为举止要考虑公共舆论和道德习俗的影响，不得任性而为。尽管在一定程度上，士绅的角色类似于政府在地方管理的角色，但作为地方的代理者和维护者，在与国家政权的关系上，其维护的是地方的利益，而不是国家政权的代理人。士绅虽也必须受国家管制，但其自身活动空间较大，比如，在维护地方利益方面，其可以与地方衙门进行交涉。

——摘编自秦德君 毛光霞《中国古代“乡绅之治”：
治理逻辑与现代蕴意—中国基层社会治理的非行政化启示》

材料二 近代以来，国家面临治理任务日益繁多，控制乡村显得更加重要。于是，政府逐渐重视起对基层的治理，原来乡村自治的界限被国家打破，基层政权日益官僚化，统一编制，基层政权的代理人由国家指派和管理。一方面，国家权力也因此通过多种途径渗入乡村社会，国家对乡村的控制得到加强，地方势力把持基层政权造成的地方团体化也被打破。另一方面，这种变化也打破了“双轨政治”的平衡，使国家有力量剥削乡村，农民的利益受到损害，地方基层治理被严重破坏。

——摘编自王德成《中国基层治理的历史沿革及当代转型》

材料三 党的十一届三中全会以来，特别是党的十四大以后，随着改革开放的深入，商品化经济程度不断加深，市场和政府在资源配置中地位的变化，中国基层组织逐渐形成了以街道党委为领导核心、以街道办事处为管理主体的治理模式，逐渐构建起“自治、法治、德治”相融合的乡村治理体系，同时，着力补齐农村基层社会建设短板。通过加强“街道办事处—居委会”体制，使国家政权的力量在城市基层不断得以强化，街道的行政组织机制也不断完善，居委会逐渐成为城市基层的“行政细胞”，行政能力与行政资源得到增强和提升。

——摘编自吴晓霞《当代中国基层治理的演进线索和内在逻辑》

- (1) 根据材料一并结合所学知识，概括中国古代传统社会城乡基层治理的特点。(8分)
- (2) 根据材料一、二并结合所学知识，分析影响近代基层治理转型的因素。(10分)
- (3) 综合上述材料并结合所学知识，简析改革开放以来中国基层治理的历史经验。(7分)

42. 阅读材料，完成下列要求。(12分)

材料 工业革命是人类历史上具有划时代意义的伟大革命，历史学界和经济学界对英国工业革命进行了深入研究，形成了多个学派，其主要观点如下表3所示。

学派	主要观点
社会变革学派	工业革命就是人类历史上一次人与人之间经济交易方式的大变革，既是经济上的革命，又是社会关系方面的革命，还是一次对整个人类发生根本影响的革命
工业组织学派	强调工厂结构和规模的变化，或者说工厂制的兴起，工厂成为管理劳动力的一种行之有效的生产组织形式
宏观经济学派	注重研究一些宏观经济变化，如：国民收入、资本形成率总投资的增长、资本配置的变化等等
技术学派	技术变化在工业革命时期是最根本的特征，尤其是发明和新技术的传播
能源消耗学派	能源使用的变化是工业革命的核心，工业革命大质上是建立在利用不可替代的无生命能源基础上的
消费学派	工业革命时期，消费成为社会再生产的一个重要环节，消费以独特的方式促进了社会的发展，导致产业结构的变化，拓展了服务业的空间。生活质量和消费模式发生根本变化，国内市场和国外市场分别扮演不同角色

表3

——摘编自舒小昀《从消费角度看英国工业革命》

根据材料并结合所学知识，就材料整体或其中任意一点拟定一个论题，并予以阐述。(要求：论题明确，持论有据，论证充分，表达清晰。)

(二) 选考题：共 25 分。请考生从 2 道地理题，3 道历史题中每科任选一题作答。如果多做，则每科按所做的第一题计分。

43. 旅游地理 (10 分)

磁器口古镇位于重庆市沙坪坝区嘉陵江畔，面积为 1.5 平方千米，距主城区 3 千米，是国务院确定的重点保护历史街区、国家 AAAA 级旅游景区。磁器口古镇拥有“一江两溪三山四街”的独特地貌，马鞍山踞其中，左边金碧山，右边凤凰山，三山遥望；凤凰、清水双溪滢烟并出，嘉陵江由北而奔，形成天然良港。磁器口古镇蕴含丰富的巴渝文化、宗教文化、沙磁文化、红岩文化和民间文化，临街特色小吃和土特产汇集，是重庆古城的缩影和象征，被美誉为“小重庆”，每年的游客上千万。下图 8 示意磁器口古镇景观。



图 8

分析磁器口古镇能够吸引大量游客的主要原因。

44. 环境保护 (10 分)

生活垃圾处理设施是民生刚需设施，主流处理工艺为填埋和焚烧。垃圾填埋过程中产生的甲烷、二氧化碳均为温室气体，持续时间长、可控性不强，且甲烷温室气体效应是二氧化碳的 28 倍。在碳达峰、碳中和目标背景下，探讨促进垃圾焚烧绿色价值转换的路径十分必要，其中垃圾焚烧发电产业发展成为我国“十四五”的规划目标。

分析垃圾焚烧处理工艺能够助力碳达峰、碳中和目标实现的主要原因。

45. 阅读材料，完成下列要求。(15分)

材料 我国历史上的五代十国，是战乱频繁发生、国家分裂的时期。《简论周世宗》中提出：周世宗为了守住帝业，治理好国家，“克己自励”、“抑情损欲”。周世宗不贪恋奢华之物，为百姓创造轻松愉悦的生活环境。显德元年，周世宗指出，孟汉卿纵容部下在征收蕞税时，向百姓额外征收“耗余”，处死孟汉卿可以警示旁人，加强官员执政为民，不得侵扰百姓的意识。周世宗积极培养军事力量，壮大国家军队，对周边邻国用兵，确立起了在周边各国中的核心地位，取得了邦交的主动权。显德二年，后周向西收回了秦凤四州故地。显德三年，周世宗“命工刻木为耕夫、织妇、蚕女之状，置于禁中，思广劝课之道”。

——摘编自刘铁男、赵辉《周世宗柴荣的经济改革策略考证》

(1) 根据材料并结合所学知识，概括周世宗改革的内容。(7分)

(2) 根据材料并结合所学知识，简评周世宗的改革。(8分)

46. 阅读材料，完成下列要求。(15分)

材料 波黑战争是第二次大战后，欧洲土地上爆发的规模最大、最为残酷的种族战争。从1992年4月至1994年3月，美国基本上采取“隔岸观火”的态度。在强大的内外压力下，美国终于“出山”，并适时地施加高压，力促冲突三方回到谈判桌。起初，俄罗斯也沉浸在同西方的“蜜月”中，加上综合国力的下降使俄外交处于十分被动的局面，在解决世界热点问题上表现得力不从心，少有作为。但是，俄罗斯外交的软弱状态引起了国内民族主义的强烈反弹。调整后的俄外交政策明显趋硬，加强了在前南问题上的外交攻势。在前南危机发展的前半段，欧共体担当斡旋和调解的主角，美国人起初对欧洲“城池失火”冷眼旁观，对欧共体和联合国派出的“消防队”不但未提供帮助，反而不时地“火上浇油”。1995年夏季欧美俄开始协调行动，在强大的军事压力下，战场形势发生逆转，塞族被迫回到谈判桌，接受被自己多次拒绝的和平计划。

——摘编自朱行巧《波黑战争与美俄欧关系》

- (1) 根据材料并结合所学知识，分析波黑战争期间欧美俄的态度。(9分)
- (2) 根据材料并结合所学知识，阐述波黑战争带给我们的启示。(6分)

47. 阅读材料，完成下列要求。(15分)

材料 吴禄贞，字绶卿，1911年11月7日殉国。1899年，吴禄贞东渡日本留学。当时留学之风初开，国人尚多视远适异国为畏途，尤以时距甲午之败，仅只数年，敌意犹存，惟绶卿独认为临阵用兵，必须知己知彼，方能百战百胜。他常说，欲雪甲午之耻，亦惟有先了解和学习日本人的长处，方能有济。清廷为了保护延吉地区，早在1907年8月设置了边务公署，吴禄贞负责所有的具体边防事务。在此期间，吴禄贞就延吉当地的情况进行调查之后，亲自绘制《延吉边务专图》，同时还编写了《延吉边务报告》用于驳斥日方在“间岛”事件当中所发表的所有谬论。吴禄贞在武昌起义爆发后的重大时刻，一直是在苦心孤独地筹划奔走，要为举兵响应创造有利条件。最终他选择了燕晋联军这条路。面见阎锡山时，吴禄贞讲道：“我同张绍曾、蓝天蔚已商约好了，只要山西的军队和我们第六镇的队伍联合起来，从石家庄北上，他们的军队就从滦州西来，这样南北夹攻，北京旦夕可下。”

——摘编自李孝平《辛亥忠烈吴禄贞》

- (1) 根据材料并结合所学知识，概括吴禄贞的生平贡献。(8分)
- (2) 根据材料并结合所学知识，分析吴禄贞的时代精神。(7分)