

## 高二期末考试思想政治试卷

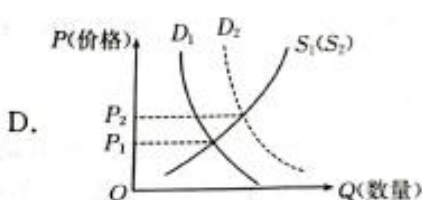
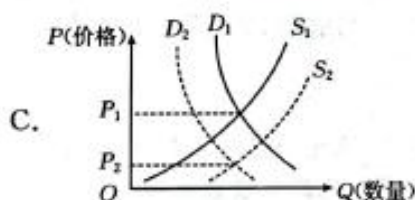
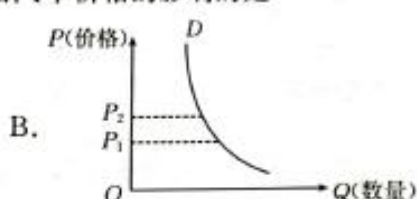
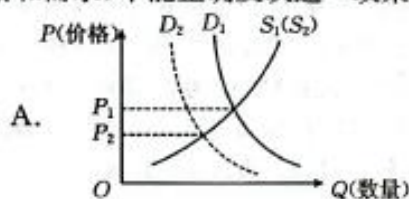
### 考生注意：

1. 本试卷分第Ⅰ卷(选择题)和第Ⅱ卷(非选择题)两部分,共100分。考试时间90分钟。
2. 请将各题答案填写在答题卡上。
3. 本试卷主要考试内容:高考全部内容。

### 第Ⅰ卷 (选择题 共48分)

一、选择题:本题共24小题,每小题2分,共48分。在每小题给出的四个选项中,只有一项符合题目要求。

1. 2023年6月,国务院办公厅发布《关于进一步构建高质量充电基础设施体系的指导意见》;财政部等三部门联合发布《关于延续和优化新能源汽车车辆购置税减免政策的公告》,将新能源汽车购置税减免政策再延期4年(即延长至2027年)。如其他条件不变,下列图示( $S$ 、 $D$ 分别表示供给和需求)中能正确反映这一政策对燃油汽车价格的影响的是



2. 从2013年以来,铁路部门自我加压、加强检修,连续十年在春运期间票源相对紧张的重点地区开通夜间高铁。如节前,其主要开设在北京、沪宁杭、广深等客流集中地区;节后,主要针对成渝、武汉、南昌、湖南等客流集中地区开设,让返乡之路更顺畅、更安全。可见,夜间高铁的开行

- ①意在更好地替代其他出行服务方式
- ②反映了价格变动对生产要素的调节
- ③考虑到了春运时期出行的供求特点
- ④体现了铁路部门主动承担社会责任

A. ①②

B. ①④

C. ②③

D. ③④

3. 2023年3月6日,习近平总书记参加以经济界人士为主的民建、工商联界委员联组会,阐明党和国家对待民营经济的方针政策。“党中央始终坚持‘两个毫不动摇’‘三个没有变’,始终把民营企业和民营企业当作自己人。”这意味着

- ①民营经济已成为我国社会主义经济的重要组成部分
- ②我国各种所有制经济在国民经济中的地位平等
- ③民营经济是我国经济社会发展的重要基础
- ④将为实现民营经济的高质量发展注入强大信心和动力

A. ①②

B. ①③

C. ②④

D. ③④

【◆高二思想政治 第1页(共6页)◆】

4. 2023年3月8日,全国建筑行业职业技能竞赛决赛收官。本届竞赛设置焊工、装饰装修工、建筑信息模型技术员3个竞赛项目。决赛冠军将按程序申报“全国五一劳动奖章”,一等奖选手将被授予“全国技术能手”。举办此类职业技能竞赛的意义有
- ①推动建设知识型、技能型、创新型劳动者大军  
②拓展就业岗位,促使劳动者转变就业和择业观念  
③完善技术人才培养体系,推动产学研有机结合  
④弘扬工匠精神,展现产业工人苦练技术的风貌
- A. ①③                      B. ①④                      C. ②③                      D. ②④
5. 国家统计局数据显示,2022年全年国内生产总值(GDP)1210207亿元,按不变价格计算,比2021年增长3%;2022年全国居民人均可支配收入36883元,比2021年名义增长5.0%,扣除价格因素,实际增长2.9%。下列对上述数据的解读正确的是
- ①我国城乡居民收入差距缩小                      ②城乡居民恩格尔系数会进一步提高  
③居民生活水平会进一步提升                      ④居民收入与国民经济基本同步增长
- A. ①②                      B. ①④                      C. ②③                      D. ③④
6. 中央经济工作会议要求,2023年继续实施积极的财政政策和稳健的货币政策,积极的财政政策加力提效。下列传导过程能正确反映“积极的财政政策加力提效”的是
- A. 扩大政府专项债券规模→保证政府全领域投资→带动社会投资→推动经济整体好转  
B. 进一步加强税收监管→优化财政支出结构→维护经济税收秩序→保障国家税收安全  
C. 实施减税降费、退税缓税→减轻企业负担→激发市场主体活力→促进经济健康发展  
D. 增加中央对地方转移支付→增强地方财力→提高初次分配的比重→实现共同富裕
7. 近年来,国家大力实施西气东输、西电东送、南水北调、东数西算等工程,鼓励沿海产业向中西部地区转移。实施上述举措意在
- ①加快转变发展方式                      ②改变我国能源结构  
③促进资源合理配置                      ④推动区域协调发展
- A. ①②                      B. ①④                      C. ②③                      D. ③④
8. 2022年我国吸收外资再创历史新高,首次突破1.2万亿元,同比增长6.3%,引资规模依然保持世界前列。其中,高技术制造业、高技术服务业引资分别增长49.6%和21.9%;东、中、西部地区实际使用外资分别增长4.7%、21.9%和14.1%。由此可见,我国
- ①优化营商环境,大幅降低外商投资风险                      ②开放朝着结构优化、提高效益方向转变  
③放宽市场准入,推动高水平贸易自由化                      ④利用国际资本推动经济高质量发展
- A. ①②                      B. ①③                      C. ②④                      D. ③④
9. 人民网2023年全国两会调查于2月1日正式上线,这是人民网连续22年开展两会调查。网友可通过人民网2023年全国两会调查专题、“人民网+”客户端、人民网法人微博、人民网官方微信、“学习大国”微信公众号等全媒体通道进入调查页面,选择最关心的热词并填写调查问卷。人民网推出全国两会调查
- ①表明社会主义民主是最真实、最管用的民主  
②拓展了公民参与民主决策、民主管理的渠道  
③发挥了传民声、汇民意、聚民智的重要作用  
④集中体现了全国人大坚持民主集中制的原则
- A. ①③                      B. ①④                      C. ②③                      D. ②④

【◆高二思想政治 第2页(共6页)◆】





10. 国家互联网信息办公室新修订的《互联网跟帖评论服务管理规定》明确提出：“跟帖评论服务使用者应当遵守法律法规，遵循公序良俗……不得发布法律法规和国家有关规定禁止的信息内容。”这说明
- ①公民在法律面前一律平等
  - ②公民享有的权利在不断缩小
  - ③公民的权利和义务是统一的
  - ④公民要在法治框架内行使权利
- A. ①②                      B. ①③                      C. ②④                      D. ③④
11. 车主的纸条留言：“警察同志，父亲病重需要转院，时间紧迫，实在是没有合适的车位，不得已才在此停车，还望理解。”交警的温馨提示单：“祝您父亲早日康复！”某地一位车主的纸条留言和交警开出的特殊“罚单”——“温馨提示单”同框出现在社交平台上，广大网友纷纷为交警的柔性执法点赞。对此，下列认识正确的有
- ①柔性执法既落实执法要求，又传递法治温度
  - ②柔性执法针对的是轻微违法行为，行政效率比较低
  - ③执法者站在人民群众的角度执法，更能获得群众理解
  - ④柔性执法摒弃了行政处罚手段，影响了依法行政的效果
- A. ①②                      B. ①③                      C. ②④                      D. ③④
12. 十四届人大一次会议秘书处共收到代表提出的议案 271 件、代表建议 8000 多件，全国人大代表紧紧围绕国家中心工作及民生事业发展，认真履职尽责。这表明
- ①人大代表积极反映人民的意愿
  - ②人大代表享有并积极行使质询权
  - ③人大代表是人民利益的代言人
  - ④人大代表有权决定地方重大事务
- A. ①③                      B. ①④                      C. ②③                      D. ②④
13. “中华文明探源工程”启动以来，全国政协组织政协委员和特邀专家学者们围绕追寻中华文明起源开展了数十次集中讨论，大家积极发挥自己的专业优势，就中华文明起源与发展建言献策，发表真知灼见。这表明人民政协
- ①作为专门的协商机构，是国家治理体系的重要组成部分
  - ②充分发挥民主党派的优势，促进国家治理能力的现代化
  - ③是具有中国特色的制度安排，认真行使政府的各项职能
  - ④积极履行参政议政的职能，助力国家促进文化繁荣发展
- A. ①②                      B. ①④                      C. ②③                      D. ③④
14. 沙特和伊朗于 2016 年断交。此后，两国进行的谈判陷入僵局。2023 年 3 月 10 日，中国、沙特、伊朗在北京发表联合声明，宣布沙特和伊朗达成一份协议，包括同意恢复双方外交关系，在至多两个月内重开双方使馆和代表机构，安排互派大使，并探讨加强双边关系。沙伊双方赞赏并感谢中国承办和支持此次会谈并推动其取得成功。可见
- ①国家间的利益关系正从根本对立走向一致
  - ②中国为构建人类命运共同体贡献智慧和力量
  - ③中国发挥负责任大国作用，促进地区和平稳定
  - ④中国为通过对话协商化解国家间矛盾树立典范
- A. ①②                      B. ①③                      C. ②④                      D. ③④

15. 2022 年全国“村晚”示范展示活动启动以来,贵州将“大节三六九,小节天天有”的文化积淀转化为文化优势,让“村晚”成为更多民俗节日和赛事的标配。古老村寨迎来人气,得到更多关注;土特产上了直播后收到订单,销量可观。从贵州“村晚”获得的启示是
- ①挖掘乡土资源有利于提升当地文化的影响力  
②要充分利用好民族特色文化促进经济社会的发展  
③常态化开展文化活动可以带给人奋进的精神动力  
④文化与经济融合,文化是经济发展的重要基础
- A. ①②                      B. ①④                      C. ②③                      D. ③④
16. 2023 年是毛泽东等老一辈革命家为雷锋同志题词 60 周年。60 年来,学雷锋活动在全国持续深入开展,雷锋的名字家喻户晓,雷锋的事迹深入人心,雷锋精神滋养着一代代中华儿女的心灵。实践证明,无论时代如何变迁,雷锋精神永不过时。这说明
- ①雷锋精神对人的影响是潜移默化、深远持久的  
②学雷锋重在拓展活动内容、创新活动形式  
③雷锋精神的时代内涵源于雷锋精神的永恒价值  
④雷锋精神所体现的民族精神是永远的精神火炬
- A. ①③                      B. ①④                      C. ②③                      D. ②④
17. 某校尝试“课堂+基地”的留学生特色培养方式,将传统文化课堂教学和研学基地建设有机融合。每年,该校都会举办“中华经典诗词诵读吟唱比赛”“传统文化特色展示项目”等中国传统节日特色活动,让留学生至少掌握一项中国传统文化特色技艺,把中国优秀传统文化传播到世界各地。这说明
- ①教育在文化交流和传播中发挥着重要作用  
②中外文化交流的内容和形式不断变化和发展  
③文化交流能够增进世界人民对中华文化的了解  
④中华优秀传统文化是中华文化对外传播的主要内容
- A. ①③                      B. ①④                      C. ②③                      D. ②④
18. 习近平总书记深刻指出:“民间艺术是中华民族的宝贵财富,保护好、传承好、利用好老祖宗留下来的这些宝贝,对延续历史文脉、建设社会主义文化强国具有重要意义。”我国 2800 多个县(市、区)、4 万多个乡镇,很多都有自己独具特色的民间艺术形式。为推动民间艺术繁荣发展需要我们
- ①采用老百姓便于参与、乐于参与的艺术传承形式  
②延续文化基因,全面保留和继承我国的历史文化传统  
③挖掘利用各地优秀民间文化艺术,深入推进文化惠民  
④让文化产业成为我国的支柱型产业,增强文化软实力
- A. ①②                      B. ①③                      C. ②④                      D. ③④
19. 恩格斯说,社会力量完全像自然力一样,在我们还没有认识和考虑到它们的时候,起着盲目的、强制的和破坏的作用。但是,一旦我们认识了它们,理解了它们的活动、方向 and 影响,那么,要使它们越来越服从我们的意志并利用它们来达到我们的目的,就完全取决于我们了。这一论述表明
- ①规律没有被认识时主要起破坏作用  
②认识规律是利用规律的前提和基础  
③认识规律才能达到改造世界的目的  
④人们能根据需要选择如何利用规律
- A. ①②                      B. ①④                      C. ②③                      D. ③④



20. 一个世纪前,科学家巴甫洛夫首次发现难以解释的“时间一致性”现象:只有当铃声和食物同时出现,狗才学会二者之间的关联。一个世纪后,我国科学家终于发现了完整的神经环路模型,揭示了神经递质五羟色胺调节“时间一致性”的新机理,而动物正是利用这一计时机制来判断不同事件之间的因果关系。该研究有助于理解神经疾病导致学习记忆障碍的病理机制,为药物干预患者的时间认知障碍提供了新的思路。由此推断
- ①客观事物的复杂性决定了认识的反复性
  - ②在科学实验中才能提高科学家的认识能力
  - ③人类追求真理的过程并不是一帆风顺的
  - ④在实践中探寻和发展真理是科学的目的
- A. ①③                      B. ①④                      C. ②③                      D. ②④
21. 我国科研人员研究发现,树种之间存在互惠作用。在干旱的时候,深根树可以将深层土壤的水分吸收至表层土壤,为浅根树提供水分,从而提高其对干旱的抵抗力,树种多样性越丰富则整个系统越稳定。这说明
- ①事物的外部联系比内部联系更加重要
  - ②整个自然界是一个普遍联系的有机整体
  - ③人为创造的联系更有利于事物的存在与发展
  - ④事物之间的联系是事物存在与发展的重要条件
- A. ①②                      B. ①③                      C. ②④                      D. ③④
22. 国家主席习近平在二〇二三年新年贺词中引用了苏轼的一句话:“犯其至难而图其至远。”这句话的意思是“向最难之处攻坚,追求最远大的目标”。这给我们的启示是
- ①前进性是事物发展的状态,积跬步方能至千里
  - ②人生天地间,长路有险夷,齐心协力才能“图其至远”
  - ③勇敢面对困难和挑战,攻克“至难”方能达到“至远”
  - ④量变引起质变,“图其至远”要有滴水穿石的毅力
- A. ①②                      B. ①④                      C. ②③                      D. ③④
23. 古人说:“得其所利,必虑其所害;乐其所成,必顾其所败。”(《说苑·敬慎》)意思是说:当你得到好处时,一定要考虑到可能带来的弊害;当你为成功感到高兴时,一定要考虑到可能出现的失败。这说明
- ①任何事物都存在利与弊、优点和缺点两个方面
  - ②把握联系的多样性,有利于我们正确认识事物
  - ③意识的自觉选择性是人能够认识世界的重要条件
  - ④矛盾双方在一定条件下会向各自相反的方向转化
- A. ①②                      B. ①③                      C. ②④                      D. ③④
24. 2022年11月,国务院办公厅印发《关于推广行政备案规范管理改革试点经验的通知》,推广河北、浙江、湖北三省行政备案规范管理改革试点经验。实行行政备案规范管理改革的哲学依据是
- ①改革是社会主义制度的自我完善和发展
  - ②生产力的变化推动生产关系不断调整和完善
  - ③社会意识的变化要通过社会存在的变化才能实现
  - ④适时推动上层建筑的变革有利于推动社会进步
- A. ①②                      B. ①④                      C. ②③                      D. ③④

## 第Ⅱ卷 (非选择题 共 52 分)

二、非选择题:共 52 分。

25. 阅读材料,完成下列要求。

2023 年,国家市场监督管理总局聚焦重点领域,统筹推进法律制度供给,助力经济高质量发展。

加快推进《中华人民共和国反不正当竞争法》《公平竞争审查条例》《禁止滥用知识产权排除、限制竞争行为规定》等法律法规的制修订;修订《企业名称登记管理实施办法》,推动市场准入和退出便利化;推进《中华人民共和国电子商务法》的全面修订,研究制定《互联网平台企业落实合规管理主体责任监督管理规定》;加快推进《消费者权益保护法实施条例》的制定;推动修订《中华人民共和国计量法》《中华人民共和国产品质量法》《中华人民共和国认证认可条例》《中华人民共和国标准化法实施条例》等法律法规,支撑高质量发展。

结合材料,运用经济生活知识,说明国家市场监督管理总局加强法治建设对经济社会发展的积极影响。(14 分)

26. 阅读材料,完成下列要求。

某地以“一单四议六平台”为主要内容,推动村干部权力无缝隙监管,形成责任分工明确、职责任务清晰、运行流程规范、保障措施有力的基层组织结构,促进基层有效治理。

该地实施“村级权力清单”制度,确定 12 项集体事项和 8 项便民事项,明确村级组织和村干部的权责权限、工作实施责任主体、权力行使流程、公开公示范围、违规追责办法。该地还实行以党支部提议、“两委”商议、党员审议、村民(代表)决议为内容的“四议决策”,明确“事由谁来定”。该地在镇(街道)建立“三资”委托代理、产权交易服务、项目竞标、合同监管、矛盾调解、为民服务“六个运行平台”,整合 20 多个部门、37 项业务,有效助推了各项村级事务顺利开展。

结合材料,运用政治生活知识,说明该地的“一单四议六平台”是如何促进基层有效治理的。(12 分)

27. 阅读材料,完成下列要求。

“感动中国 2022 年度人物”集体奖花落 13 位“银发知播”。“银发知播”群体由两院院士、大学教授和中小学老教师组成,平均年龄 77 岁。他们凭借着对知识的热爱、对真理的追求,借助短视频与直播,将毕生所学倾囊相授,用日复一日的耐心播下知识的种子。

地球边上为什么会有个月亮?太阳系到底有多大?我国的探月工程为什么如此重要?……中科院院士、探月工程首任首席科学家欧阳自远把枯燥的知识讲得既生动又通俗易懂,每次做探月知识直播都有上百万人观看;中国科学院院士、海洋地质学家汪品先为网友们深入浅出地讲解关于深海的一切,用 3 个月的时间以科普吸引了百万粉丝;退休物理学教授吴於人为了把一个知识点讲解透彻,用铁锅演示天眼,用扫帚模拟太空中的宇宙射线,将复杂的物理知识演示得一目了然,激发孩子的学习兴趣和他们对科学探索的渴望;中国科学院院士、著名古生物学家舒德干通过视频平台开讲“我们从哪里来”,把进化古生物学这个“冷门学科”讲解得“接地气”,与大众分享科学思想;有着 50 年教龄的语文老师杨维云除了开设学龄前儿童拼音,她还单加了一项成年人零基础学拼音识字,在直播间里为数万名成年人提供拼音识字课程……

(1)结合材料并运用价值创造的知识,分析 13 位“银发知播”是如何发挥余热的。(12 分)

(2)结合材料,运用发展中国特色社会主义文化的相关知识,说明 13 位“银发知播”获奖的原因。(10 分)

(3)某班召开学习“银发知播”主题班会,请你拟写两条发言提纲。(4 分)

【◆高二思想政治 第 6 页(共 6 页)◆】

## 关于我们

自主选拔在线是致力于提供新高考生涯规划、强基计划、综合评价、三位一体、学科竞赛等政策资讯的升学服务平台。总部坐落于北京，旗下拥有网站（[网址: www.zizzs.com](http://www.zizzs.com)）和微信公众平台等媒体矩阵，用户群体涵盖全国90%以上的重点中学师生及家长，在全国新高考、自主选拔领域首屈一指。

如需第一时间获取相关资讯及备考指南，请关注**自主选拔在线**官方微信号：**zizzsw**。



 微信搜一搜

 自主选拔在线

