

绝密★启用前

2023 年湖北省部分名校高三新起点 8 月联考

地理试题

(测试时间:75 分钟 卷面总分:100 分)

★祝考试顺利★

注意事项:

1. 答卷前,考生务必将自己的姓名和准考证号填写在答题卡上。将条形码横贴在答题卡右上角“条形码粘贴处”。
2. 作答选择题时,选出每小题答案后,用 2B 铅笔在答题卡上将对应题目答案信息点涂黑;如需改动,用橡皮擦干净后,再选涂其他答案。答案不能答在试卷上。
3. 非选择题必须用黑色字迹的钢笔或签字笔作答,答案必须写在答题卡各题目指定区域内相应位置上;如需改动,先划掉原来的答案,然后再写上新答案;不准使用铅笔和涂改液。不按以上要求作答无效。
4. 考生必须保持答题卡的整洁。考试结束后,将试卷和答题卡一并交回。

一、选择题:本题共 15 小题,每小题 3 分,共 45 分。在每小题给出的四个选项中,只有一项是符合题目要求的。

由于近岸区域人口密集,基础设施众多,符合核电站建设的优良厂址越来越少,选取海岛作为核电厂址成为一种新思路。海岛核电厂址需开展设计基准水位的研究。图 1 示意我国某海岛核电厂址及沿海坎门水文观测站位置。据此完成 1~3 题。

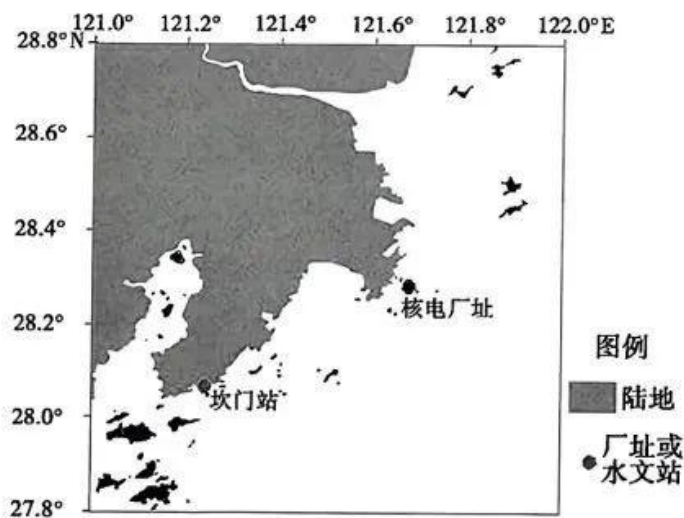


图 1

1. 选取海岛作为核电厂址考虑的最主要因素是
A. 土地 B. 水源 C. 市场 D. 安全
2. 针对核电厂基准水位的研究,坎门水文站需要观测
①天文高潮位 ②河流丰水位 ③最大风暴潮位 ④台风浪高程
A. ①②③ B. ①②④ C. ①③④ D. ②③④
3. 我国大力发展核电的意义有
①保障国家能源安全 ②调整能源消费结构
③提高装备制造业水平 ④降低能源消耗总量
A. ①②③ B. ①②④ C. ①③④ D. ②③④

利用世界银行 1996—2018 年 13 个国家的人口和经济数据,探讨人口负增长时代是否还能实现经济持续增长,分析人口负增长对经济增长的影响等问题。图 2 示意 1996—2018 年 13 个国家人口增长率与 GDP 增长率的散点象限分布。据此完成 4~6 题。

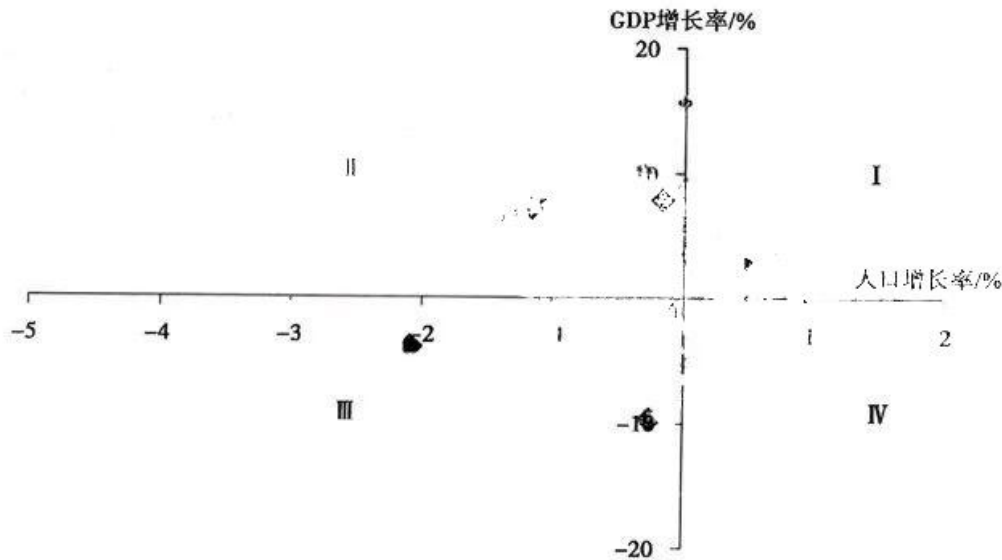


图 2

4. 图中反映人口负增长能实现经济持续增长的象限是
A. I B. II C. III D. IV
5. 下列属于人口负增长时代的特点的是
A. 人口总量增长放缓 B. 劳动力趋于年轻化
C. 人口死亡率会降低 D. 人口素质持续提升
6. 关于人口负增长对经济增长的影响说法正确的是
①促进人力资源优化配置 ②促进产业结构优化升级
③促进经济增长方式转变 ④促进社会消费需求增加

- A. ①②③ B. ①②④ C. ①③④ D. ②③④

OLED(有机发光显示器)是一种新型的显示技术。目前,全球 OLED 市场主要由韩国的三星和 LG 占据主导地位,但随着中国的京东方、TCL 等厂商的技术进步和产能扩张,韩国也意识到了自己在 OLED 领域存在的问题和挑战。图 3 示意中韩两国 OLED 产业发展历程。据此完成 7~9 题。



图 3

7. OLED 产业具有的特点是

- A. 劳动力导向 B. 资金投入多 C. 产品更新慢 D. 市场需求小

8. 关于我国 OLED 产业发展说法正确的是

- A. 起步早 B. 发展快 C. 水平高 D. 市场广

9. 韩国在 OLED 领域存在的问题和挑战主要有

- ①技术创新不足 ②成本控制不佳 ③生产能力不足 ④市场需求变化快
A. ①②③ B. ②③④ C. ①③④ D. ①②④

新疆暴雪主要发生在北疆,每年冬季都会出现,天山北坡是出现大暴雪的频发区之一。

图 4 示意天山北坡暴雪过程主要水汽源地。据此完成 10~12 题。

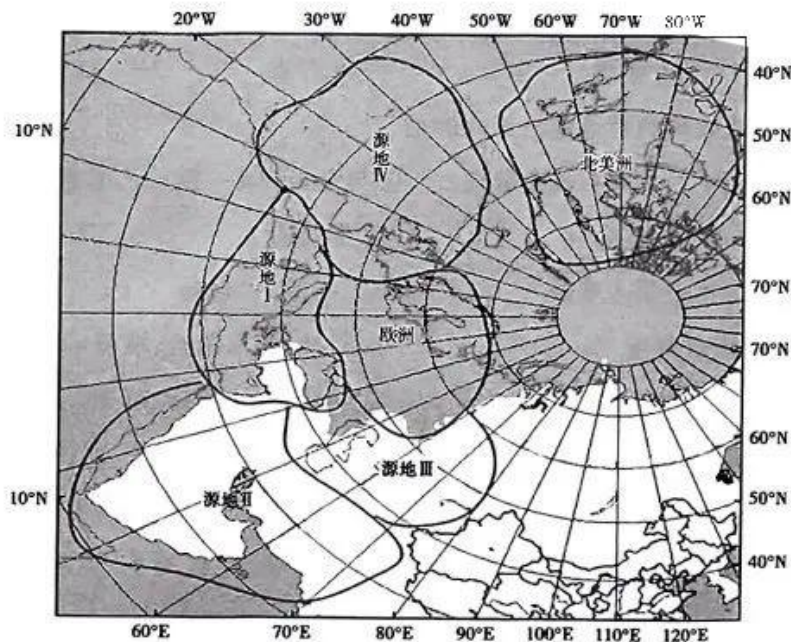


图 4

10. 与天山北坡出现大暴雪关系最密切的主要大气环流形式是
A. 冷锋系统 B. 蒙古高压 C. 中纬西风 D. 冬季风
11. 对天山北坡暴雪贡献最大的水汽源地是
A. 源地 I B. 源地 II C. 源地 III D. 源地 IV
12. 暖春的新疆最容易出现的自然灾害是
A. 春旱 B. 洪水 C. 暴雨 D. 寒潮

倒石堆是一种发育在岩壁下由大量松散且呈棱角状的岩屑堆积而成的坡地地貌。图 5 示意我国西北山区倒石堆地貌。据此完成 13~15 题。

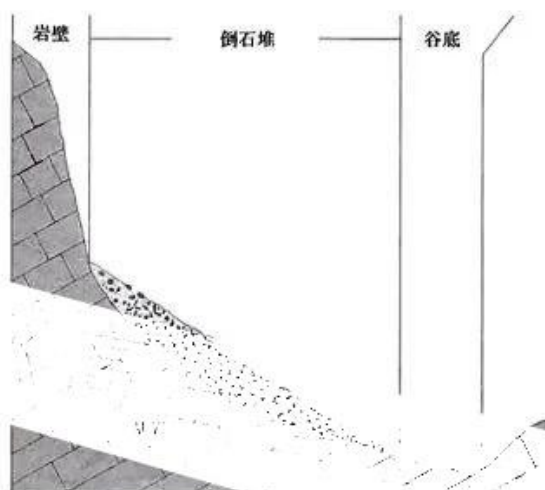


图 5

13. 与倒石堆地貌形成直接相关的地质灾害是
A. 地震 B. 滑坡 C. 泥石流 D. 崩塌
14. 关于倒石堆组成物质的特点说法正确的是
①颗粒大小混杂 ②碎石棱角分明 ③与基岩岩性一致 ④岩屑压实有层理
A. ②③④ B. ①③④ C. ①②④ D. ①②③
15. 倒石堆形成的地质作用主要是
A. 风化、侵蚀、流水搬运 B. 侵蚀、流水搬运、堆积
C. 风化、侵蚀、重力作用 D. 风力侵蚀、搬运、堆积

二、非选择题：共 55 分。

16. 阅读图文材料，完成下列要求。(18 分)

芦荟是多年生多浆肉质草本植物，其叶片肥厚多汁，较耐旱，不耐寒。长期研究发现，芦荟中的芦荟黄汁和凝胶具有很高的药用价值。我国四川凉山州干热河谷区是芦荟种植的高产优质区。图 6 示意四川凉山州芦荟种植区划。



图 6

- (1)说出四川凉山州芦荟种植区的分布特点。(6分)
- (2)分析四川凉山州河谷气候干热的原因。(6分)
- (3)说明干热河谷是芦荟种植高产优质区的条件。(6分)

17. 阅读图文材料,完成下列要求。(18分)

昌景黄高铁西起江西南昌,经瓷都景德镇,东至安徽黄山。全长289.8公里,桥隧比85.92%,该线跨越大江大湖、横跨鄱阳湖平原、贯穿黄山山脉,形成江西连通长三角的又一条高铁大动脉,预计于2023年年底通车。项目建成将极大地促进沿线南昌、景德镇地区与黄山、杭州等地的联系,形成跨越皖赣两省的“名城—名湖—名山”世界级黄金旅游线。图7示意昌景黄高速铁路线路。



图 7

- (1) 简述昌景黄高铁桥隧比重大的原因。(6分)
- (2) 分析昌景黄高铁线路整体呈“Z”形而非直线的原因。(6分)
- (3) 说明昌景黄高铁建成的地理意义。(6分)

18. 阅读图文材料,完成下列要求。(19分)

在地质年代里,乍得湖所在的乍得盆地曾经是一片海洋,后来慢慢演变成内陆湖泊,却是淡水湖。乍得湖流域有3000多万人靠乍得湖为生,随着人口不断增长,沿湖国家不仅利用湖区发展渔业、利用湖滨草原发展畜牧业,而且在湖滨地带大规模开辟农田,建立粮食生产基地。为了获取更多的水源,一些国家在河上建坝截水。图8示意乍得湖流域水系。



图8

- (1) 简述乍得湖的形成过程。(6分)
- (2) 利用水循环的原理分析乍得湖为淡水湖的原因。(6分)
- (3) 推测乍得湖的面积变化趋势并分析其人为原因。(7分)

关于我们

自主选拔在线是致力于提供新高考生涯规划、强基计划、综合评价、三位一体、学科竞赛等政策资讯的升学服务平台。总部坐落于北京，旗下拥有网站（[网址：www.zizzs.com](http://www.zizzs.com)）和微信公众平台等媒体矩阵，用户群体涵盖全国 90% 以上的重点中学师生及家长，在全国新高考、自主选拔领域首屈一指。

如需第一时间获取相关资讯及备考指南，请关注**自主选拔在线**官方微信号：**zizzsw**。

