

绝密★启用并使用完毕前

高中三年级 2 月学校联考

历史试题

注意事项：

- 1.答题前，考生先将自己的姓名、考生号、座号填写在相应位置，认真核对条形码上的姓名考生号和座号，并将条形码粘贴在指定位置上。
- 2.选择题答案必须使用 2B 铅笔（按填涂样例）正确填涂；非选择题答案必须使用 0.5 毫米黑色签字笔书写，字体工整、笔迹清楚。
- 3.请按照题号在各题目的答题区域内作答，超出答题区域书写的答案无效；在草稿纸、试题卷上答题无效。保持卡面清洁，不折叠、不破损。

一、选择题：本题共 15 小题，每小题 3 分，共 45 分。每小题只有一个选项符合题目要求。

- 1.据史书记载，春秋时期，随着土地私有制的发展，新兴贵族地主崛起。以卿大夫为代表的“私家”与“公室”的争斗愈演愈烈，其结果各诸侯国的“公室”程度不等地衰落下去，卿大夫逐渐掌握政权。这反映了
 - A.西周的分封制彻底崩溃
 - B.政治体制与社会经济发生矛盾
 - C.诸侯争霸导致社会动荡
 - D.礼崩乐坏局面推动社会的变革
- 2.汉元始五年，平帝暴卒，王莽选立 2 岁的宗室刘婴为帝，号孺子婴，自己仿周公辅成王故事，以摄政名义称“假皇帝”、“摄皇帝”，改元居摄。出现这种现象的主要原因是
 - A.君主专制制度的发展
 - B.王莽工于权谋阴险狡诈
 - C.周公对后世影响深远
 - D.西汉政权统治黑暗腐朽
- 3.唐代韩愈对孟子特别推崇，在“道统”中将原先被列为上承孔子的颜渊，排斥在主线之外，以孟子上承孔子，而自承孟子，并且将儒学研究从章句训诂引导为对经典义理的探求。韩愈此举
 - A.反映了唐朝的多元文化面貌
 - B.扭转了儒学面临的危机
 - C.对宋代儒学的发展产生影响
 - D.顺应了三教合流的趋势

历史试题 第 1 页（共 6 页）

4.表1为1000—1890年日本、中国和西欧居民达到1万人的城镇人口的百分比。它反映了宋代以后中国

表1

时间	日本	中国	西欧
1000	数据不详	3.0	0.0
1500	2.9	3.8	6.1
1820	12.3	3.8	12.3
1890	16.0	1.1	31.0

- A.人口增长速度放缓
B.资本主义模式萌芽
C.自然经济解体缓慢
D.经济总量落后于世界
- 5.永乐七年(公元1109年),郑和第二次下西洋,朱棣敕谕,“四方海外诸番王及头目人等:朕奉天命君主天下,一体上帝之心,施恩布德。尔等祇顺天道,恪守朕言,……若有携诚来朝,咸锡皆赏。故兹敕谕,悉使闻知。”这表明明政府
- A.固守宗藩体制
B.扩展海洋的政治愿望
C.强化海禁政策
D.顺应时代发展的潮流
- 6.鸦片战争以后,“马达”“轮胎”“国会”“阻力”“权利”“义务”等新名词先后传入中国。1904年,张之洞拟定《奏定学堂章程学务纲要》时,却专列“戒袭用外国无谓名词,以存国文、端士风”一条。这些现象体现了当时
- A.西学东渐的深入
B.民族危机的加深
C.顽固势力的强大
D.社会转型的特点
- 7.图1为中国知识界研究苏(联)俄作品数量统计表。据此可以推知

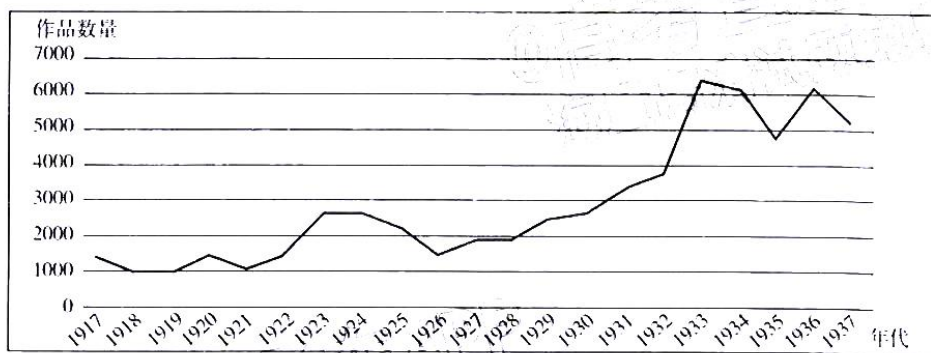


图1

- A.研究作品数量整体上升
B.国内外局势影响数量变化
C.数量变化源于十月革命
D.研究作品的主题复杂多样

8. 1938年初,日军进军中国腹地,国民党军向黄河以南大撤退时,八路军采取“敌进我进”的策略,发动游击战进入广大农村,形成犬牙交错的战争形态。八路军的这一战略

- A. 推动抗日战争进入相持阶段
- B. 壮大了反抗日本侵略的力量
- C. 迅速扭转了不利的抗战形势
- D. 表明国民党正面战场的失败

9. 图2是创作于1956年的宣传画《报喜》。对此解读正确的是




图2

- A. 人民民主政权得到有效巩固
- B. 社会主义工业化基本实现
- C. 社会主义经济制度基本确立
- D. 人民公社体制迅速发展

10. 图3是1949—1963年我国国家元首出访次数示意图。这一变化主要源于




图3

- A. “一边倒”政策的实施
- B. 独立自主的外交政策成熟
- C. 中苏关系的不断恶化
- D. 打破西方国家的外交封锁

11. 古希腊雕塑各个时期表现手法各有特色,经过了从“僵直的站立”到“放松的右腿”再到“自由运动的身体”进而走向了“弄姿作态”的艺术呈现方式。这反映了古希腊

- A. 艺术自由气息浓厚
- B. 人文思想深入发展
- C. 雕塑技艺持续改进
- D. 商品经济影响深远

12. 15世纪有西欧学者提出:“这个世界和它的所有美好事物看来是由全能的上帝为了让人使用而首先创造与构建起来的……人有知识和能力去统治它、管理它”,“……你是你自己的自由的创造者和塑造者”。可以看出该学者

- A. 批判中世纪神学蒙昧
- B. 倡导宗教信仰自由
- C. 借助神学塑造人本观
- D. 推崇资本主义制度

13. 1760—1761年美洲殖民地占英国出口值的11%，进口值的20%。1772—1773年，北美和西印度占英国出口的38%，进口的39%；到1797—1798年，分别为57%和32%。这一变化

- A. 推动机器取代手工劳动
B. 引发欧洲价格革命
C. 加速世界市场的形成
D. 确立英国霸主地位

14. 表2为1950年部分国家国民生产总值与人均国民生产总值一览表。

表2

国家	国民生产总值/亿美元	人均国民生产总值/美元
美国	3810	2536
苏联	1260	699
英国	710	1393(1951年)
法国	500	1172
联邦德国	480	1001
日本	320	382
意大利	290	626(1951年)

据此可知此时

- A. 传统国际格局瓦解
B. 世界步入两极格局
C. 美国霸权主义肆虐
D. 多极化趋势加强

15. 图4是1950—1989年西方某国国内生产总值变化曲线图。对图中②时段分析正确的是

- A. 中央政府积极干预经济
B. 国际关系恶化掣肘经济
C. 经济发展处于黄金时期
D. 政府公共开支适时减少

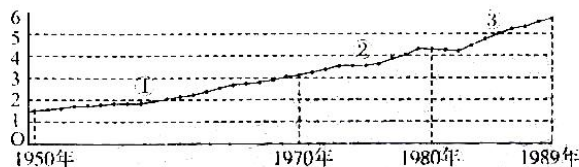


图4

二、非选择题：本题共4小题，共55分。

16. (15分) 阅读材料，回答问题。

材料

宋人笔下涌现出诸多“好孩子”形象。比如，赵令赫“幼而秀颖，自异于群儿中。或戏之，则正色俨然，笑语不妄。记识敏悟，四岁受《孝经》，六岁通《论语》，七岁能为二韵诗。丧父，哀毁如成人”。周谔“生而秀颖，十岁如成人，十四入太学，力学勤苦，登元丰二年进士第”。董仲永“幼而端谨，不为儿嬉事，便若成人”。

——摘编自周扬波《宋人的儿童观》等

提取材料信息，评述宋人对“好孩子”形象的塑造。(15分)

历史试题 第4页 (共6页)

17.(16分)阅读材料,回答问题:

材料

在海防问题上,郑观应认为“枪炮器械宜精也,不精则彼利我钝;轮船、火车、电报宜兴也,不兴则彼速而我迟”。“徒以分省设防画疆而守,遇有事变拨调他省师舰以为接济,而号令不齐,器械不一。平日既无统属之分,临进难收臂指之效”。他还认为中国建立的海军的目的在于“卫商民,收防海之实用”,“张国威,护华商”。而发展工商业又为建立海防提供了物质保证,他说:“非富不能图强,非强不能保富,富与强实相维系也”。

——摘编自刘中民《中国近代海防思想史论》

根据材料并结合所学知识,对郑观应的海防主张进行探讨。(16分)

18.(12分)表3全民族抗战期间中国部分省份征发壮丁(包括女兵与民夫)人数统计表(单位:人)。阅读材料,回答问题。

表3

	总计	二十六年	二十七年	二十八年	二十九年	三十年	三十一年	三十二年	二十三年	三十四年
四川	2578810	103837	17145	296341	266373	344610	366625	352681	391112	283086
云南	374693		96317	25582	731	3559	59017	58180	63231	36126
贵州	580416	47149	35142	64741	78643	71603	69603	83848	73416	56271
广西	808046	106691	218665	34710	104741	64961	76849	76326	90379	24721
广东	925873	35247	80470	131693	126196	109127	32720	104349	18742	36329
福建	425215	29427	33499	60064	58249	55716	51041	48510	38545	50174
浙江	550493	32791	30445	94636	108479	66192	48608	59362	622679	47398
安徽	563673	44271	22832	54329	68715	69479	95053	78433	74111	56450
江西	947722	43230	154642	178210	120643	98069	107822	92712	92902	59501
湖南	1570172	190505	220745	213296	216780	169623	208836	184421	101756	54210
湖北	691195	75805	95043	98279	64280	67075	88307	86942	72796	42668
河南	1898356	126964	321173	264370	381250	234279	24589	205815	19934	24982
陕西	888363	37197	68679	126341	127430	80350	99707	117872	144819	85968
甘肃	383857	23774	40982	54627	54355	50230	55769	42516	32714	28890
山西	216603					33500	23103	60000	60000	40000
山东	31922	1300	16194				3748			
江苏	38859	18433	2437							
宁夏	23609		4000			4000	4606	3000	4000	4000
青海	18009		2500			474	905	2130	6000	6000
共计	140505 21	928310	164891 3	197550 1	191339	166783 0	171113 2	166691 8	162342	939236
附记	本表根据各师管区征发壮丁文电报表统计									

——摘编自何应钦《八年抗战之经过》中《抗战期间各省历年实征壮丁人数统计表》

根据材料,概括全民族抗战期间征发壮丁人数的时空分布特征并说明理由。(12分)

历史试题 第5页 (共6页)

19.(12分)《泰晤士报》是英国全国发行的一张综合性日报,一直被认为是英国的第一主流大报,被誉为“英国社会的忠实记录者”。阅读材料,回答问题。

材料

1785年元旦约翰·沃尔特创办《泰晤士报》。《泰晤士报》最先将新闻视角延伸至英国之外的其他欧洲国家,尤其是法国。这为《泰晤士报》在政界和金融界内赢得了很高的声誉。与此同时,报纸发行量十分可观,这也使得当时该报的记者、编辑和专栏作家的收入非常可观。

1803年沃尔特的儿子小沃尔特接手《泰晤士报》,他除了坚持不再接受政府补贴外,在技术等多个领域进行了全面改革……19世纪早期,《泰晤士报》历任三位总编辑约翰·斯托达特、托马斯·巴恩斯和约翰·撒迪厄斯的励精图治,其影响力再次得到增强,尤其是在英国政治和伦敦事务领域。

1847年小沃尔特去世时,《泰晤士报》的发行量超过了伦敦其他大报发行量的总和。

1850年前后,《每日电讯报》和《每日邮报》等廉价的“便士报”的迅速崛起对《泰晤士报》的生存和发展形成了巨大威胁。

1966年,已经不堪重负的《泰晤士报》出售给了大出版商罗伊·汤姆森。同年,《泰晤士报》开始在报纸的第一版刊登新闻报道。在此之前,《泰晤士报》的第一版一般主要刊登小型的奢侈品广告,对象为英国的富人阶级。

1981年,从澳大利亚办一份小报起家,后控制澳大利亚、英国、美国等国家的多家报刊、电台的新闻巨头鲁伯特·默多克以1200万英镑收购了《泰晤士报》,随后进行改革。

2005年,英国官方公布的数据显示《泰晤士报》日均发行量为68.8万份。这一销量已经是《泰晤士报》近年来最好的发行水平。

(1)根据材料及所学知识,如果由你负责19世纪中叶的《泰晤士报》,你将如何引领报纸走出困境?(6分)

(2)《泰晤士报》被誉为“英国社会的忠实记录者”,根据材料及所学知识对此加以说明。(6分)

关于我们

自主选拔在线是致力于提供新高考生涯规划、强基计划、综合评价、三位一体、学科竞赛等政策资讯的升学服务平台。总部坐落于北京，旗下拥有网站（[网址：www.zizzs.com](http://www.zizzs.com)）和微信公众平台等媒体矩阵，用户群体涵盖全国90%以上的重点中学师生及家长，在全国新高考、自主选拔领域首屈一指。

如需第一时间获取相关资讯及备考指南，请关注**自主选拔在线**官方微信号：**zizzsw**。



微信搜一搜

 自主选拔在线

