

一、单项选择题:共 22 题,每题 2 分,共 44 分。每题只有一个选项最符合题意。

图 1 为 2016 年 12 月 8 日游客在悉尼 (33°55'S, 150°53'E) 15 时 15 分拍摄的照片。据此回

答 1~2 题。




图 1

1. 该日悉尼的正午太阳高度角大约是

- A. 32° B. 58° C. 66° D. 79°

2. 此时月球的方位



- A. 偏东 B. 偏南 C. 偏西 D. 偏北

图2为“某日14时亚洲部分地区地面天气简图”。据此回答3~5题。

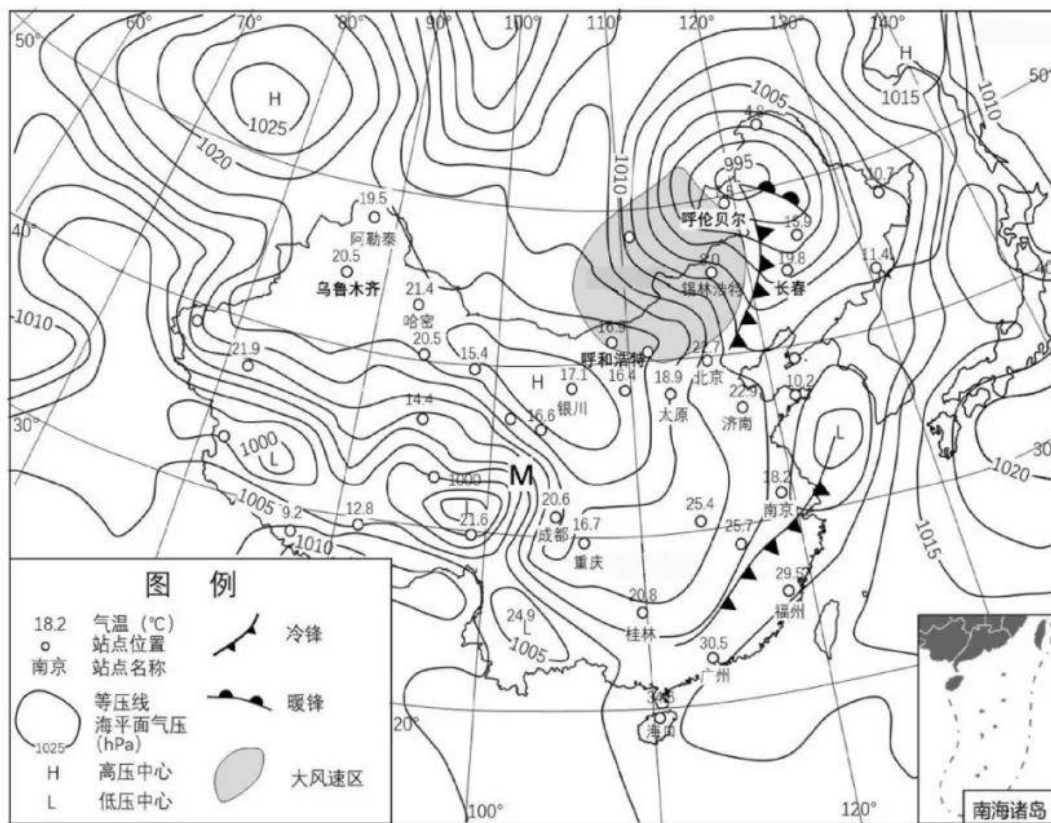


图2

3. 与大风速区相比，M地区风速较小，主要是因为
- 水平气压梯度力较小
 - 水平地转偏向力较小
 - 地表的摩擦作用较大
 - 气旋的中心气压较高
4. 此时我国新疆地区气温明显高于内蒙古中东部地区的主要原因是
- 正值当地正午前后，太阳辐射较强
 - 受降温过程影响小，天气晴朗少云
 - 受盆地地形的影响，空气下沉增温
 - 位于天山的背风坡，焚风效应显著

- A. 高度集约的设施农业
- B. 精耕细作的水田农业
- C. 规模经营的商品农业
- D. 休闲观光的城郊农业

图 4

我国城镇化快速发展，许多省区人口流入北京、上海和广州等城市。图 5 为“某年我国三大城市外来人口占比位列前十的省区分布示意图”。据此回答 11~13 题。

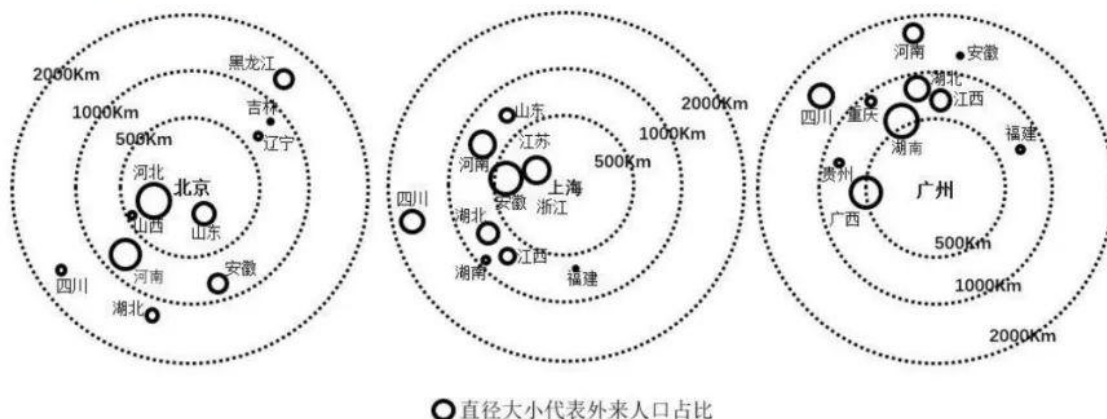
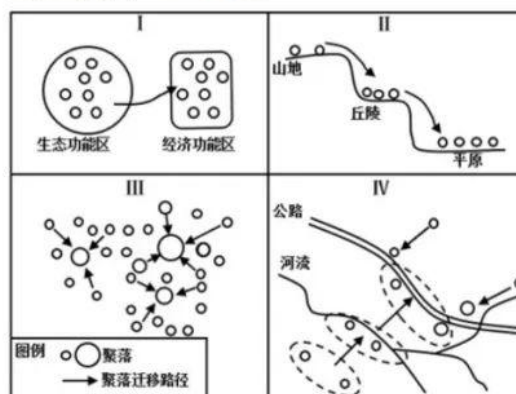


图 5

11. 同为长三角地区的江苏、浙江和安徽三省，迁移至上海人口相差较大，其主导因素是
 - A. 对外交通条件
 - B. 文化交流习惯
 - C. 经济活动方式
 - D. 人口迁移政策
12. 从全国看，三大城市的外来人口省区分布具有明显的
 - A. 地域性
 - B. 等距性
 - C. 均衡性
 - D. 同向性
13. 据第七次人口普查数据，北京外来人口增幅下降，其主要原因是北京
 - A. 政府机构外迁
 - B. 城市规模扩大
 - C. 首都功能优化
 - D. 公共服务升级

随着乡村振兴战略的有效实施，我国乡村聚落空间分布发生了明显变化。图 6 为“江南丘陵某区域四种乡村聚落空间演化模式示意图”。据此回答 14~16 题。

14. 模式 I 中乡村聚落迁移的主要目的是
 - A. 增强功能区竞争力
 - B. 保护环境敏感区域
 - C. 促进劳动力就业
 - D. 提高城镇化水平
15. 反映乡村聚落空间演化过程从受自然要素影响转向受经济社会要素影响的模式是



- A. I B. II
C. III D. IV

图6

16. 在我国重大战略实施的背景下，乡村聚落空间演化的总趋势是

- A. 集聚扩大 B. 原地保护 C. 均衡布局 D. 分散迁移

公元8世纪开始，基尔瓦逐渐成为非洲东海库的商贸中心。15世纪初郑和船队曾从不同航线到达基尔瓦。17、18世纪随着世界贸易格局不断改变，基尔瓦商贸地位逐渐衰落。

1981年基尔瓦所在地的遗址被列入世界遗产名录。图7为“郑和船队航海路线示意图”。据此回答17~19题。

17. 公元8世纪基尔瓦作为商贸中心兴起时，其

对外贸易的主要地区是

- A. 阿拉伯海沿岸 B. 南海沿岸
C. 几内亚湾沿岸 D. 地中海沿岸

18. 郑和船队若每天航行190km，从科伦坡经摩

加迪沙至基尔瓦的最短时间约

- A. 2周 B. 4周
C. 6周 D. 8周

19. 公元17、18世纪基尔瓦商贸地位逐渐衰落的主要原因

是

- A. 资源枯竭 B. 风沙影响 C. 气候变暖 D. 航道变迁

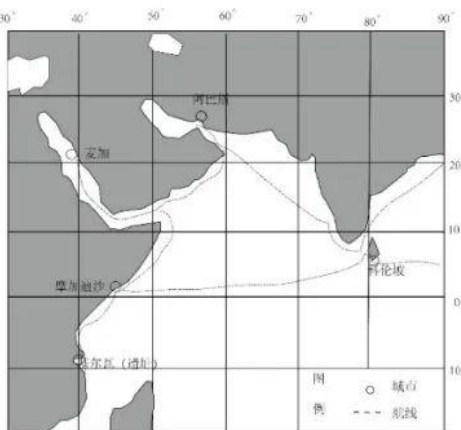


图7

近年我国印发了《粤港澳大湾区发展规划纲要》，将珠三角城市群（广东省9个城市）升级为粤港澳大湾区（9+2）。图8为“粤港澳大湾区范围图”。据此回答20~22题。

20. 相比京津冀、长三角城市群，珠

三角城市群更易建立区域统一

大市场的有利条件是

- A. 行政管辖关系
B. 经济发展水平
C. 风俗习惯差异
D. 人口规模结构

21. 粤港澳大湾区空间结构更接近

- A. 单核多中心结构
B. 双核多中心结构



C. 多中心网络结构

D. 核心边缘结构

22. 将粤港澳大湾区定位为世界级城市群，香港发挥的最大优势体现在

A. 旅游观光

B. 生产加工

C. 消费市场

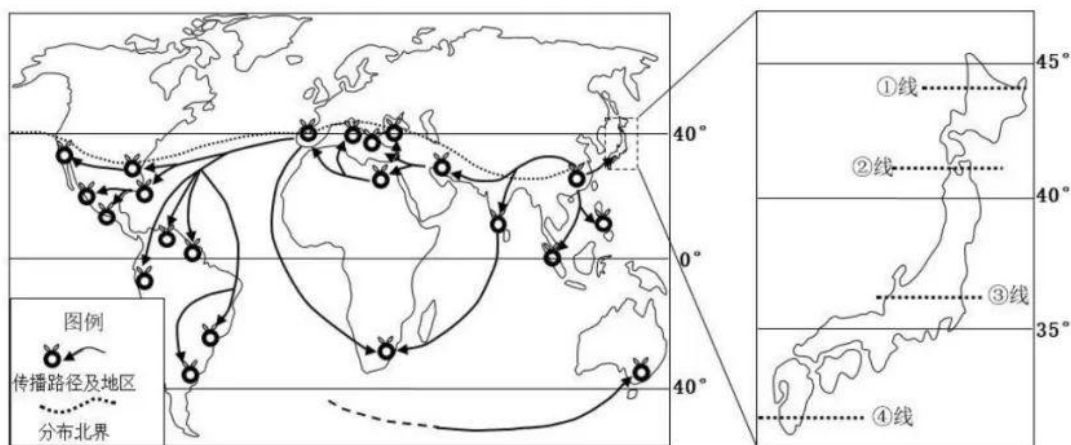
D. 对外联系

二、非选择题:共 3 题,共 56 分。

23. 阅读材料,回答下列问题。(18 分)

材料一 柑橘是原产于我国的热带、亚热带水果,在我国有 4000 多年的栽培历史。

“橘逾淮而北为枳”,大致反映了古人对柑橘分布的认识。目前淮河依然是我国柑橘分布的北界。



材料二 图 9 为“柑橘在世界的传播过程及分布北界示意图”。

图 9

(1) 写出柑橘从我国传播到国外的两种路径。(4 分)

(2) 分析欧亚大陆东西两岸柑橘分布北界的差异及其原因。(8 分)

(3) 从①、②、③、④四线中选出柑橘在日本分布的北界,并简述理由。(6 分)



24. 阅读材料，回答下列问题。(18分)

材料一 2005年某大型汽车制造企业的整车厂和零部件厂大多数集中在上海，此后逐渐向周边城市扩散，有四大整车厂和90%以上的零部件厂分布在长三角城市群，并形成了完整的供应链体系。

材料二 为推动区域一体化，江苏省组织引领苏南苏北对口共建优质、绿色产业园区。共建以来，园区引入高素质管理与技术人才，促进人口就业，推动GDP快速增长。

材料三 图10为“2018年某大型汽车制造企业主要零部件厂在长三角城市群分布示意图”。

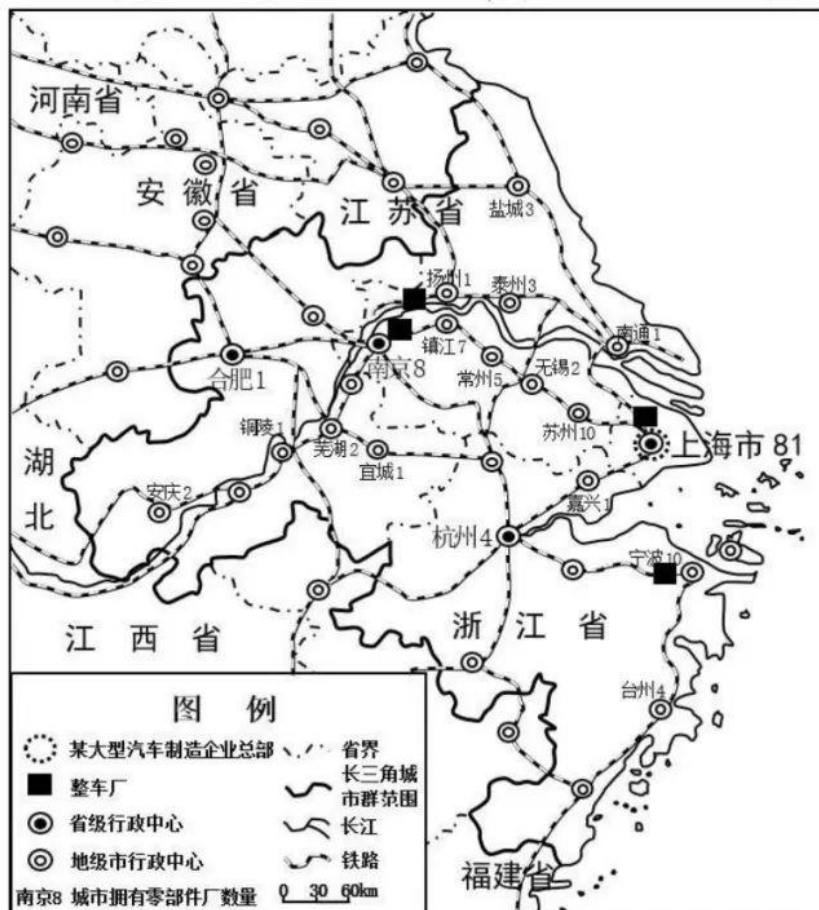


图10

- (1) 分析该大型汽车制造企业主要零部件厂的分布格局及其形成的主要原因。(10分)
- (2) 简述该大型汽车制造企业向外扩展形成的供应链体系对苏南苏北共建产业园的启示。(8分)



25. 阅读材料，回答下列问题。(20分)

材料一 南泥湾位于陕西省延安市，地处典型的黄土高原丘陵地带，云岩河上游。1941年春，八路军第三五九旅赴南泥湾开展大生产运动，使昔日荒凉的南泥湾变成了“平川稻谷香。肥鸭遍池塘。到处是庄稼，遍地是牛羊”的陕北好江南。

材料二 右图为“南泥湾俯瞰景观图”



图 11



- (1) 简述八路军在南泥湾开展大生产运动时面临的不利的自然条件。(8分)
- (2) 解读“平川稻谷香。肥鸭遍池塘。到处是庄稼，遍地是牛羊”的陕北好江南所描述的农业生产布局。(6分)
- (3) 比较南泥湾所在地区和江南农业生产特点方面的差异。(6分)

关于我们

自主选拔在线是致力于提供新高考生涯规划、强基计划、综合评价、三位一体、学科竞赛等政策资讯的升学服务平台。总部坐落于北京，旗下拥有网站（网址：www.zizzs.com）和微信公众平台等媒体矩阵，用户群体涵盖全国90%以上的重点中学师生及家长，在全国新高考、自主选拔领域首屈一指。

如需第一时间获取相关资讯及备考指南，请关注**自主选拔在线**官方微信号：**zizzsw**。



微信搜一搜

自主选拔在线

