

绝密★启用前

试卷类型：A

晋中市 2023 年 3 月普通高等学校招生模拟考试

文科综合

(本试卷考试时间 150 分钟, 满分 300 分)

注意事项:

1. 答题前, 考生务必将自己的学校、姓名、班级、准考证号填写在答题卡上相应的位置。
2. 全部答案在答题卡上完成, 答在本试卷上无效。
3. 回答选择题时, 选出每小题答案后, 用 2B 铅笔把答题卡上对应题目的答案标号涂黑。如需改动, 用橡皮擦干净后, 再选涂其他答案标号。回答非选择题时, 将答案用 0.5 毫米及以上黑色笔迹签字笔写在答题卡上。
4. 考试结束后, 将本试卷和答题卡一并交回。

一、选择题(本题共 35 小题, 每小题 4 分, 共 140 分。在每小题给出的四个选项中, 只有一项是符合题目要求的)

近年来, 随着社会经济的发展, 作为西藏和内地间重要通道的青藏公路, 交通愈加繁忙, 货车数量明显增多, 公路上“车背车”(如图 1)现象成为一道独特的风景。据此完成 1~3 题。




图 1

1. 青藏公路上进藏、出藏的物资主要包括 ()
 - A. 青稞、牛肉干
 - B. 牛肉干、蔬菜
 - C. 蔬菜、矿泉水
 - D. 矿泉水、小麦
2. 出现“车背车”现象主要是因为 ()
 - A. 路况差, 汽车损毁严重
 - B. 西藏和内地间物资进出量差异大
 - C. 海拔高, 汽车驾驶困难
 - D. 货运公司为减少支付驾驶员工资
3. 青藏公路上“车背车”现象多见于 ()
 - A. 青海到西藏
 - B. 西藏到青海
 - C. 两地双向
 - D. 特殊路段

专业村是指农村大部分农户从事一种或多种与商品相关的生产或服务活动的村庄。图 2 为 2008 年至 2017 年河南省专业村市场变化示意图。据此完成 4~6 题。

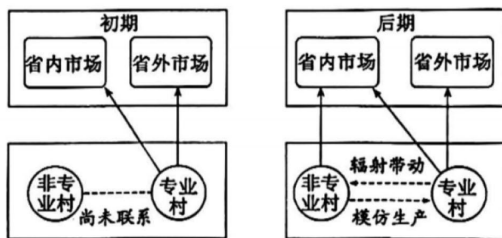


图 2

4. 专业村发展的主要动力是 ()
 - A. 市场需求
 - B. 协作条件
 - C. 资源禀赋
 - D. 技术水平

5. 河南省专业村 ()
- A. 形成初期以省外市场为主
B. 发展过程中出现了技术扩散
C. 发展过程中省内市场份额增加
D. 发展后期生产成本降低

6. 发展后期,与非专业村相比,专业村的突出优势是 ()
- A. 政策
B. 交通
C. 资源
D. 知名度

2022年2月19日,一股强劲的冷空气入侵广东,广东大部分市县的气温跌破 10°C ,比隆冬时节更冷。广东多地气象部门抓住有利时机开展人工增雨,以应对正在酝酿中的旱情。据此完成7~8题。

7. 广东此次“倒春寒”降温幅度较大,主要是因为 ()
- A. 副高逐渐北移,下沉气流盛行
B. 南方升温降压,吸引寒潮南下
C. 太阳高度较小,地面热量亏损
D. 季风正在转换,风向变化不定

8. 此时开展人工增雨主要考虑的是 ()
- ①空气接近饱和 ②空气湿度较小 ③蒸发损失较少 ④农业需水量大
- A. ①③
B. ①④
C. ②③
D. ②④

林下植被是森林生态系统的重要组成部分,在维持生态系统功能稳定性上发挥着不可替代的作用。杉木为浅根性树种,生长快,产区流行着“当阳油茶背阴杉,松树山岭杉木洼”的说法,图3是我国某地不同密度杉木人工林林下植被生物量。回答9~11题。

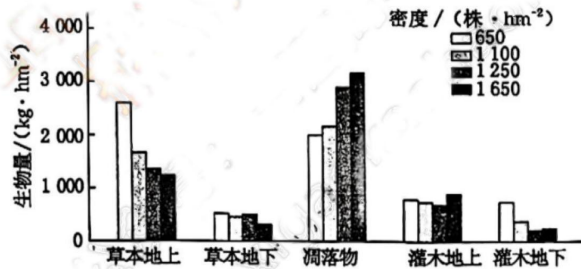


图3

9. 推测杉木生长习性 ()
- A. 耐旱
B. 抗大风
C. 耐盐碱
D. 不耐贫瘠

10. 据图可知 ()
- A. 灌木层生物量随杉木密度的增加而增大
B. 草本层生物量随杉木密度的增加而减少
C. 凋落物的生物量与杉木密度呈负相关
D. 灌木地上生物量对不同密度杉木的响应较草本更为敏感

11. 该杉木林最适宜的种植密度是 ()
- A. 650 株/hm²
B. 1 100 株/hm²
C. 1 250 株/hm²
D. 1 650 株/hm²

12. 党的二十大报告指出:“我们以巨大的政治勇气全面深化改革,打响改革攻坚战,加强改革顶层设计,各领域基础性制度框架基本建立,许多领域实现历史性变革、系统性重塑、整体性重构。”对此理解合理的有 ()
- ①全面深化改革,就是通过调整社会主要矛盾以解放发展生产力 ②改革开放需要中国人民在党的领导下接续奋斗 ③中国共产党领导中国人民自信自强、守正创新,创造了新时代中国特色社会主义的伟大成就 ④改革开放是中国人民创造历史伟业的必由之路
- A. ①②
B. ①④
C. ②③
D. ③④

【晋中市 2023 年 3 月普通高等学校招生模拟考试·文科综合 第 2 页 (共 12 页)】



13. 2023 年新春伊始,各地开足马力拼经济。优化营商环境、支持民营经济,不约而同成为各地的重点工作。企业家是“自家人”,让企业家成为“座上宾”,“有求必应、无事不扰”,各级政府要当好“店小二”……。这些做法 ()
- ①有利于更好地坚持我国基本经济制度 ②实质是政府履行经济职能,实施市场监管 ③是稳定经济增长的应有之举 ④是在毫不动摇鼓励、支持非公有制经济发展
- A. ①② B. ①③ C. ②④ D. ③④
14. 中国人民银行和银保监会联合召开座谈会提出,各主要银行要全面贯彻落实党的二十大和中央经济工作会议精神,加大金融对国内需求和供给体系的支持,做好对基建投资、小微企业、科技创新、制造业、绿色发展等重点领域的金融服务,保持房地产融资平稳有序,推动经济运行整体好转。对上述措施在经济生活中传导的描述正确的是 ()
- ①金融支持供给体系→降低生产者制度性经营成本→优化产品供给结构 ②金融支持制造业→实体经济获得健康发展→巩固国民经济的立身之本 ③党政机关谋篇布局→金融服务实体经济→上层建筑始终推动经济发展 ④金融支持科技创新→为经济社会发展注入动力→提升经济发展的效能
- A. ①② B. ①③ C. ②④ D. ③④
15. 党的二十大报告提出:“从现在起,中国共产党的中心任务就是团结带领全国各族人民全面建成社会主义现代化强国、实现第二个百年奋斗目标,以中国式现代化全面推进中华民族伟大复兴。”这说明 ()
- ①党的政治领导主要体现为党的路线方针政策的领导 ②中国共产党是推动中国新时代社会变革的主力军 ③党基于变化发展的实际适时改变规律,工作有时代性和创造性 ④党坚持解放思想、实事求是、与时俱进、求真务实、科学执政
- A. ①② B. ③④ C. ②③ D. ①④
16. 获得 S 省示范村(社区)的 M 村,坚持村级财务所有账目“一月一公示”,从“枫桥经验”中汲取养分,做到矛盾不上交,换届选举风气良好,形成了受村民信赖的乡村治理主干体系。该村管理取得成功的原因在于 ()
- ①履行政务公开主体责任,尊重村民监督政务活动的权利 ②民主实践活动丰富多彩,基层治理效能高 ③借鉴优秀政治智慧与方案,推动基层治理的能力和水平的提高 ④践行村委会的职责,致力于形成杜绝矛盾形成的工作机制
- A. ①② B. ①④ C. ②③ D. ③④
17. “内高班”和“骨干计划”分别是针对基础教育阶段的普通高中教育和高等教育阶段的研究生教育人才培养的专项政策,党和政府通过这两大具体政策的持续实施,直接或间接地培养了一大批少数民族各类专业人员和党政干部,引领了少数民族人才的数量和质量不断提升、结构不断优化。这给我们做好民族工作的启示有 ()
- ①铸牢中华民族共同体意识,积极促进各民族共同繁荣 ②通过对少数民族的倾斜性扶持政策,保障各民族依法平等地享有教育和文化权利 ③以民族共同繁荣为基础,确保民族平等原则落到实处 ④坚持民族区域自治制度,走中国特色解决民族问题道路
- A. ①② B. ①③ C. ②④ D. ③④
18. 习近平主席在二〇二三年新年贺词中指出,艰难困苦,玉汝于成。中国共产党百年栉风沐雨、披荆斩棘,历程何其艰辛又何其伟大。我们要一往无前、顽强拼搏,让明天的中国更美好。其中蕴含的哲学智慧有 ()
- ①人能够能动地认识世界和改造世界 ②矛盾双方在一定条件下相互转化 ③发挥主观能动性是尊重规律的前提条件 ④事物发展的道路是光明的
- A. ①② B. ①④ C. ②③ D. ③④

【晋中市 2023 年 3 月普通高等学校招生模拟考试·文科综合 第 3 页 (共 12 页)】

19. 有电动车找不到充电桩,带来续航里程的焦虑;有充电桩招不来车充电,形成投资收益的泡影。从哲学上看,图4漫画启示我们在经济发展过程中应该 ()




图4

- ①坚持系统思维,用联系的观点考虑问题 ②发挥财政的决定性作用,促进新能源市场健康发展
③要全面调研实际,根据人们的需要创造新的具体联系 ④克服形而上学的障碍,提升思维的品质
- A. ①② B. ①④ C. ②③ D. ③④
20. 2023年1月29日,“学习二十大精神 戏曲进万家”舞台艺术送基层演出活动在驻马店世纪广场鸣锣开唱,来自驻马店市演艺中心的演员们为观众呈现了一场精彩的戏曲盛宴,让更多市民领略到戏曲艺术的魅力。该演出说明我国 ()
- ①继承传统文化,实现创造性转化和创新性发展 ②发展文化产业,服务经济发展 ③践行以人民为中心的思想,让文化成果更好地惠及广大人民群众 ④传播先进文化,丰富人民群众精神世界
- A. ①② B. ①④ C. ②③ D. ③④
21. 图5是2019年2月至2022年12月我国对外贸易月度信息变化情况。

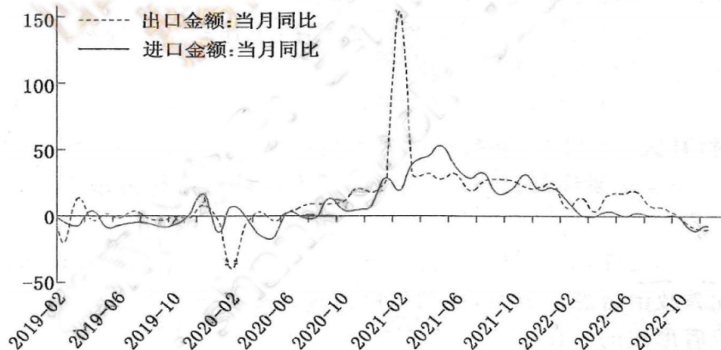


图5

注:近年来,世界经济和国际贸易因种种因素均处于低谷。

- 读图并结合近年来我国经济发展历程可知 ()
- ①出口贸易和进口贸易构成我国对外贸易的全部内容 ②2019年2月,我国对外贸易增长处于最低谷 ③在党的集中统一领导下,外贸工作克服种种困难取得来之不易的成就 ④根据2022年我国外贸工作形势,2023年我国仍然面临稳外贸、促增长的压力
- A. ①② B. ①③ C. ②④ D. ③④
22. 张某在其父母患病住院治疗期间,垫付了全部医疗费9万余元;其母病故后,又花掉丧葬费2万余元。张某要求他的三个姐姐分摊费用,遭到拒绝;事后几经调解,纠纷未能得到解决,最后他诉至人民法院。下面说法正确的是 ()
- ①子女都应履行赡养父母的义务,四子女应无条件均摊相应费用 ②如当事人不服人民法院判决,四子女均可向上级人民法院提起上诉 ③四子女应根据遗产继承情况决定医疗费、丧葬费承担比例 ④张某应收集、提供治疗和丧葬期间各项花费记录、单据作证据
- A. ①② B. ①③ C. ②④ D. ③④



23. 逻辑知识的运用是小品创作实现科学性与艺术性统一的重要技巧。如 2023 央视春晚《马上到》：女乘客打车，看到“司机”坐在后排，问：“什么意思啊？无人驾驶啊。”“司机”回答：“是吗？这车这么先进呢。”说明二人对“无人驾驶”的理解是不同的。同一个“无人驾驶”，却有着不同的含义和理解。对此评价符合逻辑的是 ()

- ①每一词汇必须保持自身同一性，否则会混淆概念 ②同一个小品中“无人驾驶”含义不同，犯了“偷换概念”的错误 ③小品巧用一词多义、偷换概念增加了风趣幽默味道 ④在描述不同人物角色中，“无人驾驶”有不同含义不违背同一律

A. ①② B. ①③ C. ②④ D. ③④

24. 据《礼记·玉藻》记载，春秋时期“君子必佩玉……君子无故玉不去身，君子于玉比德焉……君子在车则闻鸾和(车铃)之声，行则鸣佩玉，是以非辟(邪恶)之心无自入也”。据此可知 ()

- A. 儒家理念受到了统治阶级推崇 B. 佩玉观念已走向社会伦理层面
C. 用玉制度强化了贵族尊卑秩序 D. 鬼神思想影响到社会审美标准

25. 据记载，西汉刺史“以六条问事(考察豪强、郡守等)”。汉成帝时，有人向刺史朱博揭发当地丞尉(县丞和县尉的合称)有问题，而他则以丞尉不在自己的管辖权限之内为由，拒绝办理这个案子，并让百姓去找别的部门来解决这问题。这表明西汉刺史 ()

- A. 监察对象单一 B. 监察权力较小
C. 监察方式落后 D. 监察范围明确

26. 下表为唐朝前期浙江人口变化情况。引起这一时期浙江人口变化的主要原因是 ()

| 时间 | 人口数 | 人口密度(人/平方千米) | 占全国人口比重(%) |
|-------------|-----------|--------------|------------|
| 640年(贞观十四年) | 792 207 | 7.78 | 3.84 |
| 713年(开元元年) | 2 266 319 | 22.26 | 4.94 |
| 752年(天宝十一年) | 4 529 315 | 44.49 | 7.54 |

- A. 安史之乱的影响 B. 经济重心的南移
C. 江南经济的开发 D. 北方人口的南迁

27. 永乐年间，湖州府归安县双林镇始兴，成化间因丝绸生产而人口大增。为了购丝，“端午前后，闽广客商聚聚于镇”。其所产包头绢，隆、万以后品种花样尺幅繁多，“各直省客商云集贸贩，里人贾鬻他方，四时往来不绝”。这表明 ()

- A. 海外贸易促进江南经济发展 B. 丝绸交易促成国内市场形成
C. 商人活动推动市镇经济繁荣 D. 商业发展加速经济格局变动

28. 咸丰以前，整个国家的税收款项由户部统一调拨安排。1853年，为解决地方军饷的厘金制度创设，但“厘金并不完全掌握在中央政府手里，地方当局扣留了厘金收入的大部分，上交北京的只占百分之二十”。税收领域的这一变化 ()

- A. 加速了中央权威的衰落 B. 导致了政府收入的锐减
C. 造成了洋务运动的失败 D. 反映了忠君观念的崩溃

29. 1905年7月，《第一晋话报》创刊。该报曾撰文称“反抗英国，美人称雄，血战八年，才得成功；大总统举了华盛顿，独立旗，自由神……路易时代专制异常，惹起国民大反对，革命军起中央，断头台上斩魔王。……救苦救难，救救中华”。据此可知，该报 ()

- A. 追求革命共和 B. 坚持明确反帝
C. 赞成立宪救国 D. 主张联美抗日

【晋中市 2023 年 3 月普通高等学校招生模拟考试·文科综合 第 5 页 (共 12 页)】

30. 图6为抗战时期山东曹州木版新年画——抗战门神。该年画改变了传统门神的形象,战斗英雄和劳动英雄取代了秦叔宝和尉迟恭。据此可知,抗战时期的新年画创作 ()




图6

- A. 强调了国共合作与持久抗战的重要
B. 体现了民间艺术与政治宣传的结合
C. 得益于军民合作与战略反攻的实现
D. 达到了破除迷信与思想启蒙的目的
31. 1979年11月8日,中共中央宣传部发出了《关于报刊、广播、电视台刊登和播放外国商品广告的通知》,提出“调动各方面的积极因素,更好地开展外商广告业务”。这一通知的出台 ()
- A. 表明国人市场意识逐步加强
B. 推动了经济体制改革的起步
C. 有利于国内消费市场的繁荣
D. 标志着中国现代广告的兴起
32. 据考证,罗马大道以罗马为中心向四周辐射,它随着国家版图的扩大而逐渐覆盖了整个欧洲和部分亚非大陆。这些大道一律呈直线铺设,且多数道路两侧树木被砍尽而改植草坪。据此可知,罗马大道的修建主要是为了 ()
- A. 推广行省制度
B. 维护地主阶级利益
C. 实现军事目的
D. 推动经济文化交流
33. 历史学家卡尔·贝克尔在其著作中称,“他们”并不是“反历史的”,相反,“他们”十分关注历史,急切地审视历史,希望从中找到关于人类经验的永恒而普遍的原则;“他们”嘲笑宇宙是在六天创造出来的观点,但是“他们”依然相信,上帝根据理性计划为人类创造了这个精美的机器。材料中的“他们”包括 ()
- A. 彼特拉克
B. 孟德斯鸠
C. 达尔文
D. 马丁·路德
34. 1917年11月,苏俄政府颁布法令,规定废除地主土地所有制,农民可以自由支配土地。内战爆发后,政府又决定在土地国有化的基础上推行“共耕制”。1921年3月,苏俄政府颁布法令,肯定了土地国有化下农民土地的占有形式,反对国家无故收回农民的土地。这一时期的土地政策的变化 ()
- A. 体现了工农联盟的扩大
B. 切实维护了农民的利益
C. 实现了对小农经济的改造
D. 始终以巩固政权为根本
35. 1947年8月,在里约热内卢会议上,拉美国家热切期盼一个“属于西半球的马歇尔计划”。但是1945—1950年间,西欧获得的美国经济援助高达190亿美元,而20个拉美国家只得到了4亿美元,还不及两个欧洲小国(比利时和卢森堡)的受援额度。这表明 ()
- A. 门罗主义已不适应美国扩张
B. 两极格局形成削弱拉美国家地位
C. 冷战重心正逐步转移到欧洲
D. 世界形势变化影响美国对外政策

二、非选择题(本题共9小题,共160分)

36. 阅读图文材料,完成下列要求。(28分)

材料一 2022年12月29日,甘孜州雅江县雅砻江抽水蓄能电站(图7)开工建设。该项目依托四川省两河口水电站水库(上库)和下游牙根一级水电站水库(下库),扩建可逆式机组,形成兼有抽水蓄能和径流发电功能的两河口混合式抽水蓄能电站。

材料二 两河口混合式抽水蓄能电站建成后,将与柯拉光伏电站组成全球最大的水光互补电站。柯拉光伏电站位于川西高原雅江县柯拉乡,海拔4 000 m至4 600 m,占用土地面积大,与当地土地利用规划不协调,当地探索“光伏+N”模式有效解决了该矛盾。

【晋中市2023年3月普通高等学校招生模拟考试·文科综合 第6页 (共12页)】



图7

- (1)指出两河口混蓄电站较于常规抽水蓄能电站的优点。(6分)
- (2)分析柯拉光伏电站修建的不利自然条件。(6分)
- (3)说明“光伏+N”模式是如何有效解决矛盾的。(6分)
- (4)论述水光互补电站建设对国家安全产生的影响。(要求角度全面,逻辑清晰,表述准确)(10分)

37. 阅读图文材料,完成下列要求。(28分)

材料一 东北低山丘陵区垦殖率可达30%—55%,集中于坡面中下段,是土壤侵蚀严重、侵蚀沟快速发展的区域。坡度、坡向、海拔等地形因素以及气候、植被、土壤、人类活动是影响侵蚀沟发育的主要因素。图8是不同坡度侵蚀沟分布比例,图9是不同坡向侵蚀沟分布比例。

材料二 东北地区针对耕地中的侵蚀沟,研发出侵蚀沟秸秆填埋复垦治理模式,图10是复垦后沟道位纵切面示意图。

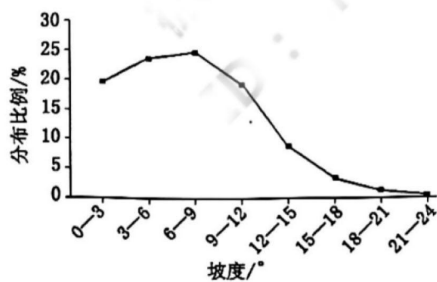


图8

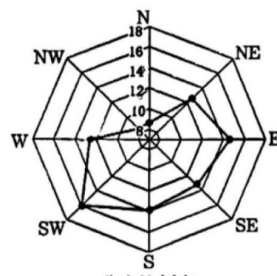
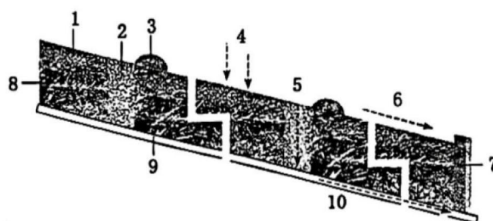


图9



1. 表层覆土 2. 渗井 3. 截留埂 4. 土体垂直入渗 5. 渗井垂直入渗 6. 地表径流 7. 水泥筑钢筋混凝土护墙 8. 秸秆捆 9. 暗管 10. 暗管排水

图10

【晋中市 2023 年 3 月普通高等学校招生模拟考试·文科综合 第 7 页 (共 12 页)】

(1)分析发展型侵蚀沟形态演变特征。(6分)

(2)描述坡度对侵蚀沟分布的影响,并说明原因。(8分)

(3)指出侵蚀沟坡向分布特点,并分析原因。(8分)

(4)说明侵蚀沟秸秆填埋复垦治理模式的优点。(6分)

38. 阅读材料,完成下列要求。(10分)

中国式现代化是中国共产党领导的社会主义现代化。既有各国现代化的共同特征,更有基于自己国情的中国特色。习近平总书记在党的二十大报告中深刻阐述了中国式现代化的中国特色和本质要求。

材料一 在新中国成立特别是改革开放以来长期探索和实践基础上,经过党的十八大以来在理论和实践上的创新突破,我们党成功推进和拓展了中国式现代化。新民主主义革命时期,党团结带领人民推翻帝国主义、封建主义、官僚资本主义三座大山,建立了人民当家作主的中华人民共和国;社会主义革命和建设时期,党团结带领人民确立社会主义基本制度,实现“一化三改”,推进社会主义建设;改革开放和社会主义现代化建设新时期,党团结带领人民坚定不移推进改革开放,开创、坚持、捍卫、发展中国特色社会主义,中国经济总量跃居世界第一;中国特色社会主义新时代,党团结带领人民如期实现全面建成小康社会目标,顺利开启实现第二个百年奋斗目标新征程,及时总结党的百年奋斗重大成就和历史经验。

材料二 中国的现代化成就,是靠中国共产党带领中国人民立足自身、艰苦奋斗、接续拼搏得来的,也是中国走和平发展道路的硕果。中华人民共和国成立70多年来,中国从没有主动挑起过任何一场战争和冲突。中国在坚定维护世界和平中谋求自身发展,又以自身发展更好维护世界和平。中国日益走近世界舞台的中央,将为全人类和平与繁荣不断作出更大贡献。

(1)结合材料一,运用《中国特色社会主义》的知识,说明不同历史时期的伟大成就为中国式现代化作出的贡献。(4分)

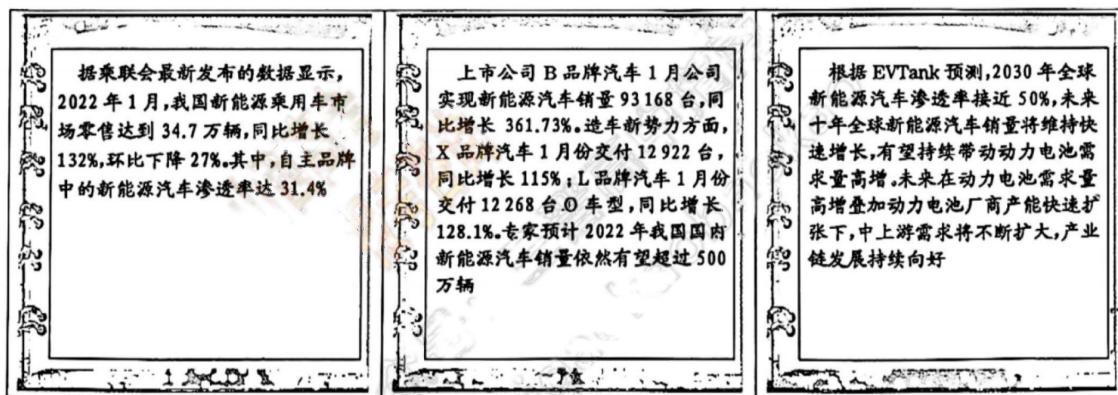
(2)党的二十大报告指出:“中国式现代化是走和平发展道路的现代化。”结合材料二并运用《当代国际政治与经济》的知识对此加以说明。(6分)

39. 阅读材料,完成下列要求。(20分)

在全球减碳大背景下,汽车产业的电动化趋势不可逆转,中国汽车产业有机会借此时机实现“弯道超车”。

材料一 最新统计数据显示,2022年中国汽车出口达311.1万辆,同比增长54.4%。其中,新能源汽车成为新的增长点;2022年新能源车出口总量达67.9万辆,同比大增1.2倍,出口版图不断扩大。这一成就除了得益于疫情之下海外供给不足,更重要的是近年来自主品牌在技术和智能驾驶领域建立起的竞争优势,是新能源汽车产业多年积累的必然结果。近10年来,国家对新能源汽车产业的支持政策不断加码;中国车企积极响应政策号召,新能源汽车产业整体实力不断提升,无论是产品外观、质量还是研发、生产能力,都能满足全球多样化市场需求。中国自主品牌新能源汽车正在打破“低端廉价”的老印象,向海外乘用车中高端市场发力。(与传统燃油车出口路径不同,中国新能源汽车出口的目标市场主要为发达国家)多家中国车企加大智能网联汽车研发投入力度,具备了领先优势。随着新能源汽车智能化和网联化程度进一步加深,中国车企的优势也将进一步扩大。

材料二 《中国能源报》上有一篇文章“新能源汽车销量翻番 估值回归后配置时机再现”,摘要如下:



(1)结合材料一,运用《经济与社会》的相关知识,分析2022年中国新能源汽车出口版图不断扩大的原因。(16分)

(2)一位新能源汽车企业经营者,深受材料二的文章启发,写了一篇心得体会,在相关新能源汽车产业发展经验交流会上作了典型发言。假如你是该作者,请把该发言要点再现出来。(4分)

要求:围绕主题,运用《逻辑与思维》的知识,字数在150字左右。

40. 阅读材料,完成下列要求。(10分)

习近平总书记强调,治理黄河,重在保护,要在治理。《中华人民共和国黄河保护法》经十三届全国人大常委会第三十七次会议表决通过,从2023年4月1日起施行,这意味着在法治轨道上开展“黄河大保护”的序幕正式拉开。制定黄河保护法是统筹推进黄河流域生态保护和高质量发展的重要保障。现行有关法律法规对规范黄河流域生态保护和高质量发展的针对性不强,相关法律之间衔接性不够,且存在一些法律制度空白,迫切需要专门制定黄河保护法,作出整体性的制度安排,增强黄河流域保护和治理的系统性;长期以来,黄河水沙关系复杂,洪水风险依然是流域的最大威胁,“地上悬河”形势严峻,下游滩区防洪工作与经济发展矛盾长期存在。上游局部地区生态系统退化,水源涵养功能降低,中游水土流失严重,下游生态流量偏低、河口湿地萎缩。水资源保障形势严峻,人均水资源占有量仅为全国平均水平的27%,水资源开发利用率高达80%。流域工业、城镇生活、农业面源和尾矿库污染严重,支流污染问题突出,亟须通过制定专门的黄河保护法,依法统筹解决黄河流域面临的突出问题,保护、传承、弘扬黄河文化,实现人与自然和谐共生、中华民族永续发展。结合材料,运用历史唯物主义的相关知识,阐述《中华人民共和国黄河保护法》出台过程的合理性。

41. 阅读材料,完成下列要求。(12分)

党的二十大报告提出“坚持男女平等基本国策,保障妇女儿童合法权益”,体现了以习近平同志为核心的党中央对妇女工作的高度重视。新修订的《妇女权益保障法》2022年10月30日审议通过,自2023年1月1日起施行。

材料一 妇女权益保障法强调妇女的人格尊严不受侵犯,强调禁止进行非医学需要的胎儿性别鉴定和选择性别的人工终止妊娠,规定医疗机构施行有关医疗活动时,应当尊重妇女本人意愿;明确就业性别歧视的具体情形,将就业性别歧视纳入劳动保障监察范围;规定妇女对夫妻共同财产享有要求记载其姓名等权利,规定离婚诉讼期间共同财产查询、离婚时家务劳动经济补偿等制度。

材料二 妇女权益保障法明确规定,侵害妇女合法权益,导致社会公共利益受损的,检察机关可以发出检察建议,并且规定对于侵犯农村妇女土地权益、侵害妇女平等就业权益、未采取合理措施预防和制止性骚扰等严重损害妇女权益的违法行为,检察机关可以依法提起公益诉讼。2022年11月25日“国际消除对妇女暴力日”当天,除了进行妇女权益的普法宣传,最高人民检察院会同全国妇联发布一批妇女权益保障检察公益诉讼典型案例,为更好地维护妇女权益、促进妇女全面发展提供了有力法治保障。

结合材料,运用《政治与法治》和《法律与生活》的知识,分析我国是如何保护妇女合法权益的。

42. 阅读材料,完成下列要求。(25分)

材料一 19世纪初,德意志地区纷纷开始改革,系统的资本主义进程正式开启。在这一过程中,第二产业从业者占比越来越大。1875年,普鲁士“矿业、冶金业与盐业”部门便有105家企业为工人开设培训课程、教育课程及讲座。19世纪末,凯兴斯泰纳等认为“职业教育”应是面向全体公民义务实施的国民教育。至此,职业教育实践开始进入国家层面。《工商条例》《进修学校条例》等使工商职业教育逐渐成为经济政策的组成部分。大多数城市也通过地方法规,从法律上规定进修学校的义务教育性质,按职业分类的进修学校开始在全德试行。

——摘编自李超《德国职业教育历史源起与勃兴——以19世纪为考察对象》

材料二 伴随着洋务运动,中国近代职业教育拉开序幕。民国初年,职业教育得到迅速发展,但1913—1917年却又停滞不前了。南京国民政府成立后,职业教育又出现了短暂的发展。近代职业教育的倡导者认为职业教育的终极目标是“使无业者有业,使有业者乐业”。为此,很多职业学校的招生原则是“应收寒素子弟求学,费用务使减轻”。为培养工商界的管理人才与中等技术人才,很多职业学校特别注重学生的实习,力求使学生掌握“纯熟之技能”,所学知识真正能“学以致用”。同时,职业学校还注重培养学生“勤勉诚实克己公正诸美德”,以使学生成为“立身社会”的“善良之公民”。

——摘编自徐东《我国近代职业教育的变革与发展》

(1)根据材料一并结合所学知识,简析19世纪德国职业教育迅速发展的原因。(8分)

(2)根据材料二并结合所学知识,说明中国近代职业教育的特点及意义。(12分)

(3)根据材料一、二并结合所学知识,谈谈中德近代发展职业教育带给我们的启示。(5分)

43. 阅读材料,完成下列要求。(12分)

材料



图 11 第二套人民币 10 元币样

注:1955年2月21日,国务院发布命令,决定由中国人民银行自1955年3月1日起发行第二套人民币。该套人民币正面主币主景图案还包括井冈山龙源口图案、延安清凉山图案、天安门图案;角券主景图案包括小丰满水闸、“毛泽东号”火车、农场拖拉机耕地图;分券主景图案包括民用轮船、民用飞机、民用汽车。同时,该套人民币第一次将国徽元素运用于票面图案设计。

——摘编自陈智超《试论人民币票面图案的时代特征》

人民币图案设计蕴含了丰富而鲜明的时代特征。从材料中提取两组人民币图案信息,并结合中国近现代史的相关知识分别予以解释说明。(要求主题明确,论述充分,逻辑清晰)(12分)

44. 阅读材料,完成下列要求。(15分)

材料 二战时期,英国首相丘吉尔首先对殖民地发出了允许自治的信号;“自由法国”领导人戴高乐也对殖民地制度进行了初步改革,主张尊重土著政权机构,重视发挥土著的作用。在美国看来,摧毁欧洲的殖民主义制度是谋求世界霸权的前提。苏联也主张所有的殖民地实现完全的民族独立和自决,支持被压迫民族争取民族自决和民族平等的运动。殖民地人民经过战火的洗礼,政治觉悟和民族觉悟日渐提高,成长为一支庞大的反殖大军。在此背景下,联合国在借鉴一战后国际联盟处理殖民地问题经验的基础上,大力推行非殖民化方针。在这一方针的指引下,联合国在全球不遗余力地推进非殖民化的进程,截至21世纪初,全球政治独立的非殖民化目标已基本完成。

——摘编自王文《联合国关于非殖民化的机制与实践》

(1)根据材料并结合所学知识,概括联合国能够大力推行非殖民化方针的原因。(9分)

(2)根据材料并结合所学知识,说明联合国大力推行非殖民化方针的历史意义。(6分)

关于我们

自主选拔在线是致力于提供新高考生涯规划、强基计划、综合评价、三位一体、学科竞赛等政策资讯的升学服务平台。总部坐落于北京，旗下拥有网站（[网址：www.zizzs.com](http://www.zizzs.com)）和微信公众平台等媒体矩阵，用户群体涵盖全国 90% 以上的重点中学师生及家长，在全国新高考、自主选拔领域首屈一指。

如需第一时间获取相关资讯及备考指南，请关注**自主选拔在线**官方微信号：**zizzsw**。



 微信搜一搜

 自主选拔在线

