

秘密★启用前

## 文科综合试卷

注意事项:

1. 答题前,考生务必用黑色碳素笔将自己的姓名、准考证号、考场号、座位号在答题卡上填写清楚。
2. 每小题选出答案后,用2B铅笔把答题卡上对应题目的答案标号涂黑。如需改动,用橡皮擦干净后,再选涂其他答案标号。在试题卷上作答无效。
3. 考试结束后,请将本试卷和答题卡一并交回。满分300分,考试用时150分钟。

一、选择题(本大题共35小题,每小题4分,共140分。在每小题给出的四个选项中,只有一项是符合题目要求的)

预制菜,即以农副产品为原料,配以辅料,通过中央厨房的现代标准化流水作业,对菜品原料进行预加工,再采用冷藏或保鲜技术保存的成品或半成品。消费者拆掉包装,简单加热、烹饪后即可食用。山东、广东、四川、河南、江苏等地预制菜行业发展较快,其中山东是我国预制菜企业最多的省份。图1示意预制菜产业链全景图。据此完成1~2题。

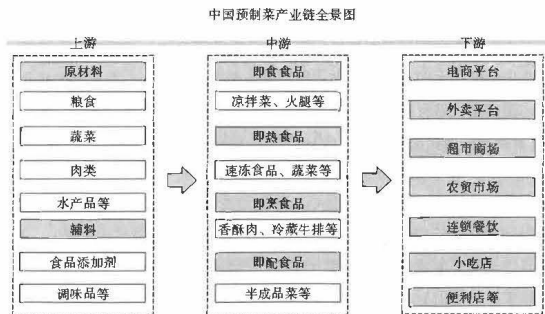


图1

1. 预制菜行业发展较快的省份,主要是依托当地的
  - A. 市场优势
  - B. 技术优势
  - C. 文化优势
  - D. 资源优势
2. 山东作为国内预制菜企业最多的省份,其主要目标市场是
  - A. 东北地区
  - B. 华北地区
  - C. 东南地区
  - D. 华中地区

文科综合·第1页(共16页)

藜麦原产于南美洲,被古印加人誉为“粮食之母”。近年来,藜麦因被贴上“减肥”“健康”等标签,成为风靡全球的网红食物。某集团与甘肃省天祝县建立产业扶贫合作关系,在南阳山移民安置区试验种植藜麦,免费提供种子和全程技术服务,并与种植户签订收购协议,精准培育和大力发展藜麦特色产业。该集团还出资在天祝县注册成立农业科技有限公司,主营藜麦种植、加工、销售、科研及综合开发利用。据此完成3~5题。

3. 该集团免费提供种子和全程技术服务的主要目的是
  - A. 降低农户生产成本
  - B. 加快推广藜麦种植
  - C. 提高藜麦产品品质
  - D. 树立企业良好形象
4. 该集团选择在天祝县注册成立农业科技有限公司的主导因素是
  - A. 原料
  - B. 劳动力
  - C. 政策
  - D. 市场
5. 农户与该集团达成藜麦种植合作,主要考虑的是
  - A. 风险较低
  - B. 成本较低
  - C. 资金充足
  - D. 产量较高

城市地下空间是指在城市地面以下修建的各种类型地下建筑物构成的空间,包括地下街、地铁、城市公路隧道、地下管网等设施。以色列重视地下空间的开发,特拉维夫“地铁红线”是其地下轨道交通系统建设的首条线路。据此并结合图2,完成6~8题。



图2

6. 以色列注重地下空间开发的主要原因是
  - A. 经济发达
  - B. 技术先进
  - C. 气候炎热
  - D. 地质稳定

文科综合·第2页(共16页)

7. 影响“地铁红线”空间布局的主要因素是

- ①居民点 ②商业网点 ③交通站点 ④工业分布 ⑤绿地分布  
A. ①②③ B. ②③④ C. ③④⑤ D. ①②⑤

8. “地铁红线”的开通,可以

- A. 加大城市客流量 B. 提高城市土地利用  
C. 改变城市功能分区 D. 提升城市等级

北冰洋碳汇是全球海洋碳汇的重要组成部分。研究表明,北冰洋的面积仅占全球海洋的3%~4%,但其CO<sub>2</sub>净吸收量却占全球海洋的5%~14%。在温暖的春夏季,极地海冰与表层积雪在吸收太阳辐射后会发生融化,融水聚集于海冰表面所形成的水池,称为融池(如图3)。融池大体上可以分为底部直接与海水相连和不与海水直接接触的两类。据此完成9~11题。




图3

9. 相比其他大洋,北冰洋CO<sub>2</sub>净吸收量大的主要原因是

- A. 海域面积广 B. 海水温度低 C. 海水深度大 D. 水体交换多

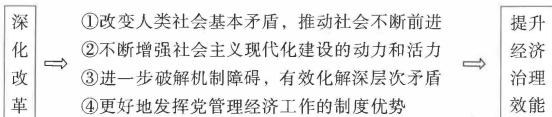
10. 和底部与海水相连的融池相比,不与海水直接接触的融池池水

- ①盐度更高 ②盐度更低 ③温度更高 ④温度更低  
A. ①③ B. ①④ C. ②③ D. ②④

11. 融池的出现最可能

- A. 加快海冰的融化 B. 减慢海冰的融化 C. 加快海平面上升 D. 加快海平面下降

12. 十四届全国人大一次会议表决通过了关于国务院机构改革方案的决定,就深化改革和提升效能作了新的部署。动态优化经济治理机制,因地制宜采取经济治理方式,进一步解除限制市场发挥作用的障碍,完善“党—市场—政府”三元治理结构,努力提升经济治理效能。下列选项能正确反映其内在联系的是



- A. ①② B. ①④ C. ②③ D. ③④

13. 习近平总书记指出,“如何跳出治乱兴衰的历史周期率?毛泽东同志在延安的窑洞里给出了第一个答案,这就是‘只有让人民来监督政府,政府才不敢松懈’。经过百年奋斗特别是党的十八大以来新的实践,我们党又给出了第二个答案,这就是自我革命”。跳出历史周期率的“两个答案”,使我们党获得了长期执政须臾不可没有的安身立命之宝。这两个答案

- ①内外结合、相辅相成,回应了党的初心和使命  
②正视现实、与时俱进,深化了党对执政规律的认识  
③一脉相承、一以贯之,以伟大社会革命引领伟大自我革命  
④严明纪律、有错必纠,发挥党的建设新的伟大工程的决定作用

- A. ①② B. ①④ C. ②③ D. ③④

14. 生态环境项目能够产生巨大的环境效益,但项目本身大多具有公益性性质,不仅投入资金较大、回报周期较长,还面临着收益率较低,融资较难等困境。为此,政府开启了EOD模式,把生态环境治理和与之关联的产业深度融合,以产业开发反哺生态环境治理,让市场化主体把相关产业未来的收益提前投入到生态环境治理中去,再通过后期的产业价值增值,把治理成本收回来。EOD模式

- ①消除市场不能解决公共物品供给问题的固有弊端  
②有助于破解生态环境治理和产业发展的资金瓶颈  
③以“政府有为”助推“市场有效”,促进绿色发展  
④旨在为企业创造一种新的融资方式和融资渠道

- A. ①② B. ①④ C. ②③ D. ③④

15. 近年来,我国不断扩大国内有效需求,围绕构建新发展格局,立足超大规模市场优势,坚持实施扩大内需战略,培育更多经济增长动力源。下列扩大内需的路径中合理的是

- A. 提升供给质量→加快消费提质升级→降低企业成本→扩大内需  
B. 完善分配格局→多渠道促进居民增收→优化投资结构→扩大内需  
C. 畅通经济循环→加速资源要素流动→培育出口竞争优势→扩大内需  
D. 扩大有效投资→加大重点领域补短板力度→优化供给结构→扩大内需

16. 为进一步巩固美丽乡村建设成果,着力提升人居环境整治水平,马号镇以“党建+积分”管理模式为抓手,积极引导村民参与基层治理,通过开展试点工作,把乡村治理方式由政府主导转变为村民主动,发挥村民在乡村治理中的主体作用。上述做法体现了

- ①发展基层民主保障人民享有更切实的民主权利  
②推动了党建引领、政府治理、村民自治的良性互动  
③通过创新基层群众自治组织,提高了乡村治理效能  
④厘清了基层政府和基层群众性自治组织的权责边界

- A. ①② B. ②③ C. ①③ D. ②④

17. 党的二十大对坚持全面依法治国、推进法治中国建设作出战略部署。在十四届全国人大一次会议期间，全国人大常委会提交了令人瞩目的立法“成绩单”。五年来，通过宪法修正案，制定法律 47 件，修改法律 111 件次，人大代表深入参与立法调研等工作，生动彰显了全过程人民民主。材料表明
- ①在我国人民当家作主，立法彰显了人大代表在立法中的主体作用
  - ②坚持法律面前人人平等，尊重宪法法律权威
  - ③中国共产党领导立法，通过立法把党的主张上升为国家意志
  - ④全国人大广泛凝聚社会共识，提高立法质量，彰显全过程人民民主
- A. ①②      B. ①③      C. ②④      D. ③④
18. 粮食和能源两个“饭碗”，习近平总书记念兹在兹，他深入田间地头，走进能源企业，深切挂念，科学擘画。“越是有粮食吃，越要想到没粮食的时候。”“我们要利用‘两个市场’，但必须有一个安全线，超过了以后就要亮红灯。”“粮食生产根本在耕地，命脉在水利，出路在科技，动力在政策。”材料给我们的哲学启示是
- ①居安思危，促进斗争性向同一性转化
  - ②重视积累，为实现事物的质变创造条件
  - ③协同发力，用综合的思维方法认识事物
  - ④深入实践，在实践中认识和发现真理
- A. ①②      B. ①④      C. ②③      D. ③④
19. 人民日报出版社出版的《雷锋精神》收录了《人民日报》近 5 年发表的相关文章。这些文章不仅深入挖掘雷锋精神，同时展现新时代学雷锋典型，用心讲好新时代雷锋故事，帮助读者更好地学习雷锋精神、当好雷锋传人，让雷锋精神在新时代绽放新光芒。材料表明
- ①中华优秀传统文化涵养着中华民族共同的价值观念
  - ②弘扬雷锋精神既要忠于精神内涵也要印刻时代特征
  - ③雷锋精神是对中华民族精神的不断丰富和发展
  - ④民族精神的形成和发展是长期历史积淀的过程
- A. ①②      B. ①④      C. ②③      D. ③④
20. 4 月 4 日，美国前总统特朗普将因“封口费”案件在纽约曼哈顿刑事法院接受传讯。随着美国已经进入 2024 年总统选举竞选周期，民主、共和两党争斗日益加剧，共和党指责民主党方面搞“政治迫害”，民主党则以所谓“法律面前人人平等”的旗号回击。两党深陷党派争斗，而对于美国真正的问题却熟视无睹。由此可见
- ①美国两党之间存在根本利益分歧导致他们陷入党派斗争
  - ②美国的民主政治实际是资本主义民主，损害的是人民的利益
  - ③两党制加剧了美国政治极化和社会撕裂的深层危机
  - ④三权分立的国家结构形式影响着美国政府职能的发挥
- A. ①②      B. ①④      C. ②③      D. ③④

21. 当前世界正经历深刻复杂变化，全球经济增长前景黯淡，作为两大力量、两大市场和两大文明，中欧携手应对全球挑战、提振全球经济的重要性更加突出。中国驻欧盟大使傅聪接受采访时表示，将中欧经贸关系政治化，违背欧洲各界期待，也损害欧洲自身利益。欧洲有关国家在美国施压下对中国出口半导体设备设限，这违背市场经济原则，违背自由贸易的立国之本。上述材料表明
- ①中欧应巩固政治互信、深化务实合作，共同应对全球挑战
  - ②中欧经贸关系政治化严重改变了当前世界多极化格局
  - ③维护和扩大中欧双方共同利益有利于国际关系稳健发展
  - ④经济全球化的深入发展带来了世界经济发展不平衡问题
- A. ①②      B. ①③      C. ②④      D. ③④
22. A 公司与 B 公司均生产防护口罩。B 公司向安徽省商务厅投诉 A 公司盗取其公司防护口罩的产品图片等宣传资料，并冒用其公司名义在国际电商平台上公开销售产品，随后 A 公司收到安徽省商务厅的约谈通知。与此同时，B 公司在 A 公司官网、微信公众号上发布指责其盗用防护口罩名称、包装的文章，被各大网络平台转载，引导阅读者对安徽某医疗科技公司产生误解，致使公司的商业信誉降低。由材料可知
- ①若 B 公司的投诉经查实为真，则 A 公司的行为构成混淆行为
  - ②B 公司侵犯了 A 公司的企业名誉，构成侵权，应当承担侵权责任
  - ③B 公司承担侵权责任的方式可以是继续履行和采取补救措施
  - ④B 公司的行为侵犯了 A 公司的姓名权和荣誉权，构成侵权行为
- A. ①②      B. ①③      C. ②④      D. ③④
23. 德国自动化技术厂商推出了一款仿生机器人。该机器人模拟一种生活在撒哈拉沙漠的蜘蛛，这种蜘蛛不仅能在空中正常行走，还能翻腾着行进，在平整的空地上，其翻腾的速度是行走速度的两倍。在一些复杂的地形中，这款机器人能够弯曲机器腿，使车身变成车轮的形状，而在滚动模式下，它比大多数腿式机器人移动得快得多。上述案例中
- ①运用类比推理解决他人思想上的困惑，纠正他人认识中的错误
  - ②运用类比推理方法，找到事物之间相同或相似属性
  - ③运用联想思维方法，对不同类事物的认识进行联结
  - ④从感性具体到思维抽象，把握事物整体本质和规律
- A. ①②      B. ①④      C. ②③      D. ③④

24. 梁王城遗址大汶口文化墓葬一期保存状况较好的成年单人墓葬中，男性墓葬5座，出土随葬品50件；女性墓葬11座，出土随葬品171件；男性墓最多随葬20件器物，女性墓最多随葬41件器物。其中随葬的纺轮、钺、镞在男女墓葬中的分布情况如下表：

梁王城遗址大汶口文化墓葬中各类工具的分布情况

工具类别	男性墓葬数量	女性墓葬数量
纺轮	3	13
钺	4	1
镞	8	1

根据上述考古发现可以推测，当时

- A. 阶级分化已较为明显  
B. 氏族间联系趋于紧密  
C. 出现与性别相关的社会分工  
D. 社会中心由女性向男性转移
25. 汉代画像砖中保存了很多体育图像，图4是四川出土的汉代手搏画像砖，画面两端二人徒手对峙。《汉书·艺文志》录有《手搏》六篇，都归于兵书。这可以反映汉代




图4

- A. 体育项目包含一定的军事需求  
B. 盛行刚健的尚武轻文之风  
C. 竞技体育成为娱乐的主要方式  
D. 体育活动蕴含的礼教思想
26. 两汉之际，佛教传入中国；汉魏之际，佛学传播渐广；南北朝时期，佛教寺院经济发达；到了隋唐，佛教进入鼎盛时期，隋唐佛教学说最大的特点是把儒家的心性佛教化。佛教在中国的传播
- A. 重构了中国传统文化  
B. 推动了儒学的思辨化  
C. 导致了门第观念淡化  
D. 反映了民族交流加强
27. 现代学者张广达认为尽管在宗教、艺术、器物等方面，通过西域传来的印度、中亚、西亚等文明，对于唐代的习俗、生活发生着深刻的影响，但是唐代的官职、兵制、刑法、土地和赋役等主要制度都源于先前的王朝，并没有因外来文化的影响而发生重大的改变。由此可知，唐政府
- A. 对外政策兼收并蓄  
B. 国家统一促进文化交流  
C. 鼓励多元化的发展  
D. 追求实现大一统的极欲

文科综合·第7页(共16页)

28. 百日维新期间，清廷颁布谕旨：“现当海禁洞开，强邻环伺，欲图商务流通，隐杜觊觎，惟有广开口岸之一法。”号召各省督抚在全国推广。日俄战争后，清政府掀起新一轮自开商埠运动。济南、常德、湘潭、海州、南宁、昆明等地相继宣布或策划自开商埠。自开商埠意在
- A. 削弱地方汉族督抚的权力  
B. 维护国家主权和利益  
C. 推动国家主权意识的觉醒  
D. 彰显政府开明和开放
29. 1936年，国民政府成立“国民经济建设运动委员会”，并制定相关规章制度。在农业方面，主要是研究和推广优良品种，培养农业技术人才。在工矿领域，加强国营企业的筹设和发展。在商业方面，提倡国货，加强对商业团体的指导和监督，调节粮食运销等。据此可知，国民政府经济政策
- A. 适应了全面抗战的需求  
B. 推动官僚资本主义经济的形成  
C. 强调国家对经济的干预  
D. 体现了孙中山民生主义的精神
30. 1953年9月，毛泽东说所谓仁政有两种：一种是为人民的当前利益，另一种是为人民的长远利益，前一种是小仁政，后一种是大仁政。两者必须兼顾，不兼顾是错误的，重点应当放在大仁政上，照顾小仁政，但不妨碍大仁政，这是施仁政的偏向。他认为应
- A. 吸取苏联社会主义建设经验和教训  
B. 发展轻工业和农业以提高人民的生活水平  
C. 加快完成社会主义三大改造的任务  
D. 优先发展重工业改变我国工业落后的面貌
31. 公元前750年左右，面对日益增长的人口压力，希腊人到海外拓展生存空间。据希罗多德记载，连续七年大旱后，锡拉岛凡有一名以上男丁之家必须派出一人参加殖民。在激烈的阶级分化和斗争中，破产而失去土地的农民和政治斗争中失败的利益集团，也被迫去海外谋生。古代希腊的这些殖民活动
- A. 引发了与邻国之间长期的战争  
B. 促进了希腊化时代的到来  
C. 有助于希腊城邦共同体的建立  
D. 推动了希腊民主政治进程
32. 中世纪中晚期，狂欢文化及相关仪式、活动为法国所有阶层、性别和年龄的人所共享。狂欢游行是属于驱逐群体恐惧和寻求神灵保护的宗教仪式，也是处理某些特定群体事务，尤其是违反群体利益事务的手段。这反映出法国当时
- A. 城市商品经济的发展  
B. 文化与社会建构的需求  
C. 社会成员流动性增强  
D. 世俗精神融入宗教活动

文科综合·第8页(共16页)

33. 16 世纪, 中国的瓷器开始直接出口到欧洲, 被公开拍卖或私人售贩。这一时期订烧瓷仍然保持着传统的中式图案和装饰习惯, 采用描绘日常世俗享乐和山水美景的图案、洒脱与写意的装饰手法。据此可知, 当时的欧洲
- A. 对现世世界的关注  
B. 新教得到广泛传播  
C. 贸易逆差日益加剧  
D. 崇尚东方式的生活
34. 1876 年以后, 欧洲殖民列强对非洲展开了疯狂瓜分, 到一战前, 除埃塞俄比亚和利比亚表面上还维持独立外, 其余地区全部变成了欧洲的殖民地和保护国。到 20 世纪 50 年代非洲有 6 个国家独立, 60 年代末非洲独立国家已达到 41 个, 约占非洲总面积的 84%, 总人口的 88%。这一变化主要得益于
- A. 旧殖民方式不适应新形势  
B. 国际政治秩序的重大变化  
C. 二战削弱了殖民国家力量  
D. 非洲民族民主意识的高涨
35. 2019 年面对特朗普政府推出的《东盟印太展望》, 使东盟的印太战略取得了一定的自主权。2021 年在中国与东盟规划了中国东盟全面战略合作伙伴关系的一揽子合作后, 东盟对美国提供的合作有选择地接受, 对于各种有益的合作项目照单全收。据此可知, 东盟
- A. 积极构建包容性地区秩序  
B. 以整体姿态反对霸权主义  
C. 平等对待世界大国的博弈  
D. 抵御经济风险能力的增强

二、非选择题 (共 10 小题, 共 160 分。把答案填写在答题卡上相应的位置, 在试题卷上作答无效)

36. (28 分) 阅读图文材料, 完成下列要求。

我国水土流失面积约占耕地总面积的 1/3, 在大力推进生态文明建设的背景下, 我国正在对水土流失进行全方位综合治理。图 5 为我国水土流失严重地区分布图和延安、重庆气候资料图。

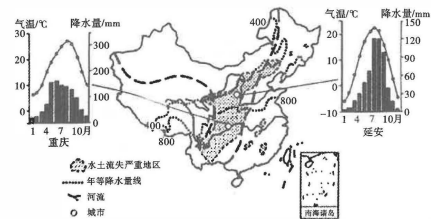


图 5

(1) 和重庆相比, 说出延安的气候特征并分析原因。(8 分)

(2) 从地形和气候的角度归纳我国水土流失严重地区的空间分布特征。(4 分)

(3) 列举两个我国水土流失不严重的区域 (成因不同), 并分析原因。(8 分)

(4) 简述在黄土高原水土流失区域进行大规模综合治理所产生的主要生态环境效益。(8 分)

37. (28 分) 阅读图文材料, 完成下列要求。

1996 年, 上海市浦东新区建立了国家生物医药科技产业基地, 该基地被誉为“张江药谷”。“张江药谷”在发展初期, 以引入生物医药领域国家级科研院所等服务机构和跨国公司产业化项目为主。经过 20 多年的发展, 集聚了近 300 家生物医药领域的创新企业以及近 30 个国内外知名企业的研发中心。近几年, “张江药谷”的企业与上海市金山区合作, 形成了“研发在张江、制造在金山”的联动格局, 并在南区 (康桥医谷) 以生物技术促进现代农业快速发展。图 6 为张江药谷及周边地区示意图。

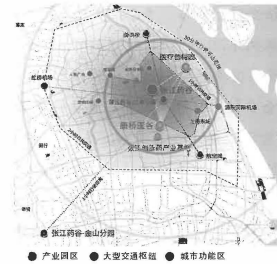


图 6

(1) 简述“张江药谷”选址的有利条件。(6 分)

(2) 分析“张江药谷”在发展初期, 以引入生物医药领域国家级科研院所等服务机构和跨国公司产业化项目为主的原因。(10 分)

(3) 说明“制造在金山”对当地产生的影响。(8分)

(4) 说出康桥医谷发展可能带动的企业类型。(4分)

38. (10分) 阅读材料, 完成下列要求。

在人民网开展的2023年全国两会调查中,“依法治国”入选十大热词。为实现基本建成法治国家、法治政府、法治社会的奋斗目标,党中央制定了法治建设“一规划两纲要”,即《法治中国建设规划(2020-2025年)》《法治政府建设实施纲要(2021-2025年)》《法治社会建设实施纲要(2020-2025年)》。立善法于一国,则一国治。中国特色社会主义法律体系正在不断完善中,全面加强宪法实施和监督,健全合宪性审查制度,强化备案审查工作,维护国家法治统一,编纂民法典,修改立法法……健全依法决策制度机制,全面推行行政执法公示、执法全过程记录、重大执法决定法制审核“三项制度”。加强政法领域执法司法制约监督制度机制建设,严格落实防止干预司法“三个规定”,加强新时代检察机关法律监督工作,落实检察官办案责任制。深入开展“八五”普法,全面实行“谁执法谁普法”普法责任制。健全乡村治理体系,基本实现村(居)法律顾问工作全覆盖。整合律师、公证、法律援助等资源,建成各类实体、热线、网络服务平台57万个等。新起点上,全面依法治国新征程的壮丽篇章将继续谱写,在法治轨道上全面建设社会主义现代化国家。

结合材料,运用全面依法治国的知识,说明我国如何继续谱写全面依法治国新征程的壮丽篇章。(10分)

39. (10分) 阅读材料,完成下列要求。

近年来,国潮消费持续升温。一些老字号通过迭代升级闪亮“出国”,一些新锐国产品牌凭借新技术、新产品、新服务迅速崛起,食品、美妆、服饰、家电、汽车等一大批国货因新颖设计、国风韵味、上佳品质,赢得年轻消费者的青睐。国潮消费映衬出深刻的文化认同。当代中国的年轻人成长于中国社会和经济高速发展崛起的时代大背景下。他们不仅眼界更宽,而且能够以平和的心态、平静的视角看待世界。由于对中国的制度道路、中华文化的守正创新、中华民族的软实力和硬实力具有高度自信,他们不盲信外国品牌和外国货,而是更加注重中国品牌、“中国智造”蕴含的独特价值。许多国人选择本土品牌并以此为荣,与自身精神信仰是契合的,人们能够从中获得归属感和自豪感。国潮不仅是国货之潮,也是国力之潮。国潮植根于富有强大生命力的中华文化自信中,我们当倍加呵护并不断巩固。

结合材料,运用社会存在与社会意识的相关知识,分析国潮消费持续升温的原因。(10分)

40. (10分) 阅读材料,完成下列要求。

4月13日,土耳其外长恰武什奥卢在安卡拉举行的联合记者会上表示“土耳其与埃及将会恢复最高级别外交关系,很快就会联合官宣!”2013年底,埃及驱逐土耳其大使并召回本国驻土大使,土耳其也以对等措施回敬。此后两国外交关系一直维持代办级。

自2021年起,土埃两国逐步释放善意。国际和国内局势的变化为两国和解提供了机遇,严峻的国内经济形势则为缓和两国关系提供了内在动力。土耳其近年来通胀压力巨大,埃及情况同样不容乐观,两国都需要增加与其他国家的经济、金融和商业互动,以缓解压力。

近期,在中东地区,无论是阿拉伯国家之间,还是伊朗、土耳其与阿拉伯国家之间,高层访问频繁,各国关系明显好转。土耳其国内舆论也普遍期待,在中东和解潮下,土耳其能与地区各国进一步改善关系。恰武什奥卢在13日的记者会上直言:“在利比亚问题上两国仍持不同看法,但我们会就此持续沟通。”

结合材料,运用和平与发展的相关知识,说明中东地区国家应如何顺应国际局势、走和平与发展道路。(10分)

41. (12分) 阅读材料, 完成下列要求。

2023年3月, 林某和宋某在未办理结婚登记的情况下举办了婚礼, 在婚礼期间林某朋友赠送了一套价值10万的红木家具给林某。2023年4月, 林某在宋某不知情的情况下, 将这套家具卖给了王某, 并与王某签订了家具的买卖合同, 签订合同后, 王某支付了2万元的定金, 约定一个月后将家具交付。宋某知道后, 在林某还没将家具交给王某前向人民法院起诉, 称林某将家具卖给王某时没有和作为妻子的她商量, 买卖合同不成立, 并在交付前将家具转移了。

(1) 本案中王某有没有取得家具的所有权? 请说明理由。(6分)

(2) 法院会支持宋某的说法吗? 为什么?(6分)

42. (10分) 阅读材料, 完成下列要求。

习近平总书记“4·13”重要讲话中指出: “国家支持海南布局建设一批重大科研基础设施和条件平台, 建设航天领域重大科技创新基地和国家深海基地南方中心, 打造空间科技创新战略高地。”

依托我国第四大航天发射场——文昌航天发射场优势, 海南加快推进“文昌全域发展航天城”, 加快培育火箭链、卫星链、数据链“三链”产业同构, 探索发展“航天+”产业。

“文昌国际航天城2020年‘诞生’, 2021年学会了‘爬’, 2022年开始‘走’, 2023年起, 航天城将进入‘跑’和‘飞’的阶段。”以狂飙之势, 文昌国际航天城的建设跑出“加速度”。截至目前, 一批火箭、卫星、数据产业链头部企业和院所的项目纷纷落地航天城; 与国家航天局合作, 设立卫星数据与应用研究中心; 成立海南省航天技术创新中心; 设立西北工业大学文昌卫星与大数据技术研究中心……一批创新型研发机构陆续启动运作, 促进产业集聚发展。

结合材料, 运用《逻辑与思维》的知识, 分析推进文昌全域发展航天城是如何体现超前思维的。(10分)

43. (25分) 阅读材料, 完成下列要求。

材料一 列宁指出俄国资本主义发展情况下的城乡关系不能消除城市与乡村的对立。机器大生产带来的只是少数大城市的进步, 广袤的乡村地区反而日益凋敝。所以列宁通过无产阶级革命解放农民和乡村, 为重构城乡社会结构奠定基础。在完成革命后, 解决城乡矛盾, 实现城乡融合是开展社会主义建设的根本任务之一, 也是实现共产主义理想社会的必要步骤。列宁还提出了建立工农联盟的政治主张, 这代表着以工人为代表的城市文明和以农民为代表的乡村文明第一次在无产阶级的国家实现了政治意义上的融合。列宁继承和发展了马克思、恩格斯关于城乡关系的理论, 进一步指出了随着历史的进步, 城乡必然打破对立, 走向融合的趋势。

——摘编自蒋明雨《邓小平城乡关系研究》

材料二 中共七届二中全会上毛泽东提出, 新中国成立后党在城乡关系问题上的基本思路应是以城市为重心, 这一思想奠定了此后我国城乡关系发展的总体状况。1952年底, 毛泽东确立了以工业化发展为主体、以工业强国的建设思路。与城市的中心地位不同, 农村是国家经济建设的基础, 他强调“国家工业化要靠农民的援助才能成功”, 以“合作化”变革农村生产关系, 为工业化服务。随着经济建设大规模地开展, 我国实施计划经济体制, 采用统购统销的方式对市场进行集中的管理, 使得更多的资源主要集中在城市以及工业, 从而增强国家的实力。

——摘编自田雨《马克思主义城乡关系中国化研究》

材料三 1978年后, 中国城乡关系进入新时期。邓小平城乡关系思想继承了马克思城乡关系思想的精髓, 在结合中国国情的基础上提出: 真正的社会主义道路就是要逐步缩小城乡差别; 以农业为国家的根本; 建立城市和乡村的良性互动, 通过城乡互相扶持来构建社会主义新型城乡关系; 建立和发展乡镇企业, 走城镇化发展的道路。除了经济领域外, 在公共事业、社会保障制度、环境治理等方面也需要做到城乡统筹兼顾。通过坚持城乡梯次发展战略布局和坚持城乡联动发展战略步骤来逐步缩小区域发展、城乡发展的不平衡, 创造性地解决了地域差异极大、明显呈现区域分化特点的发展中大国的城乡关系如何协调发展的难题。

——摘编自蒋明雨《邓小平城乡关系研究》

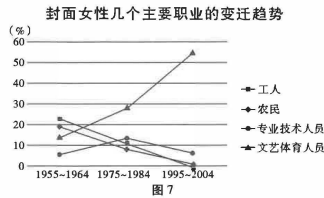
(1) 根据材料, 以列宁、毛泽东和邓小平城乡思想的相似之处, 阐释城乡关系的重要性。(7分)

(2) 根据材料二并结合所学知识, 说明新中国成立之初城乡结构的特征并分析其原因。(8分)

(3) 根据材料三并结合所学知识, 概括邓小平城乡思想的特点和价值。(10分)

44. (12分) 阅读材料, 完成下列要求。

材料 《中国妇女》杂志于1939年6月1日在延安窑洞中诞生。毛泽东主席亲自题写刊名, 并赋诗祝贺。她伴随了几代中国女性的成长, 是中国女性“励志的范本、成长的蓝本、快乐的样本”。以下是对被选为1949年至2004年《中国妇女》杂志封面女性人物的几个主要职业变迁趋势和事迹研究的统计数据。



封面女性人物事迹分布 (单位: %)

	1955~1964	1975~1984	1995~2004
爱岗敬业	34.3	31.1	6.7
勤奋钻研	10.8	3.3	5.9
贤妻良母	4.5	1.6	0.8
自立自强	23.4	27.9	27.7
优雅魅力	8.1	22.9	47.9
领袖气质	2.7	6.6	7.6
其他	16.2	6.6	0.9

——摘编自朱舜《社会变迁中的女性形象》

根据材料发现一个现象, 结合所学中国现代史的相关知识加以阐释, 并得出一个结论。

(要求: 现象源自材料, 结论明确, 史论结合, 阐释充分)(12分)

45. (15分) 阅读材料, 完成下列要求。

材料一 晚清时期在西方观念的影响之下, 许多城市市民开始参与到城市治理当中。在内忧外患之下, 清政府被迫实行“新政”, 在各省会城市设立谘议局, 并颁发了《谘议局章程》和《议员选举章程》, 部分社会阶层得以参与城市政治; 颁布《城镇乡地方自治章程》, 兴办城市自治机构成为大众参与政治的一个重要环节。1911年, 各城市出现的公开性社团达600多个, 这些团体组织各种活动, 提高民众的政治觉悟和参与能力。此外, 一些城市的社会人士开始创办民间市政组织, 积极参与到城市市政治理中去, 维持社会治安。

——摘编自顾强、章钊铭《从城市化到城市治理: 晚清时期中国城市发展的历史逻辑》

材料二 中国传统社会的控制系统分为“公”和“私”两部分。一方面, 国家系统利用直至县和次于县的政权体系, 依靠军队、法律等政治力量和经济、习惯的等方面的力量实现其控制权, 国家的权力似乎是绝对的和无限的。另一方面, 实际对基层社会直接进行控制的, 是乡族的势力, 包括血缘和地缘性的, 是一种多层次、多元的、错综复杂的网络系统。而且具有很强的适应性。国家政权对社会的控制, 实际上就是“公”“私”两大系统相互冲突又相互利用的互动过程。

——自傅衣凌《中国传统社会: 多元的结构》

(1) 根据材料一并结合所学知识, 概括近代中国城市治理的特点。(6分)

(2) 根据材料并结合所学知识, 评析中国传统社会国家治理体系。(9分)



## 关于我们

自主选拔在线是致力于提供新高考生涯规划、强基计划、综合评价、三位一体、学科竞赛等政策资讯的升学服务平台。总部坐落于北京，旗下拥有网站（[网址：  
www.zizzs.com](http://www.zizzs.com)）和微信公众平台等媒体矩阵，用户群体涵盖全国 90% 以上的重点中学师生及家长，在全国新高考、自主选拔领域首屈一指。

如需第一时间获取相关资讯及备考指南，请关注**自主选拔在线**官方微信号：[zizzsw](https://www.zizzs.com)。



 微信搜一搜

 自主选拔在线