

遵义市 2023 届高三年级第一次统一考试

文科综合能力测试

- 注意事项: 1. 答卷前, 考生务必将自己的学校、姓名、班级、考号等信息填写清楚, 并在规定位置贴好条形码。  
2. 答选择题时, 必须使用 2B 铅笔将答题卡对应题目的答案标号涂黑。  
3. 答非选择题时, 必须使用黑色签字笔, 将答案书写在答题卡规定位置上, 否则作答无效, 考试结束时, 只交答题卡。  
4. 本试卷分第 I 卷(选择题) 和第 II 卷(非选择题) 两部分。满分 300 分, 考试时间 150 分钟。

学生、家长查询成绩  
与知识点得分情况

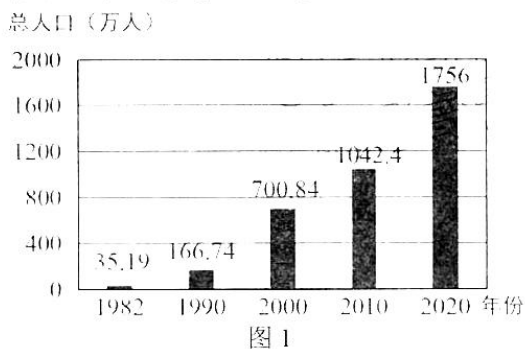
第 I 卷(140 分)

一、选择题(本大题共 35 小题, 每小题 4 分, 共 140 分。在每小题给出的四个选项中, 只有一项是最符合题目要求的)

上海第十七棉纺织厂位于老城区黄浦江沿岸, 改革开放前是中国棉纺织行业的大型骨干企业, 曾经供应全国 40% 棉布。目前, 原厂区已改造成集创意、文化及现代服务经济于一体的亚洲规模最大的国际时尚中心, 保留了上世纪 20 年代老上海工业文明的历史年轮, 又融入了当代时尚的审美元素。据此完成 1~2 题。

1. 该棉纺织厂在改革开放前的主要区位优势有  
①自然条件优越      ②产业基础雄厚      ③交通条件便利      ④能源资源丰富  
A. ①②      B. ②③      C. ③④      D. ①④
2. 国际时尚中心选址除保留历史文化外, 重点考虑的是  
A. 科技水平      B. 环境优美      C. 地理位置      D. 地租廉价
3. 棉纺织厂改造为国际时尚中心有利于  
A. 改善人居环境      B. 巩固城市职能      C. 弱化功能分区      D. 扩大城市规模

2020 年, 我国某城市常住人口中, 15~59 岁人口占比 79.5%, 60 岁及以上人口占 5.36%。图 1 为该城市的人口统计数据。据此完成 4~5 题。



4. 该城市最有可能是  
A. 北京      B. 上海      C. 广州      D. 深圳
5. 导致该城市常住人口中 60 岁以上人口占比较低的主要原因是  
A. 医疗保健滞后      B. 就业机会较少      C. 城市化进程快      D. 自然增长率高

江西省上饶市灵山常见花岗岩峰林、石柱等陡峭的山体景观,花岗岩体垂直节理(裂隙)和水平节理发育,在花岗岩石柱下缓坡或盆地中多花岗岩堆积物,形成天桥墩等多种景观。图2示意花岗岩石柱的演化过程。据此完成6~8题。

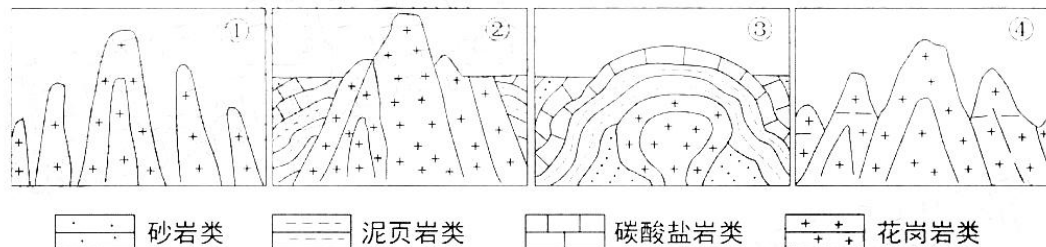


图2

- 当地花岗岩的石柱演变过程依次是  
A. ①④②③      B. ②④①③      C. ③②④①      D. ④②③①
- 在②阶段花岗岩石柱形成过程中,地壳最可能  
A. 先降后升      B. 持续抬升      C. 先升后降      D. 持续下降
- 天桥墩景观堆积物的主要成因是  
A. 构造运动      B. 岩浆活动      C. 冰川侵蚀      D. 重力崩塌

黄土塬又称黄土平台、黄土桌状高地,是顶面平坦宽阔,周边为沟谷切割的黄土堆积高地。研究者对某黄土塬研究表明,不同坡耕地土壤水分含量主要受降水量、气温、坡度、土质状况、植被覆盖率等因素影响,不同坡耕地在地表以下100cm深度含水量基本没有差异,100cm深度以下差异较明显。图3示意研究区域不同坡耕地土壤月平均含水量变化曲线。据此完成9~11题。

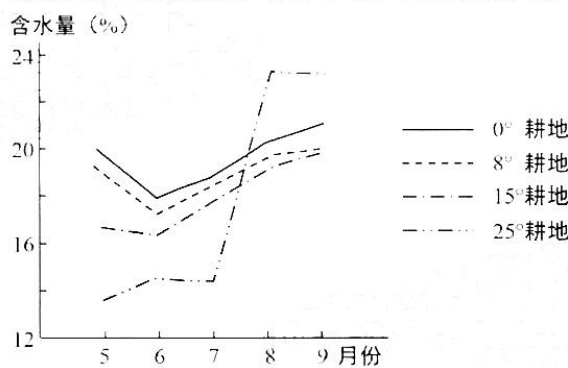


图3

- 5~7月不同坡耕地土壤月平均含水量差异的主要原因是  
A. 降水总量      B. 径流总量  
C. 植被状况      D. 土质状况
- 7~8月土壤含水量快速增加的主要原因是  
A. 降水丰富      B. 径流较小  
C. 蒸腾较弱      D. 灌溉量大
- 不同坡耕地土壤表层(0~100cm)含水量差异小的主要原因是  
A. 表层水分易蒸发      B. 冻土阻隔下渗难  
C. 降水差异不明显      D. 作物吸收水量大

12. 近年来,随着传统家电行业逐渐趋于饱和,市场急需寻求新的突破点。能实现消费者个性化、绿色化、智能化家电使用需求和更多生活价值的“新家电”正成为带领行业实现可持续发展的驱动力。与传统家电相比,“新家电”能够

- ①增加有效供给,促进消费提质扩容
- ②兼顾多重优势,提高行业的利润率
- ③优化家电性能,夯实人们消费基础
- ④补齐市场短板,打通家电流通堵点

A.①②                      B.①④                      C.②③                      D.③④

13. 图4反映的是某种商品均衡价格变化曲线,其中S和S'、D和D'分别表示变化前后的供给曲线、需求曲线, $P_0$ 和 $P_1$ 表示变化前后的均衡价格。下列经济现象中可能会导致均衡价格发生此变化的是

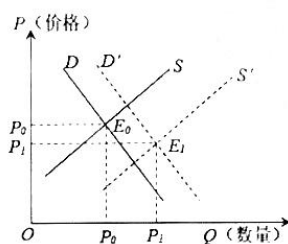


图4

- ①某电信公司推出5G资费套餐降价促销活动
- ②多晶硅片企业开工率加速提升且订单需求逐渐回暖
- ③厂家生产夏季服装增多,消费者对换季的秋装消费意愿增强
- ④智能机器人销量逐渐增大,机器人产业劳动生产率大幅提高

A.①③                      B.①④                      C.②③                      D.②④

14. 2022年9月,人力资源社会保障部会同有关部门发布“关于进一步做好阶段性缓缴社会保险费政策实施工作有关问题的通知”,通知提出,阶段性缓缴社会保险费政策到期后,可允许企业在2023年底前采取分期或逐月等方式补缴缓缴的社会保险费,补缴期间免收滞纳金。上述举措有利于

- ①缓解市场主体现金流压力,增强企业发展内生动力
- ②发挥积极货币政策的作用助企纾困,降低经营风险
- ③增强产业链供应链的稳定性,进而稳岗扩岗惠民生
- ④利用市场调节机制,助力企业关键核心技术的研发

A.①③                      B.①④                      C.②③                      D.②④

15. 中等收入群体是经济社会稳定的物质基础和重要力量,扩大中等收入群体是推进共同富裕的必要条件。以下可以通过扩大中等收入群体实现共同富裕的措施有

- ①精准识别,提高劳动报酬在初次分配中的比重
- ②实行技术创新成果入股,增加领军人才的收入
- ③增强社会承受能力,缓解冲击维护社会稳定
- ④加快发展长租房市场,推进保障性住房建设

A.①②                      B.①④                      C.②③                      D.③④

16. 在今年的秋冬种工作中,遵义市立足“早”,突出“实”,充分挖掘冬闲田土潜力,大力推进种植“油蔬两用”型油菜品种及良种良法,既守牢了粮食安全和重要农产品生产保供底线,又推动了农业增效、农民增收。以下传导路径正确的是
- ①扩大良种种植面积→保障油菜生产品质→增强油菜市场供应→助推农业产业增效  
②创建集中育苗基地→助力良种有效移栽→提高种田产能效应→助推农业产业增效  
③利用时机早播良种→采用良法单产提质→保障质量畅通供需→一种两收助农增收  
④开展培训加强指导→提高素质科学种植→增加农副产品价值→扩大销售助农增收
- A. ①③                      B. ①④                      C. ②③                      D. ②④
17. 2022年前8月我国的外贸出口总值15.48万亿元,同比增长14.2%,进口总值11.82万亿元,同比增长5.2%,贸易顺差3.66万亿元,扩大58.2%。下列表述对我国进出口成绩推因合理的是
- ①全力保障货运物流运输畅通,推动外贸保稳提质  
②完善企业汇率避险管理服务,提振对外发展信心  
③扩大出口信用保险短期险规模,以实现贸易逆差  
④充分利用外资,普惠小微企业信贷支持计划
- A. ①②                      B. ①④                      C. ②③                      D. ③④
18. 全过程人民民主是中国共产党团结带领人民追求民主、发展民主、实现民主的伟大创造,通过建立人民代表大会制度等一整套民主政治制度,将民主选举、民主协商、民主决策、民主管理、民主监督各个环节彼此贯通起来。据此可知
- ①人民代表大会制度是我国人民当家作主的根本政治保证  
②中国特色的社会主义民主是最广泛、最真实的全民民主  
③坚持中国共产党的领导是我国人民民主发展的最大优势  
④全过程人民民主是党的领导和人民当家作主的有机统一
- A. ①②                      B. ①③                      C. ②④                      D. ③④
19. 2022年5月31日,贵州省民政厅起草了《贵州省“十四五”城乡社区服务体系建设规划》面向社会各界公开征求意见,一位高级社工师通过邮件提交了自己的建议。上述做法
- ①通过专家咨询制度实现公民积极参与民主决策  
②拓宽民意反映渠道,保障公民直接行使参与权  
③通过社情民意反映制度推动公民参与民主监督  
④体现了重大事项社会公示制度促进决策的民主
- A. ①②                      B. ①③                      C. ②④                      D. ③④
20. 2022年7月19日,中央全面依法治国办启动法治政府建设实地督察反馈整改工作,要求各地方、各部门要进一步压实整改责任,深入剖析法治问题,建立健全依法履职的长效机制,改进作风、做实工作,聚焦关键、抓住重点,力戒形式主义、官僚主义。上述要求旨在
- ①运用法治思维方式,提升行政治理能力                      ②转变政府工作作风,提高行政工作效率  
③推动行政体制改革,创新社会管理方式                      ④强化社会监督作用,保障人民根本利益
- A. ①②                      B. ①③                      C. ②④                      D. ③④
21. 2022年9月,最高人民法院副院长杨临萍表示要以“智慧法院”让公平正义“触手可及”。以往上诉案件卷宗移送工作平均耗时15天,现在仅需几分钟;“云端”模式实现“一站通办、一网通办、一次通办”。推进“智慧法院”建设有利于
- ①公正立法,保障法院工作的高效和正义                      ②有法必依,保障了公民基本的民主权利  
③法治建设,回应新时代人民司法新需求                      ④高效便民,提高司法诉讼的质量和效益
- A. ①②                      B. ①④                      C. ②③                      D. ③④

22. 贵州 17 个世居少数民族中有 10 个使用本民族语言。近年来, 贵州在民族地区实施“双培”行动, 为少数民族送上语言“钥匙”, 促进民族之间的交流, 拓宽获得现代知识和信息的渠道, 生产生活便利程度大为提高。语言培训活动的价值在于
- ①为促进民族事业不断发展提供有力政治保证
  - ②铸牢中华民族共同体意识, 增强民族凝聚力
  - ③行使文化自治权可以促进少数民族地区发展
  - ④拓宽各民族联系的广度深度, 推动共同繁荣
- A. ①②                      B. ①③                      C. ②④                      D. ③④
23. 今年 9 月联大会议期间, 我国外交部长王毅针对当前国际形势表示: “中方主张各国主权和领土完整都应该得到尊重, 联合国宪章宗旨和原则都应该得到遵守, 各国合理安全关切也应该得到重视。”这一主张表明我国
- ①遵循联合国宗旨和原则, 以和平方式解决国际争端
  - ②彰显大国的责任和担当, 为世界发展贡献中国方案
  - ③从各国人民的利益出发, 反对霸权主义和强权政治
  - ④坚持独立自主的和平外交政策, 兼顾他国合理关切
- A. ①②                      B. ①④                      C. ②③                      D. ③④
24. 孔子提出: “未能事人, 焉能事鬼”, 并且为人的道德修养设定了贤人、君子、仁人、圣人等由低到高的理想人格目标, 强调仁的实践从自身开始。这反映出孔子
- A. 重视人的主体地位
  - B. 强调实用性和现实性
  - C. 主张恢复礼乐制度
  - D. 反对苛政和任意刑杀
25. 关于五帝的名称与顺序, 古书中有不同的说法。司马迁将他们描绘成具有同一血缘、先后相继的关系, 这虽然在一定程度上反映了远古社会不同氏族间不断融合的情况, 但与历史实际未必完全相符。这反映了
- A. 远古时期历史模糊不清
  - B. 历史研究受时代的影响
  - C. 主观意志误导研究方向
  - D. 汉朝历史研究水平有限
26. 宋朝的土地买卖、典当基本不受官府干预, 仅办理法律手续, 缴纳交易税即可。这
- A. 适应了宋朝社会经济的变化
  - B. 体现了宋朝法律体系的完善
  - C. 反映政府放弃重农抑商政策
  - D. 一定程度上抑制了土地兼并
27. 清朝雍正帝扩大了奏折的涵盖范围, 其奏折内容不必谨慎到只有政事可谈, 实际上当地的风土民情, 百姓的生活状况都可以呈现到他面前。这有利于
- A. 提高决策效率
  - B. 强化君权控制地方
  - C. 惩治贪污腐败
  - D. 了解下情有效治理
28. 林则徐在主持编译《四洲志》时, 有意调换了原书中介绍国家的顺序, 按照亚洲—非洲—欧洲—美洲的顺序进行叙述, 并将选编的重点放在各国的兵制、统治情况, 以及历史中对外交战的情况。这反映了林则徐
- A. 全面认识到中国落后的现实
  - B. 仍受天朝上国思想的束缚
  - C. 华夷尊卑观念已经彻底转变
  - D. 洞察新旧交替的时代变局

29. 下表是近代中国的留学数据统计。据此可知, 留学热潮的变化

1872 年	30 名幼童赴美留学, 拉开中国近代留学教育史的序幕。
1894 年—1911 年	留学日本成为热潮, 仅 1906 年留学日本学生就超过一万人。
1911 年—1923 年	中国学生到欧洲各国勤工俭学, 掀起了留学欧洲风潮; 1922 年, 留法学生人数达 1700 多人。
1924 年—1927 年	大批进步青年被派往苏联学习, 形成了近代史上的留苏热潮。

- A. 展现近代留学生的媚外观念  
B. 顺应了救亡图存的时代需求  
C. 反映出中国被动与世界接轨  
D. 折射出中国社会性质的改变
30. 1941 年鄂豫边区颁发的《鄂豫边区各级政府组织条例》规定: 该区实行保甲自治, 保长和保务委员会由所在的保民大会选举产生, 而甲长由全体甲民直接选举产生, 保甲长均三个月改选一次, 并由所辖全体人民监督其工作。据此推知, 保甲自治的施行
- A. 为抗日战争胜利积蓄了群众力量  
B. 保证了中国民众当家作主的权利  
C. 贯彻了工农武装割据的思想理念  
D. 深受传统基层社会治理经验影响
31. 1979 年我国先后建立或恢复了四大银行(中行、工行、农行、建行), 使其各司其职, 初步形成了一个专业银行体系, 同时还出台一系列法制法规, 使得金融监管有法可依。此举
- A. 理顺了市场与计划之间的关系  
B. 标志着城市经济体制改革全面展开  
C. 意在推动经济体制改革的步伐  
D. 确保了金融业的发展与世界接轨
32. 公元前 8 世纪, 希腊城邦兴起。城市的中心广场即市政广场是城邦社会与政治活动中心。在许多城邦, 人民凭着对土地的拥有权而获得公民权, 可以参与城邦公共事务的讨论和执行。这主要反映了古希腊城邦
- A. 民主政治趋于完善  
B. 人民平等享有参政权  
C. 工商业贸易很发达  
D. 具有独立自主的传统
33. 有学者指出, 从哥伦布第二次远航美洲起, 旧大陆疟疾、流行性感、麻疹伤寒传入美洲, 这一切都深刻地改变了美洲的历史进程、社会发展、人种民族结构等。由此推知
- A. 美洲文明无法应对疫病  
B. 疫病有利于世界秩序重建  
C. 疫病影响文明发展进程  
D. 文明存续取决于医疗水平
34. 斯大林说, 从轻工业开始的工业化道路是一条漫长的发展途径, 是资本主义国家的做法, 苏联不应该走这条旧路, 苏联可以从发展重工业开始自己的工业化。这反映了
- A. 苏俄工业化须优先发展重工业  
B. 新经济政策的理念得以延续  
C. 冷战思维影响工业化道路选择  
D. 苏联模式是适应国情的产物
35. 有学者认为, 全球化不仅带来了私人空间、精神家园的丧失, 而且也产生了对私人空间、精神家园的迫切需要。这样, 人们对自己民族的传统文化的认同便是非常自然的事情了。文化多元化的可能性与合理性, 正是根植于全球一体化这一现实土壤之中。这表明
- A. 全球化推动个体对传统文化的认同  
B. 全球化丰富了私人空间和精神家园  
C. 文化多元化增强了各民族的文化自信  
D. 文化多元化是全球化精神缺失的结果

## 第Ⅱ卷(160分)

二、非选择题(本大题包括必考题和选考题两部分,共160分。第36~44题为必考题,每个试题考生都必须作答。第45~47题为选考题,考生根据要求作答)

36. 阅读图文资料,完成下列要求。(20分)

汉源县位于四川西部,自然环境独特,年降雨量500-900毫米。20世纪80年代,当地在海拔700至1800米的范围内引种甜樱桃,并采取果实套袋、杀虫灯、粘虫板、诱捕器等病虫害绿色防控技术,甜樱桃具有果大、色艳、味浓、质优等特点。长江流域甜樱桃采摘期一般在4月中旬~5月上旬,但汉源的采摘期可持续到7月。近年来当地政府积极搭建直播营销平台销售甜樱桃。图5示意汉源县等高线地形。

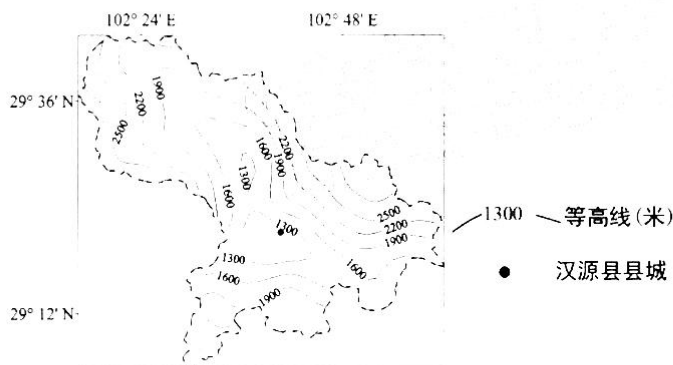


图5

- (1) 分析汉源县樱桃采摘期长的原因。(6分)
  - (2) 说明当地政府积极搭建直播营销平台的主要原因。(8分)
  - (3) 从果农的角度分析汉源县推广病虫害绿色防控技术的意义。(6分)
37. 阅读图文材料,完成下列要求。(26分)

尼日利亚位于西非东南部,自然环境复杂多样。尼日尔河每年带到河口的泥沙量达4000万~6700万吨,河口不断向外海延伸,三角洲上汊流密布,沼泽遍地,前沿河口多达20多处。图6示意尼日利亚主要水系。

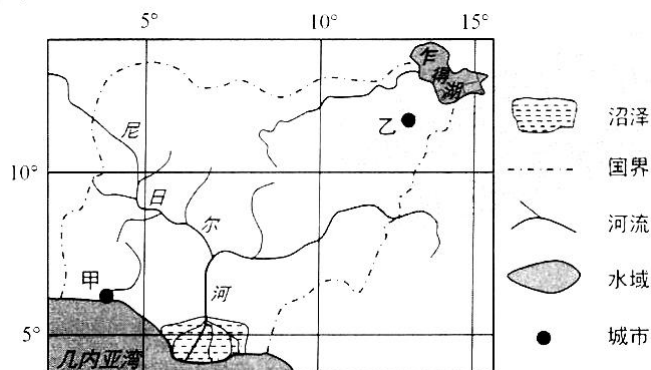


图6

- (1) 判断每年12月~2月尼日利亚的盛行风向,并说明理由。(6分)
- (2) 推测乍得湖水域面积的变化特点,并分析其原因。(6分)
- (3) 比较甲乙两地自然带的差异,并分析差异的主要原因。(8分)
- (4) 分析尼日尔河前沿河口众多的原因。(6分)

38. 阅读材料,完成下列要求。(14分)

材料一 2012~2021年我国新能源汽车产销情况的变化(单位:万辆)。

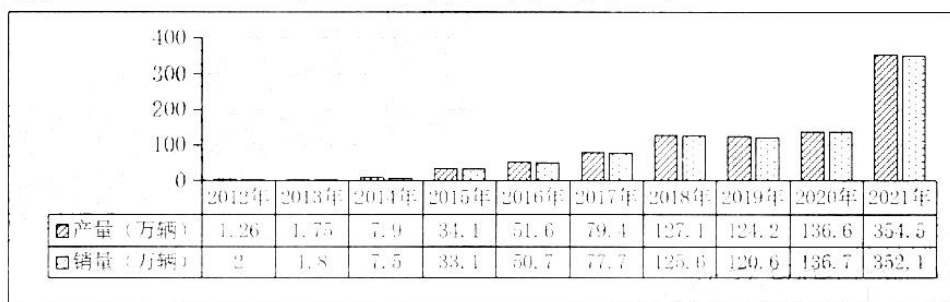


图7

注:截止2021年底,全国充电桩累计保有量为261.7万台,预计2025年将达到654.3万台。

材料二 随着我国宏观经济复苏、中低收入群体经济状况好转及国家对新能源车免车辆购置税的延期,2022年1月至7月,我国新能源产业汽车产销分别完成327.9万辆和319.4万辆,保持了快速发展的趋势。

总结我国新能源汽车的发展经验,全国政协经济委员会副主任苗圩归结为五点:一是社会主义制度优势,集中力量办大事;二是抢抓“换道超车”的纯电驱动发展机遇;三是保持战略定力,坚持一张蓝图干到底;四是构建以企业为主的创新体系;五是政府从顶层设计、技术创新、标准体系、财税政策等各方面加以引导。

(1) 分析材料一所蕴含的经济信息。(6分)

(2) 结合材料并运用经济生活的知识,分析我国新能源汽车产业发展的驱动因素。(8分)

39. 阅读材料,完成下列要求。(12分)

悠悠万事,吃饭为大。习近平总书记在党的二十大报告中强调,要全方位夯实粮食安全根基,牢牢守住十八亿亩耕地红线,确保中国人的饭碗端在自己手中。

今年以来,习近平总书记在四川、新疆等地考察时,多次对粮食安全、乡村振兴作出重要指示,充分体现了他对“三农”工作一以贯之的关注,对粮食安全这个“国之大者”念兹在兹。《中共中央国务院关于做好2022年全面推进乡村振兴重点工作的意见》指出,牢牢守住保障国家粮食安全和不发生规模性返贫两条底线,突出年度性任务、针对性举措、实效性导向,充分发挥农村基层党组织领导作用,推动乡村振兴取得新进展、农业农村现代化迈出新步伐,要全面落实粮食安全党政同责,严格粮食安全责任制考核。

中国上下各方齐努力,筑牢国家粮食安全防线,把粮食安全的基础夯得更实,让压舱石作用更稳固,这样中国应对各种风险挑战,人民生活会更安心,追求美好生活的底气就会更足。

结合材料并运用政治生活的知识,分析在保障粮食安全这一重要工作中中国共产党发挥了怎样的作用。(12分)



40. 阅读材料,完成下列要求。(26分)

习近平总书记深刻指出,“贯彻新发展理念,实现经济高质量发展,必须坚持以法治为引领”,要“以良法促进发展、保障善治”。

党的十八大以来,中央不断加大重点领域立法,系统构建了社会主义市场经济法律制度,以立法形式强化市场规则,改善营商环境,为经济高质量发展奠定了坚实基础。

法治具有普遍适用、统一实施的效力,我们要发挥法治显著优势,通过深层次法治改革,完善要素市场化配置法律机制,健全贯通生产、分配、流通、消费各环节的相关法律制度,形成国民经济良性循环。我们要健全产权执法司法保护制度,依法平等保护民营企业产权和企业家权益,坚持制度创新与科技创新“双轮驱动”,建立一整套支持创新、鼓励创新、保护创新的法律体系,以良法善治保障新业态新模式健康发展。民法典还为公权力划定了界限,规定了有关市场监管和依法行政的法律规则,要求公权力必须依法行使,不得干预民事主体的合法权益。在涉外法治建设上,也应统筹推进国内法治和涉外法治,推动构建公平公正透明的国际贸易规则体系,为畅通国内国际双循环营造良好的开放环境。

- (1) 实现经济高质量发展,需“以良法促进发展、保障善治”。结合材料并运用经济生活的知识,请对此加以说明。(12分)
- (2) 结合材料,运用政治生活的知识说明如何实现以良法善治推动经济高质量发展。(10分)
- (3) 某班要开展“良法善治引领美好生活”的主题班会活动,请你站在中学生角度对此提出两条具体活动建议。(要求:每条建议不超过20个字)(4分)

41. 阅读材料,完成下列要求。(25分)

材料一 北宋人对本朝超越唐代的财政能力和国家治理效果颇为自得,称宋太宗朝岁入缗钱已“两倍于唐室矣”,两税收入“倍增唐七倍”,加上夏税,“无虑十倍”,又称北宋财用“十倍于汉,五倍于唐”。且北宋财政收入总体上不断增长,熙宁元丰后“比治平以前数倍”,蔡京变法后比熙宁又再倍矣。北宋能与唐代比较的财政总数主要是载入《会计录》的三司财政,而内藏,朝廷财赋“非昔三司所领,则不入会计”,全国财政的实际总量会更高。因而上述比较虽非准确数据而只是概说,但反映的总体趋势是成立的,北宋财政特别是中央财政远超唐代并非宋人虚夸。

——摘编自黄纯艳《北宋财政能力与国家治理》

材料二 值得注意的是,清末虽然政府岁入也在快速增长,在1894年至1911年间年增7.94%,但支出增加更快,同期年增12.34%。结果,财政收支的不平衡问题日益严重,赤字逐年上升,1903年达3000万两,1911年剧增至7900万两。相较于甲午前数十年晚清财政结构的低度均衡,甲午以后财政构造的根本特征是其高度不均衡。甲午前之所以还能够维持均衡,是因为总体上清廷还能够坚持“量入计出”的传统理财原则,即财政支出的增加,是以财政收入的增长为前提条件的。相形之下,1894年之后是“量出计入”,即政府财政支出的急剧增长,驱使政府扩大财源,但收入增长远远滞后于支出增长,结果造成财政失衡,且在清末十年成为常态。

——摘编自李怀印《晚清国家转型的路径与成败》

- (1) 根据材料一并结合所学知识,分析北宋财政收入超越唐代的原因。(9分)
- (2) 根据材料二并结合所学知识,概括晚清财政发展呈现的特点,并分析其原因。(16分)

42. 阅读材料,完成下列要求。(12分)

材料 冷战后的世界是一个包含了七个或八个主要文明的世界。文化的共性和差异影响了国家利益的对抗和联合,世界上最重要的国家绝大多数来自不同的文明,政治和经济发展的主导模式因文明的不同而不同,最可能逐步升级为更大规模的战争和地区冲突。权力正在从长期以来占支配地位的西方非西方的各文明转移,全球政治已变成多极的和多文明的。

——摘编自缪尔·亨廷顿《文明的冲突》

材料反映了一位学者对冷战以后世界的认识。对此认识提出你自己的见解(赞成、质疑、修改皆可),并结合所学知识说明理由。(要求:见解明确,持论有据,表述清晰。)

43. 【地理一选修3:旅游地理】(10分)

陈家铺村位于浙江丽水松阳县,已有600多年的历史。先民利用地形地貌和岩石结构,沿山坡逐级向上用石头搭建阶梯式传统村落(如图8),被称作“小布达拉宫”,村子常年云雾缭绕,每逢重要传统节日,会举行祈福、社戏、马灯等传统民俗活动。当地利用古建筑,在海拔800米的山上开设了一家书店,称为“悬崖上的书店”,书店自对外开放以来,每天都要接待来自世界各地的游客,给陈家铺村注入了新的活力。



图8

简述陈家铺村发展古村落休闲避暑旅游的优势条件。

44. 【地理一选修6:环境保护】(10分)

“内马铁路”是非洲肯尼亚内罗毕至马拉巴新建铁路,选线时难以绕避拥有哺乳动物、爬行动物、鸟类、两栖动物、无脊椎动物等除大象以外的大部分东非代表性动物的内罗毕国家公园,线路以全桥形式穿过公园,长度5.86 km。图9示意铁路工程与公园位置关系。



图9

简述“内马铁路”以全桥形式替代路基方式穿过内罗毕国家公园的生态意义。

45. [历史——选修1:历史上重大改革回眸](15分)

材料 明中期后,政府的财政危机逐渐加重,张居正对此进行了经济方面的改革。万历六年(1578年),张居正推荐、启用先前总理河道都御史潘季驯治理黄河、淮河,并兼治运河,使得“数十年弃地,转为耕桑”。整顿赋役制度,扭转财政危机是张居正改革的重点。下令清查全国土地,在清查全国土地的基础上,针对当时赋役制度存在的弊端,张居正推行了一条鞭法。赋税的征收减少了环节,简化了手续,把徭役按比例分摊到各地方的田亩上,减轻了人丁的负担,农民对国家的人身依附关系进一步松弛,为城镇手工业的发展提供了充足的劳动力。此外,张居正还提出了“轻关市,以厚商而利农”的主张,同时抑制贵族豪强的奢侈浪费,节省官府的各项开支,贯彻量入为出的原则,使明朝的财政状况有了改善。

——摘编自朱绍侯等主编《中国古代史》

(1) 根据材料并结合所学知识,概括张居正在经济方面改革的主要内容。(6分)

(2) 根据材料并结合所学知识,简析张居正在经济方面改革带来的影响。(9分)

46. [历史——选修3:20世纪的战争与和平](15分)

材料 二战结束以后,以美国和苏联为首的两大阵营逐渐开始了冷战,这一矛盾导致亚洲发生了多场战争和危机,在越南形成了以北越亲苏政权和南越亲美政权之间的斗争。1961年5月,美国肯尼迪总统派遣特种部队进驻南越,随着干涉的不断升级,美国深陷越南战局无法自拔。为解决越南战争的僵局,使用核武器一直是美国内部机构研究和探讨的问题。经过计算,打击胡志明小道来切断北越对南方的供应线,需要大约3000枚战术核武器,这样庞大的数字显得极为不现实。最为重要的弊端是,这样会开使用核武器之先河,不仅在国际上形成美国政治上的孤立被动局面,还可能遭到北越背后的支持者苏联及中国同样报复的危险。约翰逊和尼克松政府对越南使用核武器都经历了想用到实际弃用的过程,各种制约因素的影响迫使他们最终放弃了使用核武器的选项。

——摘编自张北震《越南战争中美国的核考虑及制约因素分析》

(1) 根据材料并结合所学知识,概括美国发动越南战争的动机。(6分)

(2) 根据材料并结合所学知识,简述越南战争中美国使用核武器的制约因素。(9分)

47. [历史——选修4:中外历史人物评说](15分)

材料 1861年,詹天佑出生于广东省广州府南海县一个破落的茶商家庭。十岁那年,考取清廷官派首批赴美留学幼童班,于1881年从耶鲁大学铁路专业毕业,奉召回国,从1888年开始投身到中国新兴的铁路事业。面对着艰难的国际国内困境,詹天佑满怀爱国热情,始终捍卫中国的铁路主权,在中国积贫积弱的年代,克服各种困难,为中国铁路事业的开创与发展做出了重大贡献,特别是在1905年至1909年,他首创中国独立造路的奇迹,主持与领导建成了艰险异常的京张铁路,震惊了世界。在修建京张铁路的过程中,詹天佑通过反复勘测写成《修造京张全路办法》,提出了他经深思熟虑后确定的分三大段建造京张铁路的详细计划与办法,体现了其认真、负责的工作态度与严密、精细的科学精神。周恩来总理曾高度评价詹天佑是“中国人的光荣”。

——摘编自盛经鸿《詹天佑评传》

(1) 根据材料并结合所学知识,简析詹天佑从事铁路建设面临的困境。(9分)

(2) 根据材料并结合所学知识,概括詹天佑爱国主义的精神内涵。(6分)

## 关于我们

自主选拔在线是致力于提供新高考生涯规划、强基计划、综合评价、三位一体、学科竞赛等政策资讯的升学服务平台。总部坐落于北京,旗下拥有网站(网址:[www.zizzs.com](http://www.zizzs.com))和微信公众平台等媒体矩阵,用户群体涵盖全国90%以上的重点中学师生及家长,在全国新高考、自主选拔领域首屈一指。

如需第一时间获取相关资讯及备考指南,请关注**自主选拔在线**官方微信号:**zizzsw**。

