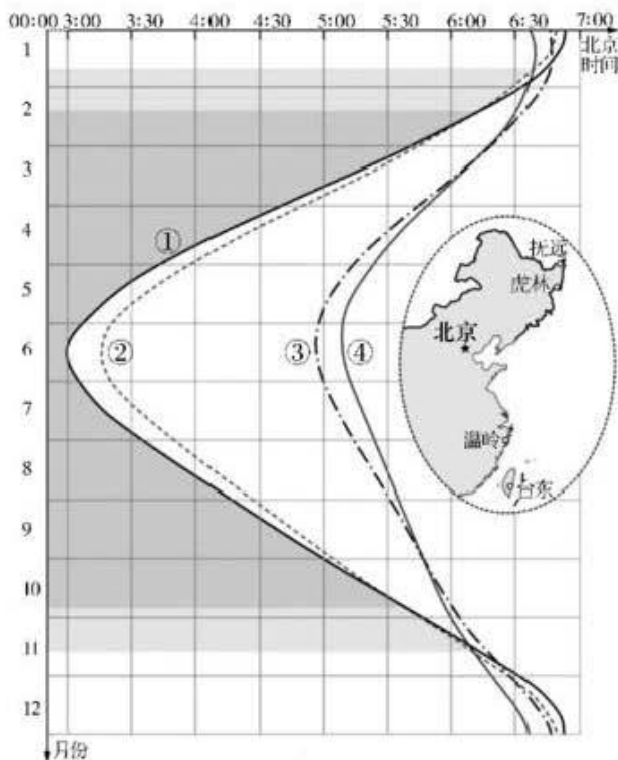


山西大学附中  
2022~2023 学年高三年级第二学期 3 月（总第九次）模块诊断  
文科综合

考查时间：150 分钟 满分：300 分

一、选择题：本题共 35 小题，每小题 4 分，共 140 分。在每题给出的四个选项中，只有一项是最符合题目要求的。

能够看到第一缕阳光的地方就是版图边界与晨线最早相切的地方。对于“在哪里能看到中国 2023 年第一缕阳光”这个有趣的问题，某校地理兴趣小组的同学进行了探究。图是小组搜集到的“中国最早日出县级行政区示意图”。据此完成 1~2 题。

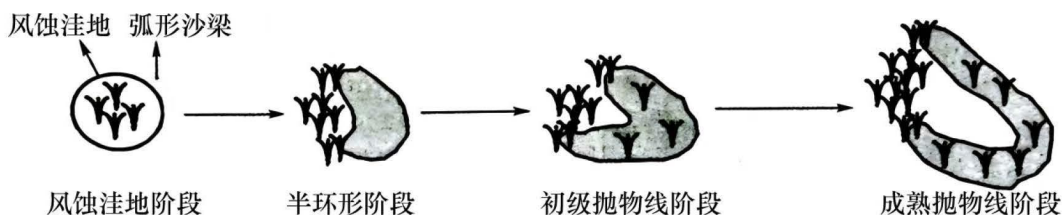


- 图 1 中抚远、虎林、温岭、台东四个县级行政区对应的序号分别是  
A. ④③②①      B. ①③②④      C. ①②③④      D. ②①④③
- 与温岭相比，抚远每天都先看到第一缕阳光的时段是  
A. 秋分到春分      B. 春分到秋分      C. 夏至到冬至      D. 冬至到夏至

土壤相对湿度在表征土壤温度的同时，也是表征农业旱情的一项重要指标。利用土壤相对湿度 (R) 可确定干旱等级： $R \leq 40\%$  为重度干旱； $40\% < R \leq 50\%$  为中度干旱； $50\% < R \leq 60\%$  为轻度干旱。



和沉积，是影响其形成与发展的主要因素之一。下图示意新疆艾比湖流域某研究区抛物线沙丘的形成过程，通过野外观测和对研究区抛物线沙丘形态特征和沙丘上植被特征的分析，初步可以断定研究区抛物线沙丘起源于风蚀洼地，据此完成7~9题。



7. 风蚀洼地阶段风蚀洼地与弧形沙梁的相互关系是

- A. 风蚀洼地为弧形沙梁提供了全部沙源      B. 弧形沙梁减弱了吹蚀风蚀洼地的风力  
C. 风蚀洼地对弧形沙梁的沙粒进行分选      D. 风蚀洼地和弧形沙梁沿相同方向生长

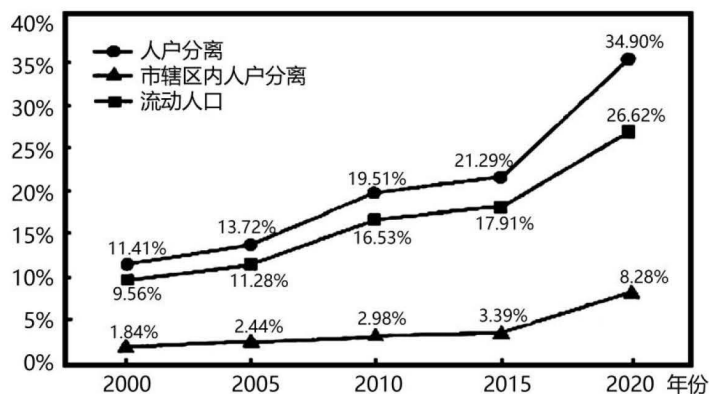
8. 抛物线沙丘从半环形阶段到初级抛物线阶段的形态变化主要是由于植被

- A. 减弱了风沙的沉积作用      B. 增加了风力的侵蚀作用  
C. 转变了风沙运动的方向      D. 改变了风沙流空间分布

9. 野外要判断抛物线沙丘发育的阶段，可以通过

- ①沙粒物质组成      ②沙丘长宽之比      ③沙脊形态特征      ④沙丘植被类型
- A. ①③      B. ①④      C. ②③      D. ②④

人口流动是促进社会的变迁与革新的重要力量。第七次全国人口普查数据中有关人口流动的数据揭示了我国人口流动的一些特点。下图是2000年至2020年间，我国人户分离、市辖区内人户分离及流动人口占总人口的比重统计图。据此完成10~11题。





10. 统计显示，市辖区内人户分离人口规模快速增长，与下列因素无关的是

- A. 城市建成区不断扩展
- B. 城区居住条件的改善
- C. 区域经济发展不均衡
- D. 乡村振兴政策的落实

11. 分析统计图，下列说法正确的是

- A. 我国人口流动的就近迁移增多
- B. 应采取措施严格控制人户分离
- C. 人户分离不利于大城市的发展
- D. 近年人口流动的原因发生巨变

12. 1954年，在一届全国人大一次会议开幕式上，毛泽东提出了建设“一个工业化的具有高度现代文化程度的伟大的国家”的宏伟设想。1979年，邓小平创造性地提出“中国式的现代化”，并用“小康”来表述中国式的现代化。习近平总书记在党的二十大报告中提出“以中国式现代化全面推进中华民族伟大复兴”。下列对中国式现代化认识正确的是

- ①坚持人民至上是中国式现代化取得巨大成就的根本所在
- ②中国式现代化是实现中华民族伟大复兴的行动指南和必由之路
- ③坚持党对中国式现代化的领导，从根本上关乎中国式现代化的前途命运
- ④中国式现代化超越了社会主义初级阶段，目标是实现全体人民共同富裕

- A. ①③
- B. ①④
- C. ②③
- D. ②④

13. 党的二十大报告提出“健全全面从严治党体系”，这是加强新时代党的建设的重大举措。健全全面从严治党体系，需要坚持制度治党、依规治党，更加突出体制机制的健全完善和法规制度的科学有效。坚持制度治党、依规治党，需要

- ①坚持不懈用习近平新时代中国特色社会主义思想凝心铸魂，用党的创新理论武装全党
- ②加强对遵守党章，执行党章情况的督促检查，增强党内法规权威性和执行力
- ③以党章为根本，以民主集中制为核心，完善党内法规制度体系
- ④深入推进新时代党的建设新的伟大工程，以社会革命引领党的自我革命

- A. ①③
- B. ②③
- C. ①④
- D. ②④

14. 北斗卫星导航系统由我国政府投资自主建设、独立运行。为推动北斗规模应用市场化、产业化、国际化，相关国有企业携手民营企业提高北斗产业链、供应链现代化水平，优化产业生态，推动北斗应用深度融入国民经济发展全局。这表明我国国有经济

- ①在国民经济各个领域占支配地位，控制着国民经济命脉
- ②与民营经济相辅相成，共同推动着我国的社会主义现代化建设

③推动着创新引领、协同发展产业体系建设，促进经济发展方式转变

④提高了产业链、供应链水平，使我国经济免受经济全球化的冲击

A. ①③ ..... B. ①④ ..... C. ②③ ..... D. ②④

15. 一些重大疾病治疗需要的特药、技术手段往往费用不菲，给患者带来较大负担。对此，各地的惠民保产品着力扩展特药责任。青岛银保监局推动“琴岛e保”将医保范围外正面清单药品由683种提高至2000种；上海沪惠保将新增嵌合抗原受体T细胞免疫疗法（CAR-T）等新型精准靶向疗法以及多种特效药纳入保障范围。这主要说明

①通过助力高端医疗技术、药品惠及更多患者，增强人民的获得感和幸福感

②通过增强多层次医疗保障体系的总体保障水平，为消费者提供更全面的保障

③通过风险分摊与责任共担，发挥社会保险的互助功能，保障人们基本生存权

④通过保障社会成员生活安全和生存权利的“最后一道防线”，彰显公平正义

A. ①② ..... B. ②③ ..... C. ②④ ..... D. ③④

16. 2022年10月以来，某省以“互动交流+专题讨论”形式，开展“向榜样学习·建岗位新功”主题党日活动，结合学习党员先进典型事迹，围绕“荣誉成绩怎么看、先进模范怎么学、促进工作怎么干”，谈体会、明方向，号召党员干部以学习宣传先进模范为契机扎实工作，争创一流。学习党员先进典型事迹有利于

①在情感共鸣中锻造共产党员的自身人格力量 ②在加强党内政治文化建设中扩大党的群众基础

③在全党形成见贤思齐、争做先锋的良好氛围 ④共产党员在检视自身中不断强化执政意识

A. ①③ ..... B. ①④ ..... C. ②③ ..... D. ②④

17. 近年来，我国人民法院大力开展多元化纠纷解决机制改革，截至2022年10月，全国四级法院及7.8万个调解组织、6.9万家基层治理单位、32.8万名调解员在调解平台开展调解工作，为当事人提供菜单式、集约式、一站式解纷服务。这体现了人民法院

①定分止争，努力提高司法效率 ..... ②阳光司法，健全法治监督体系

③公正司法，确保审判权独立行使 ..... ④司法为民，便于公民合法理性维权

A. ①③ ..... B. ①④ ..... C. ②③ ..... D. ②④

18. 报春苣苔是国家珍稀濒危植物。华南植物园科研人员利用生物克隆技术，舍弃传统的种子培育方式而选用叶片培育，成功繁育出报春苣苔，并将上万株迁回了野外石壁。报春苣苔能实现野外回归，是因为

- ①实践手段的发展提高了人们改造自然的能力 ②人们理性认识的深化推动了事物的质的变化  
③人们发挥主观能动性创新了自在事物的联系④人们根据事物的必然联系建立了人为事物的联系  
A. ①③ ..... B. ①④ ..... C. ②③ ..... D. ②④

19. 党的十八大以来，以习近平同志为核心的党中央把粮食安全作为治国理政的头等大事。对此，我国加强相关领域的立法工作。十三届全国人大常委会第三十六次会议于9月2日表决通过了新修订的农产品质量安全法，从生产到加工、消费环节，实现农产品从田间地头到百姓餐桌的全过程监管。我国通过新修订的农产品质量安全法，是基于

- ①我们党坚持群众观点这个根本的领导方法和工作方法  
②先进的社会意识能够对经济社会的发展起到推动作用  
③调整生产关系从而适应生产力的发展促进社会进步  
④变革上层建筑以适应并促进经济基础的巩固和完善  
A. ①③ ..... B. ①④ ..... C. ②③ ..... D. ②④

20. 某校举办模拟联合国活动，小张、小王、小李和小刘各扮演一国的外交官，讨论欧洲冬季能源紧张问题。下面是他们的发言：

小张：“你们的方案我方难以接受，这会对我国总统的民众支持率产生很大影响。”

小王：“如果我们接受此方案，也将无法在议会中获得通过。”

小李：“此方案涉及我国地方具体事务，我国中央政府无法干涉。”

小刘：“我方支持这一方案，可以以总统行政命令的形式发布执行。”

听完他们的发言，可以得出以下推论

- ①小张可能扮演的是英国外交官 ..... ②小王可能扮演的是德国外交官  
③小李可能扮演的是法国外交官 ..... ④小刘可能扮演的是美国外交官  
A. ①② ..... B. ①④ ..... C. ②③ ..... D. ②④

21. 2022年9月16日，国家主席习近平在撒马尔罕国际会议中心出席上海合作组织成员国元首理事会第二十二次会议并发表重要讲话，强调秉持“上海精神”，加强团结合作，推动构建更加紧密的上海合作组织命运共同体。上海合作组织

- ①在地区经济与社会发展中发挥主导作用 ..... ②以实际行动践行人类命运共同体理念  
③是当今一体化程度最高的区域性组织 ..... ④是维护地区及全球安全稳定的重要因素  
A. ①③ ..... B. ①④ ..... C. ②③ ..... D. ②④



22. 四川德仁堂公司于2001年3月1日注册成立，是“德仁堂”注册商标的专用权人，该商标核定使用在药品零售或批发服务等方面。2006年，“德仁堂”被商务部认定为“中华老字号”。2016年，东莞德仁堂公司成立，该公司使用与四川德仁堂公司商标相近似的标识，在拼多多上经营“德仁堂医药专营店”。为此，四川德仁堂公司将东莞德仁堂公司诉至法院。本案中

- ①被告的行为侵害了原告涉案的商标权 ..... ②被告侵犯了消费者的自主选择权和安全消费权  
③该注册商标作为老字号，可以长久地获得法律保护  
④被告是典型的“搭便车”行为，构成不正当竞争

A. ①② ..... B. ①④ ..... C. ②③ ..... D. ③④

23. 服务北京冬奥会的智能动车组借鉴了高寒车领域的经验，在密封、冷凝水处置、防异物打击等技术的支持下，可安全稳定应对各种气候的挑战。它的车头设计仿生于鹰隼和旗鱼，流线型的车头型面过渡光滑，减少了空气阻力且更节约能源。这些设计


- ①运用迁移的方法，汲取原有的经验解决新的问题  
②运用分析的方法，从整体出发把握部分间的联系  
③运用类比推理方法，模仿生物的特殊构造及其功能  
④运用归纳推理方法，从个别性前提推出一一般性结论

A. ①② ..... B. ①③ ..... C. ②④ ..... D. ③④

24. 西周时，“礼”是贵族阶级内部的行为规范，“礼不下庶人”是当时礼治的基本原则和特征。春秋时期，孔子开创的儒学中则强调“礼”是人们普遍的行为准则，并开启了“礼下庶人”的历史进程。这一变化主要源于

- A. 学在官府的局面被打破 ..... B. 官僚政治取代贵族政治  
C. 社会生产力的逐步发展 ..... D. 以民为本治国理念萌发

25. 汉武帝派遣张骞两次出使西域，开辟了中西交通道路，大大促进了西域与中原的联系。之后，诸多朝代在这一区域设置机构或派驻官员，加强管辖。图中①②③处填写正确的是



- A. ①护乌桓校尉②单于都护府③伊犁将军 ..... B. ①安西都护府②北庭都元帅府③伊犁将军  
C. ①护乌桓校尉②北庭都元帅府③西宁办事大臣  
D. ①安西都护府②单于都护府③西宁办事大臣

26. 下图是陕西省韩城市新城区宋墓壁画中的杂剧表演场面。由此判断当时



陕西省韩城市北宋晚期古墓壁画中的杂剧表演场面

- A. 戏曲艺术已经完全成熟 ..... B. 戏曲主要取材于宫廷生活  
C. 戏曲深受社会各界欢迎 ..... D. 戏曲出现明确的角色分工
27. 随着江南地区市镇中“丝行”“布庄”的发展，明代后期杭嘉湖地区出现了改良田种桑的现象，双林镇“俗皆织绢。四方之商贾咸集以贸易”，其特色产品包头绢“通用于天下”。这说明当时江南一些地方
- A. 传统经济结构发生了变动 ..... B. 长途贸易推动了商业资本集聚  
C. 丝织业处于全国领先地位 ..... D. 工商皆本的社会意识逐渐形成
28. 鸦片战争后，英国以外交文书可由专差递送的国际惯例，在通商口岸设立“邮政代办所”开展邮政服务。清政府对此不仅不加干预，后来还允许各国外交文书“由沿海无论何处皆可送交”。由此，各国在中国境内开办的“客邮”日益泛滥开来。上述史事说明晚清政府
- A. 顺应国际外交规则 B. 施行以夷制夷策略 C. 被动推行近代邮政 D. 国家主权意识淡薄
29. 《中国的1936年：两种命运的决战》一书中叙述：说起1936年的中国，也发生了很多重大的事情、在中国革命和中华民族处于生死攸关的历史时刻，中国的大西北就先后发生了两件几乎堪称“扭转时局”的政治事件。这两个政治事件的共同点是
- A. 开辟中国革命新道路 ..... B. 结束了国共十年对峙局面  
C. 积累了民族救亡力量 ..... D. 推翻了北洋军阀反动统治
30. 1961年4月，陈云致信周恩来，汇报了在杭州、南京召集有关方面负责人研究化肥设备制造和生产问题的情况，计划每年竣工五个年产五万吨合成氨的化肥厂，同时开建五个厂，每年形成二十五万吨合成氨，相当于一百万吨化肥的生产能力。这样的建设规模除美国有过几年外，其他国家没有先例。据此推知，这一计划的实施
- A. 落实了大跃进运动的精神 ..... B. 改善了国民经济的布局  
C. 促进了国民经济协调发展 ..... D. 推动了中美关系的缓和
31. 邓小平在南方谈话时讲了一个故事“农村改革初期，安徽出了个‘傻子瓜子’问题，当时许多人不舒服，说他赚了一百万，主张动他。我说不能动他，一动人们就会说政策变了，得不偿失。”



由此可知当时

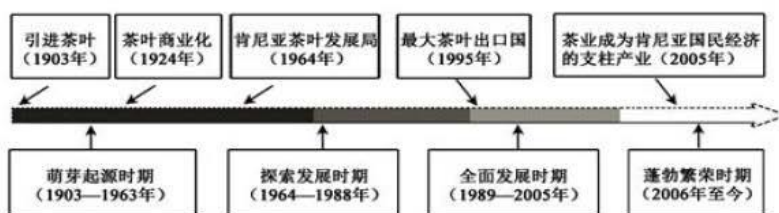
- A. 公有制经济仍占据主导地位 ..... B. 私营经济尚未得到普遍认可  
C. 农村经济体制改革取得突破 ..... D. 所有制结构呈现多元化趋势

32. 从 11 世纪开始, 意大利很多地方兴起了繁荣的工商业城市, 城市普遍开始设置由选举产生的市政长官——执政官, 它不仅是一个官职, 而且还是完全意义上的自我统治的象征。据材料可知

- A. 工商业发展推动意大利的城市自治 ..... B. 行会在意大利城市治理中地位突出  
C. 封建庄园制阻碍了城市经济的发展 ..... D. 近代民主政体在意大利已普遍建立

33. 东非肯尼亚从百年前开始种植茶叶, 1963 年独立后逐渐发展成为全球茶叶生产和出口大国。

肯尼亚茶叶种植与生产的历程可划分为以下 4 个阶段:



这表明

- A. 茶叶的引进带有殖民化的色彩 ..... B. 民族独立后其茶叶生产发展受阻  
C. 多极化促进茶叶生产质的飞跃 ..... D. 茶叶生产大大提升了其国际地位

34. 下图是一幅反映国际联盟的漫画作品, 题为《THE GAP IN THE BRIDGE》。其意在说明



- A. 美国竭力操纵欧洲事务 ..... B. 凡尔赛体系难长久维持  
C. 国际联盟内部矛盾重重 ..... D. 国联运转机制的脆弱性

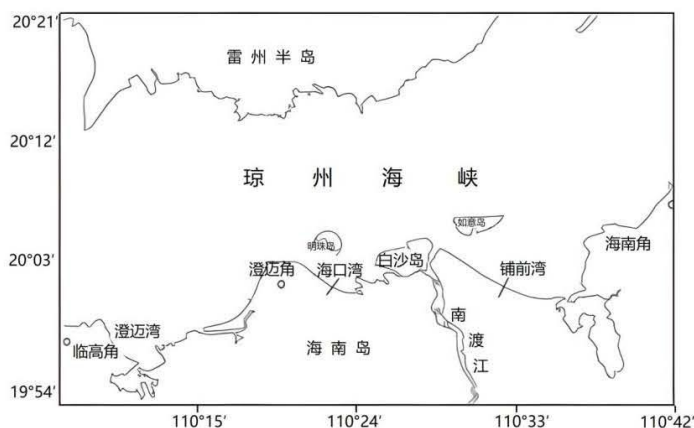
35. 1970 年, 苏联集体农庄生产一吨羊肉的成本为 1166 卢布, 1980 年上升到 2117 卢布, 10 年间成本上升近一倍, 羊肉销售价格却没有提高, 其他农产品的生产和销售也存在类似情况。产生上述现象的主要原因是全科试题免费下载公众号《高中僧课堂》

- A. 个人崇拜之风盛行 ..... B. 政治体制的极端僵化  
C. 分配制度的不合理 ..... D. 美苏“冷战”的影响

二. 非选择题: 共 160 分

36. 阅读图文材料，完成下列要求。(28分)

琼州海峡地处海南岛与雷州半岛之间，海峡南岸东起海南角临南海北部，西至临高角接北部湾。琼州海峡南侧沿岸分布向峡内伸突的岬角，将沿岸分割成3个大型弧形海湾：铺前湾、海口湾和澄迈湾。琼州海峡南岸波浪主要受风控制，夏季以东南风为主，冬季以东北风为主。海域内人工岛（明珠岛、如意岛）的建设对临近海湾区域地形造成重大影响。琼州海峡南岸海滩地貌存在季节性沙坝。下图示意琼州海峡南岸海滩位置，下表示意琼州海峡南岸各海湾平均潮差统计数据。



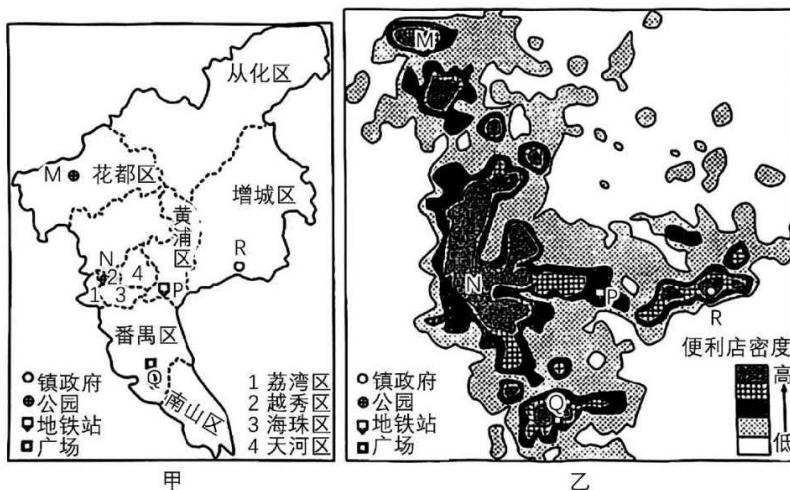
海湾	潮差/m				
	春	夏	秋	冬	全年
铺前湾	0.48	1.01	0.99	0.82	0.83
海口湾	1.12	1.26	1.22	1.16	1.19
澄迈湾	1.51	1.54	1.43	1.43	1.47

- (1) 简述影响琼州海峡南岸海滩地貌变化的主要因素。(6分)
- (2) 说出图示三大海湾中淤积最严重的海湾，并说明理由。(8分)
- (3) 指出琼州海峡南岸水下季节性沙坝的变化，并分析原因。(6分)
- (4) 说明澄迈湾内潮差最大的原因。(8分)

37. 阅读图文材料，完成下列要求。(28分)

便利店主要职能是为顾客提供便捷的日常生活用品和便利服务，以满足快节奏、高效率的城市生活需要，分为品牌连锁便利店、夫妻店、传统便利店，通常位于居民住宅区、学校以及客流量大的繁华地区。其中品牌连锁便利店店面卫生干净整洁，购物环境优美，商品种类丰富，提供 24

小时服务……广州的行政中心区是越秀区、教育中心区是海珠区、文化中心区是荔湾区、商业中心区是天河区，广州的品牌连锁便利店在所有便利店中的占比为 16.7%，其覆盖范围与非连锁便利店差别较小。下图中甲图为广州市行政区划图，乙图示意广州便利店分布密度。



- (1) 描述广州市便利店的分布特征。(6分)
- (2) 说明影响广州市便利店分布的主要因素。(10分)
- (3) 推测广州市办公区和住宅区便利店客流量的时间差异。(6分)
- (4) 根据中心地理论简析便利店选址的有效原则。(6分)

38. 阅读材料，回答下列问题。(10分)

近年来，电信网络诈骗犯罪已成为当前发案最高、损失最大、群众反映最强烈的突出犯罪，严重危害人民群众获得感、幸福感、安全感。以习近平同志为核心的党中央高度重视打击治理电信网络诈骗犯罪工作。

2021年10月19日，反电信网络诈骗法草案提请十三届全国人大常委会初次审议。2022年9月2日，十三届全国人大常委会第三十六次会议表决通过了《中华人民共和国反电信网络诈骗法》，自2022年12月1日起施行。期间，全国人大常委会在中国人大网上公开征求意见，有12390位公众提出了28406条意见。

作为一部新型领域立法，该法立法进程快，急用先行，与相关立法相互配套、共同推进，将进一步丰富全国人大常委会的立法形式；立足综合治理、源头治理和依法治理，侧重前端防范；坚持问题导向、结果导向，充分体现了党中央要求、人民意愿和实践需要。

结合材料，运用《政治与法治》的相关知识，分析反电信网络诈骗法的出台过程是如何体现依法治国基本方略的。



39. 阅读材料，完成下列要求。(24分)

未来之城，未来已来。2022年是河北雄安新区成立五周年。

材料一。习近平总书记多次到雄安新区实地考察，为千年大计掌舵领航，指明方向。习近平总书记强调，规划建设雄安新区要坚持世界眼光、国际标准、中国特色、高点定位。五年来，雄安新区规划建设坚持前瞻性、引领性，从城市治理到基础设施建设，从发展高端高新产业到打造水城共融的城市生态，绿色智慧的雄安新区正从规划蓝图变为现实样板。

材料二。构建改革开放新的体制机制，是河北雄安新区的生命基因。根据雄安新区实际情况和特点，中共中央国务院提出一系列改革开放新举措，启动合格境外有限合伙人业务试点，完成首笔碳排放权跨境交易，推进“证照分离”改革全覆盖试点……锚定“开放发展先行区”的发展定位，努力打造层次更高、领域更广、辐射更强的开放型经济新高地。

材料三。为贯彻习近平总书记关于雄安新区建设要保护弘扬中华优秀传统文化、延续历史文脉的重要指示精神，河北省文物部门全面推进文物保护与考古工作。南阳遗址、白洋淀、燕南长城等一系列重要考古发现，构建了雄安新区千年历史文化时空框架，讲述了历史文化遗存背后的“雄安故事”，增强了雄安新区人民的文化自信，最大限度的发挥了文物考古的社会效益、公众教育、服务地方经济社会发展的功能。

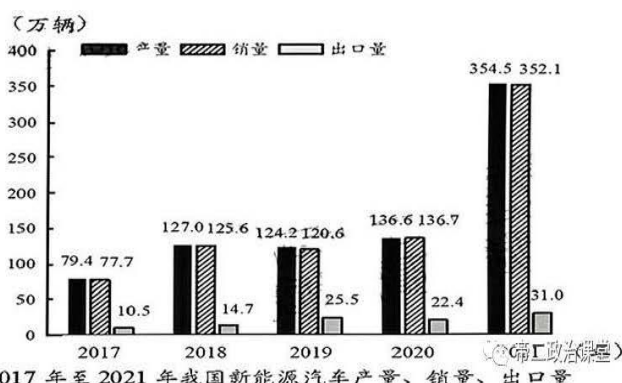
(1) 结合材料一，运用正确发挥主观能动性的知识，阐明雄安新区是怎样实现从规划蓝图到现实样板的转化的。(8分)

(2) 结合材料二，运用创新思维要多路探索的知识，说明雄安新区打造开放型经济新高地所蕴含的道理。(10分)

(3) 结合材料三，运用文化知识，以“赓续文脉，未来可期”为题，撰写一篇短评。(6分) 要求：主题鲜明，表述清晰，逻辑严谨，字数150-200字。

40. 阅读材料，回答下列问题。(10分)

材料一



材料二 在全球新能源汽车起步阶段，我国就推出了以传统汽车燃油税收入补贴新能源汽车的制度，推动了新能源汽车大规模市场化应用，电池、电机、电控等新能源汽车核心技术得到快速发展。截至2022年4月，全国充电基础设施累计332.4万台，同比增长81.9%。

党的十八大以来，我国自立品牌的多家车企在包括欧美等发达国家和地区设立研发中心，转变了以往在合资合作中只提供资金、员工和场地的被动角色，并充分利用多双边合作机制与平台，巩固并扩大在新能源汽车领域的国际标准和法规协调工作成果。我国新能源汽车还为二十国集团领导人第十七次峰会提供了绿色出行保障。

根据图表，概括我国新能源汽车产业发展的状况。(4分)运用《当代国际政治与经济》知识，说明我国是如何推动新能源汽车产业发展的。(6分)

41. 阅读材料，回答下列问题。(8分)

简要案情	某小区修建于上世纪九十年代末，楼高6层，步梯通行，住户老年人居多。随着国家老旧小区改造工程的推进，该小区高层住户决定联合全体业主协商加装电梯。2022年5月，电梯加装意见经有关部门批准后，施工队进驻小区施工，可工程刚施工没多久便遭到一楼住户的强烈阻拦。 一楼住户称加装电梯未经过其同意，且加装电梯后对其采光有较大影响。数次沟通无果后，高层住户将一楼住户诉至法院，要求一楼业主停止侵权，配合加装电梯履行合同。
判决结果	法院依据《中华人民共和国民法典》第二百七十八条规定，判决支持原告的诉讼请求。
法律条文	《中华人民共和国民法典》第二百七十八条规定，改建、重建建筑物及其附属设施应当由专有部分面积占比三分之二以上的业主且人数占比三分之二以上的业主参与表决。并经参与表决专有部分面积四分之三以上的业主且参与表决人数四分之三以上的业主同意。

结合材料，运用法律与生活的相关知识，谈谈法院支持原告诉讼请求的理由。

42. 阅读材料，完成下列要求。(25分)

材料一 清朝时，北京有很多皇家园林，由内务府的特别机构奉宸苑管理和维持。紫禁城内有皇家花园；皇城内有北海、中海和南海三大湖泊，亭台楼阁点缀其间；城郊有颐和园。此外，北京城还有众多皇室庙宇，如社稷坛、太庙、天坛、地坛、先农坛等。高官显贵往往拥有华丽的花园，老百姓只能偶尔逛逛民间庙会和城郊的西山，街道成为他们最主要的娱乐场所。1914年，民国政

府建立京都市政公所，让其担负改造旧的城市面貌从而改善人民生活的责任。同年，社稷坛被市政公所改造为中央公园，向公众开放，成为北京第一个近代公园。其建设经费主要依靠北洋政府财政支出、城市居民捐赠以及门票收入。后来，北海、天坛、颐和园等纷纷向公众开放，近代公园逐渐发展成为集娱乐、商业、文化和政治活动于一体的多功能场所。

——据（美）史明正《从御花园到公园 20 世纪初北京城市空间的变迁》

- (1) 根据材料一并结合所学知识，指出 20 世纪初北京城近代公园与传统皇家园林、庙宇的差异。（6 分）

材料二 清末民初，归国学人引入西方“都市森林化”城市规划理论。1931 年，国民政府实业部第一次下令要求各省市筹建森林公园，以开发城市风景、增益民众健康，南京、北平等先后响应。1934 年，经实业部再次敦促后，汉口、开封等着手试行；两年后，实业部又提醒其余省市筹设切勿懈怠。然而不久后该令几近中止，森林公园建设不了了之。许多“在建”的森林公园并未完成；建成的森林公园，因城市交通和经济条件所限，主要吸引热衷西式生活风尚的都市青年或中上层社会群体，普通市民对森林公园的接受程度并不高。

——据左承颖《“森林”进入城市：民国时期森林公园筹设研究》

- (2) 根据材料二并结合所学知识，概括影响南京国民政府统治时期森林公园建设的主要因素，并分别予以说明。（15 分）

材料三 ..... 改革开放以来我国城市绿色高质量发展目标

年份	1980	1989	1991	1992	2001	2007	2013	2017	2018
目标	绿色城市	卫生城市	山水城市	园林城市	宜居城市	生态园林城市	海绵城市	森林城市	公园城市

——据韩若楠等《改革开放以来城市绿色高质量发展之路》

- (3) 根据材料三并结合所学知识，指出改革开放以来中国城市绿色高质量发展所蕴含的先进理念。（4 分）

43. 阅读材料，完成下列要求。（12 分）



参考文献

一、档案

1. 上海市档案馆藏档, 上海市社会局档案, 全宗号 Q5
2. 北京市档案馆藏档, 北平市社会局档案, 全宗号 J002

二、近代报刊

1. 申报
2. 新青年

三、专著

1. 唐宝林等:《陈独秀年谱》, 上海人民出版社 1988 年版
2. 熊月之:《西学东渐与晚清社会》, 上海人民出版社 1994 年版
3. 李剑农:《中国百年政治史》, 复旦大学出版社 2002 年版
4. 《毛泽东选集》第 1-4 卷, 人民出版社 1995 年版
5. 《邓小平文选》第 1-3 卷, 人民出版社 1994 年版

四、期刊文献

1. 萧功秦:《中国百年现代化的六次政治选择——从清末新政到当代改革开放》,《历史教学》, 2007 年第 7 期
2. 李长莉:《晚清社会风习与近代观念的演生》,《社会学研究》, 1993 年第 6 期

(注:参考文献是指为撰写或编辑论文与著作而引用的有关文献信息资源。)

上图可作为某一研究主题的论文的参考文献。根据材料信息并结合所学知识,推断该论文可能的研究主题,并阐述理由。(要求:使用不少于三种类型的参考文献,主题明确,史实准确,论证充分,表述清晰)

44. 1949~1979 年间的中美关系史,也是当时世界格局的演变史。阅读材料,完成下列要求。(15 分)

材料

#### 中美关系大事记

1950 年 9 月,在美国操纵下,第五届联大否决了恢复中华人民共和国在联合国合法权利的议案。

1950 年 10 月 8 日,中共中央作出“抗美援朝,保家卫国”的战略决策。

1961 年,肯尼迪政府对中国采取了微小的缓和措施,如表示愿以优惠条件向中国出售粮食等。

1965 年年初,美国在华沙中美大使级会谈中声明:扩大轰炸仅限于北约,美国绝无意同中国作战。周恩来代表中国政府申明:中国不会主动挑起对美国的战争。

1971 年 4 月,美国乒乓球代表团访华,打开了隔绝已久的中美交往的大门。

第 15 页,共 16 页

1972年2月，美国总统尼克松访问中国，中美发表联合公报，宣告两国关系实现正常化。

1978年12月16日，中美发表《中美建交公报》，宣布两国自1979年1月1日起互相承认并建立外交关系，美国承认中华人民共和国是中国的唯一合法政府。

1979年3月，美国国会违反《中美建交公报》，通过干涉中国内政的《与台湾关系法》。

1979年7月，中美两国政府在北京签署为期3年的中美贸易关系协定。

——摘编自陶文钊何兴强《中美关系史》

(1) 根据材料并结合所学知识，从美国的角度分析20世纪50年代中美关系恶化的主要原因。(6分)

(2) 根据材料并结合所学知识，如何理解“1949~1979年间的中美关系史，也是当时世界格局的演变史”。(9分)

## 关于我们

自主选拔在线是致力于提供新高考生涯规划、强基计划、综合评价、三位一体、学科竞赛等政策资讯的升学服务平台。总部坐落于北京，旗下拥有网站(网址：[www.zizzs.com](http://www.zizzs.com))和微信公众平台等媒体矩阵，用户群体涵盖全国90%以上的重点中学师生及家长，在全国新高考、自主选拔领域首屈一指。

如需第一时间获取相关资讯及备考指南，请关注**自主选拔在线**官方微信号：**zizzsw**。

