

最新 ★ 命题趋势应用考模前

2021 年 5 月高考针对性训练

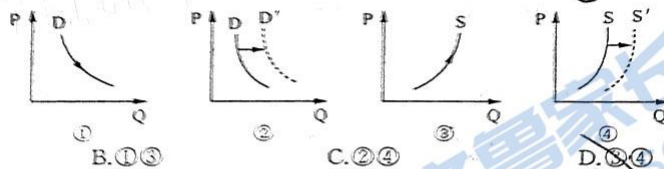
思想政治试题

注意事项:

1. 答题时,考生须将准考证姓名、考生号、座号填写在相应位置,认真核对条形码上的姓名、考生号及座号,并将条形码准确贴在指定位置上。
2. 除填涂答题卡外,必须用 0.5 毫米黑色签字笔作答,非选择题答案必须用 0.5 毫米黑色签字笔书写,字体工整,笔迹清晰。
3. 除答题卡外,试卷其他区域均不得作答,超出答题区域书写的答案无效;在草稿纸、试题卷上答题无效。答卷不得涂改、不折叠、不破损。

一、选择题,本题共 15 小题,每小题 3 分,共 45 分。每小题给出的四个选项中,只有一项是最符合题目要求的。

1. 2021 年 4 月 6 日,农业农村部办公厅、财政部办公厅印发《2021—2023 年农机购置补贴实施指导意见》指出:提升粮食生产薄弱环节所需机具补贴额,测算比例从 30% 提高到 35%。不考虑其它因素,上述举措对农机具市场走势的影响,正确的图示是



- A. ①② B. ①③ C. ②④ D. ③④

2. “进店请扫桌子左下方二维码进行自助点餐”“请关注公众号,选择桌号,点击买单即可付款”。目前,不少餐厅推出扫码点餐服务,给部分消费者带来了便利,但也会给对智能手机不熟悉的顾客特别是老年消费者带来障碍。扫码点餐不应成为“单选题”,其理由是

- ① 市场交易应遵循自愿与平等原则,维护消费者公平交易权
- ② “互联网+餐饮”符合潮流,能够有效地节省人力成本
- ③ 扫码点餐不具有普遍性,企业应该满足不同消费者的需求
- ④ 企业以利润为导向,使用新技术能够不断提高运营效率

- A. ①③ B. ①④ C. ②③ D. ②④

3. 某综合性企业服务平台, 将我国各个行业内的优秀企业汇集在一起, 发挥优秀的行业引领作用, 凝聚行业发展共识, 集结行业优秀人物, 促进行业内部优秀成果的交流, 从而有效推动行业高质量发展。下列选项对该平台的成功分析推导正确的是
- ①借助线上媒体宣传优势→展示优质企业→获得消费者认同→扩大企业知名度
 - ②凝聚行业发展共识→改善营商环境→保护消费者的合法权益→提高开放水平
 - ③搭建行业交流平台→协调企业之间关系→形成良性竞争→推动行业健康发展
 - ④集结行业优秀人物→培育企业优秀人才→提高科技创新能力→保证经济效益提高
- A. ①② B. ①③ C. ②④ D. ③④
4. “十四五”规划纲要提出“全体人民共同富裕迈出坚实步伐”。为扎实推进共同富裕, 我国改革完善收入分配政策, 分好经济“蛋糕”。下列做法能够达到预期效果的是
- ①创新和使用多种筹资方式, 支持做大经济“蛋糕”
 - ②支持并强化就业优先政策, 促进就业机会均等
 - ③政府履行好再分配调节职能, 推进基本公共服务均等化
 - ④完善要素参与分配机制, 提高社保在初次分配中的比重
- A. ①② B. ①④ C. ②③ D. ③④
5. 面对波谲云诡的国际形势、复杂敏感的周边环境、艰巨繁重的改革发展稳定任务, 我们必须高度警惕“黑天鹅”和“灰犀牛”事件。“黑天鹅”一般是指那些出乎意料发生的小概率高风险事件, 一旦发生影响足以颠覆以往任何经验, 具有不可预测性。“灰犀牛”比喻大概率且影响巨大的潜在危机, 这个危机有发生变化或改变的可能, 是可预测的。下列举措有利于科学防范“黑天鹅”和“灰犀牛”事件的是
- ①建立风险控制机制, 加大政府对企业经营的干预力度
 - ②规避市场的自发性和盲目性, 通过宏观调控配置资源
 - ③完善监督管理体制机制, 促进市场主体依法规范发展
 - ④降低企业和家庭负债率, 防范债务违约导致金融风险
- A. ①④ B. ①③ C. ②③ D. ③④
6. 2021年, 我国各地进入了新一届农村两委换届选举年。2021年1月4日《中共中央、国务院关于全面推进乡村振兴加快农业农村现代化的意见》指出: 在有条件的地方积极推行村党组织书记通过法定程序担任村民委员会主任, 与换届同步选优配强村务监督委员会成员, 坚决惩治侵害农民利益的腐败行为。这一规定有利于
- ①深化农村基层管理体制, 提升村委会行政管理
 - ②更好发挥农村基层党组织在乡村振兴的战斗堡垒作用
 - ③更好发挥村务监督委员会对基层两委的监察职能
 - ④加强党的农村基层组织建设, 完善乡村治理体系
- A. ①③ B. ①④ C. ②③ D. ②④

7. 2020年12月23日,随着法槌清脆敲响,Z市副市长代表市政府出庭应诉了该市中级人民法院公开开庭审理的CW房地产开发公司起诉市人民政府行政复议一案。近年来,Z市涉诉行政案件行政机关负责人出庭应诉,渐呈常态。行政机关负责人出庭应诉有助于
- ① 行政复议机关公正、公开履行其行政复议的职责
 - ② 进一步提高司法机关对行政系统的外部监督效能
 - ③ 坚持民主集中制,促进行政机关执行法院的决定
 - ④ 维护司法权威,推动相关行政争议依法妥善解决
- A. ①② B. ①③ C. ②④ D. ③④
8. 2021年3月18日,来自新疆的多名干部群众与中外媒体面对面交流,用亲身经历讲述了新疆的事实:新疆维吾尔族人口在2010年至2018年间增长25.04%,高于全疆人口13.99%的增幅;新疆划清正常宗教活动与宗教极端活动的界限,充分保障了各族群众的宗教信仰自由和风俗习惯;当前,新疆经济社会发展和民生改善取得了前所未有的成就。这些事实充分证明我国
- ① 坚持各民族共同繁荣原则促进了各民族经济社会共同发展
 - ② 筑牢中华民族共同体意识有助于巩固社会主义新型民族关系
 - ③ 实行民族区域自治制度充分保障了民族自治地区享有高度自治权
 - ④ 必须把宗教信仰自由政策作为促进民族团结的前提和基础
- A. ①② B. ①③ C. ②④ D. ③④
9. 2021年3月,全国人大常委会审议通过香港基本法附件一、附件二修订案,对香港特区行政长官和立法会产生办法作出系统修改和完善,标志着对“爱国者治港”原则的法律化、制度化。香港特别行政区政府表示,特区政府会全面配合,通过本地立法切实执行完善措施,落实“爱国者治港”原则。这表明
- ① 单一制是我国的一项基本政治制度
 - ② 香港特区在中央政权的统一领导之下
 - ③ 中央对完善香港选举制度拥有主导权
 - ④ “一国两制”以完善选举制度为前提和基础
- A. ①③ B. ①④ C. ②③ D. ②④
10. 电影《你好,李焕英》在全球多个国家和地区上映,获得了口碑与票房的双丰收。影片用快乐、真诚的方式表现出了一个中国普通人的家庭亲情,做到了“献给天下所有的妈妈”。一部回忆过往的影片为什么能取得成功? 以下是某校高中生观影后作出的回答,你认为合理的是
- ① 孝亲敬长是美德,情到真处方动人
 - ② 优秀影片的价值观能得到世界各国的普遍认同
 - ③ 反转的创新构思,再次解构母爱,尤为催泪
 - ④ 影视是文化传播的主要手段,能促进文化传递、沟通和共享
- A. ①③ B. ①④ C. ②③ D. ②④



11. 2021年3月,四川广汉三星堆遗址重要考古发现与研究成果发布,新发现6座祭祀坑,出土重要文物500余件。眼部有彩绘的铜头像、华丽的金面具、精美的牙雕……此次三星堆遗址考古的新发现,充分体现了古蜀文明、长江文化对中华文明的重要贡献。此次考古新发现

- ①表明文物是中华文化的基本载体
- ②进一步实证了中华文明多元一体
- ③说明遗址是一个民族生存与发展的精神根基
- ④有利于深化对中华文明的认识,还原和客观评价历史

A. ①③ B. ①④ C. ②③ D. ②④

12. 没有好奇心,就没有科学的发展、社会的进步。好奇心,可说是对未知事物特别关注的强烈兴趣,对陌生领域刨根问底的极大热情,对熟悉领域潜心钻研的无限执着。好奇心是人的天性,对科学兴趣的引导和培养要从青少年抓起,这是因为

- ①意识具有主动创造性,能够能动地认识世界
- ②科学兴趣都能够通过人的实践变成客观现实
- ③好奇心有利于激发创新意识推动社会进步
- ④好奇心是推动科学技术进步的的决定性因素

A. ①② B. ①③ C. ②④ D. ③④


13. 2021年4月29日,中国空间站天和核心舱发射升空,准确进入预定轨道,任务取得成功。中国空间站是中国独立自主建造运营的载人空间站,由天和核心舱、问天实验舱、梦天实验舱三个舱段构成。天和核心舱是空间站的管理和控制中心,是发射入轨的第一个空间站舱段。根据任务安排,空间站计划于2022年完成在轨建造,具备长期开展近地空间有人参与科学实验、技术试验和综合开发利用太空资源能力,转入应用与发展阶段。这表明

- ①实践是认识发展的目的和动力
- ②发挥主观能动性就能改变规律
- ③事物的发展总是从质变开始的
- ④人的认识是有限性和无限性的统一

A. ①③ B. ①④ C. ②③ D. ②④

14. 下列与右侧漫画寓意相一致的是

- A. 知之者不如好之者,好之者不如乐之
- B. 泾溪石险人兢慎,终岁不闻倾覆人
- C. 安而不忘危,存而不忘亡,治而不忘乱
- D. 道虽迩,不行不至;事虽小,不为不成



15. 2021年4月29日,十三届全国人大常委会第二十八次会议表决通过《乡村振兴促进法》,在产业、人才、生态保护等领域,针对实行永久基本农田保护制度、建立健全农民收入稳定增长的机制、严格规范村庄撤并等重要问题进行了更加严格的规定,为推进全面乡村振兴提供了长久的法律保障。这表明

- ①只有超越社会存在的社会意识才是正确的社会意识
- ②上层建筑为经济基础服务就能推动生产力发展
- ③社会存在的变化发展决定社会意识的发展变化
- ④上层建筑要适合生产力和经济基础发展的要求

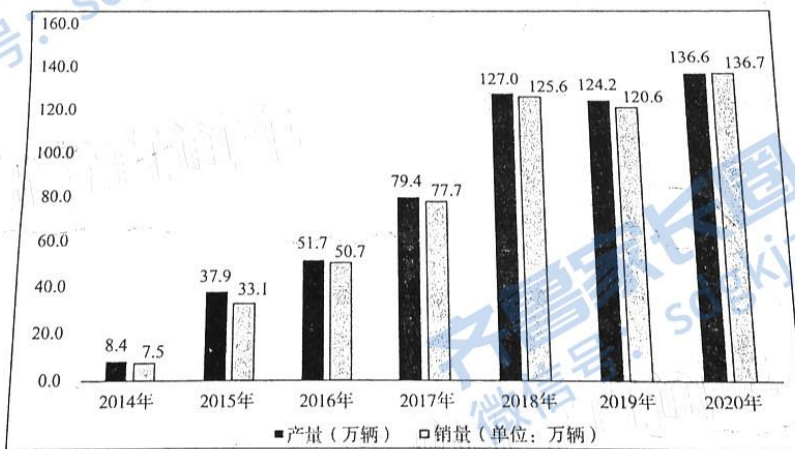
A. ①② B. ①③ C. ②④ D. ③④

二、非选择题:本题共5题,共55分。

16. (15分)发展新能源汽车产业,加强需求侧管理,构建新发展格局。

材料一 当前,我国消费率偏低,2019年最终消费占GDP的比重仅为55.4%,大幅低于发达国家平均80%的水平。2020年以来,受疫情冲击居民消费更加疲软。2020年的中央经济工作会议要求:“加快构建以国内大循环为主体、国内国际双循环相互促进的新发展格局,要紧紧扭住供给侧结构性改革这条主线,注重需求侧管理,打通堵点,补齐短板,贯通生产、分配、流通、消费各环节,形成需求牵引供给、供给创造需求的更高水平动态平衡,提升国民经济体系整体效能。”需求侧管理的本质是激活潜在需求、释放新需求,通过高质量需求牵引高质量供给,核心是坚持新发展理念,根本途径是提高居民消费能力。

材料二:2014—2020年中国新能源汽车产销量情况



资料来源:中国汽车工业协会 前瞻产业研究院整理

(注:自2015年起,我国新能源汽车连续五年产销量居世界首位)

材料三 新能源汽车涉及36个行业,关系到数千万个就业机会,已被许多汽车生产国当作振兴经济的突破口。自2012年国务院发布《节能与新能源汽车产业发展规划(2012—2020

思想政治试题 第5页 (共8页)

年)》以来,我国出台稳定和扩大新能源汽车消费若干措施,取消一些行政性限制消费购买规定,鼓励限购城市适当增加号牌指标投放,财政补贴政策期限延长至2022年底,开展新能源汽车下乡活动等。

结合上述材料,运用经济生活知识,回答下列问题:

(1)我国新能源汽车消费政策是如何促进需求牵引供给、供给创造需求的良性循环的。(8分)

(2)有人认为,今明两年财政补贴标准分别在去年基础上下降10%、20%,新能源汽车产销量将下滑;也有人认为,国家推动新能源汽车产业高质量发展的初衷未变,新能源汽车产销量将会继续上升。请预测今明两年的新能源汽车市场发展趋势,并说明理由。(7分)

17.(9分)

为深入贯彻党的十九届五中全会精神,科学编制山东省“十四五”规划,山东省政府网站面向社会各界公开征集“十四五”规划意见建议。

关于进一步征集山东省“十四五”规划意见建议的公告

一、征集内容

请围绕科技创新、人才兴鲁、制造强省、数字经济、乡村振兴、海洋强省、区域发展、深化改革、对外开放、思想文化、教育卫生、就业创业、收入分配、社会保障、应急安全、生态文明等方面,提出您的宝贵意见。

二、征集方式

1. 下载闪电新闻客户端,进入“建言‘十四五’共谋强省策”专栏或扫描下方二维码建言献策。

2. 门户网站:登录山东省人民政府(www.shandong.gov.cn)、山东省发展和改革委员会(fgw.shandong.gov.cn)门户网站,点击相应专栏提交意见建议。

3. 微信公众号:关注“山东发改”,在“规划建言”栏目中提交意见建议。

4. 电子邮箱:电子稿发送至 djgzxtc@126.com 或 ghc_sdfgw@shandong.cn,邮件主题和附件名为“姓名(或单位)+‘十四五’规划意见建议”。

5. 信件:邮寄至“山东省济南市省府前街1号山东省发展改革委发展规划处”,邮编:250011。

6. 工作日 8:30 至 17:00,拨打“96345”热线电话提出意见建议。

三、征集时间

2020年11月1日至11月30日。

对于大家提出的意见建议,我们将认真整理并研究吸纳,优秀建言在山东省发改委门户网站和《齐鲁周刊》选登。感谢您的大力支持!

思想政治试题 第6页 (共8页)

2021年2月6日,山东省第十三届人民代表大会第五次会议审议并通过了山东省人民政府提交的《山东省国民经济和社会发展第十四个五年规划和2035年远景目标纲要》。其中许多网民的意见建议被写入了规划纲要。

结合材料,运用政治生活知识,说明山东省就“十四五”规划和2035年远景目标纲要问计于民的必要性,并就征集内容任选一个角度提出你的意见建议。(9分)

18.(8分)

2020年1月28日,国家主席习近平在北京会见世界卫生组织总干事谭德塞。习近平指出,世界卫生组织在协调全球卫生事务方面发挥着重要作用,中方愿同世界卫生组织和国际社会一道,共同维护好地区和全球的公共卫生安全。中国政府始终本着公开、透明、负责任的态度及时向国内外发布疫情信息,积极回应各方关切,加强与国际社会合作。

2020年4月14日,东盟与中日韩(10+3)抗击新冠肺炎疫情领导人特别会议成功举行。会议进一步强化了地区国家合作意识,提振了合作信心,明确了合作方向。中国就10+3抗击疫情合作提出以下倡议:一是全力加强防控合作,提升公共卫生水平。二是努力恢复经济发展,推进区域经济一体化。三是着力密切政策协调,抵御各类风险挑战。

2021年3月,中国政府决定向联合国维和人员捐赠30万剂新冠疫苗,优先用于非洲任务区。中国是联合国秘书长“为维和而行动”倡议下维和人员安全议题的牵头国之一,落实将疫苗转化为全球公共产品的具体举措,体现了中国对联合国以及多边主义的切实支持。

结合材料并综合运用所学知识,概括中国发展同国际组织关系的特点。(8分)

19.(6分)

“努力让人民群众过上更加幸福美好的生活”是我们党“不忘初心、牢记使命”,全心全意为人民服务根本宗旨一脉相承、一以贯之的体现。

20世纪50年代,山东省莒南县厉家寨党支部带领当地人民在极其艰难的条件下,坚定不移地走合作化道路,战天斗地,整山治水,把5000余亩耕地建成了高产稳产田,开创了新中国土地综合整治之先河。1957年10月,毛泽东作出了“愚公移山,改造中国,厉家寨是一个好例”的批示。

1978年11月24日,安徽省凤阳县小岗村18户村民在一纸分田到户的“秘密契约”上按下了鲜红的手印,这是一份把集体土地承包到户的“大包干”契约。从1982年到1984年,中央连续3年以“一号文件”的形式,对包干到户的生产责任制给予充分肯定,最终形成农村家庭联产承包经营制度。

2013年11月3日,习近平来到湖南花垣县十八洞村考察,提出“实事求是、因地制宜、分类指导、精准扶贫”重要论述。七年间,十八洞村党支部带领群众因地制宜发展特色产业,从一个典型的贫困村变为精准脱贫的示范村。

结合材料,运用唯物史观知识,说明中国共产党是如何践行初心和使命的。(6分)

思想政治试题 第7页 (共8页)

20.(17分)

红色基因,融在血脉,扎根人心。翻开风云激荡的历史篇章,红色基因谱系耀眼夺目。

材料一

	<p>一条红船见证中国共产党“开天辟地、敢为人先”的创建历程,播下了中国革命的火种,开启了中国共产党的跨世纪航程。</p>
	<p>一条道路引领了中国革命的前进方向。井冈山的星星之火开启了夺取全国政权的光明大道,成为中国共产党探索救国救民道路的光辉起点。</p>
	<p>一次伟大的远征检验了中国共产党人的理想信念。长征路上的苦难、曲折、死亡,向世人证明了中国人的理想信念是坚不可摧的。</p>
<p>.....</p>	

红船精神、井冈山精神、长征精神、延安精神、西柏坡精神……正是因为有了红色基因,共产党人才有了冲锋陷阵的勇气、改天换地的志气和决胜未来的底气。红色基因与我们每一个人情感相连、命运相通。我们要把红色基因传承好,确保红色江山永不变色。

(1)运用文化生活的知识,谈谈你对“把红色基因传承好,确保红色江山永不变色”的理解。(8分)

材料二 山东省重视红色文化的保护和传承,颁布《山东省红色文化保护传承条例》,整合孟良崮战役遗址、沂蒙红嫂纪念馆、八路军115师司令部旧址、新四军军部旧址等红色教育资源,突出军民亲情特色,讲好沂蒙红嫂、沂蒙六姐妹等拥军支前故事,正确处理红色资源的保护和旅游资源开发的关系,推动了红色旅游走出山东、叫响全国。

(2)运用唯物辩证法知识,说明山东省在传承红色基因过程中的做法所体现的方法论原则。(9分)

关于我们

齐鲁家长圈系业内权威、行业领先的自主选拔在线旗下子平台，集聚高考领域权威专家，运营团队均有多年高考特招研究经验，熟知山东新高考及特招政策，专为山东学子服务！聚焦山东新高考，提供新高考资讯、新高考政策解读、志愿填报、综合评价、强基计划、专项计划、双高艺体、选科、生涯规划等政策资讯服务，致力于做您的山东高考百科全书。

第一时间获取山东高考升学资讯，关注齐鲁家长圈微信号：sdgkjzq。



微信搜一搜

齐鲁家长圈

打开“微信 / 发现 / 搜一搜”搜索