

2022-2023 学年高三年级 TOP 二十名校调研模拟卷二
高三文科综合能力测试卷

注意事项:

- 1.本试卷共 12 页,考试时间 150 分钟,卷面总分 300 分。
- 2.答题前,考生务必将自己的姓名、准考证号填写在答题卡相应的位置上。
- 3.全部答案写在答题卡上,答在本试卷上无效。
- 4.考试结束后,将本试卷和答题卡一并交回。

一、选择题:本题共 35 小题,每小题 4 分,共 140 分。在每小题给出的四个选项中,只有一项是符合题目要求的。

陕南地区养殖场多建在地形平坦地区,相关产业的从业人员以当地农民为主。随着畜禽养殖向集约化快速转型,单位土地面积载畜量越来越大,环境压力日益严重,畜禽养殖废弃物资源化利用成为陕南畜牧业发展亟待解决的问题之一。目前,"养一茶一游"农业综合发展模式正在当地积极推广。图 1 示意陕南地区"养一茶一游"循环农业发展模式。据此完成 1~3 题。

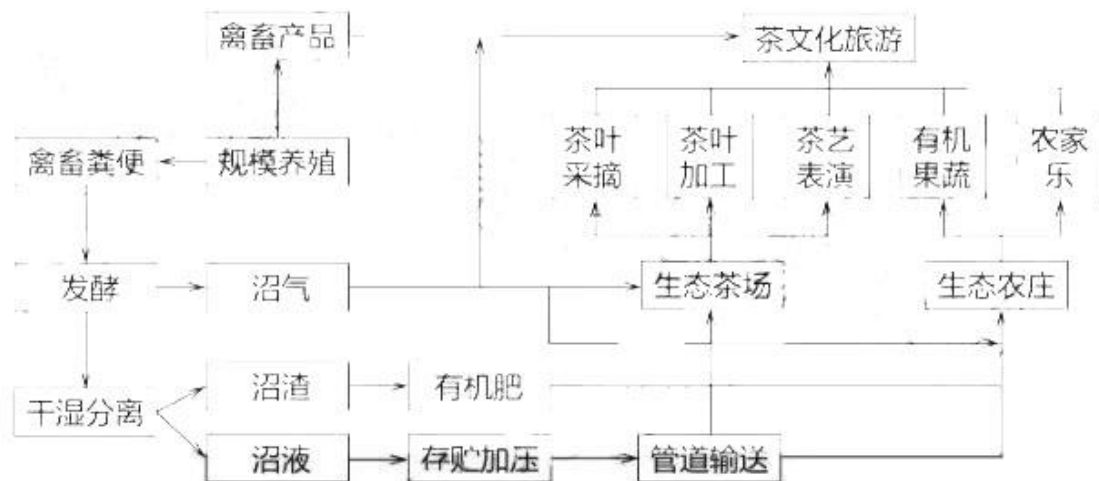


图 1

1.与陕北相比,"养一茶一游"循环农业模式中具有区域特色的基础产业是

- A.畜禽养殖业 B.茶树种植业 C.有机果蔬业 D.生态旅游业

2.陕南地区“养一茶一游”农业带来的经济效益有

- ①提供多样化的农产品,增加经济收益②畜禽粪便环保处理减少环境污染
③发展茶文化旅游,增加地方收入④调整产业结构,促进产业结构升级

- A.①② B.③④ C.①③ D.②④

3.陕南地区发展“养一茶一游”模式存在的不足是

- A.养殖业以初级产品为主,附加值较低 B.环境污染严重,景观遭破坏
C.经营低端粗放,科技创新不足 D.当地知名度低,市场销路不广

第七次全国人口普查数据显示,我国大陆城镇常住人口为 90199 万人,占总人口比重为 63.89%,下表为 2011—2020 年我国大陆常住人口及户籍人口城镇化率统计表。据此完成 4~6 题。

年份	常住人口城镇化率	户籍人口城镇化率	差距
2011	51.27%	34.71%	16.56%
2012	52.57%	35.29%	17.28%
2013	53.73%	35.93%	17.80%
2014	54.77%	37.10%	17.67%
2015	56.10%	39.90%	16.20%
2016	57.35%	41.20%	16.15%
2017	58.52%	42.35%	16.17%
2018	59.58%	43.37%	16.21%
2019	60.60%	44.38%	16.22%
2020	63.89%	45.40%	18.49%

4.我国城镇非户籍常住人口主要是

- ①进城务工就业的农民②由中小城市迁往大城市和特大城市的劳动力
③中心城市扩大区域的人口④农村学生到城镇就业或接受高等教育

A.①② B.③④ C.①④ D.②③

5.改革开放初期，珠三角城镇非户籍常住人口增加，其带来的积极影响是

- A.产业结构的调整优化升级 B.促进我国外贸出口的增长
C.不断提高工业自动化水平 D.科技创新的活力不断增强

6.近些年，我国中西部地区到东部沿海的务工人员减少，其主要原因是

- A.西部地区资源丰富 B.东部地区房价昂贵
C.产业由东向西转移 D.国际贸易格局的变化

雾是在水汽充足、大气稳定的情况下，空气中的水汽凝结形成。图2示意我国安徽九华山风景区山腰与山麓各月平均雾日的比较。据此完成7~9题。

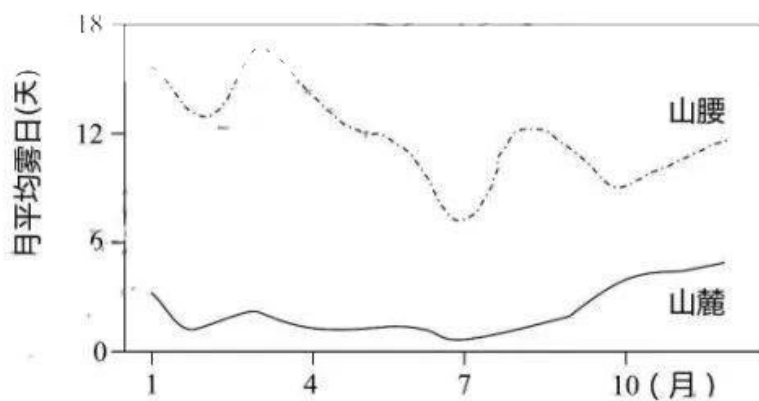


图2

7.九华山雾日的季节变化特点是

- A.山麓春夏多于秋冬 B.山腰春秋多于冬夏
C.山麓春夏少于秋冬 D.山腰夏秋多于冬春

8.山麓雾日始终低于山腰，其主要原因是山麓地带

- A.蒸发微弱且水汽含量小 B.气温高且持续时间长
C.气温回升快 D.大风天气多见

9.与2月份相比，3月份九华山山腰雾日多，其主要原因可能是

- A.空气湿度大 B.风速较小 C.气温较低 D.东南季风影响

图3为某日某时刻沿110°E经线绘制的全球昼长和太阳高度分布图。据此完成10~11题。

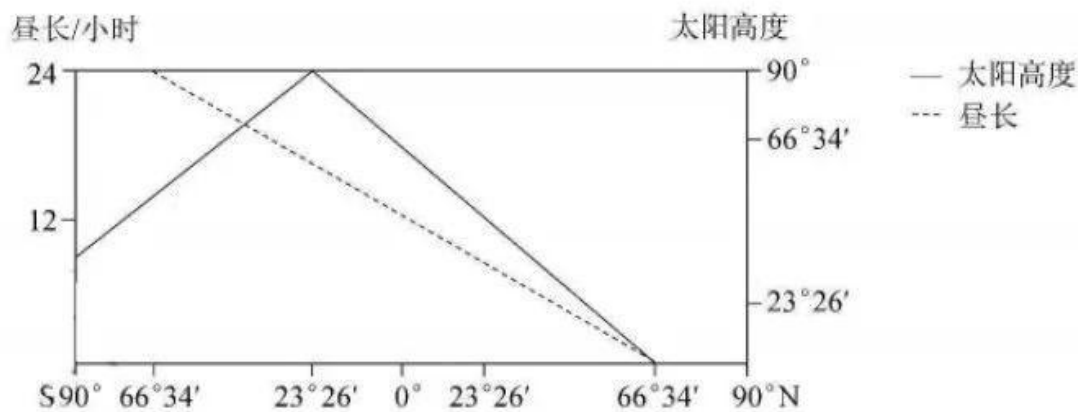


图3

10. 图示日期可能为

A. 6月22日 B. 12月22日 C. 3月21日 D. 9月23日

11. 此刻的北京时间是

A. 10:30 B. 11:30 C. 12:40 D. 13:40

12. 下面是某同学在官方网站查询到的人民币外汇牌价走势(注:100美元兑人民币)

日期	中行汇买价(元)	中行钞买价(元)	中行钞卖价/汇卖价	央行中间价
2022-09-01	689.400 0	683.790 0	692.320 0	688.2100
2022-08-31	687.800 0	682.210 0	690.720 0	689.060 0
2022-07-29	673.230 0	667.760 0	676.0900	674.370 0
2022-06-30	668.890 0	663.450 0	671.2000	671.1400
2022-05-31	665.850 0	660.430 0	668.670 0	666.0700
2022-04-29	659.360 0	653.990 0	662.150 0	661.770 0
2022-03-31	632.660 0	627.5100	635.340 0	634.820 0
2022-02-28	629.710 0	624.5900	632.380 0	632.220 0

不考虑其他因素,根据图表信息,下列判断正确的是

- ①美元汇率持续上升,我国外汇储备购买力下降
- ②人民币持续贬值,能够利好我国外贸出口企业
- ③美元持续升值,我国从事外贸企业的进口成本降低
- ④人民币汇率持续下降,我国公民出国旅游成本增加

A. ①③ B. ①④ C. ②③ D. ②④

13. 2022年是国企改革三年行动的收官之年,中央和地方国企着力补短板、强弱项,把工作重心由抓改革进度逐渐转向提质量、求实效,按照高标准要求,各项改革任务都取得了比较明显的突破和进展。可见,深化国企改革

- ①有利于国有经济增强竞争力,更好发挥主导作用
- ②旨在提高国有资本在社会总资本中的比重和支配力
- ③能够营造公平的市场环境,促进非公有制经济发展
- ④能够提高国有资产运营效率,激发国有经济活力

A. ①③ B. ①④ C. ②③ D. ②④

14.2022年6月,河北省发布稳定全省经济运行一揽子政策措施。加大增值税留抵退税政策力度、降低失业保险费率、实施阶段性缓缴社会保险费;加大普惠小微企业贷款支持力度,继续推动金融机构减费让利;保链稳链,促进企业更快复工达产、完善交通物流保通保畅,加大对物流业的支持力度;开展消费促进活动,促进平台经济规范健康发展。据此分析,下列传导过程正确的是

- ①实施减税降费政策→减轻企业资金压力→激发企业投资活力→稳定经济发展
- ②实施扩张性货币政策→释放货币流动性→解决企业融资难题→保障企业生产经营
- ③实施保链稳链政策→建立独立的产业链和供应链→畅通经济循环→构建新发展格局
- ④实施促消费政策→优化居民消费环境→扩大居民消费需求→增强经济发展内生动力

A.①② B.①④ C.②③ D.③④

15.2022年上半年,我国外贸实现了稳步增长,对美国、欧盟、东盟贸易总额分别增长11.7%、7.5%和10.6%,对“一带一路”沿线国家贸易总额增长17.8%。采购贸易和跨境电商融合发展,在疫情环境下规避了很多贸易不便利的条件。这说明我国

- ①优化外贸结构,自主品牌占比上升
- ②奉行多边贸易以提高开放型经济水平
- ③发展贸易新业态新模式稳定外贸增长
- ④优化营商环境,搭建国际贸易投资平台

A.①② B.①④ C.②③ D.③④

16.2022年4月10日,在南京市人民代表大会上,400多位人大代表通过投票表决,选出2022年十类43项民生实事项目,涉及“养老”“教育”“宜居”“就业”,件件都是人民群众的“急难愁盼”。票决民生实事在南京已成惯例,通过群众提、代表议、政府办、人大评,为人民办实事。可见,南京市票决民生实事

- ①保障了公民权利和义务相统一
- ②是发展全过程人民民主的生动实践
- ③彰显了我国最真实最管用的民主优势
- ④强化了人大代表处置民生问题的职责

A.①③ B.①④ C.②③ D.②④

17.2021年12月21日,湖北咸宁市人大常委会表决通过新修订的《咸宁市城市管理条例》,经批准后于2022年4月26日正式公布。在条例修订过程中,市人大通过致函、网上公开、召开征求意见会等形式,多方征求部门、群众意见。该条例施行后,人大将通过执法检查等工作,强力推动提升城市管理水平。这说明

- ①推动城市治理,需要扩大地方的立法权限
- ②地方立法要反映人民意志,坚持人民至上
- ③地方人大行使监督权,确保法规贯彻落实
- ④地方人大围绕党的重大任务完善工作体系

A.①③ B.①④ C.②③ D.②④

18.2022年9月14日,中国国家主席习近平对哈萨克斯坦进行了国事访问,两国元首签署并发表建交30周年联合声明,双方将积极践行共同、综合、合作、可持续的新安全观,共同打击“三股势力”,维护政治安全和政权安全。双方将坚定恪守联合国宪章和国际法原则,践行真正的多边主义,扩大在联合国、上合组织等多边框架内的合作,为构建更加公正合理的全球治理体系作出“中哈贡献”。这说明

- ①中哈是推动构建人类命运共同体的重要力量
- ②“三股势力”是解决和平与发展问题的主要障碍
- ③中哈基于双方的共同利益发展友好合作关系
- ④利用多边合作平台,才能发展中哈睦邻友好关系

A.①③ B.①④ C.②③ D.②④

19.陕西卫视播出的2022丝路春晚节目突出融合共生的内核,开场序曲《丝路交响》便是多元文化融合共生的生动展现,将中国、日本、希腊三个国家描写丝路的三首经典曲目进行改编串联,融合“交响乐+合唱+丝路人物演绎”等多元表达,为观众描绘出一幅跨越古今的恢宏丝路图景,带观众穿越古今,触摸千年丝路文化。这说明

①中外文化在相互交流借鉴中彼此渗透②文化因交流而多彩，因交融而丰富
③不同民族文化能够求同存异，美美与共④多元表达赋予了中外文化交流的时代价值

A.①③B.①④C.②③D.②④

20.2022年央视总台的七夕晚会以“思想+艺术+技术”为创作理念，从中华优秀传统文化中寻找新的创作灵感，从现实生活中汲取情感共鸣。在歌曲《如愿》中，古人幻想的飞仙与航天员隔空“牵手”，筑梦太空的现实场景与古人对浩瀚星穹的遐想交相辉映；现场歌手与云端合唱《仰世而来》，借七夕节展现各行各业的女性风采。这说明

①现代传媒是传统文化创新的重要途径②创新表达形式有利于激活优秀传统文化
③应树立文化自信，为传统文化注入时代精神④七夕文化的价值取决于同现代科技的融合度

A.①②B.①④C.②③D.③④

21.2022年2月17日，“东数西算”工程正式全面启动。8个算力枢纽节点将作为我国算力网络的骨干连接点，规划发展数据中心集群，开展数据中心与网络、云计算、大数据之间的协同建设，推动算力资源有序向西转移，促进解决东西部算力供需失衡问题，这将提升国家整体算力水平，推动区域协调发展。这说明，启动“东数西算”工程

①通过建立有效的联系形式，拓展算力发展空间
②注重以人为事物的联系取代自在事物的联系
③把握了系统的有序性和内部结构的优化趋向
④立足部分，通过优化组合促进算力资源合理配置

A.①②B.①③C.②④D.③④

22.2022年3月18日，习近平主席同美国总统拜登视频通话指出：中美之间存在分歧，这很自然，关键师范做好管控，避免扩大化、激烈化。台湾问题事关中国主权和领土完整，始终是中美关系中最核心、最敏感的问题，台湾问题如果处理不好，将会对两国关系造成颠覆性影响。一个稳定发展的中美关系，对双方都是有利的。由此可见

①中美关系的斗争性大于同一性②中美应化解分歧，在对立中把握统一
③中美之间的同一性寓于斗争性之中④应在不断解决矛盾中发展中美关系

A.①③B.①④C.②③D.②④

23.2022年6月5日，神舟十四号载人飞船成功发射，标志着中国空间站任务转入建造阶段后首次载人任务正式开启。航天探索绝无坦途，中国航天人面对诸多困难和挫折，总是脚踏实地，精益求精，通过不断试验优化排除隐患，提高技术性能的可靠性，每一次验证的技术都比上一次更先进，更完美，一步步实现着中国人的航天梦。这说明

①人们对航天的认知受到实践水平等各种条件的限制
②航天精神是航天技术创新的重要源泉和检验标准
③建设航天强国的伟大事业增强了航天人的创新意识
④在实践和认识的多次反复中提高了航天认知的可靠性

A.①③B.①④C.②③D.②④

24.商代的各个方国，大部分是由各个早期定居点和族群演化而来的旧有政权，而西周的诸侯国则大部分是由西周王室所建立的。商代的方国除了要求被征服者尽贡纳与服役的义务外，基本上使被征服者原来的组织未经改变而保留下来。而在西周分封制之下，各诸侯国的权力直接来自周天子的授予。商周的这一变化

A.避免了族群之间的冲突 B.便利了中原文化的传播
C.构筑了周天子共主地位 D.推动了国家形态的完善

25.钱穆指出：汉初黄老之学“漠然无为而无不为也，澹然无治也，而无不治也。所谓无为者，不先物为也；所谓无不为者，因物之所为；所谓无治者，不易自然也；所谓无不治者，因物之相然也”。这反映黄老之学呈现

- A.豪迈勇进下的积极进取 B.天行有常下的随其自然
C.因势利导下的无所不为 D.逍遥脱俗下的消极避世
- 26.宋朝建立财政拨款等社会保障体系在内的多种财政支持机制。除了财政拨款外，社会救济的稳定经费来源还有税收性收入。王安石变法则将“平准”“赈济”的常平旧模式变成了“经营性新常平机制”。这体现了
- A.经济运行中注重市场成分 B.财政调适对社会的能动性
C.开源节流成财政主要手段 D.封建经济保障能力的增强
- 21.张帆教授认为：“在元朝，行省实质上是中书省的下属，但从统领路府州县的角度以及官名、儒秩等侧面来看，行省与中书省又具有某种“平等”关系，行省的设置并未覆盖全部路府州县，“腹里”仍由中书省直辖”。这折射出行省制度具有
- A.因俗而治的鲜明特点 B.中央政府派出机构的属性
C.大而不专的制度优势 D.代表中央分驭各地的使命
- 28.厘金是清王朝于 1853 年开征的对几乎所有商品征收的一种商品贸易税。所谓“厘金”主要是对过境商品进行征收。厘金最滥时期，全国厘卡一万多处，密集地区，几十里地就设置多个厘卡，过境商品层扒皮。“货物逢关抽厘，税率较高且重复征收。厘金的实施
- A.抵制了外国商品的倾销 B.阻碍了国内统一市场发育
C.瓦解了传统的自然经济 D.冲击了清政府的抑商政策
- 29.1902 年，梁启超以《新民丛报》为阵地发表了一系列文章，对中国传统文化进行了激烈的批判，号召中国之青年，“牺牲生命，誓翦灭此而后朝食”。1920 年，他在《欧游心影录》疾呼，“要人人存一个尊重爱护本国文化的诚意。……要用那西洋火灾变学问的方法去研究他，得他的真相。”造成其变化的原因是
- A.新文化运动对传统性的改造 B.一战对欧洲社会的影响
C.国人民族国家意识初步形成 D.西学东渐方向发生转变
- 30.下表为中共五大、中共六大党员成分及总数统计表，据此可知

会议	工人	农民	士兵	中小商人	知识分子	其他	党员总数
中共五大（1927 年 4 月）	50.8%	18.7%	3.1%	0.5%	19.1%	7.8%	5.8 万
中共六大（1928 年 6 月）	10.9%	77.6%	0.8%		6.9%	3.80%	13.0 万

- A.党中央指导方针正确 B.党的性质发生改变
C.革命道路趋向于转变 D.革命重心趋于转变
- 31.从 1953 年到 1956 年，全国工业总产值平均每年递增 19.06%，农业总产值平均每年递增 4.8%。到 1957 年，我国钢产量达到 535 万吨，比 1952 年增长 296%，为中华人民共和国成立前最高年产量的 5.8 倍。发电量达到 193.4 亿度，比 1952 年增长 166%，为中华人民共和国成立前最高年发电量的 3.2 倍。上述成就表明
- A.国民经济结构逐渐失衡 B.有忽视农业的左倾倾向
C.“一五”计划成就显著 D.经济发展过于冒进
- 32.亚里士多德在《政治学》中的论述，将公元前 5 世纪后期的雅典民主政治和“激进民主制”画上等号，多少有些不准确。事实上这一时期的雅典“就法律而言是民主政体，但由于教育和习俗的缘故，治理方式偏向寡头统治”。这反映出当时雅典
- A.社会治理趋向于保守 B.民主政治出现严重危机
C.保留了贵族政治传统 D.精英政治占据统治地位
- 33.欧洲的商业革命是指国际经济财富的转移，最终导致的结果是军事竞争。“政府机构的扩张和直接统治是国家榨取军事资源的两大途径，日益扩大的战争对国家榨取资源的能力提出了更高的要求。”“准备战争则在国家内部创造出国家的内部结构”。这表明商业革命

- A.导致了国际局势趋于紧张 B.促进了资本的原始积累
C.推动了欧洲民族国家形成 D.提升了国家的动员能力

34.下图是漫画《罗斯福和“恢复农民购买力”老人的合影》(1932年4月9日)。据此,该漫画的寓意是



- A. 经济危机助推农业改革 B.新政关注农业政策调整
B. C.社会矛盾逐渐趋于缓和 D.国家干预政策初见成效

35.某一画派认为万事万物的真相是“绝对的静止与绝对的同时性只是精神抽象……我们对于外部自然对象的一切知识,并不真是对于那些对象的知识,而是对于那些对象与我们之间发生的交互作用的知识。”据此可知,这一画派

- A.富于夸张和装饰韵味 B.带有鲜明主观主义特征
C.具有现实主义的风格 D.展示出理性思维的深化

二、非选择题:本题包括必考题和选考题两部分。第36~42题为必考题,每道试题考生都必须作答。第43~47题为选考题,考生根据要求作答。

(一)必考题:135分。

36.阅读图文材料,完成下列要求。(24分)

河北鹿泉经济开发区位于河北省省会石家庄市西侧,是1992年11月经省政府批准建立的省级高新技术产业开发区。2011年审批为石家庄·中国半导体光谷、石家庄信息产业基地。该基地成为集研发、生产为一体的以微电子、光电子通信和导航为主导的信息产业基地。目前,基地内有生产型企业30家,5个国家级和部级研发中心,2个国家重点实验室。鹿泉开发区东距石家庄火车站7千米,东北距石家庄国际机场20千米,区内建有石家庄南站。石太铁路、307国道及其复线、石太高速、青银高速分别从区内穿过。图4示意石家庄·中国半导体光谷、石家庄信息产业基地位置。

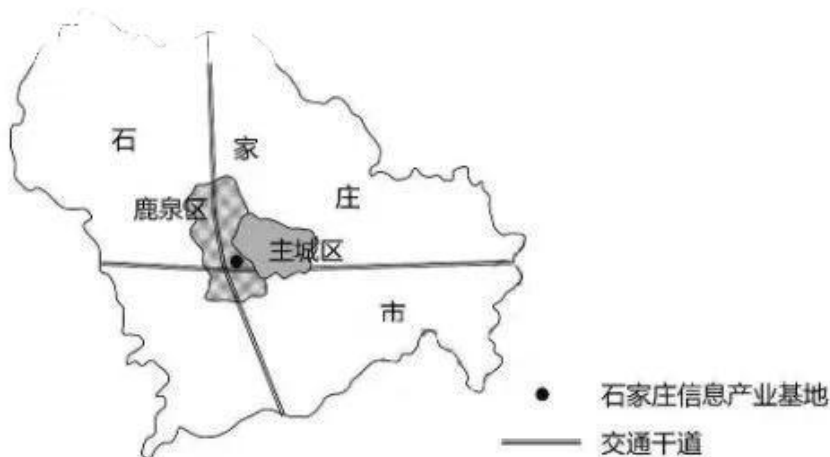


图4

- (1)分析鹿泉经济开发区选址的区位优势。(6分)
(2)阐释鹿泉经济开发区集中布局微电子、光电子通信和导航等产业的集聚效应。(6分)
(3)简述鹿泉经济开发区信息产业发展给鹿泉区带来的有利影响。(6分)
(4)为鹿泉信息产业的进一步发展提出合理建议。(6分)

37.阅读图文材料,完成下列要求。(22分)

图5为我国某山地自然带垂直分布图。

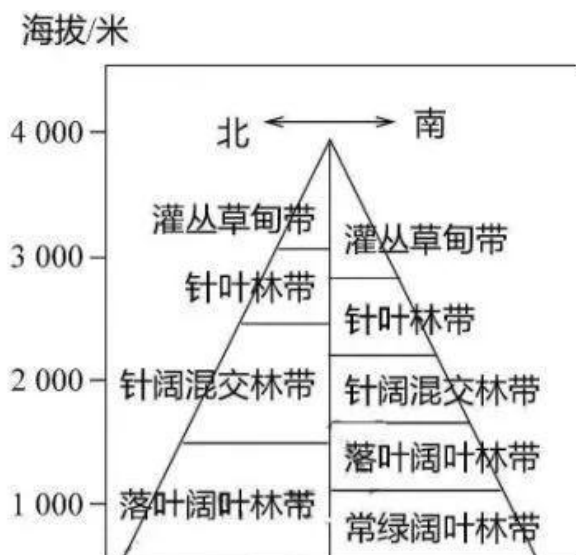


图 5

- (1) 该山地植被类型以森林植被为主。就此做出合理解释。(4分)
- (2) 分析该山地自然带垂直分异的主导因素。(6分)
- (3) 该山地南坡自然带谱复杂,分析其原因。(4分)
- (4) 该地是我国重要的自然地理界线,请举例说明。(8分)

38. 阅读材料,完成下列要求。(14分)

材料一 2022年上半年我国居民收入有关数据(单位:元)

指标	全国居民人均可支配收入	城镇居民人均可支配收入	农村居民人均可支配收入
数值	18 463	25 003	9 787
同比增长	同比名义增长4.7%, 实际增长3.0%	同比名义增长3.6%, 实际增长1.9%	同比名义增长5.8%, 实际增长4.2%

注:2022年上半年,城乡居民人均收入比值为2.55,比上年同期缩小0.06

材料二 2022年的政府工作报告提出,要坚持以人民为中心的发展思想,依靠共同奋斗,扎实推进共同富裕,不断实现人民对美好生活的向往。出席2022年全国“两会”的代表和委员围绕“推进共同富裕”这一话题纷纷发言。

代表A:以深化国有资本、集体资本管理改革创新为基础,充分发挥公有制经济对促进共同富裕的重要积极作用和示范引领作用,在多措并举激发民营资本活力并依法规范引导基础上,推动非公有制经济持续健康发展、促进共同富裕。

代表B:要深化收入分配制度改革,充分发挥三种分配方式在促进共同富裕中的合力作用,构建和完善初次分配、再分配、三次分配协调配套的基础性制度安排。

委员C:进一步推动高水平市场经济建设,深化要素市场与产品市场一体化建设,激发市场活力,建设高效市场和有为政府,实现经济效率和社会公平的统一。

- (1) 概括材料一中图表包含的经济信息。(4分)

- (2) 结合材料二,说明应如何发挥我国基本经济制度优势推进共同富裕。

些官员提出：废除过时的海禁令，允许通商，以求化寇为民。明穆宗隆庆元年（1567年）“福建巡抚御史涂泽民请开海禁，准贩杂西二洋”，终得“奉旨允行”。……这次开禁在中国古代经济史和对外贸易史上占有重要地位，史称“隆庆开放”。

——摘编自冯之余《明代“隆庆开放”与海上贸易发展》

材料二 1843年制定的进口税规定1.5%的低税率，西方商品进入中国的通商口岸几乎不存在任何关税及非关税壁垒。外籍税务司制度更是被打开中国大门的外国人掌握在手中、被大地便利了外国商品的输入。西方人评论说：鸦片战争后，“没有任何事物防阻一个外国人……在上海开舱时，卸下一船棉花；或是设若该外国人无所忌惮的话，卸下一船鸦片，或是……将这批货载到西藏的边境，或经由运河到天津和北京，或总而言之到任何地方，同时沿途兜售。”

——摘编自荣宏庆、李琪《从历史考证五口通商对我国沿海经济的影响》

材料三 1979年7月，党中央、国务院批转广东省委、福建省委的报告，确认两省对外经济活动实行特殊政策和灵活措施，先走一步，把经济尽快搞上去，同时决定在深圳、珠海划出部分地区试办出口特区。1980年5月，党中央、国务院正式决定将“出口特区”定名为“经济特区”。8月，五届全国人大常委会第十五次会议批准广东、福建两省在深圳、珠海、汕头、厦门设置经济特区

——据中共中央党史编写组《中国共产党简史》

- (1) 根据材料一并结合所学知识，分析明代隆庆年间对外贸易的新变化及原因。(10分)
- (2) 根据材料二、三并结合所学知识，从背景、性质和影响三个方面说明五口通商与经济特区的不同。(10分)
- (3) 根据材料并结合所学知识，简析现代中国改革开放的历史经验。(5分)

42. 阅读材料，完成下列要求。(12分)

材料

党的领导人	关于共同富裕的论述
李大钊	社会主义是要富的，不是要穷的……人人均能享受平均的供给，得最大的幸福
毛泽东	没有独立、自由、民主和统一，不可能建设真正大规模的工业。没有工业，便没有巩固的国防，便没有人民的福利，便没有国家的富强
邓小平	社会主义的本质，是解放生产力，发展生产力，消灭剥削，消除两极分化，最终达到共同富裕
习近平	实现共同富裕不仅是经济问题，而且是关系党的执政基础的重大政治问题。我们决不能允许贫富差距越来越大、穷者愈穷富者愈富，决不能在富的人和穷的人之间出现一道不可逾越的鸿沟

摘编自王志达《近代以来马克思主义研究》

根据材料并结合所学知识，任选一位党的领导人关于共同富裕的论述形成论题，并进行简要的阐述。(要求：论题明确，史实准确，表述清晰。)

(二) 选考题：共25分。请考生从2道地理题、3道历史题中每科任选一题作答。如果多做，则每科按所做的第一题计分。

43. 【地理——选修3：旅游地理】(10分)

浙江东阳卢宅位于浙江省东阳市东郊卢宅村，卢氏自宋代定居于此，世代聚族而居，陆续兴建了许多座规模宏大的宅第，形成一个较完整的明、清住宅建筑群。目前浙江东阳卢宅是江南最大的明清古建筑群，有“中国民间故宫”的美誉，是著名的优质文化旅游景区。长期以来，因洪水和不得当的保护方法以及卢宅四周的许多私搭乱建无序建筑……

筑群的整体面貌、长些主体构件和精美木雕、牌坊、灯彩等遭到破坏。当地群众和社会各界对卢宅保护利用的呼声越来越强烈。图6示意东阳卢宅。



为妥善保护浙江东阳卢宅提出合理化建议。

44.【地理——选修6：环境保护】（10分）

中国最大淡水湖鄱阳湖继2022年8月19日进入低枯水期后，水位继续走低，标志性水文站星子站水位8月22日10时数据显示为9.55米。原本候于鄱阳湖中的千年石岛“落星墩”完全露出，周围的大面积湖床变成茫茫“草原”。那曲湖区的生产、生活、生态面临着干旱的威胁。缓解湖区干旱困境，保护鄱阳湖区生态安全，维持生态平衡迫在眉睫。按照往年的规律，10月下旬，70多万只候鸟将沿着贯穿22个国家的东亚—澳大利西亚迁徙路线，躲过猎枪、暴雨和天敌，陆续来到水草丰美的鄱阳湖过冬。但今年迎接他们的将是难以栖息的干裂滩涂，以及长势过高、难以下咽的荻”。图7示意完全露出湖面的千年石岛“落星墩”。



分析鄱阳湖水位下降给湖区生态环境带来的危害。

45.【历史——选修1：历史上重大改革回眸】（15分）

材料 唐初统治者吸取隋亡教训，勤政修德产生了司法审判中的集体决断制度。唐代司法集体决断制度禁止由长官强行统一意见，所有参与决断的官吏均畅所欲言，发表自己的司法意见。唐代司法集体决断制度涵盖了从中央司法机关到地方各级衙门、从皇亲贵族到平民百姓、从疑难复杂案件到普通刑事案件。唐代实行严格的司法责任制原则，司法责任覆盖司法裁判形成和制作的各个环节。法律把各级各类官吏中千差万别的官吏以其共同的责任状况，采用一般概念的名称分为四等。在四等同署官都判断错误时，按照“各以所由为首”承担集体连带责任。唐代司法集体决断制度使得重大刑事案件的审判更加慎重，唐代统治者通过裁判者异议制度构筑起了冤错案件的防护机制，确保案件处断公允。唐代司法集体决断制度在实际运作层面，是一种典型的“合议制”。

——摘编自王燕芳《唐代司法集体决断制度探析》

- (1) 根据材料并结合所学知识，概括唐代司法集体决断制度的特点。(6分)
- (2) 根据材料并结合所学知识，分析唐代司法集体决断制度的价值。(9分)

46.【历史——选修3：20世纪的战争与和平】(15分)

材料 海上封锁是英国的一项传统军事战略。1939年9月日二战在西方全面爆发后，英国内阁和总参谋部着重考虑从战略上施行经济封锁”。英国成立了经济作战部，在政府任职多年的国际经济专家罗斯爵士任第一任部长。另在战前，英国即要求前往与德国毗连的中立国家的商船，若有载运违禁货物之跳、必须改航道去指定基地接受检查。英国还试图与欧洲中立国家签订战争贸易协议，以期禁止那些经过检查后抵达中立国港口的货物向德国出口，并进一步将“向德国体口的其他货物的规模限制在‘正常的’战前水平”。当时，瑞典向德国提供的矿产资源能满足其40%的需要量。作战经济部考虑了几种可供选择的办法去封堵这条海运线。判它下决心要占领纳尔维克港、完全扼杀瑞典向德国出口铁矿的时候，为时已晚。同时德国开始在英国港湾、港口附近布设磁性水雷，造成！矣国商船及军舰的重大损失。英国海军敏从战争一开始，就全力以赴进行传统式的远程海上封锁。结果，英国的封锁和一战时一样，既不能防止德国潜艇前出至大西洋活动。也不能阻止德国水面舰只出海袭扰。

——于江欣《略论二战初期英国的海上经济封锁战略》

- (1) 根据材料并结合所学知识，概括英国封锁德国的方式。(9分)
- (2) 根据材料并结合所学知识，分析英国封锁德国失败的原因。(6分)

47.【历史——选修4：中外历史人物评说】(15分)

材料 李运昌同志于1908年世生在直隶（今河北省乐亭县。年方19岁的李运昌于4月包围了普宁县城，成场地设伏消灭了来援的何应钦之弟何辑武的一个团。在革命处于低潮，李运昌积极主动地寻找、接续了在当地的组织关系，并于1928年初重建了乐亭县委和滦(县) 参存亭)中心县委，均担任书记。九一八事变后，李运昌奔走于长城内外，发动民众支援长城抗战。1938年发起组建的冀东抗日联军的各级组织，摧毁文大多数各地的日伪政权，一度切断北宁（今京山）铁路！至日降时，已组建3万余人的8个主力团队，毙俘日伪军7万余人。新中国成立后，李运昌出任交通部副部长、党组书记。为陆海交通、信息传递的百业待举颇多建树。1979年春季运昌就任司法部第一制邮长。退居二线后李运昌，亲自执笔撰写了多篇关联党史、军史的重要文献。1988年至2002年组团到泰国和台湾地区访问。

——摘编自张振川《百岁峥嵘李运昌》

- (1) 根据材料并结合所学知识，概括李运昌对中国的贡献。(8分)
- (2) 根据材料并结合所学知识，分析李运昌的人物精神。(7分)

关于我们

自主选拔在线是致力于提供新高考生涯规划、强基计划、综合评价、三位一体、学科竞赛等政策资讯的升学服务平台。总部坐落于北京，旗下拥有网站（[网址：www.zizzs.com](http://www.zizzs.com)）和微信公众平台等媒体矩阵，用户群体涵盖全国90%以上的重点中学师生及家长，在全国新高考、自主选拔领域首屈一指。

如需第一时间获取相关资讯及备考指南，请关注**自主选拔在线**官方微信号：**zizzsw**。



 微信搜一搜

 自主选拔在线

