

2023年宜荆荆随高三10月联考

高三历史试卷

考试时间：2023年10月5日上午10:30-11:45

注意事项：


1. 答题前，先将自己的姓名、准考证号、考场号、座位号填写在试卷和答题卡上，并将准考证号条形码粘贴在答题卡上的指定位置。

2. 选择题的作答：每小题选出答案后，用2B铅笔把答题卡上对应题目的答案标号涂黑。写在试卷、草稿纸和答题卡上的非答题区域均无效。

3. 非选择题的作答：用黑色签字笔直接答在答题卡上对应的答题区域内。写在试卷、草稿纸和答题卡上的非答题区域均无效。

一、选择题(本大题共15小题，每小题3分，共45分。在每小题列出的四个选项中，只有一项符合题意)

1. 下图为2019年考古学家在湖北随州发现的春秋中晚期曾国曾侯宝夫人、楚王女儿卅加墓出土的部分文物及其铭文：



铜缶

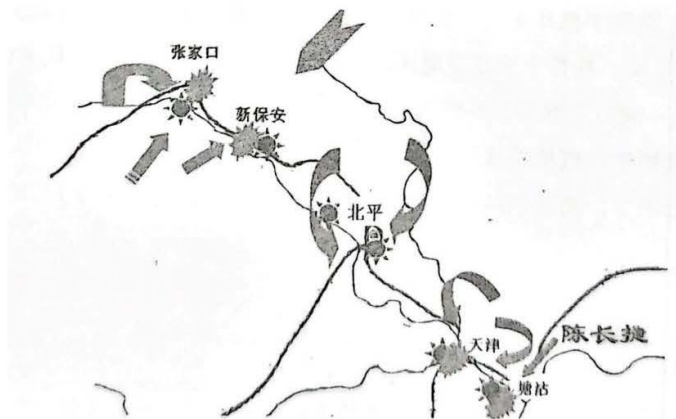
铭文：楚王嬭随卅加

大意为：楚王嫁女儿卅加到随国的陪嫁。

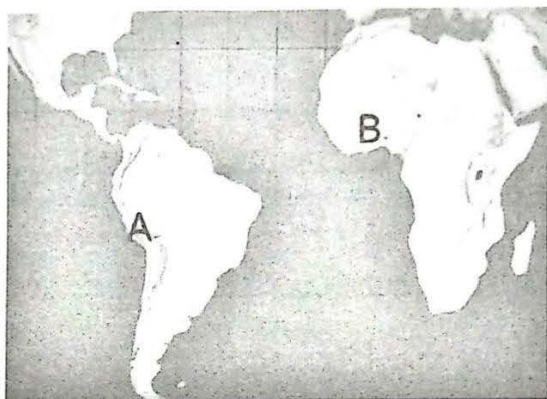
上述记载表明()

- A. 曾与随是同一个诸侯国的不同称呼 B. 曾随之谜的问题依然没有得到解决
C. 文物考古与文献记载必须相互印证 D. 中国古代的青铜铸造技术领先世界
2. 东晋名士桓伊虽出身累世为官的门阀士族，但他为人谦素，文武双全，淝水之战后，因军功封侯，为政宽恤，安抚士民、“百姓赖焉”，后卒于任上，谥号烈。他还是著名的音乐家，善吹笛，号称“江左第一”，有“笛圣”之称，相传著名琴曲《梅花三弄》就是根据他的笛谱而改编。据此可知()
- A. 桓伊凭借才艺扬名于世 B. 依靠淝水之战成就桓伊
C. 应注重人物的阶级属性 D. 评价人物应有开放思维
3. 《千金方》是人称“药王”的唐代孙思邈所作的综合性临床医著，他认为生命的价值贵于千金，而一个处方能救人于危殆，价值更当胜于此，医生首先要确立“普救含灵之苦”的志向；书中所载医论、医方较系统地总结了唐代以前的医学成就。这部医书()
- A. 渗透了大量佛教轮回思想 B. 包含经世致用的实学思潮
C. 医德伦理观念的特色突出 D. 标志着中医临床理论诞生
4. 朱瑞熙先生从以下五个方面来论述宋代商人：“首先，是商人可以送其子弟进入官办的州县学就读；其次，是商人被允许参加科举考试和出任官职；第三，是商贾可以通过向官府进纳钱粟而踏入仕途……”。对于宋代商人的认识最符合材料主旨的是()
- A. 商人的政治地位得到了普遍提高 B. 商人群体的阶级属性发生了变化
C. 文化水平影响了商人的社会地位 D. 商人所处社会环境有一定开放性
5. 乾隆年间各地陆续出现一系列“叫观”案件，从浙江始发波及全国。乾隆因发现其中有偷剪别人头发的作案手段，“叫魂”案随即被定性为“反叛”，要求严查重判，造成社会上人心惶惶。军机大臣们老成持重，他们采取的措施是一面重视和查办，一面刻意把矛盾的案情信息大量送乾隆审阅，十个月后，乾隆不得不低调叫停追查该类案件。据此可推知()

- A.军机处利用职权可以轻易干预司法审判 B.军机处具有对皇权的东方式柔性约束力
C.乾隆年间民间反清组织仍有很强的势力 D.清代中期皇帝不满官僚系统的行政效率
- 6.1855年10月,在厦门的街道上到处粘贴着一份绅商所写的揭帖,揭露了外国殖民者在厦门成为通商口岸之后,雇佣一些心术不正的叛徒,通过各种手段,诱骗老实的人民,然后通过海运把这些受骗人卖到外国进行强迫劳动的事情。揭贴所揭露的内容反映了()
- A.官府借告示揭露殖民者给中国带来灾难 B.西方资本主义具有扩张掠夺的本质属性
C.以华制华是外国殖民者侵略中国的方式 D.劳务输出成为中国对外交流的途径之一
- 7.1929年之后,上海公共租界的房地产市场以惊人的速度增长。过热的房地产投资,加上投机性的交易,地产价格抬升,已经远远超过了企业与个人能够支付的租金水平。据此可知,当时的中国()
- A.官僚资本家正疯狂进行投机 B.市场上有大量外国商品输入
C.经济危机引发资本异向流动 D.民族资本主义发展势头强劲
- 8.下图所示的是解放战争时期的一次重大军事行动,据此可知()



- A.国民党傅作义集团沿长城一线固守 B.中央军委为聚歼敌军作出周密部署
C.人民解放军的战略进攻拉开了序幕 D.平津战役基本消灭了国民党军主力
- 9.那时候,中国的奇迹有很多,林县的红旗渠,南京长江大桥、八万座大中型水库,大江大河的治理;成渝铁路、成昆铁路、三线建设、两弹一星、首都十大建筑、许多重大科技突破、建立中国工业的基本构架……奇迹数也数不清。这些奇迹()
- A.得益于人民长期凝聚形成的巨大力量 B.大多数都诞生在第一个五年计划时期
C.有力推动新中国产业结构的合理布局 D.为恢复国民经济提供了基础设施保障
- 10.1979年5月,81岁的美国石油大亨哈默受中国领导人邓小平的邀请,并经中国民航部门给予“特事特办”,他成为第一位乘坐私人飞机访问中国的西方企业家。此后,哈默与中国政府签订了一系列经济合作协议。中方通过对哈默访华的重视()
- A.进一步推动中美两国的建交进程 B.展现给世界对外开放的真诚姿态
C.突破了美国建立的“石油美元体系” D.拉动美国商界加大对华投资力度
- 11.英国学者布勒德在《英国宪政史谭》描述说:“无论如何,自1086年以后,所有佃户,不问其所领之土地系直接得之于王者,或间接得之于贵族地主者,其对于王均属直接之人民。姑无论其间接属之于贵族地主也,所谓率土之滨,莫非王臣是也。”据此可知,当时的英国()
- A.开始了封建化的过程 B.实行的是贵族民主制
C.强化了封建君主权力 D.移植法国的封臣制度
- 12.如图中A、B两处是16世纪时的两个极盛的国家。它们分别是()



- A. 玛雅、加纳 B. 阿兹特克、阿克苏姆
C. 印加、桑海 D. 马里、大津巴布韦

13. 下表是美国钢铁业统计表

年份	1870	1900
企业总数(个)	808	669
工人总数(个)	78000	272000
产量(吨)	3200000	29500000
投资额(美元)	121000000	590000000

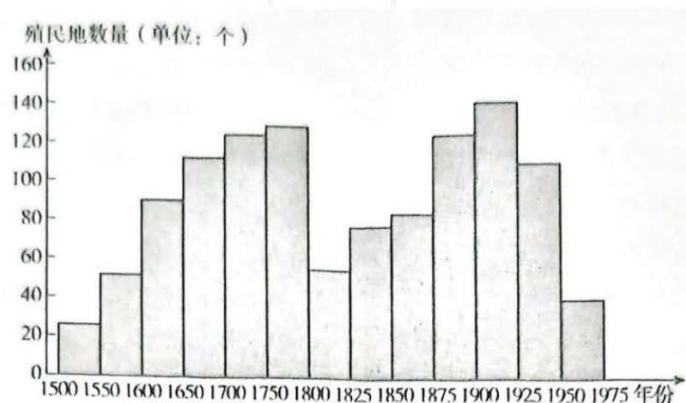
此表所反映的 19 世纪后期美国钢铁业发展变化的主要特征是()

- A. 生产和资本走向集中 B. 行业竞争非常激烈
C. 劳动生产率快速提高 D. 企业规模数量扩展

14. 戴高乐从 1958 年开始连续当了 11 年法国总统，任内他把主要精力放在对外事务上。他支持发展核武器、制定泛欧洲外交政策、努力减少美国和英国的影响、促使法国退出北约、反对英国加入欧洲共同体、承认中华人民共和国，这一系列思想政策被称为“戴高乐主义”。对法国“戴高乐主义”认识正确的是()

- A. 保持战后国际主导地位是其主要的出发点
B. 欧共体的成立促使法国外交政策及时转变
C. 突出体现了摆脱美苏外交掣肘的现实要求
D. 是重塑大国形象提高国际地位的当然选择

15. 下图为殖民扩张和收缩的两个长周期示意图(500-1975 年)。其中两个殖民收缩期出现的相同原因主要是()



- A. 战争削弱宗主国力量 C. 国际格局的重新建构
B. 启蒙思想的大力传播 D. 殖民地人民广泛觉醒

二、非选择题(本题共4个题,共55分。其中16题16分,17题12分,18题15分,19题12分)

16. 【人口与经济】(16分)

2023年3月16日第一财经消息,根据国家统计局有关数据预算,当前我国低龄老人(60-69岁)总量保守估计已经达到了1.5亿,从2022年开始,我国就进入到退休高峰期。阅读下列材料,回答问题:

材料一与前朝相比,清代是中国人口剧增的时期。……据《东华录》记载,1651年(顺治八年)全国丁男之数是1000余万。其时,户籍以一户一丁计。若按户各五人推算,加上由于种种原因而隐瞒的人口,实际数字在6000万上下。到康熙时突破1亿;1793年(乾隆五十八年)猛增到3亿以上;1834年(道光十四年)已经超过4亿。不到200年的时间里,人口增加了6倍以上。同当时的生产力相比,其速度和数量都是惊人的。

——摘编自陈旭麓《近代中国社会的新陈代谢》

材料二 我们来看改革开放之后经济增长的源泉。……人口因素是如何在改革中被转化成高速增长的呢?我讲三个故事,作为改革开放三个历史瞬间的代表。第一个是小岗村的故事。……家庭联产承包制赋予了农民自主配置生产要素的权利,因此,一旦剩余劳动力显性化,需要转移的时候,体制条件便逐步与之适应。先是转移到更广义的农业即林牧副渔产业上,继而转到农村的非农产业即乡镇企业中,再进一步依次转移到小城镇、小城市、中等城市、大城市和沿海地区。在这个过程中就出现了第二个故事——邓小平1992年的南巡及其讲话。在这些讲话中,他肯定了经济特区,肯定了市场经济,推动了对外开放。从此,沿海地区吸引了更多的制造业投资,吸纳了大规模地转移出来的农村劳动力。这种重新配置在微观上提高了农民收入,同时在宏观上提升了中国的劳动生产率和全要素生产率。第三个故事是中国加入世界贸易组织。……从此我们就真正地逐步参与到世界经济分工体系之中,引进外资发展劳动密集型产业,把剩余劳动力体现在劳动密集型产品当中,通过贸易中取得了国际竞争力,从而在经济全球化过程中兑现了我们的人口红利。……直至2010年之前,中国潜在的经济增长率大约为10%。如果查阅世界银行的各国数据会发现,这个时期没有任何一个其他国家有这么快的增长速度,也找不出任何国家在任何其他时期有过这样的经济增长表现。正是由于独特的人口转变阶段,与独特的改革开放举措结合在一起,形成了中国的二元经济发展过程。

——中国社会科学院蔡昉教授在首届中国发展理论国家年会上的发言

(1)根据材料一并结合所学,简析清代人口数剧增的原因及造成的影响。(8分)

(2)根据材料二并结合所学,分析改革开放后人口因素是如何推动社会主义建设的?结合上述材料谈谈对今天中国的启示。(8分)

17. 【中共文艺政策与抗战歌曲】(12分)

材料一毛泽东《在延安文艺座谈会上的讲话》中强调,文艺是一条革命的“战线”。在中共文艺政策的指导下,太行根据地的八路军战士和普通百姓都热衷于唱抗战民歌。他们常常将太行山民歌在歌词内容与演唱形式上进行改造。如《我送哥哥上前线》《当不了英雄别登门》《送郎去参军》《送青年们去参军》《哥哥扛上了机关枪》《参军曲》等生动再现了全民动员积极参军的情景。

——摘编自杨丽琴《抗战歌曲的历史记忆——以太行山抗战民歌为考察对象》

材料二 文化抗战的组织形式,是中共领导的抗日民族文化统一战线。在音乐抗战领域,中共领导的音乐界抗战活动开始自“九一八”事变后。进步音乐界人士创作了大批抗战歌曲。全面抗战后,进步音乐界创作了大批反映抗战、鼓动群众的歌曲,如《到敌人后方去》《在太行山上》《大刀进行曲》《游击队歌》等,提振了抗日士气,坚定了抗战决心。其中《义勇军进行曲》《黄河颂》等更是成为中华民族精神的象征,鼓舞千千万万爱国人士为民族解放和民族独立而献身。

——摘自王继平、罗雅真《中国共产党领导的文化抗战与中华民族精神的凝聚》

(1)根据材料并结合所学,概括抗战歌曲创作的主要特征。(6分)

(2)根据材料并结合所学,简述中共抗战时期文艺政策的历史作用。(6分)

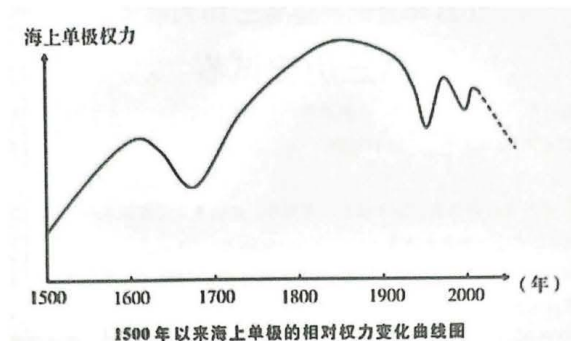
18. 【大航海与海洋格局】(15分)

材料一直到15世纪之后人类世界才真正开始尝试相互碰撞、物资交换,开始了相互支配和冲突以及文化的交流。大洋航海之路一旦被打开,世界各大陆迅速实现了相互连结。海洋不再是交流的障碍,开始扮演超高速公路的角色。各文明圈和生态界的各要素向全世界扩散,我们生活的近代世界也随之经历了激变。……最初

世界海路的开拓毫无疑问是欧洲航海人的功绩。

-(韩)朱京哲《深蓝帝国：海洋争霸时代 1400-1900》

材料二 就海上格局而言，人类历史大致经历了 16 世纪前的区域格局阶段、1500—2000 年的单极主导阶段，以及正在进入的一个多极格局阶段。



—摘自胡波《从霸权更替到“多极制衡”——16 世纪以来的海上格局演变》

(1)根据材料一并结合所学，回答“最初世界海路的开拓毫无疑问是欧洲航海人的功绩”的原因，并概括“大洋航海之路”打开对人类社会发展的影响。(8分)

(2)结合材料二和所学知识，对材料二曲线图所示的海洋格局予以说明。(7分)

19.【李大钊与史学研究】(12分)

材料 李大钊作为中国马克思主义史学的奠基者之一，在阐释、传播唯物史观方面作出了重要贡献。1916年，李大钊曾撰写《民彝与政治》一文，认为人民的意志和力量在历史运动中起着决定的作用。后来，他还写了《庶民的胜利》《平民政治与工人政治》等文章。1919年，李大钊发表《我的马克思主义观》一文，指出“历史的唯物论者，既把种种社会现象不同的原因，总约为经济的原因，更依社会学上竞争的法则，认许多组成历史明显的社会事实，只是那直接，间接，或多，或少，各殊异阶级间团体竞争所表现的结果。他们所以牵入这竞争中的缘故，全由于他们自己特殊经济上的动机。”。1920年，李大钊撰写《由经济上解释中国近代思想变动的原因》，指出“凡一时代，经济上若发生了变动，思想上也必发生变动。换句话说，就是经济的变动是思想变动的重要原因”。

——摘编自《中国史学史》

阅读材料，任选中外历史上的一个史事(历史事件或历史现象),运用材料中李大钊阐释的唯物史观进行解释。(要求：观点明确，史论结合，表述成文。)

关于我们

自主选拔在线是致力于提供新高考生涯规划、强基计划、综合评价、三位一体、学科竞赛等政策资讯的升学服务平台。总部坐落于北京，旗下拥有网站（[网址：www.zizzs.com](http://www.zizzs.com)）和微信公众平台等媒体矩阵，用户群体涵盖全国 90% 以上的重点中学师生及家长，在全国新高考、自主选拔领域首屈一指。

如需第一时间获取相关资讯及备考指南，请关注**自主选拔在线**官方微信信号：**zizzsw**。

