

# 文科综合

## 考生注意：

1. 本试卷分第Ⅰ卷(选择题)和第Ⅱ卷(非选择题)两部分,共300分。考试时间150分钟。
2. 请将各题答案填写在答题卡上。
3. 本试卷主要考试内容:高考全部内容。

## 第Ⅰ卷 (选择题 共140分)

本卷共35小题,每小题4分,共140分。在每小题给出的四个选项中,只有一项是符合题目要求的。

高山奶牛在北欧地区有着悠久的历史,与北欧北部地区景观相互交织在一起,成为具有历史价值的传统农业文化景观。第二次世界大战时期,波德平原的部分奶牛被带到北欧山地,与北欧高山奶牛杂交。据此完成1~3题。

1. 奶牛成为北欧地区的传统农业文化景观,主要取决于  
A. 土壤                      B. 地形                      C. 水文                      D. 气候
2. 北欧高山奶牛生存空间中的典型景观有  
①稻田 ②木屋 ③针叶林 ④滩涂  
A. ①②                      B. ③④                      C. ②③                      D. ③④
3. 与波德平原的奶牛相比,北欧高山奶牛所产乳品的品质更高,得益于  
A. 运动量更大              B. 科技含量高              C. 生长周期短              D. 运输周期短

1937年全面抗日战争爆发,天津、青岛、上海、武汉等主要城市相继失守,包括纺织在内的工矿企业遭到严重破坏,一些东部地区的纺织工厂内迁西南地区,在四川、贵州、云南等地扎根。部分纺织工厂保留至今,但经济效益较低。据此完成4~6题。

4. 纺织工厂内迁西南地区,主要通过  
A. 空运                      B. 铁路运输                      C. 公路运输                      D. 水运
5. 从满足生产需求的角度看,迁入西南地区之后变化最小的区位条件是  
A. 技术水平                      B. 劳动力供应                      C. 市场信息                      D. 基础设施
6. 当前,西南地区保留的纺织工厂最适合  
A. 向区域中心城市搬迁                      B. 向周边产业园区集聚  
C. 在西南地区内部分散                      D. 向东部沿海地区转移

2022年4月,南京明城墙基部附近发现5棵天然更新的水杉实生苗或幼树,在该处城墙风化的墙砖缝隙中,也生长着天然更新的2棵水杉实生苗或幼树(如图),这构成了迄今世界城市环境中已知最大的水杉天然更新种群。据此完成7~8题。



7. 南京明城墙上的水杉  
A. 耐瘠薄                      B. 耐涝                      C. 喜阴                      D. 喜凉





此,下列解读正确的是

- ①中国式现代化是对西方现代化的否定,符合发展中国家利益
- ②中国式现代化是走和平发展道路的现代化,符合时代潮流
- ③中国式现代化高举共同发展旗帜,主导建立国际新秩序
- ④中国式现代化有助于构建新型国际关系,推动国际关系民主化

A. ①②                      B. ①③                      C. ②④                      D. ③④

19. 民族歌剧《沂蒙山》在全国获得广泛好评,迄今已上演超 130 场。该作品取材于抗战时期发生在沂蒙山区的真实故事,塑造的每个人物都有原型,展现的每个事件都有记载,生动地塑造了抗日战争中人民子弟兵的形象,以沂蒙人民这样一个群体形象表达沂蒙精神的深刻内涵。这告诉我们

- ①优秀文艺作品具有持久的艺术魅力
- ②文艺作品需要继承和创新革命文化
- ③文艺创作塑造人物要真实还原历史
- ④社会实践为文艺的创作提供了源泉

A. ①②                      B. ①④                      C. ②③                      D. ③④

20. 目前,我国登记在册的群众文艺团队超过 45 万个,比 2012 年增加 50%。篮球赛、山歌大赛、广场舞大赛等具有浓郁地方特色的文化活动在许多乡村、社区如火如荼开展。在这些活动中,群众不只是文化观赏者,还能从台下走到台上,从观众成为主角。这给我们的启示是

- ①发展社会主义文化需要采取人民群众喜闻乐见的方式
- ②人民群众真正喜欢的是形式多样的社会主义通俗文化
- ③文化创作以展示人民群众奋发有为的精神风貌为中心
- ④文化建设要为群众展示自我、沟通交流提供便利条件

A. ①③                      B. ①④                      C. ②③                      D. ③④

21. 2023 年 1 月,中国某生物技术育种创新团队联合国内其他科研单位共同绘制完成了首个豆科植物百脉根根尖单细胞表达图谱,鉴定出根尖的主要细胞类型,发现了新的细胞类型特异基因,并分析了各个细胞类型的潜在功能,这对研究豆科植物根系发育、结瘤固氮以及生物育种具有重要意义。材料佐证了

- ①在实践中追求和发展真理是一个漫长而曲折的过程
- ②认识的真理必须通过实践的检验才能获得
- ③世界上没有不可认识之物,只有尚未被认识之物
- ④实践与认识是辩证统一的,具有目的性和社会历史性

A. ①②                      B. ①③                      C. ②④                      D. ③④

22. 沙洲氤氲、河湖纵横、候鸟齐飞、苇荡摇曳……走进湿地、亲近大自然已成为许多人热衷的生活方式,城市公园湿地越来越受到人们青睐。湿地公园主要以原生态的自然湿地景观吸引游客进行生态观光,同时融合了钓鱼、农植、露营、游船、骑行等多种休闲体验活动。可见,湿地公园

- ①主动创造自在事物的联系,满足了人们的美好生活需要
- ②与城市生活形成有机整体,提升了湿地旅游的综合价值

【高三文科综合 第 4 页(共 12 页)】

- ③是城市生态建设的新事物,克服了旧事物中过时的东西  
④把握事物存在和发展的各种条件,促进了生态旅游发展
- A. ①②                      B. ①③                      C. ②④                      D. ③④
23. 饮瓢水,品百姓甘苦;摸炕被,感乡亲冷暖;掀锅盖,知人民饥饱。“粮食够不够吃”“看病有没有保障”“河流水质如何、鱼类恢复得怎样”……这些困扰群众的“小事”摆在了习近平总书记的案头、记在了他的心中,也一项项列入中央重要会议议程,一次次成为政策发力点。这是基于
- ①人民是历史的创造者,是决定党和国家前途命运的根本力量  
②价值判断和价值选择正确与否取决于实际满足人民群众需要的程度  
③坚持群众观点和群众路线是成功建设中国特色社会主义的重要保证  
④物质资料的生产活动是人类社会存在与发展的物质基础
- A. ①③                      B. ①④                      C. ②③                      D. ②④
24. 下表所示为战国末期吕不韦所编著的《吕氏春秋》对先秦诸家文献的征引情况统计(单位:份)。据表可知,这一做法

儒家	法家	道家	墨家
31	1	31	1

- A. 巩固了儒学正统地位                      B. 奠定了政治变革理论基础  
C. 反映了思想发展潮流                      D. 消弭了各家学派思想隔阂
25. 汉代史家把六经作为鉴别史料及判断史料价值的标准。司马迁取舍史料的标准就是“考信于六艺”“折中于夫子”。这表明汉代史学
- A. 深受主流思想影响                      B. 注重义和理的阐发  
C. 主动适应社会现实                      D. 缺乏研究的可信性
26. 北宋使用地方行政体制分离制,在每一高层政区建立多个机构,高层行政组织的数目数倍于高层政区数,中央的行政幅度剧增。以北宋熙宁以后为例,全国共二十三转运使路,每路有漕、宪、仓三个机构,高层行政组织数超七十个。这一制度设计主要目的是
- A. 稳定国家行政成本                      B. 提高中枢决策效率  
C. 强化君主专制权力                      D. 分化地方行政权力
27. 乾隆《汉阳府志》记载,汉阳所产棉布“四方来贸者辄盈千累百捆载以去”,销售范围远至秦晋、滇黔;孝感、应城等县为又一棉布产区,“四时舟车负贩不绝”;荆州府监利等县所产布匹则“西走蜀黔,南走百粤”,主要销往西南。这一现象表明,清代湖北地区
- A. 农业生产出现衰退趋势                      B. 商品区域化生产的特征明显  
C. 雇佣关系得到普遍发展                      D. 区域间存在不同的市场需求
28. 19世纪90年代末,日本驻华大使馆的书记官中岛雄称:“现在的北京政府……建条铁路就动辄要去占卜风水;敕议很久,才能下定决心办采矿等实务……像这样要在短短三年里急速冒进的行为,其结果只能导向政变蜂起的穷途末路。”这可用于说明
- A. 近代中国社会转型的艰难性                      B. 晚清政府革新举措的滞后性  
C. 清廷举办洋务新政的紧迫性                      D. 近代中国变革活动的冒进性

【高三文科综合 第5页(共12页)】

29. 1919年,《新潮》杂志发表了学者傅斯年的文章《人生问题发端》。傅斯年在文中认为无论道教、佛教还是儒家思想都无法体现“人生的真义”,所以,他主张必须到生物学、心理学、社会学那里去探究人生的真谛。这说明傅斯年

- A. 全面否定中国传统文化  
B. 积极倡导科学理性的思想  
C. 积极推进新道德的普及  
D. 过于强调新旧文化的对立

30. 中华民国北京政府废除历代帝王祭祀,北京政府的总统们也没有用国家经费祭祀其列祖列宗。而南京国民政府的历代帝王陵寝祭祀作为“民族扫墓节”的主要内容,是在异族入侵的时代背景下所做的特殊文化宣传。这集中表明近代

- A. 民主政治因异族入侵而中断  
B. 长期军阀割据导致国家财政拮据  
C. 家国同构宗法社会逐步解体  
D. 帝王祭祀是抵御侵略的主要手段

31. 下表所示为新中国成立至21世纪初中国在相关领域签署加入的国际多边条约数量(单位:个)的变化情况。这一变化反映出新时期的中国

时期	经济贸易	政治军事	环境	科教文卫	交通运输
1949年10月~1978年12月	2	9	0	2	10
20世纪70年代末~21世纪初	23	16	15	13	19

- A. 深入参与全球多边治理  
B. 不断发展与世界大国的关系  
C. 经济外交占据主导地位  
D. 强化了同同盟国之间的关系

32. 公元534年,东罗马帝国皇帝查士丁尼发布的一个教谕提到:在帝国推行成文法,但乡村地区允许例外,乡村可使用当地的自制法规,但要有7名证人,在很小的地方有5名证人就可。这表明当时的罗马

- A. 司法审判公正严谨  
B. 保留了部分的习惯法特征  
C. 实现了法律的公正  
D. 忽视了对个人权益的保护

33. 下表所示为19世纪中后期英国毛纺织品进口原料比例变化情况。这可用来说明,当时的英国

	1865~1869年	1875~1879年	1880~1884年	1885~1889年	1890~1894年	1895~1899年
比例	49%	55%	65%	74%	74%	80%

- A. 工业经济实力逐渐衰落  
B. 产业结构失衡现象严重  
C. 产业革命进程不断加快  
D. 世界工厂地位得以确立

34. 1883年,美国联邦法院大法官布拉德利说道:奴隶被解放出来,并在“一些特别有利的立法”的帮助下“摆脱了奴隶制的限制之后”,他们“必须还要经历某种阶段,才能够成为(与白人)同等的公民”。这一言论

- A. 违背了天赋人权的原则  
B. 彰显了人民主权原则  
C. 维护了民主政体的稳定  
D. 否认了黑人奴隶制度

35. 欧共体在1993年1月出台了关于政府采购商品的法令,要求欧共体成员国在进行政府采购时优先采购欧共体自身生产的产品。针对这项规定,美国政府对欧共体实行贸易制裁。最

【高三文科综合 第6页(共12页)】

终美欧双方于 1993 年 4 月达成了关于机电设备市场开放一致的协议。这反映出当时

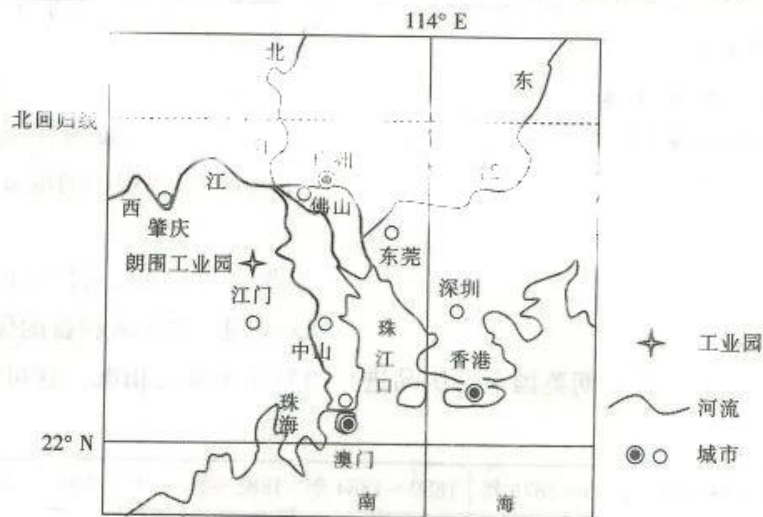
- A. 西欧已经摆脱美国的控制  
B. 美国霸权主义行为受到抵制  
C. 经济全球化进程陷入停滞  
D. 区域集团化增强了西欧实力

## 第 II 卷 (非选择题 共 160 分)

本卷包括必考题和选考题两部分。第 36 题~第 42 题为必考题,每个试题考生都必须作答。第 43 题~第 47 题为选考题,考生根据要求作答。

36. 阅读图文材料,完成下列要求。(22 分)

珠三角村级工业园是工业化初级阶段的历史产物,是指在集体所有制的基础上,由集体经济驱动、以乡镇企业为主导形成的工业园区。江门市是位于珠江西岸的珠三角外围城市,朗围工业园位于江门北部,始建于 2007 年,主要为帐篷、制伞、五金等传统产业。近年来,朗围工业园部分厂房内部拆分后进行小型化分租。当地村民对朗围工业园改造意愿强烈。2021 年朗围工业园开始采用“政府主导+资本协作+公众参与”的模式进行改造,包括镇政府、国资委、承包商、金融机构、村集体与村民等在内的多元主体都参与到改造过程中。朗围工业园积极对接粤港澳大湾区,预计未来 10 年,将容纳 50 家科技创新企业,为本地区提供 5000 个以上的就业机会,增加约 5 亿元的财税收入。下图示意朗围工业园的位置。



- (1) 简述近年来朗围工业园出现厂房小型化分租现象的原因。(6 分)
- (2) 当地村民对朗围工业园改造意愿强烈,对此做出合理解释。(4 分)
- (3) 分析“政府主导+资本协作+公众参与”模式对朗围工业园改造的意义。(6 分)
- (4) 从对接粤港澳大湾区的视角,为朗围工业园升级改造提出合理建议。(6 分)

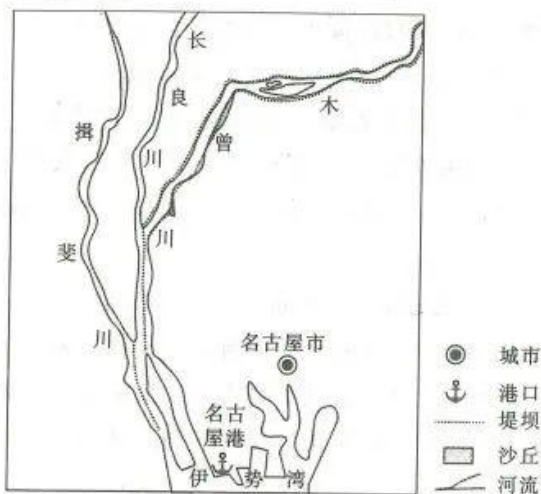
37. 阅读图文材料,完成下列要求。(24 分)

基索三河位于日本本州岛中部,由木曾川、揖斐川、长良川组成,中下游主要为平原,历史上三河之间易摆动。木曾川为基索三河中最长的河流,下游河道中多心滩,河岸多边滩,东岸发育沙丘。13 世纪开始,当地在木曾川下游沿岸修筑堤坝,堤坝建成后,河岸沙丘进一步扩大。19 世纪,人们修筑堤坝将长良川和木曾川、揖斐川分隔,使得长良川由流入木曾川改为流入揖斐川。目前,基索三河下游已成为日本重要的制造业基地,名古屋为国际化大都

【高三文科综合 第 7 页(共 12 页)】

· 23-418C ·

市。下图示意基索三河下游水系。

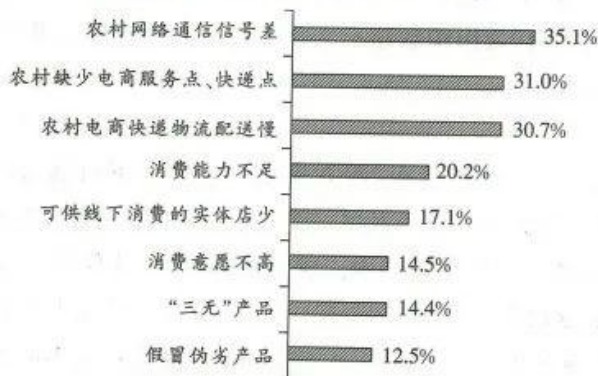


- (1) 简述木曾川河岸沙丘仅分布在河道东岸的原因。(6分)
- (2) 比较木曾川心滩、边滩、沙丘平均粒径大小,并分析原因。(8分)
- (3) 木曾川下游沿岸的堤坝建成后,沙丘进一步扩大,对此做出合理解释。(6分)
- (4) 分别说明修筑堤坝将长良川和木曾川、揖斐川分隔的目的。(4分)

38. 阅读材料,完成下列要求。(14分)

2023年政府工作报告将扩大国内需求作为2023年政府工作的首要任务。

扩大内需,提振消费,农村潜力巨大。统计数据显示,2023年1~2月,我国乡村消费品零售额10271亿元,同比增长4.5%(城镇消费品零售额同比增长3.1%)。乡村消费正从传统生产型消费向发展型消费转变。中国消费者协会发布的《2022年农村消费环境与相关问题调查报告》显示,我国农村居民对当前农村消费环境的综合满意度为70.35分,总体表现良好,同时在快递到村等方面仍有较大提升空间。下图是关于农村消费迫切需要解决的问题调查的部分结果(图中选项为多选,所有选项之和大于100%)。



结合上述材料,运用经济生活知识,说明国家扩大乡村消费可以采取的积极办法。

39. 阅读材料,完成下列要求。(12分)

社区是党和政府联系群众、服务群众的“神经末梢”,社区治理离不开居民的参与。在M社区,每条胡同都选出两名热心居民担任“胡同主事”,搭建起“胡同主事议事厅”,让自家事自家议。该社区所在的南大街地区是该市老城核心区最大的平房聚居区,不少老房子有

【高三文科综合 第8页(共12页)】



着上百年历史。胡同纵横交错,基础设施老化,社区不仅安全隐患较多,邻里间也存在一些矛盾。为此,M社区将社区党总支、“胡同主事”、社区志愿者、辖区共建单位等多方力量拧成一股绳,坚持社区的事务大家议、治理大家谈、决策大家定,从“接诉即办”向“未诉先办”转变,着力解决好社区居民的急难愁盼问题。通过社区治理,街巷变美了,居民的生活更方便了,社区居民纷纷为社区治理点赞。

结合材料,运用政治生活知识,说明M社区是如何提升社区治理能力的。

40. 阅读材料,完成下列要求。(26分)

“文明以止,人文也。”用文明的力量使人达到至善是中国古人倡导的人文精神。“民惟邦本,本固邦宁”的传统理念,化作“以人民为中心”的治国理政实践;人类命运共同体理念,与先贤对“天下大同”的追求一脉相承;“以和为贵”的传统智慧,为中国处理对外关系、弥合国际争端提供了重要指引……今天,世界各国的相互交融比过去任何时候都更广泛、更深入。同时,百年大变局加速演进,和平赤字、发展赤字、安全赤字、治理赤字有增无减。“文明优越论”“文明冲突论”的杂音逆流不时泛起,阻碍着人类发展进步。面对人类未来,是对抗还是合作,是分裂还是融合?面对人类文明前景,是选择进步还是倒退?饱含对人类前途命运的深切关怀、对人类文明前景的深邃思索,中共中央总书记、国家主席习近平在2023年举行的中国共产党与世界政党高层对话会上首次提出全球文明倡议,以“四个共同倡导”为主要内容,即“共同倡导尊重世界文明多样性、共同倡导弘扬全人类共同价值、共同倡导重视文明传承和创新、共同倡导加强国际人文交流合作”。在国际社会激起广泛回响、引发强烈共鸣。

(1)中国外交理念彰显了中华优秀传统文化的强大生命力和时代价值。结合材料,运用文化生活知识对此加以说明。(10分)

(2)结合材料,运用矛盾的普遍性和特殊性的知识,说明中国提出的全球文明倡议在国际社会激起广泛回响、引发强烈共鸣的原因。(12分)

(3)结合材料,请你就中国对外宣传全球文明倡议提出两条合理化建议。(4分)

41. 阅读材料,完成下列要求。(25分)

材料一

清代中期,雍正帝接受内阁学士吴士玉的建议编练保甲,“凡城市、村落、堡镇皆度其道里之远近,居民之疏密,设乡正、里长若干人,使各纠察其地之奸非,而相劝以敦本励行”。改革之后的清代保甲制度融合了里甲、保甲、乡约、社等各种乡村职役的基本职能,其承办的事务主要包括承催粮租、稽查贼匪、防护堤埝、稽查命盗、帮办差务,乡里组织俨然成为官府在乡村社会的总负责人。清代乡里组织的职役人员要接受地方官的任命、考核,被称为“在官人役”,同时他们大多由村民推举、具保,接受村民监督,与村庄有着千丝万缕的联系。到清代中后期,由于地方事务日益繁剧,保甲职役人员在地方治理过程中的作用日益凸显,政府逐渐把乡保等职役看成维护社会秩序,沟通国家、地方官与民间社会的重要渠道。

——摘编自王洪兵《清代乡村治理多元协同模式的建构及其得失》

### 材料二

国民政府行政院于1934年12月通知各省,普遍实行保甲制度。于是,保甲制度被推向全国。保甲制的基本形式是10进位制,10户为一甲,10甲为一保,10保以上为乡镇。保设保办公处,有正副保长及民政、警卫、经济、文化干事各一人,保长兼任保国民兵队长和保国民学校校长,与乡(镇)长一样,亦实行政、军、文“三位一体”。保甲制对保甲长人选极为重视,规定有以下情事之一者不得充任保甲长:一、年未滿二十者;二、寄居当地未滿两年者;三、有危害民国行为曾受徒刑之宣告者……八、行为不正乡里不齿者。从20世纪30年代初开始推行的保甲制度,近十年在全国范围内陆续建成,绝大部分省份均以《各县编查保甲户口条例》为蓝本,并根据地方实际,制订了地方编制保甲之规程。

——摘编自王云骏《民国保甲制度兴起的历史考察》

### 材料三

1982年12月,第五届全国人大通过了修改后的《中华人民共和国宪法》,规定:“乡、民族乡、镇是我国最基层的行政区域,设立人民代表大会和人民政府。农村按居住地设立的村民委员会是基层群众性自治组织。”经过调整和1987年撤区并乡以后,1988年12月全国共有乡(镇)政府6.98万个。“社改乡”和“队改委”完成后,形成了一种新的乡村政治结构——“乡政村治”。

——摘编自张健《中国社会历史变迁中的乡村治理研究》

(1)根据材料一并结合所学知识,概括清代中期乡村治理的特点。(8分)

(2)根据材料一、二并结合所学知识,指出与清代中期相比,南京国民政府乡村治理的变化,并结合所学知识分析其原因。(12分)

(3)根据上述材料并结合所学知识,谈谈你对新时期中国乡村治理的认识。(5分)

### 42. 阅读材料,完成下列要求。(12分)

#### 材料

文艺复兴时期人文主义精神之精髓所在,就是在尊崇基督教精神并将基督教伦理视为合理道德规范的基础上确立的新时代的人生观、价值观,赋予“人”新的内涵。文艺复兴时期人文主义把人的内涵最终定义在高贵人、意志自由人、世俗人和全面发展人的范围之内,赋予了“人”新的内涵。

——摘编自张国臣《论文艺复兴时期人文主义关于人的内涵》

结合所学世界近现代史的相关知识,就材料整体或其中任意一点拟定一个论题,并予以阐述。(要求:论题明确,史实准确,史论结合。)

请考生从2道地理选考题、3道历史选考题中每科任选一题作答。如果多做,则每科按所做的第一题计分。

### 43. [地理——选修3:旅游地理](10分)

我国某互联网旅游企业创立于1999年,拥有大型在线旅游预订平台,旅游产品预订量在国内领先。自2018年起,该企业在乡村布局高端度假农庄,结合地域特色开展丰富的体验项目,并针对不同类型游客的需求提供多样化餐厅和客房。高端度假农庄主要聘用当地

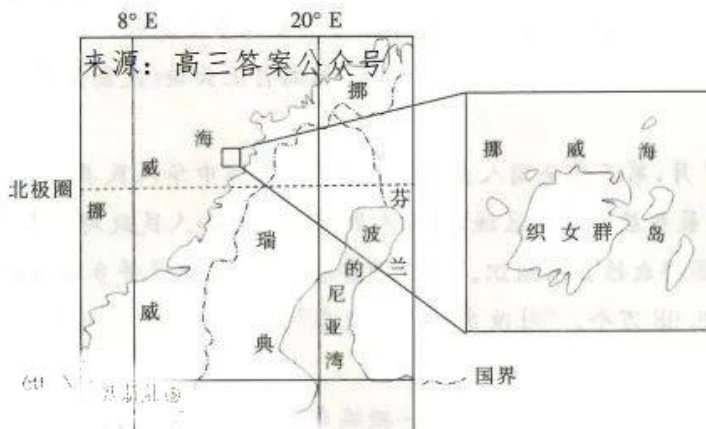
【高三文科综合 第10页(共12页)】

村民,统一培训后上岗。目前,该企业的高端度假农庄已经在安徽、河南、湖南、江西、陕西、广西、新疆、内蒙古八省区落地,计划到2025年突破100家。

简述该企业高端度假农庄对乡村旅游发展的意义。

44. [地理——选修6:环境保护](10分)

织女群岛地处挪威海,原生植被以旋果蚊子草为主,植株高80~120 cm,生物量多分布于植株上部。当地世世代代的渔民和农民将捕鱼与精细耕作结合,形成半自然的景观。20世纪60年代,织女群岛停止耕作,旋果蚊子草大量繁殖,水土流失逐渐加剧,水鼠猖獗。下图示意织女群岛的位置。



说明织女群岛停止耕作后土壤侵蚀严重的原因,并提出保护措施。

45. [历史——选修1:历史上重大改革回眸](10分)

材料

公元前685年,齐桓公拜管仲为相,当时许多公田出现“田在草间”的荒凉景象。管仲创造性地制定了“相地而衰征”制度,即在个体生产的基础上,根据土地的肥瘠不同差额征收土地税。“相地而衰征”共分为三个步骤:一是“相地”,二是“均地分力”,三是“与之分货”。“相地”就是测量土地面积(正地),并将土地按肥沃程度分定等级(相壤);“均地分力”类似于今天中国农村实施的家庭联产承包责任制,即把公田分给农户耕种,扩大各户所占有的份地数量,变集体劳动为一家一户的个体生产;“与之分货”,即实行级差地租制,生产者按照土地等级将一定比例的收获物交给国家,其余部分则留给生产者自己,以实物税代替过去的劳役税。同时,为了鼓励农民开垦荒地,管仲规定“凡新垦荒地,免交三年租税”。

——摘编自侯锦超《管仲的经济变革思想及其对后世的影响》

(1)根据材料并结合所学知识,指出管仲“相地而衰征”土地政策出台的历史背景。(6分)

(2)根据材料并结合所学知识,简要评价管仲“相地而衰征”土地改革的积极影响。(9分)

46. [历史——选修3:20世纪的战争与和平](15分)

材料

1956年10月,以色列军突然入侵埃及,他们宣称将摧毁游击队骚扰以色列定居点的基地。英国和法国政府立刻宣称运河的航行自由受到威胁,要求以埃停火。这一要求被埃及总统纳赛尔拒绝后,英法首先发动了空袭,随后又发动海路进攻,英法的冒险以耻辱的方式

而告终。苏伊士事件看起来是(其实本身就是)英法的一场灾难,但是从长远来看,它的重要性主要体现在心理上。英国人遭受的损失最大,它使其他国家纷纷对它丧失好感,尤其是英联邦内部,它们还怀疑起英国从帝国各处撤退的诚意来。战争还加剧了阿拉伯人对以色列的憎恨,由于怀疑其与西方紧紧地联系在一起,于是阿拉伯人更容易接受苏联的介入。纳赛尔的声望因此战大幅提升。有些苦涩的是,苏伊士事件在关键时刻分散了西方各国的注意力,让它们无暇顾及东欧(当西方国家还在争吵不休时,那里反对苏联卫星国政府的匈牙利事件已被苏联军队粉碎),然而,这次危机过后,区域事件的本质仍大体如常,苏伊士事件并没有改变冷战或中东的平衡。

——摘编自[英]J. M. 罗伯茨等《企鹅全球史·新纪元·我们的时代》

(1)根据材料并结合所学知识,分析苏伊士事件是“英法的一场灾难”的原因。(9分)

(2)根据材料并结合所学知识,谈谈你对苏伊士事件的认识。(6分)

47. [历史——选修4:中外历史人物评说](15分)

材料

赵九章(1907—1968),中国人造卫星事业的倡导者和奠基人之一,“两弹一星”元勋。新中国成立后,为了解决全国气象台网建设的实际困难,赵九章主动带领中科院地球物理所的相关研究人员与军委气象局合作成立了“联心”与“联资”两家合作机构。两家机构在“寒潮、台风警报等灾害性天气预报业务及培训预报人员等方面,都发挥了很好的作用”。我国卫星研制工作始于1958年的“581”组。当时赵九章任副组长。该项任务涉及组织联合中科院力学所、自动化所、化学所、电子所以及计算机技术所等平行机构,赵九章又主要负责卫星设计与火箭探空的技术问题,所以他经常把不同部门的科学家们召集在一起进行研究。1964年,我国导弹成功试射,赵九章敏锐地意识到卫星研制该真正提上日程了,于是立即着手向党中央写建言信,周总理很快就把信转给聂荣臻副总理落实。1959年3月,赵九章向国务院建议恢复研究生培养制度。1963年,他借鉴美国培养科技精英的经验,提出可以先办研究生班,后建研究生院的建议。赵九章不但是“我国把数学、物理学引入气象学的第一人”,还是我国开展海浪研究的第一人,开展现代空间物理学研究的第一人,人造卫星事业的奠基人之一。

——摘编自史现明《赵九章对科学家精神的贡献——  
协同精神与敢为人先的科学教育家典范》

(1)根据材料,概括赵九章的历史贡献。(9分)

(2)根据材料并结合所学知识,简述赵九章所体现的精神品质。(6分)

## 关于我们

自主选拔在线是致力于提供新高考生涯规划、强基计划、综合评价、三位一体、学科竞赛等政策资讯的升学服务平台。总部坐落于北京，旗下拥有网站（[网址：www.zizzs.com](http://www.zizzs.com)）和微信公众平台等媒体矩阵，用户群体涵盖全国 90% 以上的重点中学师生及家长，在全国新高考、自主选拔领域首屈一指。

如需第一时间获取相关资讯及备考指南，请关注**自主选拔在线**官方微信信号：**zizzsw**。



Q 自主选拔在线

