

湘豫名校联考

2023年4月高三第二次模拟考试

文科综合能力测试

注意事项:

1. 本试卷共 18 页, 时间 150 分钟, 满分 300 分。答卷前, 考生务必将自己的姓名、准考证号填写在答题卡上。来源: 高三答案公众号
2. 回答选择题时, 选出每小题答案后, 用铅笔把答题卡上对应题目的答案标号涂黑。如需改动, 用橡皮擦干净后, 再选涂其他答案标号。回答非选择题时, 将答案写在答题卡上。写在本试卷上无效。
3. 考试结束后, 将本试题卷和答题卡一并交回。

一、选择题: 本题共 35 小题, 每小题 4 分, 共 140 分。在每小题给出的四个选项中, 只有一项是符合题目要求的。

秦巴山区地处湖北、重庆、四川、甘肃、河南、陕西 6 省市交汇地带, 面积 $22.5 \times 10^4 \text{ km}^2$, 总人口 3 765 万, 是《中国农村扶贫开发纲要(2011—2020 年)》中确定的 14 个集中连片特困区之一。秦巴山区按坡度由低到高划分 5 个级别进行经济开发自然适宜性评价。下表示意秦巴山区人口经济的地形环境适宜性状况。据此完成 1~3 题。

平均坡度		土地面积 /km ²	经济 /十亿元	人口 /万人	人口密度 /(人/km ²)	人均 GDP /元
级别	值域/°					
I	4.09~10.00	7 232.20	53.74	325.63	450.25	16 503.09
II	10.01~15.00	28 490.39	113.79	854.73	300.01	13 312.63
III	15.01~20.00	76 659.00	254.59	1 413.48	184.39	18 011.65
IV	20.01~25.00	87 461.47	116.70	948.47	108.44	12 304.03
V	25.01~28.59	23 634.80	18.94	162.76	68.86	11 635.54

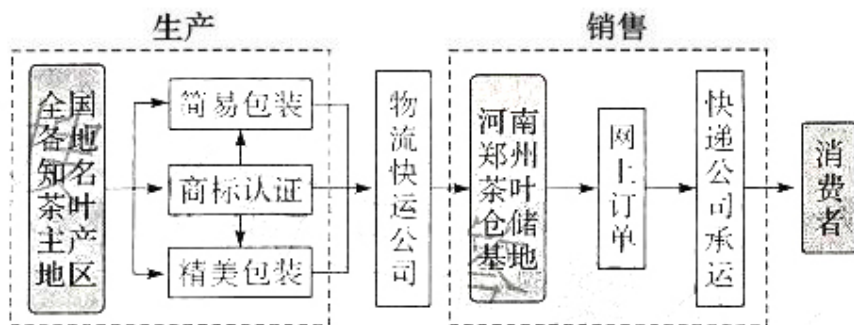
1. 秦巴山区地形起伏度的高低直接影响着当地的

- A. 资源开发 B. 环境质量 C. 扶贫政策 D. 人口集聚

文科综合试题 第 1 页(共 18 页)

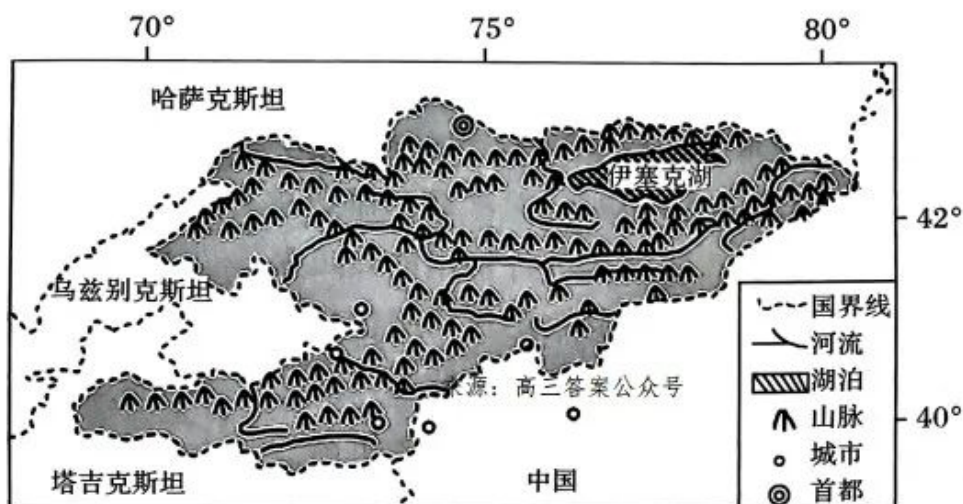
2. 秦巴山区开发适宜性高的地区主要是地形坡度
- A. I 级区
B. II 级区
C. III 级区
D. IV、V 级区
3. 秦巴山区地形起伏度 II、III、IV 级区在加快脱贫步伐中应重点
- A. 推广粮食加工产业
B. 落实务工返乡创业
C. 培育特色优势产业
D. 稳固农副品牌产业

随着网络和智能手机的普及,网络购物逐渐成为一种消费习惯。近年来,随着网购茶叶的消费者越来越多,人们发现产自福建、浙江、四川等地的知名茶叶,发货地很多都是河南省郑州市。而且随着发展的加快,郑州市也成为全国各大茶叶品牌仓储必选之地。下图示意茶叶生产与网购销售框。据此完成 4~6 题。



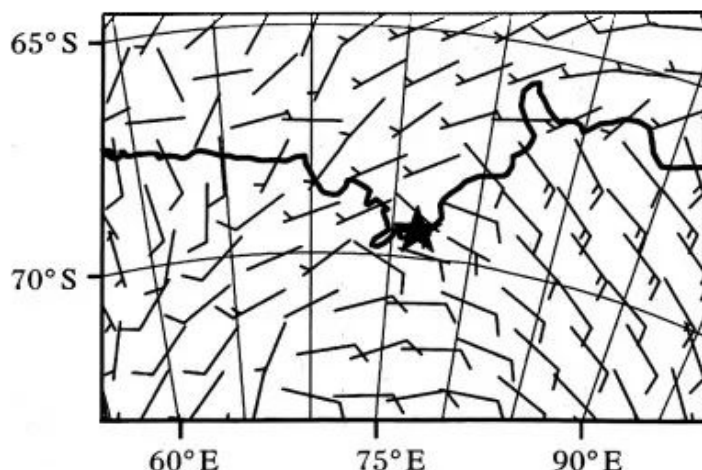
4. 国内许多饮茶消费者喜欢网购茶叶的主要原因是网购茶叶
- ①操作方便,可选择性高 ②价格比实体店购买便宜
③当日可入户送达消费者 ④质优环保,外包装较少
- A. ①②
B. ②③
C. ③④
D. ①④
5. 近年来国内网购茶叶发货地大都在河南省郑州市的主要原因是
- A. 茶叶产高质优
B. 人口数量众多
C. 交通运输便利
D. 制茶技术先进
6. 推测河南省郑州市茶叶仓储基地最可能位于
- A. 郑州国际航空港附近
B. 市公交汽车站附近
C. 高速铁路客运站附近
D. 绕城高速公路附近

吉尔吉斯斯坦境内 $\frac{1}{3}$ 的地区为山地且海拔多在 3 000~4 000 米之间。下面为该国内及周边区域略图(阴影部分表示吉尔吉斯斯坦)。据此完成 7~8 题。



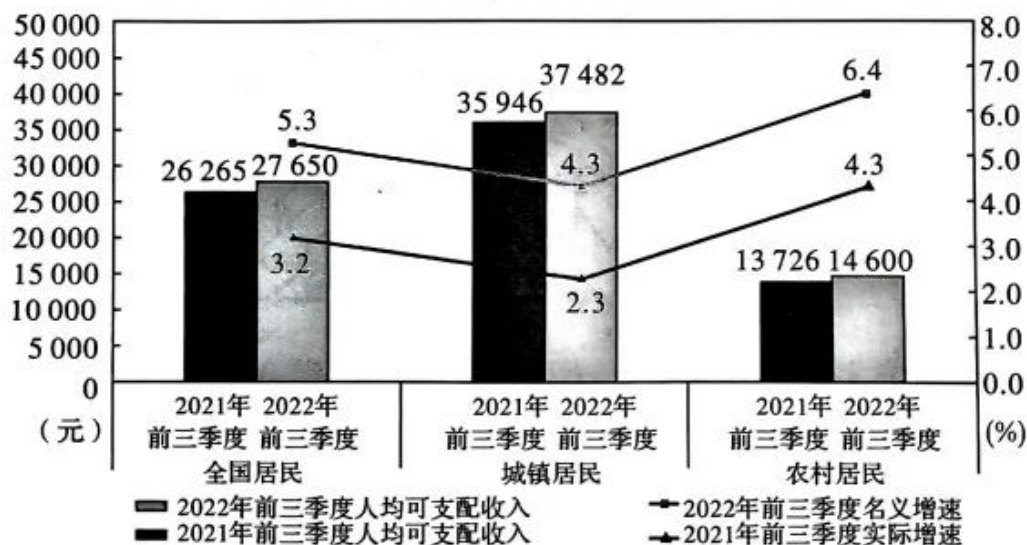
7. 限制吉尔吉斯斯坦种植业持续发展的主要因素是
- A. 所种植作物生长周期长
B. 冬季漫长, 降水稀少
C. 畜牧业用地的占比较大
D. 河流稀少, 灌溉能力弱
8. 乌兹别克斯坦大力发展棉花种植可能导致
- A. 气候暖湿化加剧
B. 外来生物大量繁殖
C. 植被覆盖率下降
D. 土壤酸化, 肥力下降

南极内陆地面辐射冷却产生的近表层冷空气, 在重力作用下沿高原斜坡加速向下坡向流动, 从而形成下降风, 其分布形态决定了南极大陆近表层风场的主要特征。下图为南极当地时间某年1月18日23时我国中山站及其周边地区表层风场图(图中五角星表示中山站位置)。据此完成9~11题。



9. 我国南极中山站1月份晴天时近地面盛行的下降风主要以
- A. 偏北风为主
B. 偏东风为主
C. 偏南风为主
D. 偏西风为主
10. 我国南极中山站1月份晴天时近地面下降风最大风速大约出现在
- A. 日出时
B. 正午时
C. 日落时
D. 午夜时

11. 推测我国南极中山站可能位于
A. 谷地南坡 B. 谷地北坡 C. 谷地东坡 D. 谷地西坡
12. 某一通信软件迎来了 iOS 端 2023 年的首个版本, 该版本增加了已拒接通话的提醒、发送消息的入口功能、对群聊二维码进行修改、支持室内地图和视频播放缩放的功能。该通信软件推出的新版本
①是通信领域生产对消费起决定作用的体现
②意味着新的消费热点有利于新产业的兴起
③表明提高其服务质量有助于扩大市场份额
④说明满足了消费者的新需求就能增加盈利
A. ①③ B. ①④ C. ②③ D. ②④
13. 2022 年前 11 个月, 我国民营企业进出口 19.41 万亿元, 增长 13.6%, 占我国外贸总值的 50.6%; 外商投资企业进出口 12.7 万亿元, 下降 0.1%, 占我国外贸总值的 33.1%; 国有企业进出口 6.15 万亿元, 增长 14.1%, 占我国外贸总值的 16%。这意味着
①非公有制经济逐渐成为我国国民经济的主体
②民营企业参与国际市场竞争的积极性进一步提升
③民营经济正在成为拉动我国外贸发展的重要引擎
④我国正逐步落实对国企民企平等对待的要求
A. ①② B. ①④ C. ②③ D. ③④
14. 下图是 2021 年和 2022 年前三季度全国及城乡居民人均可支配收入与增速情况。据此可以推断出



注:按收入来源分,2022 年前三季度,在可支配收入中,工资性收入占 56.7%,经营净收入占 15.7%,人均财产净收入占 8.9%,人均转移净收入占 18.7%。

- ①我国现阶段的分配制度使居民收入来源多样化
- ②2022年农村居民人均可支配收入增长高于城镇
- ③工资性收入是全国人均可支配收入的主要来源
- ④我国城镇居民和农村居民收入差距在逐步缩小

A. ①② B. ①③ C. ②④ D. ③④

15. 2023年1月1日起,我国将降低部分抗癌药原料、抗新型冠状病毒药原料及部分医疗用品进口关税,降低咖啡机、榨汁器、电吹风等小家电的进口关税。下列对这一政策产生的影响路径分析正确的是

- ①关税下调促使高质量供给价格下降
- ②增强国内大循环内生动力和可靠性
- ③助力构建新发展格局推动高质量发展
- ④经济负担减轻使居民的消费需求增加
- ⑤增强国内国际两个市场的联动效应

A. ①→④→②→⑤ B. ①→④→②→③
C. ①→④→③→⑤ D. ①→④→⑤→③

16. 2022年12月,国家市场监督管理总局正式发布《特殊医学用途配方食品标识指南》(以下简称《指南》)。《指南》根据《中华人民共和国食品安全法》《特殊医学用途配方食品注册管理办法》等法律法规制定,于2022年11月7日至25日公开征求意见。《指南》的发布

- ①加强了社会建设,有助于逐步实现病有所医
- ②是政府切实履行组织经济建设职能的举措
- ③体现了我国政府坚持依法决策和民主决策
- ④说明我国政府审慎用权,自觉接受公众监督

A. ①③ B. ①④ C. ②③ D. ②④

17. 在某县的集市上,总会出现一些特殊的“采购者”。他们要采购的不是商品,而是民意。这是该县已经坚持了40多年的传统——人大代表赶大集。人大代表从集市上带回来的意见,将会进入地方发展的重要决策和法规制定中。人大代表赶大集有利于

- ①零距离了解民意,密切人大代表与人民群众的联系
- ②充分发挥人大代表听民声、聚民智、促发展的作用

- ③公民平等参与民主决策和立法工作,提升群众幸福感
④充分保障公民、法人和其他组织依法获取政府信息
A. ①② B. ①③ C. ②④ D. ③④
18. 任何强化美台军事联系的做法都是干涉中国内政、违反美方承诺的错误行径,任何通过武装台湾遏制中国大陆的企图都不过是痴人说梦,都注定在中国人民解放军这座钢铁长城面前碰得头破血流。这说明
①主权国家必须履行不干涉他国内政的义务
②必须反对破坏国际政治经济新秩序的做法
③和平解决台湾问题是我国一贯坚持的方针
④我国坚定维护国家主权、安全和发展利益
A. ①② B. ①④ C. ②③ D. ③④
19. 2023年1月,五星红旗、兔子灯笼、剪纸窗花、中国娃娃……巴西东北部伯南布哥州首府累西腓市的地标零点广场上充满中国元素,一场年味浓郁的兔年新春演出在欢呼喝彩声中掀起高潮,这是累西腓市第一次把中国春节作为官方节日来庆祝。春节成为巴西累西腓市官方节日
①直接原因是中华文化是世界上最优秀的文化
②根本原因是该市与我国的经济政治交往频繁
③是中华文化被其他国家民族普遍认可的突出表现
④能够增强中华文化的影响力,促进世界文化的繁荣
A. ①③ B. ①④ C. ②③ D. ②④
20. 文明因交流而多彩、因互鉴而丰富。十年来,“秦汉文明”“华夏瑰宝”“秦始皇和兵马俑展”“古蜀文明特展”等出境展览享誉海外;11项援外历史古迹保护修复项目、44个中外联合考古项目持续实施,“一带一路”文物保护交流合作成果丰硕。从中得到的启示是
①中华文化以自信开放的姿态“走出去”,国际影响力不断提升
②人文交流要坚守传统文化立场,展示中华文明的精神标识
③人类历史是一幅不同文明之间相互交流、彼此借鉴的宏伟画卷
④历史积淀的厚度是衡量一个民族历史文化先进程度的重要尺度
A. ①③ B. ①④ C. ②③ D. ②④

21. 2023年1月,某自治区商务厅等部门联合举行“南宁之夜”开街仪式暨春暖八桂·欢乐迎新活动。有网友发视频吐槽,南宁之夜的“兔子”太丑,“感觉是把羊灯拉来插上了两个耳朵”。但该项目品宣部负责人称,设计理念就是“丑美”,它已成为街区的打卡点。这件事告诉我们 来源:高三答案公众号
- ①古今中外的所有真理都是具体的、有条件的
 - ②对同一个确定的对象会产生多种不同的认识
 - ③只有多数人赞成的审美观才是正确的审美观
 - ④审美观是影响人们认识事物的非客观因素
- A. ①② B. ①③ C. ②④ D. ③④
22. 2022年12月,习近平总书记在中央农村工作会议上指出,当前,科学谋划和推进“三农”工作,要因地制宜、注重实效,立足资源禀赋和发展阶段,解决农业农村发展最迫切、农民反映最强烈的实际问题,不搞脱离实际的面子工程。从哲学角度看是因为
- ①矛盾的普遍性寓于特殊性之中
 - ②主要矛盾和次要矛盾相互影响、相互转化
 - ③各种事物内部的矛盾各有其特殊性
 - ④正确解决矛盾必须坚持马克思主义活的灵魂
- A. ①② B. ①③ C. ②④ D. ③④
23. 基于动物福利组织的要求,新西兰2023年1月开始禁止养鸡场使用层架式鸡笼养鸡,产蛋鸡的数量直线下降,鸡蛋供不应求,不得不对消费者限购鸡蛋。新西兰“蛋荒”说明
- ①社会存在的发展变化决定社会意识的发展
 - ②脱离实际的社会意识阻碍社会存在的发展
 - ③联系具有客观性且不以人的意志为转移
 - ④人们可以发挥能动性建立新联系造福人类
- A. ①③ B. ①④ C. ②③ D. ②④
24. 有学者在谈到《淮南子》“尚论诸家学说发生之所由来”时说:“自庄、荀以下评鹭诸子,皆比较其同异得失,独淮南则尚论诸家学说发生之所由来,大指谓皆起于时势之需求而救其偏蔽,其言盖含有相当之真理。”据此可知,诸

子学说的兴起

- A. 体现了鲜明的文化目的性
B. 促进了社会变革的到来
C. 彰显了各学派风格的特性
D. 提供了文化重组的机会

25. 阳陵,位于今陕西省咸阳市咸阳原上,始建于公元前 153 年,其在考古发掘中出土的陶俑有数十万个,大多显得平和而从容(如右图);另外还有大量铜铁兵器、农工工具、衣饰及货币等出土。材料反映了



阳陵南区外藏坑出土的武士俑

- A. 先秦时期陵寝制度已成型
B. 汉初手工艺的发展水平
C. 秦汉一统天下的恢宏气势
D. 汉朝初年安详的社会氛围

26. 据《旧唐书·舆服制》记载:“永徽之后,皆用帷帽,拖裙到颈,渐为浅露……则天之后,帷帽大形。”1972 年新疆吐鲁番阿斯塔那 187 号墓出土仕女俑五官端庄秀丽,头戴帷帽,左手持缰绳,端坐在马鞍之上,为当时典型的贵族女性骑马出行的形象。据此可知

- A. 仕女俑真实反映了当时的社会生活
B. 唐朝政府对西域地区实施了有效管理
C. 武则天统治时期社会风气日益开放
D. 骑马出行是贵族女子的主要休闲方式

27. 明代张萱在《西园闻见录》中记载,州县“官府每举一事,必称旧例。例之所有,虽觉其不宜,不得辄改;例之所无,虽知其便,不得轻开。此法守之所循,而事机之所滞也”。这反映出明代

- A. 官吏因循守旧影响行政效率
B. 内阁职权下移妨碍行政事务
C. 政治体制僵化导致权力失衡
D. 中央集权削弱制约社会治理

28. 康有为在《慕谢天恩并陈编纂群书以助变法折》中说,波兰迟迟不肯变法,最终被人“分灭”,清朝变法之机一失再失;同时其指出,现在皇上明确下诏宣布变法是“第三次机会”,必须“全变之急变之”。这一思想

- A. 推动西方学说与儒家思想相结合
B. 埋下了维新变法未来失败的隐患
C. 是中外变法运动经验教训的总结
D. 坚定了光绪皇帝变法维新的决心

29. 1904 年刊行的《学堂歌》，共十三段，第一段提纲挈领：“教体育，第一桩，卫生先使民强壮。教德育，先蒙养，人人爱国民善良。教智育，开愚氓，普通知识破天荒。”据此可知，《学堂歌》的刊行
- A. 开启了近代教育的先河
B. 有利于五育并举的发展
C. 意在激发民众爱国意识
D. 为废除科举制度做准备
30. 近代以来，日本的对华文化优越意识和儒教正统观念迅速膨胀，对于复建东京汤岛孔庙，日本朝野极为重视，不仅总理大臣发起募款，天皇亦下赐孔子像、内帑金。1932 年 4 月，东京汤岛孔庙举行奠基仪式，在焚毁 10 年后，终于在皇命和对华文化侵略需求的驱使下动工修复。这一行为旨在
- A. 展示对华文化优越地位
B. 复兴国内儒教正统观念
C. 强化天皇思想文化统制
D. 麻痹中国人的反日情绪
31. 下表反映了我国 1989—1993 年全国私营企业发展情况。表格中数据的变化说明我国

年份	户数 (万户)	从业人数 (万人)	注册资金 (亿元)	产值 (亿元)	营业收入 (亿元)	商品零售额 (亿元)
1989	9.1	164	84	97	39	34
1990	9.8	170	95	122	52	43
1991	10.8	184	123	147	68	57
1992	14.0	232	221	205	114	91
1993	23.8	273	681	422	309	190

- A. 私企产业结构日益完善
B. 非公有制经济成为就业主要力量
C. 计划管理调控成效突出
D. 市场机制在资源配置中发挥作用
32. 在古代雅典城邦，当公民大会讨论公共事务进行举手投票表决时，如果若干与会人士和议案有直接关系或对其有特别影响，就举行秘密投票。投票表决，对初审委员会的议案审查报告可能是通过、修改或否决，议会的决定是绝对的。这说明雅典
- A. 政治生活缺乏法制基础
B. 公共事务决策程序严格
C. 民主政治提升公民素质
D. 城邦民主政治出现危机

33. 商务印书馆推出的一套译丛收录了英国人托马斯·莫尔(约 1478—1535 年)的《乌托邦》、英国人亚当·斯密(1723—1790 年)的《国富论》以及德国人康德(1724—1804 年)的《纯粹理性批判》等影响深远的经典名著。据此推知,这套译丛的主题是
- A. 启蒙运动在欧洲的扩展
B. 自由主义经济思想的形成
C. 马克思主义的思想来源
D. 欧洲理性主义思潮的没落
34. 下面是澳大利亚五澳元的样币,其上印的头像一直为英国已故国家元首伊丽莎白二世,虽然英国查尔斯三世已经继位,但其并未“自动”替换。这表明



印有伊丽莎白二世头像的 5 澳元纸币图案

- A. 女王成为英澳关系走向的关键
B. 英国脱欧严重影响其国际形象
C. 澳大利亚摆脱英联邦意志坚定
D. 澳大利亚有被英国殖民的烙印
35. 1992 年 1 月 2 日起,俄罗斯实现卢布在俄境内的可自由兑换,全面放开价格,90%的零售商品价格和 85%的工业品批发价格由市场供求关系决定,放开进出口贸易,让企业在国内外市场上自由竞争,自谋出路。俄罗斯这一做法
- A. 迅速完成了国家的私有化改造
B. 体现了激进式经济体制转型
C. 推动俄国向资本主义平稳过渡
D. 稳定了日益恶化的金融局面

二、非选择题:共 160 分。第 36~42 题为必考题,每个试题考生都必须作答。

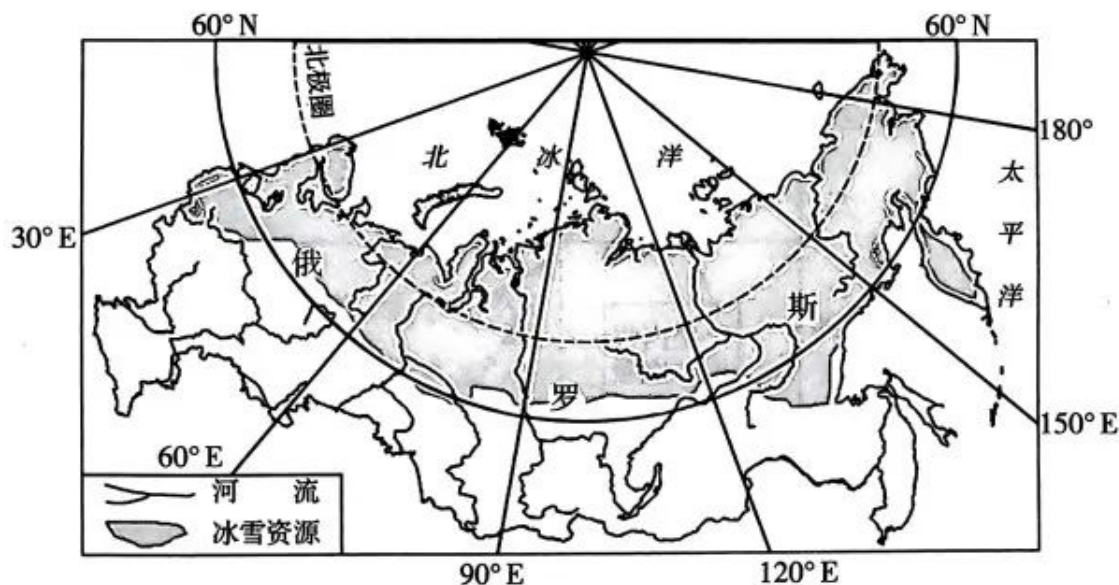
第 43~47 题为选考题,考生根据要求作答。

(一)必考题:共 135 分。

36. 阅读图文材料,完成下列要求。(22 分)

冰雪资源是指人类可利用的地球表面积雪和积冰,是人类重要的淡水资源。俄罗斯是世界上冰雪资源最丰富的国家之一,其冰雪资源主要分布在北冰洋、太平洋沿岸以及纬度较高的陆地地区。俄罗斯冰雪资源虽然很丰富,但开发极少。近年来,沙特阿拉伯一直在与俄罗斯沟通,期待与俄罗

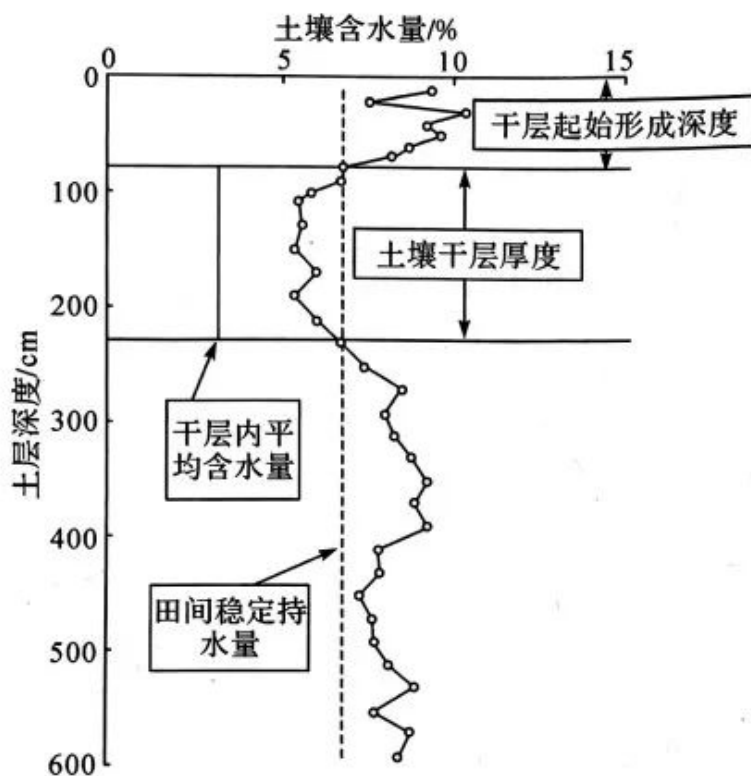
斯共同开发俄境内的冰雪资源。下图示意俄罗斯冰雪资源分布。



- (1)说明俄罗斯冰雪资源开发利用的自然优势。(6分)
- (2)俄罗斯冰雪资源虽然很丰富,但开发极少,分析其原因。(6分)
- (3)说明近年来沙特阿拉伯一直期待与俄罗斯共同开发俄罗斯境内的冰雪资源的原因。(4分)
- (4)简述将俄罗斯境内的冰雪资源运往沙特阿拉伯面临的困难。(6分)

37. 阅读图文材料,完成下列要求。(24分)

压砂地是我国西北地区农民为对抗恶劣的自然环境,将砾石和粗细砂的混合材料覆盖在荒沙地上,依赖自然降水创造的一种旱作保护性耕作方式。宁夏中部旱区位于黄土高原西缘,降水少且蒸发旺盛,是我国土壤干燥化较严重的区域之一,同时也是我国压砂地的集中分布区之一。近年来,宁夏中部旱区政府积极推进将荒沙地改造成压砂地,在压砂地上种植的西瓜、沙枣树等都收到了很好的经济效益。下面为宁夏中部旱区压砂地土壤干层量化指标示意图。



- (1) 说明宁夏中部压砂地土壤干燥化形成的自然原因。(6分)
- (2) 描述宁夏中部压砂地土壤水分的垂直变化特点。(6分)
- (3) 调查发现,与沙枣树地相比,宁夏中部压砂地中西瓜地土壤干燥化程度明显较轻,请对此做出合理解释。(6分)
- (4) 简述近年来宁夏中部地区积极推进荒沙地改造成压砂地的益处。(6分)

38. 阅读材料,完成下列要求。(14分)

2022年12月,国家市场监督管理总局发布关于12批次食品抽检不合格情况的通告显示,国家市场监督管理总局通过食品安全监督抽检,抽取21大类食品726批次样品,检出其中食糖、炒货食品及坚果制品等10大类食品12批次样品不合格。发现的主要问题是,检出非食用物质、微生物污染、兽药残留超标、食品添加剂超范围使用、质量指标不达标等。对抽检发现的不合格食品,市场监管部门已组织开展核查处置,查清产品流向,督促企业采取下架召回不合格产品等措施控制产品风险;对违法违规行为,依

法从严处理。

结合材料并运用经济生活的知识,说明国家市场监督管理总局进行食品安全监督的必要性以及这次抽检带给食品企业哪些启示。(14分)

39. 阅读材料,完成下列要求。(12分)

近日,中共中央印发了《中国共产党处分违纪党员批准权限和程序规定》(以下简称《规定》),并发出通知,要求各地区各部门认真遵照执行。

通知指出,《规定》以习近平新时代中国特色社会主义思想为指导,以党章为根本依据,总结吸收党的十八大以来管党治党实践创新和制度创新成果,对党的各级各类组织处分违纪党员批准权限和程序作出系统规范和明确规定。通知要求,各级党委(党组)要全面加强党的纪律建设,坚定不移推进党风廉政建设和反腐败斗争,以对党的事业和党员、干部高度负责的态度,严格遵循、维护和执行党的纪律。要抓实抓好《规定》的学习宣传和贯彻落实,带头严格执行《规定》。各级纪律检查机关要严格按照《规定》行使纪律处分权。要按照与党纪处分批准权限、干部人事管理权限基本对应的原则,完善监察机关给予政务处分的批准权限和程序,确保执纪执法贯通衔接,充分发挥监督保障执行、促进完善发展作用。

结合材料并运用政治生活的知识分析制定执行《中国共产党处分违纪党员批准权限和程序规定》的意义。(12分)

40. 阅读材料,完成下列要求。(26分)

在党中央坚强领导下,在全国人民大力支持下,从无人飞行到载人飞行,从一人一天到多人多天,从舱内实验到太空行走,从太空短期停留到中长期驻留……中国载人航天事业一次次在浩瀚太空刷新“中国高度”,同时也在中华民族的历史长河中培育铸就了“特别能吃苦、特别能战斗、特别能攻关、特别能奉献”的载人航天精神。

2022年11月29日,神舟十五号成功发射,标志着中国空间站关键技术验证和建造阶段的12次发射任务全部完成。航天人矢志奋斗,一个点一个点地攻关,一个技术一个技术地攻克,他们的默默奉献换来累累硕果,中国空间站的核心元器件全部实现国产化。中国载人航天工程总设计师周建平表示,新一代载人飞船和新一代大推力火箭都已在研制过程中,中国航天人“走得比梦还远”。

如今,载人航天精神已成为中国共产党人精神谱系的重要组成部分,持续奏响着新时代的华美乐章。

- (1)结合材料并运用社会历史的主体的相关知识,分析我国载人航天事业不断刷新“中国高度”的原因。(12分)
- (2)弘扬载人航天精神对奏响新时代的华美乐章具有重要意义。运用文化生活的知识加以分析。(10分)
- (3)请就新时代青年学生如何弘扬载人航天精神提出两条建议。(4分)

41. 阅读材料,完成下列要求。(25分)

材料一 从14世纪到16世纪长达300余年的时间里,爆发了早期资产阶级冲击封建贵族统治的两大革命。革命之一的文艺复兴从意大利开始,而后传播到英国、法国、德国、西班牙等全欧洲。恩格斯说“这是一次人类从来没有经历过的最伟大的、进步的变革,是一个需要巨人而且产生了巨人——在思维能力、热情和性格方面,在多才多艺和学识渊博方面的巨人的时代”。文艺复兴不单单是文学艺术的复兴,而且是思想和科学的复兴。

——摘编自孟节省、林雪原编著《西方文化漫谈》

材料二 中国传统文化既有自身的优势和特色,也有自身的缺陷和不足。近代以来,无数中国的志士仁人为努力建设中国的新文化而奋斗,特别是新文化运动,取得了一定的成就。文化是我们的根,我们不能抛弃中国优秀的传统文化。当然,也不能死抱着老祖宗的遗产当现代的阿Q。继

承传统文化,既要在传承中创新,也要在创新中传承。

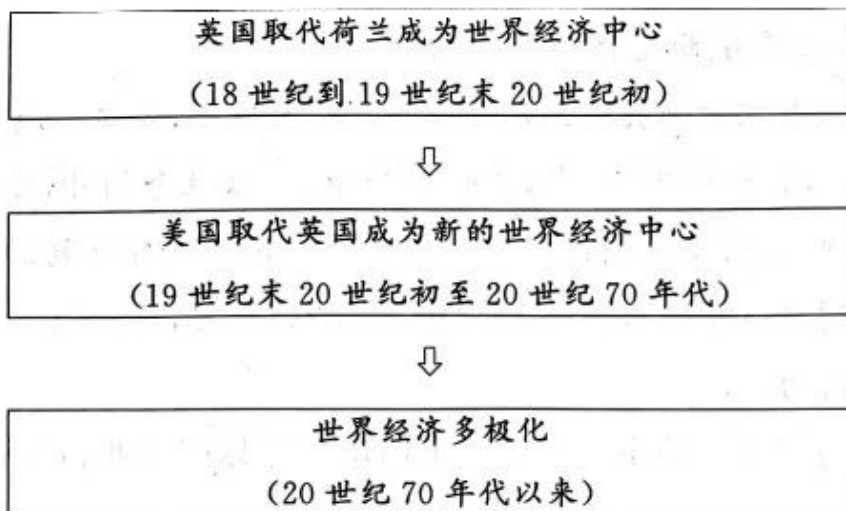
——摘编自王霁主编《中国传统文化》

- (1)根据材料一并结合所学知识,概括西方文艺复兴运动的特点。(8分)
- (2)根据材料一、二并结合所学知识,概括新文化运动与文艺复兴运动相比呈现出的不同特点,并简析其成因。(12分)
- (3)根据材料并结合所学知识,说明在当代对待本国传统文化应持的科学态度。(5分)

42. 阅读材料,完成下列要求。(12分)

材料 世界经济格局是指在一定时期内世界经济领域各类国家依据实力对比关系而形成的一种结构或态势,其核心是大国或国家集团之间的利益制衡状态和支配世界的权力分配状况。在世界经济形成和发展的进程中,由于各国经济政治发展的不平衡,各国的经济实力对比在不断发生变化,部分相对落后的国家借助与先进国家的经济联系或世界经济政治领域出现的重大机遇,实现了超越性的发展,从而使世界经济格局不断出现新的变化。

世界经济格局的变迁



——摘编自时雨田主编《世界经济概论》

根据材料,结合18世纪以来世界经济格局的发展变化,自拟论题,展开论述。(要求:论题明确,持论有据,论证充分,表述清晰。)

(二)选考题:共 25 分。请考生从 2 道地理题、3 道历史题中每科任选一题作答。如果多做,则每科按所做的第一题计分。

43. [地理——选修 3:旅游地理](10 分)

少女峰(下图)位于瑞士因特拉肯市正南 20~30 千米处,海拔 3 454 米,是位于僧侣峰、艾格峰和劳特布龙嫩小镇之间中心位置的一处经典冬季运动胜地。这里有欧洲最高的火车站可直达,也是伯尔尼高地最迷人的地方。



推测少女峰冬季运动胜地最可能开展的旅游项目及其需要注意的主要事项。

44. [地理——选修 6:环境保护](10 分)

根据农业农村部关于乌江禁渔期制度的通知,乌江禁渔自 2021 年 1 月 1 日 0 时起,时限暂定 10 年,除休闲渔业、娱乐性垂钓外,在规定的禁渔区和禁渔期内,禁止所有捕捞作业。渔业资源调查研究捕捞和养殖生产等需要的,应当按照《中华人民共和国渔业法》的规定,要经过省级以上渔业行政主管部门的批准。

分析乌江禁渔的主要意义并说明不禁止休闲渔业、娱乐性垂钓的主要原因。

45. [历史——选修 1:历史上重大改革回眸](15 分)

材料 永佃制在明代已有很大发展,到了清代前期,永佃制已经非常完备,佃农不仅在“不愿耕作”的情况下随时可以“将田退还业主,接取原银”,他们还可以在保证交纳地租的情况下将土地的佃权转让、馈赠甚至出卖。永佃权不仅有效地防止了地主“增租夺佃”,而且使佃农可以参与地租和剩余产品的分割,因而促进了佃农的生产积极性,他们会投入更多的时间和资本来改良土壤和改善经营方式,不断提高土地的收益。由于佃权可以转让,从而加速了土地的流转,并因此提高了土地利用效率。但另一方面,在这种复杂的土地财产关系下,有时一地二主、三主甚至一地多主,产生了大批因地权滋生的土地食利者。他们根本不从事农业土地经营,而是生活在城里,依靠地租过着优哉游哉的生活。

——摘编自高德步《中外经济简史》

(1)根据材料并结合所学知识,概括清代前期永佃制趋向完备的社会条件。

(8 分)

(2)根据材料并结合所学知识,说明清代前期永佃制改革的历史影响。

(7 分)

46. [历史——选修 3:20 世纪的战争与和平](15 分)

材料 1939 年 3 月,中国政府要求美国“绝对禁止军用材料与器具与日本,尤以钢铁、煤油为最”,停止进口日本的重要物产。美国国务院中国科科长范宣德认为采取经济措施虽然不可能将日本赶出中国,但它可以“阻止日本在中国加强其地位,以免它从那里抽出足够的力量在其他地区进一步发动攻击。那将严重地侵害我们的利益,并可能使我们卷入战争”。范宣德提出:“我们可以而且应当乘目前与日本发生冲突风险最小的机会,达到已提出的预期目标”,通过采取非军事的经济手段,“我们将毫无风险地以目前较小的代价去实现符合我国本身利益的目标”。1939 年春夏,美国的民意测验表明,绝大多数人赞成对日本实行武器禁运并抵制日货。1939 年 6 月 16 日公布的一份民意测验结果显示,同情中国者为 74%,同情日本者为 2%;赞同不买日货者为 66%,反对者为 34%;赞同对日禁运军用



品者达 72%，反对者为 28%。7 月 26 日，美国国务卿赫尔通知日本驻美大使，要求中止美日商约，根据该约所规定的程序，宣布该约将自即日起 6 个月后失效。来源：高三答案公众号

——摘编自王建朗、曾景忠著《中国近代通史，
第九卷：抗日战争(1937—1945)》

- (1) 根据材料并结合所学知识，简析美国中止美日商约的原因。(9 分)
- (2) 根据材料并结合所学知识，说明美国中止美日商约的影响。(6 分)

47. [历史——选修 4：中外历史人物评说](15 分)

材料 林伯渠，原名林祖涵，1886 年 3 月 20 日生于湖南临澧。1904 年，林伯渠告别家乡东渡日本留学。1905 年 7 月，孙中山来到日本东京，筹备组党，成立中国同盟会。林伯渠就是在这时加入了中国同盟会。1917 年俄国十月革命的胜利，对愁闷中的林伯渠产生了极大的影响和震动。经李大钊、陈独秀的介绍，林伯渠加入了上海中国共产党发起组。根据中共中央的指示，他利用自己在国民党中的特殊身份，积极为促成第一次国共合作贡献自己的力量。抗战时期，作为陕甘宁边区政府主席，他带头把边区建成执行中央决策的模范区。1949 年党的七届二中全会召开后，随着党的工作重心由农村向城市转移，林伯渠又为自己拟定继续保持艰苦奋斗作风的《入城守则》，主要内容包括：不做旧诗；不持手杖……充分体现了一名老共产党员的初心和执着的精神追求。毛泽东曾称赞他：“在历史进程中，你总站站在革命最前线。”

——摘编自王相坤《林伯渠：历史进程中“总站站在革命的最前线”》

- (1) 根据材料并结合所学知识，简析毛泽东称赞林伯渠“总站站在革命的最前线”的原因。(8 分)
- (2) 根据材料并结合所学知识，说明林伯渠身上闪耀着的珍贵精神品质。(7 分)

湘豫名校联考 2023年4月高三第二次模拟考试 政治参考答案

题号	12	13	14	15	16	17	18	19	20	21	22	23
答案	A	C	B	D	C	A	B	D	A	C	D	C

一、选择题

12. A 【解析】本题考查生产与消费的相关知识。根据材料和所学知识可知,该通信软件开发新版本增加新功能,是生产决定消费的质量和水平的体现,提高其服务质量有助于扩大市场份额,①③符合题意。题干主旨是生产发展提高了消费体验,没有体现新的消费热点,排除②。满足消费者需求有助于产品销售,但是不一定能增加盈利,④错误。故选A。
13. C 【解析】本题考查非公有制经济的相关知识。材料中我国民营企业进出口19.41万亿元,增长13.6%,占我国外贸总值的50.6%,表明我国民营企业参与国际市场竞争的积极性进一步提升,正在成为拉动我国外贸发展的重要引擎,②③正确。公有制经济是我国国民经济的主体,①表述错误。材料未涉及我国对国企民企平等对待,排除④。故选C。
14. B 【解析】本题考查收入分配的相关知识。通过图下面的注释,我们可以推断出,我国现阶段的分配制度使居民收入来源呈现多样化,其中工资性收入是全国人均可支配收入的主要来源,①③正确。2022年前三季度农村居民人均可支配收入增速高于城镇,但增加的收入总数没有城镇多,农村是 $14\ 600-13\ 726=874$ (元),城镇是 $37\ 482-35\ 946=1\ 536$ (元),排除②。从2022年前三季度的人均可支配收入来看,城镇居民和农村居民收入差距在扩大,排除④。故选B。
15. D 【解析】本题考查宏观调控的相关知识。根据材料和所学知识可知,我国对药品、医疗用品以及小家电下调关税,会使这类商品价格下降,居民经济负担减轻,带来消费需求增加,进而可以增强国内国际两个市场的联动效应,助力构建新发展格局,推动高质量发展,D符合题意,排除C。关税下降,影响的是新发展格局中的国内国际双循环,不是国内大循环,排除A、B两项。故选D。
16. C 【解析】本题考查政府的相关知识。根据材料和所学知识可知,国家市场监督管理总局是政府履行经济职能的部门,材料中制定出台《指南》是政府切实履行组织经济建设职能的举措,依法制定并公开征求意见,体现了我国政府坚持依法决策和民主决策,②③符合题意。病有所医是政府社会建设职能的体现,与《指南》无关,排除①。国家市场监督管理总局公开征求意见,属于民主决策而不是民主监督,排除④。故选C。
17. A 【解析】本题考查人大代表的相关知识。根据材料和所学知识可知,人大代表在集市上直接采集民意,并把意见带到地方发展的重要决策和法规制定中,表明人大代表赶大集有利于零距离了解民意,密切人大代表与人民群众的联系,充分发挥人大代表听民声、聚民智、促发展的作用,①②符合题意。公民在法律面前一律平等指的是司法平等和守法平等,而不是立法平等,排除③。材料未涉及公民、法人和其他组织依法获取政府信息,排除④。故选A。
18. B 【解析】本题考查主权国家的权利的相关知识。根据材料和所学知识可知,台湾问题是中国内政,不干涉他国内政是主权国家必须履行的义务,同时材料也体现了坚定维护国家主权、安全和发展利益是我国外交政策的基本目标,①④符合题意。国际新秩序尚未建立,“破坏”的说法错误,排除②。我国并没有承诺解决台湾问题放弃使用武力,排除③。故选B。
19. D 【解析】本题考查文化多样性和文化传播的相关知识。根据材料和所学知识可知,中国春节成为巴西累西腓市官方节日,根本原因是该市与我国的经济政治交往频繁,并且这能够增强中华文化的影响力,②④符合题意。世界各民族文化一律平等,“最优秀”的说法错误,排除①。中华文化影响力不断扩大,但“被其他国家民族普遍认可”的说法与实际不符,排除③。故选D。

20. A 【解析】本题考查文化交流的相关知识。根据材料“秦汉文明”“华夏瑰宝”“秦始皇和兵马俑展”“古蜀文明特展”等出境展览享誉海外可知,中华文化以自信开放的姿态“走出去”,国际影响力不断提升,①符合题意。从中国与世界各国交流互鉴可知,人类历史是一幅不同文明之间相互交流、彼此借鉴的宏伟画卷,③符合题意。传统文化有精华也有糟粕,我国开展中外人文交流要坚守中华文化立场,②表述错误。衡量文化是否先进,主要看它是否适应并有利于生产力的解放和发展,是否有利于社会进步,是否有利于人的全面发展,④错误。故选 A。
21. C 【解析】本题考查认识的个体差异性的相关知识。材料中网友认为南宁之夜的“兔子”太丑,设计者却认为是一种“丑美”,这是人的认识存在个体差异的体现,也说明审美观是影响人们认识活动的主观因素,即非客观因素,②④符合题意。材料体现的是认识个体差异问题,与真理无关,排除①。认识的正确与否,与赞成的人数多少无关,③错误。故选 C。
22. D 【解析】本题考查矛盾的特殊性的相关知识。根据材料和所学知识可知,因地制宜、注重实效,立足资源禀赋和发展阶段,是因为各种事物内部的矛盾各有其特殊性,具体问题具体分析是正确解决矛盾的关键,而具体问题具体分析是马克思主义活的灵魂,③④符合题意。材料未涉及矛盾的普遍性与特殊性的辩证关系、主次矛盾的辩证关系,排除①②。故选 D。
23. C 【解析】本题考查联系观、社会存在与社会意识的关系的相关知识。材料中新西兰的禁令导致鸡蛋短缺,是动物福利组织的主张影响社会存在的结果,是社会意识不符合实际阻碍社会存在发展的体现,禁令发生的作用是不以人的意志为转移的,②③符合题意。鸡蛋短缺反映的是社会意识的反作用,而不是社会存在的决定作用,排除①。材料体现的是错误观念的危害,而不是建立新联系造福人类,排除④。故选 C。

二、非选择题

38. 【答案】必要性:市场调节不是万能的,市场调节自身存在固有的自发性弊端,国家市场监督管理总局进行食品安全监督,有利于保障人民群众的食品安全,维护消费者的合法权益。(3分)具备公平、公正的市场秩序,是使市场在资源配置中起决定性作用的基础,国家市场监督管理总局进行食品安全监督,有助于规范食品行业市场秩序,建立统一开放、竞争有序的现代化市场体系。(3分)诚实守信是现代市场经济正常运行必不可少的条件,国家市场监督管理总局进行食品安全监督及其对违规违法行为的处理,有助于在全社会形成守信光荣、失信可耻的氛围。(3分)
- 启示:提高自主创新能力,依靠技术进步、科学管理等手段,通过提高产品质量形成自己的竞争优势。(3分)诚信经营,遵守法律法规,遵守社会公德、商业道德,承担社会责任。(2分)
39. 【答案】制定执行《规定》充分彰显了我们党勇于自我革命的鲜明品格,对于深入贯彻全面从严治党战略方针、深入推进依规治党具有重要意义。(3分)有助于把管党治党落到实处,更好地发挥党的领导核心作用,使党经受住长期执政的考验。(3分)有助于推进党风廉政建设和反腐败斗争,保证党的先进性和纯洁性,不断提高党组织战斗堡垒作用,更好地发挥党员的先锋模范作用。(3分)有助于规范纪检部门的工作,确保执纪执法贯通衔接,把制度优势更好转化为治理效能。(3分)(其他角度作答,合理亦可酌情给分)
40. 【答案】(1)人是社会历史的主体,人民群众是社会物质财富和精神财富的创造者,是社会历史变革的决定力量。(4分)中国航天人坚持党的领导,不负人民重托,筑牢理想信念根基,顽强拼搏,在技术上精益求精;(4分)用吃苦、攻关和奉献铸就的载人航天精神是宝贵的精神财富,激励中国航天人不怕困难、勇于创新创造,推动我国载人航天事业不断刷新“中国高度”。(4分)
- (2)中国精神是民族精神与时代精神的统一,以爱国主义为核心的民族精神和以改革创新为核心的时代精神,构成了中国精神的基本内容,是实现中华民族伟大复兴的强大精神动力。(4分)载人航天精神作为新时期中国精神的突出表现,(2分)不仅是激励中国航天人奋进社会主义现代化国家建设新征程的强大精神力量,(2分)也将继续砥砺和指引中华儿女奋发有为,为实现第二个百年奋斗目标、实现中华民族伟大复兴的中国梦而不懈奋斗。(2分)
- (3)刻苦学习,在实践中增长本领;勇于探索,培养创新精神;在不懈奋斗中释放青春激情;在奉献社会中实现青春理想。(4分。每点2分,答出两点即可。若有其他答案,言之有理,可酌情给分)

湘豫名校联考 2023年4月高三第二次模拟考试 地理参考答案

题号	1	2	3	4	5	6	7	8	9	10	11
答案	D	A	C	A	C	D	B	C	B	D	C

一、选择题

1. D **【解析】**通常,随着秦巴山区地形平均坡度的增加,单位土地面积的经济承载能力和人口承载能力急剧衰减;海拔越低,地势起伏越平缓,地理条件越好的地区,越适宜城镇布局、人口集聚、生产活动的开展。故选D。
2. A **【解析】**读表可知,秦巴山区I级区的平均坡度为 $4.09^{\circ}\sim 10.00^{\circ}$,地形起伏最小,土地总面积 $7\,232.20\text{km}^2$,生产总值587.4亿元,人口325.63万人,人口密度 $450.25\text{人}/\text{km}^2$,人均GDP为16 503.09元。其用秦巴山区3.24%的土地,创造了较高的生产总值,承载了8.79%的人口,说明该级区的开发适宜性高。故选A。
3. C **【解析】**地形起伏度在 $10.01^{\circ}\sim 25.00^{\circ}$ 的II、III、IV级区,是秦巴山区扶贫攻坚的重中之重,这三个级区面积用80%的土地,创造了86.97%的生产总值,承载了86.82%的人口,因此该区域需要发挥比较优势,重点培育特色优势产业,加快基础设施建设,从而整体加快脱贫步伐;落实务工返乡创业和稳固农副产品产业都是以培育特色优势产业为基础的。故选C。
4. A **【解析】**大多数人喜欢网购茶叶的最主要原因是在网上买茶比较方便,不用特意找时间去线下店铺购买;网上购茶可选择性高,有各种各样的茶叶可供挑选;另外,实体店租用的店铺租金高,因此网上购买茶叶会比在实体店买的价格相对要便宜。但网购茶叶时物流需要一定的时间,且质量参差不齐;网购为保证茶叶安全送达客户手中,需要快递包装,增加外包装会给环境带来压力。故选A。
5. C **【解析】**河南省郑州市地处我国中部地带,有京广铁路、陇海线、高速公路、国道等多条交通干线在此交会,具有独特的交通区位优势,故从郑州发货不仅方便,缩短了发货时间,而且节省了成本。因此,河南省郑州市便利的交通运输条件成为国内许多网购茶叶的发货地。故选C。
6. D **【解析】**郑州市是河南省省会,是我国各大茶叶品牌仓储必选的地方,因为河南省腹地广阔,交通四通八达,各家快递都能通往全国各地。就郑州市而言,由于茶叶主要销往国内各地,所以茶叶仓储基地应布局在郑州市郊区且交通便捷的绕城高速公路附近,便于客户订单及时装箱、送站、外运等。故选D。
7. B **【解析】**结合吉尔吉斯斯坦的经纬度可知,其纬度较高,深居内陆,为温带大陆性气候,冬季寒冷漫长,易发生冻害,不利于作物种植,且当地气候干旱,降水稀少,水源不足,不利于作物生长。故选B。
8. C **【解析】**棉花种植需要大量灌溉水源,所以发展棉花种植可能会导致该地土地盐碱化;而水资源短缺会进一步导致土地荒漠化,植被覆盖率降低。故选C。
9. B **【解析】**读图可知,近表层冷空气从高处流向中山站及其周边地区时,一方面垂直于地形等高线,另一方面又受南半球向左的地转偏向力的影响而向左偏转,同时还受地面摩擦力的影响,风向最终表现为东风或偏东风。故选B。
10. D **【解析】**1月份(中山站夏季)晴天时,中山站昼长夜短,甚至出现极昼。中山站的下降风一般在傍晚太阳高度较小时开始出现,风速在午夜(太阳高度一天中最小时)达到极值,在次日正午之前逐渐减弱,风速有显

著的日循环特征。午夜太阳高度最小,地面获得的太阳辐射最少,近表层气温较低,空气密度较大,下降风速最大。故选D。

11. C 【解析】读图可知,我国中山站位于开口大致向北的海湾内,为一谷地,中山站的西部风向以西南风为主,中山站所在地的风向以东南风为主,两风向的交汇处位于中山站西部地势较低的海湾,根据下降风的风向可判断出我国中山站应位于海湾谷地的东坡。故选C。

二、非选择题:包括必考题和选考题。

(一)必考题

36. 【参考答案】(1)俄罗斯纬度高,气温低,降雪量大;国土面积大,积雪面积大;靠近北冰洋和太平洋,沿海结冰厚度大、积冰多;多条河流向北流,注入北冰洋,河流结冰期长,冰雪资源丰富。(每点2分,任答3点得6分)
(2)气候寒冷,开发环境恶劣;距离人口重心区较远,运输成本较高;沿海及远东地区人口稀疏,冰雪资源市场需求量小;人口稠密区淡水资源丰富,能够满足生产生活用水需要,目前无需开发边远地区的冰雪资源等。(每点2分,任答3点得6分)
(3)沙特阿拉伯淡水资源短缺,对淡水资源的需求量大;俄罗斯冰雪资源丰富,本国需求量小;沙特阿拉伯的资金雄厚,有充足的资金对冰雪资源进行开发。(每点2分,任答2点得4分)
(4)沙特阿拉伯纬度低于俄罗斯,运输途中冰雪易消融流失;(2分)陆海运输距离都较远,运输成本较高;(2分)现有密闭储运工具较小,运量较小等。(2分)(其他答案合理也可酌情给分)
37. 【参考答案】(1)地处黄土高原西缘,气候干旱少雨,蒸发旺盛;地势起伏较大,地形破碎严重,地表水易流失;黄土质地疏松,土壤水分下渗量大且下降速度快;旱生植物为主,植物生长对土壤水分的消耗大等。(每点2分,任答3点得6分)
(2)土壤含水量随深度增加呈波动升降趋势(或土壤含水量垂直起伏较大,呈先减少、后增加、再减少、最后缓慢增加的趋势);0~80cm深度土壤含水量达到最高,且变幅最大;100~200cm左右深度土壤含水量达到最低;250~600cm深度土壤含水量变幅较小(每点2分,任答3点得6分)
(3)西瓜地的种植年限较短,农田管理措施较完善;(2分)土壤表层砂石覆盖较好,能较好地截留雨水,增加水分下渗量;(2分)西瓜藤叶密集覆盖度高,可减少到达地表的太阳辐射,降低温度,抑制土壤水分蒸发。(2分)
(4)抑制土壤蒸发;蓄水保墒抗旱;抑制盐碱积累;提高土壤温度;减轻水土流失;改善生态环境;促进农业可持续发展等。(每点2分,任得3点得6分)

(二)选考题

43. 【参考答案】项目:滑雪或“堆雪球”。(2分)注意事项:配备专业滑雪服;气温低,注意保暖;根据个人滑雪水平的高低,选择合适坡度、高度、难度的滑雪场进行滑雪;注意途中的规划;了解滑雪场的设施分布,认清警示标志,严格遵守有关安全规定;天气突变时,及时采取应急措施等。(8分,任答4点即可)
44. 【参考答案】意义:有利于更好保护乌江流域自然环境;(2分)促进该流域水生动植物繁衍发展;(2分)禁渔结束后可以更好地开发流域渔业等资源。(2分)原因:休闲渔业、娱乐性垂钓规模小,对渔业资源的破坏性小;(2分)减轻对休闲渔业、娱乐性垂钓行业的冲击。(2分)

湘豫名校联考 2023年4月高三第二次模拟考试 历史参考答案

题号	24	25	26	27	28	29	30	31	32	33	34	35
答案	A	D	C	A	B	C	D	D	B	C	D	B

一、选择题

24. A **【解析】**本题考查春秋战国时期的百家争鸣。材料中“独淮南则尚论……盖含有相当之真理”表明，诸子学说的兴起缘于“救其偏弊”，故 A 项正确。春秋战国时期，礼崩乐坏的社会大裂变，催生了诸子学说的兴起，B 项因果逻辑颠倒；由于社会地位、思考方式和学统承继上的差异，先秦诸子在学派风格上各具鲜明的个性特征，C 项说法正确，但材料不能体现；材料主旨是在说明诸子百家学说兴起的原因与目的，D 项与此不符。故选 A。
25. D **【解析】**本题考查汉朝的社会状况和手工业发展。根据材料中“始建于公元前 153 年”“大多显得平和而从容”可知，这反映了汉初统治者无为而治下安详的社会氛围，故 D 项正确，排除 C 项。我国的皇帝及其“帝陵”诞生于秦朝，A 项错误；材料仅反映了汉代初年手工业的发展，并未反映出其发展水平，排除 B 项。故选 C。
26. C **【解析】**本题考查隋唐时期的社会生活。艺术可以反映当时的社会风气和价值观，但艺术本身并不能反映真实生活，A 项错误；B 项本身符合史实，但材料依据不足；“永徽之后，皆用帷帽，拖裙到颈，渐为浅露……则天之后，帷帽大形”“胡服”“胡酒”这种能张扬女性个性的服饰，越来越受到年轻女子的喜爱，反映出唐中期特别是武则天统治时期社会风气日益开放，故 C 项正确；材料表明，骑马出行是唐代贵族女子的休闲生活方式之一，D 项错误。故选 C。
27. A **【解析】**本题考查明代地方治理。材料表明，明代官僚政治下，官吏因循守旧、不顾客观现实的行为，既影响行政效率，又妨碍政务运行，故 A 项正确。“内阁职权下移”“权力失衡”“中央集权削弱”材料均无从体现，B、C、D 三项错误。故选 A。
28. B **【解析】**本题考查康有为的维新思想。分析材料可知，康有为主张变法应“全变”“急变”，这一思想导致光绪皇帝在 103 天内连下近百道变法诏令，操之过急，导致顽固派发动政变，变法遭遇失败，故 B 项符合题意。A 项在太平天国运动中体现明显，戊戌变法不彻底。且材料中康有为的思想并未体现此内容；材料只提到波兰变法运动和清朝变法相关内容，是为尽快变法提供依据，但无法得出“是对中外变法运动经验教训的总结”，排除 C 项；此时光绪皇帝已发布变法诏书，D 项错误。故选 B。
29. C **【解析】**本题考查中国近代教育的发展。材料中“1904 年刊行”“人人爱国民善良。教智育，开愚氓，普通知识破天荒”表明，刊行《学堂歌》的目的在于培养民智，激发民众维护清王朝统治的爱国热情，故 C 项正确。开近代教育先河的是 1862 年京师同文馆的创立，排除 A 项；五育并举属于新式教育的一部分，新式教育创立于 1905 年科举制废除后，排除 B 项；D 项在材料中并未体现。故选 C。
30. D **【解析】**本题考查日本对华文化侵略。根据材料中“1932 年”“对华文化侵略需求”可知，1931 年九一八事变后，日本迅速修复孔庙，开展对华尊孔活动，以达到麻痹中国人的反日情绪、巩固既得侵略成果的罪恶目的，D 项正确，排除 A、B 两项。1932 年，日本的重点在于侵略中国，复建东京汤岛孔庙是为此服务的，C 项不是其目的所在。故选 D。
31. D **【解析】**本题考查社会主义市场经济的发展。根据材料并结合所学知识可知，随着改革的深入和对外开放的扩大，特别是 1992 年邓小平南方谈话和随后召开的中共十四大，我国最终确定了积极发展私营经济政策和市场经济改革目标，所有制结构变化呈现出加速的态势，市场机制在资源配置中也逐渐发挥作用，由此出现表格中数据的变化，故 D 项正确，C 项错误。材料并未提及私企产业结构，A 项错误；B 项在材料中并未体现。故选 D。

未体现。故选 D。

32. B 【解析】本题考查雅典民主政治。决策程序是指科学地决策所应遵循的基本逻辑步骤和阶段,结合材料中“当公民大会讨论公共事务……修改或否决,议会的决定是绝对的”可知,雅典民主政治运行机制健全,公共事务决策程序规范、严格,故 B 项正确,D 项错误。材料表明,雅典城邦公共事务决策程序规范、严格,说明政治生活具备一定的法制基础,A 项错误;C 项与材料主旨不符。故选 B。
33. C 【解析】本题考查马克思主义的相关内容。联系所学知识可知,马克思主义有德意志古典哲学、英法空想社会主义和英国古典政治经济学三个思想来源,《纯粹理性批判》《国富论》《乌托邦》分别是这三个思想来源中具有代表性的经典名著,故 C 项正确。托马斯·莫尔早在 1535 年已经去世,启蒙运动始于 17 世纪,排除 A 项;《乌托邦》和《纯粹理性批判》都与自由主义经济思想无关,排除 B 项;18 世纪是启蒙运动蓬勃发展的时期,排除 D 项。故选 C。
34. D 【解析】本题考查英国的殖民历史。材料表明,澳大利亚在历史上有着被英国殖民的历史,时至今日,澳大利亚依然是英联邦组成部分,其货币上的英女王就是这一历史的烙印,故 D 项正确。英澳关系走向取决于两国的国家根本利益,A 项错误;英澳关系与“英国脱欧”不存在必然联系,B 项错误;材料中“并未‘自动’替换”不能表明澳大利亚想要摆脱英联邦,排除 C 项。故选 D。
35. B 【解析】本题考查苏联解体后俄罗斯的经济建设。联系所学知识可知,20 世纪 90 年代初,随着苏联的解体,国家由原来中央计划经济迅速向市场经济过渡,材料中现象反映了当时进行激进式经济转型的情形,故 B 项正确。材料缺乏“私有化改造”方面的信息,排除 A 项;材料中俄国的做法并非是平稳过渡之措施,排除 C 项;材料的核心不在于金融领域,D 项错误。故选 B。

二、非选择题:包括必考题和选考题。

(一)必考题

41. 【参考答案】(1)持续时间长;涉及地域广;涉及领域宽;文化巨人辈出;借助传统文化宣传新思想;以人文主义为思想主题;反对蒙昧主义,崇尚科学。(8 分,任答 4 点)
- (2)不同;持续时间短;局限于中国国内;与民族复兴相融合;批判传统文化,倡导外来文化(或开展文学革命);斗争方式较为激进。(6 分,任答 3 点)
- 成因:晚清以后,中国逐渐落伍于世界;近代以来,中华民族危机日益深重;近代出现留学海外热潮,众多有识之士接受了西方文化熏陶;辛亥革命传播了民主共和理念,推动了思想解放;北洋军阀统治下的中国依然黑暗,大多数国民的思想仍被专制和愚昧牢牢束缚;民族资本主义有一定发展。(6 分,任答 3 点)
- (3)准确、完整认知;摒弃文化虚无主义(去其糟粕,取其精华;古为今用,推陈出新(或批判继承,传承创新))。(5 分,任答 3 点即可)
42. 【参考答案】示例:
- 论题:多种因素促使美国成为新的世界经济中心。(2 分)
- 论述:19 世纪中后期,第二次工业革命开始,这次技术革命的特点之一就是技术领先地位从英国转移到德国和美国,德国和美国的经济出现了跳跃式发展,到了 19 世纪末 20 世纪初,世界经济中心已开始从英国向美国和德国转移;1914 年,第一次世界大战爆发,美国长期推行中立主义政策,大发战争横财,世界经济地位空前上升,而英、法、德等国的经济实力因为战争而遭到了严重削弱,世界经济中心加速向美国转移;美国在第二次世界大战初期依然执行中立主义政策,大做战争双方的生意,经过这场战争,英、法两国的经济实力已相对削弱,德、日两国更是一败涂地,只有美国大大提高了自己的国际经济地位,成为资本主义世界的霸主;1944 年,美国倡议召开了布雷顿森林会议,逐步形成了以美国为霸主的资本主义经济集团,美国在整个世界经济中的统治地位得到了加强。(8 分)
- 总而言之,从 19 世纪末至 20 世纪中叶的半个多世纪里,由于多种因素的影响,美国在世界经济中的地位不断上升,在群雄中崛起并独占鳌头,全面取代了英国当年的地位,成为新的世界经济中心。(2 分)
- (评卷说明:“示例”仅作为阅卷参考,不作为唯一答案。考生只要是基于材料出发拟定一个论题,达到“论题

历史参考答案 第 2 页(共 3 页)

明确,持论有据,论证充分,表述清晰”的试题要求均可酌情给分。)


- 45.【参考答案】(1)统一全国的任务基本完成,政局相对稳定;中央集权的加强;土地兼并和土地集中的发展;缓和社会矛盾和巩固统治的现实要求;商品经济的发展。(8分,任答4点即可)
- (2)使永佃权成为农民的一项重要财产形式;促进了佃农的生产积极性,提高了土地利用效率;产生了一批土地食利者;促进了农业的发展。(7分,任答3点即可)
- 46.【参考答案】(1)中国要求美国禁止对日输出战争物资;中国坚持抗战及其抵抗意志的鼓舞;避免美国卷入战争,且符合美国国家利益;美国民意的变化和孤立主义思潮的削弱。(9分,任答3点即可)
- (2)使美国摆脱传统孤立主义势力的束缚,逐步走上援华抗日道路;有利于增强中国的抵抗能力和支持中国持久抗战;导致了美日矛盾的激化,推动了中美同盟的建立。(6分)
- 47.【参考答案】(1)早年追随孙中山投身革命,成为同盟会元老之一;加入了上海中国共产党发起组,成为中国共产党最早的一批党员;利用自己在国民党中的特殊身份,积极促成第一次国共合作;抗战时期,主政陕甘宁边区政府,带头把边区建成执行中央决策的模范区;不忘初心,党的七届二中全会后,拟定继续保持艰苦奋斗作风的《入城守则》。(8分,任答4点即可)
- (2)勇赴国难,时刻以民族解放和国家振兴为最大己任;坚忍卓绝,始终保持一种锐意进取的精神状态;对革命事业赤胆忠心,勤奋乐观的神态和风貌;生活上艰苦奋斗,为广大党员干部作出表率。(7分,任答3点即可)

关于我们

自主选拔在线是致力于提供新高考生涯规划、强基计划、综合评价、三位一体、学科竞赛等政策资讯的升学服务平台。总部坐落于北京，旗下拥有网站（网址：www.zizzs.com）和微信公众平台等媒体矩阵，用户群体涵盖全国 90% 以上的重点中学师生及家长，在全国新高考、自主选拔领域首屈一指。

如需第一时间获取相关资讯及备考指南，请关注**自主选拔在线**官方微信号：**zizzsw**。



 微信搜一搜

 自主选拔在线