

★ 绝密 ★ 启用前

吉林市普通中学 2022—2023 学年度高三毕业年级第三次调研测试

文科综合能力测试

注意事项:

1. 答卷前,考生务必将自己的姓名、准考证号填写在答题卡上。
2. 回答选择题时,选出每小题答案后,用铅笔把答题卡上对应题目的答案标号涂黑。如需改动,用橡皮擦干净后,再选涂其他答案标号。回答非选择题时,将答案写在答题卡上。写在本试卷上无效。
3. 考试结束后,将本试卷和答题卡一并交回。

一、选择题:本题共 35 小题,每小题 4 分,共 140 分。在每小题给出的四个选项中,只有一项是符合题目要求的。

(说明:地理部分为第 1~11 题,共 44 分;思想政治部分为第 12~23 题,共 48 分;历史部分为第 24~35 题,共 48 分。)

“淤地还田”让水清田肥家园美,该模式实质是将河道、池塘、水库等水域沉积的淤泥采用人工或机械清出,淤泥再生资源化。图 1 为我国某地冬季清理山塘的情景。据此完成 1-3 题。




图 1

1. 图中村民们把清出的淤泥机械运卸到附近的橘园肥田,该地最可能是
A. 吉林省
B. 浙江省
C. 山西省
D. 山东省
2. 当地选择此季节排水清淤的自然原因
A. 水量较小,节省施工成本
B. 农闲季节,有大量劳动力
C. 淤泥量大,减小施工难度
D. 农作休耕,对农业影响小

文科综合试题 第 1 页 (共 16 页)

6. 长白山西坡高山苔原小灌木的形态特征可能为
- (1) 植株矮小, 匍匐贴地
(2) 植株高大, 稀疏分布
(3) 强烈分枝, 交织成网
(4) 枝条稀疏, 单侧发育
- A. (1)(2) B. (3)(4)
C. (1)(3) D. (2)(4)

7. 与苔原带原有的灌木相比, 较低海拔的草本植物
- A. 热量需求更低, 吸收养分的能力更强
B. 热量需求更低, 吸收养分的能力更弱
C. 热量需求更高, 吸收养分的能力更强
D. 热量需求更高, 吸收养分的能力更弱

8. 从地形地势角度推断长白山苔原带遭受草本植物入侵程度最高的区域是
- A. 海拔较高、坡度较小的区域
B. 海拔较高、坡度较大的区域
C. 海拔较低、坡度较小的区域
D. 海拔较低、坡度较大的区域

黑海是一个双层海, 深层水脱胎于古地中海的海盆, 北部有多瑙河、第聂伯河、顿河等多条河流注入。读图 4, 完成 9-11 题。

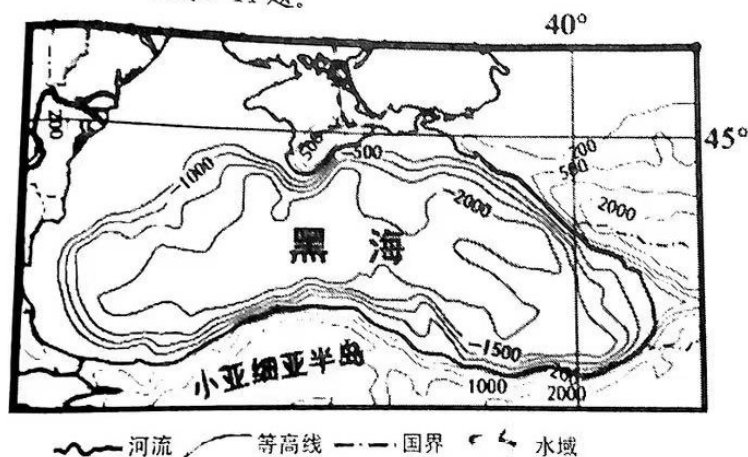


图 4

9. 关于黑海南北坡度差异主要原因是
- ① 小亚细亚半岛受板块挤压抬升 ② 南部海水侵蚀
③ 北部河流注入, 泥沙沉积严重 ④ 北部风力沉积
- A. ①② B. ①③ C. ②④ D. ③④
10. 由于黑海盐度“表底”不一, 被称为双层海, 其成因是
- A. 大气降水 B. 海水来源
C. 海水蒸发 D. 结冰融冰

11. 黑海盐度“表底”不一带来的影响
- A. 海水对流旺盛
B. 海底生物丰富
C. 出现“海水断层”
D. 表层海水流出
12. 党的二十大报告提出：“稳步扩大规则、规制、管理、标准等制度型开放。”这为我们稳步推动制度型开放、推进高水平对外开放指明了前进方向、提供了根本遵循。新时代新征程，我们要稳步推动制度型开放，加快构建新发展格局，促进国内国际双循环畅通无阻。关于对外开放，下列说法正确的是
- ①制度型开放是推进高水平对外开放的重要内容
②1978年，我国的对外开放进入新阶段
③封闭必然落后，开放必然进步
④对外开放会随着生产力的发展而不断深化
- A. ①②
B. ②③
C. ①④
D. ③④
13. 2023年3月1日出版的第5期《求是》杂志发表中共中央总书记、国家主席、中央军委主席习近平的重要文章《新时代党和人民奋进的必由之路》。文章指出：中国特色社会主义是实现中华民族伟大复兴的必由之路，只要始终不渝走中国特色社会主义道路，我们就一定能够不断实现人民对美好生活的向往，不断推进全体人民共同富裕。关于中国特色社会主义道路，下列说法正确的是
- ①消除社会基本矛盾必须走中国特色社会主义道路
②走中国特色社会主义道路，是实现共同富裕的必由之路
③走中国特色社会主义道路，就能实现中华民族的伟大复兴
④中国特色社会主义道路，必须在中国共产党的领导下
- A. ①②
B. ②③
C. ①④
D. ②④
14. “整理收纳师、调饮师、民宿管家”，2019年以来，人力资源和社会保障部会同有关部门发布了5批共74个新职业。不断涌现的新职业
- ①能为我国经济发展开辟新的就业空间
②推动国内经济大循环，建设新发展格局
③为观察我国经济发展提供了更多样的视角
④能推动有效市场和有为政府的更好结合
- A. ①②
B. ①③
C. ②③
D. ①④
15. 2022年12月15—16日在北京召开的中央经济工作会议指出：着力扩大国内需求。要把恢复和扩大消费摆在优先位置，增强消费能力，改善消费条件，创新消费场景。下列传导正确的是
- ①多渠道增加城乡居民收入——增强消费能力——扩大国内需求
②政府投资和政策激励带动全社会投资——改善投资结构——创新消费场景

- ③发挥出口对经济的支撑作用——改善消费条件——扩大国内需求
④支持新能源汽车、养老服务等消费——创新消费场景——培育经济新动能
- A. ①② B. ①③ C. ②③ D. ①④
16. 党的十八大以来，以习近平同志为核心的党中央高度重视宗教工作，在爱国主义、社会主义旗帜下，同宗教界结成统一战线。现行的《宗教事务条例》第56条规定，宗教团体、宗教院校、宗教活动场所、宗教教职人员可以依法兴办公益慈善事业。据此正确的解读是
- ①我国全面贯彻党的宗教工作基本方针
②引导宗教界人士培育和践行社会主义核心价值观
③我国鼓励和支持公民信仰宗教，服务社会
④我国积极引导宗教与社会主义相适应
- A. ①② B. ①③ C. ②④ D. ③④
17. 2022年9月2日，十三届全国人大常委会第三十六次会议表决通过了新修订的《中华人民共和国农产品质量安全法》自2023年1月1日起施行，为“舌尖上的安全保驾护航”。从农产品产地、生产过程、销售流通过程、监管部门职责、协作机制等方面和食品安全法作密切衔接、进一步加强农产品全过程监管。据此下列说法正确的是
- ①该法强化食品安全保障，守护餐饮安全，助力乡村振兴
②该法回应社会关切，有利于实现农产品从田间地头到百姓餐桌的全过程监管
③全国人大常委会领导立法，行使立法权和表决权
④全国人大常委会完善国家监察体制，贯彻落实依法治国方略
- A. ①② B. ①③ C. ②④ D. ③④
18. 春为岁首，农为行先。眼下，正值春耕春播的关键时节。农户们抢抓农时忙备耕，农技人员走村入户忙指导，大农机、无人机大显身手……人机齐上，吹响耕耘希望的号角。从南到北，一幅生机勃勃的“春耕画卷”正在广袤大地上徐徐展开。这说明我们
- ①只有把握大自然规律才能成功预测农时
②对农时的认识是取得春耕胜利的出发点
③珍惜农时忙备耕体现了意识的能动作用
④尊重规律是规律能发生作用的前提条件
- A. ①② B. ①③ C. ②④ D. ③④
19. 探店作为一种新兴业态，在流量和利润的驱使下，一度因缺乏相关规范、商家和达人权责不清催生了种种乱象。比如，达人以差评勒索吃“霸王餐”、通过剪辑网络素材“云探店”、夸大宣传虚假“种草”；商家在约定时间拒绝接待、未按约定提供免费餐食、违规上线同质商品等。这些都让商家和达人深感困扰，同时引发消费者担忧。近日，抖音生活服务发布了行业首个《餐饮探店规范》，对商家和网络达人“探店”推广行为进行了规制。这说明

- ①人们可以根据自身需要，~~创造~~人为事物的联系
②矛盾双方的对立统一，推动事物向前发展
③人们要充分发挥主观能动性，~~消除~~不利联系
④意识具有能动创造性，人们可以分析、解决矛盾
A. ①② B. ①③ C. ②④ D. ③④
20. 2023年2月3日，美国一列运载有毒化学品的列车在俄亥俄州东部脱轨起火。事故发生后，方圆数公里内居民出现头疼、恶心等症状，当地鱼类、动物出现死亡现象。美国政府在此次事件中反应迟钝、处理不力，引发民众和舆论的广泛批评。美国媒体分析认为，一方面，美国铁路行业长期将利润置于安全之上，近年来事故频发，暴露了管理不善、监管缺失等弊病；另一方面，美国政府与铁路公司对于应急事故的处理“令人失望”，民众的健康安全被严重忽视。美国媒体的分析表明
- ①资本是万恶的根源，国家要宏观调控
②国家具有阶级性，是维护统治阶级利益的工具
③美国政府在本质上是为资产阶级服务
④美国是联邦制国家，各州有相对主权
A. ①② B. ①③ C. ②③ D. ①④
21. 2022年11月16日，二十国集团领导人第十七次峰会在印度尼西亚巴厘岛继续举行。国家主席习近平出席并发言。习近平指出：数字经济规模扩大，全球数字化转型加速，成为影响世界经济格局的重要因素。近年来，二十国集团在适应数字化转型、发展数字经济方面凝聚了更多共识，推进了更多合作。希望各方激发数字合作活力，让数字经济发展成果造福各国人民。材料告诉我们
- ①经济全球化的深入发展加剧世界经济的不确定性
②人类社会越来越成为一个紧密联系的命运共同体
③促进共同发展是二十国集团各成员国的共同愿望
④二十国集团主要讨论全球重大经济金融热点问题
A. ①② B. ②④ C. ③④ D. ③④
22. 某绘画比赛主办方赛前承诺奖励一等奖获得者1万元。7周岁的小学生甲的绘画作品获得一等奖。一公司看上了甲的获奖作品，提出要以2万元买下作为公司的商标图案。甲的父母知道后，明确表示不同意出售。就上述事实，下列说法正确的是
- ①在主办方支付奖金前，甲对1万元奖金没有所有权
②甲是无民事行为能力人，对获奖作品享有商标权
③甲的父母有权拒绝该公司以2万元的价格购买获奖作品的要约
④甲是限制民事行为能力人，对获奖作品享有著作权
A. ①② B. ①③ C. ②④ D. ③④

文科综合试题 第6页(共16页)

23. 孔子有天外出，天要下雨，可是他没有雨伞，有人建议说：“子夏有，跟子夏借。”孔子一听就说：“不可以，子夏这个人比较吝啬，我借的话，他不给我，别人会觉得他不尊重师长；给我，他肯定要心疼。”这一事例说明了
- ①对客观事物情况的正确认识是恰当判断的前提条件
②思想的形式结构决定了我们能从真前提推出真结论
③通过在实际中的观察和调查，就能形成正确的判断
④通过归纳推理可以帮助人们认识事物的本质和规律
- A. ①② B. ③④ C. ①④ D. ②③
24. 甲骨文是指刻在龟甲、兽骨上的文字。图是周字的甲骨文字形。材料反映了周人
- A. 擅长农耕种植
B. 严格实行了井田制
C. 禁止私田存在
D. 建立了大规模城邦
25. 根据唐朝法令，凡进士及第者，本人及全家即可免除徭役科，“名不著于农工商之版”。材料说明唐代的科举进士
- A. 享受着政治和经济特权
B. 与百姓不同的经济待遇
C. 帝王和地方官礼遇有加
D. 不得与五姓等大姓婚配
26. 明代小说《金瓶梅》中，西门庆派仆人到京城办事，路费是二十两银子；西门庆家的伙计，每月工钱是二两银子；教弹唱的乐师，每月工钱五两银子；剃头匠给西门庆篦头、按摩、挖耳、给小公子理发，手工费五两银子。上述材料说明
- A. 明代中后期白银已经成为广泛流通的货币
B. 作为支付手段白银体现了较好的储藏价值
C. 粮食作物产量提高铜钱大量兑换成了白银
D. 商业繁荣发展需要重金属充当流通的货币
27. 1868年6月，中美《蒲安晨条约》第六条规定：中国人至美国，或经历各处，或常行居住，美国亦必须按照相待最优之国所得经历与常住之利益，俾中国人一体均沾。材料表明
- A. 美国意识到与清政府友好的重要意义
B. 为美国资本家招募华工提供法律依据
C. 中国开始在条约中有互惠最惠国待遇
D. 美国利用世界工业第一地位压榨中国

28. 阅读下表

1894—1948 中国商业资本平均增长率表

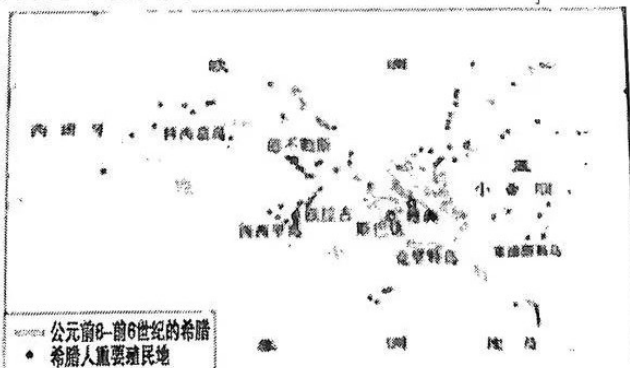
时间	年平均增长率
1894—1911 年	6.26%
1911—1920 年	4.24%
1920—1936 年	3.06%
1936—1948 年	3.28%

对表格信息解读正确的是

- A. 民族资本主义一直处于发展
 - B. 军阀割据政局动荡影响经济发展
 - C. 经济形势受到国内外局势综合影响
 - D. 增长率持续走低源于西方对华政策
29. 1957—1960 年，我国工业总产值增长 1.3 倍，农业总产值下降了 22.7%。1960 年粮食总产量为 2870 亿斤，比上一年减少 26.4%。材料说明该时期国家
- A. 农村集体化运动提高积极性
 - B. 新中国激发了人民劳动热情
 - C. 农轻重三者按比例协调发展
 - D. 突出了对工业现代化的重视

30. 读下图，材料表明该时期古希腊

- A. 适时发展农耕地等产业
- B. 国家统一组织和管理移民
- C. 殖民活动由地理环境决定
- D. 利用海上的优势进行移民



31. 故事小说《一千零一夜》是阿拉伯文学的瑰宝。它以波斯的《一千个故事》为基础，吸收了印度、希伯来、埃及和阿拉伯等地的民间故事，生动地反映了阿拉伯帝国境内各族人民以及印度和中国等东方各国人民的生活习俗、风土人情和社会制度。材料表明《一千零一夜》

- A. 已具备初步的全球化视角
- B. 带有较强的现实主义色彩
- C. 体现了文明文化交融互鉴
- D. 展现了阿拉伯帝国的繁盛

32. 亚当·斯密指出：“奴隶劳动虽表面上看来只需维持他的生活费用，但彻底计算起来，其代价是任何劳动中最高的。一个不能获得一点财产的人，在力求其最多，作必求其最少，除此之外，什么也不关心”。这种观点
- A. 理论上推动拉丁美洲的独立运动
B. 其意在说明奴隶劳动积极性不高
C. 为世界的废奴运动提供理论依据
D. 说明奴隶一直阻碍资本主义发展
33. 罗素指出，“文艺复兴时期的人，除了雷奥纳多及其几个人之外，都不尊重科学。……他们当中不少人仍像中世纪哲学家一样崇敬权威，不过他们用古代人的威信替代教会的威信”。材料说明罗素认为文艺复兴
- A. 带有中世纪传统思维方式的局限
B. 催生了以实验为基础的自然科学
C. 极大地打击了天主教会的权威
D. 借复兴古典文化宣扬了人文主义
34. 1689—1820年英国议会通过的公法与私法数目

时间	公法数目	私法数目	每次会议通过的法令数
1689—1702年	343	466	57
1702—1714年	338	605	78
1714—1727年	377	381	58
1727—1760年	1447	1244	81
1760—1820年	9980	5257	254

材料所述现象出现的主要原因是英国

- A. 上院立法职能的继续强化
B. 社会经济生活的巨大变动
C. 国王在议会中发挥了作用
D. 议会斗争的趋于彻底缓和
35. 美国的《1952年移民法》的第一项规定，每年移民限额的50%将用于吸引外来人才……凡申请第一优先原则者，必须“受过高等教育、有技术培训的经历、专业化经验或特殊才能，其服务为美国之急需”。材料说明美国
- A. 打通了国际高级人才市场
B. 是由众多移民组成的国家
C. 人才政策受国际局势的影响
D. 加强对中间地带的文化渗透

二、非选择题：本题共 10 小题，共 160 分。

36. 阅读图文资料，完成下列要求。（28 分）

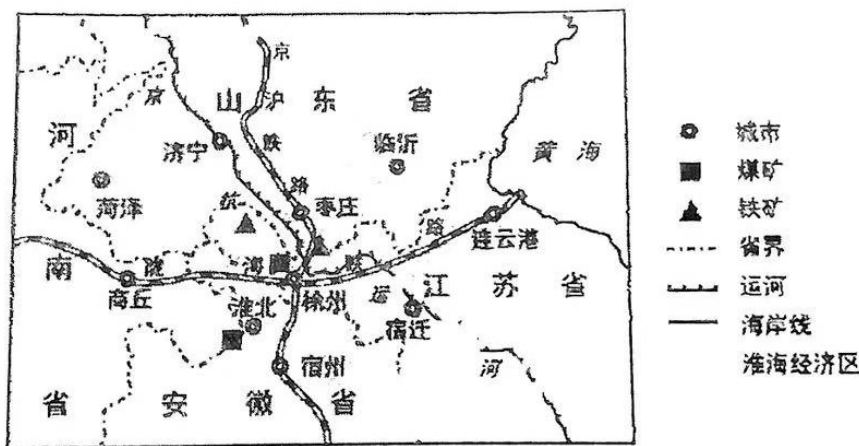
材料一

工程机械是指用于各类基本建设工程施工作业的机械和设备。进入 21 世纪，因三峡水利工程、南水北调、铁路等交通线的建设，城镇化建设等，使得中国工程机械产业空前活跃。

材料二

徐州地理位置优越，自古以来采矿业、冶炼业发达，工程机械有 60 余年的发展历史，被誉为“工程机械之都”。其中徐州工程机械（简称徐工）是近年来发展最快的龙头企业。徐工不断的加大技术研发和人力资本的投入，带领企业实现从“制造”到“创造”的转变，并坚持立足中国，放眼世界，深耕海外制造业基地。其生产的起重机、装载机、挖掘机、零部件已出口到 158 个国家和地区，其中零部件产品（除了部分关键零部件）是欧美的工程机械公司需求较高的产品。

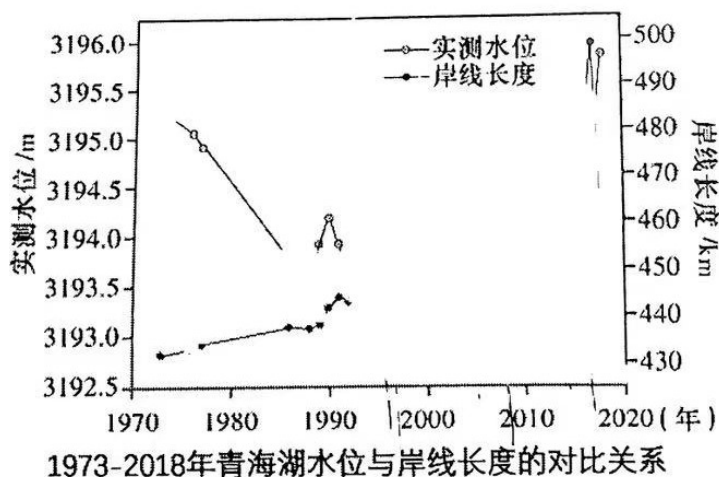
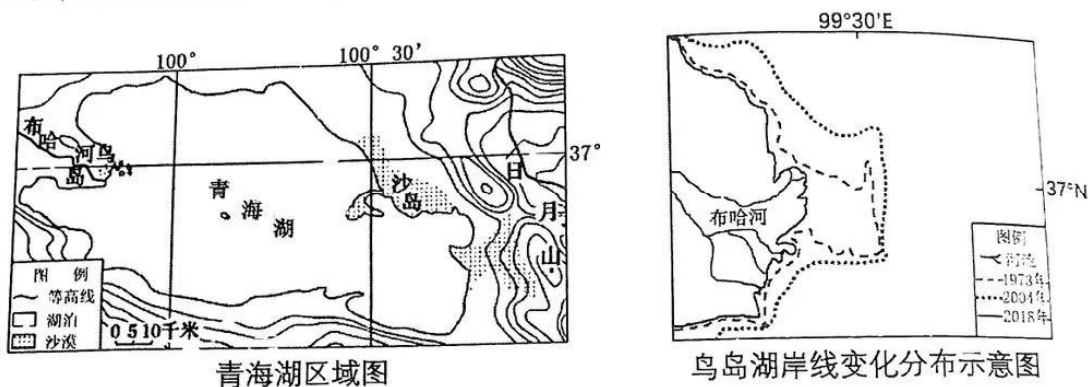
徐州形成了以徐工为代表的工程制造产业群。淮海经济区地处苏皖豫鲁四省交界处，经济发展相对缓慢。



- (1) 从矿产资源角度，说明徐州工程机械兴起和发展的条件。（6 分）
- (2) 从生产成本和技术角度，分析徐工的零部件产品在欧美国家需求高的原因。（4 分）
- (3) 分析徐州对淮海经济区起辐射带动作用的原因。（6 分）
- (4) 简述中国工程机械制造产业对我国基础设施建设的意义。（6 分）
- (5) 说出徐工为进一步提高工程机械产品的国际竞争力应采取的措施。（6 分）

37. 阅读图文资料，完成下列要求。(28分)

青海湖位于我国青藏高原东北部，为气候敏感区域，流域内大风日数较多，湖区周围土地荒漠化不断加剧。湖岸线是指湖水与湖岸岸坡的交界线，近45年来，在自然和人类活动作用下，青海湖岸线处于动态变化过程，特别是近年来受到气候变化影响，岸线变化更为显著。湖东岸的沙岛，西岸的鸟岛2004年前都以泥沙堆积为主，但是外力作用的动力有所不同。研究发现青海湖的动态变化(水位、水量、面积)对岸线的曲折性的影响并不明显，受地形(青海湖湖底地形凹凸，起伏较大)等因素影响较大。青海湖岸线的变化对湖泊及周围鸟类栖息地等区域有一定的影响。下图为青海湖区域示意图、鸟岛湖岸线变化分布示意图及1973-2018年青海湖水位和岸线长度的对比关系。



- (1) 描述近45年来青海湖岸线的整体变化特点并分析原因。(10分)
- (2) 指出2004年前鸟岛和沙岛岸线变化的主要外力作用有何不同。(4分)
- (3) 说出1997年前青海湖水位与岸线长度的相关性并解释其原因。(6分)
- (4) 简述2004年以来青海湖岸线变化带来的影响。(8分)

38. 阅读材料，完成下列问题。（10分）

材料：党的二十大报告提出，基层民主是全过程人民民主的重要体现，基层民主是我国社会主义民主政治的重要组成部分，是人民当家作主的直接体现，彰显我国国家制度和治理体系的优势，积极发展基层民主，确保全过程人民民主在基层落地生根。

党的十八大以来这10年，党内外舆论公认：全国城乡基层民主创新创造比以往任何时候都更加活跃，基层民主活力也得到进一步增强。从城乡社区的村（居）民议事会、村（居）民论坛、民主恳谈会、民主听证会到党代表、人大代表、政协委员联袂进社区，从“小院议事厅”到“板凳民主”，从线下“圆桌会”到线上“议事群”，中国人民在新时代火热的基层民主生活实践中，摸索和创造出一次又一次充满烟火气的基层民主新形式。人民群众通过这些接地气、聚人气、提心气的民主实践，围绕涉及自身切身利益的实际问题，积极发表意见建议，持续进行广泛协商，利益得到协调，矛盾有效化解，合理化建议被及时采纳，促进了基层稳定与和谐安宁。我国基层民主的许多好的经验做法上升为国家政策和法律制度，为中国式民主发展不断注入新的动力。

结合材料并运用《政治与法治》有关知识，说明基层民主是全过程人民民主的重要体现。

39. 阅读材料，完成下列问题。（12分）

材料一：进入二十一世纪，人类发展不断遇到新困境，各种文明都在积极探索新发展道路。中国式现代化，深深植根于中华优秀传统文化，体现科学社会主义的先进本质，借鉴吸收一切人类优秀文明成果，代表人类文明进步的发展方向，展现了不同于西方现代化模式的新图景，是一种全新的人类文明形态。

中国走的是社会主义现代化道路，仅用几十年时间就创造了空前的人类现代化奇迹。中国所具有的传统文化基因、所倡导的处世哲学、所坚持的开放包容理念等，可以超越西方现代文明困境，创造一种崭新的人类文明形态。

材料二：人类文明新形态植根于中国五千年传统文化的深厚土壤。中华文化博大精深，其中蕴藏着诸多关系国家治理、社会发展及道德规范的文明成果，是滋养、壮大中华民族的精神血脉，也是中国式现代化区别于西方现代化的文化底色。中国传统文化秉持和而不同、求同存异的哲学智慧，倡导各美其美、美美与共，正是现代化发展和文明进步所需要的，也为当今世界处理国际关系、应对百年未有之大变局提供了思想文化资源。

此外，中国传统文化对人与人、人与社会和谐关系的高度重视可以消解西方现代文明因过于强调个人主义而造成的矛盾与冲突，重建一种科学的社会整合机制，从而创造人类文明新形态。

（1）结合材料一并运用《哲学与文化》中认识具有无限性的知识，谈谈中国为什么努力探索人类文明新形态。（8分）

（2）结合材料二说明传承中华优秀传统文化对探索人类文明新形态的作用。（4分）

40. 阅读材料，完成下列问题。（10分）

2023年2月20日新华社发布《美国的霸权霸道霸凌及其危害》的报告，被称为新时代的“讨美檄文”。它标志着中国开始主动出击，基于维护世界安全，反对霸权的理念，直面美国霸权，带领全球所有立志于反霸权的国家，向美国的霸凌行径，发出最强烈的反抗声音。

报告指出，美国在经历两次世界大战和冷战成为全球头号强国后，更加肆无忌惮，粗暴干涉别国内政，谋求霸权、维护霸权、滥用霸权，大搞颠覆渗透，动辄发动战争，贻害国际社会。美国惯于打着民主、自由、人权的幌子，发动颜色革命，挑唆地区争端，甚至直接发动战争。美国固守冷战思维，大搞集团政治，挑动对立对抗。美国对国际法和国际规则合则用，不合则弃、则废，打着“基于规则的国际秩序”旗号，谋着维护自身“家法帮规”的私利。

报告还指出，美国以强权挑战真理，以私利践踏正义。这些单边主义、唯我独尊、倒行逆施的霸权做法正在引发国际社会越来越强烈的批评和反对。国与国之间要相互尊重、平等相待。大国应该有大的样子，更要带头走出一条对话而不对抗、结伴而不结盟的国际交往新路。中国一贯反对一切形式的霸权主义和强权政治，反对干涉别国内政。美国应该反躬自省，深刻检视自己的所作所为，放弃傲慢与偏见，摒弃霸权霸道霸凌。

结合材料并运用《当代国际政治与经济》的相关知识，说明中国直面美国霸权的原因。

41. 阅读材料，完成下列问题。（10分）

材料：习近平总书记强调：“排除阻碍劳动者参与发展、分享发展成果的障碍，努力让劳动者实现体面劳动、全面发展。”坚持社会公平正义，依法保障职工基本权益，让劳动者更有保障、更有尊严，我们就一定能更好激发全社会创新、创造活力，让勤奋做事、勤勉为人、勤劳致富在全社会蔚然成风。

【基本案情】

大学毕业生张某于2020年6月与某科技公司签订劳动合同，约定工资20000元/月。同时，该公司要求张某另外签订了一份协议作为合同附件，协议内容包括：我自愿申请加入公司奋斗者计划，放弃加班费。半年后，张某因个人原因提出解除劳动合同，并要求该公司支付加班费。该公司对张某加班的事实表示认可，但以张某自愿签订放弃加班费协议为由拒绝支付其加班费，认为张某现在主张索要加班费有违诚信原则。张某向劳动争议仲裁委员会申请仲裁，请求裁决该公司支付2020年6—12月的加班费共计24000元。

【争议焦点】

本案的争议焦点是张某与该公司签订放弃加班费的协议后，是否还能主张加班费。结合材料并运用《法律与生活》的有关知识，分析张某能否主张加班费并说明理由。

42. 阅读材料,完成下列问题。(10分)

建国初期国内的老字号超过1.6万家,如今商务部认定的老字号仅存1128家,存活率不足10%。而在现存的1千多家老字号企业中,只有30%经营良好,大部分知名老字号企业都在逐渐衰弱,甚至在以每年5%的速度消失。

作为承载我国文化遗产的重要组成部分,餐饮老字号一直以来都是餐饮业不可忽视的

市场力量。重视餐饮老字号的保护与发展是当前文化遗产保护工作的一项重要内容。

老字号如果故步自封,而没有作为一个现代餐饮企业的基本视野,是很难发展下去的。老字号之所以能越做越好,关键在于对团队的培养,对传统工艺的传承,包括在菜品等方面不断地创新和融合。

实际上,面对困境,越来越多的餐饮老字号正在寻求更多的“出圈”方式。

运用《逻辑与思维》中辩证的否定观的知识,谈谈餐饮老字号怎样才能顺利“出圈”?

43. 学界一般把建于公元前124年的太学视为中国高等教育的发端,把1088年建立博洛尼亚大学看成是西方高等教育的起源。阅读下列材料,回答问题。(25分)

材料一 汉代董仲舒提出,“养士之大者,莫大乎太学。太学者,贤士之所关也,教化之本源也。”太学的学习内容以传授儒家经典为主,并要求“一岁皆辄课,能通一艺以上,补文学掌故缺;其高第可以为郎中。”太学的教育主体是博士与博士子弟,是享受国家俸禄的公职人员。太学的建立标志着以儒家经籍为教学内容的官方教育的开始。太学以教师的讲授和学生的自学为主,说经、互相问难、讨论经意义是重要的教学形式。

——根据徐杰舜《汉民族发展史》摘编整理

材料二 欧洲中世纪经济与社会结构的变化引发社会对大批专业人员的需求,同时教会也需要补充神职人员,这种特殊的国家与教会同时发展的社会模式,使得培养训练专业人员的教学机构得以兴起。中世纪大学的基本目的是职业训练。法律、医药、神学和文艺等都需要有能力的和受过学校教育的人。中世纪的每一所大学都是模仿意大利博洛尼亚大学和巴黎大学中的一个建立起来的。其经济收入有三种渠道:第一种依靠学生的收费,第二种是依靠教会的圣俸为生,第三种是依靠世俗权力机构发给的薪水。中世纪大学进行的是一般教堂学校无法从事的高级教学、研究机构。开设规定的课程,实施正式的考试……中世纪的大学的主要教学形式有讲授、背诵、辩论等。

——根据英国威克姆《中世纪欧洲》摘编整理

(1) 根据材料一和材料二回答,分别说明中国汉代的太学与中世纪欧洲大学兴起的背景。并对二者简要加以比较。(14分)

(2) 根据材料二结合所学知识,指出西方大学内在的特点,并分析其影响。(11分)

文科综合试题 第14页(共16页)

44. 结合所学知识，回答下列问题。（12分）

上篇——作为“中国”的世界

第一章 地理与历史

第二章 第一轮大循环：封建社会

第三章 第二轮大循环：豪族社会

第四章 第三轮大循环：古代平民社会

下篇——内在于世界的“中国”

第五章 从古代向现代的转型：帝国余晖

第六章 进行中的第四轮历史大循环：现代平民社会

第七章 中国经济的崛起与世界秩序的失衡

第八章 世界历史民族的精神自觉

——施履《历史》

结合所学知识，就“中国”的世界与世界的“中国”的内容，自拟一个能够反映某时代特征的名称（摘抄原文不得分），并运用具体史实予以论证。（要求：论证充分，事实准确，逻辑清晰。）

45. 结合所学知识，回答下列问题。（15分）

……在商鞅看来，战争既是保卫自己的手段，更是在混乱年代争霸的工具；而兴农则是为了积蓄战略物资以支援战争。在这里，征战、兼并、称霸乃至统一天下是目的，而重本抑末、发展耕织不过是服务战争的工具和手段而已。商鞅变法渗透着鲜明的实用主义色彩。为了鼓励耕织，商鞅采取了一系列抑制工商业发展的措施。这种把人口束缚在土地上，把人的消费限制在基本消费上的做法，违背了经济发展的客观规律，从长期看，是不利于生产发展和改善居民生活水平的。更严重的是，为了在全社会构建以农战为核心的激励体系，商鞅主张严厉控制舆论，严厉打击传统道德。他把礼乐、孝悌、诚信、仁义、非兵、羞战等视作危害国家的“虱害”，因而必须予以铲除。他执行愚民政策，并且实行连坐制度，使居民相互监视，导致整个国家人文道德水准显著下降。商鞅到秦国后，通过秦孝公的宠臣景监引荐，数次与秦孝公谈话，在帝道、王道、霸道中，商鞅用霸道打动了秦孝公。秦孝公决定重用商鞅推行变法。由此，我们可以看到商鞅的博学与才华。

——张俊伟《商鞅变法：不为人关注的另一面》

(1) 根据材料并结合所学知识，概括商鞅变法的主要内容。（6分）

(2) 根据材料并结合所学知识，评价商鞅变法。（9分）

命题、校对：高三文科综合命题组

关于我们

自主选拔在线是致力于提供新高考生涯规划、强基计划、综合评价、三位一体、学科竞赛等政策资讯的升学服务平台。总部坐落于北京，旗下拥有网站（[网址: www.zizzs.com](http://www.zizzs.com)）和微信公众平台等媒体矩阵，用户群体涵盖全国90%以上的重点中学师生及家长，在全国新高考、自主选拔领域首屈一指。

如需第一时间获取相关资讯及备考指南，请关注**自主选拔在线**官方微信号：**zizzsw**。



 微信搜一搜

 自主选拔在线