



# 高三文科综合考试

(考试时间:150分钟 试卷满分:300分)

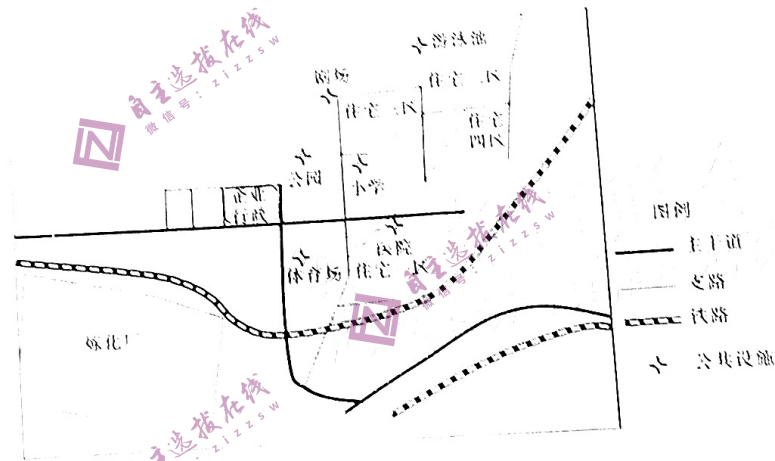
## 注意事项:

1. 答卷前,考生要分清自己的姓名、准考证号、考场号和座位号填写在答题卡上。
2. 回答选择题时,选出每小题答案后,用铅笔把答题卡上对应题目的答案标号涂黑。如需改动,用橡皮擦干净后,再选涂其他答案标号。回答非选择题时,将答案写在答题卡上。写在试卷上无效。
3. 考试结束后,将本试卷和答题卡一并交回。

## 第 I 卷 (选择题 共 140 分)

本卷共 35 小题,每小题 4 分,共 140 分。在每小题给出的四个选项中,只有一项是符合题目要求的。

南京市某社区始建于 1985 年。近些年来,该社区出现人口双向迁移的现象,有大量外来人口迁入该社区,迁出该社区的人口主要流向新建商品房。下图示意该社区的空间结构。据此完成 1-3 题。

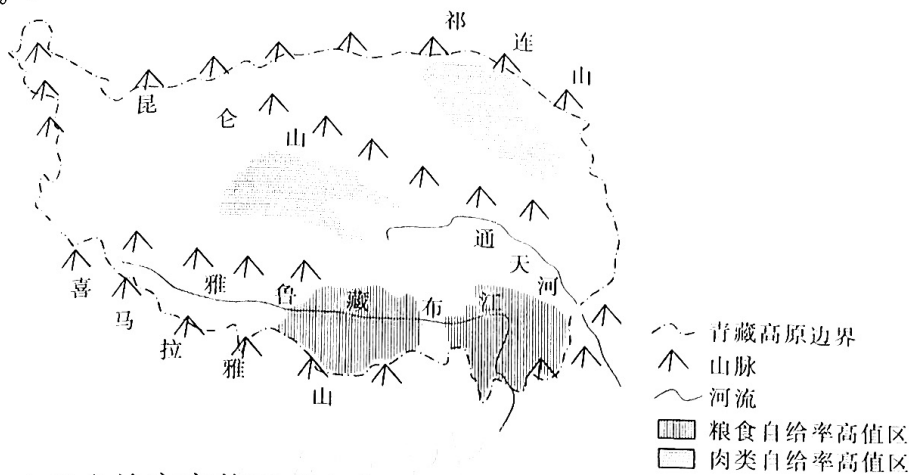


1. 该社区
  - A. 邻近中心城区
  - B. 对外交通便利
  - C. 环境质量较好
  - D. 商业等级较高
2. 推测迁入该社区的人口
  - A. 平均受教育水平较高
  - B. 以中老年人为主
  - C. 对公共服务设施需求高
  - D. 整体付租能力较低
3. 近年来,该社区利用率逐渐降低的设施是
  - A. 剧场
  - B. 公园
  - C. 医院
  - D. 小学

题  
答  
要  
不  
内  
线  
封  
密

粮食和肉类的自给率高值区分布。据此完成4~5题。

青藏高原粮食、肉类自给



4. 青藏高原粮食、肉类自给率高值区分布格局的主导自然因素分别是

- A. 热量、水源
- C. 光照、草场

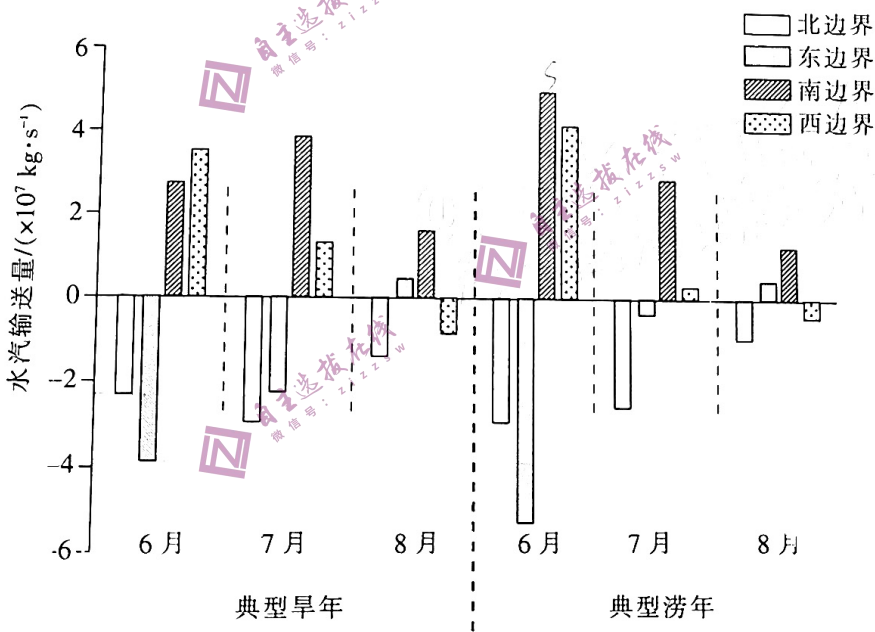
- B. 热量、草场
- D. 光照、水源

5. 为提高青藏高原粮食或肉类自给率, 建议

- A. 采用一年两熟种植模式
- C. 积极培育人工草场

- B. 推动农作物种植结构升级
- D. 开辟高寒湿地为优质牧场

福州市干旱年份呈“正常-旱-涝”分布的规律, 不同旱涝年份的水汽输送形势差异明显。下图示意福州市典型旱、涝年夏季各月不同方位的水汽输入与输出量。据此完成6~8题。



6. 为福州夏季输送水汽的主要气流是

- A. 东北风

- B. 东南风

- C. 西北风

- D. 西南风

7. 与典型早年相比, 形成典型涝年的关键在

- A. 6月东边界

- B. 6月南边界

- C. 8月北边界

- D. 8月西边界

8. 福州早年、涝年交替现象出现的原因从根本上取决于

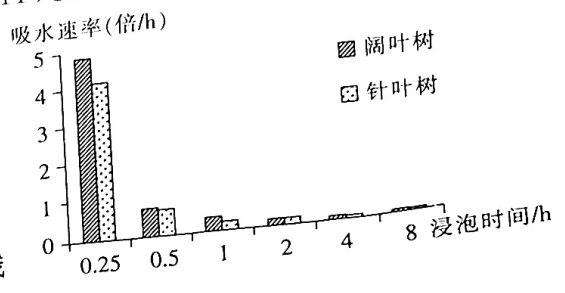
- A. 东北信风带的季节移动异常

- B. 登陆福州的台风天数变化

- C. 西北太平洋副热带高压异常

- D. 亚洲低压强度异常

树木死亡后遗留下的枯立木、倒木、根桩等统称为粗木质残体,其通过涵养水源、释放养分,在森林生态系统中发挥着不可替代的生态作用。老秃顶子山为辽宁省最高峰,发育第四纪冰期冻融形成的石海、石河等冰缘地貌,土壤覆盖率较低。下图示意老秃顶子山不同海拔自然带粗木质残体的吸水速率随浸泡时间的变化。据此完成9~11题。



9. 与针叶树相比,阔叶树粗木质残体
- A. 木质较软
  - B. 木质呼吸较慢
  - C. 缝隙较少
  - D. 残体分解较慢
10. 对老秃顶子山当地植物生长影响最大的是粗木质残体能够较好吸收
- A. 春季积雪融水
  - B. 夏季暴雨
  - C. 秋季坡面径流
  - D. 冬季地下水
11. 老秃顶子山高海拔地区粗木质残体水文生态价值较高,可能是由于高海拔地区
- A. 粗木质残体吸水速率快
  - B. 植被覆盖率较高
  - C. 粗木质残体吸水时间长
  - D. 水源涵养需求较大
12. 李大钊在《再论问题与主义》一文中指出,一个社会主义者,为使他的主义在世界上发生一些影响,必须要研究怎么可以把他的理想尽量应用于环绕着他的实境;同时指出马克思主义会因时、因所、因事的性质情形产生一种适应环境的变化。材料表明
- ①马克思主义不是封闭的,而是变化发展的
  - ②中国共产党是马克思主义的忠实践行者
  - ③马克思主义是指导人类解放的科学理论
  - ④马克思主义的运用必须和本国国情相结合
- A. ①③
  - B. ①④
  - C. ②③
  - D. ②④
13. 这是一个幸福的约定。在每年元旦前夕,聆听国家主席习近平的新年贺词,收获一份美好祝愿。十年的新年贺词中,“人民”二字重千钧,领袖对人民的热爱和牵挂,深沉而绵长。下列用典体现该思想的是
- ①志不立,天下无可成之事
  - ②孤举者难起,众行者易趋
  - ③宁过于予民,不可过于取民
  - ④身为野老已无责,路有流民终动心
- A. ①②
  - B. ①③
  - C. ②④
  - D. ③④
14. 2022年4月,中国人民银行指导利率自律机制建立了存款利率市场化调整机制,引导银行根据市场利率变化合理调整存款利率,进一步推进存款利率市场化。这一政策发挥作用的传导路径是
- ①引导金融资源优化配置
  - ②为实体经济提供更多金融活水
  - ③发挥利率杠杆的调节作用
  - ④激发市场微观主体的活力
- A. ③→①→②→④
  - B. ③→④→②→①
  - C. ③→②→④→①
  - D. ②→③→④→①
15. 国家发展改革委、商务部发布的《鼓励外商投资产业目录(2022年版)》自2023年1月1日起施行。与2020年版目录相比,新版目录净增加239条、修改167条,主要变化有持续鼓励



外资投向制造业,持续引导外资投向生产性服务业,持续优化利用外资区域布局。修订出台新版目录有利于

- ①扩大外商投资的范围,更好地发挥外资经济的主导作用
- ②培育新的经济增长点,促进我国经济社会高质量发展
- ③保持进出口贸易平衡,不断提高我国开放型经济水平
- ④提高利用外资的质量,提升产业链、供应链水平

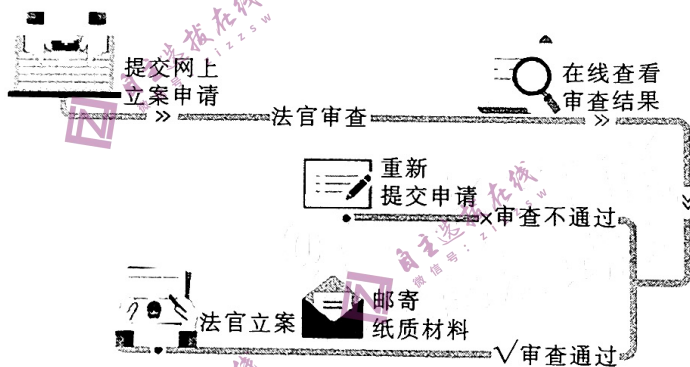
A. ①③                      B. ①④                      C. ②③                      D. ②④

16. 我国预算联网监督系统建设不断推进,系统功能从简单查询到智能预警、智能分析,监督方式从静态时点审查监督转变为静态时点与动态实时审查监督相结合。截至2023年1月,全国31个省(区、市)的人大、90%的地市级人大、80%的县级人大都建成了预算联网监督系统,人大代表通过手机App可以随时随地查阅相关政府预算和预算审查监督的内容信息。预算联网监督系统的建成及运行

- ①能增强人大对政府预算审查监督的针对性、有效性
- ②延伸了各级人大对政府及其有关部门的监督权
- ③拓展了人大代表参与预算审查监督的渠道和方式
- ④能促进政府依法行政,坚持“法无禁止即可为”

A. ①②                      B. ①③                      C. ②④                      D. ③④

17. 下面是人民法院网上立案流程图。据此,下列理解正确的是



- ①社会主义民主是最广泛、最真实的民主
- ②司法机关为保障当事人诉讼权提供便利
- ③现代科技手段的运用有力促进司法为民
- ④该流程旨在使审判结果更好地得到人民认可

A. ①③                      B. ①④                      C. ②③                      D. ②④

18. 我们平时喝饮料都是使用较短的饮料管,因为在地面重力的作用下,饮料管越长,吮吸也就越费力。2022年10月12日,航天员在“天宫课堂”第三课上演示了微重力环境下太空饮水的趣味实验,航天员使用长达两米的饮水管,仅靠吮吸的力量就可以喝到饮料。这说明

- ①任何真理都有自己适用的条件和范围
- ②趣味实验有利于人们加深对真理性认识的理解
- ③科学实验是检验已有认识正确与否的重要标准
- ④主客观条件的限制决定了追求真理是永无止境的

A. ①②                      B. ①④                      C. ②③                      D. ③④



19. 5G时代,人们借助多媒体影视技术、多点触控技术、虚拟现实和增强现实技术、移动终端应用等,将乡村文化资源进行数字化呈现,把更多深藏的乡村文化资源呈现在手掌上,让更多人能够体验富有活力和创意的乡村文化。可见,数字化

- ①丰富了乡村文化的表现形式和时代内涵
- ②对不同民族文化的发展产生重要推动作用
- ③能促进文化传播,让乡村文化焕发盎然生机
- ④能推动乡村文化的创造性转化和创新性发展

A. ①②

B. ①④

C. ②③

D. ③④

20. 拉丁美洲是世界上最大的粮食和农产品净出口地区之一。在当前的粮食危机中,拉丁美洲具有稳定和降低国际粮食价格的巨大潜力,使亚洲消费者受益。但这种潜力的实现不能以牺牲自然资源为代价。中国、日本和韩国可以利用自身的创新系统,弥补拉丁美洲在采用新的数字和微生物技术以提高作物产量和减少食品碳足迹方面的不足。这说明,加强国际合作

- ①能够推动资源流动,发挥各国的比较优势
- ②有利于降低粮食安全等传统安全威胁
- ③有利于促进科技进步,推动产业升级
- ④可以消除全球高度关注的贫困和饥饿问题

A. ①③

B. ①④

C. ②③

D. ②④

21. 上海合作组织因“上海精神”而成功,也依靠“上海精神”而发展。互信、互利、平等、协商、尊重多样文明、谋求共同发展的“上海精神”作为团结协作的行动指南和文明互鉴的路径遵循,为不同文化交流树立了典范,也为整个世界提供深刻启迪。这表现在

- ①创新国际协调机制,共同推动国际关系民主化
- ②积累各国政治互信,构建和谐并进的利益共同体
- ③强化结盟伙伴关系,维护成员国的安全与发展
- ④增强发展的包容性,加剧合作中的竞争与冲突

A. ①②

B. ①③

C. ②④

D. ③④

22. 王某因工作需要,经常让邻居李某无偿帮其接送孩子(未满10周岁)。在一次接送中,王某的孩子意外从电动车上的安全座椅上摔落并受伤,随后被送至医院救治。孩子出院后,王某将李某诉至法院,要求李某赔偿医疗费、护理费等各项费用。该起案例引起了同学们的广泛讨论,其中正确的是

- ①同学甲:涉事双方应当按照方便生活的原则,正确处理相邻关系
- ②同学乙:王某作为孩子的父母没有履行监护职责,应该承担责任
- ③同学丙:李某在该案中未尽到保护未成年人的职责,应承担主要责任
- ④同学丁:助人为乐是传统美德,该案的判决应考量社会公共利益

A. ①②

B. ①③

C. ②④

D. ③④

23. 孩子不愿意做爸爸留的课外作业,于是爸爸灵机一动说:孩子,我来做作业,你来检查如何?孩子高兴地答应了,并且把爸爸的“作业”认真地检查了一遍,还列出算式给爸爸讲解了一遍。在该则事例中,孩子爸爸的做法

- ①运用了超前思维,在调查研究的基础上作出正确的判断
- ②运用了联想思维,将看似不相关对象的认识联系在一起
- ③运用了逆向思维,采用换位思考的方式激发孩子的兴趣

④运用了创新思维,因不局限于常规方法而取得积极成果

A. ①②

B. ①③

C. ②④

D. ③④

24. 良渚古城的核心区可分三重,最中心为莫角山宫殿区,其外分别为环绕的城垣和外郭,堆筑高度也由内而外逐次降低,显示出明显的等级差异,形成类似后世都城的宫城、皇城、外郭的三重结构体系。这反映了当时该地

A. 社会生产力的发达

B. 君主专制的建立

C. 氏族制度已被破坏

D. 特色文明的形成

25. 下图所示为龙门石窟中的《北魏孝文帝礼佛图》(局部),图中孝文帝头戴冕旒,身穿袈服。其他人也全都穿着宽松飘逸的汉族服饰,长袖垂地,鞋履笏头高耸。由此可知,北魏时期的佛教



A. 完成了本土化

B. 融合了中原文化

C. 成为主流文化

D. 吸收了儒家思想

26. 《新唐书》中史臣赞提到,古者“人皆土著,故名宗望姓,举郡国自表,而谱系兴焉”,而至唐中叶,“谱录都废,公靡常产之拘,士亡旧德之传……悠悠世祚,讫无考按,冠冕皂隶,混为一区”。造成这一变化的主要原因是

A. 土地兼并的加重

B. 安史之乱的爆发

C. 租庸调制的实行

D. 朋党之争的加剧

27. 传统观点认为,军机处设立于清雍正朝,标志着专制皇权发展到顶峰。美国学者白彬菊研究满文档案后认为:军机处有一逐步建立的过程,始于雍正朝,乾隆初形成;军机处日益扩张,君主专制让位给了君主与大臣的合作,大臣有可能限制君主独断。对此解读合理的是

A. 军机处设立的时间尚无定论

B. 拓展史料助于形成新的认识

C. 军机处完善了君主专制机制

D. 立场的差异造成认识的不同

28. 洋务运动前期,清政府对于民用企业多采取官办、官督商办和官商合办的“官为控制”模式,而甲午中日战争后,清政府则对一些民用企业实行了“招商承办”“全以商贾之道行之”的新模式。由此可知,此“新模式”

A. 推动了股份制公司兴起

B. 体现了国家政策的调整

C. 反映了洋务运动的破产

D. 解决了清政府财政困难



29. 1919年3月,李大钊、蔡元培等人成立了北京工读互助团,帮助北京的青年通过半工半读的方式达到教育和职业合一的理想。五四前夕,诸多知识青年通过学校、工厂、报刊、社团等多种平台聚集在一起,传播信息,交流思想。这些现象

- A. 反映了新文化运动的深入与发展
- B. 为中共的成立提供了实践基础
- C. 直接促成了五四爱国运动的爆发
- D. 体现了国人探索国家发展道路

30. 亚里士多德认为家庭谋生的五种手段,包括农耕、畜牧、捕鱼和狩猎,甚至抢劫,但不包括工商业活动。他将零售贸易视为非自然致富方式,甚至将钱币贬为“一种废品,并非自然之物”。与其同时代的其他学者也很少提到通过贸易让国家致富。由此可推知,当时希腊

- A. 属于农本经济社会
- B. 社会文化水平落后
- C. 实行重农抑商政策
- D. 食物供给依赖采集

31. 下表所示为9~10世纪欧洲教皇大事记。由此可知,这一时期的欧洲

时间	大事
9世纪初	版图遍及中欧和西欧的查理曼帝国建立,查理大帝把教皇当作他国土上的一位首席主教
9世纪末	教皇卷入意大利的政争,逐渐成为意大利贵族和罗马党派的权力斗争中的“政治足球”
962年	教皇把“罗马人皇帝”的称号献给了实力强大的德意志君主以寻求保护

- A. 教权与王权合二为一
- B. 教权依附于世俗政权
- C. 封君封臣制走向衰弱
- D. 基督教的影响力扩大

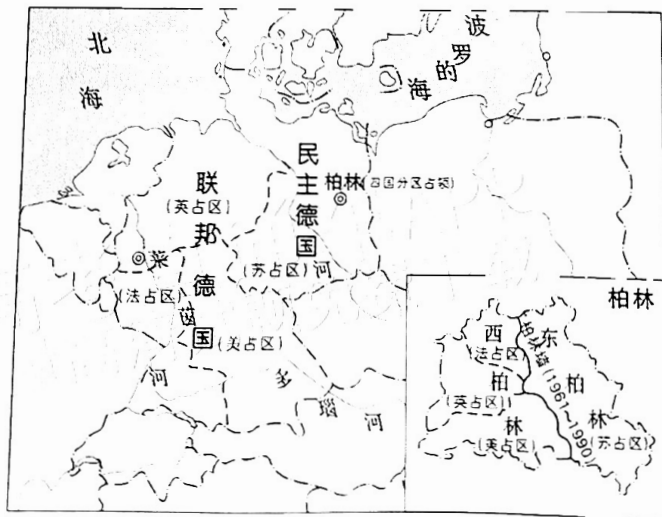
32. 自1652年荷兰人登陆好望角后,白人(欧洲殖民者)从黑人那里掠夺了大量的土地。人口占绝大多数的黑人被取消了南非公民权,其中大部分被驱赶到十个地域狭小的地方定居。这则史料最适合用来研究

- A. 南非落后的历史渊源
- B. 西方在南非的殖民争夺
- C. 南非民族独立的背景
- D. 南非反殖民斗争的艰难

33. 19世纪60年代,德国产业工人的数量约为200万,1882年增至410万,占就业人数的45%。与此同时,德国工人组织起来以实现自己的利益诉求,1863年,他们建立起全德工人联合会,1875年又建立起统一的德国工人政党——德国社会民主党。这可用来说明

- A. 德国成为当时国际工人运动中心
- B. 德国旧制度不适应时代发展的需要
- C. 工业革命改变了德国的阶级结构
- D. 经济发展助长了德国工人政治诉求

34. 下图所示为二战后美、英、法、苏四国分区占领德国示意图。这一情形





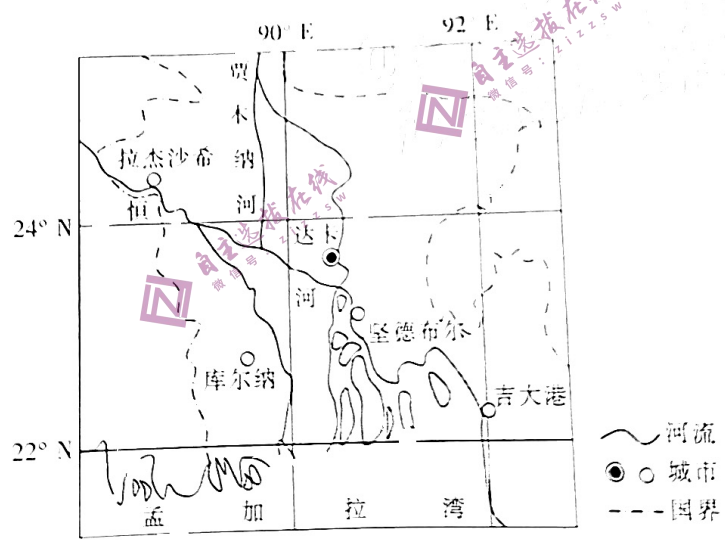
- A. 凸显美苏两国的主导地位  
 B. 与各国的贡献大致匹配  
 C. 标志着反法西斯战争胜利  
 D. 影响了战后的国际局势
35. 20世纪80年代初,发展中国家的债务总额是5000亿美元,到20世纪90年代初达到13000亿美元,其中多数是来自国际私人银行的利息较高的短期贷款。与此同时,世界工业品的价格上涨了95%,而初级产品价格仅上涨了5%。这说明
- A. 世界经济多极化趋势逆转  
 B. 国际政治秩序仍由西方国家主导  
 C. 南北差距问题仍困扰世界  
 D. 发展中国家未能从全球化中受益

## 第 II 卷 (非选择题 共 160 分)

本卷均为必做题,共 160 分。

36. 阅读图文材料,完成下列要求。(28分)

20世纪50年代之前,孟加拉国工业基础薄弱,多数产品依赖进口。1958年,孟加拉国成立小型和家庭工业联盟,对接农村居民、乡镇企业和地方政府。20世纪60年代,孟加拉国建设大量农村工业园,生产面包和膨化大米等供国内消费的商品,以减少对进口的依赖。1982年,孟加拉国调整经济战略,优先考虑吸收外资,将工厂迁入城市,大力发展出口导向型工业,为发达国家的母公司贴牌生产服装等产品。此后,孟加拉国城市化加速发展,但部分居民仍处于半工半农的状态。某服装企业于2013年随着回流乡村的趋势迁入坚德布尔县(位置见下图)的工业园。该服装企业为延长产业链,在城市里保留并延伸了部分产业链环节。


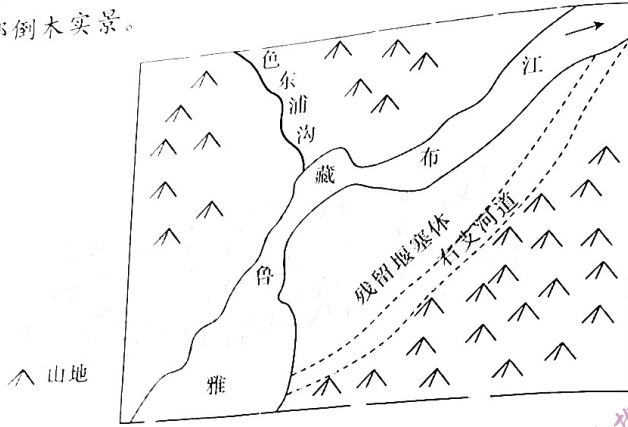


- (1) 简述 20 世纪 60 年代孟加拉国建设大量农村工业园的有利条件。(8 分)
- (2) 说明 20 世纪 80 年代孟加拉国工厂向城市搬迁的原因。(6 分)
- (3) 该服装企业于 2013 年迁回农村工业园,试对此做出合理的解释。(6 分)
- (4) 推测该服装企业在城市里布局的产业链环节。(8 分)

37. 阅读图文材料,完成下列要求。(28分)

黔东南沟位于贵州省布江左岸,沟口高程 2740 m,沟源高程 6745 m,高程

沟口雅鲁藏布江之间分布了大量的冰碛物。沟口雅鲁藏布江，1981年色东浦沟爆发的冰碛泥石流堆积而成。2014~2017年局部堰塞体堵塞古堰塞体，由多次漫顶溃决后，雅鲁藏布江新河道仍然从古堰塞体的左侧通过。2017年10月，堰塞体堵河，多次涌起的波浪快速传播，造成树木坍塌、房屋损毁。涌浪自堰塞体向上游传播，引起树木向上游方向倾倒。下列左图示意色东浦沟口附近地形，右图示意残留堰塞体向上游传播的波浪引起树木向上游方向倾倒的局部实景。



- (1) 分析图示地区雅鲁藏布江右岸残留大规模堰塞体的原因。(8分)
- (2) 多次漫顶溃决后，新河道仍然从左侧通过，试分析其原因。(6分)
- (3) 简述河道改为从左右两侧通过后，原左侧河道水文特征的变化。(6分)
- (4) 判断该景观图的拍摄方向，并简述理由。(8分)

38. 阅读材料，完成下列要求。(10分)

西藏隆子县玉麦乡紧贴中印边境实际控制线。1964年至1996年，只有桑杰曲巴、卓嘎、央宗父女三人生活在玉麦乡，组成了“人口最少乡”，坚守在祖国边境线上，锚定了一个国家的坐标。

1996年，政府选派的干部、医生为玉麦乡注入“新鲜血液”。2018年，该乡开展边境小康村及配套设施建设。2019年，国家投资超5亿元、总里程50公里的曲玛油公路改建工程全面完工；国家电网将10千伏的输电线路接入玉麦，玉麦乡人用上了稳定的常明电。湖南投入1200万元，新建了玉麦乡史馆、文化广场、消防车库、玉麦小学图书馆等设施，建成了藏香猪养殖项目，重修了约3公里的巡边路。2022年，玉麦乡发展到20多个人，人均年收入近4.4万元，人均居住面积达40平方米。乡民生产、生活半径越来越大，巡边的力度也越来越大……漫步玉麦乡，一座座藏式小楼掩映在苍松之间，干净整洁的道路通向人家，宛如一幅冬日里的水墨画卷，玉麦乡迎来了“蝶变”。

结合材料，运用政治与法治的知识，分析玉麦乡实现“蝶变”的原因。

39. 阅读材料，完成下列要求。(10分)

党的二十大报告提出，以中国式现代化全面推进中华民族伟大复兴。下表是中国式现代化与西方现代化的区别：



不同	西方现代化	中国式现代化
价值取向不同	按照“资本逻辑”来展开，西方现代化是资本、利润驱动的现代化，讲求利润最大化，资本掌握在少数人的手中，是少数人获得最大利益的现代化	按照“人民逻辑”来展开，中国式现代化是人民利益、社会利益、公共利益驱动的现代化，生产资料掌握在绝大多数人手中，是全体人民共同富裕的现代化
实现路径不同	西方采取的是暴力、掠夺的路径。对内，主要表现为牺牲底层民众的利益；对外，通过殖民地、战争等形式进行掠夺，实现现代化	中国共产党的宗旨、使命、初心是为人民服务。对内，中国共产党始终代表中国最广大人民的根本利益；对外，不搞殖民侵略和战争
最终结果不同	最终巩固的是少数资产阶级利益的最大化	最终目标是实现共同富裕和中华民族伟大复兴

中国式现代化必须有别于西方现代化。结合材料，运用价值观的知识对此加以说明。

40. 阅读材料，完成下列要求。(10分)

习近平总书记曾指出，中国和哈萨克斯坦是山水相连、命运与共的好邻居、好朋友、好伙伴。

近年来，中国高度重视对哈关系，坚定支持哈萨克斯坦维护国家独立、主权和领土完整，支持哈萨克斯坦坚持改革开放，走维护国家稳定和发展的道路。中哈双方扩大经贸、产能等领域合作，互联互通、互惠互利，拓展大数据、人工智能、数字金融、跨境电商、绿色能源、绿色基建等创新合作。在“哈萨克斯坦—中国千年对话”艺术展大厅里，一件件精美的中国绘画、瓷器以及哈萨克斯坦的丝织品、陶瓷制品，成了中哈千年灿烂文化互学互鉴的生动写照，也成为两国人民世代友好往来的历史见证。

结合材料，从构建人类命运共同体的角度，说明中哈两国是如何成为好邻居、好朋友、好伙伴的。

41. 阅读材料，完成下列要求。(12分)

### 【典型案例】

刘某购买了一套某小区一楼的房屋。随后，刘某对房屋进行装修。装修过程中，刘某将半封闭的铁艺栏杆阳台改造成全封闭式，只留出一扇门，并在阳台前的小区绿化带中修了一条小路通往主道路，以方便出入。该小区的物业认为刘某将阳台改门、占用绿化带改路的行为侵犯了其他业主的合法权益，于是向刘某发送限期整改通知书，要求刘某恢复原状。刘某以父母年迈多病、方便出入等为理由，拒绝按物业要求对绿化带及阳台进行整改，物业公司遂诉至法院。

### 【法律条款】

民法典第二百七十四条规定：“建筑区划内的道路，属于业主共有，但是属于城镇公共道路的除外。建筑区划内的绿地，属于业主共有，但是属于城镇公共绿地或者明示属于个人的除外。建筑区划内的其他公共场所、公用设施和物业服务用房，属于业主共有。”

民法典第二百七十二條规定：“业主对其建筑物专有部分享有占有、使用、收益和处分的权利。业主行使权利不得危及建筑物的安全，不得损害其他业主的合法权益。”



(1)法院会支持物业公司要求对绿化带整改的诉求吗?结合材料,运用法律与生活的知识,说明你的判断理由。(6分)

(2)法院会支持物业公司要求对阳台进行整改的诉求吗?结合材料,运用法律与生活的知识,说明理由。(6分)

42. 阅读材料,完成下列要求。(10分)

李大爷的低密度脂蛋白胆固醇一直偏高,且其一直遵照医嘱,服用降低低密度胆固醇的药物。近日,李大爷看到了某网站推送的两条信息,内容如下:

信息一

低密度脂蛋白胆固醇(LDL-C)也叫“坏胆固醇”,与心血管疾病的关系极大,能够引起动脉粥样硬化、心绞痛、脑梗死等疾病。其理想水平是 $2.6(100)$ ,合适水平是 $<3.4(130)$ ,超过 $4.1(160)$ 则严重偏高,需要高度关注并恰当处理。因此,建议胆固醇高的人戒烟、戒酒,少吃肉,多运动,必要时通过药物降低低密度脂蛋白胆固醇。  
(注:单位为毫克/分)

信息二

上海瑞金医院从2014年到2016年对13.8万名居民进行了平均3.8年的随访,发现有1710人确诊癌症。研究人员分析后得出结论:低密度脂蛋白胆固醇水平与癌症风险呈负相关。数据显示,与低密度脂蛋白胆固醇 $>3.37\text{ mmol/L}$ 的人相比, $<1.8\text{ mmol/L}$ 的人,癌症风险增加了48%;在 $1.8\sim 2.6\text{ mmol/L}$ 的人,癌症风险增加了21%。  
(注:单位为毫摩尔/升)

李大爷看着两则信息犯了难:“我该如何评判这两则信息呢?”结合材料,请你运用逻辑与思维的知识为李大爷排忧解难。

43. 阅读材料,完成下列要求。(25分)

材料一

中国君子教育是指产生于春秋时期,以儒学为理论基础,由孔子在教学实践中开创的以培养“内圣外王”的君子为目的的教育模式。孔子以“仁”开君子教育之端,孟子以“仁、义、礼、智”继承与发展,荀子以“礼”为拓展,董仲舒以“信”相加,形成“仁、义、礼、智、信”之君子教育的核心内容。加之程朱理学对道德教育地位的提升,直至清帝逊位,培养君子都是中国社会主流的教育模式。

——摘编自黄思记《君子教育与绅士教育比较研究》

材料二

英国虽是岛国,可是其文化和教育与欧洲大陆息息相关。如罗马共和国时期的三个理想品格:虔诚、庄重与博爱。这对英国社会一直具有极大影响。绅士教育真正发端于意大利,但绅士教育理论系统化于17世纪的英国。近代英国的绅士教育本质上是贵族式精英教育、人文教育。英国贵族体制起源于盎格鲁—撒克逊时代(5~11世纪),以贵族的生活习惯与交往方式为主的贵族文化是绅士教育的重要内容。早期的绅士教育主要是学习宗教的教义,这是德行的基础。传统上,英国的贵族和绅士并不十分重视学问,到爱德华六世当政(1547~1553年)时,英国议会中的一些贵族仍是文盲。不过,据统计,1680年以后出生的上院贵族,进入牛津大学和剑桥大学深造者超过36%,1741年以后出生的上院贵族的这一比例上升到了57%。英国绅士教育在17~18世纪获得蓬勃发展。

——摘编自张悦《孔子的君子教育与洛克的绅士教育之比较》

(1)根据材料一、二并结合所学知识,说明中国君子教育和英国绅士教育的异同。(14分)

(2)根据材料二并结合所学知识,概括影响英国绅士教育形成和发展的因素。(7分)


(3)综合以上材料并结合所学知识,谈谈君子教育与绅士教育对现代教育的启示。(4分)

44. 阅读材料,完成下列要求。(15分)


材料一

近现代革命历史遗迹是中华民族百年来进行民族解放、民族独立、追求自由平等的斗争的历史遗存,是中国人民百年反帝反封建伟大革命精神的文化载体,是中华民族精神的重要组成部分。革命历史遗迹主要以革命纪念馆、战场遗址以及革命领袖生活斗争遗址等形式存在,其区域分布受自然条件、人文条件及重大革命活动影响较大。它们既具有文物所共有的价值,也具有其他历史文物所不具备的特殊革命历史价值。


材料二



中共一大会址



古田会议会址



遵义会议会址

(1) 根据材料一、二并结合所学知识,对“其区域分布受自然条件、人文条件及重大革命活动影响较大”这一观点进行阐释。(8分)

(2) 根据材料一、二并结合所学知识,就如何保护和利用近现代革命历史遗迹谈谈你的看法。(7分)

45. 阅读材料,完成下列要求。(12分)

材料



《拖拉机到咱社来代耕了》(1954年,顾生岳)

结合所学知识,围绕上图中的信息写一则历史短文。(要求:自拟标题;立论正确,史论结合,逻辑严密,条理清晰。)

密封线内不要答题