



河北省高三年级上学期 12 月联考 地 理

本试卷满分 100 分,考试用时 75 分钟。

注意事项:

1. 答题前,考生务必将自己的姓名、考生号、考场号、座位号填写在答题卡上。
2. 回答选择题时,选出每小题答案后,用铅笔把答题卡上对应题目的答案标号涂黑。如需改动,用橡皮擦干净后,再选涂其他答案标号。回答非选择题时,将答案写在答题卡上。写在本试卷上无效。
3. 考试结束后,将本试卷和答题卡一并交回。
4. 本试卷主要考试内容:高考全部内容。

一、选择题:本题共 15 小题,每小题 3 分,共 45 分。在每小题给出的四个选项中,只有一项是符合题目要求的。

罗维亚纳潟湖地处所罗门群岛,由沙坝与外海相隔。19 世纪潟湖上独木舟广泛分布,每年有段时间潟湖中所有独木舟停航。20 世纪 60 年代之后,随着造船技术的进步,独木舟逐渐减少。图 1 示意罗维亚纳潟湖位置,图 2 为 20 世纪初期罗维亚纳潟湖独木舟的老照片。据此完成 1~3 题。

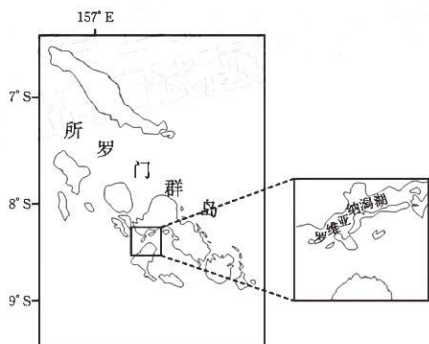


图 1




图 2

1. 推测 19 世纪罗维亚纳潟湖的小型独木舟主要用于
 ①获取水源 ②捕捞鱼鲜 ③交通运输 ④军事防御
 A. ①② B. ①④ C. ②③ D. ③④
2. 罗维亚纳潟湖区域采用小型独木舟运输的主要原因是独木舟
 A. 制作可就地取材 B. 运输连续性强
 C. 可达范围广 D. 行驶阻力小
3. 罗维亚纳潟湖区域每年独木舟停航时
 A. 停航时间固定 B. 停航单次时间较长
 C. 独木舟易受损毁 D. 停航次数逐年降低

克麦罗沃州拥有俄罗斯煤矿储量最大的库兹巴斯煤田,20世纪30年代起,州内多座小城市由单一的“成城企业”发展而来,即“企业成城”。州府克麦罗沃市主要承担矿山机械制造、能源化工、交通物流等综合职能。2011年以来,随着资源逐渐枯竭和成本上升,克麦罗沃州煤炭工业陷入危机,“企业成城”人口大量流失,而克麦罗沃市在经济转型中韧性较强,利用西西伯利亚北部运来的天然气壮大能源产业,并通过铁路输出机械装备。据此完成4~5题。

4. 克麦罗沃州的小城市多由“成城企业”发展而来,说明“成城企业”

- ①职工规模大 ②管理水平高 ③附加值高 ④关联部门多
- A. ①② B. ①④ C. ②③ D. ③④

5. 与“企业成城”相比,克麦罗沃市在库兹巴斯煤田经济转型中韧性较强,直接得益于

- A. 行政等级较低
B. 市场容量较大
C. 辐射范围较广
D. 产业类型多元

某企业成立于1997年,目前已经成为我国最大的专业速冻食品生产企业之一。2021年底,该企业开办鲜食水饺门店,首次进入鲜食领域。表1为该企业的大事记。据此完成6~8题。

表1

时间	大事记
1997年	在郑州成立,生产速冻水饺、速冻汤圆,面向全国销售
2003年	提出速冻水饺、速冻汤圆包装和个体小型化
2006年	确定为北京奥运会速冻包馅食品独家供应商
2015年	成立食品科学博士后工作站
2021年	在郑州开办首家鲜食水饺门店,主打现包水饺、广式云吞和馄饨,店面仅有几张桌子,可堂食、外带、外卖

6. 该企业开办鲜食水饺门店的主要优势是

- A. 产业基础好 B. 生产成本低
C. 经营经验足 D. 科技水平高

7. 未来,该企业鲜食水饺门店应多布局于

- A. 行政区 B. 住宅区
C. 工业区 D. 文教区

8. 该企业成立以来始终致力于

- A. 增加产品类型 B. 提高商品品质
C. 塑造知名品牌 D. 开拓国际市场

非洲野犬目前处于濒危状态,仅剩25个种群。随着人类活动范围的扩大,人和非洲野犬冲突加剧,部分保护区通过加装栅栏来限制动物活动范围,但有约30%的非洲野犬能够越过破损的栅栏威胁聚落。图3示意非洲野犬的分布范围,图4为南非保区典型的栅栏景观。据此完成9~10题。

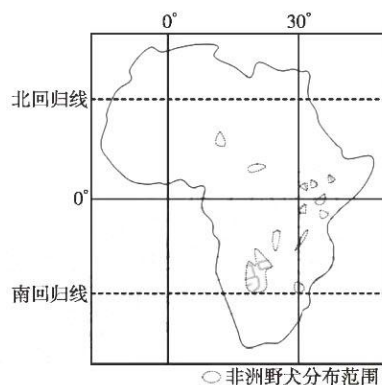


图 3



图 4

9. 非洲野犬的主要栖息地

- A. 冬夏温差大
B. 全年风沙多
C. 树木密度低
D. 太阳辐射弱

10. 造成保护区栅栏破损的原因可能有

- ①风力侵蚀 ②地壳运动 ③流水冲刷 ④生物活动

- A. ①②
B. ①④
C. ②③
D. ③④

区域下垫面由多种土地利用类型共同构成,共同影响着区域地表温度。图 5 示意天山北坡经济带各土地覆盖类型白天、夜间的地表温度贡献度指数,其正负值分别表示对地表温度的升温和降温作用。与我国大部分区域建设用地不同,天山北坡经济带建设用地在白天对区域地表温度贡献度指数为负,形成城市“冷岛”。据此完成 11~13 题。

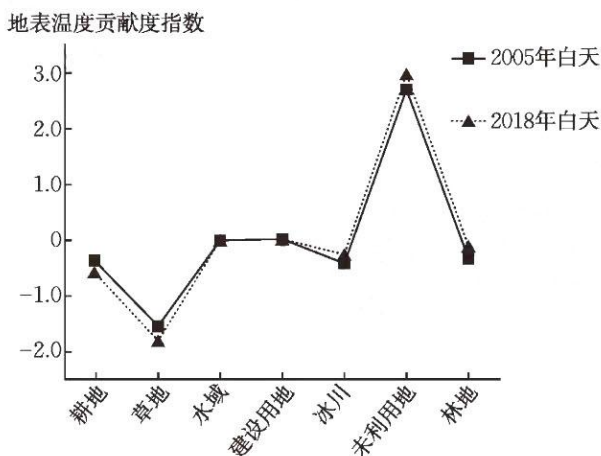


图 5

11. 草地的负贡献度绝对值最大,主要原因可能是草地

- A. 比热容最大
B. 保温能力最差
C. 反射率最高
D. 占地面积最大

12. 据图可知,2005~2018 年土地覆盖类型发生明显转变的是

- A. 耕地→未利用地
B. 冰川→未利用地
C. 耕地→林地
D. 建设用地→耕地

13. 天山北坡城市白天形成“冷岛”的关键在于城市

- A. 邻近荒漠
B. 功能区布局合理
C. 规模较大
D. 背靠山脉

末次冰期晚期气候转暖,欧洲大陆的古冰盖开始消融,易北河在下游形成深切河谷,后逐渐演变为水流不断分汊又汇集的辫状河谷。目前,易北河下游河谷已经成为北海近岸海域海底的水下峡谷,该处水下峡谷地层封闭性好。图6示意易北河流域的位置。据此完成14~15题。

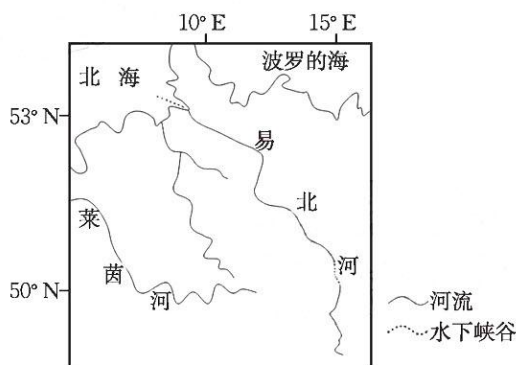


图6

14. 与深切河谷时期相比,辫状河谷时期易北河下游

- A. 含沙量大
B. 堆积作用弱
C. 水位较高
D. 冰期较长

15. 易北河水下峡谷最可能拥有丰富的

- A. 煤炭资源
B. 油气资源
C. 深海渔业资源
D. 海盐资源

二、非选择题:共55分。

16. 阅读图文材料,完成下列要求。(11分)

犁镜是耕犁的重要部件,安装于犁头上方,用以翻土,因常与土块相摩擦致表面发亮而得名。山西阳城是中国重要的冶铁之乡,早在1000年前就开始冶炼犁镜。犁镜的冶炼需要高纯度的生铁,并加入黏土矿作为辅料。阳城冶铁业最兴盛时有犁炉近百座,年产犁镜70万片,品种繁多。20世纪80年代以来阳城犁镜逐渐停产。2015年以来,在乡村振兴等国家政策背景下,阳城乡村打造冶铁文化旅游品牌,鼓励部分以传统食宿经营为主的农家乐融入阳城犁镜主题。图7示意阳城的位置。

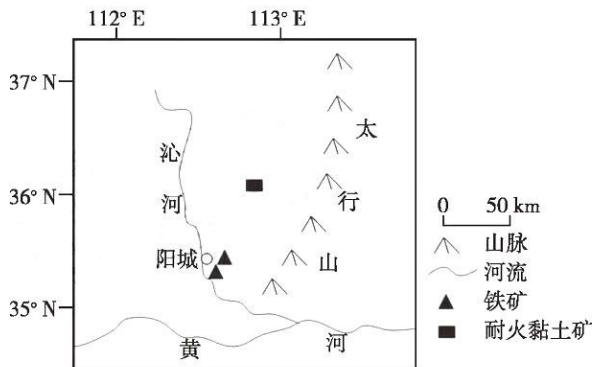


图7

- (1)简述阳城适合冶炼犁镜的资源条件。(3分)
- (2)说明20世纪80年代以来阳城犁镜逐渐停产的原因。(4分)
- (3)分析以阳城犁镜为主题对农家乐经营发展的意义。(4分)

17. 阅读图文材料,完成下列要求。(14分)

为调整经济布局,探索新的经济增长点,2017年沙特阿拉伯政府提出在沙特西北部修建一座崭新的城市——红海新城。红海新城全部用当地的新能源供电,致力于打造绿色低碳城市。红海新城建设进度较为缓慢。图8示意红海新城的位置。



图8

- (1)分析将红海新城打造成绿色低碳城市的有利条件。(6分)
- (2)说明红海新城的建设对沙特阿拉伯调整经济布局的积极意义。(4分)
- (3)推测红海新城建设进度较慢的原因。(4分)

18. 阅读图文材料,完成下列要求。(14分)

蒙古奥罗格湖地处奥罗格盆地腹地,湖盆宽且浅。戈壁阿尔泰山北麓诸多山地河流向北流入奥罗格盆地,在出山口发育一系列冲积扇。在地质历史时期,奥罗格盆地气候反复变化,奥罗格湖面积变化幅度极大,冲积扇剖面呈现水力沉积和风力沉积交替的形势。气候变化以及冲积扇的发育最终导致大约1.5万年前戈壁阿尔泰山诸河无法汇入奥罗格湖,散流在扇面上逐渐消失。近些年来,尽管奥罗格盆地气候呈暖干化,但奥格罗湖水位下降幅度较小。图9示意奥格罗盆地的位置和地形。

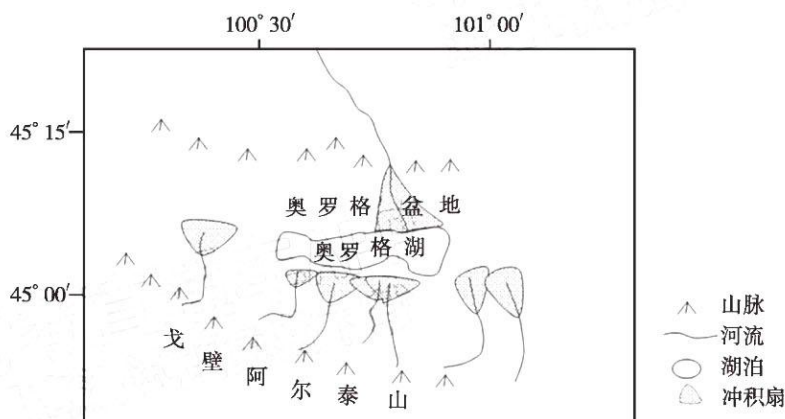


图9

- (1)分析该区域冲积扇剖面中风力沉积物的形成条件。(6分)
- (2)冲积扇的发育对戈壁阿尔泰山诸河无法汇入奥罗格湖起到重要作用,试分析原因。(4分)
- (3)简述近些年来奥罗格湖水位下降幅度较小的原因。(4分)

19. 阅读图文材料,完成下列要求。(16分)

由龙脑香科树种所组成的龙脑香林是东南亚典型热带雨林最具代表性的特色植被,是否具有以龙脑香科植物为优势种的植物群落成为了判断当地是否存在东南典型亚热带雨林的依据。过去,受制于科考条件,学界曾一度认为云南没有东南亚典型热带雨林。1974年,植物学家带领林业工作人员徒步进入云南南部的森林,并在勐腊县发现了大片的以龙脑香科柳安属望天树为建群种的群落,由此确认云南有东南亚典型热带雨林。2022年6月~7月,我国林业专家在云南红河州南部的元江河谷发现一片残存的保存较为完好的热带湿润雨林,远较云南其他地区的热带雨林高大。图10示意云南勐腊县和元江的位置。

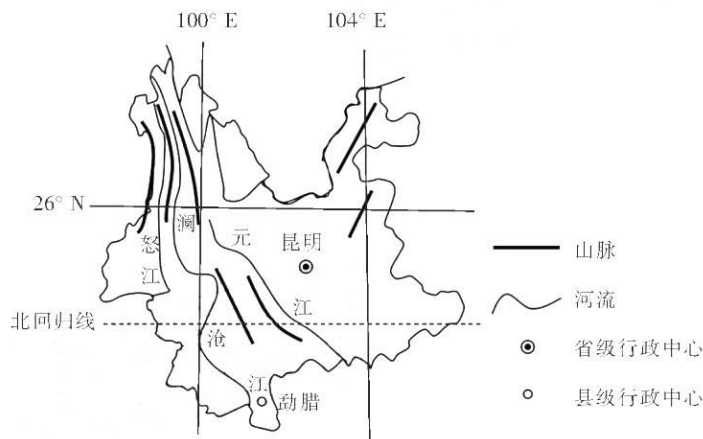


图10

- (1)与海南岛相比,说明制约云南典型热带雨林生长的自然条件。(6分)
- (2)云南热带雨林多呈现不连续的斑块状分布,试分析原因。(4分)
- (3)简述元江河谷地形对热带湿润雨林形成的积极作用。(6分)

关于我们

自主选拔在线是致力于提供新高考生涯规划、强基计划、综合评价、三位一体、学科竞赛等政策资讯的升学服务平台。总部坐落于北京，旗下拥有网站（[网址: www.zizzs.com](http://www.zizzs.com)）和微信公众平台等媒体矩阵，用户群体涵盖全国90%以上的重点中学师生及家长，在全国新高考、自主选拔领域首屈一指。

如需第一时间获取相关资讯及备考指南，请关注**自主选拔在线**官方微信号：**zizzsw**。



 微信搜一搜

 自主选拔在线