

政治试卷

命题人：

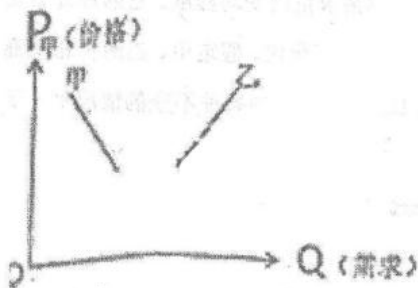
本试卷分第 I 卷（选择题）和第 II 卷（非选择题）两部分。共计 9 页。满分 100 分，考试时 110 分钟。

第 I 卷（选择题 共 48 分）

- 注意事项： 1. 答卷 I 前，考生务必将自己的姓名、考号、科目用 2B 铅笔涂写在答题卡上。
 2. 答卷 I 时，每小题选出答案后，用铅笔把答题卡上对应题目的答案标号涂黑。如需改动，用橡皮擦干净后，再选涂其它答案。不能答在题签上。

一、选择题（每小题 1 分，共 48 分。每小题所给选项只有一项最符合题意，请将正确答案的序号填涂在答题卡上）

1. 甲乙两种商品，乙商品的需求会受甲商品价格变动的影 响，如下图。下列选项能正确体现其关系的是




- ①某电商与物流合作，购买其产品满 49 元免运费
 ②周边房价上涨，某房产公司增加租赁式公寓供应
 ③为促销 iPhone8，某直营店延长整机三年保修期
 ④为降成本，某滴滴司机用纯电动汽车代替燃油汽车
- A. ①② B. ①③ C. ②④ D. ③④
2. 习近平总书记在党的十九大报告中指出，要客观冷静地分析我国在经济发展所面临的形势，提高宏观调控的能力。在纷繁复杂的经济生活中存在许多“双刃剑”现象，即同一现象或措施，有时会产生截然不同的两种效果。下列表述中，能正确体现这一现象的是



- ①人民币升值不利于我国企业扩大出口,但有利于我国居民出国旅游
- ②纸币发行量过多容易引起通货膨胀,纸币发行量不足会导致通货紧缩
- ③生活必需品价格上涨会增加其消费需求量,同时也会扩大其市场供应量
- ④提高最低工资标准有利于增加劳动者收入,同时也会增加企业经营成本

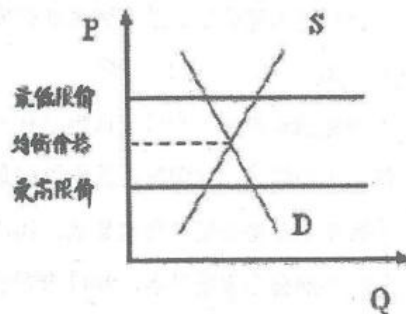
- A. ①② B. ①④ C. ③④ D. ②③

3. 物价关系民生。遵义今年前三季度菜油月平均价格(元/500g)分别是:第一季度 4.17、4.32、5.08; 第二季度 5.56、5.15、5.00; 第三季度 5.40、5.75、5.98。不考虑其他因素,比较符合经济学道理的猪油消费曲线和菜油需求曲线分别是



- A. ②③ B. ②④ C. ③④ D. ①③

4. 限价是国家对某些商品规定的价格极限,分为最高限价和最低限价两种。根据右图信息推断,相关结论正确的有()



- ①最高限价会刺激消费、不利生产
- ②最低限价一定高于市场均衡价格
- ③限价可弥补市场均衡价格的失灵
- ④限价属于国家宏观调控行政手段。

- A. ①② B. ①③ C. ②③ D. ③④

5. 2018年3月9日,美国白宫宣布将对进口钢铝征收25%和10%的关税。对此,我国钢铝企业可以采取的应对措施有

- ①提高劳动生产率,缩短社会必要劳动时间
- ②调节生产要素的投入,努力降低生产成本
- ③实施“走出去”战略,到美国本土投资办厂
- ④调整美元对人民币汇率,促使人民币的贬值

- A. ①② B. ②③ C. ①④ D. ③④



6. “移动互联网+手机支付+自行车租赁”催生了共享单车这一崭新的行业，共享单车正成为经济生活的一抹亮色，小橙车、小黄车、小蓝车……彩虹般的色彩装点了街巷。共享单车改变了许多人的出行方式，与城市公交和地铁共同构成了绿色、便利的交通网络。关于共享单车，下列判断正确的有
- ①在使用过程中，自行车与手机是互补品
 - ②凭借信用分可以免押金租用，说明讲诚信能降低企业的成本
 - ③减轻了高峰期公交系统的压力，表明其对公交车、地铁有一定的替代作用
 - ④其发展为自行车制造企业带来大量订单，这反映了产业链中上、下游企业的竞争关系
- A. ①② B. ①③ C. ③④ D. ②④
7. 素有“中国汞都”之称的黔东铜仁地区贵州汞矿，由于长年过度开采，造成汞资源枯竭，虽几经努力，终于无可奈何地走向了破产。这给我们的启示是
- ①公司要制定正确的经营战略
 - ②公司要依靠技术进步、科学管理形成自己的竞争优势
 - ③资源开发必须走可持续发展之路
 - ④公司是否诚信经营关系到企业的成败
- A. ①② B. ①③ C. ②③ D. ③④
8. 社会总供给是指一个国家或地区在一定时期（通常为一年）内实际提供的最终产品和劳务的总量。下列能计入我国社会总供给的是
- ①汽车工业协会发布数据显示，2017年中国汽车出口89.1万辆
 - ②财政部公布数据显示，2017年社会保障和就业支出24812亿
 - ③海关总署召开新闻发布会显示，2017年中国进口铁矿砂达10.7亿吨
 - ④住房和城乡建设部公布数据显示，2017年各类棚户区改造开工609万套
- A. ①② B. ①③ C. ②④ D. ③④
9. “躺在床上，对着天花板就能看电影”、“衣服一沾污渍，便可即时清洗”，这虽然只是用户的一个念头，一句无心之语，可一经海尔创客的手，很快就成为“亮瞎眼”的新产品，比如“可360度投影的智能微型投影电脑”、“可手持的便携式咕咚洗衣机”。这体现了
- ①消费是生产的动力和动力
 - ②消费对生产的调节、升级具有导向作用



微



- ③生产决定消费的质量和水平 ④生产为消费创造动力
- A. ①③ B. ①② C. ①④ D. ③④
10. 一般情况下, 银行利率提高, 股市会作出股票价格下降的反应。对于产生这一反应的合理解释是
- ①投资者预期企业利润下降 ②投资者改变投资组合
- ③银行业利润高于其他行业 ④股民的投资收益减少
- A. ①② B. ②③ C. ①④ D. ③④
11. “相聚离开, 都有时候, 没有什么永垂不朽” 二维码扫码支付横空出世没多久, 我们刚刚习惯扔掉现金的后现代生活, 支付宝却突然宣布: 在未来一年内, 刷脸支付将全面接管扫码支付! 对于手机操作不熟练, 特别是不方便拿手机的人而言, 点击刷脸支付, 支付宝就会自动识别你的面部, 从你的支付宝账户中扣款! 刷脸支付
- A. 改变货币本质, 实现直接交换 B. 依托科学技术, 提高运营效益
- C. 创新服务模式, 方便购物消费 D. 减少现金使用, 防止通货膨胀
12. 需求交叉弹性, 是指一种商品价格变动所引起的另一种商品需求量的变动程度。它的计算方法是用一种商品需求量变动的百分比除以另一种商品价格变动的百分比。假定甲、乙两种相关商品的需求交叉弹性为 2, 当甲商品的价格由 100 上升到 150 时, 在其他条件不变的情况下, 下列说法正确的是
- A. 甲、乙两种商品是互补品, 乙商品的需求量减少 200%
- B. 甲、乙两种商品是互补品, 乙商品的需求量减少 100%
- C. 甲、乙两种商品是替代品, 乙商品的需求量增加 200%
- D. 甲、乙两种商品是替代品, 乙商品的需求量增加 100%
13. 深化农村集体产权制度改革, 是乡村振兴的重要制度支撑, 是当前全面深化农村改革的“先手棋”。深化农村集体产权制度改革, 要全面开展清产核资工作, 继续扩大股份合作制改革试点, 多途径发展集体经济, 用 5 年时间完成农村集体经营性资产股份合作制改革。积极发展农村股份合作制的意义在于
- ①促进混合所有制经济在农村进一步发展
- ②实现公有制经济与市场经济的深度融合





- ③实现分配方式的多元化,有利于农民增收
- ④充分保障农民土地所有权和经营权收益
- A. ①② B. ②③ C. ②④ D. ③④
14. 针对近期多地发生一线公安民警和辅警在正常执法执勤时遭遇暴力抗法甚至辱骂殴打事件,公安部要求各地公安机关依法打击暴力袭警、暴力抗法等违法犯罪行为,严肃追究袭警辱警人员的法律责任。这表明
- ①人民民主专政就是民主和专政的对立
- ②国家作为阶级统治的工具,具有专政职能
- ③专政是社会主义的生命
- ④只有坚持国家的专政职能,才能维护国家长治久安
- A. ①③ B. ①④ C. ②③ D. ②④
15. 《互联网用户账号名称管理规定》要求网民在互联网信息服务中注册使用的所有账号名称需遵守9条规矩,包括不得违反宪法和法律规定;不得危害国家安全;不得散布淫秽、色情、暴力等。如有违反,账号将被限期改正、暂停使用甚至注销。该规定体现了
- ①公民的权利与义务是完全对等的
- ②遵守宪法与法律是公民根本的行为准则
- ③自由是法律所许可的一切事情的权利
- ④公民应负责地行使当家作主的权利
- A. ①② B. ②③ C. ③④ D. ②④
16. 以自荐形式参加竞选成为中国基层人大选举的新亮点。这些毛遂自荐的参选人,通过各种方式“推销”自己以提高竞争力。对此下列认识正确的有
- ①公民的权利意识和主人翁意识增强了
- ②这种竞选方式要比其他选举方式更好
- ③是公民参与管理国家事务的具体表现
- ④我国公民的政治素养已经达到了很高水平
- A. ①② B. ②③ C. ①③ D. ②④
17. 北京市东城区鼓楼苑社区属于文物保护单位,不少住户大院里杂物到处乱放,极易引发火灾。



为此,社区采取公开讨论的办法,提出“你周围的消防隐患有哪些”等问题,让居民思考回答,大家感受到消防安全的重要,都主动清理了自家院子。下列选项对这一做法及其意义的概括正确的是

- A. 民主决策——推进和谐社会的建设
B. 民主管理——创新政府社会管理方式
C. 民主管理——体验政治参与的价值
D. 民主决策——激发公民主人翁精神

18. 随着我国社会主义民主政治的不断发展,不少中学生积极地参与政治生活。下列学生的行为属于有序参与政治生活的是

- ①小明向公安局举报某交警乱罚款的行为
②晓华认为自己已是成年人了,具有选举权,要求直接参与省人大代表的选举
③小民看到《关于深化医药卫生体制改革的意见》向社会公开征求意见时,通过网络提出自己的建议
④小吴向县人大常委会建议县人大代表实行等额选举,以保证代表结构的合理性。

- A. ①② B. ②④ C. ③④ D. ①③

19. 《中华人民共和国国歌法》规定,奏唱国歌时,在场人员应当肃立、举止庄重,不得有不尊重国歌的行为。在公共场合,故意篡改国歌歌词、曲谱,以歪曲、贬损方式奏唱国歌,构成犯罪的,依法追究刑事责任。这一规定的意义在于

- ①保证国歌奏唱的严肃性规范性,捍卫国歌的神圣与尊严
②篡改、亵渎和侮辱国歌的行为都要依法追究刑事责任
③引导公民认识国歌、理解国歌,凝聚全民族的爱国精神
④增强公民的民主法治观念,保障了公民政治权利的实现

- A. ①③ B. ①④ C. ②③ D. ②④

20. 某市成立网上民情收集、网民诉求办理为一体的网上群众工作部,通过集中受理群众各类诉求、全程督办,分析数据破解共性难题,形成了解群众、贴近群众、为群众排忧解难的系统机制。这一做法

- ①提高了公民参与国家事务管理的能力与水平
②创新工作机制,促进行政部门科学、民主决策
③坚持了党的群众路线,完善了社会治理体系





- ④实现了公民的监督权、表达权、参与权、决策权
- A. ①② B. ③④ C. ①④ D. ②③
21. 3月25日至31日,各地网民通过人民网《地方领导留言板》共向省市县三级党政“一把手”发帖留言约5000余项,在城建类留言中,网友投诉和求助占比较多,且基本获得回复。公民通过网络给党政“一把手”留言
- ①是公民积极参与政治生活的体现
②应坚持权利与义务统一的原则
③是通过社情民意反映制度参与民主监督
④说明公民参政议政的职能得到落实
- A. ①② B. ①④ C. ②③ D. ③④
22. 为进一步贯彻中央八项规定精神,国务院常务会议审议通过《机关团体建设楼堂馆所管理条例(草案)》,严格机关团体办公用房项目审批和建设资金管理,要求对属于禁止建设或建设必要性不充分、建设资金来源不符合规定等情形的不得批准等,使公共资金资源更多用于发展经济改善民生。这表明
- ①政府不断完善监督体系,防止行政权力滥用和缺失
②政府坚持对人民负责,让人民共享改革发展的成果
③政府审慎行使权力,建立健全决策问责和纠错制度
④政府持续推动政风行风转变,打造廉洁高效的政府
- A. ①③ B. ②③ C. ①④ D. ②④
23. 当前,中国消费者的旅游需求正从“吃、住、游”向“吃、住、行、游、购、娱”横向延伸,从满足单纯的游览需求向专业化和多样化需求纵向延伸。但旅游产业发展水平层次低、市场秩序混乱以及缺乏服务质量等问题普遍存在。有学者指出,这一现象产生的根源在于政府在旅游产业上角色定位不准,缺少严格的市场监管措施以及长远的发展规划。为此需要
- ①简政放权、处理好政府与市场的关系 ②政企分开、政府管得越少越好
③政府尽职尽责、强化管理和服务 ④政府依法行政、自觉接受监督
- A. ①④ B. ②③ C. ②④ D. ①③
24. 《关于建立健全村务监督委员会的指导意见》明确指出,要加强党的全面领导,始终坚持村党



组织领导核心地位不动摇，村务监督委员会的各项工作都要在党的领导下进行，乡镇党委、村党组织要把好人选好关，切实保障村民群众合法权益和村集体利益。这表明

- ①村党组织是推动我国农村基层治理的领导核心力量
- ②我国完善村党组织领导的充满活力的村民自治机制
- ③乡镇党委、村党组织有权指定委派监督委员会成员
- ④村党组织与村务监督委员会之间是相互影响制衡的

A. ①② B. ①③ C. ②④ D. ③④

25. 厕所问题不是小事情，是城乡文明建设的重要方面，它不仅解决卫生问题，还满足人民基本生活需要，与人民群众健康状况密切相关。不但景区、城市要抓，农村也要抓，要把这项工作作为乡村振兴战略的一项具体工作来推进，努力补齐这块影响群众生活品质的短板，要求各级政府把它作为一件大事来抓。其意义在于

- ①提升公共服务品质，补齐民生短板
- ②夯实生存发展基础，维护民主权利
- ③推动社会文明进步，尊重人权尊严
- ④发挥制度保障功效，实现人民利益

A. ①③ B. ①④ C. ②③ D. ②④

26. 祁连山是我国西部重要生态安全屏障，长期以来，祁连山局部生态破坏问题十分突出，中央政治局常委会会议听取督查情况汇报，对甘肃祁连山国家级自然保护区生态环境破坏典型案例进行了深刻剖析，并对有关责任人作出严肃处理。面对生态环境遭受破坏的现象政府应当()

- ①制定生物多样性保护优先区域的基本法律和法规
- ②强化生态环境保护主体责任，落实生态安全责任制
- ③抓住破坏生态环境的典型案例，杜绝环境违法犯罪行为
- ④积极履行推进生态文明建设的职能，着力推进污染防治

A. ①③ B. ①④ C. ②③ D. ②④

27. 经国务院批准，新的《无证无照经营查处办法》于2017年10月1日正式施行。新规要求，查处部门依法查处无证无照经营，应坚持查处与引导相结合，处罚与教育相结合的原则，对具备办理证照的法定条件。经营者有继续经营意愿的，应当督促，引导其依法办现相应证照，这一做法体现了政府

- ①坚持依法行政，提高管理水平，增强政府威信





- ②完善决策信息，科学民主决策，防止决策失误
- ③加强市场监管，尊重执法对象，服务社会发展
- ④自觉接受社会监督，防止行政权力缺失和滥用
- A. ①② B. ①③ C. ②④ D. ③④
28. 中秋国庆临近，为紧盯重要时间节点，驰而不息纠正“四风”，严防反弹回潮，中央纪委监察部网站推出《中秋国庆期间违反中央八项规定精神问题监督举报曝光专区》。对节日期间出入隐秘场所，组织隐秘聚会，公款吃喝、旅游，收送节礼等不正之风。这
- ①表明各级纪检监察机关能惩前毖后、治病救人
- ②要求加大民主、法制对权力的制约和监督机制
- ③有利于建设服务型政府，提高行政监管水平
- ④必须建立政府权力清单制度，实行无为而治
- A. ①② B. ②③ C. ①④ D. ③④
29. 住房租赁市场的健康发展必须是供给与需求双向发展。在我国传统观念中，房子是成家立业的必要条件，人们对拥有住房有着绝对的理念。下列措施中有助于引导消费者转变住房消费观念的合理性措施有
- ①租购同权，赋予符合条件的承租人子女享有就近入学等公共服务权益
- ②完善立法，通过明确双方的权利义务以规范市场行为，稳定租赁关系
- ③降低租金，由各级地方政府根据居民收入条件规定统一的租赁费价格
- ④政策支持，对各类提供住房租赁的组织和个人给予税收方面减免支持
- A. ①② B. ③④ C. ①③ D. ②④
30. 2017年9月26日，上海市第十四届人大常委会会议讨论并通过了《关于建立上海市本级预算审查前听取人大代表和社会各界意见建议机制的实施意见（草案）》。《实施意见》指出，市政府部署编制下一年度预算草案后，要通过开展调查研究、召开座谈会和通报会等各种形式，听取人大代表和社会各界关于预算的意见建议。这一机制的建立
- ①是加强和改进人大预算审查监察职能的重要举措
- ②将确保政府编制好预算，做好预算初步审查工作
- ③保障了人大代表的审议权，完善了预算审查制度





④将人大监督和社会监督相结合,促进预算科学化

A. ①③

B. ①④

C. ②③

D. ②④

31. 全面推进司法责任制改革等基础性改革,让审理者裁判,由裁判者负责。目前全国法院法官官员额制改革已经基本完成,共产生入额法官 11 万名,85%以上的司法人力资源配置到办案一线。实行法官对办案质量终身负责,设立法官惩戒委员会,强化错案责任追究。推行司法责任制改革说明

①司法是守护公平正义的最后一道防线,司法责任制是重要保障

②“阳光司法”是维护司法公正和提高司法公信力的力量源泉

③进一步拓宽司法公开广度和深度,让老百姓感受公平正义

④责任落实激发改革内生动力,强化法官、检察官的责任感

A. ①②

B. ③④

C. ②③

D. ①④

32. 2018 年 3 月 17 日,十三届全国人大一次会议首先表决通过了十三届全国人大一次会议关于国务院机构改革方案的决定,批准了这个方案。大会要求,国务院要坚持党中央集中统一领导,精心组织,周密部署,确保完成国务院机构改革任务。随后,选举产生了新一届国家领导人,会议的议程

①反映人大代表能在权力机关参加行使国家权力

②彰显了中华人民共和国的一切权力皆属于人民

③表明全国人大在我国国家机构中居于最高地位

④体现了人大制的组织和活动原则是民主集中制

A. ①②

B. ①③

C. ②④

D. ③④

33. 近日,中共中央办公厅《关于在北京市、山西省、浙江省开展国家监察体制改革试点方案》指出,由省(市)人民代表大会产生省(市)监察委员会,党的纪律检查委员会合署办公,明确监察委员会职能职责,建立监察委员会与司法机关的协调衔接机制,强化对监察委员会自身的监督制约。上述省(市)监察委员会的建立

①表明监察部门已由行政内部监督转变为权力机关的监督

②体现民主集中制原则,是完善国家治理体系的重大举措

③保证我国人大、监察、司法机关的相互监督和相互制约



微



④彰显党的领导、人民当家作主、依法治国，三者有机统一。

- A. ①③ B. ②③ C. ②④ D. ③④

34. “我赶紧回家去翻一翻孩子的疫苗接种本!”这是近来每个家长最担心的事情。疫苗每次出现问题，都牵动每位家长的心。2018年7月以来，国家食药监局先后通报了吉林、武汉两省的问题疫苗案例。中国疾病预防控制中心再因疫苗问题而遭到媒体炮轰，政府公信力也由此遭受质疑。面对层出不穷的疫苗事件，政府必须

- ①消除市场自发性，维护社会稳定 ②促进职能转变，强化市场监管
③扩大职能范围，提高服务水平 ④落实行政问责，践行依法治国

- A. ①③ B. ②④ C. ①④ D. ②③

35. 发轫于浙江的“最多跑一次”改革，是指群众和企业到政府办理一件事情，在申请材料齐全、符合法定受理条件时，只需一次上门或零上门即可办结。这场改革以“一窗受理、集成服务”为主抓手，“以办事便利为导向”，以群众感受为标准倒逼改革，推动政府减权、放权、治权，优化行政审批流程，打通部门壁垒、数据壁垒、信息壁垒。浙江经验对深化政府自身改革的启示

- ①坚持以人民为中心的发展思想，直面群众反映强烈的问题，增强人民群众对改革的获得感
②推进“互联网+政务服务”，创新社会管理和公共服务体制
③勇于“自我革命”，进一步简政放权，规范权力运行，建设服务型政府
④加强部门间协作，提高行政效率，放宽了市场准入门槛，激发了市场活力

- A. ①② B. ①③ C. ②④ D. ③④

36. 2017年12月，全国人大常委会法制工作委员会提请全国人大常委会审议的报告显示，针对部分地方出台“雷人法规”突破法律规定，少数规定的预算审查监督内容超出本级人大及其常委会的职权范围等问题，法工委多次开展专项审查，共修改、废止相关地方性法规35件，拟修改、废止680件。材料表明

- ①我国人大审慎用权，统一管理国家事务
②全国人大常委会切实履行法律监督职责
③我国坚持中央统一领导，地方人大常委会对全国人大常委会负责
④我国坚持依法治国，维护法律权威





- A. ①② B. ①③ C. ②④ D. ③④ [来源:学.科.网]
37. 我国社会主义市场经济体制还不完善,社会上还存在着“公章四面围城,审批长途旅行”,“多头审批、多头办理”等问题。为了解决这些问题,我们必须推进行政审批制度改革。从政治生活角度看,推进行政审批制度改革的意义有()
- ①发挥市场在资源配置中的决定作用
②深化简政放权,创新政府管理服务方式
③强化政府的服务意识,减少其管理职能
④促进政府依法行使权力,增强政府权威
- A. ①③ B. ②④ C. ①④ D. ②③
38. 2018年1月,党的十九届二中全会强调,国家监察体制改革是事关全局的重大政治体制改革,是强化党和国家自我监督的重大决策部署,要依法建立党统一领导的反腐败工作机构,构建集中统一、权威高效的国家监察体系,实现对所有行使公权力的公职人员监察全覆盖。这一改革将
- ①强化对权力的约束,扎牢“不能腐”的笼子
②贯彻司法独立原则,提高监察的效率与水平
③创新国家监察组织架构,体现党与时俱进的执政能力
④扩大行政监察职能范围,构建权威高效的监察体系
- A. ①② B. ①③ C. ②④ D. ③④
39. “党员同志们新春好!请模范遵守中央八项规定精神和纪律要求,共度欢乐祥和、风清气正的新春佳节!省纪委党风政风监督室。”2018年2月11日(农历腊月廿六)上午9点,湖北省2000余名省管领导干部(包括县市区委书记)每人收到一条廉政短信,提醒他们廉洁过春节,确保节日风清气正。省纪委这样做,是为了
- A. 从严治党,预防和打击犯罪 B. 反腐倡廉,抓住依法治国的关键
C. 纯洁党性,增强党的战斗力 D. 赢得民心,巩固党的执政地位
40. 十三届全国人大一次会议审议通过了《中华人民共和国宪法修正案》。修正案增加了设区的市制定地方性法规的条款。该条款的增加
- ①体现了人大是我国的立法机关 ②体现了人民代表大会制度的组织活动原则





- ③体现了党在立法过程中的领导作用 ④扩大了地方立法的主体和权限范围
- A. ②③ B. ①③ C. ②④ D. ③④
41. 2017年6月22日《中华人民共和国国歌法（草案）》正式在公众面前亮相，经人大网站公布，面向社会公开征求意见后，9月1日在十二届全国人大常委会第二十九次会议审议表决通过，并自2017年10月1日起施行。《国歌法》的立法过程表明
- ①全国人大常委会行使审议权，审议讨论相关法律，健全法制体系
- ②全国人大常委会拥有最高立法权，发挥最高国家权力机关的作用
- ③推进依法治国，维护立法的民主性，离不开人民群众的广泛参与
- ④我国是人民民主专政的社会主义国家
- A. ②③ B. ①② C. ③④ D. ①④
42. 2018年1月，中共中央向全国人大常委会提出关于修改宪法部分内容的建议，全国人大常委会在讨论的基础上提出了宪法修正案草案，提请十三届全国人大一次会议审议。2018年3月11日，十三届全国人大一次会议审议并通过宪法修正案。由此可见
- ①依法治国是中国共产党治国的基本方略
- ②宪法修正案体现了党的主张和人民意志的统一
- ③全国人大坚持民主集中制原则，行使审议权
- ④中国共产党主导立法，转变职能
- A. ①② B. ②③ C. ③④ D. ①④
43. 政治纪律和政治规矩，是党在政治方向、政治立场、政治言论、政治行为方面的刚性约束，是最重要、最根本、最关键的纪律和规矩，是党生存和发展的生命线。下列措施符合这一要求的是
- ①有权不可任性，净化党的政治生态 ②完善国家法律体系，坚持依法治国
- ③保持党的优良传统，确保执政地位 ④提高觉悟，同党中央保持高度一致
- A. ①② B. ①④ C. ②③ D. ③④
44. 2017年12月25日，中共中央制定的《中国共产党党务公开条例（试行）》全文公布，这是党的十九大后发布的首部条例，也是党务公开领域的党部基础主干法规。《条例》对党务公开的定义和原则、内容和范围、程序和方式等根本性问题都作出明确规定，标志着党务公开实现全





面走上制度化、规范化、程序化轨道。推进党务公开

- ①将增强党自我净化、自我完善、自我革新、自我提高能力
- ②反映了党除了代表最广大人民的利益，没有自身特殊利益
- ③便于人民群众监督政府部门的工作，维护自己的合法权益
- ④充分显示了中国共产党依法执政、治国理政的智慧与能力

A. ①② B. ②④ C. ①④ D. ③④

中国共产党十九届二中全会审议并通过了《中共中央关于修改宪法部分内容的建议》，全国人大常委会根据这一建议，形成《中华人民共和国宪法修正案（草案）》的议案，提请第十三届全国人大一次会议审议。经过多次审议、广泛讨论、补充完善，十三届全国人大一次会议最终表决通过了《中华人民共和国宪法修正案》。

45. 上述修宪过程充分体现了

- ①党的领导、人民当家作主、依法治国的有机统一
- ②科学、民主立法才能使法律更好地体现公民意志
- ③中国共产党的主张通过法定程序上升为国家意志
- ④全国人大作为最高国家权力机关行使最高决定权

A. ①③ B. ②④ C. ①④ D. ②③

46. 新一轮机构改革方案提出：“构建系统完备、科学规范、运行高效的党和国家机构职能体系”，“统筹设置党政机构”。党的有关机构可以同职能相近、联系紧密的其他部门统筹设置，实行合并设立或合署办公，整合优化力量和资源，发挥综合效益。依此推断，此举

- ①有利于提高党和政府的执政能力和工作效率
- ②有利于减少职能交叉，重点是完善行政监督体系
- ③有利于形成有分有合、又分又合的党政分合模式
- ④有利于党和国家机构优化协同高效，实现转职能、转方式、转作风，提高效能

A. ①② B. ①③ C. ②④ D. ③④

47. 中国共产党第十九次全国代表大会关于《中国共产党章程（修正案）》的决议指出，中国共产党的领导是中国特色社会主义最本质的特征，是中国特色社会主义制度的最大优势。





东西南北中，党是领导一切的。大会同意把这一重大政治原则写入党章

- ①有利于实现全党思想上统一、政治上团结、行动上一致
- ②旨在促使全党牢记使命、履行好政府管理职能
- ③强化了党的领导权，使党的事业始终沿着正确方向前进
- ④确立了党对中国特色社会主义各项事业的全面领导

A. ①② B. ①③ C. ③④ D. ②④

48. 2017年12月，中共中央印发了《中国共产党党务公开条例（试行）》，并发出通知，要求各地区各部门认真遵照执行。推进党务公开

- ①是发扬党内民主，发展社会主义民主政治的必然要求
- ②有利于落实公民的知情权进而实现自己合法的利益诉求
- ③有助于提升政府的公信力，提高政府在全体公民中的威信
- ④展示了党开放开明的良好形象，体现了我们党的高度自信

A. ①② B. ②③ C. ①④ D. ③④

卷 II（非选择题 共 52 分）

（认真审题并将答案写在答题纸上）

二、非选择题（49题11分；50题10分；51题10分；52题12分；53题9分。共52分。）

49. 阅读材料，完成下列要求。

2018年2月4日，中央一号文件《中共中央国务院关于实施乡村振兴战略的意见》发布。这是改革开放以来第20个、进入新世纪以来第15个指导“三农”工作的中央一号文件。

为落实乡村振兴战略，湖北省农村工作暨扶贫开发工作会议提出，实施“三乡”工程，促进城乡资源要素流动融合。并通过典型案例总结出12种类型，供各地学习借鉴：对“市民下乡”，要大力推广养老康养型、民宿文化型、农事体验型、创新创业型；对“能人回乡”，要大力推广回归创业型、带领致富型、乡贤治理型、公益捐助型；对“企业兴乡”要大力推广投资开发型、龙头带动型、村企共建型、对口扶贫型。

结合材料，分析实施“三乡”工程的经济学依据。（11分）

50. 阅读材料，完成下列问题。



微

“十三五”规划纲要描绘了我国未来五年的发展蓝图。某校高三(6)班同学以“‘十三五’时期社会主义民主政治的发展”为主题开展探究活动。

同学甲说：“‘十三五’规划指出：发展社会主义民主政治，必须完善基层民主制度，畅通民主渠道，要健全基层选举、议事、公开、述职、问责等机制，积极推进基层民主自治进程，落实这一要求对我们共创幸福美好家园具有重要意义。”

同学乙说：“近年来，国家不断发展社会主义民主政治，扩大公民有序政治参与，创造条件让‘民众说话’，充分体现了我国社会主义政治制度的优越性。”

结合同学乙的观点，运用公民政治参与的知识，说明国家让“民众说话”的理由。(10分)

51. 面临我国经济结构转型、人口红利下降等问题，工业和信息化部作出总体部署，要求到2020年实现工业机器人密度（每万名工人使用工业机器人数量）达到150台/万人，而工业发达国家机器人密度普遍超过200台/万人。对此，有人担心，“机器换人”可能引发失业，尤其是重复性、机械性的初级劳动者率先受到冲击，人们将丧失劳动的权利，社会贫富差距加大，就业竞争更激烈。也有人担心，部分制造业工种被机器人取代，引发的失业潮将对现行的《劳动法》、《合同法》的适用性和保护性形成挑战。

结合材料和所学政治生活的知识，谈谈人大和政府应如何妥善解决“机器换人”引发的担忧。(10分)

52. 阅读材料，完成下列要求。

违宪审查又称宪法监督，是指特定的机关依据一定的程序和方式，对法律、法规和行政命令等规范性文件和特定行为主体行为是否符合宪法进行审查并做出处理的制度。我国在借鉴西方违宪审查制度的基础上，逐渐形成了具有中国特色的“合宪性审查制度”。

党的十九大报告明确提出，要推进合宪性审查工作。根据《深化党和国家机构改革方案》，全国人大设立了宪法和法律委员会，宪法和法律委员会在继续承担统一审议法律草案工作的基础上，增加推动宪法实施、开展宪法解释、推进合宪性审查、加强宪法监督、配合宪法宣传等职责。

分析我国建立和完善合宪性审查制度的政治意义，并简要说明我国合宪性审查制度体现的中国特色。（12分）

53. 阅读材料，完成下列要求。

十三届全国人大一次会议决定设立国家监察委员会，我国形成了人大与“一府一委两院”的国家机关格局，党和国家监督体系得到了进一步完善。

国家监察委员会产生过程

时间	内容
2017年10月18日	十九大报告提出组建国家、省、市、县监察委员会、制定监察法。
2018年3月11日	十三届全国人大一次会议第三次全体会议表决通过《中华人民共和国宪法修正案》，专门增写监察委员会一节，确立监察委员会作为国家机构的宪法地位。
2018年3月20日	十三届全国人大一次会议表决通过《中华人民共和国监察法》。
2018年3月21日	十三届全国人大常委会第一次会议分别经表决，任命国家监察委员会副主任和委员。

结合材料，说明国家监察委员会的产生过程是如何体现依宪治国的。（9分）



关于我们

自主选拔在线是致力于提供新高考生涯规划、强基计划、综合评价、三位一体、学科竞赛等政策资讯的升学服务平台。总部坐落于北京，旗下拥有网站 (<http://www.zizzs.com/>) 和微信公众平台等媒体矩阵，用户群体涵盖全国 90% 以上的重点中学师生及家长，在全国新高考、自主选拔领域首屈一指。

如需第一时间获取相关资讯及备考指南，请关注**自主选拔在线**官方微信号：**zizzsw**。



微信搜一搜



自主选拔在线

关注后获取更多资料：

回复“答题模板”，即可获取《高中九科试卷的解题技巧和答题模版》

回复“必背知识点”，即可获取《高考考前必背知识点》