

姓名 _____

座位号 _____

(在此卷上答题无效)

绝密 ★ 启用前

2022 届“江南十校”一模联考

文科综合

注意事项:

1. 答卷前,考生务必将自己的姓名、班级、准考证号、考场号和座位号填写在答题卡上。
2. 回答选择题时,选出每小题答案后,用 2B 铅笔把答题卡上对应题目的答案标号涂黑。如需改动,用橡皮擦干净后,再选涂其他答案标号。回答非选择题时,将答案写在答题卡上。写在本试卷上无效。
3. 考试结束后,将答题卡交回。

一、选择题:本题共 35 小题,每小题 4 分,共 140 分。在每小题给出的四个选项中,只有一项是符合题目要求的。

某品牌奶茶店创建于 1997 年,依靠极致性价比的路线发展迅速;2012 年通过自建中央工厂,实现核心原料自产;2014 年仓储物流中心投入使用,成为全国饮品行业第一家实行物料免费配送的品牌;2016 年在全国各区域逐步设立了分仓;2017 年、2018 年上海研发中心、深圳研究院相继成立。自此从研发生产到仓储物流、运营管理的完整产业链实现闭环,在国内奶茶市场激烈竞争中脱颖而出。据此完成 1~3 题。

1. 该品牌自建中央工厂、仓储物流中心的主要目的是
 - A. 提高产品质量
 - B. 培育市场
 - C. 提升服务水平
 - D. 降低成本
2. 支撑该品牌蓬勃发展的主要消费群体是
 - A. 以城市白领为主体的打工人
 - B. 以学生为主体的年轻人
 - C. 以退休阶层为主体的老年人
 - D. 以外来务工人员为主体的城市建设者
3. 和其他中小城市形成鲜明对比的是该品牌在上海市中心难以扎根,可能的影响因素是
 - A. 原料
 - B. 交通
 - C. 消费水平
 - D. 政策法规

某珊瑚岛位于加勒比海,面积约 65 平方千米,有着清澈的海水、温柔的海风和白色的沙滩,岛上植被稀疏,除了渔民和偶尔出现的旅游者,几乎没有人会在岛上逗留。图 1 示意该岛等高线分布。据此完成 4~5 题。

4. 推测白色沙滩的位置及形成的主要地质过程是
 - A. 东侧 珊瑚风化-海浪侵蚀、堆积
 - B. 西侧 珊瑚风化-海浪侵蚀、堆积
 - C. 东侧 珊瑚风化-流水侵蚀、堆积
 - D. 西侧 珊瑚风化-风力侵蚀、堆积
5. 关于该岛水资源状况的描述,合理的是
 - A. 东北信风受地形抬升,降水丰富
 - B. 山地地形,河流发育,多独流入海
 - C. 石灰岩广布,地表储水条件好
 - D. 气温高,蒸发强烈,淡水缺乏

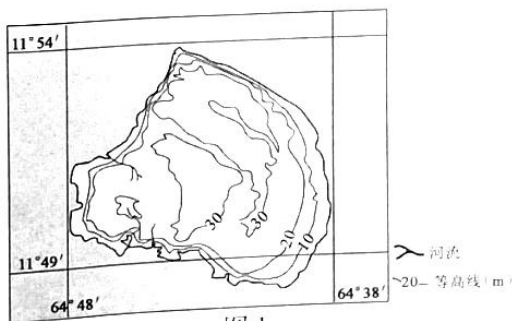


图 1

文科综合试卷 第 1 页(共 12 页)

读某城市第七次全国人口普查公报发布的图表资料(图2和表1)。图2示意该城市历次人口普查常住人口及年均增长率。据此完成6~8题

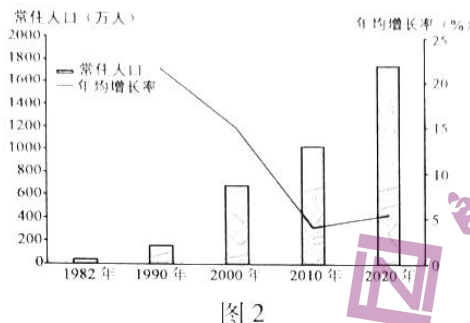


表1 各区人口性别构成(2020年)

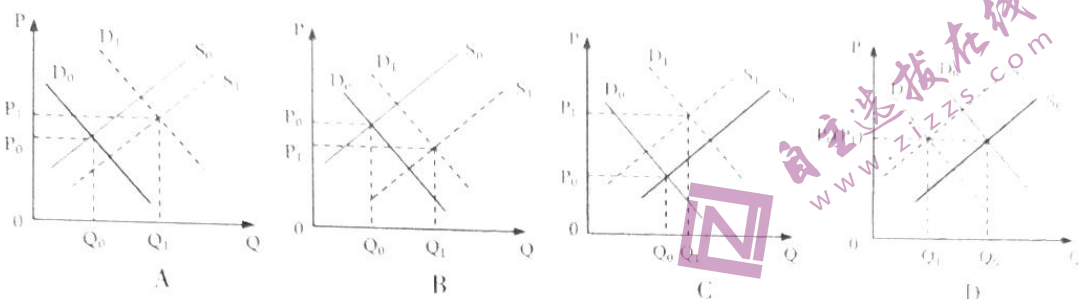
地区	全市	A区	B区	C区	D区	E区	F区	G区	H区	I区	J区	K区
性别比 (女性=100)	122.4	107.3	103.9	118.8	113.8	129.3	118.9	130.9	137.4	141.3	136.6	122.4

6. 该城市是
A. 合肥 B. 深圳 C. 北京 D. 重庆
7. 该城市人口变化会导致
A. 家庭规模减小 B. 人口素质下降
C. 城市人口承载压力减小 D. 人口红利继续保持
8. G、H、I、J四区人口性别比都在130以上,最有可能是因为
A. 正处于基础设施兴建时期,施工人员以男性为主
B. 产业结构升级,高端新兴产业男性劳动力比重较高
C. 二孩政策落实以后,出生人口性别比提高
D. 原材料工业及装备制造业等重工业发展迅速

青藏高原在整个亚洲起到了水源汇聚和分发的作用,被称为亚洲水塔。高原上湖泊众多,其中,热融湖是由于自然营力和人为原因,破坏了多年冻土的热平衡而形成。据此完成9~11题。

9. 对热融湖的描述,合理的是
A. 冻土地区,冰蚀洼地积水而成 B. 热融塌陷,洼地积水而成
C. 形成的湖泊规模小,数量少 D. 青藏高原上独有的湖泊类型
10. 青藏高原热融湖的发展对当地自然地理环境的影响有
A. 扩大水域面积,提高生物多样性 B. 减小昼夜温差,利于冻土稳定
C. 释放古老病毒,破坏生态稳定 D. 提高空气湿度,减轻土地荒漠化
11. 在青藏高原考察湖泊需要携带船、钻井平台等大型设备,最佳考察时间应为
A. 春季 B. 夏季 C. 秋冬 D. 深冬

12. 2021 年上半年,我国经济运行稳定恢复,发展动力增强。1-8 月,全国发电装机容量同比增长 9.5%,全社会用电量同比增长 13.8%。进入 9 月,国内电力供需持续偏紧。若 P 代表价格, Q 代表数量, D 表示电力需求, S 表示电力供应,不考虑其他因素,以下最能反映当前电力供需对价格变动影响的是



13. 为进一步完善能源消费总量和强度双控制度,国务院发布《2030 年前碳达峰行动方案》,提出到 2025 年单位 GDP 能耗和碳排放比 2020 年分别降低 13.5%、18%。这要求企业

- ① 制定正确经营战略,扩大企业规模
- ② 健全碳交易市场,发挥市场作用
- ③ 贯彻绿色发展理念,承担社会责任
- ④ 提高创新能力,加快转型升级

A. ①② B. ①④ C. ②③ D. ③④

14. 专项债是指地方政府为了建设某专项具体工程而发行的债券。2021 年我国新增 3.65 万亿元专项债,其中大部分投向交通基础设施、市政和产业园基础设施、民生服务领域。材料表明,发行专项债

- ① 旨在筹集财政资金,促进收支平衡
- ② 可起稳投资、扩内需、补短板作用
- ③ 利于拓宽融资渠道,降低企业成本
- ④ 助力积极财政政策,缓解财政压力

A. ①② B. ①③ C. ②④ D. ③④

15. 中国加入世贸组织 20 年来,全面履行入世承诺,积极践行自由贸易理念,推动多边贸易框架的完善,营造自由贸易的国际环境,对世界经济增长的平均贡献率接近 30%。据此,中国加入世贸组织

- ① 推动了全球经济治理的完善
- ② 推动了中国经济高质量发展
- ③ 完善了社会主义市场经济体制
- ④ 改变了全球多边贸易的格局

A. ①③ B. ①④ C. ②③ D. ②④

16. 建设数字中国要求加强数字政府建设,建立健全政务数据共享协调机制,实现更多政务服务事项网上办、掌上办、一次办。建设数字政府

- ① 有利于更科学地决策,提高履职能力
- ② 有利于推动数据共享,繁荣信息交易
- ③ 旨在完善公共服务,提高行政效能
- ④ 旨在精简政府机构,树立政府权威

A. ①② B. ①③ C. ②④ D. ③④

17. 十八大以来,西藏自治区经济年均增速位居全国三甲,农村居民人均可支配收入增速连续多年位居全国第一,城镇化率上升13个百分点。经过坚持不懈的努力,62.8万贫困人口全部脱贫,西藏与全国一道如期全面建成小康社会。短短几十年,西藏发生了翻天覆地变化,这表明
- ①民族区域自治制度的核心内容是实现共同繁荣
 - ②各族群众的生存权和发展权得到有效保障
 - ③党的领导是实行民族区域自治的前提和基础
 - ④实行民族区域自治制度是符合我国国情的选择
- A. ①② B. ①③ C. ②④ D. ③④
18. 国家主席习近平在世界经济论坛“达沃斯议程”对话会上强调,多边主义的要义是国际上的事由大家共同商量着办,世界前途命运由各国共同掌握,一个分裂的世界无法应对人类面临的共同挑战,对抗将把人类引入死胡同。对此,下列理解正确的是
- ①倡导多边主义是推动世界各国加强合作的基础
 - ②各国之间相互依赖程度深化,存在利益共同点
 - ③国际社会应通过制度和规则协调规范各国关系
 - ④各国应维护和践行多边主义,坚持开放包容
- A. ①② B. ①③ C. ②④ D. ③④
19. 建设社会主义文化强国需加强国际传播能力建设,要多措并举讲好中国故事、阐释好中国特色、传递好中国声音,向海外受众呈现真实、立体、全面的中国。加强国际传播能力建设
- ①是展现国家形象,增强文化软实力的需要
 - ②要加强文化建设,强化各国对中华文化认同
 - ③要坚持文化平等原则,推进文化交流融合
 - ④需创新传播内容和手段,增强中华文化吸引力
- A. ①③ B. ①④ C. ②③ D. ②④
20. “饭圈”一词诞生于网络,是粉丝圈子的简称。有些“饭圈”正歪歪扭扭走向“怪圈”,为净化网络环境,中央网信办出重拳、下猛药,发布了《关于进一步加强“饭圈”乱象治理的通知》,要求艺人及粉丝谨言慎行,合法合规。这启示新时代的文艺工作者应
- ①建立网络综合治理体系,营造清朗网络空间
 - ②抵制不健康文化的影响,提高思想道德修养
 - ③明大德守公德,坚决抵制和依法取缔落后文化
 - ④修身立心铸魂,自觉践行社会主义核心价值观
- A. ①② B. ①③ C. ②④ D. ③④
21. 以习近平同志为主要代表的中国共产党人,坚持把马克思主义基本原理同中国具体实际相结合、同中华优秀传统文化相结合,坚持毛泽东思想、邓小平理论、“三个代表”重要思想、科学发展观,深刻总结并充分运用党成立以来的历史经验,从新的实际出发,创立了习近平新时代中国特色社会主义思想。这体现了
- ①真理往往具有反复性和无限性
 - ②在实践中追求真理是一个过程
 - ③理论探索总是走在实践探索之前
 - ④实践发展为认识深化提供新条件
- A. ①③ B. ①④ C. ②③ D. ②④

22. 下列诗句中蕴含的哲理与漫画《你的脉为什么摸不着?》(图3)揭示的哲理相符的是

- 1 人间四月芳菲尽, 山寺桃花始盛开
- 2 深处种菱浅种稻, 不深不浅种荷花
- 3 横看成岭侧成峰, 远近高低各不同
- 4 古人学问无遗力, 少壮工夫老始成

A. 1 2

C. 2 3

B. 1 4

D. 3 4



图3

23. 110年前, 以孙中山先生为代表的革命党人发动了震惊世界的辛亥革命。作为历史事件, 辛亥革命是独一无二的, 但作为历史现象, 资产阶级革命在近现代历史上却重复出现; 作为历史人物, 孙中山是独一无二的, 但作为历史现象, 时势造英雄却不断重演。这表明

1 阶级斗争是社会发展的直接动力

2 历史发展是前进性和曲折性统一

3 社会历史发展受到客观规律支配

4 杰出人物对历史发展有深刻影响

A. 1 2

B. 1 3

C. 2 4

D. 3 4

24. 三星堆遗址祭祀区新近考古发掘中, 发现了全国最大的大口尊、国内同时期最大的金面具、器型独特的顶尊跪坐人像、国内唯一科学考古发掘出土的圆口方体铜尊, 以及象牙微雕、大量丝绸和纺织品残留物、碳化稻、竹和阔叶林树种等多种遗物。这表明

A. 中华文明的多元性

B. 国事决定于礼乐制度

C. 专制皇权已经确立

D. 青铜农具的广泛使用

25. 据《史记》记载, “汉大兴兵伐匈奴, 山东水旱, 民多饥乏, 于是天子遣使者虚郡国仓廩以赈贫民。犹不足, 又募富人相贷假。富商大贾……冶铸煮盐, 财或累万金, 而不佐国家之急, 黎民重困。”这表明, 当时

A. 官营盐铁积弊严重

B. 经济政策亟需调整

C. 重农抑商政策松弛

D. 王国势力不断加强

26. 宋太宗时, “诏江南、两浙、荆湖、岭南、福建诸州长吏, 劝民益种诸谷, 民乏粟、麦、黍、豆种者, 于淮北州郡给之; 江北诸州, 亦令就水广种粳稻, 并免其租。”这一举措

A. 加快了中原农民大量南迁

B. 改变了传统饮食习惯

C. 实现了南北经济发展平衡

D. 提高了农民抗灾能力

27. 有学者认为, 洛可可艺术风格和中国古代文化的契合, 其秘密即在于这种纤细入微的情调, 以淡色的瓷器, 色彩飘逸的闪光丝绸的美化的表现形式, 在温文尔雅的十八世纪欧洲社会面前, 揭露了一个他们乐观地早已梦寐以求的幸福生活的前景。由此可见, 当时

A. 欧洲社会生活水平低下

B. 中国积极开拓海外市场

C. 商品贸易促进文化交流

D. 西方文化开始传入中国

文科综合试卷 第5页(共12页)

28.

29.

30.

31.

32.

28.

表2 各地校运会和联合运动会略表

时间	举办学校	运动会规模	参加学校
1899	天津北洋大学	校际对抗赛	水师、电报、武备学堂
1900	上海圣约翰学校	校际对抗赛	南洋学堂
1902—1911	上海圣约翰学校	足球运动会	官、私各校
1905	天津学界(举办8届运动会)	联合运动会	汇文书院等
1907	北京协和书院	校际运动会	南京86所学校
	南京学界	联合运动会	

表2反映了

- A. 各地崇洋趋新的风气
- B. 新旧教育体制更替
- C. 社会体育的快速发展
- D. 社交礼俗日益西化

29. 1934年11月1日至6日,陕甘边区工农兵代表大会在华池南梁荔园堡召开,选举成立陕甘边区苏维埃政府(群众习惯上称南梁政府)。同时,还成立了陕甘边区革命军事委员会。随后,根据地各县陆续建立了革命政权。陕甘边区苏维埃政府的建立

- A. 创建了“三三制”民主政权
- B. 完成了红军的战略转移
- C. 是实行民主政治的有益尝试
- D. 粉碎了国民党的“围剿”

30. 1972年8月,中国从反对肢解一个国家的原则立场和国际法规范出发,在安理会投票否决由部分国家提出的关于推荐接纳孟加拉人民共和国加入联合国的决议草案。原因是印度军队尚未撤出东巴,巴基斯坦的9万战俘和3万平民尚未按1948年的日内瓦公约约定被遣返本国,战争状态尚未结束。此举

- A. 说明世界多极化趋势的加强
- B. 标志不结盟运动正式形成
- C. 改变了全面冷战的国际局势
- D. 表明中国发挥了大国作用

31. 图4为中国海关统计数据,反映了国有企业、民营企业以及外商投资企业进出口总额比重的变化。这一变化的产生,主要是因为

- A. 多边贸易的推动
- B. 新技术革命的兴起
- C. 两极格局的瓦解
- D. 世界经济重心转移

国有企业、民营企业和外商投资企业进出口占全国进出口总额比重的变化

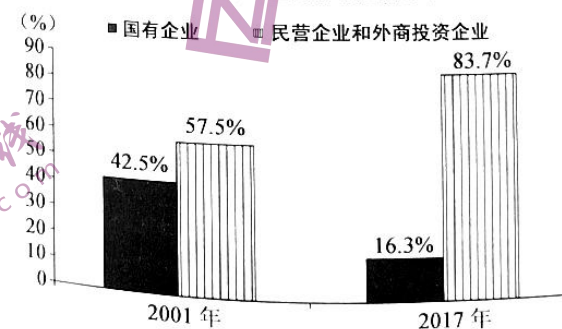


图4

32. 古代雅典,几乎所有的官职都是集体职务。执政官有9人;议事会议员500人;市场监督10人;港口监督10人;最需要统一的军事指挥权也由10名将军分享;陪审法庭的陪审员在鼎盛时期达6000人。这主要是因为

- A. 官职津贴的发放
- B. 城邦人口的增加
- C. 公民素质的提高
- D. 直接民主的要求

姓名 _____ 座位号 _____

(在此卷上答题无效)

33. 法兰西第一帝国覆灭后,波旁王朝复辟。长期流亡英国的路易十八回国登基时,极端君主派的著名思想家德·迈斯特尔伤感地说:“如果认为法国国王是重新登上他祖先的宝座,那就错了。他不过是重新登上了拿破仑的宝座。”这说明,当时法国
- A. 资本主义有较大发展
B. 拿破仑已恢复帝制
C. 确立了民主共和政体
D. 封建保守势力强大
34. 表3 第二次世界大战后美国、联邦德国、日本就业人口分布的变化

经济部门	年份	美国	联邦德国	日本
农业	1950年	12.2%	23.2%	50.7%
	1990年	2.8%	5.1%	7.2%
工业	1950年	34.7%	42.2%	22.2%
	1990年	25.8%	40.5%	33.6%
服务业	1950年	48.9%	32.4%	26.6%
	1990年	71.4%	54.4%	59.2%

据表3可知,二战后资本主义国家

- A. 农业经济急剧衰退
B. 消费需求趋于多样化
C. 中间阶层日益扩大
D. 福利国家规模的扩大
35. 图5为1952年某画家创作的宣传画,这一作品



图5

- A. 富于夸张和装饰韵味
B. 开创了新的艺术流派
C. 具有现实主义绘画风格
D. 强调画面的严整与和谐

二、非选择题:共160分。第36-42题为必考题,每个试题考生都必须作答。第43-47题为选考题,考生根据要求作答。

(一)必考题:共135分。

36. 阅读图文材料,完成下列要求。(22分)

材料一

2021年2月北极强冷空气引发美国南部的暴风雪,造成德克萨斯州大面积停电,人员伤亡,经济重创。此次极寒天气与拉尼娜现象导致北冰洋地区的冷空气异常活跃所形成的“冷冬”有很大关系。

材料二

德克萨斯州人口和城市众多,2020年GDP居美国第二位。首府奥斯汀发展成为美国“硅丘”,高新技术产业集聚,产业结构协调,效益高。奥斯汀创新生态成功的密码破析:关键是人才——努力创造一个能吸引人才和留住人才的环境;关键作用是地方领导力——地方领导力包括地方政府、企业和高校等各方面对地方发展有重大影响力人物之间的协同努力。图6示意美国德克萨斯州位置和地形。

文科综合试卷 第7页(共12页)

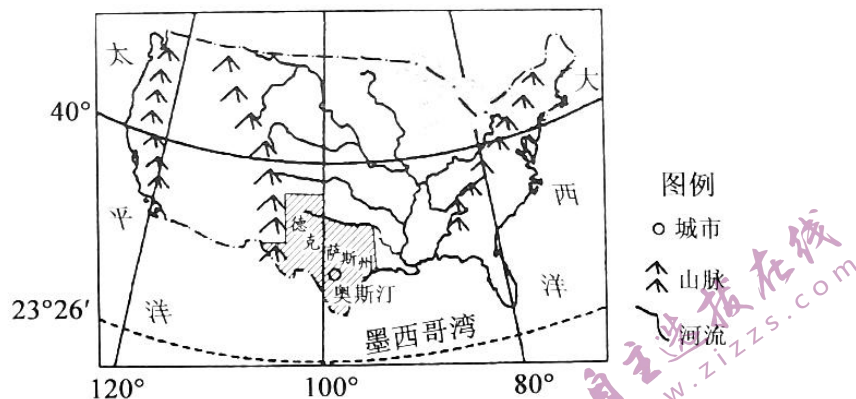


图6

- (1) 从锋生、锋消角度说明此次德克萨斯州暴风雪危害大的原因。(6分)
- (2) 分析拉尼娜现象对德克萨斯州极寒天气产生的影响。(6分)
- (3) 推测此次暴风雪给德克萨斯州带来巨大损失的人为原因。(4分)
- (4) 借鉴奥斯汀的成功经验,粤港澳大湾区如何打造高新技术产业集群升级优势?(6分)

37. 阅读图文材料,完成下列要求。(24分)

祁连山脉位于中国青海省东北部与甘肃省西部的交界处,由多条西北—东南走向的平行山脉组成。海拔4000米以上的多座山峰终年积雪,形成西北地区的“湿岛”。河西走廊是我国古今交通和经济发展的主动脉。依据土地适宜开发的程度、自然资源的丰富度、生态环境的脆弱度和经济发展水平等地理背景,将河西走廊建设的主体功能区规划为重点开发区域、限制开发区域(限制的是大规模工业化、城镇化开发)和禁止开发区域(图7示意河西走廊主体功能区规划)。

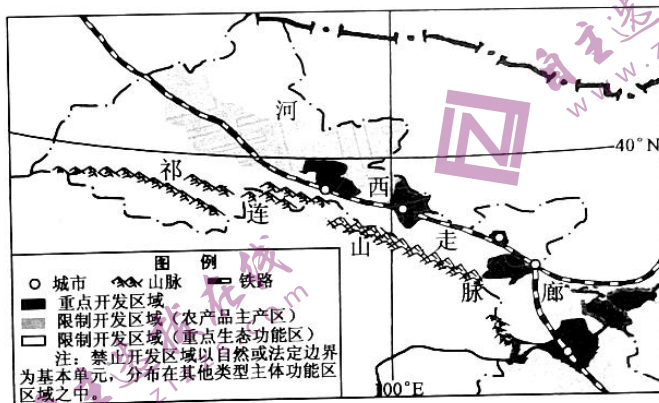


图7

- (1) 从区域关联性分析祁连山脉被誉为河西走廊“母亲山”的原因。(4分)
- (2) 分析大规模工业化开发对河西走廊地理环境的不利影响。(8分)
- (3) 简述“丝绸之路经济带”战略实施对河西走廊农业产业化发展的意义。(6分)
- (4) 从环境承载力的角度分析河西走廊部分地区放弃风力发电的原因。(6分)

38. 阅读材料,完成下列要求。(14分)

材料一

共同富裕不是少数人的富裕,也不是整齐划一的平均主义,需要人民群众物质和精神生活都富裕,需要人人参与,人人尽力,久久为功。

材料二

为满足人民对美好生活的向往,Z省切实贯彻新发展理念,激发各类市场主体活力,支持新技术、新业态;打造新时代文化高地,丰富人民精神文化生活;践行绿水青山就是金山银山理念,推进经济社会发展全面绿色转型。截止2020年,该省城乡居民人均可支配收入已连续20年、36年居全国省区第一;城乡居民收入倍差1.96,远低于全国的2.56;11个设区市居民收入最高最低倍差1.64,为全国区域差距最小省份之一,在探索解决发展不平衡不充分方面成效显著,取得实现共同富裕的先发优势。

(1)根据材料一,简要概括共同富裕的基本内容。(4分)

(2)结合材料,谈谈Z省是如何贯彻新发展理念推进共同富裕的。(10分)

39. 阅读材料,完成下列要求。(12分)

人民民主是社会主义的生命。实现民主有多种方式,不可能千篇一律。各国都有根据本国国情推进民主政治建设的权利。

我国的人民民主是一种全过程民主。全过程民主,就是所有重大立法决策都是依照程序、经过民主酝酿,通过科学决策、民主决策产生的,是全链条、全方位、全覆盖的民主。2021年,我国将“坚持全过程人民民主”写入法律。

中国共产党领导人民实现全过程人民民主,体现于党治国理政全部活动,覆盖国家治理各个环节,具有科学有效的制度安排,具有具体现实的民主实践,是广泛真实管用的民主,既有鲜明的中国特色,也体现全人类共同价值,为丰富和发展人类政治文明贡献了中国智慧、中国方案。

结合材料,运用政治生活的相关知识,说明坚持和发展全过程人民民主的意义。

40. 阅读材料,完成下列要求。(26分)

材料一

胸怀千秋伟业,恰似百年风华

习近平总书记在庆祝中国共产党成立100周年大会上的讲话中指出:“一百年前,中国共产党的先驱们创建了中国共产党,形成了坚持真理、坚守理想,践行初心、担当使命,不怕牺牲、英勇斗争,对党忠诚、不负人民的伟大建党精神,这是中国共产党的精神之源。”

伟大建党精神体现了我们党对共产党执政规律、社会主义建设规律、人类社会发展规律认识的不断深化,是“中国共产党为什么能”的精神密码。百年来,党领导全国各族人民完成了新民主主义革命任务,确立了社会主义制度,开创、坚持和发展了中国特色社会主义,实现了第一个百年奋斗目标、全面建成小康社会,正在向着全面建成社会主义现代化强国的第二个百年奋斗目标迈进。

文科综合试卷 第9页(共12页)

材料二

中国先进知识分子不负人民,以国家兴亡为己任,郑重选择和广泛传播马克思主义真理,激活了中华优秀传统文化的生命力,为伟大建党精神的形成提供了丰富的文化和精神滋养。

伟大建党精神,已经成为伟大民族精神最富时代内涵的重要部分、最富时代价值的政治品格,成为当代中国人增强志气、骨气、底气的力量源泉,极大地丰富和发展了伟大民族精神。

- (1)结合材料一,运用价值判断与价值选择的相关知识,分析中国共产党为什么能做到“胸怀千秋伟业,恰似百年风华”。(12分)
- (2)结合材料二,说明伟大建党精神是如何丰富与发展中华文化的。(10分)
- (3)不负人民重托,承载国家和民族希望,这是每个青年的责任。请你为当代青年如何弘扬伟大建党精神提出两条建议。(4分)

41. 阅读材料,完成下列要求。(25分)

材料一

英国君主立宪制确立之初,只有那些拥有一定地产的成年男性才有资格当选为议员。1830年,只有不到百分之十的成年男性拥有选举权,而拥有被选举权的人则更少。后来,英国进行了多次议会改革,逐渐完善了议会制度。直到1969年,英国才规定,不论男女,凡是年满18周岁的公民都可以参加下院的选举。

恩格斯认为,美国1787年宪法“最先承认了人权,同时确认了存在于美国的有色人种奴隶制”。到1791年,美国国会通过了10条修正案,才规定了人民有言论自由等权利。

——摘编自人民教育出版社《历史①·必修》

材料二

1954年《中华人民共和国宪法》对公民的基本权利和义务作出规定:“中华人民共和国公民在法律上一律平等”,公民享有选举权和被选举权,有言论、出版、集会、结社、游行、示威的自由,宗教信仰的自由,居住和迁徙的自由;公民的人身自由不受侵犯,公民的住宅不受侵犯;公民享有劳动、休息、社会保险、接受教育等各方面的权利和从事各种文化活动的自由,妇女享有同男子平等的权利,公民对于任何违法失职的国家机关工作人员有向各级国家机关提出控告的权利,等等。这些规定,使中国人民的基本人权自近代以来第一次获得宪法的保障。同时,宪法相应地规定了公民必须遵守宪法和法律,爱护和保卫公共财产,依照法律纳税,依照法律服兵役等基本义务,体现了公民权利和义务的一致性。

新中国成立后的几部宪法的结构都是四章。1982年以前宪法的结构顺序为“序言”“总纲”“国家机构”“公民的基本权利和义务”,1982年宪法则把“公民的基本权利和义务”放在“国家机构”之前。

——摘编自中共中央党史研究室《中国共产党历史》第二卷等

- (1)根据材料一并结合所学知识,说明英、美法律对公民权利的限制及其实质。(10分)
- (2)根据材料二并结合所学知识,简述新中国1982年宪法结构调整的意义及实现人民当家作主的制度设计。(15分)

文科综合试卷 第10页(共12页)

真
神
效
快
句

42. 阅读材料,完成下列要求。(12分)

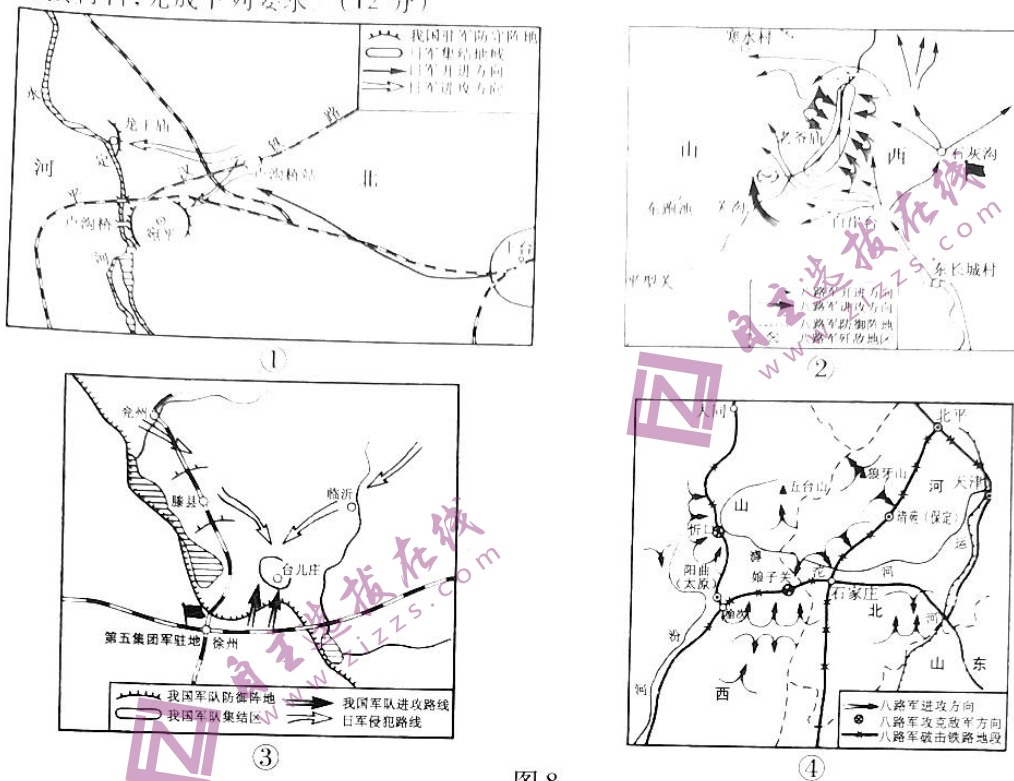


图8

图8是四幅反映中国抗日战争形势的示意图。任选其中一幅地图,结合所学知识,说明所选地图反映的历史事件并简析其影响。(要求:明确写出所选地图反映的历史事件,观点正确,论证充分,史实准确,表述清晰。)

(二) 选考题:共25分。请考生从2道地理题、3道历史题中每科任选一题作答。如果多做,则每科按所做的第一题计分。

43. [地理——选修3:旅游地理](10分)

2021年10月28日,由上海市文化旅游公共服务和人才服务中心主办的文化旅游公共服务进街镇系列活动之一——城市微旅游活动拉开帷幕。首批120位居民在导游带领下开启微度假,游览了普陀苏河梦清湾、徐汇武康路、嘉定州桥老街以及杨浦五角场等地。

据介绍,此次城市微旅游活动在上海全市每区均设置1条线路,共有16条主题线路,分别以“一江一河”“建筑可阅读”“红色之旅”等为主题,包含了社区周边特色景区、红色场馆、文化点位等“家门口的好去处”。活动旨在为社区居民提供便民惠民、宜乐宜游的文化旅游新选择。

(1) 结合材料总结微旅游的主要特征。(6分)

(2) 请为微旅游的发展提出建议。(4分)

44. [地理——选修6:环境保护](10分)

澳大利亚森林优势树种桉树易形成垂直连续的梯状可燃物,导致森林冠火强度大,难以扑灭。火是一个干扰因子,对生态系统造成积极或消极的影响。林火严重影响当地自然环境,但在长期的选择与进化过程中,森林生态系统与火因子构成了一种协调平衡的关系,火成了多种植被类型赖以存续的关键因素。研究发现,火灾后的桉树及幼苗、种子都能神奇“复活”。澳大利亚林火管理人员曾采用受控火烧的方法预防林火,受控火烧是专业人员点燃的小规模山火,火焰较低并且在地表缓慢移动。林火管理方式从单一的灭火发展到可燃物管理。

(1) 分析澳大利亚野火风险大的原因。(6分)

(2) 说明澳大利亚采取受控火烧防火行为的主要依据。(4分)

45. [历史——选修1:历史上重大改革回眸](15分)

材料

西魏建立后,民穷兵弱,处境十分艰难。宇文泰大力改革,采用苏绰的建议,颁布“先治心、敦教化、尽地利、擢贤良、恤狱讼、均赋役”六条诏书和一系列新制。政治上,以德治教化为主,法治为辅。要求各级官吏用儒家学说修身,躬行仁义、孝悌、忠信、礼让、廉平、俭约等,恪守儒家道德规范。打出复古旗号,按照《周礼》官名更改官制,颁布文书模仿《尚书》文体,以标榜承袭中原正统,争取汉人支持。用人则唯贤是举,不限阶资。军事上,为适应鲜卑等族军人的心理,采用鲜卑族原有的部落组织,建立以六镇军人为骨干,收编关陇豪强的乡兵部曲的府兵制。官兵之间保持鲜卑旧日的氏族关系。经济上,根据儒家先富后教的传统观念,劝课农桑,恢复均田制。

——摘编自白寿彝《中国通史》等

- (1) 根据材料,分别概括宇文泰政治和军事改革的主要特点。(6分)
- (2) 根据材料并结合所学知识,简析宇文泰改革的作用。(9分)

46. [历史——选修3:20世纪的战争与和平](15分)

材料

埃及总统纳赛尔去世后,萨达姆大肆宣传“泛阿拉伯主义”,提出“要用50年的时间统一中东地区”。1990年8月2日,伊拉克向邻邦科威特发动全面入侵。美国为保证它在海湾的石油利益和战略地位,维护西方的经济命脉,显示它在世界上的领导作用,立即对伊拉克的侵略行为作出反应,组织反伊联盟,争取到540亿美元的战争捐款并“策动了全世界106个国家对伊拉克实施经济制裁。”为缓和局势,阿拉伯世界内外展开广泛的协调,但一无所获。苏联首次在地区冲突问题上与美国立场保持一致,萨达姆曾说“你们(苏联)在联合国开了绿灯,……,如果你们不开绿灯,就不会发生这场战争。”以美国为首的多国部队,广泛使用各种先进的指挥系统,普遍应用电子干扰、压制和制导技术,在电子战中抢得先机。

——摘编自张晓华等《战争与当代国际安全》

- (1) 根据材料并结合所学知识,说明伊拉克入侵科威特的目的。(6分)
- (2) 根据材料并结合所学知识,简析海湾战争的影响。(9分)

47. [历史——选修4:中外历史人物评说](15分)

材料

1918年底,梁启超前往欧洲,经过实地考察,他认识到:“自从机器发明、工业革命已还,生计组织起一大变动,从新生出个富族阶级来。科学愈昌,工厂愈多,社会偏枯亦愈甚。富者益富,贫者益贫,物价一日一日腾贵,生活一日一日困难。”“一百年物质的进步,比从前三千年所得还加几倍,我们人类不惟没有得着幸福,倒反带来许多灾难。”1920年回国后,在中西文化问题的争论中,梁启超认为西洋文明已经破产,拯救世界还要依靠东方“固有文明”,主张极力发扬传统文化。

梁启超称自己“保持性与进取性常交战于胸中,随感情而发,所执往往前后相矛盾,尝自言曰:‘不惜以今日之我难昔日之我’”。这种多变的特征,直到民国之后在梁启超的政治生涯中依然时有反映。一变再变,终于技穷。

——摘编自白寿彝《中国通史》等

- (1) 根据材料并结合所学知识,概述梁启超思想的变化及其背景。(8分)
- (2) 根据材料并结合所学知识,说明梁启超思想的实质,简析影响历史人物思想的主要因素。(7分)

关于我们

自主选拔在线是致力于提供新高考生涯规划、强基计划、综合评价、三位一体、学科竞赛等政策资讯的升学服务平台。总部坐落于北京，旗下拥有网站（[网址: www.zizzs.com](http://www.zizzs.com)）和微信公众平台等媒体矩阵，用户群体涵盖全国90%以上的重点中学师生及家长，在全国新高考、自主选拔领域首屈一指。

如需第一时间获取相关资讯及备考指南，请关注**自主选拔在线**官方微信号：[zizzsw](https://www.zizzs.com)。



微信搜一搜

