

秘密★启用前

临汾市 2023 年高考考前适应性训练考试（二） 文科综合

注意事项：

- 1.本试卷分第 I 卷（选择题）和第 II 卷（非选择题）两部分，满分 300 分，考试时间 150 分钟。
- 2.答案写在答题卡相应位置上，写在本试卷上无效。

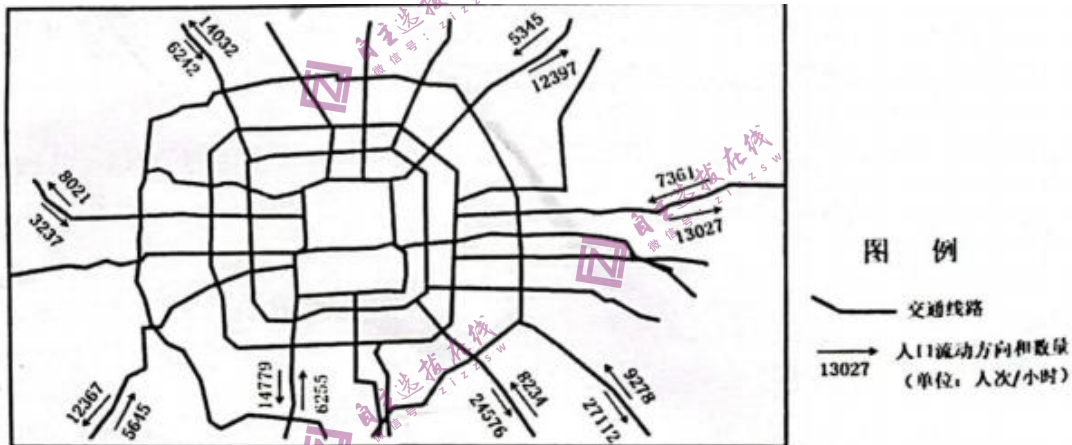
第 I 卷（选择题 共 140 分）

本卷共 35 道小题，每小题 4 分，共 140 分。在每小题给出的四个选项中，只有一项是最符合题目要求的。

生态移民指原居住在生态脆弱、基本不具备人类生存条件地区的人口，搬离原来的居住地，在另外的地方定居并重建家园的人口迁移。上世纪九十年代以来，宁夏闽宁镇采用分批次、分阶段的模式接纳西海固地区搬迁而来的农民，目前已经成功脱贫致富奔小康。据此完成 1~2 题。

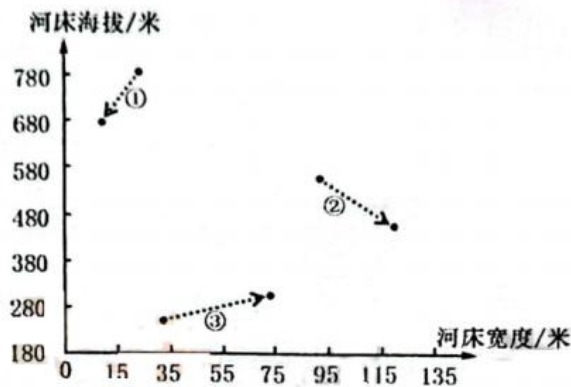
- 1.西海固实施生态移民最初是因为当地
A.自然灾害频发 B.居住环境较差 C.农业产值较低 D.搬迁意愿较高
- 2.与一次性相比，分批次、分阶段推行生态移民优先考虑
A.人口容量 B.生产方式 C.投资压力 D.文化交融

城市辐射功能是指城市各项功能对其所在区域的综合影响力和发展带动力。其因腹地条件而异。腹地中离中心城市较近，且交通便利的城镇，有机会发展为中心城市的“卧城”。下图示意我国某超级大城市工作日某时段人口流动方向和数量。据此完成 3~5 题。



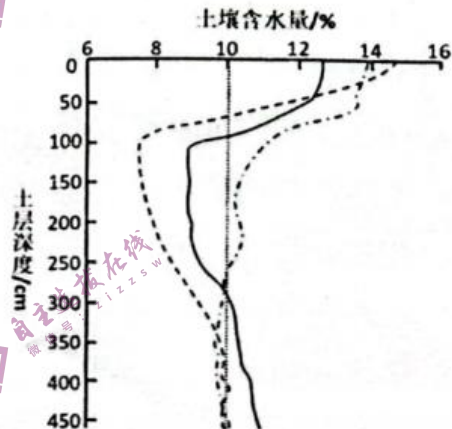
- 3.图示时段最可能是
A.8: 30 左右 B.12: 30 左右 C.18: 30 左右 D.21: 30 左右
- 4.“卧城”主要集中在该城市的
A.东南部 B.西南部 C.西北部 D.东北部
- 5.该城市对周边地区的辐射功能主要得益于其
A.产业带动功能 B.交通枢纽功能 C.金融服务功能 D.科研创新功能

河流特征常因自身要素的改变而发生变化。下图示意密西西比河中游连续三个河段（河段长约 10 千米）测量的河床平均海拔和平均宽度在过去 10 万年间的变化，箭头表示变化方向。据此完成 6~8 题。



- 6.三个河段由上游到下游的排序依次是
 A.①②③ B.①③② C.②①③ D.②③①
- 7.该河流①、②、③三个河段
 A.①河段侧蚀最明显 B.②河段下蚀快于侧蚀
 C.③河段侵蚀最严重 D.侵蚀均快于沉积
- 8.推测③河段近 10 万年间特征的变化
 A.含沙量减小 B.流量变小 C.结冰期延长 D.流速变慢

土壤干层是指位于多年平均降雨入渗深度以下，因地表植被过度消耗深层土壤储水产生水分失衡，使土壤含水量长期稳定较低水平（10%以下）下图示意黄土高原西部放牧草地、封育 15 年草地、封育 30 年草地三种不同土地利用方式下土壤干层变化。据此完成 9~11 题。



- 9.放牧草地土壤干层的起始深度约为
 A.60cm B.100cm C.200cm D.300cm
- 10.与黄土高原土壤干层形成关联度最小的因素是
 A.气候 B.植被 C.地貌 D.土质
- 11.随着草地封育年限的增加土壤干层
 A.上移，强度减弱 B.下移，强度增强
 C.上移，强度增强 D.下移，强度减弱

12.俗话说得好、“春腊人倍忙、丰收有希望”。

1979 年的山东省济宁市，“大包干”正如火如荼地开展着。

彼时，全县干部、群众都迸发出前所未有的积极性，“县、社干部骑着自行车下村进田、卷起裤腿帮着群众挖梁、浇地、施肥，带领群众搞春耕，望着平展无际的春季返青的麦田、大家都很高兴”。可见改革开放

- ①激发了广大人民群众建设社会主义的积极性
 ②从根本上解决了生产关系与生产力之间的矛盾
 ③是坚持和发展中国特色社会主义的必由之路
 ④完成了中华民族有史以来最深刻最伟大的社会变革
- A.①③ B.①④ C.②③ D.②④

13.中国式现代化道路，是中国共产党带领和团结中国人民独立自主探索出来的中国特色社会主义道路。在一个有着 14 亿多人口的社会主义大国创建中国式现代化新道路，对于实现中华民族伟大复兴，对于推动人类文明进步，都具有重大而深远的意义。这说明中国式现代化道路

- ①构筑了实现中华民族伟大复兴中国梦的路线图
 ②是中国历史文化的母版在当今社会的全面延续
 ③是中国共产党遵循社会发展规律创造的人类文明新形态
 ④是一条既符合中国国情，又适合时代发展要求的唯一正确的道路
- A.①② B.①③ C.②④ D.③④

14.山西省大同市车河村依托天然的绿水青山,引人工商资本,进行村企深度融合,采取“村庄改造+有机农业+生态旅游”的模式,成立了有机农业合作社,带动农民脱贫致富。经过几年的发展,车河社区打造成了集农业生态旅游、有机种养基地、特色餐饮、住宿、民俗文化、传统教育为一体的山水特色名村。这启示我们要

- ①完善农村基本经营制度,培育新型农业经营主体
- ②探索城乡一体化路径,促进全体村民实现共同富裕
- ③深化农村土地所有权制度改革,拓宽农民致富渠道
- ④把产业振兴作为乡村振兴的重中之重,培育农村新产业新业态

A.①③ B.①④ C.②③ D.②④

15.习近平总书记在党的二十大报告中指出:“坚持把发展经济的着力点放在实体经济上”“促进数字经济和实体经济深度融合”。当前,我国必须加快发展数字经济,赋能传统产业转型升级,提升实体经济发展水平。不考虑其他因素,下列促进传统产业数字化转型措施的作用推导正确的是

- ①发挥大企业引领作用→带动上下游“链式”转型→厘清企业运行机制→提高关键核心技术
- ②创新转型融资方式→拓展转型融资渠道→推动科技-产业-金融良性循环→降低转型成本
- ③培养数字化转型人才→提升转型能力→统筹建设数据标准体系→增强企业核心竞争力
- ④加强宏观调控力度→优化转型机制→解除企业数字化后顾之忧→引导企业主动转型

A.①② B.①③ C.②④ D.③④

16.近年来,重庆市围绕“把农民组织起来”这个关键,积极探索推行“积分制”“清单制”“院落制”,以“数字化”赋能乡村治理,推动健全自治、法治、德治、智治“四治融合”的乡村治理体系、走出一条党建引领、以人为本、因地制宜、共建共享的乡村治理新路径。该治理模式

- ①通过共建共享,激发人民群众管理国家事务的热情
- ②切实发挥党对基层治理的领导作用,提供方向保证
- ③以智治推动乡村数字治理,确保基层自治高质高效
- ④推动村民依法直接行使民主权利,发挥自治主体作用

A.①② B.①③ C.②③ D.②④

17.2023年3月5日,民革中央主席郑建邦表示,履职要“上接天线,下接地气”。“上接天线”指的是履职要锚定党和国家的重大战略决策,不能偏移;“下接地气”就是要深入实践、调查研究,了解地方的经济发展需求和人民群众的诉求,在这个基础上形成一个比较好的参政议政材料,供中共中央和国务院决策参考。这表明民主党派

- ①积极行使参政权,彰显我国新型政党制度独特优势
- ②更好发挥专门协商机构的作用,为国家发展建言献策
- ③聚焦党和国家中心任务,推动国家方针政策的贯彻落实
- ④强化履职使命担当,积极配合中国共产党共同执政

A.①② B.①③ C.②④ D.③④

18.来自江苏镇江的魏巧,是一位农学博士。“农业专家的成果就是要体现在广阔的土地上。”受习近平总书记讲话的激励,2017年,她和丈夫双双辞去中科院和北京大学的工作,回到乡村成为新时代的“新农人”,她说“希望自己可以带动更多青年人扎根‘三农’,为建设农业强国出心出力。”魏巧的事迹启示我们

- ①人生价值的实现取决于价值判断和价值选择
- ②劳动奉献是实现人生价值的必由之路
- ③社会提供的客观条件是实现人生价值的前提
- ④实现人生价值需要坚定的理想信念和锤炼品德修为

A.①② B.①③ C.②③ D.②④

19.2023年是毛泽东等老一辈革命家为雷锋同志题词60周年。60年来,学雷锋活动在全国持续深入开展,雷锋精神滋养着一代代中华儿女的心灵。习近平强调,新征程上要深刻把握雷锋精神的时代内涵,让雷锋精神在新时代绽放更加璀璨的光芒,为全面建设社会主义现代化国家、全面推进中华民族伟大复兴凝聚强大力量。这表明,雷锋精神

- ①集中体现了中华民族的整体风貌和精神特征
- ②为中华民族伟大复兴提供精神动力与价值引领

- ③丰富和发展了民族精神和时代精神的内涵
- ④能够向社会传递正能量，主导时代发展

A.①③ B.②③ C.①④ D.②④

20.2022年12月23日，国家主席习近平在中南海瀛台会见来京述职的香港特别行政区和澳门特别行政区行政长官。习近平主席强调，“一国两制”是中国特色社会主义的伟大创举，是香港、澳门回归后保持长期繁荣稳定的最佳制度安排。对此，下列解读正确的是

- ①“一国”是实行“两制”的前提和基础，“两制”从属和派生于“一国”
- ②中央政府享有管理香港、澳门社会经济治安等地方性事务的权力
- ③“一国两制”是主权归中央，治权归香港、澳门特别行政区
- ④维护国家主权、安全、发展利益是“一国两制”方针的最高原则

A.①③ B.①④ C.②③ D.②④

21.2022年11月15日，习近平主席出席二十国集团领导人第十七次峰会并发表重要讲话，强调人类发展面临共同挑战，各国要树立人类命运共同体意识，倡导和平、发展、合作、共赢，让团结代替分裂、合作代替对抗、包容代替排他，共同破解“世界怎么了、我们怎么办”这一时代课题，共渡难关，共创未来。这表明

- A.我国立足于维护各国共同利益，完善全球治理
- B.二十国集团为各国提供了合作与发展的平台和组织保障
- C.求和平、谋发展、促合作是不可阻挡的时代潮流
- D.二十国集团主要讨论和平与发展等全球性的战略问题

22.2022年10月，甲地的梁某与乙地的张某自愿签订了一份房屋买卖合同。合同约定，梁某将登记在其个人名下的一套商品房出售给张某，张某一周内先支付定金10万元，余款在两个月内办理过户手续时付清；如果一方不履行合同，应支付违约金15万元。两天后，张某向梁某支付定金10万元。一个月后，因房价上涨，梁某要求解除合同，后张某将梁某诉至法院。该案例中

- ①张某可以向甲地的人民法院提起诉讼
- ②梁某违约，张某可要求其支付违约金并退还定金
- ③双方可先通过仲裁解决纠纷，如不服仲裁，再提起诉讼
- ④梁某违背了全面履行原则，应停止侵害并赔偿张某损失

A.①② B.①③ C.②③ D.③④

23.国家主席习近平在2023年新年贺词中指出：路虽远，行则将至；事虽难，做则必成。只要有愚公移山的志气、滴水穿石的毅力，脚踏实地，埋头苦干，积跬步以至千里，就一定能够把宏伟目标变为美好现实。这告诉我们

- ①运用联想思维，着眼于发展过程中各个目标的逐个突破
- ②遵循超前思维，积极创造有利的条件推动宏伟蓝图实现
- ③坚持逆向思维，实现发展中国特色社会主义的多向多维
- ④遵循质量互变，正确认识发展过程中的渐进性与飞跃性

A.①③ B.①④ C.②③ D.②④

24.1976年，河南安阳殷墟妇好墓中出土了750余件产自新疆和田的玉雕，其中下图的玉凤是迄今为止我国发现的最早的玉凤造型。它高13.6厘米，厚0.7厘米，整体呈黄褐色、身躯扁平、引颈回首姿态，凤冠高耸，圆眼睛，尖喙如鸡，长尾舒展、背部有穿孔圆钮，便于穿绳悬挂。这说明商朝



- A.继承了良渚文化
- B.与西域有一定的联系
- C.玉器制作水平高
- D.文化影响力已达西域

25.南朝时期扬州地区人口较东汉中期增长4倍以上，而赣江特别是湘江流域的人地关系与

东汉中期差别不大。官方记录的水旱灾害主要发生在扬州地区，而湘赣流域甚少。这说明

- A.政局稳定促进经济发展
- B.南方得到开发和发展
- C.人口增长影响生态环境
- D.南方经济发展不平衡

26.下表是唐宋某一时期的国家财政收入数据，据此可知

时间	税收种类及数量			
	粮食	布帛	铜钱	其他

唐(749年)	2500万石	2345万匹	200万贯	
宋(1086年)	2445万石	151万匹	4848万贯	几万两金银

- A.唐朝征税标准以人丁为主 B.精耕细作农业成熟
C.宋代财政收入高度货币化 D.唐朝棉纺织业发达

27.《元史·地理志》这样说：“盖岭北、辽阳与甘肃、四川、云南、湖广之边，唐所谓羁縻之州，往往在是，今皆赋役之，比于内地”。据此可知元朝

- A.对辽阔的疆域实行了有效的统治 B.实行民族平等政策
C.行省制度维护了国家统一和稳定 D.因地制宜管理各地

28.观察下表，与“鸦片战争大事记”相比，“奏折中的鸦片战争”反映了清朝

时间	奏折中的鸦片战争	鸦片战争大事记
1841年2月14日	琦善：激战四时，剿杀夷逆汉奸六百。 伊里布：不费一兵一卒，舟山收复。	英军攻占沙角、大角，清军大败。英军受伤38人，无死亡。由于疾病严重，英军撤离舟山。
1841年3月12日	杨芳：民心大定，军民鼓舞，可期无虞。	英军摧毁广州城炮台400位，军营十余座，受伤8人。
1841年6月4日	奕山：英夷指天指心，免冠作礼，诚意求和，谅该夷性等犬羊，不值计较。	奕山私自与英军达成协定，赔款600万，英军退离广州。

注：大臣奏折经过缩编，大事记整理自茅海建《天朝的崩溃》

- A.天朝上国的外交观 B.君主乾纲独揽
C.有较强的军事实力 D.官员腐败无能

29.1852年英国驻广州全权代办密切尔撰写调查报告：秋季收割结束后，所有农家都进行梳棉、纺棉、纺织、织成能够耐用两三年之久的厚重结实的手织布，做成自己用的布料，剩余的棉布卖到城镇……在这个国家十人中有九人都穿着这种手织棉布做成的衣服。据此可知

- A.中国的家庭手工业技术发达 B.英国蓄意扩大侵略战争
C.中国的自然经济占统治地位 D.英国尚未打开中国大门

30.1906年，清政府仿照西方设立陆军部，统帅全国陆军；设立度支部，宣布只有中央才拥有对外借款即铸造、发行货币权。这些举措意在

- A.重塑中央集权 B.发展民族工业 C.全面学习西方 D.缓和阶级矛盾

31.以下是不同的人对五四运动的认识。据此可知五四运动（

姓名	身份	认识
傅斯年	运动的领导者	从五月四日以后，中国就算有了“社会”……这觉悟是一串的。第一层是国力的觉悟；第二层是政治的觉悟；现在是文化的觉悟，将来是社会的觉悟。
罗家伦	运动的领导者	五四精神一是学生牺牲的精神；二是社会裁制的精神；三是民族自决的精神。
约翰·杜威	运动的旁观者	我们正目睹一个民族/国家的诞生，而出生总是艰难的。
周策纵	运动的研究者	五四运动在社会政治方面的另一个结果是，商人和城市工人的组织和活动得到发展。从某种意义上说“五四”事件教育中国人民，他们的力量在于组织起来。

- A.是一场伟大社会革命运动 B.是彻底反帝反封建的伟大爱国革命运动
C.促进了马克思主义的传播 D.为中国共产党的成立做了组织上的准备

32.1956年12月,毛泽东约见民建和工商联负责人,同他们谈话时说:"只要社会需要,地下工厂还可以增加,可以开私营大厂,十年、二十年不没收.....可以开投资公司,还本付息。可以搞国营也可以搞私营。可以消灭了资本主义,又搞资本主义。"这表明当时我国

- A.社会主义计划经济体制开始形成 B.试图突破苏联模式
C.对社会主义建设总路线进行调整 D.三大改造尚未完成

33.在中世纪欧洲、教堂前面往往会有城市中较大的开放空间——教堂广场,这里多是市民集会、狂欢和从事各种文娱活动的场所。这反映出

- A.教堂处于城市中心 B.市民生活自由
C.城市自治程度很高 D.教权影响力大

34.1945年4月、联合国制宪会议签字仪式在旧金山举行。美国作为东道主最后一个签字,中国成为第一个签字的国家、然后是苏联、英国和法国,其他国家在此之后按国名的英文字母顺序分别签字。由此可见

- A.雅尔塔体系基本形成 B.美国操纵联合国成为其全球扩张的工具
C.国际政治秩序不平等 D.中国对世界反法西斯战争做出重大贡献

35.1975年,苏联的国内生产总值约为美国的57.5%,军费开支占当年国内生产总值的14.3%、苏联的洲际导弹和自由艇发射的导弹从1963年分别约占美国的23.6%和44.6%到1975年在数量上超过美国。这说明

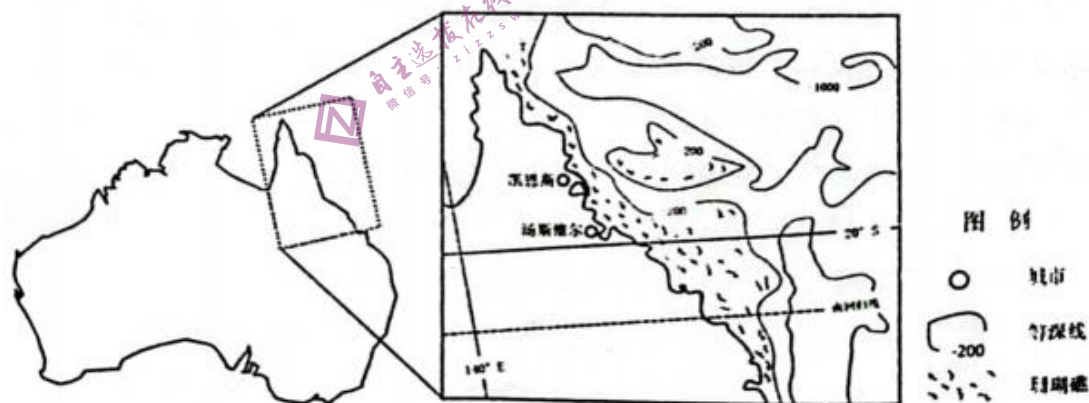
- A.军备竞赛威胁世界和平 B.美国的综合国力逐渐衰弱
C.苏联国民经济发展畸形 D.苏联在美苏争霸中占主导

第II卷(非选择题 共160分)

本卷共10道题,共160分。(说明:地理部分为第36~37题,共56分;政治部分为第38~42题,共52分;历史部分为第43~45题,共52分)

36.阅读图文资料,完成下列要求。(28分)

珊瑚礁是成千上万珊瑚虫的骨骼在数百年至数千年的生长过程中形成的。珊瑚虫生长在水温 $25^{\circ}\text{C}\sim 27^{\circ}\text{C}$ 、盐度 $34\%\sim 36\%$ 、水面平静、阳光充足、水质清洁的水域。澳大利亚大堡礁是世界上最大最长的珊瑚礁群,有2900个大小珊瑚礁岛。随着气候变化,澳大利亚大堡礁正在不断退化。目前科学家尝试在该海域海底进行珊瑚种植实验,积极保护和修复珊瑚礁,但由于海况复杂,工作人员面临许多问题。下图示意澳大利亚东北部大堡礁的位置。

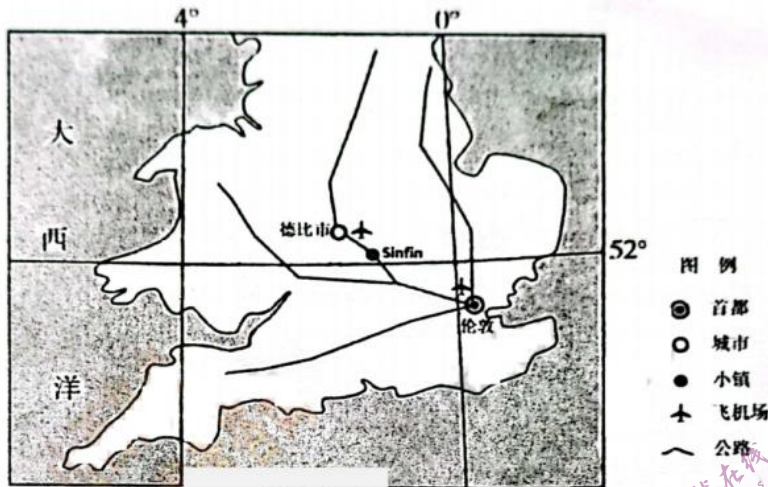


- (1)分析澳大利亚大堡礁成为世界规模最大珊瑚礁群的环境条件。(8分)
- (2)对澳大利亚大堡礁退化这一现象做出合理解释。(6分)
- (3)简述在澳大利亚大堡礁海底种植珊瑚可能面临的问题。(6分)
- (4)说明在澳大利亚大堡礁“种”珊瑚的生态意义。(8分)

37.阅读图文材料,完成下列要求。(28分)

发达国家很多具有国际竞争力的高岗产业多集中在特色小镇而不是中心城市。英国 Sinin 小镇定位高端产业,设有世界著名的航空发动机公司罗伊新·罗尔斯综合题部,在 Sinin 小镇中

间是办公和狠心工厂,周边是绿也和低密度住宅区。随着中国城镇化水平和人均收入水平的提高,特色小镇建设的主流方向楚子发展高出产业,这里蕴含着巨大的发展空间和投资机会,下图示意英国 Sinin 小镇的地理位置



- (1)说明 Sinin 小镇定位高端产业的目的。(8分)
- (2)分析 Sinin 小镇发展航空发动机制造的优势条件。(8分)
- (3)简述 Sinin 小镇的发展对我国建设特色小镇的启示。(6分)
- (4)列举我国特色小镇建设的具体高端产业类型。(6分)

38.阅读材料,完成下列要求。(10分)

生物多样性关系人类福祉,是人类赖以生存和发展的重要基础。青海省作为我国重要的高原物种基因库及生物多样性重点保护地区,拥有极为重要的生态地位。当地相关部门紧跟党中央重要决策部署,深入贯彻习近平总书记重要讲话精神,积极履职,形成实保护高原生物多样性的合力。近年来,青海省结合具体情况,制定了地方性法律法规和制度条例,为加强生物多样性保护工作提供有力制度保障。青海省持续组织开展打击破坏野生动物资源违法犯罪行动,禁止滥捕乱猎、禁止非法经营利用野生动物及其产品通过建立自然保护区等方式最大面积地保护野生动物栖息地,进免野生动物道到级灭打击,在完善立法、加强有关执法司法工作的同时,当地人民法院采用普法加案例的再审判工作,定期对村民进行普法宣传,引导他们将环境守法内化为自觉的行动。

结合材料,运用《政治与法治》的知识,说明青海省是如何护佑生物多样性的。(10分)

39.阅读材料,完成下列要求。(10分)

文物不可再生,"保护第一"是文物工作的首要遵循。多年来,敦煌研究院探索多种创新手段,实现从被动的抢救性保护到主动的预防性保护,擦亮了"敦煌文化"这颗世界文明长河中的璀璨明珠。新中国成立后,莫高窟受到党和国家高度重视,开展了莫高窟抢险加固工程,有效治理了渗水、风沙、病害对洞窟的侵害。20世纪80年代以来,敦煌研究院通过国际合作、将科学保护理念和先进分析技术引入石窟保护中,使敦煌石窟的保护工作从抢险加固阶段进入到综合性保护阶段。20世纪90年代,敦煌研究院提出"数字敦煌"的构想,探索运用计算机技术再现和保存珍贵敦煌文化艺术。2022年12月,全球首个基于区块链的数字文化遗产开放共享平台"数字敦煌开放素材库"正式上线,经过不断探索,敦煌研究院已研发出一整套洞窟壁画的数字化保护关键技术和成果转化体系,1比1毫米级精度、高保真复制洞窟的构建让远在大漠的千年瑰宝走出敦煌走近观众、重现敦煌千年灿烂。

结合材料,运用探究世界的本质的知识,说明敦煌莫高窟的保护是如何重现敦煌千年灿烂的。(10分)

40.阅读材料,完成下列要求。(10分)

回顾2022年,在单边主义、保护主义逆流涌动的背景下,中国充分彰显"我们既要让自己过得好,也要让别人过得好"的中国智慧,生动展现以自身新发展为世界提供新机遇的大国担当。一年来,中国稳步扩大规则、规制、管理、标准等制度型开放,积极营造市场化、

法治化、国际化一流营商环境，主动与各国分享中国机遇。从消博会、服贸会到进博会，一个个开放合作的国际平台，描绘出中国加快构建新发展格局、与各方共享发展机遇的美好图景。一年来，中国携手各方高质量实施 RCEP，让这一全球最大自贸区安排释放更大红利。与此同时，中国积极推进加入《全面与进步跨太平洋伙伴关系协定》和《数字经济伙伴关系协定》等高标准经贸协议。中国积极推动经济全球化不断向前发展，为促进世界经济复苏注入强劲暖流。一年来，中国继续携手各方高质量共建“一带一路”。中国与尼加拉瓜、叙利亚、阿根廷、马拉维、巴勒斯坦等国家签署共建“一带一路”合作谅解备忘录……曾经“被遗忘的角落”变身“希望的田野”，一个个互利共赢的合作故事正在全球上演，一幕幕共同发展的生动场景正在不断呈现。

结合材料，运用《当代国际政治与经济》的知识，阐述中国是如何为世界经济发展提供更多稳定性和确定性的。（10分）

41. 阅读材料，完成下列要求。（12分）

原告王先生与被告吴先生本是同一小区居民，但因车位一事却让这两位邻居法庭相见。起因是某日吴先生驾车回到小区，到停车位停车时，发现同小区住户王先生将车停在自己车位，吴先生拨打王先生电话多次，王先生未接听。一气之下，吴先生用砖块砸了王先生的车并将车牌掰断。后王先生将吴先生诉至法院要求赔偿自己各项损失共计 6792 元。而吴先生认为：对于换领新车牌照费同意赔偿，且认可王先生提交的维修费证据，但是认为不应该全部由自己承担，因为事出有因，是王先生将车停在自己的车位上，才导致后面的事情的发生，对此，法院难以采信。最终，该地法院判决支持原告诉求，被告吴先生赔偿原告王先生修车费 6637 元、换领新车牌照费 155 元，合计 6792 元。

（1）结合材料、运用《法律与生活》的知识，阐述人民法院作出上述判决的理由。（8分）

（2）结合材料，说明该案例中当事人解决纠纷的做法带给我们的启示。（4分）回答

42. 阅读材料、完成下列要求。（10分）

加快建设农业强国是新时代新征程我们党做好“三农”工作的战略部署，必须保持战略定力、久久为功。当前，要锚定建设农业强国目标，科学谋划和推进“三农”工作。一要加强顶层设计、制定加快建设农业强国规划，针对未来 5 年、2035 年、本世纪中叶的目标，分别制定路线图和施工图，强化规划的法规效力。制定规划要同现有规划相衔接，保持工作连续性，不能“翻烧饼”。二要循序渐进、稳扎稳打。建设农业强国是一项长期而艰巨的历史任务，要分阶段扎实稳步推进。当前要把重点放在全面推进乡村振兴上，多做打基础、利长远的事情。三要因地制宜、注重实效。各地要立足资源禀赋和发展阶段，发挥自身优势，服务大局需要，作出应有贡献，从本地农业农村发展最迫切、农民反映最强烈的实际问题入手，充分调动农民群众的积极性、主动性、创造性。

结合材料，运用《逻辑与思维》的知识，分析科学谋划和推进“三农”工作所体现的辩证思维智慧。（10分）

43. 阅读材料，完成下列要求。（25分）

材料一 徐光启（1562年-1633年），毕生致力于科学技术的研究，勤奋著述，《农政全书》是其代表作。《农政全书》共 60 卷，分为 12 目：农本（经史典故、诸家杂论、国朝重农考）；田制（井田考和王祯《农书》中各种田制图）；农事（营治、开垦、授时、占候，以屯垦为中心）；水利（水利工程、农田水利、《秦西水法》）；农器；树艺（名物、蔬菜、果树）；蚕桑；蚕桑广（木棉、苎麻）；种植（经济作物）；牧养；制造（食品、房屋）；荒政（备荒、附《救荒本草》和《野菜谱》）。前代贾思勰的《齐民要术》、王祯的《农书》等农业著作，重点在生产技术和知识，可以说是纯技术性的农书，而《农政全书》基本上囊括了中国明代农业生产和人民生活的各个方面，而其中又贯穿着一个基本思想，即徐光启治国治民的“农政”思想。

——摘编自麦群忠等《中国古代科技要籍简介》

材料二 弗朗索瓦·魁奈（1694年-1774年），法国古典政治经济学奠基者、重农学派创始人。由于路易十四连年征战和大肆挥霍，加上对异教徒的迫害，重商主义给法国社会经济尤其是农业造成了极其严重的危害。魁奈的纯产品学说将农业视为财富的唯一来源，主张

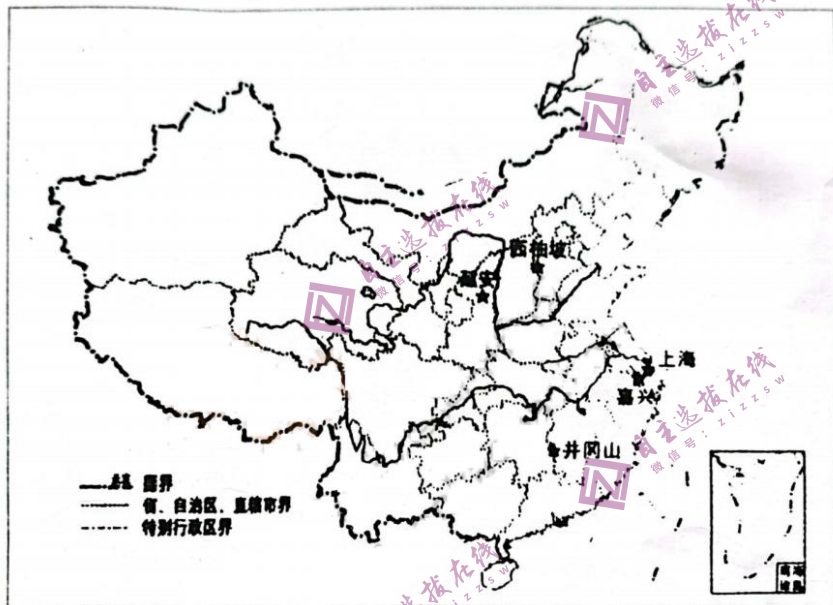
推广“大农经营”即资本主义农业经营方式，恢复和发展农业生产，促使法国重新走上繁荣富强之路。魁奈的自然秩序思想，在继承西方传统自然法的同时又从流布欧洲的中国古代思想中吸收营养，其在《中国的专制制度》一文中极力推崇中国式的开明君主专制。魁奈的学术和政治活动同当时的启蒙思想家狄德罗等人密切相关，他为《百科全书》撰写《农场主论》、《谷物论》、《人口论》和《赋税论》等论文。

——摘编自晏智杰《重读魁奈经济著作有感》

- (1) 根据材料一并结合所学知识，指出《农政全书》与传统农业著作相比的新发展并简析其产生的原因。(12分)
- (2) 根据上述材料并结合所学知识，概括魁奈重农思想与徐光启农本思想的异同点。(10分)
- (3) 根据上述材料并结合所学知识，简析影响农业思想形成与发展的因素。(3分)

44. 阅读材料，完成下列要求。(12分)

下图的“红色地标”均与中国共产党的建立和发展、与中国共产党领导中国革命和建设事业有密切关系。请选择下图中的一地，阐述该地在中国革命或建设中的贡献。(要求选择明确，主题准确，阐述充分。)



45. 阅读材料，完成下列要求。(15分)

欧洲气候、地理环境无法自行生产甘蔗，因而糖对当时的欧洲人来说是非常昂贵的商品。15世纪，葡萄牙人在适合种甘蔗的地方生产砂糖。17世纪之后，荷兰人把甘蔗种植的中心逐渐转移到了中南美洲的加勒比海地区和巴西。一种基于砂糖贸易的历史现象诞生了，那就是著名的“三角贸易”。欧洲人来到美洲建立殖民地，在极差的条件下种植甘蔗，生产砂糖。砂糖创造了巨大的社会财富，但这都是通过对大量非洲奴隶的残酷剥削而实现的。数万吨糖被运往欧洲的码头，并在当地精炼厂进一步加工，最终通过市场、集市、商店和流动商贩，销往整个西欧乃至全世界。这时候，大多数从事砂糖贸易的商人都住在英国，这些人因为富有，逐渐成为上流阶层，其政治影响力也开始凸显开来，可以说，砂糖商人们当时几乎把持了英国的政治。蔗糖在18世纪变得越来越日常化、平民化、工人阶级中开始流行茶歇、工作间歇喝上一杯加糖红茶，补充每天所需要的热量，以省出更多的时间来从事工业生产。

——摘编自(英)詹姆斯·沃尔韦恩《糖的征服史》等

- (1) 根据材料并结合所学知识，概括蔗糖在欧洲逐渐日常化的原因。(6分)
- (2) 根据材料并结合所学知识，分析蔗糖在欧洲流通产生的影响。(9分)

临汾市二模考试政治参考答案

一、客观题