

绝密★启用前

2022—2023 学年高三一轮复习验收考试 文科综合

注意事项:

1. 答卷前,考生务必将自己的姓名、准考证号等填写在答题卡和试卷指定位置上。
2. 回答选择题时,选出每小题答案后,用铅笔把答题卡上对应题目的答案标号涂黑。如需改动,用橡皮擦干净后,再选涂其他答案标号。回答非选择题时,将答案写在答题卡上。写在本试卷上无效。
3. 考试结束后,将本试卷和答题卡一并交回。

一、选择题:本题共 35 小题,每小题 4 分,共 140 分。在每小题给出的四个选项中,只有一项是符合题目要求的。

随着我国电商的兴起,快递业也迎来了飞速发展。但快递包装不环保的现象也颇为突出。推动快递包装物无害化、减量化和资源化刻不容缓。下图显示某快递分拣点的部分快件。据此完成 1~2 题。

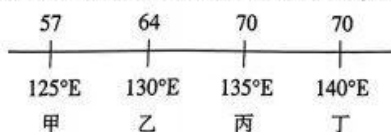


1. 实现快递包装物资源化的关键措施是
A. 简化包装 B. 分类回收 C. 集中储存 D. 及时消毒
2. 图示包装物带来的主要问题是
A. 白色污染 B. 传播病毒
C. 运输成本高 D. 回收难度大

统计数据表明,2000 年至 2020 年,上海的外来常住人口中,安徽籍人口数量先增后减,因为后期部分安徽籍人口从上海向家乡回流。人口回流的同时,安徽也吸引了上海的部分劳动密集型产业转入。据此完成 3~5 题。

3. 安徽人口大量迁往上海造成两地城市人口比重
A. 上海上升,安徽下降 B. 上海下降,安徽上升
C. 均有所上升 D. 均有所下降
4. 安徽籍人口回流,可能是因为上海
A. 生活成本上升 B. 产业升级换代
C. 加强户籍限制 D. 环境质量下降
5. 人口回流对安徽省人口结构带来的直接影响是
A. 户籍人口增加 B. 非户籍人口增加
C. 农业人口比重下降 D. 人口老龄化加剧

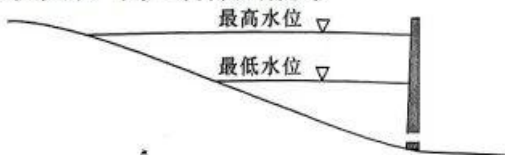
潮汐是海水周期性涨落现象,同一海域每天有 2 次高潮位和 2 次低潮位。高低潮位是在太阳、月球的引力作用下形成的。下图显示某时刻 30°N 纬线不同经度海域的潮位高度(单位:cm)。据此完成 6~8 题。



文综 第 1 页(共 8 页)

6. 正在落潮的海域是
A. 甲 B. 乙 C. 丙 D. 丁
7. 该日甲海域 60 cm 潮位共经历
A. 1 次 B. 2 次 C. 3 次 D. 4 次
8. 一艘巨轮此刻正在距离宁波港泊位(30°N, 121°E) 3 km 处等待最高潮位入港, 该轮船还需继续等待
A. 60 分钟 B. 70 分钟 C. 80 分钟 D. 90 分钟

松花江某水电站, 运行过程中下泄水量保持稳定, 库区下游流量基本无季节变化。下图是库区河段纵剖面略图。据此完成 9~11 题。来源: 高三答案公众号



9. 与建坝前相比, 建坝后库区河段
A. 水位变幅增大 B. 下泄水量增多
C. 径流速度变快 D. 泥沙颗粒变粗
10. 4~5 月是松花江的汛期, 导致该库区 5 月中下旬入库水量呈下降趋势的因素是
A. 气温 B. 降水
C. 积雪面积 D. 积雪厚度
11. 该水电站一年中发电能力最强的月份是
A. 3 月 B. 5 月 C. 7 月 D. 9 月
12. 某药店以 229 元/盒的价格出售某品牌新冠病毒抗原检测试剂盒, 是进价的 3 倍多, 远高于同时期周边市场同类商品的价格, 构成哄抬价格的违法行为, 被市场监管部门处以警告和罚款 20 万元的行政处罚。这说明
①商品价格要反映供求关系, 同时要符合价值规律
②在特殊时期, 抗疫物资价格不能由经营者自主决定
③商家追求经济利益不能违背经济法规和市场规则
④市场调节具有盲目性, 往往会导致经营者一哄而上
A. ①② B. ①③ C. ②④ D. ③④
13. 2022 年, 财税部门充分运用退税减税、加大财政补贴等政策, 支持科技型中小企业纾困发展。上述政策的传导路径正确的是
A. 退税减税降低成本→激发研发投入积极性→攻克“卡脖子”难题→助推企业高质量发展
B. 落实减税降费政策→增加流通中货币量→保证企业资金需求→提高中小企业盈利概率
C. 降低企业生产成本→提高企业生产水平→扩大商品市场供给→助推供给侧结构性改革
D. 加大财政补贴力度→解决中小企业融资难题→转换经济发展动能→增强企业发展能力
14. 智慧农业使农产品生产、流通、加工、储运、销售、服务等相关环节紧密连接, 实现农业要素资源的有: 置, 如下图所示。与传统农业相比, 发展智慧农业可以



- ①使农业摆脱自然环境束缚
②显著提高农业的生产效率
③促进农产品结构优化升级
④提高农业市场化经营水平
A. ①② B. ①③ C. ②④ D. ③④

15. 商务部数据显示,2022年我国实际使用外资金额 11493.6 亿元,同比增长 14.9%,实现两位数增长。中央经济工作会议部署 2023 年经济工作时明确要求“更大力度吸引和利用外资”,特别要“吸引更多全球高技术服务业企业来华投资”。我国加大引资力度
- ①是构建新发展格局、实现高质量发展的需要 ②有利于外汇储备货币多元化,保障金融安全
③有利于优化进口结构,满足国内市场的需求 ④能为建设开放合作的世界经济注入强劲动力
- A. ①③ B. ①④ C. ②③ D. ②④
16. 某地启动智慧城管“随手拍”活动,市民只需“随手拍”,就能线上投诉环境卫生、道路破损、树木管护、商业噪声等十大类城市管理问题,了解本人所反映问题的处理结果,并进行满意度评分。这样做
- ①能调动市民参与社区治理的主动性和积极性 ②彰显了共治共管共建共享的城市管理新理念
③能为政府科学民主决策提供广泛的民意基础 ④有利于城市管理者改进作风,提高管理效能
- A. ①② B. ③④ C. ①③ D. ②④
17. 电信网络诈骗犯罪严重侵害人民群众财产安全,严重侵蚀社会诚信根基,为广大人民群众深恶痛绝。2022年9月2日,全国人大常委会通过《反电信网络诈骗法》,立足源头治理,推动形成全链条反诈、全行业阻诈、全社会防诈的打防管控格局,是一部直面社会“痛点”的法律。全国人大常委会通过《反电信网络诈骗法》
- ①坚持了人民至上的立法价值取向和本质要求 ②发挥了最高国家权力机关在立法中的主导作用
③可以避免出现电信诈骗损害公民权益的现象 ④有利于以高质量立法推动国家治理能力现代化
- A. ①③ B. ②③ C. ①④ D. ②④
18. 过去几十年,海湾阿拉伯国家一直与美国的外交政策步调一致,但在 2022 年,这些国家似乎实行了“独立想法”的政策。卡塔尔半岛电视台评论指出,海湾国家领导人正努力让自己更独立于华盛顿,中东已不再是任何大国可以告知其该做什么、或者不该做什么的地区了。这反映了
- ①中东国家与美国的关系正在经历重大调整 ②更加公正、合理的国际新秩序正在逐步形成
③霸权主义不得人心,世界多极化深入发展 ④竞争、冲突代替合作成为美国和中东关系主流
- A. ①③ B. ②④ C. ②③ D. ②④
19. 梁启超在《中国近三百年学术史》中说:“前清学术在中西发达速昔,然每每受外来的影响而得进步。第一次为唐代之婆罗门法,第二次为元代之回回法,第三次则为明清之交耶稣会士所传之西洋法。”这反映了
- ①中华民族以博大的胸怀兼收并蓄其他民族的优秀文化成果
②不同民族文化的交流交融是推动文化发展进步的重要动力
③文化传播的过程就是吸收外来文化发展本民族文化的过程
④中华民族历史上创造了伟大科技成果,曾长期领先于世界
- A. ①② B. ①④ C. ②③ D. ③④
20. 每逢中国春节,到处都能听到《春节序曲》《难忘今宵》《歌唱祖国》《我和我的祖国》等经典音乐,特别是在央视年三十的专题节目中,这些经典音乐更能烘托出浓浓的春节气氛。经典作品延续着不朽的生命力,主要得益于这些经典作品
- ①适应时代发展,为传统文化注入新内涵 ②立足实践,反映时代的变迁和国家的发展
③融通不同文化资源,实现文化综合创新 ④反映中国人的精神追求,具有鲜明民族性
- A. ①② B. ①③ C. ②④ D. ③④
21. 长期以来,在气候变化的影响及风险问题上,“减缓派”一直比“适应派”更受关注,人类大部分的注意力和资金都集中在直接减少温室气体排放的减缓行动上。但由于能源危机持续加深,人们越来越认识到,仅靠减缓气候变化已无法应对面临的灾难性损失,适应气候变化与减缓气候变化同样重要。这表明
- ①真理是有条件的,真理与谬误往往相伴而行 ②人们的认识受实践水平的制约,具有局限性
③客观对象是变化发展的,决定真理并非唯一 ④在认识发展过程中,已有的认识不断被超越
- A. ①③ B. ①④ C. ②③ D. ②④
22. 漫画《短板效应调整》的主要寓意是
- A. 创新应坚持形式与效果的统一
B. 只有在实践中才能形成创新思维
C. 开拓新境界要敢于破除旧观念
D. 有价值的创新不吝于形式的变化



23. 青年强则国家强,国家和民族的未来在青年。中央电视台推出系列报道《青春匠心》,展现青年技能人才的风采,讲述能工巧匠的奋斗故事,节目将镜头对准一批青年技能人才。他们有理想、敢担当、能吃苦、肯奋斗,通过勤奋的双手,让青春绽放绚丽之花。该系列报道启示我们来源:高三答案公众号
- ①在实现自我价值过程中推动社会发展
②实现人生价值需要充分发挥主观能动性
③只有成为技能型人才青春才更有价值
④提高自身素质才能为社会作出更大贡献
- A. ①② B. ③④ C. ①③ D. ②④
24. 到了战国时期,随着诸侯争霸,“礼乐征伐自诸侯出”,周朝典型的宗法制度逐渐解体,官无世禄,独重嫡长的宗子制逐渐被多子均分的继承制所取代。这表明,宗法制崩溃的主要原因是
- A. 分封制失去存在的意义
B. 宗族内部向心力弱化
C. 官僚政治取代贵族政治
D. 中央集权理论的提出
25. 秦朝时期的上计制度(审计监督制度)是由县级行政单位直接上报中央,而西汉时期则是县首先上报上一级的郡,再由郡上报给朝廷。这反映了西汉时期
- A. 政府经济管理短暂松弛 B. 地方的行政制度已经完善
C. 社会经济得到迅速发展 D. 封建专制统治进一步加强
26. 唐朝时期,行草书家特别是草书家的风格走向飞动飘逸。隶篆虽无大发展,但能承秦汉之遗法,形成或严谨紧劲或道劲圆活的信风。下列作品与唐朝这股“信风”相关的是



A



B



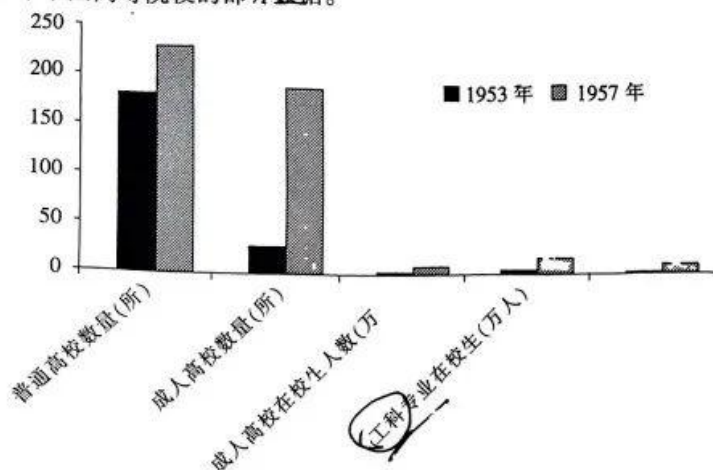
C



D

27. 在青花瓷发展的基础上,明代彩瓷的发展也飞跃到了一个新的高度,其色彩发展到后面极为华丽。而且绘画纹饰的内容更加复杂多样,植物、动物、文字、山水、人物、花鸟、鱼虫等无不入画,极具收藏价值。这些现象反映了
- A. 明代市镇经济呈现出繁荣趋势 B. 郑和下西洋全盛时的特点
C. 手工业发展促进民众审美变化 D. 手工业产品国际化的程度
28. “鸦烟流毒,为中国三千年未有之祸”,鸦片大量输入,使中国每年外流白银达 600 万两。1821—1834,年朝廷颁布禁令 8 次;统治阶级中一部分人目睹社会危机,要求改革弊政,在中国严禁鸦片。这些现象
- A. 暴露了晚清社会的危机 B. 萌发了学习西方的思潮
C. 体现了社会转型的特点 D. 扭转了清朝贸易的逆差
29. 民国初年,政权更替,党派林立。从 1912 年 2 月至 10 月,仅在民政部立案的党派就有 85 个;至 1913 年底,“有 312 个政党性党派团体,但是,具有健全纲领或具体政纲者不超过 35 个”。由此可知,当时
- A. 政党政治已经定型 B. 政治投机较为盛行
C. 政治理念分歧明显 D. 民主共和深入人心
30. 抗日战争时期,陕甘宁边区利用原来的变工、札工(短工)形式,组织了变工队、札工队、劳动互助组。晋察冀边区利用了原来的拨工、包工的形式,发展为劳武结合(一面参加生产劳动,一面进行军事训练)的新形式。这些创新之举
- A. 适应了抗日战争的形势需要 B. 壮大了抗日民族统一战线
C. 促进了生产关系的局部调整 D. 推动了私营企业迅速发展

31. 下图为 1953—1957 年中国高等院校的部分数据。



由上图可知 新中国

- A. 高等教育的类别趋向平衡
B. 国民教育体系逐渐完备
C. 高等教育服务于经济建设
D. “双百”方针助推高校发展
32. 克里斯提尼针对梭伦未敢撼动的政治形式,做出比较彻底的改革。他的“陶片放逐法”让雅典民主洪流向前迈出不可逆转的一步,使雅典国家逐渐脱离氏族的掌控。这里的“未敢撼动的政治形式”是指
A. 选举体制和血缘关系
B. 陪审法庭和国民公会
C. 四百人会议和公薪制
D. 公民大会和贵族统治
33. 某部书籍指出:“在欧洲社会结构方面,商人们先后取代了南欧与北欧的封建领主,成为社会中最具权势的阶层。在英国、法国及其他欧洲国家,资产阶级逐步控制了本国的政治和政府”。这反映了
A. 宗教改革运动的影响
B. 工业革命的时代意义
C. 启蒙运动的进步作用
D. 新航路开辟的影响
34. 1921 年,列宁指出:“俄国无产阶级作为统治阶级的当前主要任务,就是要正确地规定并实行一些必要的办法,以便领导农民,同农民结成巩固的联盟,通过许多渐进的过渡办法,实现使用机器的社会化大农业”。这些“办法”的实行使苏俄(苏联)
A. 战胜了协约国的武装干涉
B. 实施了农业集体主义政策
C. 确立了计划经济管理体制
D. 创立了国家资本主义学说
35. 美国学者斯帕尼尔指出:二战以来,“美国人从其国家生活一开始就坚信他们的命运是——以身作则地向一切人传播自由和正义,把人类从罪恶之路引导到世间新的耶路撒冷”。这一论述旨在阐明
A. 美国文化多元的特点
B. 两极格局形成的原因
C. 美国文化输出的意图
D. 遏制共产主义的目标

二、非选择题:本卷包括必考题和选考题两部分。第 36~42 题为必考题,每个试题考生都必须作答。第 43~47 题为选考题,考生根据要求作答。

(一)必考题:共 135 分。

36. 阅读图文材料,完成下列要求。(24 分)

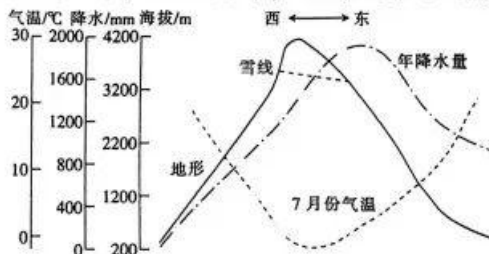
20 世纪 90 年代开始,珠江三角洲甘蔗种植面积逐渐萎缩,导致甘蔗制糖企业不断向外转移,带动了目标地甘蔗种植规模的扩大,从而在目标地形成了甘蔗制糖与甘蔗种植相互促进的局面。下图表示甘蔗制糖企业主要转移方向。



文综 第 5 页(共 8 页)

- (1) 列举珠江三角洲挤占甘蔗种植用地的土地利用方式。(6分)
 (2) 珠江三角洲甘蔗种植面积萎缩导致甘蔗制糖企业向外转移,对此作合理解释。(8分)
 (3) 简述甲地成为甘蔗制糖企业目标地的有利条件。(6分)
 (4) 甲乙两地扩大甘蔗种植规模均面临水资源压力,分别说明两地农业用水不足的主要自然原因。(4分)
37. 阅读图文材料,完成下列要求。(22分)

下图表示某山地地势及相关气候要素的空间分布,山地东坡为迎风坡,西坡为背风坡。



- (1) 分别说明该山地迎风坡上部 and 下部降水量随海拔的变化特点及其原因。(8分)
 (2) 解释西坡气温高于东坡的原因。(8分) 来源: 高三答案公众号
 (3) 该山地西坡雪线高于东坡,指出其影响因素。(6分)
38. 阅读材料,完成下列要求。(14分)

作为绿色、低碳、速生、可再生、可降解的生物质材料,竹子在应对气候变化等一系列全球挑战中发挥独到作用。

在2022年6月召开的全球发展高层对话会议上,我国和国际竹藤组织提出的“以竹代塑”倡议入选对话会成果清单。会议号召通过开发创新竹制品替代塑料制品,以减少塑料污染,应对气候变化,全球绿色发展。

我国被誉为“竹子文明国度”,竹林面积、竹材蓄积、竹材产量以及竹产品对外贸易均居世界前列。2020年,我国竹产业总产值接近3200亿元,2035年有望超过1万亿元。全国有竹加工企业上万家,业直接就业人员达千万人。近年来,一些重点竹区还依托当地的竹林资源和生态优势发展竹林旅游业,促进乡村振兴与竹林旅游融合。

结合材料和贯彻新发展理念的知识,说明我国大力发展竹产业的经济意义。(14分)

39. 阅读材料,完成下列要求。(12分)

作风问题,核心是党和人民群众的关系问题。

2012年12月4日,党的十八大闭幕不到一个月,习近平总书记主持召开中央政治局会议,审议通过关于改进工作作风、密切联系群众的八项规定,到2022年中央出台八项规定迎来十周年。十年来,中央持续发力,推动作风建设取得历史性、开创性成就,刹住了一些长期没有刹住的歪风,纠治了一些未除的顽瘴痼疾。以中央八项规定为切入口的作风建设成为新时代党的自我革命伟大实践的重要标志。

党的二十大报告提出,锲而不舍落实中央八项规定精神。2022年10月25日,新一届中央政治局会议审议《中共中央政治局贯彻落实中央八项规定实施细则》,释放了作风建设只有进行时、没有终时的强烈信号。

结合材料和政治生活知识,说明党中央为什么锲而不舍推动落实八项规定。(12分)

40. 阅读材料,完成下列要求。(26分)

缺水曾是林县(今林州市)人民最痛的记忆。1960年2月,林县人民拉开建设红旗渠的序幕。林县组织调查队,先后对山西省陵川、壶关、平顺和潞城四县的河流进行了细致考察,再经过对比研究最终决定从平顺县将漳河水引入林县。历时近十年,林县人民削平1250座山头,凿通211条隧道,架设座渡槽,在太行山腰修建了全长1500公里的“人工天河”——红旗渠,并孕育出“自力更生、艰苦创业、团结协作、无私奉献”的红旗渠精神,激励林县人民创造了改造自然的奇迹,书写了传奇。

2022年10月28日,习近平总书记来到河南安阳林州市红旗渠考察,指出红旗渠就是纪念碑,见证了林县人认命、不服输,敢于战天斗地的英雄气概。要用红旗渠精神教育人民特别是广大青少年,社会主义是拼出来、干出来、拿命换来的。红旗渠精神是中华民族不可磨灭的历史记忆,永远震撼人心。新一代要继承和发扬吃苦耐劳、自力更生、艰苦奋斗的精神,摒弃骄娇二气,像我们的父辈一样把青春镌刻在历史的丰碑上。

- (1) 林县人民书写传奇的历史是充分发挥主观能动性的历史。结合材料对此加以说明。(12分)
 (2) 结合材料和文化作用的知识,分析习近平总书记的讲话对广大青年成长的意义。(10分)
 (3) 如果班级举办“弘扬红旗渠精神”主题活动,请制定一个活动计划。(4分)

41. 阅读材料,完成下列要求。(25分)来源:高三答案公众号

材料一 在乾隆帝的治理策略中,广东重于福建,陆疆治理重于海疆管辖,海防安全重于沿海国计民生。在传统农本社会中,海洋开发的利益很难触及乾隆帝国家治理的重大神经,更多地是将其置入国内一般安全同等的地位,乃至更加忽视。乾隆朝的海洋开发倡议,尽管得到部分沿海省份的力撑,但出于整体安全考虑,这种原本微弱的声音很快就被湮没了。

——摘编自胡志勇《中国海洋治理研究》

材料二 新中国在提升国家海洋治理体系与治理能力的现代化上,第一,重视完善我国的海洋法律体系,及时制定或修订一批急需的涉海、涉外法律法规,加快《海洋基本法》《南极法》《海警法》的立法进程,促进国内海洋法律与国际海洋法的衔接和转化。第二,要加强海洋科技创新能力,消除制约海洋经济发展和海洋生态保护的科技瓶颈,在深水、绿色、安全的海洋高技术领域取得突破,推动海洋科技向创新引领型转变。第三,要培养一批政治立场坚定、精法律、懂外语、善谈判、宽口径的海洋管理人才,创造多种途径支持我国海洋人才到国际组织中任职或参与国际海洋谈判,增强我国在国际海洋规则制定与决策中的话语权。中国将高标准推进“21世纪海上丝绸之路”建设,建立全方位、多层次、宽领域的“蓝色伙伴关系”,向国际社会提供更多的海洋公共产品,增进全人类的海洋福祉。

——摘编自王琪、崔野《中国参与全球海洋治理的理念和实践》

- (1) 根据材料一并结合所学知识,概括乾隆朝的海洋治理策略并分析其原因。(10分)
 (2) 根据材料二并结合所学知识,简述新中国在新时期海洋治理的策略。(8分)
 (3) 根据以上材料并结合所学知识,简析新时期我国海洋治理的作用。(7分)

42. 阅读材料,完成下列要求。(12分)

材料 1818—1823年,英国著名民主诗人拜伦创作了长篇诗体小说《唐璜》,唐璜是其中的主人公。下面是《唐璜》的故事梗概示意图。




——根据拜伦《唐璜》制作

根据材料并结合所学知识,写一篇《唐璜》的介绍短文。(要求:表述成文,紧扣题意,史论结合,逻辑严密,并包括时代背景和历史特征,不得超过260字)

(二) 选考题:共25分。请考生从2道地理题、3道历史题中每科任选一题作答。如果多做,则每科按所做的第一题计分。

43. 【地理——选修3:旅游地理】阅读图文材料,完成下列要求。(10分)

近年来,日本足球进步显著,2022年日本国家男子足球队成功踢进卡塔尔世界杯足球赛。据统计,足球赛期间日本赴卡塔尔的游客数量居世界前列。下图表示卡塔尔首都与日本首都的地理位置。



简述2022年世界杯足球赛期间日本赴卡塔尔的游客数量较多的原因。

44.【地理——选修6:环境保护】阅读图文材料,完成下列要求。(10分)

江西省F县,为改善生态环境,每年春季大力植树。下图表示F县一般的植树流程,苗圃和植树区均在县内。遥感数据显示,每当F县启动植树流程,该县植被覆盖率都有所下降。



简述F县植树流程中植被覆盖率下降的原因。

45.【历史——选修1:历史上重大改革回眸】阅读材料,完成下列要求。(15分)

材料 1903年由张百熙、张之洞等拟订的“癸卯学制”,第二年通过法令的形式在全国公布并推广。它成为清末民初新式教育体制的主要依据。新学制的宗旨明确规定:以忠孝为根本,以中国经史文学为基础,使得学生“心未壹归于纯正,而后以西学灌输智识,练其艺能,务期他日成才,各适实用”。1904年,全国学堂总数是4222所,学生92169人。到了1909年,全国学堂总数猛增到52346所,学生达到了156.027万人。清末“新政”期间的教育改革,催生了一批新型的知识分子,在思想上埋下了清朝帝制灭亡的种子,还建立了新式的教育体系,大大推动了新式教育的发展。

——摘编自陈景磐《中国近代教育史》

(1)根据材料并结合所学知识,概括“癸卯学制”宗旨的特点。(6分)

(2)根据材料并结合所学知识,简析清末“新政”教育改革的影响。(9分)

46.【历史——选修3:20世纪的战争与和平】阅读材料,完成下列要求。(15分)

材料 1941年12月至1942年1月,美国总统罗斯福和英国首相丘吉尔在美国华盛顿举行了代号为“阿卡迪亚”的会议。参加会议的还有美国总统特别助理霍普金斯、英国军需生产大臣比弗布鲁克以及美英军方领导人。此次会议并无严格程序,除正式的全体会议外,还有各种专门会议和个别会晤,主要讨论了广泛的政治、军事和经济问题;会议拟定并发表了《联合国家宣言》;会议重新确认“先欧后亚”战略,批准1942年实施北非登陆作战的“超级体育家”计划;为加强两盟军事合作和统一指挥作战,决定成立美英联合参谋长委员会(此委员会导致美国参谋长联席会议于1942年2月正式组建)和东南亚盟军司令部;组建中国战区(同时组建中缅印战区美军司令部);讨论了加强两国战时经济合作问题,决定成立联合军需品分配委员会、联合原料委员会和联合船舶调度委员会。

——摘编自[英]利德尔·哈特《第二次世界大战史》

(1)根据材料并结合所学知识,概括阿卡迪亚会议的主要内容。(6分)

(2)根据材料并结合所学知识,简析阿卡迪亚会议的影响。(9分)

47.【历史——选修4:中外历史人物评说】阅读材料,完成下列要求。(15分)

材料 淳熙元年(1174)、淳熙二年(1175),南宋在内政方面出现的最大问题是行用会子的弊端。宋孝宗诏令有关臣僚讨论应对“会子危机”的问题,任职于仓部的辛弃疾进奏了一篇《论行用会子疏》,提出应对“会子危机”的策略。“朝廷用之自轻故耳”“世俗之徒见铜可贵而楮(楮币即纸币)可贱,不知其寒不可衣,饥不可食,铜楮其实一也”“往时应民间输纳,则见钱多而会子少;官司支散,则见钱少而会子多。以故民间会子一贯,换六百一二十足。军民嗷嗷,道路嗟怨”“夫会子之所以轻者,良以印造之数多,而行使之地不广”。政府“姑住印造”,停止滥印会子。

——摘编自《宋史·辛弃疾传》

(1)根据材料并结合所学知识,概括南宋时期“会子危机”的主要表现。(6分)

(2)根据材料并结合所学知识,指出辛弃疾应对“会子危机”的主要主张并简析其作用。(9分)

关于我们

自主选拔在线是致力于提供新高考生涯规划、强基计划、综合评价、三位一体、学科竞赛等政策资讯的升学服务平台。总部坐落于北京，旗下拥有网站（[网址：www.zizzs.com](http://www.zizzs.com)）和微信公众平台等媒体矩阵，用户群体涵盖全国 90% 以上的重点中学师生及家长，在全国新高考、自主选拔领域首屈一指。

如需第一时间获取相关资讯及备考指南，请关注**自主选拔在线**官方微信号：**zizzsw**。



微信搜一搜

自主选拔在线