

天一大联考

2022—2023 学年高一年级阶段性测试(三)

地 理

考生注意：

1.答题前，考生务必将自己的姓名、考生号填写在试卷和答题卡上，并将考生号条形码粘贴在答题卡上的指定位置。

2.回答选择题时，选出每小题答案后，用铅笔把答题卡对应题目的答案标号涂黑。如需改动，用橡皮擦干净后，再选涂其他答案标号。回答非选择题时，将答案写在答题卡上。写在本试卷上无效。

3.考试结束后，将本试卷和答题卡一并交回。

一、选择题：本题共 16 小题，每小题 3 分，共 48 分。在每小题给出的四个选项中，只有一项是符合题目要求的。

图 1 为世界某区域人口密度及相关地理事物分布图。据此完成 1~3 题。

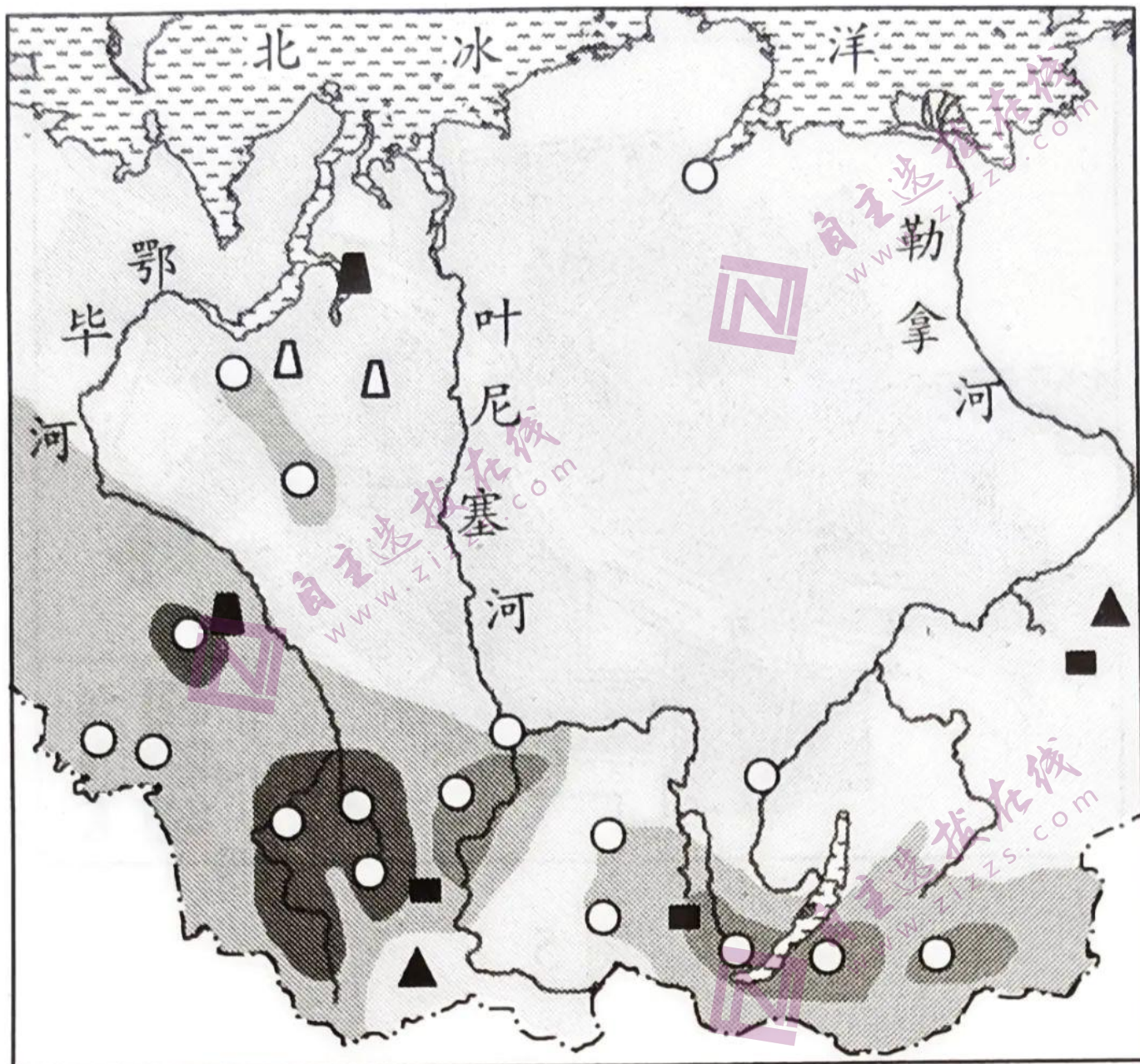


图 1

1. 图示区域人口分布的总体特点是

- A. 沿海多，内陆少 B. 中部多，四周少
C. 人口重心偏向西南部 D. 河流中下游多

2. 图示区域北部人口稀少的主要自然原因是

- A. 终年严寒 B. 台风多发
C. 气候干旱 D. 地形崎岖

3. 造成图示区域人口空间分布特点的决定性因素是

- A. 纬度位置 B. 经济发展水平
C. 矿产资源 D. 河流流向

老年人口系数是指一个国家或地区 65 岁及以上老年人口数占总人口数的比重，当其大于 7% 时，则意味着这个国家或地区进入老龄化社会。读我国南疆县区老年人口系数变化图(图 2)，完成 4~6 题。

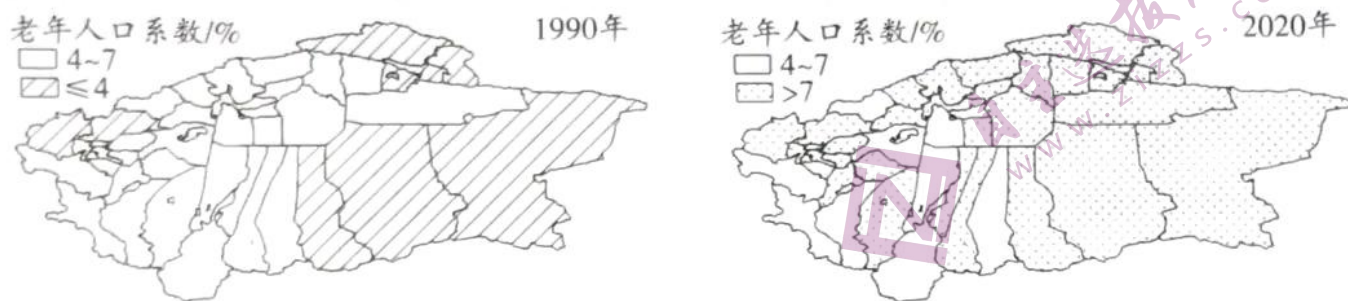


图 2

4. 据图可知，南疆

- A. 1990 年有部分县区进入老龄化社会 B. 2020 年全面进入老龄化社会
C. 历经 30 年，部分县区老龄化程度有所减轻
D. 近 30 年部分县区老龄化程度变化很小

5. 近 30 年来，南疆东部县区人口老龄化程度加深的主要原因有

①人口出生率下降②城乡生育政策差异③人均寿命延长 ④少数民族聚集程度提高

A.①② B.②④ C.①③ D.③④

6.南疆地区人口年龄结构的变化,短期内对当地社会经济发展产生的影响是

- A.劳动力供给增多
- B.社会养老负担加重
- C.经济增长活力增强
- D.产业结构优化升级

吉布提位于非洲东北部的亚丁湾西岸,国土面积 2.32 万平方千米,人口约 100 万。20 世纪末,由于边界争端不断,埃塞俄比亚、索马里的难民大量涌入吉布提。图 3 示意 1990-2019 年吉布提人口迁往其他国家的分布。据此完成 7~9 题。

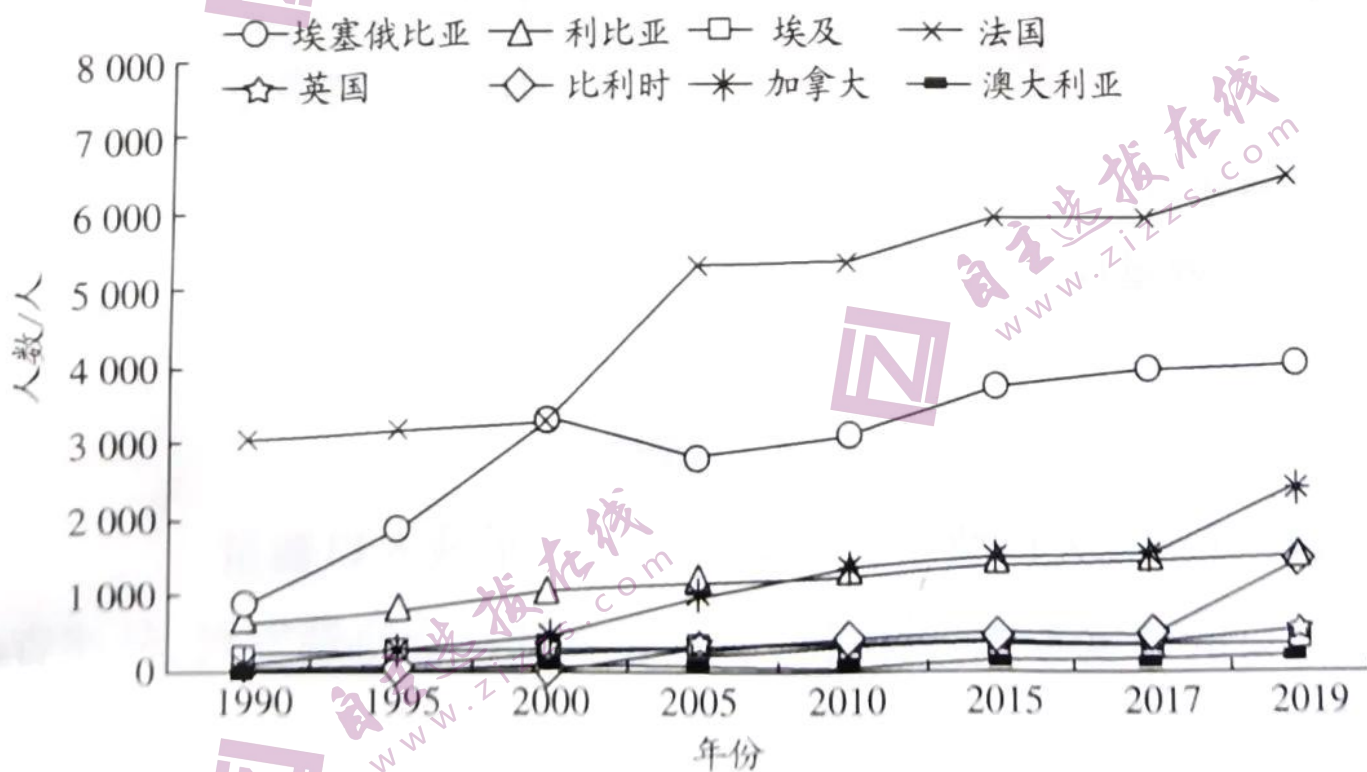


图 3

7.20 世纪末,埃塞俄比亚、索马里两国进入吉布提的难民

- A.属于暂时性人口流动
- B.跨越大洲长距离迁移
- C.为政治原因所引发
- D.群体规模较小

8.1990-2019年,吉布提外迁人口的特点是

- A.2019年外迁人数是1990年的两倍
- B.大多数移民迁往发展中国家
- C.迁往埃塞俄比亚的人口数最为稳定
- D.法国是外迁人口的首选国家

9.大量人口外迁,对吉布提可能产生的影响是

- A.促进当地社会经济发展
- B.加速人才外流
- C.加大社会治安管理难度
- D.提升生活水平

适度人口指对一国或地区发展最适宜的人口数量,其大小由区域综合承载力(综合承载力包括资源、生态和经济承载力3个子系统)决定。基于经济承载力的适度人口指特定区域在只考虑经济条件下能够承载的人口数量。表1为2011—2016年福建省采用GDP、第二产业和第三产业三项指标最终得到的经济可承载人口数据。据此完成10~12题。

表1

年份	GDP 可承载人口/万人	第二产业可承载人口/万人	第三产业可承载人口/万人	经济可承载人口/万人	实际人口/万人	超载或富余/万人
2011	4 578.5	5 408.8	4 309.7	4 721.9	3 720.0	1 001.9
2012	4 712.8	5 666.6	4 299.8	4 829.1	3 748.0	1 081.1
2013	4 699.8	5 915.8	4 263.5	4 867.3	3 774.0	1 093.3
2014	4 886.5	6 198.0	4 250.2	4 989.4	3 806.0	1 183.4
2015	4 827.5	6 405.1	4 312.5	5 040.7	3 839.0	1 201.7
2016	4 793.0	6 489.9	4 463.9	5 113.0	3 874.0	1 239.0

10.估算经济可承载人口需要用到的指标，除了 GDP、第二产业产值、第三产业产值之外，还可能有

A.农业用水量 B.粮食播种面积 C.森林覆盖率 D.居民消费水平

11.2011—2016 年，福建省

A.经济可承载人口数量波动上升

B.第三产业可承载人口数量先增后减

C.第二产业持续发力拉动经济可承载人口增长

D.部分年份 GDP 可承载人口数量大于第二产业可承载人口数量

12.从经济可承载人口的角度考虑，为保持人口、经济和社会协调发展，福建省应该

A.引导人口外迁 B.优化经济结构

C.扶持第二产业 D.提升消费水平

传统村落形态丰富、千变万化。图 4 示意赣闽粤边区客家传统村落分布。读图完成 13~

14 题。

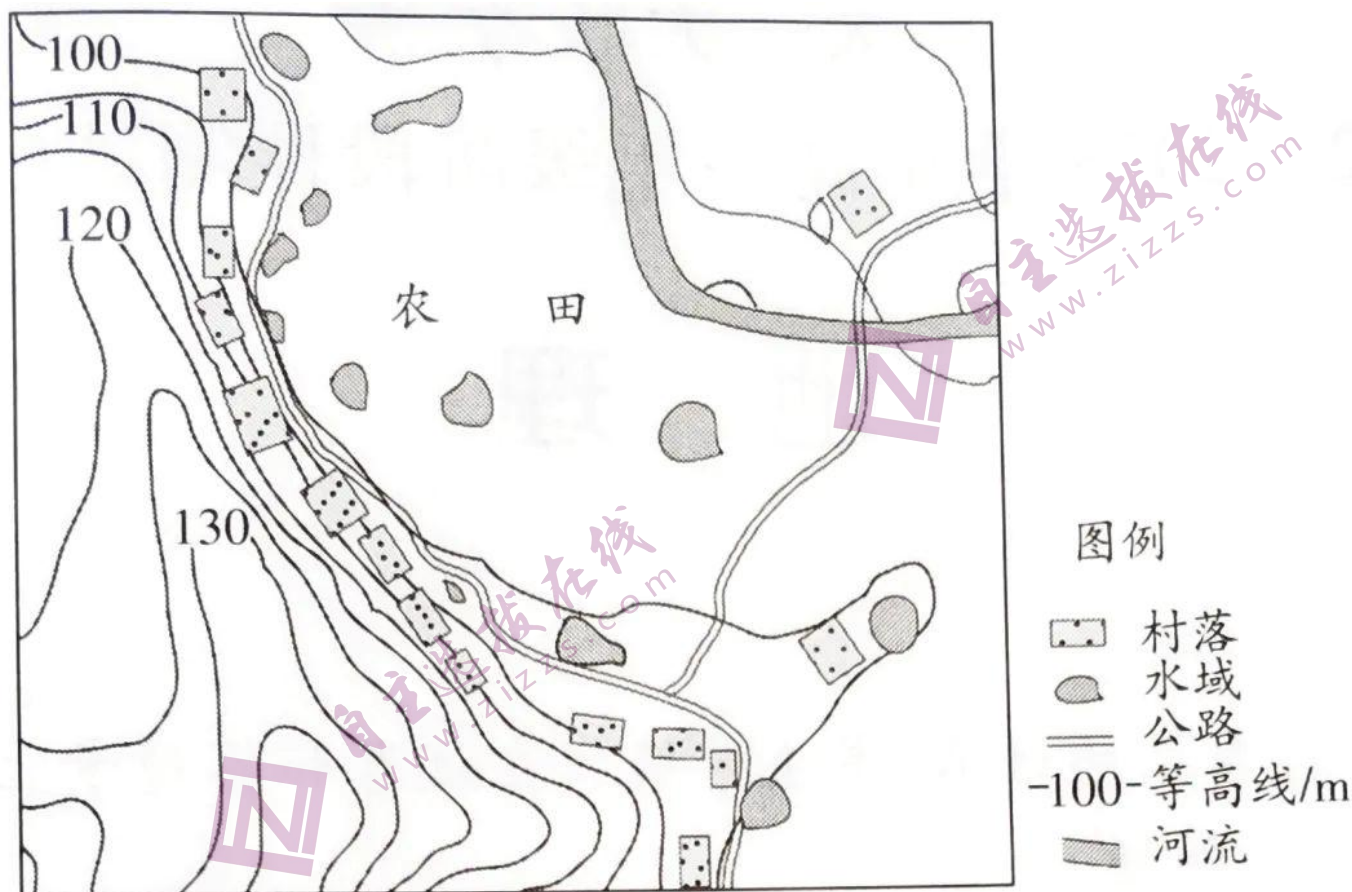


图 4

13. 图示传统村落

- A. 沿山麓呈带状延展
- B. 沿河谷呈条带状分布
- C. 在平原地带横向展开
- D. 沿公路松散分布

14. 图示传统村落选址的主要原因是

- A. 地形平坦，建设难度最小
- B. 少占耕地，保障农业用地
- C. 距离较近，方便旅游开发

D.地形封闭，确保村落安全

图 5 为某城市三大功能区分布图，该城市功能区分布较为合理。读图完成 15~16 题。

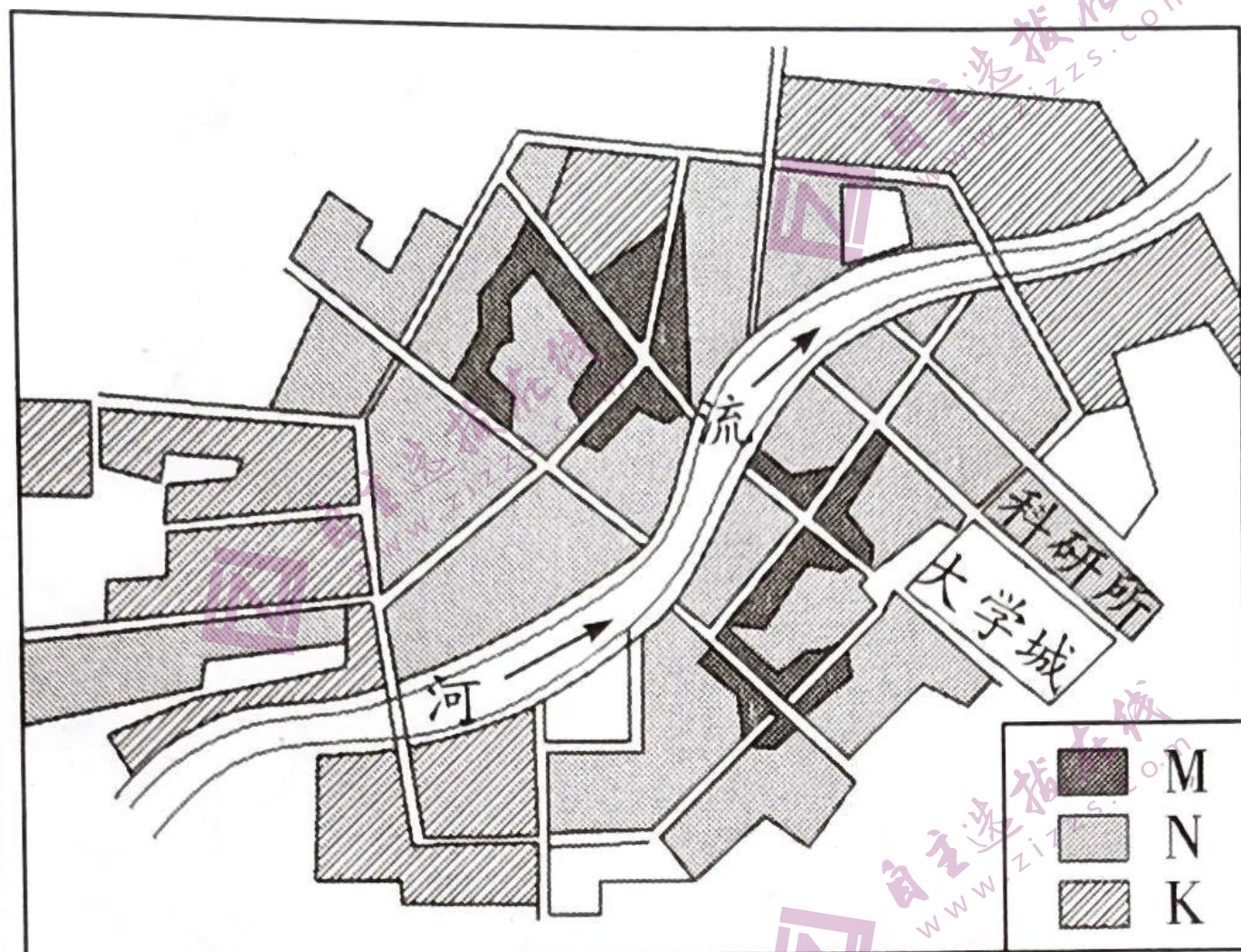


图 5

15.图中 M 功能区

A.兼具购物、休闲等功能

B.位于城市的几何中心

C.是居民居住和娱乐场所

D.空间分布集中程度较低

16.该城市

A.K 功能区不会对市区产生污染

B.功能区呈同心圆状分布

C.N 功能区地租水平最高

D.盛行风向可能为东南风

二、非选择题：本题共 4 小题，共 52 分。

17.阅读图文资料，完成下列要求。(14 分)

粤港澳大湾区由广州、深圳、珠海、佛山、东莞、惠州、中山、肇庆、江门 9 市和香港、澳门两个特别行政区构成，是我国当前重要战略区域之一。目前，粤港澳大湾区人口出现爆发性增长态势，但地区之间人口在增量、增速上差异明显。图 6 示意 2007-2017 年粤港澳大湾区人口重心空间移动。

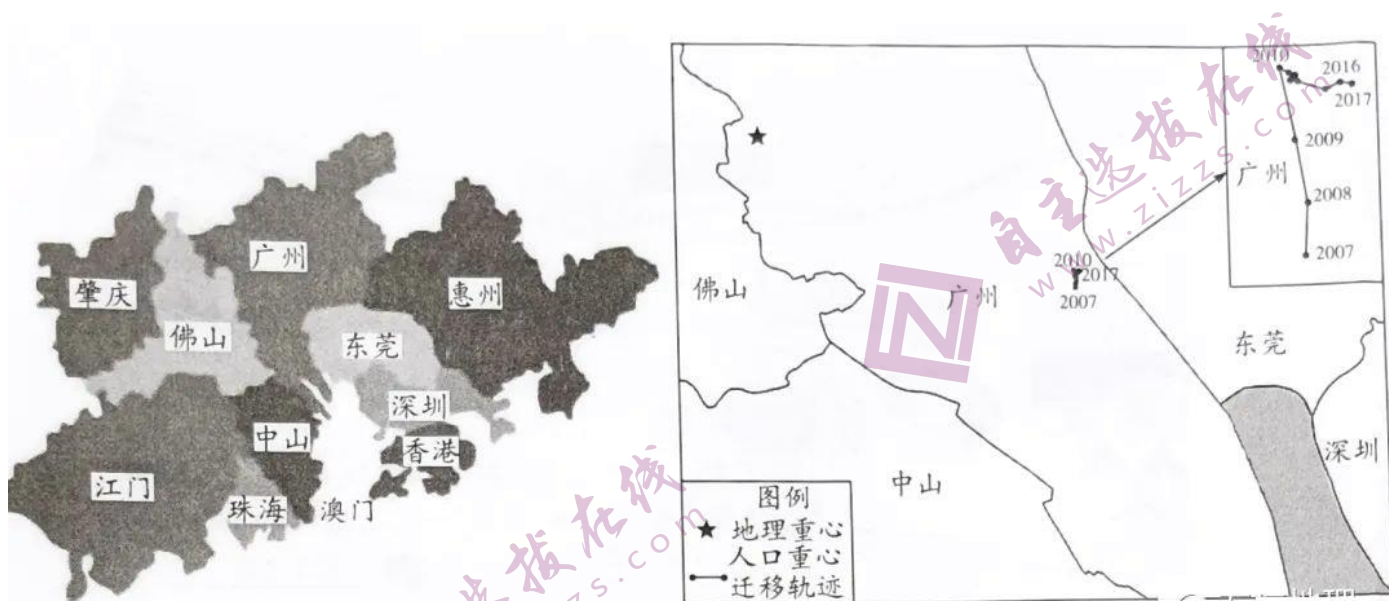


图 6

(1)描述 2007—2017 年粤港澳大湾区人口重心的年际变化特征。(6 分)

(2)说出影响粤港澳大湾区人口重心年际变化的主要因素。(4 分)

(3)分析广州始终是粤港澳大湾区人口重心所在地的原因。(4 分)

18. 阅读图文资料，完成下列要求。(12分)

改革开放以来，我国经济快速发展，社会产生深刻变迁，人口也出现了大规模流动，且人口流动在省内与省际间差异明显。伴随着青壮年人口的流动，少年儿童和老年人口也发生了流动。图7示意1990—2020年我国流动人口的年际变化。

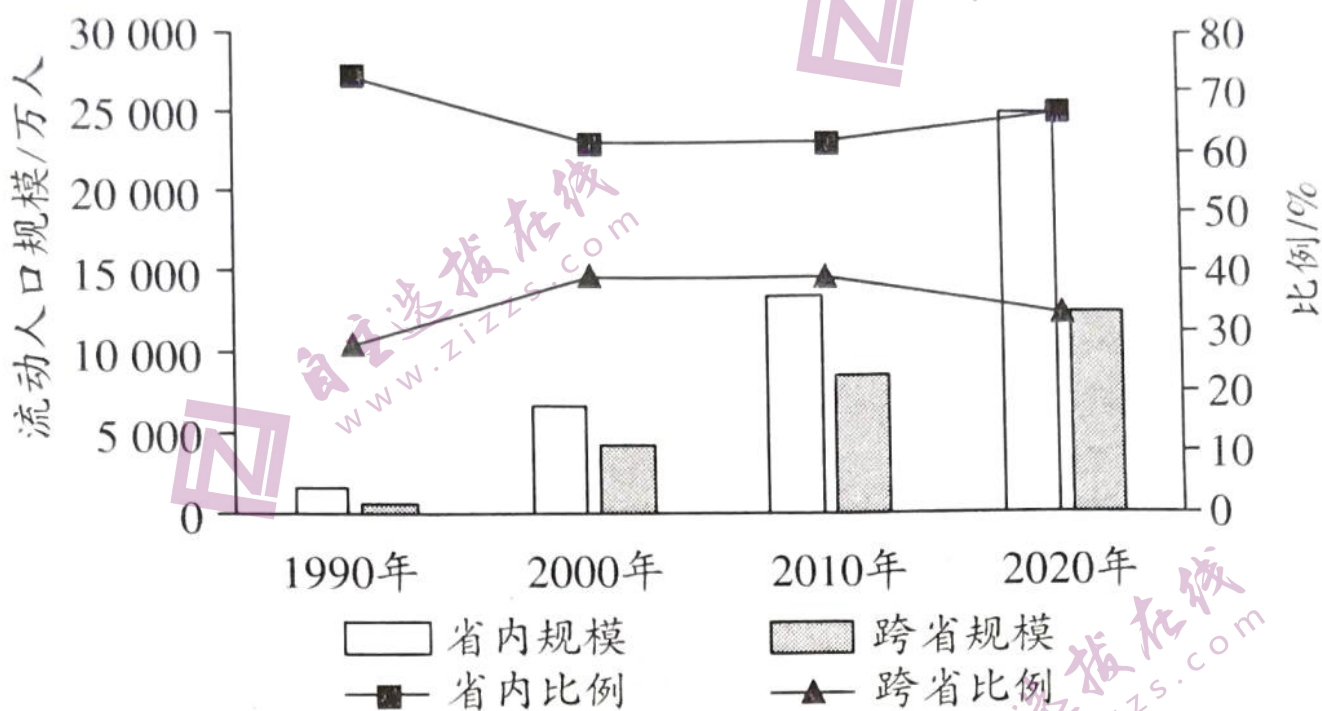


图7

- (1) 据图归纳1990-2020年我国流动人口年际变化的特点。(4分)
- (2) 简述人口流动给流出地带来的有利影响。(4分)
- (3) 指出伴随着少年儿童和老年人口的流动，人口流入地应该强化的工作。(4分)

19. 阅读图文资料，完成下列要求。(12分)

凉城县位于内蒙古中南部，境内山地丘陵约占71.3%、滩川(盆地)约占23.9%、水域约占4.8%，有“七山一水二分滩”之称；属温带半干旱大陆性季风气候，冬季寒冷干燥，雨少风多。凉城县因水而兴，其中注入岱海的河流占境内河流总数的50%。凉城县西北部为农林

牧交错带，中部为经济核心区，东南部为农牧带，其环境承载力中部最高，南北两侧较低。

图 8 为凉城县等高线地形图。

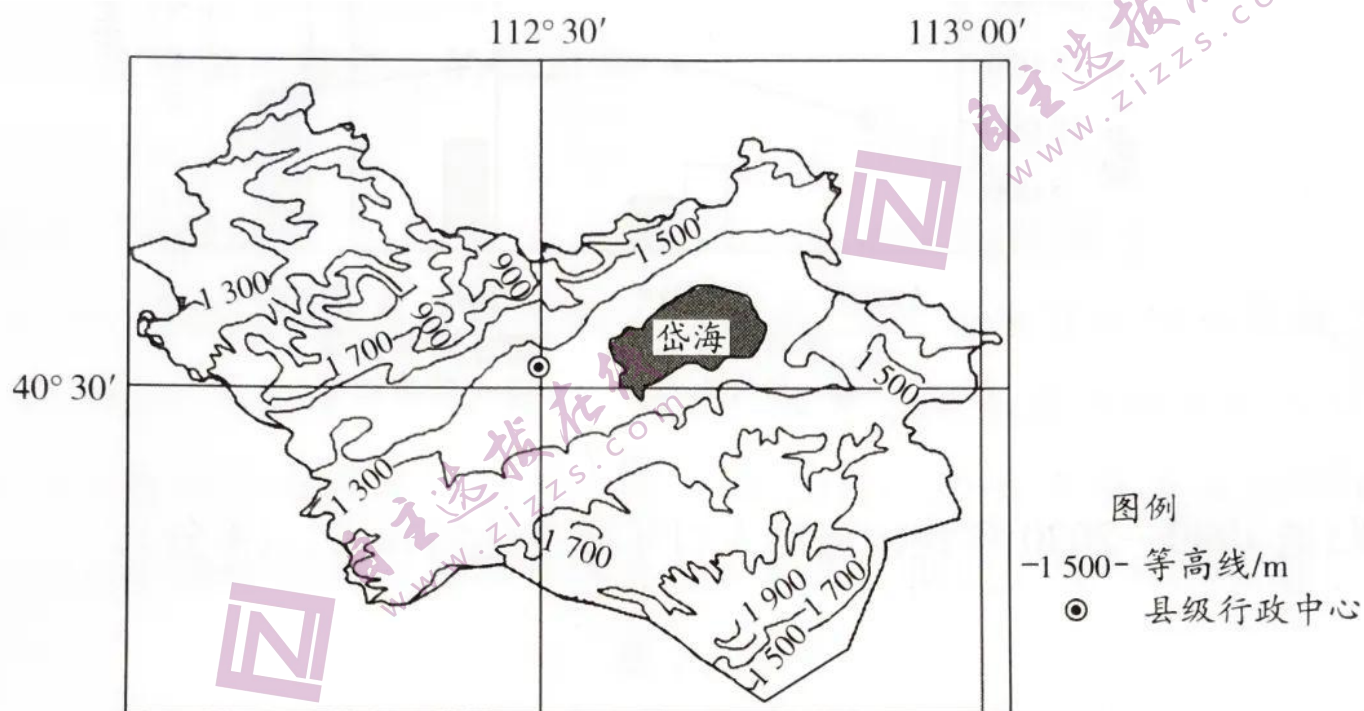


图 8

(1)描述凉城县的地形特征。(4分)

(2)分析凉城县中部环境承载力最高的主要原因。(4分)

(3)简析凉城县西北部资源环境承载力低的主要原因。(4分)

20.图 9 为我国某城市规划图，其中甲、乙、丙代表不同的城市功能区。读图，完成下列要求(14分)

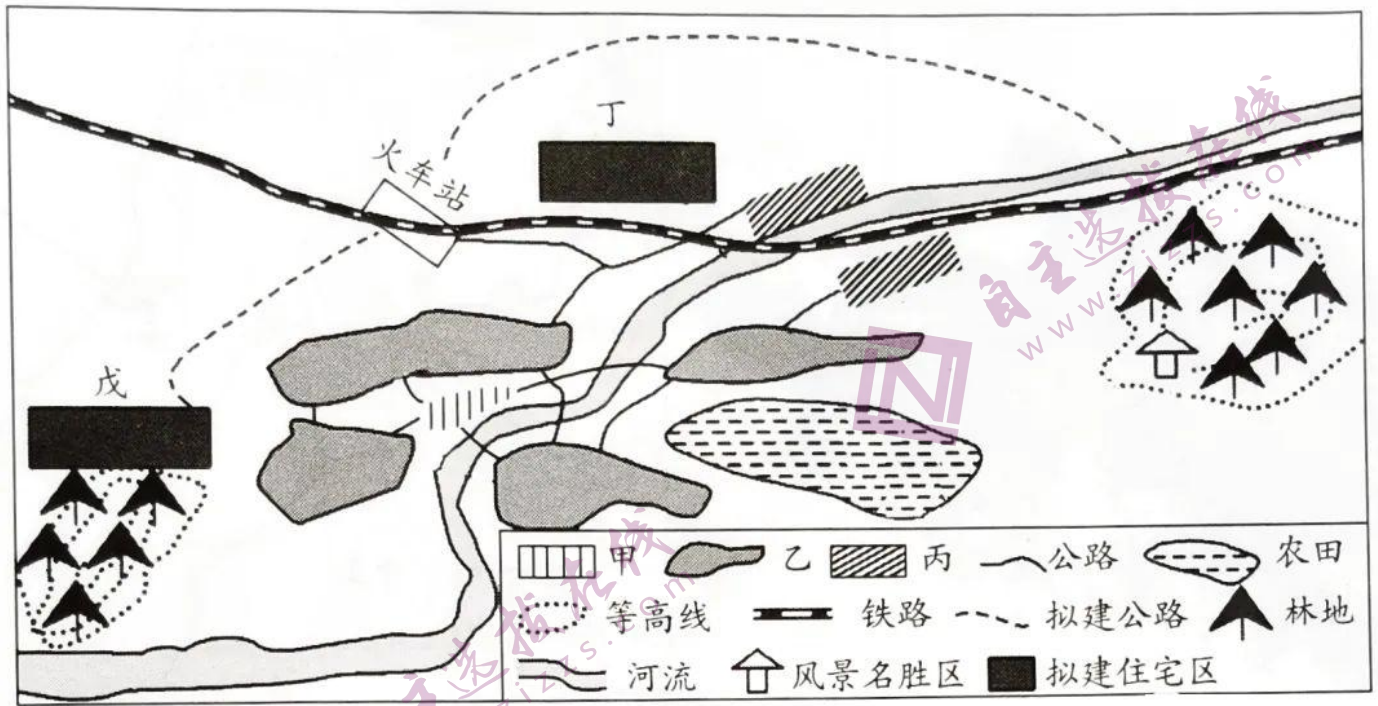


图9

- (1) 分别指出图中甲、乙、丙所代表的城市功能区类型。(6分)
- (2) 分析相对于丁处，在戊处拟建住宅区的区位优势。(4分)
- (3) 简析丙功能区规划的缺点。(4分)

关于我们

自主选拔在线是致力于提供新高考生涯规划、强基计划、综合评价、三位一体、学科竞赛等政策资讯的升学服务平台。总部坐落于北京，旗下拥有网站（[网址: www.zizzs.com](http://www.zizzs.com)）和微信公众平台等媒体矩阵，用户群体涵盖全国90%以上的重点中学师生及家长，在全国新高考、自主选拔领域首屈一指。

如需第一时间获取相关资讯及备考指南，请关注**自主选拔在线**官方微信号：[zizzsw](https://www.zizzs.com)。



微信搜一搜

 自主选拔在线